

AVANÇASP



CÂMARA MUNICIPAL DE ITATIBA

CONCURSO PÚBLICO
01/2024

ANALISTA ADMINISTRATIVO

Leia atentamente as instruções abaixo

1. PROVA E FOLHA DE RESPOSTAS

Além deste Caderno de Prova, contendo 50 (cinquenta) questões objetivas, você receberá do Fiscal de Sala:

- 01 (uma) Folha de Respostas destinada às respostas das questões objetivas. Confira se seus dados estão corretos.

2. TEMPO

- 03 (três) horas é o tempo disponível para realização da prova, já incluído o tempo para marcação da Folha de Respostas da prova objetiva;

- **01 (uma) hora** após o início da prova é possível, retirar-se da sala levando o caderno de prova;

3. INFORMAÇÕES GERAIS

- As questões objetivas têm 05 (cinco) alternativas de resposta (A, B, C, D, E) e somente **uma** delas está correta;

- Verifique se seu caderno está completo, sem repetição de questões ou falhas. Caso contrário, informe imediatamente o Fiscal da Sala, para que sejam tomadas as devidas providências;

- Confira seus dados pessoais na Folha de Respostas, especialmente nome, número de inscrição e documento de identidade e leia atentamente as instruções para preenchimento;

- O preenchimento das respostas da prova objetiva é de sua responsabilidade e não será permitida a troca de Folha de Respostas em caso de erro de marcação pelo candidato;

- Marque, na folha de respostas, com caneta de tinta azul ou preta, a letra correspondente à alternativa que você escolheu.

- Reserve tempo suficiente para o preenchimento de suas respostas. Para fins de avaliação, serão levadas em consideração apenas as marcações realizadas na Folha de Respostas da prova objetiva, não sendo permitido anotar informações relativas às respostas em qualquer outro meio que não seja o caderno de prova;

- Ao se retirar, entregue a Folha de Respostas preenchida e assinada ao Fiscal de Sala.

SERÁ ELIMINADO do presente certame o candidato que:

- a) for surpreendido, durante as provas, em qualquer tipo de comunicação com outro candidato;

- b) portar ou usar, qualquer tipo de aparelho eletrônico (calculadoras, bips/pagers, câmeras fotográficas, filmadoras, telefones celulares, smartphones, tablets, relógios, walkmans, MP3 players, fones de ouvido, agendas eletrônicas, notebooks, palmtops ou qualquer outro tipo de computador portátil, receptores ou gravadores) seja na sala de prova, sanitários, pátios ou qualquer outra dependência do local de prova;

- c) se ausentar da sala em que se realizam as provas levando consigo o Caderno de Questões e/ou a Folha de Respostas;

- d) se recusar a entregar a Folha de Respostas, quando terminar o tempo estabelecido;

- e) não assinar a Lista de Presença e/ou a Folha de Respostas.

CADERNO DE QUESTÕES

PROVA OBJETIVA

LÍNGUA PORTUGUESA
TEXTO

Leia o texto para responder às questões de 1 a 7.

Máscara em mosaico e outros tesouros são encontrados em tumba de rei maia

O auge da civilização maia ocorreu entre 250 d.C. e 900 d.C. Apesar da grande importância histórica, existem poucos resquícios desse período devido ao saqueamento de sítios arqueológicos. Mas, recentemente, um trabalho da Universidade Tulane, nos EUA, conseguiu recuperar raros tesouros da época.

Liderado pelo arqueólogo Francisco Estrada-Belli, o time de pesquisadores fez investigações no sítio de Chochkitam, localizado na Guatemala, em uma região próxima das fronteiras dos atuais países México e Belize. Em 2022, a equipe encontrou a tumba de um rei maia, datada em 1.700 anos.

A descoberta foi possível graças à tecnologia LIDAR, que utilizou um avião para direcionar raios laser para o chão e, assim, fazer um mapeamento da área. “É como tirar raio-X do solo da floresta”, explica Estrada-Belli, em nota. “Isso revolucionou o nosso campo. Agora podemos ver aonde estamos indo, em vez de simplesmente fazer uma expedição na floresta esperando achar alguma coisa”, diz.

A tumba contém oferendas funerárias consideradas extraordinárias. Há uma máscara de jade em mosaico, raras conchas de ostra e escritos em ossos humanos. Estima-se que as relíquias sejam de 350 d.C.

A expectativa é que elas contribuam para a compreensão de elementos da cultura maia, como a religião e a linhagem real. As conchas, por exemplo, eram utilizadas pela realeza como joias e moedas, além de servirem para oferendas religiosas e de sacrifício. Os escritos em ossos humanos, por sua vez, foram feitos em pedaços de fêmur. Um deles retrata um homem que seria um rei — até então desconhecido — segurando uma máscara de jade similar à encontrada na tumba. Os pesquisadores suspeitam que os hieróglifos vistos no material possam identificar o pai e o avô do líder, conectando-o a outros estados maias, como Tikal e Teotihuacan.

“Uma descoberta como essa é um pouco como ganhar na loteria, em termos de informação”, constata o arqueólogo Estrada-Belli. “Ela abre uma janela para um tempo obscuro sobre o qual temos pouquíssimos textos.”

Revista Galileu. Disponível em: <https://revistagalileu.globo.com/ciencia/arqueologia/noticia/2024/02/mascara-em-mosaico-e-outros-tesouros-sao-encontrados-em-tumba-de-rei-maia.ghtml>

QUESTÃO 01

De acordo com o texto, todas as afirmações a seguir são verdadeiras, exceto:

- (A) os artefatos do auge da cultura maia são escassos.
- (B) os hieróglifos gravados nos pedaços de fêmur são evidências da linhagem real.
- (C) as conchas encontradas na tumba tinham utilidades diversas na sociedade maia.
- (D) o mapeamento do local em que a tumba foi encontrada foi feito por meio de máquinas de raio-x.
- (E) o auge da civilização maia durou mais de meio século.

QUESTÃO 02

Segundo o texto, as relíquias encontradas na tumba maia são consideradas extraordinárias porque:

- (A) apresentam um alto valor comercial e podem trazer recursos financeiros para os pesquisadores.
- (B) podem contribuir para o entendimento de um período sobre o qual não se tem muita informação.
- (C) sugerem que os estados maias Chochkitam, Tikal e Teotihuacan não tinham qualquer tipo de ligação.
- (D) confirmam que o rei maia a que se referem as oferendas tinha familiares no poder em outros estados maias.
- (E) são escrituras em hieróglifos raros que contam histórias que contrariam o que já se sabia sobre Tikal e Teotihuacan.

QUESTÃO 03

Considere o excerto: “Isso revolucionou o nosso campo.” No contexto apresentado, o pronome demonstrativo “*isso*” é utilizado como um recurso de coesão referencial anafórico. O referente ao qual remete tal pronome é:

- (A) a tecnologia LIDAR.
- (B) a floresta.
- (C) a expedição na floresta.
- (D) o avião utilizado na expedição.
- (E) as relíquias encontradas.

QUESTÃO 04

Considere os seguintes excertos, retirados do texto:

- I. Estima-se que as relíquias sejam de 350 d.C.
- II. Os pesquisadores suspeitam que os hieróglifos vistos no material possam identificar o pai e o avô do líder, conectando-o a outros estados maias, como Tikal e Teotihuacan.

As normas gramaticais que sugerem a colocação pronominal enclítica nos casos apresentados são, respectivamente:

- (A) I. não se inicia período por pronome átono e II. usa-se ênclise em verbos flexionados em oração subordinada.
- (B) I. usa-se ênclise quando houver palavra atrativa antes do verbo e II. usa-se ênclise em orações subordinadas com verbos flexionados em qualquer tempo e modo.
- (C) I. não se inicia período por pronome átono e II. usa-se ênclise em orações reduzidas de gerúndio não precedidas pela preposição *em*.
- (D) I. usa-se ênclise em orações imperativas afirmativas e II. usa-se ênclise em orações reduzidas de gerúndio, independentemente dos demais elementos colocados.
- (E) I. usa-se ênclise em orações reduzidas de infinitivo flexionado e II. usa-se ênclise em orações reduzidas de gerúndio antecedidas pela preposição *em*, mesmo que esta esteja implícita.

Considere o excerto a seguir para responder às questões 5, 6 e 7:

“Uma descoberta como essa é um pouco como ganhar na loteria, em termos de informação”, constata o arqueólogo Estrada-Belli. “Ela abre uma janela para um tempo obscuro sobre o qual temos pouquíssimos textos.”

QUESTÃO 05

No excerto apresentado, a regência verbal de “abrir” é:

- (A) transitiva direta.
- (B) transitiva indireta.
- (C) intransitiva.
- (D) transitiva direta e indireta.
- (E) pronominal.

QUESTÃO 06

Em relação às categorias gramaticais, no contexto em que ocorrem, as palavras “uma”, “descoberta”, “obscuro” e “qual” classificam-se respectivamente em:

- (A) pronome indefinido, adjetivo, substantivo e pronome relativo.
- (B) artigo indefinido, substantivo, adjetivo e pronome relativo.
- (C) artigo indefinido, substantivo, adjetivo e pronome interrogativo.
- (D) artigo indefinido, adjetivo, adjetivo e pronome interrogativo.
- (E) pronome indefinido, substantivo, substantivo e pronome relativo.

QUESTÃO 07

O adjetivo “*pouquíssimos*”, que ocorre no excerto apresentado, exprime sua qualidade no grau:

- (A) positivo.
- (B) comparativo.
- (C) superlativo relativo.
- (D) superlativo absoluto sintético.
- (E) superlativo absoluto analítico.

QUESTÃO 08

Analise as palavras a seguir quanto à tonicidade e assinale a alternativa em que a palavra dada é oxítona.

- (A) hostil.
- (B) aeromoça.
- (C) espelho.
- (D) patente.
- (E) esperança.

QUESTÃO 09

Analise as sentenças a seguir e assinale aquela em que ocorre um verbo defectivo.

- (A) Deste pico se vê toda a praia.
- (B) A prefeitura demoliu os prédios mais antigos da cidade ontem à tarde.
- (C) Os incêndios florestais criminosos multiplicam-se nessa época do ano.
- (D) A exposição de fotos na biblioteca da universidade está belíssima.
- (E) Ele imprimiu todas as suas fotos da viagem à Flórida.

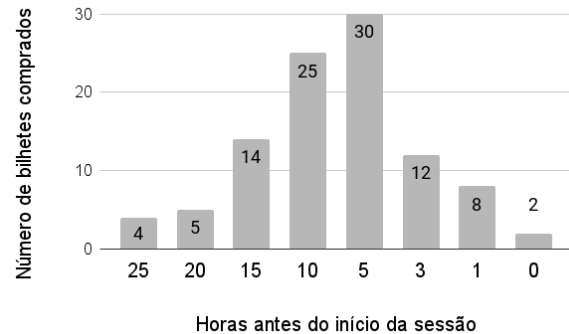
QUESTÃO 10

Analise as sentenças a seguir e assinale a alternativa em que as palavras apontadas preenchem corretamente as lacunas.

- I. O _____ da máquina de lavar ficou muito caro.
 - II. Já reservamos os _____ para assistirmos à peça teatral.
 - III. Finalmente, as crianças _____ a gritaria.
- (A) I. concerto; II. assentos; III. cessaram.
 - (B) I. conserto; II. assentos; III. cessaram.
 - (C) I. conserto; II. acentos; III. cessaram.
 - (D) I. concerto; II. assentos; III. sessaram.
 - (E) I. conserto; II. acentos; III. sessaram.

MATEMÁTICA E RACIOCÍNIO LÓGICO**QUESTÃO 11**

A figura abaixo mostra a antecedência de compra dos clientes para uma determinada sessão de cinema:



A antecedência de compra é a diferença de tempo entre o horário do início do filme e o horário da compra do bilhete. Com base no gráfico, pode-se dizer que a média de antecedência de compra, em horas, é:

- (A) 8,54.
- (B) 8,15.
- (C) 9,80.
- (D) 7,92.
- (E) 5,15.

QUESTÃO 12

Um quadrado e um triângulo equilátero têm a mesma área, qual a razão entre o perímetro deste quadrado e o perímetro deste triângulo? Sabe-se que a altura do triângulo equilátero é $a\frac{\sqrt{3}}{2}$, onde a é a medida do seu lado.

- (A) $\frac{3}{2}\sqrt[4]{3}$.
- (B) $\frac{1}{3}\sqrt[4]{3}$.
- (C) $\frac{3}{2\sqrt[4]{3}}$.
- (D) $\frac{3}{4\sqrt[4]{3}}$.
- (E) $\frac{2}{3}\sqrt[4]{3}$.

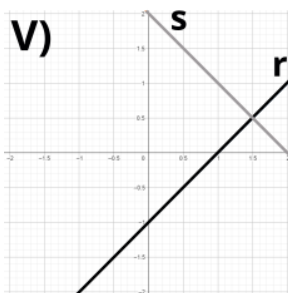
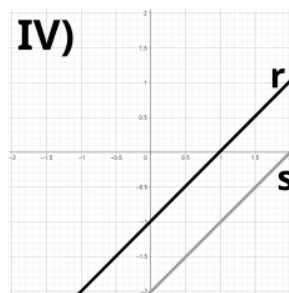
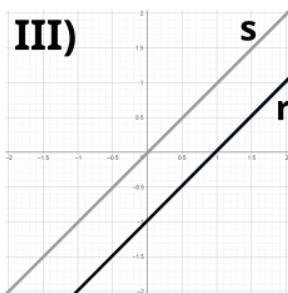
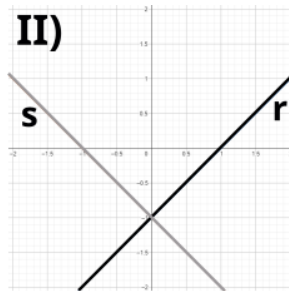
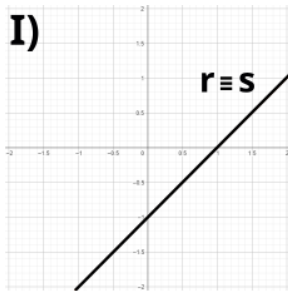
QUESTÃO 13

Observe o sistema de equações do primeiro grau abaixo:

$$2y = 2x - 2$$

$$-y = -x + 1$$

Essas equações podem ser representadas por retas r e s , respectivamente, num gráfico. Dentre as correspondências abaixo, indique o gráfico ao qual este sistema corresponde:



- (A) I.
- (B) II.
- (C) III.
- (D) IV.
- (E) V.

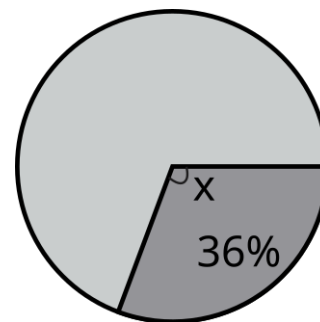
QUESTÃO 14

Um professor aplicou uma prova cuja nota final deve estar entre zero e dez. Ao calcular as notas, ele viu que a média da turma foi 3,0, e o candidato com maior nota tirou 6,0. Ele resolveu 'normalizar' as notas e atribuiu a nota 10,0 ao estudante com nota máxima anterior, e aumentou a nota de todos os outros alunos na mesma porcentagem que aumentou a do estudante com nota máxima. Neste caso, quanto passou a ser a média da turma?

- (A) 5,5.
- (B) 5,0.
- (C) 7,0.
- (D) 6,5.
- (E) 6,0.

QUESTÃO 15

Num gráfico de pizza, se quisermos representar uma fração de 36%, conforme a figura abaixo:



Qual deve ser o ângulo X do setor circular?

- (A) $224,0^\circ$.
- (B) $129,6^\circ$.
- (C) $136,4^\circ$.
- (D) $64,0^\circ$.
- (E) $112,9^\circ$.

QUESTÃO 16

Numa obra de construção civil, há duas possíveis formas de pagamento: 1) o cliente paga, mensalmente, um valor proporcional ao que foi executado na obra naquele mês. 2) o cliente paga, mensalmente, valores fixos igualmente distribuídos no prazo da obra. Suponha que uma determinada obra vai custar no total 12 milhões de reais e tem prazo previsto de 15 meses. Porém, no primeiro mês foi executado apenas 3% da obra. Nesta situação, quanto o construtor receberá a menos se a forma de pagamento for a 1) em relação à 2)?

- (A) R\$ 44.000,00.
- (B) R\$ 80.000,00.
- (C) R\$ 360.000,00.
- (D) R\$ 440.000,00.
- (E) R\$ 36.000,00.

QUESTÃO 17

Observe a seguinte sequência lógica numérica:

$$\frac{1}{6}, 7, \frac{1}{12}, 14, \frac{1}{18}, 21, \dots$$

Indique a divisão do 8º pelo 7º elemento dessa sequência:

- (A) 28/24.
- (B) 24/28.
- (C) 672.
- (D) 52.
- (E) 52/24.

QUESTÃO 18

Observe as seguintes afirmativas, que são dadas como VERDADEIRAS:

- João foi à escola
- João não jogou bola
- João não foi ao parque

Com base nas afirmativas, indique a alternativa que também apresenta uma afirmativa necessariamente VERDADEIRA:

- (A) Se João jogou bola, então João foi ao parque.
- (B) João jogou bola ou foi ao parque.
- (C) João não jogou bola e foi ao parque.
- (D) João foi à escola e jogou bola.
- (E) Se João foi à escola, então João jogou bola.

QUESTÃO 19

Em 1994 o Cajueiro de Pirangi, que fica no estado do Rio Grande do Norte, foi reconhecido pelo Guinness Book como a maior árvore frutífera do mundo. A árvore hoje tem cerca de 9000 metros quadrados de extensão e ainda cresce num ritmo de 0,5 metro quadrado por ano. Se quisermos expressar esse ritmo de crescimento em centímetros quadrados por ano, qual será esse valor?

- (A) 50.
- (B) 500.
- (C) 5000.
- (D) 50.000.
- (E) 500.000.

QUESTÃO 20

Um pacote de biscoitos indica que em 3 unidades de biscoitos há 375 kcal. Supondo que a quantidade recomendada de ingestão de calorias para uma determinada pessoa é de 2000 kcal diárias, se ela comer somente biscoitos no dia, quantas unidades de biscoitos ela deveria comer para atingir o limite recomendado?

- (A) 5.
- (B) 6.
- (C) 8.
- (D) 12.
- (E) 16.

NOÇÕES DE INFORMÁTICA**QUESTÃO 21**

No MS-Word 2016, qual das seguintes alternativas descreve corretamente o processo para recuperar um documento que não foi salvo antes do fechamento do aplicativo?

- (A) Acessar o menu "Arquivo", selecionar "Informações", depois "Gerenciar Documento" e "Recuperar Documentos Não Salvos".
- (B) Reabrir o Word, que automaticamente exibirá os documentos não salvos.
- (C) Usar a função "Pesquisar" do sistema operacional para localizar o arquivo temporário que corresponderá à versão mais recente editada.
- (D) Ir em "Opções" dentro do Word, selecionar "Salvar" e acessar a pasta de auto recuperação "Recuperar Documentos Não Salvos".
- (E) Clicar no botão "Desfazer" na barra de ferramentas de acesso rápido após reabrir o Word.

QUESTÃO 22

Quando se deseja alterar a aparência do texto no Microsoft Word 2016, pode-se modificar a fonte, o tamanho, sublinhar e alinhar o texto através da guia _____.

- (A) Revisão
- (B) Inserir
- (C) Layout de Página
- (D) Página Inicial
- (E) Referências

QUESTÃO 23

No Excel 2016, como uma fórmula deve ser iniciada para realizar cálculos dentro de uma célula?

- (A) Com o sinal #
- (B) Com o sinal &
- (C) Com o sinal @
- (D) Com o sinal %
- (E) Com o sinal =

QUESTÃO 24

No Microsoft Excel 2016, para realizar o cálculo do total dos valores presentes em um determinado conjunto de células, que no presente caso compreende de A1 até A5, qual das funções a seguir é apropriada?

- (A) =SOMA(A1:A5)
- (B) =SUBTRAIR(A1:A5)
- (C) =MULTIPLICAR(A1:A5)
- (D) =DIVIDIR(A1:A5)
- (E) =MÉDIA(A1:A5)

QUESTÃO 25

Em relação à criação e execução de macros no MS-Excel 2016, qual afirmação é verdadeira?

- (A) O Excel não permite a importação de macros de outras planilhas, mas suporta a exportação direta de macros para outros softwares de planilha.
- (B) É impossível atribuir uma macro a um botão na planilha para facilitar sua execução.
- (C) Macros são usadas para operações de formatação e não podem automatizar cálculos ou análise de dados.
- (D) Para executar uma macro, o usuário precisa acessar sempre o Visual Basic for Applications (VBA).
- (E) Macros permitem automatizar tarefas repetitivas, incluindo cálculos complexos, através de scripts no VBA.

CONHECIMENTOS ESPECÍFICOS**QUESTÃO 26**

A atual sistemática de escrituração dos fatos contábeis denomina-se método das partidas dobradas, o qual determina que:

- (A) para um fato contábil ser corretamente escriturado, é necessário que se façam dois débitos em uma mesma conta contábil.
- (B) um crédito em uma ou mais contas contábeis deve equivaler a um crédito de mesmo valor em uma ou mais contas contábeis.
- (C) um débito em uma ou mais contas contábeis deve equivaler a um crédito de mesmo valor em uma ou mais contas contábeis.
- (D) um débito em uma ou mais contas contábeis deve equivaler a um débito de mesmo valor em uma ou mais contas contábeis.
- (E) para um fato contábil ser corretamente escriturado, é necessário que se façam dois débitos em uma mesma conta contábil.

QUESTÃO 27

Nos termos da NBC TG – Estrutura Conceitual para Relatório Financeiro, do Conselho Federal de Contabilidade, são informações qualitativas fundamentais da informação contábil:

- (A) a essência sobre a forma e a compreensibilidade.
- (B) a clareza e a igualdade.
- (C) a relevância e a materialidade.
- (D) a essência sobre a forma e a representação fidedigna.
- (E) a relevância e a representação fidedigna.

QUESTÃO 28

Ainda de acordo com a NBC TG – Estrutura Conceitual, assinale a alternativa que corresponde fielmente à conceituação de ‘Passivo’.

- (A) Passivo é uma obrigação presente da entidade de transferir um recurso econômico como resultado de eventos passados.
- (B) Passivo é uma obrigação futura da entidade de transferir um recurso econômico como resultado de eventos passados.
- (C) Passivo é uma obrigação presente da entidade de transferir um recurso econômico como resultado de eventos presentes ou futuros.
- (D) Passivo é uma obrigação presente ou futura da entidade de transferir um recurso econômico como resultado de eventos passados.
- (E) Passivo é uma obrigação presente da entidade de transferir um recurso econômico como resultado de eventos passados, presentes ou futuros.

QUESTÃO 29

Princípio Contábil relacionado à tempestividade e integridade do registro contábil, determinando que este seja feito de imediato, e com a extensão correta, independentemente das causas que originaram o fato contábil. Trata-se do:

- (A) Princípio do Registro pelo Valor Original.
- (B) Princípio da Oportunidade.
- (C) Princípio da Agilidade.
- (D) Princípio da Entidade.
- (E) Princípio da Continuidade.

QUESTÃO 30

Atenção! Para resolução das próximas **duas questões**, utilize os dados a seguir:

No encerramento do exercício de 2023, a Cia. Mustang era financiada por Capitais de Terceiros equivalentes a R\$ 600.000,00. 25% deste montante eram exigíveis no curto prazo. Na mesma data, o Ativo Total da entidade era de R\$ 1.000.000,00, sendo que 30% do total se tratavam de ativos realizáveis no exercício social subsequente.

Com base nas informações apresentadas, assinale a alternativa que contém o valor do Ativo Não-Circulante da entidade em 31/12/2023.

- (A) R\$ 1.000.000,00.
- (B) R\$ 300.000,00.
- (C) R\$ 500.000,00.
- (D) R\$ 200.000,00.
- (E) R\$ 700.000,00.

QUESTÃO 31

De acordo com os dados, o valor do Patrimônio Líquido da Cia. Mustang em 31/12/2023 era de:

- (A) R\$ 600.000,00.
- (B) R\$ 500.000,00.
- (C) R\$ 800.000,00.
- (D) R\$ 400.000,00.
- (E) (R\$ 400.000,00).

QUESTÃO 32

Atenção! Para resolução das próximas **duas questões**, utilize os dados a seguir.

A Cia. Red Horse, empresa comercial que trabalha no ramo de revenda de produtos agropecuários, apresentou as seguintes contas de resultado ao fim do exercício de 2023:

De acordo com as informações apresentadas, a Receita Líquida da empresa no exercício de 2023 foi de:

- (A) R\$ 168.500,00.
- (B) R\$ 161.000,00.
- (C) R\$ 164.500,00.
- (D) R\$ 174.500,00.
- (E) R\$ 165.500,00.

QUESTÃO 33

De acordo com os dados, o Lucro Bruto apresentado pela empresa no exercício de 2023 é igual a:

- (A) R\$ 129.500,00.
- (B) R\$ 120.500,00.
- (C) R\$ 119.500,00.
- (D) R\$ 123.500,00.
- (E) R\$ 116.000,00.

QUESTÃO 34

É um método de custeio obrigatório para fins fiscais no Brasil e está em conformidade com o princípio contábil da competência. Nesse método, são atribuídos aos produtos acabados tanto os custos variáveis quanto os custos fixos incorridos durante o período. O enunciado está a se referir ao:

- (A) Custeio Integral.
- (B) Custeio por Absorção.
- (C) Custeio Baseado em Atividades.
- (D) Custeio Direto.
- (E) Custeio Tributário.

QUESTÃO 35

Em Contabilidade de Custos há um importante indicador gerencial utilizado para tomada de decisões, que resulta da diferença aritmética entre o valor bruto de venda de um produto e os custos e despesas variáveis associados à sua produção e comercialização. O enunciado se refere ao conceito de:

- (A) Margem Bruta.
- (B) Taxa Interna de Retorno.
- (C) Retorno sobre o Patrimônio Líquido (ROE).
- (D) Margem de Contribuição Unitária.
- (E) Margem Líquida.

QUESTÃO 36

Com base nas regras relativas a Concurso Público e Servidores Públicos previstas na Constituição Federal de 1988, informe se é verdadeiro (V) ou falso (F) para o que se afirma a seguir.

() O prazo de validade do concurso público será de dois anos, prorrogável uma vez, por igual período.

() São estáveis após três anos de efetivo exercício os servidores nomeados para cargo de provimento efetivo em virtude de concurso público.

() Como condição para a aquisição da estabilidade, é obrigatória a avaliação especial de desempenho por comissão instituída para essa finalidade.

Assinale a alternativa que evidencia a sequência correta.

- (A) F – V – F.
- (B) F – F – V.
- (C) V – V – F.
- (D) F – V – V.
- (E) V – F – V.

QUESTÃO 37

Com fulcro nos preceitos constitucionais acerca do acúmulo de cargos públicos, assinale a alternativa INCORRETA.

(A) O servidor público investido no mandato de Vereador, havendo compatibilidade de horários, perceberá as vantagens de seu cargo, emprego ou função, sem prejuízo da remuneração do cargo eletivo, e, não havendo compatibilidade, poderá optar por qual remuneração irá perceber.

(B) Ainda que houver compatibilidade de horários, é vedado o acúmulo remunerado de um cargo de professor com outro técnico ou científico, ante a incompatibilidade das atribuições.

(C) Se houver compatibilidade de horários, pode um Juiz de Direito ocupar cargo de Professor Universitário.

(D) É permitido o acúmulo remunerado de dois cargos ou empregos privativos de profissionais de saúde, com profissões regulamentadas, se houver compatibilidade de horários.

(E) Quando houver compatibilidade de horários, é permitido o acúmulo remunerado de dois cargos de professor.

QUESTÃO 38

Diploma legal recente, a Lei nº 14.133/2021 veio para consolidar a legislação relativa às licitações e contratos públicos. Uma de suas determinações estipula que a aquisição de bens e serviços comuns (aqueles cujos padrões de desempenho e qualidade podem ser objetivamente definidos pelo edital, por meio de especificações usuais de mercado) deverá ser feita através da modalidade:

- (A) Registro de Preços.
- (B) Convite.
- (C) Hasta Pública.
- (D) Leilão.
- (E) Pregão.

QUESTÃO 39

O ato administrativo gerado com defeito insanável, geralmente decorrente da ausência ou vício substancial em algum de seus elementos constitutivos (por exemplo, um ato praticado com desvio de finalidade) e que não gera, portanto, efeitos válidos, é classificado pela doutrina como:

- (A) inapto.
- (B) pendente.
- (C) nulo.
- (D) revogado.
- (E) inconsistente.

QUESTÃO 40

Sobre a disciplina dos atos administrativos, é correto afirmar que _____ são aqueles praticados pelo administrador sem qualquer julgamento acerca de critérios de oportunidade ou conveniência administrativas quanto sua à edição. Todas as suas características objetivas estão descritas em lei e, ocorrendo no mundo fático as circunstâncias nela previstas, não há outra opção senão sua edição.

Assinale a alternativa que corretamente preenche a lacuna.

- (A) atos hierárquicos
- (B) atos vinculados
- (C) atos impositivos
- (D) atos de polícia
- (E) atos judiciais

QUESTÃO 41

A Lei nº 5.172/1966 – Código Tributário Nacional – normatiza regras gerais de Direito Tributário, estabelecendo, dentre outras previsões, que os tributos são _____, e devem ser cobrados mediante atividade administrativa _____.

Assinale a alternativa que correta e sequencialmente preenche as lacunas.

- (A) Impostos, Tarifas e Contribuições / plenamente vinculada
- (B) Contribuições Parafiscais, Taxas e Emolumentos / discricionária
- (C) Taxas, Contribuições e Tarifas / discricionária
- (D) Impostos, Taxas e Contribuições de Melhoria / plenamente vinculada
- (E) Impostos, Taxas e Contribuições Sociais / vinculada

QUESTÃO 42

Nos termos do atual regramento constitucional, são tributos cuja competência de instituição e cobrança foi conferida aos Municípios, EXCETO:

- (A) Contribuição para o Custeio do Serviço de Iluminação Pública.
- (B) Imposto sobre a propriedade territorial rural.
- (C) Imposto sobre a transmissão "inter vivos", a qualquer título, por ato oneroso, de bens imóveis.
- (D) Imposto sobre Serviços de Qualquer Natureza.
- (E) Contribuições de Melhoria.

QUESTÃO 43

A competência para instituição de impostos extraordinários, no caso de guerra externa ou sua iminência, os quais serão suprimidos, gradativamente, cessadas as causas de sua criação, foi outorgada pela Constituição Federal de 1988:

- (A) de forma compartilhada entre a União e o Distrito Federal.
- (B) de forma exclusiva aos Estados.
- (C) de forma compartilhada entre os Estados e o Distrito Federal.
- (D) de forma compartilhada entre a União e os Estados.
- (E) de forma exclusiva à União.

QUESTÃO 44

De acordo com o Código Tributário Nacional e a Constituição Federal de 1988, o tributo cuja origem de cobrança decorre do exercício regular do Poder de Polícia pela Administração Pública ou da prestação de serviços efetivos ou potenciais ao contribuinte é:

- (A) o Laudêmio.
- (B) o Preço Público.
- (C) a Contribuição Parafiscal.
- (D) a Taxa.
- (E) a Tarifa.

QUESTÃO 45

Há uma categoria de ato administrativo em que seu conteúdo material é determinado por um único órgão, no entanto, a efetividade desse ato depende de um outro, emitido por órgão distinto, que lhe confere produção de efeitos. Exemplo típico é a nomeação de Conselheiro de Tribunal de Contas pelo Governador de Estado, sujeita a aprovação da Assembleia Legislativa. Estes atos são classificados como:

- (A) Bilaterais.
- (B) Especiais.
- (C) Complementares.
- (D) Compostos.
- (E) Complexos.

QUESTÃO 46

De acordo com a Lei Federal nº 14.133/2021, assinale a alternativa incorreta.

- (A) considera-se autoridade: agente público dotado de poder de decisão;
- (B) considera-se entidade: unidade de atuação dotada de personalidade jurídica;
- (C) considera-se serviço: atividade ou conjunto de atividades destinadas a obter determinada utilidade, intelectual ou material, de interesse da Administração;
- (D) considera-se bens e serviços comuns: aqueles cujos padrões de desempenho e qualidade podem ser objetivamente definidos pelo edital, por meio de especificações usuais de mercado;
- (E) considera-se contratado: pessoa jurídica integrante da Administração Pública responsável pela contratação;

QUESTÃO 47

São objetivos do processo licitatório, exceto:

- (A) o regime de fornecimento de bens, de prestação de serviços ou de execução de obras e serviços de engenharia, observados os potenciais de economia de escala;
- (B) assegurar a seleção da proposta apta a gerar o resultado de contratação mais vantajoso para a Administração Pública, inclusive no que se refere ao ciclo de vida do objeto;
- (C) assegurar tratamento isonômico entre os licitantes, bem como a justa competição;
- (D) evitar contratações com sobrepreço ou com preços manifestamente inexequíveis e superfaturamento na execução dos contratos;
- (E) incentivar a inovação e o desenvolvimento nacional sustentável.

QUESTÃO 48

Analise os itens abaixo.

Somente a União, nos seguintes casos excepcionais, pode instituir **empréstimos compulsórios**:

- I - guerra interna, ou sua iminência;
 - II - calamidade pública que não exija auxílio federal impossível de atender com os recursos orçamentários disponíveis.
- (A) A asserção I é uma proposição falsa, e a II é uma proposição verdadeira.
 - (B) As asserções I e II são proposições verdadeiras, e a II é um complemento da I.
 - (C) A asserção I é uma proposição verdadeira, e a II é uma proposição falsa.
 - (D) As asserções I e II são proposições falsas.
 - (E) As asserções I e II são proposições verdadeiras, mas a II não é um complemento da I.

QUESTÃO 49

De acordo com a Lei de Licitações e Contratos Administrativos, analise os itens abaixo.

concorrência: modalidade de licitação para contratação de bens e serviços especiais e de obras e serviços comuns e especiais de engenharia, cujo critério de julgamento poderá ser:

- I - maior preço;
- II - melhor técnica ou conteúdo artístico;
- III - técnica e preço;
- IV - maior retorno econômico;
- V - menor desconto;

Está incorreto o que se afirma em:

- (A) I e IV apenas.
- (B) II e V apenas.
- (C) I e V apenas.
- (D) II, III e IV apenas.
- (E) I, II e III.

QUESTÃO 50

Acerca Competência Tributária, leia atentamente o trecho a seguir:

“A competência tributária é _____, salvo atribuição das funções de arrecadar ou _____ tributos, ou de executar leis, serviços, atos ou _____ administrativas em matéria tributária, conferida por uma pessoa jurídica de direito _____ a outra, nos termos do § 3º do art. 18 da Constituição.

Agora, assinale a alternativa que **não** completa corretamente uma das lacunas.

- (A) público
- (B) decisões
- (C) fiscalizar
- (D) práticas
- (E) indelegável

