


TÉCNICO EM SEGURANÇA DO TRABALHO

LEIA ATENTAMENTE AS INSTRUÇÕES ABAIXO:

- É responsabilidade exclusiva do candidato a conferência de seus dados pessoais, impressos no Cartão de Respostas e no caderno de provas, em especial o nome, o número de inscrição, o número de seu documento de identidade, cargo de sua opção, assim como, a marcação e assinatura do seu Cartão de Respostas.
- Verifique se este caderno de prova contém **40** questões. Com quatro alternativas identificadas pelas letras **A, B, C, D e E** das quais apenas uma será a resposta correta.
- Preencha o Cartão de Respostas da prova objetiva utilizando caneta esferográfica azul ou preta, ocupando totalmente o campo de marcação, ao lado dos números, que corresponde à resposta correta. Conforme ilustração:

- **Atenção:** Serão consideradas incorretas questões para as quais o candidato tenha preenchido no cartão resposta mais de uma opção, bem como questões em que o campo de marcação apresente rasuras, emendas ou que não esteja preenchido integralmente. Tenha muito cuidado para não danificar o código de barras utilizado na leitura óptica do Cartão de Respostas, por isso não **DOBRE, AMASSE ou MANCHE** o mesmo. O Cartão de Respostas será o único documento válido para a correção das provas objetivas, salvo à disposição do Instituto Abaré-Été.
- Os fiscais **NÃO** são autorizados a prestar informações de interpretação das questões. Sua função é apenas fiscalizar e orientar quanto ao funcionamento do certame.
- Ao concluir a prova, **entregue ao fiscal de sala o Cartão de Respostas da Prova Objetiva**, a não devolução implicará à eliminação sumária do candidato.
- **Assine a Lista De Presença e Cartão Resposta da prova objetiva, sob pena de eliminação.**

NÃO SERÁ PERMITIDO:

- Folhear o caderno de provas antes da autorização do fiscal. Caso aconteça, implicará na eliminação do candidato.
- Qualquer tipo de comunicação entre os candidatos durante a aplicação da prova.
- O uso de calculadoras, dicionários, telefones celulares, pen drive, fone de ouvido, relógio de qualquer espécie, recursos didáticos, aparelhos eletrônicos e bonés.
- A permanência de candidatos no local de realização das provas após o término e a entrega do Cartão de Respostas, devendo o candidato retirar-se imediatamente do local, não sendo possível nem mesmo a utilização dos banheiros e bebedouros.

TEMPO DE PROVA:

- A prova terá duração máxima de **4 (quatro) horas**, incluído o tempo para preenchimento do Cartão de Respostas.
- O candidato somente poderá retirar-se do local de prova **após 1 (uma) hora de seu início**.
- O candidato poderá **levar o caderno de prova após 1 (uma) hora de seu início**.
- Os 3 (três) últimos candidatos somente poderão retirar-se da sala de prova simultaneamente e devem fazê-lo após a assinatura da ata de sala.

1		6		11		16		21		26		31		36
2		7		12		17		22		27		32		37
3		8		13		18		23		28		33		38
4		9		14		19		24		29		34		39
5		10		15		20		25		30		35		40



*Instituto de Desenvolvimento Humano Tecnológico
de Economia Sustentável e Preservação Ambiental.
Instituto - Abare-Elé.*

**PREFEITURA MUNICIPAL DE SÃO GABRIEL DA CACHOEIRA/AM
CONCURSO PÚBLICO Nº 001/2024**



**PREFEITURA MUNICIPAL
DE SÃO GABRIEL DA
CACHOEIRA/AM**

RASCUNHO

Português

O texto seguinte servirá de base para responder às questões de 1 a 4.

Meningite bacteriana deixa sequelas neurológicas em um terço dos pacientes

Cerca de um terço das crianças que tiveram meningite bacteriana apresentam sequelas neurológicas, como a deficiência cognitiva, auditiva e motora, revela um novo estudo feito pelo Instituto Karolinska, na Suécia, publicado na revista científica Jama.

A meningite bacteriana pode afetar pessoas de qualquer idade, mas é mais comum em crianças e adolescentes. Mesmo com o diagnóstico precoce e um tratamento adequado, feito à base de antibióticos, ela pode evoluir rapidamente. Segundo especialistas ouvidos pela Agência Einstein, nem sempre é possível evitar os quadros graves, que podem deixar sequelas permanentes e até causar a morte do paciente. Mas, segundo os autores da pesquisa, faltam estudos das consequências a longo prazo.

Após analisar dados de mais de 36 mil voluntários, durante 35 anos, percebeu-se que aqueles que contraíram a infecção na infância tinham mais risco de apresentar problemas motores, cognitivos, emocionais, comportamentais, convulsões e perda auditiva e visual em relação à população geral.

"Muitos problemas não aparecem imediatamente. As sequelas cognitivas em crianças que ficaram doentes muito pequenas, por exemplo, só se conhecem a longo prazo", diz o infectologista Alfredo Gilio, coordenador da Clínica de Imunização do Hospital Israelita Albert Einstein. "A vantagem desse estudo é que ele é muito robusto estatisticamente, com um grande número de casos e seguimento a longo prazo."

A pesquisa também mostrou que, quanto mais nova a criança contrai a doença, maior o risco de sequelas. Isso pode ser explicado, segundo os autores, pela gravidade dos danos ao sistema nervoso em estágios precoces do desenvolvimento físico e mental.

Entre as bactérias causadoras de meningite, o *Streptococcus pneumoniae* foi a mais associada com as sequelas motoras, cognitivas e de audição, em comparação com as infecções por *Haemophilus influenzae* e *Neisseria meningitidis* (responsável pela meningite C, uma das mais prevalentes no Brasil).

O resultado do estudo reforça a importância da vacinação. "As vacinas têm uma alta taxa de proteção, beirando os 100%, e são essenciais para prevenir a doença e, portanto, evitar as sequelas", diz Gilio.

A rede pública oferece imunizantes contra todas essas bactérias causadoras de meningite. Pelo calendário do Ministério da Saúde, a pneumocócica, que previne infecções pelo *S pneumoniae*, deve ser tomada aos 2 e aos 4 meses, além de um reforço aos 12 meses. Nessa mesma faixa etária, a criança deve tomar também a penta, que afasta o risco de doenças causadas pelo

Haemophilus influenzae e outras, como difteria, tétano e coqueluche. Essa vacina tem uma terceira dose aos 6 meses.

Já a meningite C deve ser dada em duas doses, aos 3 e aos 5 meses, com reforço ao completar 1 ano. Adolescentes entre 11 e 14 anos podem receber a ACWY, que protege contra esses quatro sorotipos da meningite meningocócica. Na rede privada também está disponível a vacina contra a meningite B.

A meningite é a inflamação das membranas que revestem o cérebro. Entre os sintomas que devem servir de alerta estão febre alta, dor de cabeça, rigidez na nuca, náuseas e vômitos, manchas vermelhas pelo corpo, sensibilidade à luz e confusão mental.

Quando é causada por vírus, a doença não costuma ser grave nem deixar sequelas. Já as meningoencefalites, inflamações que afetam o encéfalo, são graves e podem causar a morte. Podem ser provocadas por diversos agentes, como vírus, bactérias e até parasitas. O tratamento depende da causa.

<https://www.cnnbrasil.com.br/saude/meningite-bacteriana-deixa-sequelas-neurológicas-em-um-terço-dos-pacientes/>

Questão 01

(Correta: D)

Qual é um dos sintomas mencionados no texto que pode indicar meningite?

- (A) Insônia.
- (B) Dor nos olhos.
- (C) Dor de estômago.
- (D) Manchas vermelhas pelo corpo.
- (E) Falta de apetite.

Questão 02

(Correta: B)

Qual é a importância enfatizada no texto sobre a vacinação contra a meningite?

- (A) A vacinação não é essencial para prevenir a doença.
- (B) As vacinas têm uma alta taxa de proteção, beirando os 100%.
- (C) As vacinas não oferecem proteção adequada contra a doença.
- (D) As vacinas têm uma taxa de proteção muito baixa, abaixo de 50%.
- (E) As vacinas só são recomendadas para adolescentes.

Questão 03

(Correta: C)

Qual é um dos principais pontos destacados sobre a meningite bacteriana no texto?

- (A) As sequelas permanentes são raras.
- (B) Existem muitos estudos sobre suas consequências a longo prazo.
- (C) Pode evoluir rapidamente, mesmo com diagnóstico precoce e tratamento adequado.
- (D) O tratamento à base de antibióticos é sempre eficaz.
- (E) Acomete principalmente pessoas idosas.

Questão 04

(Correta: E)

Qual é uma das vantagens destacadas sobre o estudo mencionado no texto?

- (A) Não fornece informações sobre o acompanhamento a longo prazo.
- (B) Oferece tratamento precoce para as sequelas cognitivas.
- (C) Apresenta uma abordagem estatística frágil.
- (D) Fornece resultados imediatos sobre os efeitos da meningite em crianças.
- (E) Proporciona um grande número de casos e um acompanhamento a longo prazo.

Questão 05

(Correta: D)

Leia com atenção a afirmativa abaixo:

É proibida entrada de animais no estabelecimento.

Assinale a alternativa que identifica o erro na afirmativa acima:

- (A) Não há qualquer erro de regência ou concordância na afirmativa.
- (B) Há erro de concordância verbal no termo "É."
- (C) Há erro de regência nominal em "no estabelecimento."
- (D) Há erro de concordância nominal no termo "proibida."
- (E) Há erro de regência verbal em "É proibida."

Questão 06

(Correta: C)

Assinale a alternativa que contenha o emprego de um vício de linguagem chamado de Barbarismo:

- (A) Meus amigos são muito festivos.
- (B) É inacreditável o amor que Davi tem por música gospel.
- (C) Eu adinhei exatamente o presente que ela me daria.
- (D) Já pedi diversas vezes para João entrar para dentro de casa.
- (E) A moça freiosa animava toda a festa.

Questão 07

(Correta: D)

Assinale a alternativa com a regência verbal correta nos termos da norma culta da Língua Portuguesa:

- (A) Prefiro mais chocolate do que doce de leite.
- (B) Fui em Belo Horizonte no último carnaval.
- (C) O escrivão visou nas papéis que lhe foram entregues.
- (D) Custou ao trabalhador entender as orientações do gerente.
- (E) Respondi o Ricardo rapidamente.

Questão 08

(Correta: D)

Leia com atenção as colunas abaixo:

Coluna 01:

(_) *Ela riu e chorou e abraçou e beijou todos os amigos.*

(_) *A atleta brasileira correu, pulou, gritou, venceu.*

(_) *Carlos fez o trabalho, entregou, recebeu o pagamento.*

(_) *O vento soprava e as folhas caíam e os pássaros voavam e as nuvens se moviam lentamente.*

Coluna 02:

I. Assíndeto.

II. Polissíndeto.

Correlacione as colunas acima conforme o emprego das figuras de sintaxe nas afirmativas da Coluna 01. Em seguida, assinale a alternativa com a sequência correta:

- (A) I > II > II > I.
- (B) I > II > I > II.
- (C) II > I > II > I.
- (D) II > I > I > II.
- (E) II > II > I > I.

Questão 09

(Correta: D)

Leia com atenção a afirmativa abaixo:

*Ariela sabia que eu estava disposto a fazer tudo **por** ela.*

Qual é a função sintática do termo destacado?

- (A) Complemento nominal.
- (B) Complemento verbal.
- (C) Objeto indireto.
- (D) Adjunto adverbial.
- (E) Adjunto adnominal.

Questão 10

(Correta: A)

Leia com atenção as afirmativas abaixo:

I. O carro, que era vermelho, chamava a atenção de

todos.

II. Os alunos que estudaram para a prova conseguiram boas notas.

III. O cachorro que late muito é irritante.

IV. Maria, que é minha melhor amiga, veio me visitar hoje.

V. O filme, que foi indicado ao Oscar, atraiu uma grande audiência.

VI. O livro que comprei ontem é muito interessante.

Quais das afirmativas lidas acima possuem uma oração subordinada adjetiva restritiva?

- (A) II, III e VI.
- (B) I, II e V.
- (C) II, III e IV.
- (D) I, IV e V.
- (E) III, V e VI.

Matemática

Questão 11

(Correta: A)

A equação $5x + 450$ foi elaborada por Murilo para determinar a quantidade de dinheiro que ele vai guardar do primeiro ao décimo segundo mês do ano de 2024, sendo o mês representado pela letra x . Quanto ele vai guardar no mês de dezembro?

- (A) Ele vai guardar R\$ 510,00.
- (B) Ele vai guardar R\$ 545,00.
- (C) Ele vai guardar R\$ 590,00.
- (D) Ele vai guardar R\$ 625,00.
- (E) Ele vai guardar R\$ 690,00.

Questão 12

(Correta: B)

A distância entre a casa de José até a de João é de 2,7 km. Se entre a casa de José e a de Maria a distância é $\frac{1}{3}$ dessa medida, de quanto ela é?


- (A) A distância entre a casa de José e a de Maria é de 700 metros.
- (B) A distância entre a casa de José e a de Maria é de 900 metros.
- (C) A distância entre a casa de José e a de Maria é de 850 metros.
- (D) A distância entre a casa de José e a de Maria é de 1,5 quilômetros.
- (E) A distância entre a casa de José e a de Maria é de 1,35 quilômetros.

Questão 13

(Correta: E)

Carolina fez um porta-retratos para colocar uma foto do

seu cachorrinho e contornou com uma fita adesiva cinza, conforme a imagem abaixo.



Quanto ela usou da fita?

- (A) Ela usou 1,2 metros de fita.
- (B) Ela usou 1,5 metros de fita.
- (C) Ela usou 90 centímetros de fita.
- (D) Ela usou 75 centímetros de fita.
- (E) Ela usou 1,1 metros de fita.

Questão 14

(Correta: A)

Uma confeitaria compra sacos de 54 kg de farinha de trigo e usa 300 gramas na receita de cada bolo. Quantos bolos ela faz com um saco de trigo?

- (A) 180 bolos
- (B) 272 bolos
- (C) 215 bolos
- (D) 300 bolos
- (E) 90 bolos

Questão 15

(Correta: B)

Luan comprou um carro para a sua empresa, com um determinado valor de entrada e mais 3 parcelas trimestrais de R\$ 25.000,00. Porém, a última parcela foi paga com 20 dias de antecedência e ele ganhou um desconto de 0,03% ao dia. Quanto ele pagou nesta parcela?

- (A) Ele pagou R\$ 24.650,00.
- (B) Ele pagou R\$ 24.850,00.
- (C) Ele pagou R\$ 20.820,00.
- (D) Ele pagou R\$ 17.980,00.
- (E) Ele pagou R\$ 22.645,00.

Questão 16

(Correta: C)

Na cidade de Riachinho, 5.736 crianças e adolescentes de 10 a 11 anos já tomaram a vacina contra a dengue. Se esse total representa 60% do público que deve

tomá-la, quantos indivíduos ainda faltam?

- (A) Faltam 2.976 indivíduos.
- (B) Faltam 4.560 indivíduos.
- (C) Faltam 3.824 indivíduos.
- (D) Faltam 3.025 indivíduos.
- (E) Faltam 2.540 indivíduos.

Questão 17

(Correta: C)

Em uma pesquisa realizada na comunidade de Jabiúna para saber a preferência dos moradores entre um show musical ou um evento esportivo na festa local, constatou-se que dos 100 entrevistados, 56 disseram querer o show e 78 disseram querer o evento esportivo. Quantos entrevistados disseram gostar das duas opções?

- (A) 41 entrevistados
- (B) 29 entrevistados
- (C) 34 entrevistados
- (D) 52 entrevistados
- (E) 17 entrevistados

Questão 18

(Correta: C)

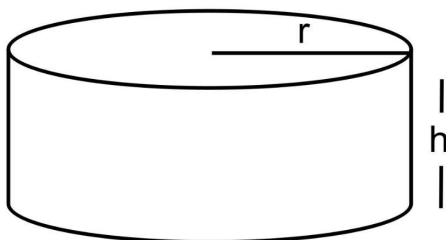
Bianca tem um terreno com 32 m de comprimento e 25 m de largura e vai usar 30% de sua área para fazer um pomar. Qual será a área do (A) do pomar de Bianca?

- (A) $A = 182 \text{ m}^2$
- (B) $A = 150 \text{ m}^2$
- (C) $A = 240 \text{ m}^2$
- (D) $A = 265 \text{ m}^2$
- (E) $A = 320 \text{ m}^2$

Questão 19

(Correta: D)

Para aguentar o calor intenso que vem fazendo nos últimos tempos, Gustavo comprou uma piscina de plástico, representada na imagem abaixo, e colocou no quintal para se refrescar com sua família, mas não esperava que fosse gastar tanta água para enchê-la.



Considerando que ela tem um raio $r = 2,5 \text{ m}$ e que será cheia até a uma altura $h = 60 \text{ cm}$, qual é o volume (V) de água usado para enchê-la? (faça $\pi = 3,14$)

- (A) $V = 10.810$ litros
- (B) $V = 9.750$ litros
- (C) $V = 12.795$ litros
- (D) $V = 11.775$ litros
- (E) $V = 13.980$ litros

Questão 20

(Correta: D)

Henrique abriu uma sorveteria e nos 5 primeiros dias de funcionamento atendeu 380 pessoas, faturando R\$ 5.700,00. Mantendo a mesma média, quantos dias a mais serão necessários para ele bater a meta de atender 1000 pessoas e faturar R\$ 15.000,00?

- (A) Em aproximadamente 45 dias.
- (B) Em aproximadamente 15 dias.
- (C) Em aproximadamente 27 dias.
- (D) Em aproximadamente 22 dias.
- (E) Em aproximadamente 31 dias.

Conhecimentos Gerais

Questão 21

(Correta: A)

Acerca da economia brasileira, julgue as frases abaixo.

I.O país é um importante exportador de commodities, como trigo, minério de ferro e petróleo, o que o torna o país pouco sensível às flutuações nos preços internacionais desses produtos.

II.O Brasil enfrenta desafios significativos relacionados à sua dívida pública e ao déficit fiscal. Os esforços para implementar reformas fiscais, como a reforma da Previdência, visam melhorar a sustentabilidade fiscal a longo prazo.

III.Os desafios econômicos do Brasil estão intrinsecamente ligados a questões sociais e políticas, incluindo desigualdade de renda, acesso limitado a serviços públicos de qualidade e um ambiente político às vezes volátil.

Está(ão) CORRETA(S) a(s) seguinte(s) proposição(ões).

- (A) Apenas, II e III.
- (B) I, II e III.
- (C) Apenas, I e III.
- (D) Apenas, I.
- (E) Apenas, II.

Questão 22

(Correta: B)

O efeito estufa é um processo natural que aquece a superfície terrestre e a atmosfera inferior, essencial para manter a temperatura do planeta em um nível que suporte a vida. No entanto, atividades humanas têm intensificado esse efeito, contribuindo para o

aquecimento global. Qual dos seguintes gases é considerado um dos principais contribuintes para o efeito estufa antrópico?

- (A) Oxigênio (O₂).
- (B) Dióxido de Carbono (CO₂).
- (C) Hélio (He).
- (D) Argônio (Ar).
- (E) Nitrogênio (N₂).

Questão 23

(Correta: B)

Qual das seguintes medidas é essencial para promover a ética e a cidadania em uma sociedade democrática?

- (A) Restrição do acesso à informação para evitar a disseminação de notícias falsas.
- (B) Incentivo à participação pública em decisões políticas através de referendos e consultas populares.
- (C) Abolição de sistemas de educação formal em favor de métodos de autoaprendizagem não estruturados.
- (D) Implementação de leis que limitam a liberdade de expressão em nome da segurança nacional.
- (E) Promoção de políticas que priorizam o desenvolvimento econômico em detrimento dos direitos humanos.

Questão 24

(Correta: E)

O cinema brasileiro tem uma rica história, com filmes que refletem a diversidade cultural e social do país. Um dos marcos do cinema nacional é o movimento conhecido como Cinema Novo, que buscava uma linguagem própria para o cinema brasileiro, focando em temas sociais relevantes. Qual dos seguintes filmes é considerado uma obra-prima do Cinema Novo?

- (A) "Central do Brasil".
- (B) "Cidade de Deus".
- (C) "Dona Flor e Seus Dois Maridos".
- (D) "Tropa de Elite".
- (E) "Deus e o Diabo na Terra do Sol".

Questão 25

(Correta: D)

A ética no mercado de trabalho, especialmente em órgãos públicos, é fundamental. Qual das seguintes ações é considerada uma prática ética essencial para funcionários públicos?

- (A) Utilizar recursos do órgão público para benefício pessoal, visando maximizar a eficiência operacional.
- (B) Priorizar indicações políticas para promoções internas, garantindo alinhamento ideológico com a administração atual.

- (C) Aceitar presentes ou favores de empresas que têm contratos com o órgão público, como forma de estreitar relações.
- (D) Manter a imparcialidade e a transparência na execução de suas funções, evitando conflitos de interesse.
- (E) Divulgar informações confidenciais obtidas no exercício da função, se isso beneficiar o interesse público.

Questão 26

(Correta: E)

O Mercosul é um bloco econômico e político que tem como membros alguns países da América do Sul. Desde sua criação, o Mercosul visa promover a integração econômica e política entre seus estados membros. Qual dos seguintes países é um membro fundador do Mercosul?

- (A) Chile.
- (B) Colômbia.
- (C) Bolívia.
- (D) Equador.
- (E) Brasil.

Questão 27

(Correta: A)

A arquitetura brasileira é reconhecida mundialmente por sua inovação e diversidade. Um dos nomes mais emblemáticos desse campo no Brasil é Oscar Niemeyer, conhecido por suas formas curvas e pelo uso inovador do concreto. Considerando o legado de Niemeyer, qual dos seguintes edifícios é uma de suas obras mais famosas, representando um marco na arquitetura moderna brasileira?

- (A) Catedral Metropolitana de Brasília.
- (B) Edifício Copan.
- (C) Museu do Amanhã.
- (D) Museu de Arte de São Paulo (MASP).
- (E) Teatro Municipal do Rio de Janeiro.

Questão 28

(Correta: B)

O samba é um dos gêneros musicais mais emblemáticos do Brasil, com raízes profundas na história e cultura do país. Qual das seguintes afirmações melhor descreve a origem e a importância do samba na sociedade brasileira?

- (A) Ele foi desenvolvido nos Estados Unidos e levado ao Brasil por imigrantes americanos na década de 1920.
- (B) O samba tem suas origens nas tradições africanas trazidas ao Brasil pelos escravizados, desenvolvendo-se especialmente nas comunidades do Rio de Janeiro.

- (C) Surgiu como um movimento musical no século XIX, diretamente inspirado pelas marchinhas de Carnaval europeias.
- (D) O samba originou-se no Sul do Brasil, no início do século XX, como uma forma de música clássica brasileira.
- (E) Foi criado exclusivamente para ser a música oficial do Carnaval do Rio de Janeiro, sem nenhuma influência cultural anterior.

Questão 29

(Correta: A)

Como a inteligência artificial (IA) está impactando a sociedade contemporânea em termos de mercado de trabalho?

- (A) Gerando novas oportunidades de emprego em setores como tecnologia da informação, saúde e educação.
- (B) Transformando processos produtivos para serem menos dependentes de insumos energéticos.
- (C) Reduzindo a necessidade de interações humanas em serviços de atendimento ao cliente, deteriorando a qualidade do serviço.
- (D) Impedindo o desenvolvimento de novas tecnologias em áreas não relacionadas à computação.
- (E) Criando um cenário onde máquinas substituem todos os empregos humanos, levando ao desemprego em massa.

Questão 30

(Correta: E)

Como a pandemia de COVID-19 afetou a economia global e quais medidas foram tomadas por governos para mitigar esses impactos?

- (A) Estimulou a colaboração internacional na produção e distribuição de remédios.
- (B) Levou à adoção universal de políticas de austeridade para conter o déficit público.
- (C) Causou uma expansão econômica devido ao aumento da demanda por produtos tecnológicos.
- (D) Impulsionou o turismo doméstico como alternativa à restrição de viagens internacionais.
- (E) Forçou a implementação de programas de auxílio financeiro e estímulos fiscais para apoiar empresas e trabalhadores afetados.

Conhecimentos Específicos

Questão 31

(Correta: C)

Tem como objetivo a prevenção de acidentes e doenças decorrentes do trabalho, de modo a tornar compatível permanentemente o trabalho com a preservação da vida e a promoção da saúde do trabalhador. Marque a alternativa CORRETA que corresponde ao contexto.

- (A) Conselho de Saúde.
- (B) SESMT.
- (C) CIPA.
- (D) Brigada de Incêndio.
- (E) Conselho de Segurança.

Questão 32

(Correta: C)

De acordo com a Portaria 24, de 29 de Dezembro de 1994, as empresas são obrigadas a implantar um Programa que tem como medida além de monitorar as condições de saúde de cada trabalhador, permite ao empresário verificar a eficácia das medidas de controle da insalubridade. Marque a alternativa CORRETA que corresponde ao contexto.

- (A) LTCAT.
- (B) PPRA.
- (C) PCMSO.
- (D) PPR.
- (E) PCMAT.

Questão 33

(Correta: C)

O pagamento do Adicional de Insalubridade está previsto na Consolidação das Leis do Trabalho em seu capítulo V, ao trabalhador que exerça seu ofício em condições de insalubridade. Essas condições estão regulamentadas na Portaria nº 3214178 do MTb, de 8 de junho de 1978. Marque a alternativa CORRETA que regulamenta o pagamento da insalubridade.

- (A) NR17.
- (B) NR18.
- (C) NR15.
- (D) NR16.
- (E) NR14.

Questão 34

(Correta: E)

São representados pelas condições físicas no ambiente de trabalho, tais como ruído, calor, frio, vibração e radiações que, de acordo com as características do posto de trabalho, podem causar danos à saúde do trabalhador. Os agentes físicos têm seus limites de

tolerância estabelecidos pela. Marque a alternativa CORRETA que corresponde a NR que rege o contexto.

- (A) NR9.
- (B) NR11.
- (C) NR5.
- (D) NR4.
- (E) NR15.

Questão 35

(Correta: A)

A CIPA sua composição é baseada no número de funcionários e na classe da empresa e é normatizada pela Norma Regulamentadora. Marque a alternativa CORRETA da NR da CIPA.

- (A) NR5.
- (B) NR3.
- (C) NR4.
- (D) NR6.
- (E) NR7.

Questão 36

(Correta: C)

A composição, as atribuições e o dimensionamento dos profissionais da área de segurança do trabalho das empresas estão estabelecidos. Marque a alternativa CORRETA que corresponde a NR onde se estabelece a a SESMT.

- (A) NR3.
- (B) NR6.
- (C) NR4.
- (D) NR5.
- (E) NR7.

Questão 37

(Correta: A)

Compete ao _____ convocar eleições para escolha dos representantes dos empregados na CIPA, no prazo mínimo de 60 (sessenta) dias antes do término do mandato em curso. Marque a alternativa CORRETA que completa a lacuna.

- (A) empregador
- (B) técnico de segurança do trabalho
- (C) engenheiro de segurança do trabalho
- (D) Ministério do Trabalho
- (E) fiscal do trabalho

Questão 38

(Correta: E)

São micro-organismos presentes no ambiente de trabalho que podem penetrar no organismo humano

pelas vias respiratórias através da pele ou por ingestão. Marque a alternativa CORRETA que corresponde a um agente.

- (A) Agentes Mecânicos.
- (B) Agentes Ergonômicos.
- (C) Agentes Físicos.
- (D) Agentes químicos.
- (E) Agentes biológicos.

Questão 39

(Correta: E)

É uma representação gráfica dos pontos de riscos encontrados nos locais de trabalho, capazes de causar prejuízo à saúde dos trabalhadores. É uma maneira fácil e rápida de representar os riscos de acidentes de trabalho. Marque a alternativa CORRETA que corresponde ao contexto.

- (A) PCMSO.
- (B) Mapa Ambiental.
- (C) PPRA.
- (D) Brainstorming.
- (E) Mapa de riscos.

Questão 40

(Correta: C)

Deverão ser adotadas cores para segurança em estabelecimentos ou locais de trabalho, a fim de indicar e advertir acerca dos riscos existentes. Marque a alternativa CORRETA que corresponde a cor que pode ser adotada, a critério da empresa, para identificar qualquer fluido não identificável pelas demais cores.

- (A) Amarelo.
- (B) Cinza.
- (C) Marrom.
- (D) Lilás.
- (E) Vermelho.

