


EDUCADOR FÍSICO

 **LEIA ATENTAMENTE AS INSTRUÇÕES ABAIXO:**

- É responsabilidade exclusiva do candidato a conferência de seus dados pessoais, impressos no Cartão de Respostas e no caderno de provas, em especial o nome, o número de inscrição, o número de seu documento de identidade, cargo de sua opção, assim como, a marcação e assinatura do seu Cartão de Respostas.
- Verifique se este caderno de prova contém **50** questões. Com quatro alternativas identificadas pelas letras **A, B, C, D e E** das quais apenas uma será a resposta correta.
- Preencha o Cartão de Respostas da prova objetiva utilizando caneta esferográfica azul ou preta, ocupando totalmente o campo de marcação, ao lado dos números, que corresponde à resposta correta. Conforme ilustração:

- **Atenção:** Serão consideradas incorretas questões para as quais o candidato tenha preenchido no cartão resposta mais de uma opção, bem como questões em que o campo de marcação apresente rasuras, emendas ou que não esteja preenchido integralmente. Tenha muito cuidado para não danificar o código de barras utilizado na leitura óptica do Cartão de Respostas, por isso não **DOBRE, AMASSE ou MANCHE** o mesmo. O Cartão de Respostas será o único documento válido para a correção das provas objetivas, salvo à disposição do Instituto Abaré-Été.
- Os fiscais **NÃO** são autorizados a prestar informações de interpretação das questões. Sua função é apenas fiscalizar e orientar quanto ao funcionamento do certame.
- Ao concluir a prova, **entregue ao fiscal de sala o Cartão de Respostas da Prova Objetiva**, a não devolução implicará à eliminação sumária do candidato.
- **Assine a Lista De Presença e Cartão Resposta da prova objetiva, sob pena de eliminação.**

 **NÃO SERÁ PERMITIDO:**

- Folhear o caderno de provas antes da autorização do fiscal. Caso aconteça, implicará na eliminação do candidato.
- Qualquer tipo de comunicação entre os candidatos durante a aplicação da prova.
- O uso de calculadoras, dicionários, telefones celulares, pen drive, fone de ouvido, relógio de qualquer espécie, recursos didáticos, aparelhos eletrônicos e bonés.
- A permanência de candidatos no local de realização das provas após o término e a entrega do Cartão de Respostas, devendo o candidato retirar-se imediatamente do local, não sendo possível nem mesmo a utilização dos banheiros e bebedouros.

 **TEMPO DE PROVA:**

- A prova terá duração máxima de **4 (quatro) horas**, incluído o tempo para preenchimento do Cartão de Respostas.
- O candidato somente poderá retirar-se do local de prova **após 1 (uma) hora de seu início**.
- O candidato poderá **levar o caderno de prova após 1 (uma) hora de seu início**.
- Os 3 (três) últimos candidatos somente poderão retirar-se da sala de prova simultaneamente e devem fazê-lo após a assinatura da ata de sala.

1	6	11	16	21	26	31	36	41	46
2	7	12	17	22	27	32	37	42	47
3	8	13	18	23	28	33	38	43	48
4	9	14	19	24	29	34	39	44	49
5	10	15	20	25	30	35	40	45	50



Instituto de Desenvolvimento Humano Tecnológico
de Economia Sustentável e Preservação Ambiental.
Instituto - Abare-Elé.

PREFEITURA MUNICIPAL DE SÃO GABRIEL DA CACHOEIRA/AM
CONCURSO PÚBLICO Nº 001/2024



PREFEITURA MUNICIPAL
DE SÃO GABRIEL DA
CACHOEIRA/AM

RASCUNHO

Português

O texto seguinte servirá de base para responder à questão 1.

Águas de Março - Tom Jobim

É pau, é pedra, é o fim do caminho
É um resto de toco, é um pouco sozinho
É um caco de vidro, é a vida, é o Sol
É a noite, é a morte, é o laço, é o anzol
É peroba do campo, é o nó da madeira
Caingá, candeia, é o Matita Pereira
É madeira de vento, tombo da ribanceira
É o mistério profundo, é o queira ou não queira
É o vento ventando, é o fim da ladeira
É a viga, é o vão, festa da cumeeira
É a chuva chovendo, é conversa ribeira
Das águas de março, é o fim da canseira
É o pé, é o chão, é a marcha estradeira
Passarinho na mão, pedra de atiradeira
É uma ave no céu, é uma ave no chão
É um regato, é uma fonte, é um pedaço de pão
É o fundo do poço, é o fim do caminho
No rosto, o desgosto, é um pouco sozinho
É um estrepe, é um prego, é uma ponta, é um ponto
É um pingo pingando, é uma conta, é um conto
É um peixe, é um gesto, é uma prata brilhando
É a luz da manhã, é o tijolo chegando
É a lenha, é o dia, é o fim da picada
É a garrafa de cana, o estilhaço na estrada
É o projeto da casa, é o corpo na cama
É o carro enguiçado, é a lama, é a lama
É um passo, é uma ponte, é um sapo, é uma rã
É um resto de mato, na luz da manhã
São as águas de março fechando o verão
É a promessa de vida no teu coração
É uma cobra, é um pau, é João, é José
É um espinho na mão, é um corte no pé
São as águas de março fechando o verão
É a promessa de vida no teu coração
É pau, é pedra, é o fim do caminho
É um resto de toco, é um pouco sozinho
É um passo, é uma ponte, é um sapo, é uma rã
É um belo horizonte, é uma febre terçã

São as águas de março fechando o verão

É a promessa de vida no teu coração

Tom Jobim

Questão 01

(Correta: A)

Leia com atenção o trecho acima da música *Águas de Março*, de Tom Jobim:

A música lida é marcada pelo emprego de uma figura de sintaxe conhecida pela repetição de um vocábulo no início de cada verso. Qual é o nome desta figura?

- (A) Anáfora.
- (B) Zeugma.
- (C) Anacoluto.
- (D) Polissíndeto.
- (E) Assíndeto.

Questão 02

(Correta: C)

Leia com atenção as afirmativas abaixo:

I. Joana fez uma apologia de práticas sustentáveis durante sua apresentação na conferência ambiental.

II. Pedro tem certeza em suas habilidades e está determinado a alcançar seus objetivos profissionais.

III. Estou disposto EM ajudar no que for preciso para que o projeto seja concluído com sucesso.

IV. Após anos de tratamento e apoio, o ex-dependente químico foi reinserido a sua comunidade e agora busca reconstruir sua vida.

V. Laura está adaptada com a nova cidade, fazendo novos amigos e se envolvendo em atividades locais.

VI. Marcos sempre foi desconfiado de estranhos, o que o torna cauteloso em situações desconhecidas.

Em quais das afirmativas lidas há erro de regência nominal?

- (A) I, II e VI.
- (B) I, II e IV.
- (C) III, IV e V.
- (D) I, III e V.
- (E) II, IV e VI.

Questão 03

(Correta: D)

Leia com atenção o texto abaixo:

Os advogados, como profissionais da área jurídica, possuem uma variação linguística peculiar, marcada por uma linguagem técnica e formal, que reflete a complexidade e as especificidades do direito. Essa

variação linguística é essencial para a comunicação precisa entre profissionais do campo jurídico, juízes, clientes e demais envolvidos em processos legais.

A linguagem dos advogados é caracterizada pelo uso de termos jurídicos específicos, latinismos e uma estrutura argumentativa que busca embasar legalmente as teses apresentadas. Essa linguagem técnica, muitas vezes rebuscada, é empregada em petições, pareceres jurídicos, sentenças e demais documentos legais.

Além disso, os advogados adaptam sua linguagem de acordo com o contexto comunicativo. Em audiências, por exemplo, podem utilizar uma linguagem mais acessível para explicar questões legais aos clientes e testemunhas, enquanto mantêm a formalidade ao se dirigirem ao juiz e demais autoridades judiciárias.

É importante ressaltar que essa variação linguística dos advogados não se limita apenas ao uso de termos técnicos, mas também envolve nuances de estilo, argumentação e persuasão, fundamentais para o exercício eficaz da advocacia. Assim, a habilidade de manejar essa linguagem de forma adequada é uma das competências essenciais para o sucesso na profissão jurídica.

Qual é o tipo de variação linguística descrita acima?

- (A) A fala de juristas não é marcada por uma variação linguística.
- (B) Variação diacrônica.
- (C) Variação diatópica.
- (D) Variação diastrática.
- (E) Variação diamésica.

Questão 04

(Correta: E)

Leia com atenção o trecho abaixo:

Tenho enorme admiração pelo povo e pelas tradições baianos.

Assinale a afirmativa correta acerca do trecho lido:

- (A) Há erro de regência verbal.
- (B) Há erro de concordância nominal.
- (C) Há erro de regência nominal.
- (D) Há erro de concordância verbal.
- (E) Não há qualquer inadequação que fuja à norma culta.

Questão 05

(Correta: C)

Leia com atenção as afirmativas abaixo:

- I. Poderá abrir novas vagas dependendo da demanda.
- II. O seu salário estará na conta amanhã a partir das zero horas.
- III. Fazem dez anos que não volto àquela escola.

IV. Envio anexo os relatórios solicitados.

V. Existem menas razões com as quais devemos nos preocupar hoje.

VI. É proibida venda de bebidas alcoólicas para menores.

Em quais das afirmativas lidas há erro de concordância verbal?

- (A) I, II, III, IV, V e VI.
- (B) I, III e IV.
- (C) I e III.
- (D) II e IV.
- (E) V e VI.

Questão 06

(Correta: A)

Assinale a alternativa com erro na regência verbal:

- (A) Posso dizer que namorei com a Maria antes de fazer sucesso.
- (B) Todo estagiário aspira a uma grande carreira.
- (C) Perdoei os erros dele.
- (D) Os enfermeiros souberam assistir o enfermo.
- (E) Os esforços implicarão sucesso.

Questão 07

(Correta: C)

Assinale a alternativa com a concordância verbal adequada:

- (A) Minas Gerais são o berço da democracia brasileira.
- (B) Ouvi dizer que os filhos de Francisco que estragou a descarga.
- (C) Foram os alemães quem propôs o acordo comercial.
- (D) Precisam-se de professores dedicados.
- (E) "Os Miseráveis" representa o ápice da literatura francesa no século XIX.

Questão 08

(Correta: D)

Leia com atenção as afirmativas abaixo:

I. Sotaques, vocabulário e estruturas gramaticais próprias são exemplos de variações linguísticas regionais.

II. Todas as pessoas pertencentes a um mesmo grupo social falam de maneira uniforme, sem apresentar variação linguística interna.

III. Uma língua permanece estática ao longo do tempo, sem sofrer alterações ou variações linguísticas.

IV. A variação linguística histórica refere-se às mudanças que ocorrem na língua ao longo do tempo, como alterações na gramática e na fonética.

V. Diferentes fatores sociais influenciam na fala das pessoas, como classe econômica, nível educacional e

ocupação, influenciando o vocabulário, o estilo e até mesmo a pronúncia das pessoas.

Quais das afirmativas são verdadeiras?

- (A) II e III.
- (B) I, II e IV.
- (C) I, III e V.
- (D) I, IV e V.
- (E) II, III e V.

Questão 09

(Correta: D)

Leia com atenção as colunas abaixo:

Coluna 01:

(_)O vestido da noiva tinha um tom delicado de **azul-celeste**, destacando sua pureza e serenidade.

(_)As folhas **verde-bandeira** das árvores balançavam suavemente ao vento da primavera.

(_)O pôr do sol tingiu o céu de um **amarelo-ouro** deslumbrante, iluminando a paisagem ao entardecer.

(_)O mar refletia o céu **azul-claro** em um horizonte infinito, criando uma cena de paz e tranquilidade.

(_)Os olhos da menina brilhavam com um **azul-marinho** profundo, como se refletissem o oceano em sua alma.

(_)A floresta ficava ainda mais misteriosa à medida que o sol se punha, envolta em tons de **verde-escuro** que se confundiam com a noite que se aproximava.

Coluna 02:

I. Devem sofrer flexão de número e/ou gênero dependendo do substantivo a que se referem.

II. Não devem sofrer qualquer flexão independentemente do substantivo a que se referem.

Correlacione ambas as colunas de acordo com a possibilidade de flexão dos termos destacados. Em seguida, assinale a alternativa que indica a sequência correta:

- (A) II > II > II > I > I > I.
- (B) II > I > II > II > II > I.
- (C) I > I > I > II > I > II.
- (D) II > II > II > I > II > I.
- (E) I > II > I > II > I > II.

Questão 10

(Correta: A)

Assinale a alternativa com o emprego da figura de sintaxe chamada Anacoluto:

- (A) A criança de hoje em dia, não se pode deixar sozinha.

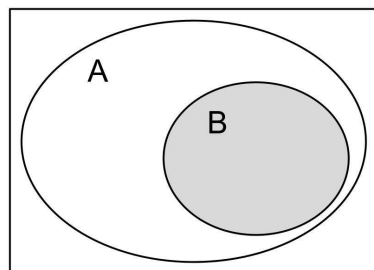
- (B) Cristiano comprou bermudas para o verão, calças para o inverno.
- (C) Como as luzes luminosas de Paris são belas.
- (D) Mariana corria, e nadava, e pedalava.
- (E) Fomos cedo ao teatro.

Raciocínio lógico/Matemática

Questão 11

(Correta: A)

Observe o diagrama lógico dado na imagem abaixo:



Analisando o conjunto em destaque é correto afirmar que:

- (A) Todo B é A.
- (B) Todo A é B.
- (C) Existe algum B que não é A.
- (D) Todo B não é A.
- (E) Nenhum A é B.

Questão 12

(Correta: D)

Adalto escolheu 10 de seus funcionários para participarem de uma especialização, mas eles precisam formar duplas, pois o curso abrange 5 áreas diferentes e cada dupla deve escolher uma das áreas. De quantas maneiras diferentes essas duplas podem ser formadas?

- (A) De 38 maneiras diferentes.
- (B) De 60 maneiras diferentes.
- (C) De 50 maneiras diferentes.
- (D) De 45 maneiras diferentes.
- (E) De 92 maneiras diferentes.

Questão 13

(Correta: D)

Um abrigo de animais gastou 61,2 kg de ração em 30 dias, para alimentar 17 cães. Se no 31º dia chegaram mais 8 cães, que permaneceram ali por 10 dias, quantos quilos de ração foram gastos nesse último período?

- (A) Foram gastos 42 kg de ração.
- (B) Foram gastos 33,1 kg de ração.
- (C) Foram gastos 25 kg de ração.

- (D) Foram gastos 30 kg de ração.
- (E) Foram gastos 29,4 kg de ração.

Questão 14

(Correta: B)

Qual das operações lógicas dadas abaixo é uma contradição?

- (A) $P \vee \sim P$
- (B) $P \wedge \sim P$
- (C) $P \rightarrow Q$
- (D) $P \rightarrow P$
- (E) $P \wedge Q$

Questão 15

(Correta: C)

Qual das alternativas abaixo traz a negação da proposição "João é escritor e Letícia é atriz"?

- (A) João não é escritor e Letícia não é atriz.
- (B) João é escritor e Letícia não é atriz.
- (C) João não é escritor ou Letícia não é atriz.
- (D) João é escritor ou Letícia não é atriz.
- (E) João não é escritor ou Letícia é atriz.

Questão 16

(Correta: B)

Um rapaz chamado Henri quer usar as letras do seu nome para fazer a senha do email. Considerando que não haverá repetição, quantas senhas diferentes ele consegue fazer?

- (A) 155 senhas diferentes.
- (B) 120 senhas diferentes.
- (C) 75 senhas diferentes.
- (D) 98 senhas diferentes.
- (E) 130 senhas diferentes.

Questão 17

(Correta: B)

Uma corretora oferece 5 tipos de plano de saúde, 8 tipos de planos odontológicos e 12 tipos de seguro de vida. De quantas maneiras diferentes um cliente pode montar um pacote com um plano de saúde, um odontológico e um seguro de vida?

- (A) De 520 maneiras diferentes.
- (B) De 480 maneiras diferentes.
- (C) De 350 maneiras diferentes.
- (D) De 180 maneiras diferentes.
- (E) De 690 maneiras diferentes.

Questão 18

(Correta: B)

Luan, Carlos e José montaram uma empresa e o valor investido por Luan foi de apenas 60% do que Carlos investiu, que foi exatamente 80% do que José investiu. Se o capital inicial da empresa foi de R\$ 114.000,00, quanto Luan investiu?

- (A) Luan investiu R\$ 28.600,00.
- (B) Luan investiu R\$ 24.000,00.
- (C) Luan investiu R\$ 32.000,00.
- (D) Luan investiu R\$ 33.500,00.
- (E) Luan investiu R\$ 19.300,00.

Questão 19

(Correta: A)

Fernando fez uma aplicação a juros simples por 50 meses e conseguiu o dobro do que aplicou de rendimento. Qual foi a taxa de juros mensal dessa operação?

- (A) A taxa de juros foi de 4% ao mês.
- (B) A taxa de juros foi de 3,5% ao mês.
- (C) A taxa de juros foi de 1,2% ao mês.
- (D) A taxa de juros foi de 2% ao mês.
- (E) A taxa de juros foi de 5% ao mês.

Questão 20

(Correta: A)

Considerando as proposições P e Q, a operação lógica $(P \wedge Q) \rightarrow (P \vee Q)$ é uma:

- (A) Tautologia.
- (B) Verificação.
- (C) Contradição.
- (D) Anulação.
- (E) Oposição.

Conhecimentos Gerais

Questão 21

(Correta: A)

A responsabilidade social é um dos fatores que ligam a ética e a cidadania, seja na garantia dos direitos individuais ou coletivos. Assim, qual dos seguintes princípios é fundamental na promoção dessa responsabilidade nos diversos setores da sociedade?

- (A) Respeito à diversidade.
- (B) Isolamento das minorias e grupos marginalizados.
- (C) Divergência infundada.
- (D) Individualismo.
- (E) Alienação político-partidária.

Questão 22

(Correta: E)

Os rumores da possibilidade de um conflito armado se estabelecer entre a Venezuela e a Guiana trouxe mais apreensão para um mundo que já convive com duas guerras, principalmente para o Brasil que faz divisa com os dois países. Qual é a motivação deste conflito?

- (A) A reclamação da Guiana sobre o território do Essequibo, que hoje pertence à Venezuela.
- (B) A proclamação da independência da Venezuela, até então colônia da Guiana.
- (C) A proclamação da independência da Guiana, até então colônia da Venezuela.
- (D) O fim do acordo que dava aos dois países o direito de explorar comercialmente as inúmeras riquezas naturais da região.
- (E) A reclamação da Venezuela sobre o território do Essequibo, que hoje pertence à Guiana.

Questão 23

(Correta: C)

A nova era da exploração espacial chega com objetivos muito mais ousados dos que se entendia ser prioridade na indústria espacial até então, principalmente pela entrada de outros países e até mesmo pessoas, como o multimilionário Elon Musk, na chamada "corrida espacial". Entre esses novos objetivos podemos citar:

- (A) A reconstrução da camada de ozônio.
- (B) A busca por metais preciosos em outros planetas.
- (C) A realização de voos comerciais para a Lua.
- (D) A construção de uma base de lançamentos espaciais na lua.
- (E) A criação de novas galáxias.

Questão 24

(Correta: A)

"Estão sendo apresentadas no Legislativo federal propostas para uma "megarreforma" no Código Eleitoral e o presidente do Senado diz que a reformulação no sistema eleitoral é uma prioridade ainda para o primeiro semestre de 2024."

Disponível em <https://jornal.usp.br/radio-usp/proposta>

-de-reforma-eleitoral

A reforma citada no trecho acima tem como uma de suas principais propostas:

- (A) O fim da reeleição.
- (B) A instituição do mandato de oito anos.
- (C) A instituição da eleição para ministro do Supremo Tribunal Federal.
- (D) A volta da urna com cédula de papel.

- (E) A redução do mandato de deputado federal de oito para quatro anos.

Questão 25

(Correta: E)

O uso da Inteligência Artificial trouxe inúmeros benefícios para os mais diversos setores da sociedade, mas também vem sendo motivo de preocupação, pela possibilidade de suas ferramentas serem utilizadas em diversas práticas criminosas. Recentemente o Tribunal Superior Eleitoral proibiu que seja usado no processo eleitoral, um recurso que cria vídeos falsos combinando ou substituindo imagem e voz de determinada pessoa, sincronizando movimentos labiais, expressões e demais detalhes, para fingir que está fazendo ou dizendo algo sem tê-lo feito. Como se chama esse recurso?

- (A) Fake face.
- (B) Moviefake.
- (C) Fakeperson.
- (D) Little lie.
- (E) Deepfake.

Questão 26

(Correta: B)

"Os gastos militares somados de todos os países atingiram no ano de 2023 um valor recorde, chegando a 2,2 trilhões de dólares (10,9 trilhões de reais), considerando os últimos 78 anos, desde o final da Segunda Guerra Mundial (1945). O dado foi divulgado no relatório Balanço Militar 2024 (Military Balance), o principal levantamento internacional sobre o assunto, publicado anualmente pelo Instituto Internacional de Estudos Estratégicos (IISS), de Londres (Reino Unido). O gasto com armamentos em 2023 cresceu 9% em relação ao ano anterior. A alta das despesas militares no mundo é impulsionada pela multiplicação de guerras, com destaque para (...)"

Disponível em: <https://guiadoestudante.abril.com.br/atualidades>

Qual das alternativas abaixo cita os envolvidos diretos nos conflitos que são destaque nos últimos dois anos?

- (A) Ucrânia e China - Iraque e Hamas.
- (B) Rússia e Ucrânia - Israel e Hamas.
- (C) Israel e Hamas - Estados Unidos e China.
- (D) Estados Unidos e Rússia - China e Israel.
- (E) Irã e Iraque - Israel e Ucrânia.

Questão 27

(Correta: A)

A construção de um ambiente justo e igualitário em uma democracia, tem como grandes aliados a ética e a cidadania, presentes em ações que fomentam a participação ativa dos cidadãos e promovem o bem comum e a igualdade social. Qual das ações descritas abaixo corresponde a uma dessas práticas?

- (A) Participar de debates que lutam por políticas públicas de inclusão social.
- (B) Lutar, acima de tudo, por seus interesses, mesmo que em detrimento do coletivo.
- (C) Usar informações falsas para prejudicar adversários políticos e garantir a eleição dos candidatos certos.
- (D) Promover ações contra políticas assistencialistas.
- (E) Atuar em manifestações, ainda que violentas, para garantir os direitos do povo.

Questão 28

(Correta: D)

Segundo o Ministério da Justiça e Segurança Pública, o assassinato motivado por violência doméstica, ou por menosprezo ou discriminação à condição de mulher, caiu 2,5% de janeiro a outubro de 2023 na comparação com o mesmo período de 2022, mas isso ainda significa que, em média, quatro mulheres morrem diariamente no país por tais motivos. Como é chamado esse crime?

- (A) Fratricídio.
- (B) Infanticídio.
- (C) Homofobia.
- (D) Femicídio.
- (E) Latrocínio.

Questão 29

(Correta: A)

O Brasil passa por um novo drama na esfera da saúde, com uma epidemia que já se manifesta em quase todos os estados e mais uma vez depende da conscientização da população e dos cuidados individuais, principal forma de combatê-la, para eliminar o seu vetor. Qual é esta doença?

- (A) A dengue.
- (B) A chikungunya.
- (C) A varíola dos macacos.
- (D) A febre amarela.
- (E) A meningite.

Questão 30

(Correta: A)

Um livro escrito por Jeferson Tenório, vencedor do prêmio Jabuti em 2021 na categoria "Romance Literário", foi selecionado para distribuição nas escolas pelo Programa Nacional do Livro e do Material Didático (PNLD), do Ministério da Educação (MEC) e está sendo censurado em unidades educacionais de alguns estados brasileiros, sob a justificativa de que traz "conteúdo impróprio", no entanto, especialistas dizem haver "reação equivocada ao conteúdo". Qual é o título e a temática deste livro?

- (A) O avesso da pele - Racismo.
- (B) O poder do hábito - Autoconhecimento.

- (C) Cem anos de solidão - Realidade.
- (D) Sonho Grande - Empreendedorismo.
- (E) A voz na sua cabeça - Depressão.

Conhecimentos Específicos

Questão 31

(Correta: C)

Esqueleto ou sistema esquelético é o nome dado em anatomia para o conjunto de ossos que formam o corpo humano. Importante na manutenção da postura, desempenha outras funções como movimentação do corpo, proteção de órgãos internos, armazenamento de minerais e produção de células sanguíneas. Esse órgão é formado por tecido ósseo, que é um tipo de tecido:

- (A) Adiposo.
- (B) Nervoso.
- (C) Conjuntivo.
- (D) Cálcio.
- (E) Muscular.

Questão 32

(Correta: E)

"O handebol é um esporte coletivo jogado com as mãos, tendo surgido daí o seu nome, hand (mão) e ball (bola). Ele foi criado na Alemanha, no início do século XX. No Brasil, o esporte chegou nos anos 30 e a Confederação Brasileira de Handebol (CBHb) foi fundada em 1979."

[Disponível em: [https://www.todamateria.com.br/regras-do-handebol/#:~:text=O%20handebol%20%C3%A9%20um%20esporte,CBHb\)%20foi%20fundada%20em%201979.](https://www.todamateria.com.br/regras-do-handebol/#:~:text=O%20handebol%20%C3%A9%20um%20esporte,CBHb)%20foi%20fundada%20em%201979.)

Acesso: 13/03/2024].

Segundo o regramento oficial da Confederação Brasileira de Handebol, um time - out é obrigatório quando:

I. Uma exclusão de 2-minutos, desqualificação ou expulsão é dada.

II. Um tempo técnico é requerido.

III. Houver um apito vindo do cronometrista ou Delegado técnico.

É CORRETO o que se afirma em:

(A) III, apenas.

(B) I, apenas.

(C) II, apenas.

(D) I e II, apenas.

(E) I, II e III.

Questão 33

(Correta: C)

Os Parâmetros Curriculares Nacionais (PCNS, 1997), para a área de Educação Física escolar, trazem como

contribuição para a reflexão e discussão da prática pedagógica, três aspectos fundamentais: princípios da inclusão, princípio da diversidade e categoria de conteúdo. Associe a segunda coluna de acordo com a primeira, que relaciona os conteúdos e sua categoria.

Primeira coluna.

1. Categoria conceitual
2. Categoria procedimental.
3. Categoria atitudinal.

Segunda coluna

- () Ligados ao fazer.
- () Fatos, conceitos e princípios.
- () Normas, valores e atitudes.

Assinale a alternativa apresenta a CORRETA associação entre as colunas:

- (A) 1, 2, 3.
- (B) 3, 1, 2.
- (C) 2, 1, 3.
- (D) 2, 3, 1.
- (E) 3, 2, 1.

Questão 34

(Correta: C)

"Coordenação motora é a capacidade que uma pessoa tem de realizar movimentos articulados com os músculos esqueléticos, permitindo que a mesma domine seu corpo no espaço e controle seus movimentos. Ou seja, a coordenação é a capacidade de sincronizar vários movimentos por meio do cérebro, músculos e articulações."

[Disponível em: <https://drapaulagiroto.com.br/>. Acesso: 12/03/2024].

Assinale a alternativa que contém somente exemplos de coordenação motora fina:

- (A) Pegar e segurar objetos com as mãos, subir escadas, surfar e nadar.
- (B) Fazer uma escultura, fechar o botão da camisa e correr.
- (C) Cortar papel com tesoura, empilhar blocos de montar e colorir com giz.
- (D) Montar quebra cabeça, erguer objetos, caminhar, e dançar.
- (E) Comer com garfo, correr, colorir com lápis e pular.

Questão 35

(Correta: A)

O professor de Educação Física Darlan Souza, trabalhou o Voleibol com seus alunos, utilizando o seguinte educativo: sempre que apitasse, iria dar um comando ao aluno que estivesse ocupando determinada posição e

esse faria o rodízio de acordo com as Regras Oficiais do Voleibol 2021-2024, aprovado pelo 37º Congresso Mundial da Federação Internacional de Voleibol (FIVB) de 2021. O professor deu os seguintes comandos:

Aluno que ocupa a posição frente meio próximo rede, executa o rodízio e passa a ocupar a posição de número ().

Aluno que ocupa a posição traseira central, executa o rodízio e passa a ocupar a posição de número ().

Aluno que ocupa a posição traseira a direita, executa o rodízio e passa a ocupar a posição de número ().

Assinale a alternativa apresenta a sequência correta de preenchimento dos parênteses:

- (A) 2 – 5 – 6.
- (B) 6 – 3 – 2.
- (C) 5 – 5 – 3.
- (D) 2 – 5 – 4.
- (E) 5 – 4 - 3

Questão 36

(Correta: C)

Observe as figuras a seguir e assinale a alternativa INCORRETA:



- (A) Do lado direito da imagem, número 2, está representado o lançamento de martelo.
- (B) O esporte representado no número 1 é disputado por homens e mulheres.
- (C) O esporte representado no número 1 é o lançamento de dardo.
- (D) Do lado esquerdo da imagem, número 1, está representado o arremesso de peso.
- (E) Ambas representações, 1 e 2, são modalidades do atletismo.

Questão 37

(Correta: E)

Associe a segunda coluna de acordo com a primeira, que relaciona alguns Fundamentos da Educação Física.

[Disponível em: https://www.institutoine.com.br/imagessistema/_5fb2b875233a1.pdf. Acesso: 09/03/2024.]

Primeira coluna

1. Fase Higienista.
2. Fase da Militarização.
3. Fase da Pedagogização.
4. Fase Competitivista.

Segunda coluna

(__)Nessa fase (1945 - 1964), ocorreu o fim do Estado Novo, pré-elaboração de uma carta magna, que gerou um debate por parte de diversos educadores sobre os rumos da educação. Na prática houve apenas uma regulamentação do funcionamento e controle do que já estava estabelecido. A Educação Física passou a ser vista como uma prática meramente educativa.

(__)Nessa fase (1930 - 1945), a Educação Física era vista como poderoso auxiliar no fortalecimento do Estado e possante meio para o aprimoramento da raça.

(__)Eugenia (até 1930), estudo de medidas sócio sanitárias, sociais e educacionais que influenciam física e mentalmente, o desenvolvimento das qualidades hereditárias dos indivíduos e, portanto, das gerações.

(__)Fase (1964) em que teve início com a revolução. Existia uma censura à imprensa e as artes que contradiziam os interesses militares. Expoentes da política, literatura, artes, música e intelectuais das mais diversas áreas eram vigiados e perseguidos, sendo muitos deles obrigados a se exilarem.

Após análise, assinala a alternativa CORRETA:

- (A) 1, 2, 4, 3.
- (B) 3, 2, 4, 1.
- (C) 3, 1, 2, 4.
- (D) 3, 4, 2, 1.
- (E) 3, 2, 1, 4.

Questão 38

(Correta: D)

A avaliação física em um indivíduo pressupõe a compreensão da individualidade, bem como a variação que ocorre em função de diversas características, entre elas a idade. Na frequência cardíaca por exemplo, com o passar do tempo, a tendência é que a frequência cardíaca diminua. Em oposição, nos recém-nascidos o índice é mais alto. Para determinar a frequência cardíaca máxima, embora não seja um parâmetro preciso, é possível utilizar a chamada fórmula de:

- (A) Harris-Benedict.
- (B) Bhaskara.
- (C) Karnenovo.
- (D) Tanaka.
- (E) Mifflin-St Jeor.

Questão 39

(Correta: D)

A professora de Educação Física Ádria Santos sempre enfatiza a importância do jogo limpo e o respeito pelos colegas como valores essenciais não só para o esporte, mas para a vida em sociedade. Em uma situação de aula, numa partida de futebol, o aluno Richarlison estava em uma clara chance de gol, quando um colega do time adversário se desequilibrou e caiu resultando em uma pequena lesão. Imediatamente Richarlison chutou a bola para fora do campo e correu em direção ao colega lesionado para auxiliá-lo. Considerando a interação social através das práticas esportivas, o ato de Richarlison, que foi bastante difundido pelo Barão Pierre de Coubertin, é conhecido no esporte como:

- (A) Pênalti.
- (B) *Fair out*.
- (C) Pausa.
- (D) *Fair play*.
- (E) Jogo sujo.

Questão 40

(Correta: D)

Observe a charge a seguir:



A charge faz uma crítica ao uso excessivo do aparelho celular e a preferência das crianças por este em detrimento das brincadeiras tradicionais. A elevação do chamado tempo de tela prejudica o desenvolvimento de outras habilidades nas crianças, nesse sentido a utilização da recreação na escola constitui um valioso instrumento que deve, EXCETO:

- (A) Ter um caráter lúdico e descontraído, porém, com objetivos bem definidos.
- (B) Estimular o desenvolvimento afetivo, cognitivo e social, contribuindo para uma convivência saudável.
- (C) Proporcionar um ambiente agradável e motivador que auxiliará no desenvolvimento da criatividade, da inteligência verbal e linguística.
- (D) Ser usado como um momento de descontração, sem necessidade de objetivos específicos.
- (E) Colaborar com a construção da identidade da criança, através de situações imaginárias que estão presentes na realidade cotidiana.

Questão 41

(Correta: C)

Analise as assertivas acerca da interação social através das práticas esportivas:

I.A interação social através das práticas esportivas, promove, além dos benefícios físicos, a melhoria das relações sociais, aproximando as pessoas. Essa aproximação auxilia no desenvolvimento global do indivíduo, encoraja o protagonismo de ser responsável, além de desenvolver o senso de justiça e dedicação.

II.O trabalho em equipe, a cooperação, e o cuidado com o outro são qualidades que devem ser incentivadas nas relações sociais ocorridas através das práticas esportivas, pois a ênfase no aprendizado de valores, liderança e boa convivência são dispensáveis nas interações sociais através do esporte.

III.Através da interação social advinda do esporte é possível aprimorar não apenas as habilidades motoras, técnicas e fundamentos específicos inerentes a cada modalidade esportiva, a socialização, disciplina e respeito as regras são qualidades necessárias aqueles que praticam esportes.


É CORRETO o que se afirma em:

- (A) II e III, apenas.
- (B) I e II, apenas.
- (C) I e III, apenas.
- (D) III, apenas.
- (E) II, apenas.

Questão 42

(Correta: B)

No Basquetebol, o fundamento passe tem como objetivo enviar a bola para um companheiro de equipe que, via de regra, se encontra numa posição com melhores condições de fazer um ponto ou conduzir a uma situação para finalização ou avanço para quadra adversária. Analise a figura a seguir:



Na imagem está representado o passe:

- (A) Ombro.
- (B) Peito.
- (C) Picado.
- (D) Braços estendidos.
- (E) Ombros estendidos.

Questão 43

(Correta: C)

"Os Parâmetros Curriculares Nacionais (PCNS) constituem um referencial de qualidade para a educação no Ensino Fundamental em todo o País. Sua função é orientar e garantir a coerência dos investimentos no sistema educacional, socializando discussões, pesquisas e recomendações, subsidiando a participação de técnicos e professores brasileiros, principalmente daqueles que se encontram mais isolados, com menor contato com a produção pedagógica atual." Os PCNS (1997) indicam como objetivos do ensino fundamental que os alunos sejam capazes de, **EXCETO**:

[Disponível em: <http://portal.mec.gov.br/seb/arquivos/pdf/livro01.pdf>. Acesso: 19/03/2024].

- (A) Saber utilizar diferentes fontes de informação e recursos tecnológicos para adquirir e construir conhecimentos.
- (B) Posicionar-se de maneira crítica, responsável e construtiva nas diferentes situações sociais.
- (C) Conhecer características fundamentais do Brasil, como meio para construir regressivamente a noção de identidade nacional e pessoal e o sentimento de pertinência ao país.
- (D) Compreender a cidadania como participação social e política.
- (E) Conhecer o próprio corpo e dele cuidar, valorizando e adotando hábitos saudáveis como um dos aspectos básicos da qualidade de vida.

Questão 44

(Correta: A)

"A avaliação física é o procedimento primordial para que o profissional de Educação Física conheça detalhadamente o estado de saúde, nível de risco ou doença, capacidade física, limitações, além de seus objetivos pessoais".

[Disponível em: https://crefrs.org.br/comunicacao/publicacoes/pdf/Folder_Avaliacao_web.pdf. Acesso: 09/03/2024].

Uma das formas de iniciar a avaliação física é aplicar um questionário detalhado que visa apurar importantes informações sobre o aluno, como hábitos diários da pessoa, alimentação, horas de sono, rotina de trabalho, objetivos, histórico de doenças e tempo disponível para se exercitar, entre outras. Esse tipo de avaliação é chamada de:

- (A) Anamnese.
- (B) Avaliação cardiorrespiratória.
- (C) Avaliação psicológica.
- (D) Antropometria.
- (E) Velocidade de escrita.

Questão 45

(Correta: B)

"A seleção brasileira masculina de handebol terá pela frente sua semana mais importante do ano, em que disputará um dos três Pré-Olímpicos mundiais entre os dias 14 e 17 de março em Granollers, na Espanha, diante dos donos da casa, da Eslovênia e do Bahrein, de olho em uma vaga em Paris 2024."

[Disponível em: <https://olympics.com/pt/noticias/pre>

-olimpico-handebol-masculino-veja-jogos-brasil.

Acesso: 13/03/2024.].

De acordo com o regramento oficial da Confederação Brasileira de Handebol, a duração normal da partida para todas as equipes com jogadores de idade igual ou acima de 16 anos, é de 2 tempos de:

- (A) 20 minutos cada.
- (B) 30 minutos cada.
- (C) 40 minutos cada.
- (D) 25 minutos cada.
- (E) 35 minutos cada.

Questão 46

(Correta: B)

De acordo informação do Departamento de Ciências Básicas da UNESP, a musculatura esquelética esta organizada da seguinte maneira: O conjunto de feixes de fibras musculares que compõem um músculo está envolto por uma cápsula fibrosa de tecido conjuntivo denominada epimísio da qual são transmitidos septos que penetram na massa muscular envolvendo cada feixes de fibras musculares. Por último, cada fibra muscular está envolta pelo endomísio, constituído pela lâmina basal associado a fibras reticulares. Sobre os tipos de contração muscular, aquela que atua estabilizando uma articulação, gerando tensão muscular sem realizar movimento perceptível esta produzindo a chamada contração:

- (A) Excêntrica.
- (B) Isométrica.
- (C) Efetiva.
- (D) Isocinética.
- (E) Concêntrica.

Questão 47

(Correta: A)

O professor de Educação Física Cristiano Ronaldo, explicando aos seus aluno as as Regras Oficiais do Futebol de Campo 2023/2024 em consonância com a *International Football Association Board (IFAB)*, órgão que regulamenta as regras do Futebol, afirmou que na execução do tiro penal, a bola deve estar imóvel sobre a marca penal e nem as traves, nem o travessão nem a meta devem estar em movimento. O jogador que

executará o tiro penal deve ser claramente identificado. O goleiro defensor deve permanecer sobre a linha de fundo, de frente para o batedor, entre as traves, até que a bola seja chutada. Todos os jogadores, exceto o batedor e o goleiro, devem estar:

- I.Dentro da área penal.
- II.A pelo menos, 9,15 metros de distância da marca penal.
- III.Atrás da marca penal.
- IV.Dentro do campo de jogo.
- V.Fora da área penal.

É correto o que se afirma em:

- (A) II, III, IV e V, apenas.
- (B) I, II, III, IV e V.
- (C) I, IV e V, apenas.
- (D) I, II e III, apenas.
- (E) III, IV e V, apenas.

Questão 48

(Correta: B)

Os objetivos a serem alcançados na Educação Física, guardam relação com o desenvolvimento global e amplo das crianças e não estão atrelados apenas a atividade física, embora essa seja altamente relevante. São objetivos da Educação Física, EXCETO:

- (A) Desenvolver as habilidades motoras e fomentar atitudes desfavoráveis à atividade física.
- (B) Desenvolver a habilidade de utilização do movimento como instrumento de comunicação e expressão.
- (C) Estimular aspectos referentes a ao convívio social e socialização.
- (D) Promover um desenvolvimento corporal harmônico e saudável.
- (E) Incentivar a autonomia e a responsabilidade do seu próprio bem-estar.

Questão 49

(Correta: E)

"Com apoio nas discussões que vinham ocorrendo nas áreas educacionais e na tentativa de romper com o modelo hegemônico do esporte praticado nas aulas de Educação Física, a partir da década de 80 são elaborados os primeiros pressupostos teóricos num referencial [...] com fundamento no materialismo histórico e dialético. As abordagens passaram a questionar o caráter alienante da Educação Física na escola, propondo um modelo de superação das contradições e injustiças sociais. Assim, a Educação Física [...] estaria atrelada às transformações sociais, econômicas e políticas, tendo em vista a superação das desigualdades sociais." O fragmento de texto acima extraído dos Parâmetros Curriculares Nacionais (PCNS, 1997) se refere a(s) abordagem(s):

- (A) Desenvolvimentista.
- (B) Psicomotora.
- (C) Esportivistas.
- (D) Construtivistas.
- (E) Críticas.

Questão 50

(Correta: A)

Com base no tema aspectos técnicos, políticos e pedagógicos da Educação Física Escolar, o Projeto Político Pedagógico (PPP) é defendido pelos educadores críticos, como sendo um documento de construção coletiva da identidade da escola pública.

[Disponível em: <http://www.gestaoescolar.diaadia.pr.gov.br>

/arquivos/File/otp/docs_pdf/proj_polit_pedag.pdf. Acesso:

09/03/2024].

O Projeto Político Pedagógico pressupõe, EXCETO:

- (A) Compreensão acrítica da realidade histórico-social.
- (B) Autonomia na escola enquanto exercício de democratização.
- (C) Participação efetiva de todos os sujeitos da prática educativa.
- (D) Valorização dos profissionais da educação em termos de formação continuada.
- (E) Compromisso ético-político com a transformação da realidade social.

