

MUNICÍPIO DE JOINVILLE - SC

0112 - MÉDICO PATOLOGISTA

Turno: TARDE

Tipo de Prova
1

Sr. Candidato, para ter a sua prova corrigida é obrigatório a marcação do tipo de prova no cartão de respostas. Caso não marque o tipo de prova, o cartão de respostas não será lido, e estará automaticamente eliminado do Concurso Público.

TRANSCREVA, NO SEU CARTÃO DE RESPOSTAS, A FRASE ABAIXO PARA O EXAME GRAFOTÉCNICO:

“Tudo é considerado impossível, até acontecer.” Nelson Mandela

ATENÇÃO

Este caderno contém cinquenta questões de múltipla escolha, cada uma com cinco alternativas de resposta (A, B, C, D, E).

Verifique se este material está em ordem, caso contrário, notifique imediatamente o fiscal.

O tempo de duração da prova inclui o preenchimento do Cartão de Respostas e da Folha de Respostas.

Duração da prova: 4h

LEIA AS INSTRUÇÕES ABAIXO

Por motivo de segurança:

- O candidato só poderá retirar-se definitivamente da sala após 1 (uma) hora do início efetivo da prova.
- O candidato poderá retirar-se levando o seu caderno de questões, somente faltando 1 (uma) hora para o término da prova.
- O candidato que optar por se retirar sem levar o seu caderno de questões não poderá copiar suas respostas por qualquer meio.
- Ao terminar a prova, o candidato deverá se retirar imediatamente do local, não sendo possível nem mesmo a utilização dos banheiros e/ou bebedouros.
- Ao terminar a prova é de sua responsabilidade entregar ao fiscal o cartão de respostas assinado. Não se esqueça dos seus pertences.
- Os três últimos candidatos deverão permanecer na sala até que o último candidato entregue o cartão de respostas, devendo assinar o Termo de Sala.
- O fiscal de sala não está autorizado a alterar quaisquer dessas instruções. Em caso de dúvida, solicite a presença do coordenador local.

BOA PROVA!

LÍNGUA PORTUGUESA

TEXTO PARA AS QUESTÕES DE 01 A 05.

A era do Homo Trecos

A Revolução Treconológica nos encheu de coisas, sem antes nos perguntar se seriam úteis

Renato de Faria | 10/03/2024

Um cérebro bem desenvolvido, capacidade de falar e produzir cultura, esses são os traços mais marcantes do *Homo sapiens*. Vencemos uma batalha natural e aqui estamos, com pensamento e reflexão. Para alguns, a libertação de um estado de natureza, no qual somos frágeis, presas fáceis. Para outros, um castigo divino, uma falha natural, pois bom mesmo seria viver por aí, pescando e caçando, sem eira nem beira, tal qual os animais.

Toda cultura se acha, invariavelmente, mais capacitada e evoluída do que a anterior. Isso é normal, faz parte da arrogância de viver o presente. Porém, toda comunidade histórica, por mais adaptada e avançada que pareça ser, terá sempre seu ponto cego, aquela característica marcante e ignorante, bem debaixo do nariz, que a envergonhará diante das demais.

Por mais que os gregos sejam fascinantes, pois nos deram a filosofia, a música, a matemática, a democracia e tantas outras coisas, eles eram escravocratas. Não percebiam, a tempo, que a escravidão é um mal ético e objetivo. Eles não enxergavam. Afinal, se é ponto cego, de fato, não era para ser visto mesmo. E aqueles que se levantaram em contrariedade, foram vistos como loucos, pessimistas, que intencionavam arruinar a ordem social. Depois, foram chamados de gênios.

Daqui a quatrocentos, quinhentos anos, encontrarão nossa fragilidade, nosso ponto cego, nossa poeira jogada para debaixo do tapete. Imagino um congresso de antropólogos, filósofos e cientistas discutindo nossa civilização, com seus avanços e retrocessos, descobertas e encobertas, luzes e sombras. Encontrarão nosso calcanhar de Aquiles, pois entraremos para a história como a era dos Homo Trecos.

A Revolução Treconológica nos encheu de coisas, sem antes nos perguntar se seriam úteis. É treco no braço, na cintura, no bolso, na orelha, na maleta e em qualquer lugar que dê para pendurar alguma coisa. Diferentemente daqueles que vieram antes de nós, nossas invenções não foram criadas por uma necessidade social. Pelo contrário, a demanda é, unicamente, pela ansiedade em produzir mais coisas, mais trecos.

Depois, começamos a nos perguntar para que eles servem. Quando descobrimos que nos fazem mal, causando dependências diversas, devido ao seu uso recreativo e excessivo, a própria indústria irá oferecer outros trecos farmacológicos para baixar a ansiedade, curar a tristeza e afastar a depressão. Calma, eles dão jeito para tudo. É treco que não acaba mais.

Nós, os Homo Trecos, não gostamos muito de pensar, essa coisa antiquada, analógica e sofrida. Basta inventar uns quatro ou cinco termos em língua inglesa (a língua oficial dos criados treconológicos) para suprir a falta de vocabulário que seus representantes desenvolveram. Por uma saudade do cordão umbilical, também criaram carregadores, bluetooth, cabos e redes, para estarmos sempre conectados ao Treco-Mãe.

Ótimo! Seremos a nova espécie! Trecos humanos que irão vagar por aí, correndo de um lugar a outro, fazendo quatro reuniões na mesma hora, com um tempo presente carente de sentido, em namoro eterno com a morte. Vivemos na monotonia daqueles que não sabem o que fazer com a vida, reduzida à obsolescência daqueles que só sabem se relacionar com o fetiche em consumir mais trecos.

FARIA, Renato de. A era do Homo Trecos. *Estado de Minas*, 10 de março de 2024. Disponível em: <https://www.em.com.br/colunistas/filosofia-explicadinha/2024/03/6816267-a-era-do-homo-trecos.html>. Acesso em: 30 mar. 2024. Adaptado.

Questão 1

Qual dos trechos grifados abaixo representa uma oração subordinada substantiva?

- (A) “Para alguns, a libertação de um estado de natureza, **no qual somos frágeis, presas fáceis.**” (1º parágrafo).
- (B) “Não percebiam, a tempo, **que a escravidão é um mal ético e objetivo.**” (3º parágrafo).
- (C) “Diferentemente daqueles **que vieram antes de nós**, nossas invenções não foram criadas por uma necessidade social.” (5º parágrafo).
- (D) “Depois, começamos a nos perguntar **para que eles servem.**” (6º parágrafo).
- (E) “É treco **que não acaba mais.**” (6º parágrafo).

Questão 2

De acordo com o articulista, o ser humano produz trecos:

- (A) unicamente para escancarar os pontos cegos vexaminosos das culturas anteriores;
- (B) exclusivamente para suprir necessidades sociais que culturas de outras épocas deixaram;
- (C) apenas para que as futuras gerações de filósofos estudem o ser humano atual como uma espécie diferente;
- (D) somente para saciar a ansiedade de produzir coisas, ainda que sem utilidade aparente;
- (E) unicamente para utilizar a língua inglesa, considerada de prestígio, em situações cotidianas.

Questão 3

Qual das expressões abaixo, empregadas no texto, apresenta um sentido denotativo no contexto em que se encontra?

- (A) “estado de natureza”.
- (B) “sem eira nem beira”.
- (C) “debaixo do nariz”.
- (D) “ponto cego”.
- (E) “calcanhar de Aquiles”.

Questão 4

Qual é a função das vírgulas no trecho “É treco no braço, na cintura, no bolso, na orelha, na maleta e em qualquer lugar que dê para pendurar alguma coisa.” (5º parágrafo)?

- (A) Enumerar termos de mesma função sintática.
- (B) Isolar um aposto explicativo.
- (C) Separar vocativos.
- (D) Isolar apostos enumerativos.
- (E) Separar orações coordenadas assindéticas.

Questão 5

Em qual dos trechos abaixo se pode identificar o uso da voz verbal passiva analítica?

- (A) “Vencemos uma batalha natural e aqui estamos, com pensamento e reflexão.” (1º parágrafo).
- (B) “Toda cultura se acha, invariavelmente, mais capacitada e evoluída do que a anterior.” (2º parágrafo).
- (C) “Afinal, se é ponto cego, de fato, não era para ser visto mesmo.” (3º parágrafo).
- (D) “A Revolução Treconológica nos encheu de coisas, sem antes nos perguntar se seriam úteis.” (5º parágrafo).
- (E) “Nós, os Homo Trecos, não gostamos muito de pensar, essa coisa antiquada, analógica e sofrida.” (7º parágrafo).

MATEMÁTICA**Questão 6**

Qual é o próximo número da sequência lógica 4d, 9i, 8h, 15o,...?

- (A) 6f
- (B) 12l
- (C) 20t
- (D) 25y
- (E) 18r

Questão 7

Qual é o dobro do valor de x , sabendo que a medida dos ângulos internos de um triângulo retângulo são $x + 10$ e $x - 15$?

- (A) 47,5
- (B) 23,75
- (C) 95
- (D) 190
- (E) 185

Questão 8

Qual é o número de diagonais de um polígono regular cuja medida do ângulo externo é de 60° ?

- (A) 6
- (B) 12
- (C) 9
- (D) 18
- (E) 5

Questão 9

Se os números x , 12, 4 e 3, formam nessa ordem uma proporção, é verdadeiro que a soma dos algarismos de x , é:

- (A) 6
- (B) 7
- (C) 8
- (D) 9
- (E) 10

Questão 10

Um quadrado tem dois dos seus vértices localizados em $A(4, 4)$ e $C(-4, -4)$, que são os extremos de uma de suas diagonais. Qual é a soma da área e do perímetro desse quadrado, considerando que todas as dimensões estão na mesma unidade de medida?

- (A) 8
- (B) 64
- (C) 48
- (D) 32
- (E) 96

NOÇÕES DE INFORMÁTICA

Questão 11

Como é chamado o software instalado no computador sem a ciência do usuário, que se esconde no dispositivo e monitora atividades, roubando informações sensíveis como dados financeiros, informações de conta, logins?

- (A) Cavalo de Troia.
- (B) Spyware.
- (C) Adware.
- (D) Scareware.
- (E) Malware sem arquivo.

Questão 12

Analise e responda.

- I- Nobreak;
- II- Biometria.
- III- Certificado Digital;
- IV- Assinatura Digital;
- V- Criptografia.

Das opções apresentadas acima, qual(is) corresponde(m) a exemplo(s) de ferramenta(s) que garante(m) o Princípio da Disponibilidade da Segurança da Informação?

- (A) II e V, apenas;
- (B) III, apenas;
- (C) II e IV, apenas;
- (D) I, apenas;
- (E) V, apenas.

Questão 13

Analise a função do MS-Excel 2016 apresentada abaixo e responda.

“Função NÃO.”

É correto afirmar que a função é responsável por:

- (A) retornar VERDADEIRO se um dos argumentos for VERDADEIRO;
- (B) atribuir nomes aos resultados de cálculo;
- (C) inverter o valor lógico do argumento;
- (D) criar funções personalizadas e reutilizáveis e chamá-las por um nome amigável;
- (E) especificar um teste lógico a ser executado.


Questão 14

Assinale a alternativa que corresponda a guia em que se localiza o grupo Auditoria de Formulas, do MS-Excel 2016.

- (A) Fórmulas.
- (B) Arquivo.
- (C) Página Inicial.
- (D) Exibir.
- (E) Ajuda.

Questão 15

Analise a imagem e responda.



Em qual guia do MS-Word 2016 é possível localizar os grupos representados acima?

- (A) Página Inicial.
- (B) Exibir.
- (C) Design.
- (D) Inserir.
- (E) Layout.

Questão 16

Analise as alternativas e assinale a que apresenta o atalho do MS-Word 2016 responsável por abrir a caixa “Localizar e Substituir”.

- (A) Ctrl + U.
- (B) Shift + Tab.
- (C) Alt + F3.
- (D) Tab.
- (E) F10.

Questão 17

Qual função é desempenhada pelo atalho “Ctrl + Shift + clique em um botão da barra de tarefas”, quando utilizado no sistema operacional Windows 11?

- (A) Exibir o menu da janela do aplicativo.
- (B) Alternar as janelas do grupo.
- (C) Adicionar uma área de trabalho virtual.
- (D) Abrir um aplicativo como um administrador.
- (E) Selecionar a caixa de pesquisa.

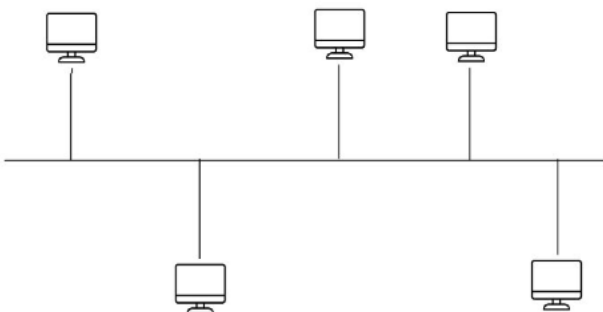
Questão 18

Das alternativas apresentadas, qual corresponde a um exemplo de navegador de internet?

- (A) Adobe Photoshop.
- (B) Safari.
- (C) Outlook.
- (D) MSN Messenger.
- (E) Hotmail.

Questão 19

A imagem abaixo representa um dos tipos de topologia de rede. Qual?



- (A) Anel.
- (B) Estrela.
- (C) Barramento.
- (D) Hierárquico.
- (E) Malha.

Questão 20

Leia o trecho e responda.

“Interligam computadores presentes dentro de um mesmo espaço físico. Isso pode acontecer dentro de uma empresa, de uma escola ou dentro da sua própria casa, sendo possível a troca de informações e recursos entre os dispositivos participantes.”

É correto afirmar que o trecho diz respeito a:

- (A) MAN.
- (B) PAN.
- (C) SAN.
- (D) LAN.
- (E) WAN.

POLÍTICAS E LEGISLAÇÃO PÚBLICAS

Questão 21

Conforme prevê a Constituição Federal de 1988, cada Estado e o Distrito Federal elegerão três Senadores, com mandato de:

- (A) dois anos;
- (B) quatro anos;
- (C) cinco anos;
- (D) seis anos;
- (E) oito anos.

Questão 22

Segundo o Art. 49 da Constituição Federal de 1988, é da competência exclusiva do Congresso Nacional:

- (A) vetar, em terras indígenas, a exploração e o aproveitamento de recursos hídricos e a pesquisa e lavra de riquezas minerais;
- (B) julgar semestralmente as contas prestadas pelo Presidente da República e apreciar os relatórios sobre a execução dos planos de governo;
- (C) aprovar, previamente, a alienação ou concessão de terras públicas com área inferior a dois mil e quinhentos hectares;
- (D) autorizar o Presidente e o Vice-Presidente da República a se ausentarem do País, quando a ausência exceder a quinze dias;
- (E) escolher um terço dos membros do Tribunal de Contas da União.

Questão 23

De acordo com o Art. 5 da Constituição Federal de 1988, é correto afirmar que:

- (A) são violáveis a intimidade, a vida privada, a honra e a imagem das pessoas;
- (B) a criação de associações e, na forma da lei, a de cooperativas independem de autorização, sendo vedada a interferência estatal em seu funcionamento;
- (C) é plena a liberdade de associação para fins lícitos, permitida a de caráter paramilitar;
- (D) a pequena propriedade rural, assim definida em lei, desde que trabalhada pela família, será objeto de penhora para pagamento de débitos decorrentes de sua atividade produtiva, dispondo a lei sobre os meios de financiar o seu desenvolvimento;
- (E) é livre a manifestação do pensamento, sendo permitido o anonimato.

Questão 24

Nos termos da Constituição Federal de 1988, o alistamento eleitoral e o voto são facultativos para:

- I. os analfabetos.
- II. os maiores de sessenta anos.
- III. os maiores de dezesseis e menores de dezoito anos.

Estão corretos os itens:

- (A) I, apenas;
- (B) I e III, apenas;
- (C) II, apenas;
- (D) III, apenas;
- (E) I e II, apenas.

Questão 25

Com base no Art. 37 da Constituição Federal de 1988, assinale a alternativa que contém um princípio da Administração Pública.

- (A) Dinamicidade;
- (B) Organização;
- (C) Acessibilidade;
- (D) Publicidade;
- (E) Eficácia.

Questão 26

O Art. 18 da Lei Complementar nº 266 de 2008, estabelece que o efetivo cumprimento das atribuições inerentes ao cargo ou função de confiança é:

- (A) exercício;
- (B) posse;
- (C) circulação;
- (D) desempenho;
- (E) exoneração.

Questão 27

“Remanejamento é a mudança temporária, não superior a _____ dias, ou definitiva de função ou local de trabalho, que visa minimizar a repercussão das condições ambientais desfavoráveis à saúde do servidor no exercício do cargo.”

Segundo o Art. 25 da Lei Complementar nº 266 de 2008, a lacuna acima é corretamente preenchida por:

- (A) 30;
- (B) 60;
- (C) 90;
- (D) 120;
- (E) 180.

Questão 28

Com base na Lei Complementar nº 266 de 2008, relacione os termos numerados de 1 a 4 com suas definições.

- (1) Readaptação
- (2) Reintegração
- (3) Recondução
- (4) Remoção

() É a reinvestidura do servidor estável no cargo anteriormente ocupado ou no resultante de sua transformação, quando invalidada sua demissão por decisão judicial ou administrativa.

() Consiste na mudança de cargo decorrente da inaptidão definitiva do servidor para o cargo originário, visando o aproveitamento de sua capacidade laborativa residual.

() É o retorno do servidor estável ao cargo anteriormente ocupado e decorrerá de: inabilitação em estágio probatório relativo a outro cargo; reintegração do anterior ocupante.

() É o deslocamento do servidor do quadro permanente, a pedido ou de ofício, no âmbito do mesmo quadro.

A sequência correta, de cima para baixo, é:

- (A) 2. 1. 3. 4;
- (B) 2. 3. 4. 1;
- (C) 3. 1. 2. 4;
- (D) 3. 2. 4. 1;
- (E) 4. 2. 1. 3.

Questão 29

Conforme prevê a Lei nº 12.527 de 2011, o acesso à informação compreende, entre outros, os direitos de obter:

- I. informação primária, íntegra, autêntica e desatualizada;
- II. informação sobre atividades exercidas pelos órgãos e entidades, inclusive as relativas à sua política, organização e serviços;
- III. informação produzida ou custodiada por pessoa física ou entidade privada decorrente de qualquer vínculo com seus órgãos ou entidades, mesmo que esse vínculo já tenha cessado;
- IV. orientação sobre os procedimentos para a consecução de acesso, bem como sobre o local onde poderá ser encontrada ou obtida a informação almejada.

Estão corretas as afirmativas:

- (A) I e IV, apenas;
- (B) II, III e IV, apenas;
- (C) III, apenas;
- (D) IV, apenas;
- (E) II e IV, apenas.

Questão 30

De acordo com a Lei nº 12.527 de 2011, quando não for autorizado acesso integral à informação por ser ela parcialmente sigilosa, é assegurado o acesso à parte não sigilosa por meio de _____, extrato ou cópia com _____ da parte sob sigilo.

As lacunas acima são, correta e respectivamente, preenchidas por:

- (A) relatório; ocultação;
- (B) ofício; divulgação;
- (C) certidão; ocultação;
- (D) plano; divulgação;
- (E) projeto; ocultação.

CONHECIMENTOS ESPECÍFICOS**Questão 31**

As adaptações celulares são mecanismos relacionados às ações indiretas que permitem realizar mudanças celulares no intuito de inviabilizar a morte celular ou lesões irreversíveis. É um exemplo onde ocorre a hipertrofia da musculatura lisa:

- (A) sobrecarga do coração;
- (B) hipertrofia de plexos mioentéricos;
- (C) obstrução da bexiga;
- (D) após o uso de barbitúricos;
- (E) hipertrofia do músculo lombar.

Questão 32

Degenerações são alterações celulares, geralmente reversíveis quando o estímulo cessa, e que podem ou não evoluir para a morte celular. Nesse sentido, assinale a alternativa incorreta.

- (A) Na degeneração hidrópica, conforme o processo degenerativo progride, há formação de vacúolos com contornos imprecisos, deixando o citoplasma com aspecto rendilhado.
- (B) A degeneração glicogênica é o acúmulo anormal de glicogênio nas células, decorrente de distúrbios metabólicos. Utiliza-se o método Sudan IV de coloração para diferenciar glicogênio de água.
- (C) Quando há esteatose, os vacúolos pequenos são por doenças metabólicas agudas, vacúolos grandes são por lesões tóxicas ou virais de desenvolvimento lento.
- (D) Em relação à degeneração Hialina, as principais causas de acúmulos intracelulares são a reabsorção de proteínas pelo epitélio tubular renal, produção excessiva de proteínas normais e por defeitos no dobramento das proteínas.
- (E) Quando há degeneração glicogênica, nos hepatócitos, ocorre por hiperglicemia, doença metabólica induzida por fármacos (ex: corticosteróides); deficiência enzimática relacionada a doenças de armazenamento de glicogênio, ou por tumores hepatocelulares.

Questão 33

O pH parcialmente alcalino de certas regiões facilita a calcificação. No estômago, o aumento do HCL ativa a seguinte enzima, que quebra proteínas em pH ácido, estimulando a secreção de suco pancreático e precipitando sais:

- (A) amilase;
- (B) ptialina;
- (C) tripsina;
- (D) pepsina;
- (E) pancreatina.

Questão 34

Se a morte celular ocorre em um organismo vivo e é seguida de autólise, o processo recebe nome de necrose. Macroscopicamente a necrose gomosa é típica na(o):

- (A) tuberculose;
- (B) tecido digerido até a liquefação;
- (C) órgão de circulação dupla;
- (D) órgão de circulação terminal;
- (E) sífilis.

Questão 35

A hemorragia caracteriza-se pela saída do sangue do espaço vascular para o compartimento extravascular ou para fora do organismo. A hemorragia por diapedese tem como uma de suas causas:

- (A) o traumatismo;
- (B) o enfraquecimento da parede celular;
- (C) a baixa de plaquetas;
- (D) o aumento da pressão sanguínea;
- (E) a lesão vascular por hipersensibilidade.

Questão 36

A insuficiência cardíaca é a incapacidade do coração em bombear sangue em quantidade e pressão para perfundir os órgãos e tecidos. No contexto de um edema generalizado, a Insuficiência Cardíaca Esquerda apresenta a seguinte patogenia:

- (A) Congestão Pulmonar Inicial (Dispneia);
- (B) Congestão Sistêmica;
- (C) Hepatomegalia Congestiva;
- (D) Edema Dos Membros Inferiores;
- (E) Aumento da pressão hidrostática venosa central e sistêmica.

Questão 37

Os Fenômenos Irritativos são o conjunto de modificações desencadeadas no organismo pelo agente inflamatório, flogógeno, com a participação de inúmeras moléculas sinalizadoras de agressão. A ativação da caspase 1 é proveniente da seguinte Alarmina derivada de dano tecidual:

- (A) uratos e fosfatos;
- (B) adenosina trifosfato;
- (C) proteases;
- (D) calgranulinas;
- (E) lipocortina A1.

Questão 38

As degenerações e necroses constituem os fenômenos alterativos de modo mais específico e surgem no início ou durante o processo inflamatório, como consequência da ação das células inflamatórias e de mediadores químicos, associados ou não com as respostas imunológicas, humoral e celular. Os fenômenos alterativos teciduais, mais especificamente, podem ser exemplificados por vários padrões morfológicos. Assinale a alternativa que exemplifica um padrão ulcerado.

- (A) Pericardite fibrinosa.
- (B) Fleimão.
- (C) Estomatite herpética.
- (D) Hepatite amebiana.
- (E) Dermatite vesicular herpética.

Questão 39

A American Joint Committee on Cancer (AJCC) e a União Internacional de Controle do Câncer (UICC) utilizam o sistema de classificação TNM como uma ferramenta para os médicos estadiarem diferentes tipos de câncer com base em determinadas normas. Pelo sistema TNM, o câncer que se espalhou para tecidos e órgãos distantes pertence à seguinte categoria:

- (A) M0;
- (B) M1;
- (C) NX;
- (D) N0;
- (E) T1.

Questão 40

A carcinogênese pode ser dividida conceitualmente em quatro etapas, que é o resultado de mutações em genes específicos relacionados ao controle da multiplicação e diferenciação celular e à sobrevivência celular. A progressão tumoral caracteriza-se na seguinte afirmação:

- (A) a transformação das células preneoplásicas em células que expressam o fenótipo maligno. Esse processo necessita de mais trocas genéticas, as quais podem ocorrer por erros na síntese do DNA ou pela ativação do oncogenes, e/ou a inativação de genes supressores de tumor;
- (B) a instabilidade genômica experimentada pela célula propicia um ambiente favorável às trocas genéticas, ocasionando a amplificação de alguns genes e a expressão alterada de outros, podendo resultar em uma maior taxa de crescimento e na aquisição de propriedades como a invasão local e a disseminação metastática;
- (C) compreende a expansão clonal das células iniciadas até formar tumores visíveis, geralmente lesões benignas ou focos de células preneoplásicas;
- (D) é o processo que envolve a exposição das células normais a agentes químicos, físicos ou virais que causam danos irreversíveis nos genes, levando a ativação de oncogenes e/ou inativação de genes supressores de tumor;
- (E) os promotores tumorais se caracterizam pela sua habilidade para reduzir o período de latência na formação de um tumor depois da exposição de um tecido a um iniciador, ou por aumentar o número de tumores formados nesse tecido.

Questão 41

A finalidade da Declaração de Óbito, desde 1976, em território nacional, é permitir a comparabilidade dos dados, consolidando-os em nível nacional através do Sistema de Informação de Mortalidade (SIM), permitindo, então, maior racionalização das atividades baseadas nas informações coletadas. Em relação às vias da declaração de óbito, a cor rosa tem o seguinte destino:

- (A) secretaria de saúde;
- (B) família;
- (C) cartório;
- (D) prontuário do paciente;
- (E) arquivo hospitalar.

Questão 42

Assinale alternativa correta quanto ao preenchimento da Declaração de Óbito do caso descrito abaixo:

Paciente chagásico, com comprometimento cardíaco, internado com história de distensão progressiva do abdômen. Há 2 dias vem apresentando fraqueza, febre alta, e não suporta que lhe toquem o abdômen. Sem evacuar há 3 dias, tem diagnóstico colonoscópico de megacólon há 5 anos. Na visita médica das 8:00 da manhã, paciente suava muito e apresentava pressão sistólica de 20 mmHg. O diarista, após avaliar o hemograma, trocou o antibiótico e, ao longo do dia, ajustou várias vezes o gotejamento de dopamina. Às 16:00, apresentou parada cardiorrespiratória e teve o óbito confirmado pelo médico substituto, após o insucesso das manobras de reanimação.

- (A) Choque hipovolêmico – 8 horas.
- (B) Peritonite aguda – 3 dias.
- (C) Cardiopatia chagásica – 5 anos.
- (D) Hipertensão portal – 2 dias.
- (E) Volvo do sigmoide – 3 dias.

Questão 43

Se for identificado como causa morte a Leucemia, deve-se descrever a seguinte informação complementar:

- (A) causa;
- (B) localização;
- (C) aguda ou crônica;
- (D) agente causador;
- (E) primária ou secundária.

Questão 44

As neoplasias malignas são uma frequente causa de morte. A “chave” do problema, para codificar neoplasias malignas, é saber qual a localização primária do processo, quando este não está indicado. Considerando esse contexto, assinale a alternativa que indica quais das afirmações abaixo são verdadeiras.

- I. Embora as células malignas possam se metastatizar para qualquer lugar do corpo, certas localizações são mais comuns do que outras e devem ser tratadas diferentemente. Entretanto, se uma destas localizações aparece sozinha num atestado de óbito e não é qualificada pela palavra “metastática”, deve ser considerada como primária.
- II. O pulmão apresenta problemas especiais no sentido de que é uma localização comum tanto de metástases quanto de neoplasias malignas primárias. Quando for mencionado “carcinoma brônquico ou broncogênico”, esta neoplasia deve ser considerada secundária.
- III. Neoplasia de “gânglios linfáticos” não especificada como primária deve ser presumida como secundária.

- (A) Somente as afirmações I e II são verdadeiras.
(B) Somente as afirmações I e III são verdadeiras.
(C) Somente as afirmações II e III são verdadeiras.
(D) As afirmações I, II e III são verdadeiras.
(E) As afirmações I, II e III não são verdadeiras.

Questão 45

O fígado apresenta uma face diafragmática convexa que possui o ligamento falciforme, dividindo essa face em lobo direito e lobo esquerdo. A face visceral relativamente plana, ou mesmo côncava, apresenta quatro lobos. O lobo caudado situa-se:

- (A) entre o ligamento venoso, o pedículo hepático e a veia cava inferior;
(B) à direita da veia cava inferior e da vesícula biliar;
(C) nas porções à esquerda do ligamento venoso;
(D) entre o ligamento redondo, o pedículo hepático e a vesícula biliar;
(E) entre o ligamento venoso, a cava inferior e a vesícula biliar.

Questão 46

Conforme a Resolução CFM nº 1.779/2005, em caso de morte fetal, os médicos que prestaram assistência à mãe ficam

obrigados a fornecer a Declaração de Óbito quando a gestação tiver duração:

- (A) igual ou superior a 20 semanas ou o feto tiver peso corporal igual ou superior a 500 gramas e/ou estatura igual ou superior a 25 cm;
(B) igual ou superior a 16 semanas ou o feto tiver peso corporal igual ou superior a 500 gramas e/ou estatura igual ou superior a 25 cm;
(C) igual ou superior a 24 semanas ou o feto tiver peso corporal igual ou superior a 500 gramas e/ou estatura igual ou superior a 25 cm;
(D) igual ou superior a 20 semanas ou o feto tiver peso corporal igual ou superior a 600 gramas e/ou estatura igual ou superior a 35 cm;
(E) igual ou superior a 24 semanas ou o feto tiver peso corporal igual ou superior a 600 gramas e/ou estatura igual ou superior a 35 cm.

Questão 47

A necropsia consiste no estudo das características externas do corpo e das mudanças ocorridas em todos os órgãos depois da morte, a partir do exame macroscópico, que fornece material para o exame microscópico, no qual serão vistas as alterações tissulares e celulares. Por meio da técnica de Ghon modificada, quando da abertura da cavidade toracoabdominal, a retirada do terceiro monobloco inicia-se com:

- (A) a liberação da bexiga;
(B) a liberação do rim e da supra-renal direitos;
(C) a liberação do útero e ovários;
(D) a liberação do rim e da supra-renal esquerdos;
(E) a liberação das vesículas seminais.

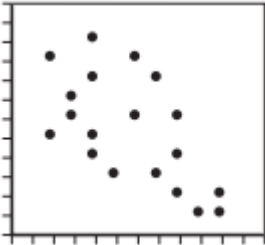
Questão 48

Antes da conservação dos cadáveres, as peças anatômicas têm que ser dissecadas para exposição dos tecidos e órgãos que devem ser visualizados durante o estudo. Na técnica de formalização, a solução conservadora é feita a partir da solução composta de:

- (A) 2 partes de água destilada para 1 parte formol a 10%;
(B) 3 partes de água destilada para 1 parte formol a 10%;
(C) 2 partes de água destilada para 1 parte formol a 5%;
(D) 3 partes de água destilada para 1 parte formol a 5%;
(E) 3 partes de água destilada para 1 parte formol a 2%.

Questão 49

Na bioestatística, se quisermos avaliar a correlação entre duas variáveis, inicialmente apresentamos os dados em um gráfico de pontos, denominado diagrama de dispersão. O diagrama abaixo é um exemplo de:



- (A) correlação positiva fraca;
- (B) correlação negativa perfeita;
- (C) correlação negativa forte;
- (D) correlação positiva forte;
- (E) correlação negativa fraca.

Questão 50

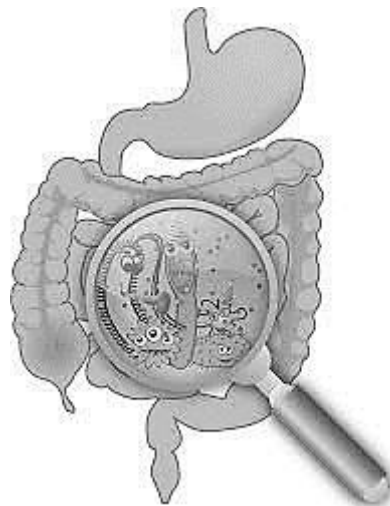
Os trombos podem ser classificados também a partir de suas características macroscópicas, mais especificamente com base na cor destes. Os trombos vermelhos apresentam as seguintes características:

- (A) são compostos principalmente por plaquetas e fibrina;
- (B) tratam-se de trombos secos e friáveis;
- (C) são úmidos e gelatinosos;
- (D) são predominantes em artérias e cavidades cardíacas;
- (E) são também chamados de trombos fibrinosos.

PROVA DISCURSIVA

Elabore um texto dissertativo, de 20 a 30 linhas, com base nos seus conhecimentos, acerca do tema abaixo:

Tema: Diagnóstico e epidemiologia dos parasitas intestinais.



<https://www.medicina.ufmg.br/observaped/parasitose-intestinal/>

“As parasitoses intestinais são extremamente frequentes em nosso meio, principalmente em localidades com saneamento básico precário. Suas manifestações são inespecíficas, o que dificulta seu diagnóstico. A repercussão e a gravidade das parasitoses dependem do paciente (idade, nutrição, hábitos de vida, imunocompetência, doenças associadas) e da carga parasitária, além dos mecanismos de lesão de cada parasita. Os antiparasitários são a medicação utilizada não só para seu tratamento, como também servem de estratégia para erradicação de verminoses em populações de alta prevalência, além de serem utilizados em pacientes em uso de corticoides para prevenir estrogiloidíase.”

Fonte: https://www.medicinanet.com.br/conteudos/revisoes/6835/parasitoses_intestinais.htm

FOLHA DE RASCUNHO

1

2

3

4

5

6

7

8

9

10

11

12

13

14

15

16

17

18

19

20

21

22

23

24

25

26

27

28

29

30