



## LÍNGUA PORTUGUESA

### **Brasil é o 7º país com mais bilionários no mundo; veja ranking.**

O Brasil é o sétimo país com mais bilionários do mundo. É o que mostra a mais recente lista anual da Forbes, divulgada nesta terça-feira (2). Ao todo, a lista tem 2.781 bilionários de 78 países.

Por aqui, são 69 pessoas com patrimônio acima de US\$ 1 bilhão (cerca de R\$ 5 bilhões). O ranking nacional é encabeçado por Eduardo Saverin, cofundador do Facebook, com uma fortuna avaliada em US\$ 28 bilhões (R\$ 141 bilhões).

A lista também contempla a Livia Voigt, que com 19 anos e US\$ 1,1 bilhão (R\$ 5,5 bilhões), é a bilionária mais nova do país. Outros mais ricos no território brasileiros estão nas áreas de finanças e comidas e bebidas, como Vicky Safra e Jorge Paulo Lemann e família.

Em último lugar do top 10, o Reino Unido tem, atualmente, 55 bilionários. O ranking é encabeçado pelo investidor britânico Michael Platt, com fortuna estimada em US\$ 18 bilhões (R\$ 90,7 bilhões). Território autônomo da China, Hong Kong aparece em nona posição, com 67 bilionários. O topo da lista ficou com o empresário Li Ka-Shing, com patrimônio de US\$ 37,3 bilhões (R\$ 187,9 bilhões).

Na oitava posição, o Canadá conta com 67 bilionários, com a maior fortuna pertencente ao empresário David Thomson e sua família. Ao todo, a fortuna do presidente da Thomson Corporation é estimada em US\$ 67,8 bilhões (R\$ 341,6 bilhões).

Em sétimo lugar, o Brasil tem 69 bilionários. A maior fortuna é de Eduardo Saverin, cofundador do Facebook, com a bolada de US\$ 28 bilhões (R\$ 141 bilhões). Na sequência, aparece Vicky Safra e seus quatro filhos, com patrimônio avaliado em US\$ 20,6 bilhões (R\$ 103,7 bilhões). A Itália 73 bilionários, segundo o levantamento da Forbes. O mais rico do país é o atual presidente-executivo do grupo Ferrero SpA, Giovanni Ferrero, com patrimônio de US\$ 43,8 bilhões (R\$ 220,6 bilhões).

Em quinto lugar no ranking, a Rússia tem, atualmente, 120 bilionários. A lista é liderada pelo presidente da empresa de óleo Lukoil, Vagit Alekperov, com fortuna estimada em US\$ 28,6 bilhões (R\$ 114,1 bilhões). Com 132 bilionários, a Alemanha ocupa a quarta posição na lista da Forbes. A maior fortuna do país pertence a Klaus-Michael Kühne, presidente honorário da Kuehne+Nagel International AG, avaliada em US\$ 39,2 bilhões (R\$ 197,5 bilhões).

A Índia é o terceiro país no ranking, com 200 bilionários. O empresário indiano Mukesh Ambani, presidente da Reliance Industries, é o grande super-rico do país, com patrimônio de

US\$ 116 bilhões (cerca de R\$ 584,5 bilhões). Em segundo lugar na lista, aparece a China, com um total de 406 bilionários. O mais rico do país é o empresário Zhong Shanshan, fundador da empresa de bebidas Nongfu Spring, com uma fortuna avaliada em US\$ 62,3 bilhões (cerca de R\$ 313,8 bilhões).

Os Estados Unidos lideram o ranking de país com mais bilionários no mundo — são 813, no total. A lista é encabeçada por Elon Musk, com patrimônio estimado em US\$ 195 bilhões (cerca de R\$ 982,1 bilhões), seguida de Jeff Bezos, com US\$ 194 bilhões (R\$ 977 bilhões) e Mark Zuckerberg, com nada menos que US\$ 177 bilhões (R\$ 891,4 bilhões) na conta.

Fonte: Brasil é o 7º país com mais bilionários no mundo; veja ranking | CNN Brasil

### **01) Assinale a alternativa INCORRETA de acordo com o texto:**

- (A) O mais rico no Brasil é Eduardo Saverin, cofundador do Facebook.
- (B) O Brasil ocupa o sétimo lugar em quantidade de bilionários segundo a lista da Forbes.
- (C) Os Estados Unidos ocupam o primeiro lugar em quantidade de bilionários.
- (D) O Brasil tem 2.781 bilionários.
- (E) Dentre os bilionários dos Estados Unidos estão Elon Musk, Jeff Bezos e Mark Zuckerberg.

### **02) Assinale a alternativa que apresente a circunstância estabelecida pelo termo em destaque no período: “Em último lugar do top 10, o Reino Unido tem, atualmente, 55 bilionários”.**

- (A) Negação.
- (B) Tempo.
- (C) Lugar.
- (D) Afirmação.
- (E) Dúvida.

### **03) Assinale a alternativa que apresente o tempo verbal do verbo em destaque no período: “Em sétimo lugar, o Brasil tem 69 bilionários”.**

- (A) Presente.
- (B) Futuro.
- (C) Imperativo.
- (D) Pretérito.
- (E) Infinitivo.

### **04) Assinale a alternativa que apresente um sinônimo adequado para o termo em destaque no período, considerando o contexto do texto: “É o que mostra a mais recente lista anual da Forbes, divulgada nesta terça-feira (2)”.**

## MATEMÁTICA

- (A) Responde.
- (B) Suspeita.
- (C) Indica.
- (D) Projeta.
- (E) Nega.

**05) Assinale a alternativa cuja palavra apresente mais de três sílabas:**

- (A) Fundador.
- (B) Fortuna.
- (C) Empresa.
- (D) Posição.
- (E) Presidente.

**06) Assinale a alternativa cuja palavra NÃO seja um numeral:**

- (A) Sétimo.
- (B) Oitava.
- (C) Terceiro.
- (D) Bilionários.
- (E) Quatro.

**07) Assinale a alternativa cuja divisão silábica da palavra esteja INCORRETA:**

- (A) Pe-ssô-as.
- (B) A-nu-al.
- (C) Gru-po.
- (D) Fi-lhos.
- (E) Ter-ri-tó-rio.

**08) Assinale a alternativa cuja palavra seja um numeral:**

- (A) Recente.
- (B) Lista.
- (C) Oitava.
- (D) Aparece.
- (E) Com.

**09) Assinale a alternativa cuja letra s final da palavra não represente o seu plural:**

- (A) Bebidas.
- (B) Menos.
- (C) Bilionários.
- (D) Anos.
- (E) Filhos.

**10) Assinale a alternativa cuja palavra seja oxítona:**

- (A) Sétimo.
- (B) Patrimônio.
- (C) Último.
- (D) Canadá.
- (E) Território.

**11) Em uma excursão cada um dos passageiros deve pagar R\$ 80,00. Se o ônibus tem 36 lugares e todos os lugares foram vendidos, o valor arrecadado é igual a:**

- (A) R\$2.520,00.
- (B) R\$ 2.640,00.
- (C) R\$ 2.740,00.
- (D) R\$ 2.880,00.
- (E) R\$ 2.920,00.

**12) Seu Emilio trabalha em uma feira de rua, vendendo hortaliças e ovos. Em um de seus pedidos de compra adquiriu 30 dúzias de ovos. Com base nestas informações, a quantidade de ovos que comprou é igual a:**

- (A) 180.
- (B) 240.
- (C) 360.
- (D) 480.
- (E) 520.

**13) Se Marina nasceu no ano de 1978, em 2024 vai completar quantos anos de idade?**

- (A) 42.
- (B) 44.
- (C) 45.
- (D) 46.
- (E) 47.

**14) Um grupo de 4 amigos resolveu comprar um barco em sociedade. O barco custa R\$ 6.440,80 e eles vão dividir em partes iguais. Desta forma, o valor pago por cada um deles é de:**

- (A) R\$ 1.510,20.
- (B) R\$ 1.610,20.
- (C) R\$ 1.710,20.
- (D) R\$ 1.810,20.
- (E) R\$ 1.910,20.

**15) Adriana recebeu uma dívida de R\$ 100,00 em dinheiro. Ela recebeu uma nota de R\$ 50,00, 3 notas de R\$ 10,00 e o restante em notas de R\$ 5,00 e R\$ 2,00. Com base nestas informações, a quantidade de notas de R\$ 2,00 que recebeu é igual a:**

- (A) 4.
- (B) 5.
- (C) 6.
- (D) 7.
- (E) 8.

16) A tabela seguinte relaciona números com letras da seguinte forma:

0	1	2	3	4	5	6	7	8	9
A	E	D	F	M	J	O	R	P	B

Usando esta relação, o número 86490 representa a palavra:

- (A) POMAR.
- (B) DEDOS.
- (C) FARPA.
- (D) PERAS.
- (E) POMBA.

17) Dona Joana realiza sua caminhada matinal de 1.500 metros todos os dias. No mês de fevereiro de 2023 (ano não é bissexto) ela caminhou todos os dias do mês. Com base nestas informações, a quantidade em quilômetros que caminhou é igual a:

- (A) 42 Km.
- (B) 38 Km.
- (C) 50 Km.
- (D) 60 Km.
- (E) 45 Km.

18) Em uma comunidade com 2.000 pessoas,  $\frac{2}{5}$  deveriam tomar uma vacina. Mas após duas semanas que a campanha está ocorrendo, apenas 150 haviam tomado a vacina. Com base nestas informações, a quantidade de pessoas do grupo que deveria tomar a vacina e ainda não tomaram é igual a:

- (A) 450.
- (B) 550.
- (C) 650.
- (D) 750.
- (E) 850.

19) Pedro sabe que com 2 quilos de farinha consegue fazer 10 pães. Se ele recebeu uma encomenda de 50 destes pães, quantos quilos de farinha vai precisar para realizar a encomenda?

- (A) 8.
- (B) 10.
- (C) 12.
- (D) 14.
- (E) 15.

20) Após dois anos de trabalho Seu Marcelo recebeu um aumento de salário de 20%. Se antes ele recebia R\$ 3.500,00 após o aumento vai receber:

- (A) R\$ 3.700,00.
- (B) R\$ 3.850,00.
- (C) R\$ 4.050,00.
- (D) R\$ 4.150,00.
- (E) R\$ 4.200,00.

### CONHECIMENTOS GERAIS/ATUALIDADES

21) O município de Nova Laranjeiras se destaca por uma história relacionada ao trabalho. Qual dos símbolos abaixo está presente no brasão do município de Nova Laranjeiras?

- (A) Avião.
- (B) Navio.
- (C) Camioneta.
- (D) Trator.
- (E) Charrete.

22) Nova Laranjeiras fica numa localização estratégica para uma das principais rodovias paranaenses. Qual das rodovias abaixo passa pelo território de Nova Laranjeiras?

- (A) BR-060.
- (B) BR-101.
- (C) BR-277.
- (D) BR-230.
- (E) BR-116.

23) Qual das alternativas abaixo se refere ao presidente da Câmara dos Vereadores de Nova Laranjeiras eleito para o biênio 2023-2024?

- (A) Adão Krekanh.
- (B) Antônio Meurer.
- (C) Cleciandro Veroneze.
- (D) Ademar Tessaro.
- (E) Altamiro Scheffer.

24) Entre as alternativas abaixo, qual delas possui um grupo de nomes de aldeias em que todas elas se localizam na Terra Indígena de Rio das Cobras?

- (A) Sede, Trevo, Lebre e Campo do Dia.
- (B) Mãe Velha, Pai Velho, Tiba e Pequi.
- (C) Kaxandó, Guaiquica, Bororo e Guató.
- (D) Ticuna, Vermelho, Grota de baixo e Fundão.
- (E) Carijó, Marrecas, Lagoa e Pinheiral.

25) A cultura municipal de Nova Laranjeiras é marcada pela religiosidade. Qual das alternativas abaixo se refere ao padroeiro de Nova Laranjeiras?

- (A) São Pedro Apóstolo.
- (B) São João Batista.
- (C) São Tomás de Aquino.
- (D) São Francisco de Assis.
- (E) Santo Agostinho.

**26) A construção da nova ponte que ligará Matinhos a Guaratuba, no litoral do Paraná, modificará a ligação turística entre as duas cidades. Antes da ponte, qual das alternativas abaixo se refere à principal forma de ligação entre as duas localidades?**

- (A) Túnel Tamoios.
- (B) Balsa Ferry Boat.
- (C) Galeria Real.
- (D) Estrada da Graciosa.
- (E) Ponte Anita Garibaldi.

**27) O Brasil já teve grandes nomes do automobilismo como pilotos de Fórmula 1, como Ayrton Senna. Em qual das equipes abaixo Ayrton Senna foi campeão mundial ao menos uma vez em sua carreira na Fórmula 1?**

- (A) Arrows.
- (B) Brabham.
- (C) Ligier.
- (D) McLaren.
- (E) Ferrari.

**28) Em janeiro de 2024, \_\_\_\_\_ faleceu aos 78 anos. Um ícone da teledramaturgia brasileira e do teatro paulistano, ficou marcada no imaginário popular por algumas de suas interpretações, como a personagem Zoraide, na novela O Clone (2001). Qual das alternativas abaixo se refere a essa atriz?**

- (A) Laura Cardoso.
- (B) Gloria Menezes.
- (C) Jandira Martini.
- (D) Nicette Bruno.
- (E) Nathalia Timberg.

**29) Muitos artistas da música brasileira ganham projeção nacional após nascerem em cidades do interior do país. Qual das alternativas abaixo se refere a cantores que nasceram no Paraná?**

- (A) Chyrstian e Ralf.
- (B) Zezé di Camargo e Luciano.
- (C) Bruno e Marrone.
- (D) Leandro e Leonardo.
- (E) Chitãozinho e Xororó.

**30) O jornalismo brasileiro é destaque internacional por suas reportagens e pela tradição de seus âncoras, que ficam muitos anos nos principais jornais do país. Qual das alternativas abaixo se refere ao atual âncora do Jornal Hoje, após ter comandado o SP-TV por quase uma década?**

- (A) Geraldo Luís.
- (B) Boris Casoy.
- (C) Roberto Cabrini.
- (D) Britto Júnior.
- (E) César Tralli.

### **CONHECIMENTOS ESPECÍFICOS**

**31) As fraturas de crânio são potencialmente muito graves porque podem resultar em lesões cerebrais que, se não corrigidas de imediato, podem causar morte da vítima. São procedimentos em fratura de crânio:**

- I - Manter a cabeça levemente abaixada.
- II - Apertar as roupas no pescoço.
- III - Apoiar a cabeça em local rígido.
- IV - Se houver ferimento, cobrir com a gaze pressionando.
- V - Enfaixar a cabeça comprimindo áreas moles ou deprimidas.

**Analise as proposições acima e assinale a alternativa correta:**

- (A) As assertivas III e V estão corretas.
- (B) As assertivas III, IV e V estão corretas.
- (C) As assertivas II, III e IV estão corretas.
- (D) As assertivas I, II, III, IV e V estão corretas.
- (E) As assertivas I, II, III, IV e V estão incorretas.

**32) Em acidentes de trânsito, são procedimentos em hemorragia interna, exceto:**

- (A) Ajudar a vítima a se deitar com a cabeça mais baixa que o resto do corpo.
- (B) Afrouxar a roupa da vítima.
- (C) Aplicar compressas quentes no local da hemorragia.
- (D) Caso a vítima vomite, vire a cabeça dela para o lado.
- (E) Mantenha as vias respiratórias desobstruídas e cheque a respiração e a pulsação a cada minuto.

**33) Em acidentes de trânsito, entorse:**

- (A) É o deslocamento de um ou mais ossos de uma articulação saindo da sua posição normal.
- (B) É uma distinção de uma junta ou articulação com ruptura parcial ou total do ligamento.
- (C) É a perda de sangue devido ao rompimento de um vaso sanguíneo, veia ou artéria.
- (D) É a consequência de um distúrbio que ocorre no cérebro, podendo ocasionar contrações involuntárias da musculatura, o que provoca movimentos desordenados e, em geral, perda da consciência.
- (E) É a agitação psicomotora, espasmos musculares, salivação intensa e perda dos sentidos.

**34) Em veículos automotores, o sistema de resfriamento ou arrefecimento evita o superaquecimento do:**

- (A) Motor.
- (B) Pneu.
- (C) Estabilizador.
- (D) Câmbio.
- (E) Ar condicionado.

**35) Em veículos automotores, de onde provém a eletricidade necessária para acionar o motor de arranque?**

- (A) Do alternador.
- (B) Caixa Frenética.
- (C) Da ignição eletrônica.
- (D) Das velas.
- (E) Da bateria.

**36) O que indica esse seguinte símbolo?**



- (A) Proibido virar à esquerda.
- (B) Curva à esquerda.
- (C) Curva acentuada à esquerda.
- (D) Vire à esquerda.
- (E) Pare e depois vire à esquerda.

**37) CTB – Código de Trânsito Brasileiro; qual a definição de VEÍCULO DE CARGA?**

- (A) Veículo misto caracterizado pela versatilidade do seu uso, inclusive fora de estrada.
- (B) Veículo destinado ao transporte de carga, podendo transportar dois passageiros, exclusive o condutor.
- (C) Combinação de veículos acoplados, sendo um deles automotor.
- (D) Veículo a motor de propulsão a combustão, elétrica ou híbrida que circula por seus próprios meios e que serve normalmente para o transporte viário de pessoas e coisas ou para a tração viária de veículos utilizados para o transporte de pessoas e coisas, compreendidos na definição os veículos conectados a uma linha elétrica e que não circulam sobre trilhos (ônibus elétrico).
- (E) Veículo fabricado há mais de 30 (trinta) anos, original ou modificado, que possui valor histórico próprio.

**38) Aquela via caracterizada por interseções em nível, geralmente controlada por semáforo, com acessibilidade aos lotes lindeiros e às vias secundárias e locais, possibilitando o trânsito entre as regiões da cidade. Recebe a definição de:**





- (A) VIA COLETORA.
- (B) VIA LOCAL.
- (C) VIA DE TRÂNSITO RÁPIDO.
- (D) VIA ARTERIAL.
- (E) VIA RURAL.

**39) CTB – Código de Trânsito Brasileiro; qual a definição de TRAILER?**

- (A) Veículo misto caracterizado pela versatilidade do seu uso, inclusive fora de estrada.
- (B) Combinação de veículos acoplados, sendo um deles automotor.
- (C) Veículo a motor de propulsão a combustão, elétrica ou híbrida que circula por seus próprios meios e que serve normalmente para o transporte viário de pessoas e coisas ou para a tração viária de veículos utilizados para o transporte de pessoas e coisas, compreendidos na definição os veículos conectados a uma linha elétrica e que não circulam sobre trilhos (ônibus elétrico).
- (D) Reboque ou semi-reboque tipo casa, com duas, quatro, ou seis rodas, acoplado ou adaptado à traseira de automóvel ou camionete, utilizado em geral em atividades turísticas como alojamento, ou para atividades comerciais.

(E) Veículo de passageiro, de carga, de tração, de coleção ou misto que possui características diferenciadas para realização de função especial para a qual são necessários arranjos específicos da carroceria e/ou equipamento.

**40) Qual dos seguintes símbolos indica que haverá uma saliência à frente?**

- (A) 
- (B) 
- (C) 
- (D) 
- (E) 