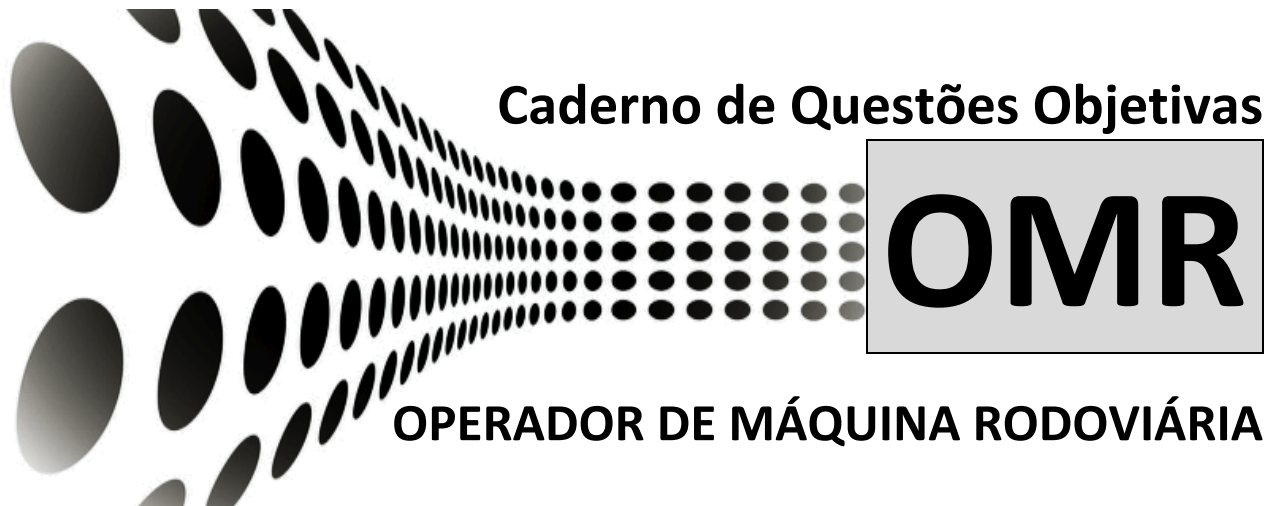





PREFEITURA MUNICIPAL DE BOM SUCESSO DO SUL
Estado do Paraná



CONCURSO PÚBLICO 01/2024 - EDITAL 01.001/2024
DATA DA PROVA: 12/05/2024 - PERÍODO: TARDE



Seu nome completo



INSTRUÇÕES:

As páginas deste caderno estão numeradas e contêm 40 (quarenta) questões com 05 (cinco) alternativas (a,b,c,d,e) cada questão.

O candidato não poderá levar o Caderno de Provas de Múltipla Escolha, devendo ao final da prova devolver o mesmo ao fiscal de sala juntamente com a **FOLHA DE RESPOSTAS** (Gabarito).

O candidato poderá levar a folha de rascunho com as marcações da **FOLHA DE RESPOSTAS**, conforme especificado abaixo.

ATENÇÃO:

1. Verifique se as páginas deste caderno estão corretas.
2. Verifique na **FOLHA DE RESPOSTAS** se o seu nome, nº do documento e o cargo para o qual concorre estão corretos.
3. Observe as recomendações impressas na **FOLHA DE RESPOSTAS**.
4. Leia atentamente cada questão e assinale na **FOLHA DE RESPOSTAS** a opção que a responde corretamente.
5. Se você precisar de algum esclarecimento consulte o fiscal.
6. Você dispõe de 4 (quatro) horas para fazer a prova, inclusive o preenchimento da **FOLHA DE RESPOSTAS**. Faça-a com tranquilidade, mas **CONTROLE O TEMPO**.

Candidato(a), anote as suas respostas abaixo e destaque na linha pontilhada.

01	02	03	04	05	06	07	08	09	10	11	12	13	14	15	16	17	18	19	20
21	22	23	24	25	26	27	28	29	30	31	32	33	34	35	36	37	38	39	40

Questões de Língua Portuguesa

01) É correto afirmar ser uma palavra escrita de forma correta:

- a) Metereologia.
- b) Previlégio.
- c) Digladiar.
- d) Célebro.
- e) Entertido.

02) Assinale a alternativa que contém a frase com a ortografia correta:

- a) Não há possibilidade de ascensão nesta empresa.
- b) Não sei se tenho geito para esse trabalho.
- c) Você viu o meu cazaco beje por aí?
- d) Eu sempre quiz ser profesora.
- e) Você está proibido de xingar as pessoas.

03) Podemos afirmar ser uma palavra escrita de forma correta:

- a) Paralizado.
- b) Licensa.
- c) Mexer.
- d) Descanço.
- e) Encomodar.

04) Assinale a frase que contém erro ortográfico:

- a) O asterisco indica que há uma nota de rodapé.
- b) Está tudo bem, não tivemos que lidar com nenhum impecilho.
- c) Minha avó está organizando um jantar beneficente.
- d) Iremos reivindicar nossos direitos até sermos ouvidos.
- e) Os lutadores vão digladiar na arena.

05) Assinale a alternativa que contém a palavra dividida silabicamente de forma INCORRETA:

- a) g - no - mo.
- b) as - sas - si - no.
- c) cres - cer.
- d) nas - ceu.
- e) ba - lai - o.

06) Acerca da classificação das palavras quanto ao número de sílabas, é um exemplo de palavra polissílaba:

- a) Santo.
- b) Balão.
- c) Hóspede.
- d) Literatura.
- e) Flor.

07) Assinale a alternativa onde há a divisão silábica correta:

- a) Ca - rro - ça.
- b) Cade - ado.
- c) Br - uto.
- d) Olh - o.
- e) Blu - sas.

08) Podemos afirmar ser uma palavra acentuada graficamente de forma correta:

- a) Bacurí.
- b) Jururú.
- c) Lençól.
- d) Xeróx.
- e) Porém.

09) Assinale a alternativa que contém uma frase com a acentuação gráfica correta:

- a) Aos 2 anos de idade, ela já era órfam.
- b) O glúten pode ser o vilão para alguns, o alimento para outros.
- c) No abdómen, o centro de força e equilíbrio do corpo.
- d) A bênção da amizade iluminou seus dias mais sombrios.
- e) O eletrón, partícula minúscula, molda a matéria e energia.

10) Podemos afirmar ser a flexão de gênero correta dos substantivos abaixo, EXCETO:

- a) juiz - juíza.
- b) poeta - poetisa.
- c) cidadão - cidadoa.
- d) zangão - abelha.
- e) gato - gata.

Questões de Matemática

11) Analise a expressão abaixo e assinale a alternativa que contém o resultado correto:

$$5 \times 8 + 8 - 3$$

- a) 38.
- b) 40.
- c) 45.
- d) 27.
- e) 22.

12) Igor comprou um carro por R\$40.000,00. Após 5 anos de uso, seu carro sofreu uma desvalorização de 15%. Nesse sentido, podemos afirmar que atualmente o carro vale:

- a) R\$34.000,00.
- b) R\$36.000,00.
- c) R\$30.000,00.
- d) R\$32.000,00.
- e) R\$28.000,00.

13) É correto dizer que 70 quilômetros equivalem a:

- a) 70 metros.
- b) 700 metros.
- c) 7.000 metros.
- d) 70.000 metros.
- e) 70.000 centímetros.

14) Podemos afirmar que o perímetro de um pentágono que possui 50 centímetros em cada lado corresponde a:

- a) 500 centímetros.
- b) 150 centímetros.
- c) 125 centímetros.
- d) 225 centímetros.
- e) 250 centímetros.

15) Analise a expressão abaixo e assinale a alternativa que contém o resultado correto:

$$80 + 45 - 79 - 26$$

- a) 20.
- b) 29.
- c) 38.
- d) 47.
- e) 56.

Questões de Conhecimentos Gerais

16) Região brasileira que concentra a maior parte da população e que tem uma das maiores participações na economia nacional:

- a) Região Norte.
- b) Região Sudeste.
- c) Região Centro-Oeste.
- d) Região Sul.
- e) Região Nordeste.

17) Nome do rio brasileiro, no qual, ocorreu a transposição de suas águas para minimizar impactos da seca na região:

- a) Amazonas.
- b) Araguaia.
- c) Jequitinhonha.
- d) São Francisco.
- e) Paraná.

18) O ciclo da água está diretamente ligado ao clima. Assim, mudanças no clima que alterem o regime de chuvas podem provocar o aumento da ocorrência de eventos climáticos extremos, como:

I - Inundações.

II - Secas.

III - Aumento da biodiversidade.

Estão corretas as afirmativas:

- a) III, apenas.
- b) II e III, apenas.
- c) I e II, apenas.
- d) II, apenas.
- e) I e III, apenas.

19) O turismo é capaz de difundir a cultura, mostrar as belezas naturais e movimentar a economia de um determinado local.

Neste sentido, o turismo é considerado um/uma:

- a) Prática solidária.
- b) Evento cultural.
- c) Ação religiosa.
- d) Atividade econômica.
- e) Demonstração afetiva.

20) O Município de Bom Sucesso do Sul foi desmembrado de qual Município?

- a) Pato Branco.
- b) Francisco Beltrão.
- c) Cantagalo.
- d) Verê.
- e) Coronel Vivida.

Questões de Conhecimento Específico

21) Pelo Código de Trânsito Brasileiro, na via pública classificada como estrada, um veículo pode ser conduzido em uma velocidade máxima de:

- a) 40 km/h.
- b) 60 km/h.
- c) 80 km/h.
- d) 90 km/h.
- e) 110 km/h.

22) De acordo com o disposto no Código de Trânsito Brasileiro, assinale a alternativa cuja afirmação não é verdadeira:

- a) O trânsito de veículos nas vias terrestres abertas à circulação far-se-á pelo lado direito da via, admitindo-se as exceções devidamente sinalizadas.
- b) Os veículos precedidos de batedores terão prioridade de passagem, respeitadas as demais normas de circulação.
- c) A velocidade mínima não poderá ser inferior à metade da velocidade máxima estabelecida, respeitadas as condições operacionais de trânsito e da via.
- d) O trator de roda ou de esteira são classificados como veículos especiais.
- e) Uma via arterial é aquela caracterizada por interseções em nível, geralmente controlada por semáforo, com acessibilidade aos lotes lindeiros e às vias secundárias e locais, possibilitando o trânsito entre as regiões da cidade.

23) Respeitada a capacidade máxima de tração da unidade tratora, os condutores das categorias B, C e D podem conduzir combinação de veículos cuja unidade tratora se enquadre na respectiva categoria de habilitação e cuja unidade acoplada, reboque, semirreboque, trailer ou articulada tenha menos de:

- a) 6.000 kg (seis mil quilogramas) de peso bruto total, e cuja lotação não exceda a 8 (oito) lugares.

b) 8.000 kg (oito mil quilogramas) de peso bruto total, e cuja lotação não exceda a 8 (oito) lugares.

c) 6.000 kg (seis mil quilogramas) de peso bruto total, e cuja lotação não exceda a 10 (dez) lugares.

d) 8.000 kg (oito mil quilogramas) de peso bruto total, e cuja lotação não exceda a 10 (dez) lugares.

e) 9.000 kg (nove mil quilogramas) de peso bruto total, e cuja lotação não exceda a 8 (oito) lugares.

24) Para a obtenção e a renovação da Carteira Nacional de Habilitação, os condutores das categorias C, D e E deverão comprovar:

- a) Antecedentes criminais negativo.
- b) Resultado negativo de doenças transmissíveis.
- c) Certidão negativa de débitos com o Estado.
- d) Resultado negativo em exame toxicológico.
- e) Atualização do cartão de vacinação.

25) Dirigir sob a influência de álcool ou de qualquer outra substância psicoativa que determine dependência, implica em:

- a) Multa (cinco vezes) e suspensão do direito de dirigir por 06 (seis) meses.
- b) Multa (dez vezes) e suspensão do direito de dirigir por 06 (seis) meses.
- c) Multa (dez vezes) e suspensão do direito de dirigir por 12 (doze) meses.
- d) Multa (vinte vezes) e suspensão do direito de dirigir por 06 (seis) meses.
- e) Multa (vinte vezes) e suspensão do direito de dirigir por 12 (doze) meses.

26) Assinale a alternativa que se refere ao órgão máximo normativo e consultivo do Sistema Nacional de Trânsito, responsável por elaborar as diretrizes da Política Nacional de Trânsito e coordenar todos os órgãos do Sistema Nacional de Trânsito:

- a) DETRAN.
- b) DNIT.
- c) DER.
- d) SENATRAN.
- e) CONTRAN.

27) Não é um dos órgãos que compõe o Sistema Nacional de Trânsito:

- a) Polícia Civil.
- b) DER.
- c) Polícia Militar.
- d) JARI.
- e) Polícia Rodoviária Federal.

28) É classificado como uma infração gravíssima, fazer ou deixar que se faça reparo em veículo na via pública, salvo nos casos de impedimento absoluto de sua remoção e em que o veículo esteja devidamente sinalizado, na seguinte situação:

- a) Nos acostamentos, salvo motivo de força maior.
- b) Na pista de rolamento das estradas, das rodovias, das vias de trânsito rápido e das vias dotadas de acostamento.
- c) Impedindo a movimentação de outro veículo.
- d) Ao lado de outro veículo em fila dupla.
- e) Na área de cruzamento de vias, prejudicando a circulação de veículos e pedestres.

29) A sinalização especial de advertência traseira para veículos de sinalização de tratores deve ser de material retrorefletivo nas seguintes cores:

- a) Preta e branca.
- b) Vermelha e branca.
- c) Branca e laranja.
- d) Laranja e vermelha.
- e) Preta e vermelha.

30) Para caminhões-trator a legislação de trânsito, prevê, dentre outros, o seguinte equipamento obrigatório:

- a) Para-choque traseiro.
- b) Saídas de emergência.
- c) Dispositivo protetor de escapamento.
- d) Protetores das rodas.
- e) Lavador de para-brisa.

31) O operador deve conhecer e estar atento aos indicadores e medidores do painel durante a operação de uma máquina. A simbologia abaixo sinaliza:



- a) Temperatura do óleo hidráulico.
- b) Nível do óleo da transmissão.
- c) Filtro do óleo do motor.
- d) Pressão do filtro do óleo hidráulico.
- e) Nível do óleo hidráulico.

32) A Unidade de Tração (Trator) é a máquina básica de terraplenagem, pois todos os equipamentos à disposição para executá-la são tratores devidamente modificados ou adaptados para realizar as operações básicas de terraplenagem. A flutuação de uma máquina por ser assim caracterizada:

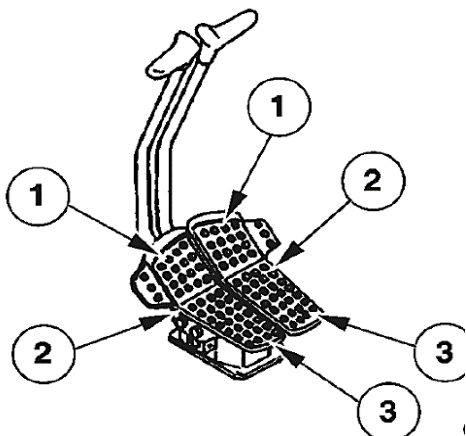
- a) É a velocidade de deslocamento da máquina, que depende, sobretudo, do dispositivo de montagem, sobre esteiras ou sobre rodas.
- b) Refere-se à a força que o trator possui na barra de tração (no caso de esteiras) ou nas rodas motrizes (no caso de tratores de rodas) para executar as funções de rebocar ou de empurrar outros equipamentos ou implementos.
- c) É a maior ou menor capacidade do trator de deslocar-se sobre os diversos terrenos ou superfícies revestidas, sem haver a patinagem da esteira (ou dos pneus) sobre o solo (ou revestimento) que o suporta.
- d) Permite ao trator deslocar-se sobre terrenos de baixa capacidade de suporte, sem haver o afundamento excessivo da esteira, ou dos pneus, na superfície que o sustêm.
- e) É a qualidade que deve possuir o trator, proveniente de uma boa distribuição de massas e de um centro de gravidade a pequena altura do chão, dando-lhe boas condições de equilíbrio, sob as mais variadas condições de trabalho.

33) Geralmente, as atividades de terraplanagem atendem a setores de infraestrutura de ferrovias, estradas, aeroportos, e para demandas pontuais do agronegócio. As motoniveladoras são capazes de:

- a) Retirar raízes de árvores.
- b) Preenchimento de irregularidades.
- c) Construir curvas de nível.

- d) Valetamento e criação de rotas de escoamento.
- e) Efetuar escavação superficial.

34) A movimentação da escavadeira pode ser realizada, através da utilização dos pedais e/ou alavancas. A decisão será tomada conforme operação a ser realizada. Considerando a imagem abaixo, ao pressionar a área (1) do pedal esquerdo e, simultaneamente, com a área (3) do pedal direito, ocorre:



- a) Rotação horária.
- b) Rotação à direita.
- c) Rotação anti-horária.
- d) Rotação à esquerda.
- e) Rotação travada.

35) O trator de esteira ou de pneus, que é a máquina básica da terraplenagem, pode receber a adaptação de um implemento que o transforma numa unidade capaz de escavar e empurrar a terra, chamando-se por isso, unidade escavo-empurradora. A lâmina angulável "A" pode ser posicionada em linha reta ou a um ângulo de:

- a) 15°.
- b) 25°.
- c) 30°.
- d) 35°.
- e) 45°.

36) Para os tratores destinados a puxar ou arrastar maquinaria de qualquer natureza ou a executar trabalhos agrícolas e de construção, de pavimentação ou guindastes (máquinas de elevação), a largura máxima permitida é de:

- a) 2,40 m.
- b) 2,60 m.
- c) 2,80 m.

- d) 3,00 m.
- e) 3,20 m.

37) A placa de trânsito abaixo sinaliza:



- a) Área com Desmoronamento.
- b) Pista escorregadia.
- c) Depressão.
- d) Pista irregular.
- e) Projeção de cascalho.

38) Assinale a alternativa incorreta no que diz respeito ao deslocamento da escavadeira hidráulica em rampa:

- a) Quando subir ou descer uma rampa deve-se manter as esteiras alinhadas no sentido da inclinação.
- b) Virar em uma rampa poderá causar o capotamento da máquina.
- c) Ao deslocar-se em subida ou descida manter a caçamba na direção do movimento à cerca de 20-30 cm do chão.
- d) Antes de ligar a máquina certifique-se do sentido que deverão ser movimentadas as alavancas / pedais de comando da translação em função do sentido em que se pretende andar.
- e) Se a máquina começar a escorregar ou se tornar instável, deve-se levantar imediatamente a caçamba.

39) Ao operar uma escavadeira hidráulica, para que a força máxima de desprendimento com a caçamba possa ser exercida, a borda cortante da caçamba em relação ao solo, deverá ser posicionada a um ângulo de:

- a) 60 graus.
- b) 80 graus.
- c) 100 graus.
- d) 120 graus.
- e) 150 graus.

40) Considere as afirmações abaixo a respeito do trator de esteira e em seguida assinale alternativa que indica quais são as verdadeiras:

I - Quando a lâmina está inclinada em relação ao eixo longitudinal do trator formando ângulos diferentes de 90°, denomina-se “Angle-dozer”.

II - Todas as lâminas podem ser levantadas e abaixadas, de modo que a profundidade de corte passa a ser regulada pelo operador. As placas de empuxo são acessórios apropriados para empurrar os motor-scrapers convencionais nas operações de carregamento nos cortes.

III - Quando a lâmina se mantém sempre na posição perpendicular ao eixo longitudinal do trator, se denomina “tilt-dozer”, quando a lâmina se mantém na posição perpendicular ao eixo longitudinal do trator, mas se movimenta em relação a um eixo horizontal, ficando com uma extremidade mais baixa que a outra, denomina-se “bull-dozer”.

- a) Somente as afirmações I e II são verdadeiras.
- b) Somente as afirmações I e III são verdadeiras.
- c) Somente as afirmações II e III são verdadeiras.
- d) As afirmações I, II e III são verdadeiras.
- e) As afirmações I, II e III não são verdadeiras.