



PREFEITURA MUNICIPAL DE IGUAÇU

Estado do Paraná

CONCURSO PÚBLICO – EDITAL 001/2024

05/05/2024



Caderno de Questões Objetivas


SVL

SERVENTE DE LIMPEZA

T

TARDE

Seu nome _____



LEIA COM ATENÇÃO

As páginas deste caderno estão numeradas; verifique imediatamente se não há folha faltando.

O candidato somente poderá levar o Caderno de Questões depois de decorridos 90 (noventa) minutos do início da prova escrita.

INSTRUÇÕES

1. Ao receber a **FOLHA DE RESPOSTA**, verifique se o seu nome, nº do documento e o cargo para o qual concorre estão corretos e peça para anotar na ATA qualquer irregularidade.
2. Observe as recomendações impressas na **FOLHA DE RESPOSTA**.
3. Leia atentamente cada questão e assinale na **FOLHA DE RESPOSTA** a opção que a responde corretamente.
4. Você deverá assinar a **FOLHA DE RESPOSTA** e também escrever com sua letra usual uma frase que lhe será apresentada.
5. Se você precisar de algum esclarecimento, consulte o fiscal de sala.
6. O tempo total de prova também inclui o preenchimento da **FOLHA DE RESPOSTA**. Faça sua prova com tranquilidade, mas **CONTROLE O TEMPO**.

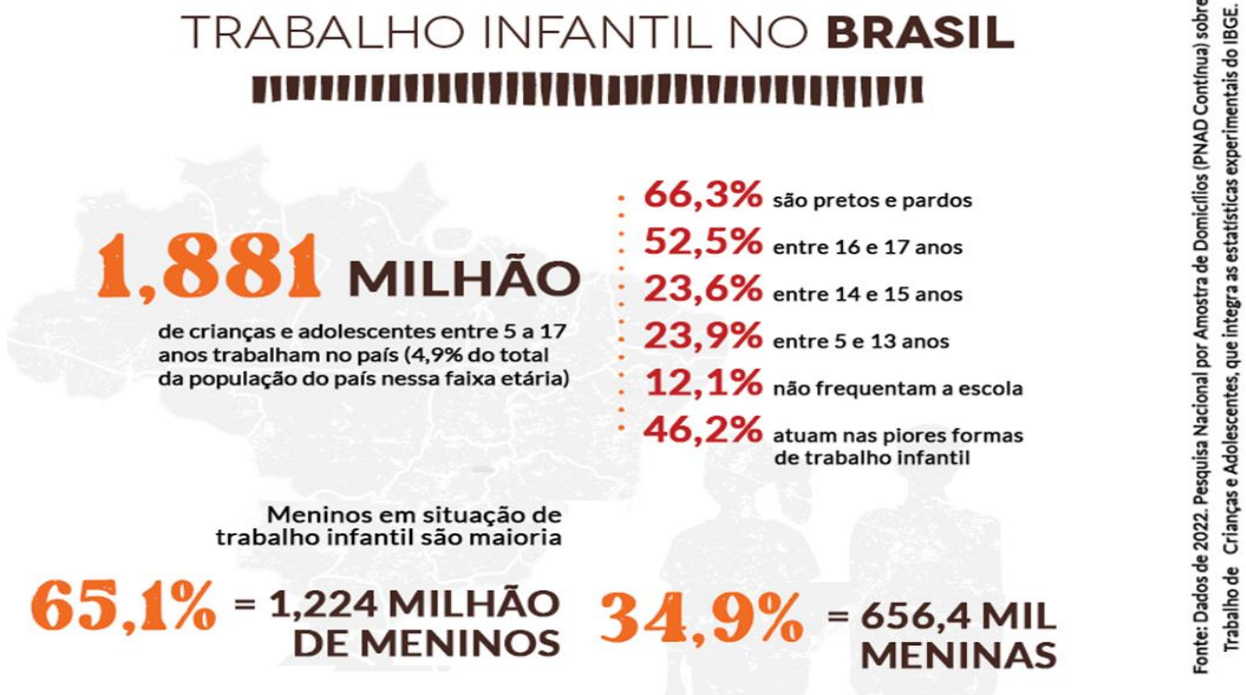


Printed in Brazil

www.institutounivida.org.br

LÍNGUA PORTUGUESA

Imagem e texto para as questões seguintes



O trabalho infantil no Brasil se define por toda atividade de trabalho econômico desenvolvida por pessoas com idade inferior a 16 anos, seja ele remunerado ou não.

As atividades mais comuns são o trabalho doméstico, agricultura, construção civil, lixões e tráfico de drogas.

O uso da mão de obra infantil no Brasil tem como objetivo o lucro, pois as crianças costumam ganhar menos que os adultos.

No entanto, existe a questão cultural e histórica, expressa em bordões antigos, porém ainda hoje utilizados, como: "trabalho de criança é pouco, mas quem dispensa é louco".

O trabalho infantil está presente no imaginário popular brasileiro. Afinal, o filho de uma pessoa escrava já nascia nesta condição. Por isso, nos acostumamos a pensar que uma criança pode exercer um trabalho, por mais pesado que seja.

Outra ideia muito estendida é a que aponta o trabalho como alternativa para evitar que crianças e adolescentes ingressem no mundo do crime.

A solução, contudo, é a oferta de educação no modelo integral, assistência médica

preventiva e curativa e, ainda, acesso ao lazer e atividades culturais.

Os estados das regiões do Sul e Sudeste, os mais ricos do país, são os líderes na exploração do trabalho infantil, conforme os dados do IBGE.

Mas como combater o trabalho infantil?

O Brasil foi o pioneiro na elaboração da lista denominada TIP (Trabalho Infantil Proibido), onde constam as piores formas de exploração do trabalho infantil.

São elas: a agricultura, a exploração florestal, a pesca, a indústria extrativista, a indústria do fumo, a indústria da construção civil, o trabalho infantil doméstico.

A proteção ocorre porque a criança e o adolescente ainda são pessoas em formação e não devem ser submetidas a atividades que limitem seu desenvolvimento pleno. O trabalho, além de limitar o crescimento infantil, impede o acesso à educação e a redução das diferenças sociais.

Adaptado de:
<https://www.todamateria.com.br/trabalho-infantil-no-brasil/>

01) De acordo com o texto, qual é a definição de trabalho infantil no Brasil?

- A) Atividades econômicas desenvolvidas por pessoas com idade inferior a 18 anos.
- B) Trabalho realizado exclusivamente em áreas urbanas por crianças.
- C) Apenas atividades não remuneradas realizadas por menores de 16 anos.
- D) Atividades econômicas desenvolvidas por pessoas com idade inferior a 16 anos, remuneradas ou não.

02) Qual das alternativas abaixo NÃO é mencionada no texto como uma das piores formas de exploração do trabalho infantil incluídas na lista TIP (Trabalho Infantil Proibido)?

- A) Agricultura
- B) Exploração florestal
- C) Pesca
- D) Trabalho em tecnologia da informação

03) No texto, a palavra “país” é acentuada porque é:

- A) Uma proparoxítona.
- B) Uma palavra com hiato.
- C) Uma oxítone terminada em “s”.
- D) Um monossílabo tônico.

04) Qual é a correta divisão de sílabas da palavra “imaginário” conforme aparece no texto?

- A) i-mag-i-ná-rio
- B) im-a-gi-ná-rio
- C) i-ma-gi-ná-rio
- D) ima-gin-á-rio

05) Assinale a opção que apresenta a divisão silábica INCORRETA de uma palavra utilizada no texto.

- A) tra-ba-lho
- B) ex-plo-ra-ção
- C) agrí-co-la
- D) his-tó-ri-ca

06) No trecho “A solução, contudo, é a oferta de educação no modelo integral”, a palavra “integral” pode ser substituída por qual dos seguintes sinônimos sem mudar o significado proposto pelo autor?

- A) Parcial
- B) Completo
- C) Fragmentado
- D) Limitado

07) No trecho “O uso da mão de obra infantil no Brasil tem como objetivo o lucro”, as palavras “uso” e “lucro” são, respectivamente:

- A) Feminina e feminina
- B) Masculina e masculina
- C) Feminina e masculina
- D) Masculina e feminina

08) No trecho “Os estados das regiões do Sul e Sudeste, os mais ricos do país, são os líderes na exploração do trabalho infantil”, a palavra “estados” está empregada no:

- A) Singular
- B) Plural
- C) Singular e plural
- D) Plural e singular

09) Assinale a alternativa que apresenta um ERRO no emprego do plural:

- A) As atividades mais comuns são o trabalho doméstico, agricultura, construção civil, lixões e tráfico de drogas.
- B) A proteção ocorre porque a criança e o adolescente ainda são pessoas em formação.
- C) Os estados das regiões do Sul e Sudeste são os líderes na exploração do trabalho infantil.
- D) O povo brasileiro são pioneiros na elaboração da lista denominada TIP.

10) Qual das seguintes palavras está escrita INCORRETAMENTE conforme a ortografia oficial da língua portuguesa?

- A) Trabalho
- B) Lucro
- C) Adolescente
- D) Assistência

11) Assinale a alternativa que apresenta um ERRO ortográfico:

- A) A palavra “remunerado” está corretamente escrita.
- B) A palavra “agricultura” está corretamente escrita.
- C) A palavra “tráfego” de drogas está corretamente escrita.
- D) A palavra “prevenção” está corretamente escrita.

12) No contexto do texto, a palavra “remunerado” significa:

- A) Que recebe um pagamento por um serviço ou trabalho realizado.
- B) Que trabalha voluntariamente, sem receber pagamento.

- C) Que é obrigado a trabalhar contra a sua vontade.
- D) Que trabalha sob condições ideais.

13) De acordo com o texto, o termo “integral” utilizado na expressão “educação no modelo integral” mais se aproxima do significado de:

- A) Parcial
- B) Fragmentado
- C) Completo
- D) Dividido

14) No trecho “O trabalho infantil está presente no imaginário popular brasileiro”, o pronome pessoal adequado para substituir “O trabalho infantil” mantendo a coesão textual seria:

- A) Ele
- B) Ela
- C) Eles
- D) Elas
- E) Nós

15) Considerando a frase “Por isso, nos acostumamos a pensar que uma criança pode exercer um trabalho”, o pronome pessoal “nos” refere-se a quem no contexto do texto?

- A) Às crianças
- B) Aos adolescentes
- C) Aos adultos
- D) Ao povo brasileiro

MATEMÁTICARASCUNHO ↓

16) Organizadores de um evento esportivo precisa distribuir 12.800 ingressos para cinco setores de um estádio. Eles querem garantir que cada setor receba o mesmo número de ingressos. Qual é o número de ingressos que cada setor receberá?

- A) 2.560 ingressos
- B) 1.540 ingressos
- C) 2.950 ingressos
- D) 3.200 ingressos

17) Uma pessoa foi a uma papelaria e comprou 2 pacotes de canetas por R\$ 3,45 cada, 1 bloco de notas por R\$ 7,50 e 0,6 metros de fita adesiva por R\$ 8,50 o metro. Para pagar por essa compra, ela utilizou uma nota de 50 reais. Quanto ela recebeu de troco?

- A) R\$ 26,40
- B) R\$ 19,50
- C) R\$ 30,50
- D) R\$ 27,10

18) Em uma fábrica de brinquedos, foram produzidos 6.250 bonecos, 8.750 carrinhos, 9.500 bolas e 12.850 bonecas em um mês. Se a fábrica vendeu 22.450 brinquedos no total no mesmo período, quantos brinquedos sobraram no estoque?

- A) 37.350 brinquedos
- B) 14.900 brinquedos
- C) 25.250 brinquedos
- D) 15.320 brinquedos

19) Durante um evento de música em um parque da cidade, um grupo se apresentou no palco principal. Quando a apresentação terminou, o relógio na torre da igreja próxima marcava o horário indicado abaixo.



Se a apresentação do grupo teve duração de 1 hora e 45 minutos, em que horário o evento iniciou?

- A) 18 h e 30 minutos
- B) 17 h
- C) 17 h e 40 minutos
- D) 18 h 50 minutos

20) Em uma fábrica de móveis, uma mesa de formato retangular foi projetada com 1,2 metros de comprimento e 0,8 metros de largura. O fabricante deseja colocar uma borda decorativa ao redor da mesa para realçar seu design. Qual é o perímetro total da borda decorativa que será adicionada à mesa?

- A) 2 metros
- B) 3 metros
- C) 4 metros
- D) 5 metros

21) Carlos é chef de cozinha e está preparando uma marinada especial para um churrasco. Ele precisa usar uma mistura de temperos na proporção de 100 gramas para cada 0,5 litros de água. Se o chef usou um total de 800 gramas dessa mistura, quantos litros de água ele utilizou?

- A) 3 litros
- B) 4 litros
- C) 5 litros
- D) 6 litros

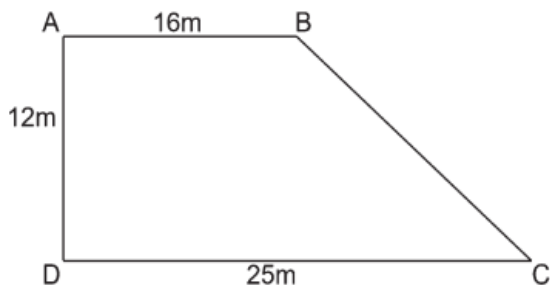
22) Um grupo de amigos estão organizando uma viagem. Eles têm um orçamento total de R\$ 5000,00 para as despesas. Se eles gastarem $\frac{3}{8}$ desse orçamento com transporte, quanto terão disponível para outras despesas?

- A) R\$ 1.000,00
- B) R\$ 3.125,00
- C) R\$ 3.500,00
- D) R\$ 2.500,00

23) Jéssica trabalha em uma loja de informática como vendedora. No período de um mês, vendeu 15 computadores para um escritório. Cada computador custava R\$ 2500,00. Qual foi o valor obtido com as vendas dos computadores?

- A) R\$ 30.200,00
- B) R\$ 35.400,00
- C) R\$ 36.300,00
- D) R\$ 37.500,00

24) Com o objetivo de promover o desenvolvimento urbano, uma empresa imobiliária está planejando a construção de novo espaço de eventos em uma área urbana. O terreno disponível tem a forma de um trapézio retângulo, como mostrado na figura abaixo:



Qual será a área total desse espaço de evento? (Considere a área do trapézio

por: $A = \frac{(B+b) \cdot h}{2}$)

- A) 246 m²
- B) 250 m²
- C) 300 m².
- D) 492 m²

25) Na feira de ciências de uma escola, 200 projetos foram apresentados por estudantes de várias escolas. Ao final do evento, os organizadores decidiram premiar os 15% melhores projetos com certificados de reconhecimento. Quantos projetos foram premiados?

- A) 20 projetos
- B) 25 projetos
- C) 30 projetos
- D) 35 projetos

26) Em uma creche, é necessário distribuir leite para crianças durante o lanche da tarde. Se o recipiente contém 8 litros de leite e cada criança precisa de 200 ml de leite, quantas crianças podem ser atendidas com a quantidade total de leite disponível?

- A) 30 crianças
- B) 40 crianças
- C) 50 crianças
- D) 60 crianças

27) Se a população de uma cidade diminuiu 8% de um ano para o outro, e a população original era de 500.000 habitantes, qual é a nova população?

- A) 40.000 habitantes
- B) 400.000 habitantes
- C) 460.000 habitantes
- D) 540.000 habitantes

28) Em uma turma de alunos, foi observado que $\frac{3}{12}$ dos alunos gostam de Matemática, $\frac{2}{12}$ gostam de Ciências, $\frac{4}{12}$ gostam de História e $\frac{1}{12}$ gostam de Geografia. Qual fração representa o total de alunos que foram observados?

- A) $\frac{10}{24}$
- B) $\frac{5}{12}$
- C) $\frac{10}{48}$
- D) $\frac{5}{6}$

29) Flávio costuma percorrer uma distância diária de 10 km e gasta 50 minutos. Certo dia, devido a uma rua fechada, ele precisou fazer um desvio que aumentou a distância em 3 km. Considerando a situação apresentada, qual será, aproximadamente, o tempo gasto por ele?

- A) 1h e 05 minutos
- B) 55 minutos
- C) 1 hora
- D) 1h e 15 minutos

30) Um investidor aplicou R\$ 6.500,00 em um fundo de investimento que oferece uma taxa de juros simples de 4% ao mês. Após cinco meses, qual será o valor total acumulado na conta do investidor, incluindo os juros?

- A) R\$ 1.300,00
- B) R\$ 7.500,00
- C) R\$ 7.800,00
- D) R\$ 8.250,00



Printed in Brazil

www.institutounivida.org.br