



**PROVA OBJETIVA**  
**TÉCNICO EM GESTÃO ADMINISTRATIVA E SERVIÇOS - TÉCNICO ORÇAMENTÁRIO**

NOME: \_\_\_\_\_  
Nº INSCR. \_\_\_\_\_

**INSTRUÇÕES**

- 1- Preencha com caneta esferográfica de tinta azul ou preta, fabricada de material transparente, de maneira legível, os dados de **IDENTIFICAÇÃO** solicitados no Caderno de Prova (Nome Completo e Número de Inscrição) e assine no Cartão Resposta.
- 2- Verifique se a sequência da numeração das folhas do Caderno de Prova está correta (16 páginas). **Após a orientação do fiscal sobre a conferência da prova, este não será substituído sob qualquer alegação.**
- 3- **A PROVA OBJETIVA contém 50 ( cinquenta) questões objetivas, com 04 (quatro) alternativas (A, B, C e D), valendo 2,00 (dois) pontos cada, devendo o candidato obter no mínimo 60% de acerto para ser aprovado.**
- 4- No Cartão Resposta, as questões estão representadas pelos seus respectivos números. Preencha, **FORTEMENTE**, com caneta esferográfica (tinta azul ou preta), toda a opção de sua escolha, sem ultrapassar as bordas. Conforme modelo abaixo.

Exemplo: Questão 01 - A



- 5- **O Cartão Resposta será o único documento válido para correção e NÃO será substituído em hipótese alguma, salvo se detectado erro ocasionado pela coordenação do Concurso.**
- 6- **NÃO RASURE** o Cartão Resposta e **NÃO MARQUE MAIS DE UMA ALTERNATIVA**, caso contrário, o cartão ou a questão poderão ser **ANULADOS**. Evite deixar questões sem respostas.
- 7- Para o correto preenchimento do Cartão Resposta aguarde a orientação do fiscal.
- 8- Não faça perguntas aos examinadores, a interpretação das questões faz parte da Prova.
- 9- No decorrer da Prova não será permitida qualquer espécie de consulta bem como qualquer comunicação externa e interna e entre os candidatos.
- 10- A Prova terá duração de **03 (três) horas** e ao terminá-la entregue ao fiscal o Caderno de Prova completo, juntamente com o Cartão Resposta.
- 11- A saída da sala só poderá ocorrer depois de decorrida 01 (uma) hora de início da Prova. A não observância desta exigência acarretará a exclusão do Concurso.
- 12- O candidato que permanecer na sala de prova até 01 (uma) hora antes de seu término, poderá levar consigo o Caderno de Prova.
- 13- O gabarito será publicado no dia **21/05/2024**, e a Classificação Final a partir do dia **15/06/2024** no Diário Oficial de Bauru.

01		26	
02		27	
03		28	
04		29	
05		30	
06		31	
07		32	
08		33	
09		34	
10		35	
11		36	
12		37	
13		38	
14		39	
15		40	
16		41	
17		42	
18		43	
19		44	
20		45	
21		46	
22		47	
23		48	
24		49	
25		50	



**PREFEITURA MUNICIPAL DE BAURU**  
*Secretaria Municipal de Administração*  
*Departamento de Recursos Humanos*



Prefeitura Municipal de Bauru

**Concurso Público para o Cargo de Técnico em Gestão Administrativa e Serviços –  
TÉCNICO ORÇAMENTÁRIO**

**CONHECIMENTOS ESPECÍFICOS**

**01)** Segundo a Lei Federal nº 4.320/64, os créditos adicionais classificam-se em:

- A) Suplementares, especiais e ordinários.
- B) Complementares, especiais e extraordinários.
- C) Suplementares, especiais e extraordinários.
- D) Complementares, especiais e ordinários.

**02)** O princípio orçamentário que diz respeito a não vinculação da receita de imposto, veda a vinculação de receitas de impostos, salvo se a despesa estiver relacionada a:

- A) Serviços públicos na área de assistência social e saúde.
- B) Serviços públicos nas áreas de esporte e cultura.
- C) Serviços públicos na área da saúde e manutenção e desenvolvimento do ensino.
- D) Serviços públicos na área da agricultura familiar.

**03)** Classificam-se como inversões financeiras as dotações destinadas a:

- A) Aquisição de imóveis, ou de bens de capital já em utilização.
- B) Execução de novas obras.
- C) Subvenções sociais a instituições públicas
- D) Manutenção dos serviços anteriormente criados.

**04)** São consideradas como etapas das receitas orçamentárias:

- A) Previsão, lançamento, arrecadação e recolhimento.
- B) Previsão, empenho, arrecadação e recolhimento.
- C) Previsão, lançamento, arrecadação e quitação.
- D) Previsão, empenho, arrecadação e quitação.

**05)** São exemplos de princípios orçamentários:

- A) Universalidade, unidade e anualidade.
- B) Maioridade, integralidade e unidade.
- C) Veracidade, periodicidade e integralidade.
- D) Autoridade, veracidade e anualidade.

**06)** O controle externo, a cargo do Congresso Nacional, será exercido com o auxílio do Tribunal de Contas da União, ao qual compete, entre os quais:



- A)** Apreciar as contas prestadas anualmente pelo Presidente da República, mediante parecer prévio que deverá ser elaborado em noventa dias a contar de seu recebimento.
- B)** Apreciar as contas prestadas anualmente pelo Presidente da República, mediante parecer prévio que deverá ser elaborado em sessenta dias a contar de seu recebimento.
- C)** Apreciar as contas prestadas anualmente pelo Presidente da República, mediante parecer prévio que deverá ser elaborado em trinta dias a contar de seu recebimento.
- D)** Apreciar as contas prestadas anualmente pelo Presidente da República, mediante parecer prévio que deverá ser elaborado em cento e vinte dias a contar de seu recebimento.

**07)** A destinação de recursos para, direta ou indiretamente, cobrir necessidades de pessoas físicas ou débitos de pessoas jurídicas deverá ser autorizada por:

- A)** Instrução normativa, atender as condições estabelecidas no Plano de governo e estar prevista no orçamento.
- B)** Lei específica, atender as condições estabelecidas na Lei de Diretrizes Orçamentárias e estar prevista no orçamento.
- C)** Lei específica, atender as condições estabelecidas no Plano de governo e estar prevista no orçamento.
- D)** Instrução normativa, atender as condições estabelecidas na Lei de Diretrizes Orçamentárias e estar prevista no orçamento.

**08)** Segundo a Lei Municipal de Bauru nº 7.707/2023, o repasse de recursos financeiros do Executivo para o Legislativo fará parte da programação financeira, devendo ocorrer na forma de duodécimos a serem pagos até:

- A)** o dia 20 (vinte) de cada mês.
- B)** o dia 25 de cada mês.
- C)** o dia 10 de cada mês.
- D)** o dia 5 de cada mês.

**09)** A Lei Federal nº 4.320/64 estabelece que a dívida flutuante compreende, salvo:

- A)** Os restos a pagar, excluídos os serviços da dívida.
- B)** Os serviços da dívida a pagar.
- C)** Os depósitos e débitos da tesouraria.
- D)** As despesas de custeios em geral.

**10)** São exemplos de receitas orçamentárias:

- A)** Depósitos em caução e impostos.
- B)** Fianças e taxas.
- C)** Impostos e taxas.
- D)** Fianças e depósitos em caução.

**11)** Os créditos suplementares e especiais serão autorizados por lei e abertos por:



- A) Instrução normativa.
- B) Portaria administrativa.
- C) Processo administrativo.
- D) Decreto executivo.

12) Entende-se por dívida pública fundada ou consolidada:

- A) Montante total, apurado sem duplicidade das obrigações financeiras do ente da federação assumidas em virtude de leis, contratos, convênios ou tratados e da realização de operações de créditos, para amortização em prazo superior a doze meses.
- B) Títulos com vencimento inferiores a doze meses.
- C) Todo valor assumido e não pago dentro do próprio exercício.
- D) Restos a pagar processados e não pagos.

13) Os créditos adicionais extraordinários são aqueles destinados a:

- A) Reforços de dotação orçamentária.
- B) Novas despesas para as quais não haja dotação orçamentária específica.
- C) Despesas urgentes e imprevistas, no caso de guerra, comoção intestina ou calamidade pública.
- D) Despesas para atendimento de necessidades pessoais urgentes do chefe do Poder do Executivo.

14) O exercício financeiro coincidirá com o ano civil, sendo que pertencem a este:

- A) As receitas nele arrecadadas e as despesas nele legalmente pagas.
- B) As receitas nele arrecadadas e as despesas nele legalmente liquidadas.
- C) As receitas nele lançadas e as despesas nele legalmente liquidadas.
- D) As receitas nele arrecadadas e as despesas nele legalmente empenhadas.

15) A Lei das Diretrizes Orçamentárias de 2024 do Município de Bauru prevê que a reserva de contingência será fixada em no máximo em 3,0%:

- A) Da Receita Total Orçamentária.
- B) Da Receita de Capital.
- C) Da Receita Corrente Bruta.
- D) Da receita Corrente Líquida.

16) Os créditos da Fazenda Pública exigíveis pelo transcurso do prazo para pagamento, após apurada a sua liquidez e certeza, serão inscritos como:

- A) Dívida Fundada.
- B) Dívida Ativa
- C) Dívida Líquida
- D) Dívida Flutuante.



**17)** Para os efeitos da Portaria nº 42 de 14 abril de 1999, entende-se por programa:

**A)** Um instrumento de programação para alcançar o objetivo de um programa, envolvendo um conjunto de operações, limitadas no tempo, das quais resulta um produto que concorre para a expansão ou o aperfeiçoamento da ação de governo.

**B)** O instrumento de organização da ação governamental visando à concretização dos objetivos pretendidos, sendo mensurado por indicadores estabelecidos no plano plurianual.

**C)** O instrumento de organização da ação governamental visando à concretização dos objetivos pretendidos, sendo mensurado por indicadores estabelecidos a Lei de Orçamento anual.

**D)** Um instrumento de programação para alcançar o objetivo de um programa, envolvendo um conjunto de operações, ilimitadas no tempo, das quais resulta um produto que concorre para a expansão ou o aperfeiçoamento da ação de governo.

**18)** Para efeito da Lei Complementar nº 101/00, entende-se por transferência voluntária:

**A)** A entrega de recursos correntes ou de capital a outro ente da federação, a título de cooperação, auxílio ou assistência financeira que não decorra de determinação constitucional, legal ou destinadas ao Sistema Único de Saúde.

**B)** A entrega de recursos exclusivamente correntes a outro ente da federação, a título de cooperação, auxílio ou assistência financeira que não decorra de determinação constitucional, legal ou destinadas ao Sistema Único de Saúde.

**C)** A entrega de recursos correntes ou de capital a outro ente da federação, a título de cooperação, auxílio ou assistência financeira que decorra de determinação constitucional, legal ou destinadas ao Sistema Único de Saúde.

**D)** A entrega de recursos exclusivos de capital a outro ente da federação, a título de cooperação, auxílio ou assistência financeira que não decorra de determinação constitucional, legal ou destinadas ao Sistema Único de Saúde.

**19)** Dentre as vedações do último ano de mandato do prefeito, é nulo de pleno direito:

**A)** O ato de que resulte aumento da despesa com pessoal nos 280 (duzentos e oitenta) dias anteriores ao final do mandato do titular.

**B)** O ato de que resulte aumento da despesa com pessoal nos 180 (cento e oitenta) dias anteriores ao final do mandato do titular.

**C)** O ato de que resulte aumento da despesa com pessoal nos 120 (cento e vinte) dias anteriores ao final do mandato do titular.

**D)** O ato de que resulte aumento da despesa com pessoal nos 150 (cento e cinquenta) dias anteriores ao final do mandato do titular.

**20)** A função “encargos especiais” engloba despesas tais como:

**A)** Salários dos servidores ativos.

**B)** Manutenção dos prédios escolares.

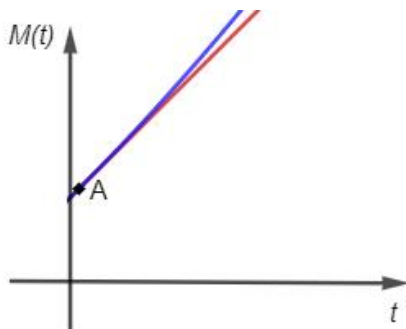
**C)** Dívidas e indenizações.

**D)** Manutenção de ruas e viadutos.



## MATEMÁTICA

21) João e Maria aplicaram R\$ 100,00 cada um em regime de juros simples e composto, respectivamente. Sabe-se que ambas as taxas foram de 1% a.m. Observe no gráfico a seguir as curvas que indicam o crescimento de cada um dos montantes  $M$  aplicados ao longo do tempo  $t$ .



Sendo o ponto A a intersecção dessas duas curvas, é correto **AFIRMAR** que ao somarmos a abscissa desse ponto A com sua ordenada, encontraremos o valor:

- A) 101
- B) 102
- C) 103
- D) 104

22) Um servidor da prefeitura municipal da cidade A ficou encarregado de fazer três orçamentos para a reforma da quadra esportiva de certa escola. Observe a seguir os três orçamentos apresentados

Loja X - Orçamento 1:

Produto	Valor (em reais)
Cimento – 50 kg	32,50
Areia grossa – m <sup>3</sup>	151,90
Tinta para piso – 18L	469,90
Lâmpadas de led 400W	89,50
Telhas de metal 6 m x 1 m	199,90

Loja Y - Orçamento 2:

Produto	Valor (em reais)
Cimento – 50 kg	32,49
Areia grossa – m <sup>3</sup>	145,90
Tinta para piso – 18L	489,90
Lâmpadas de led 400W	99,90
Telhas de metal 6 m x 1 m	189,85



Loja Z - Orçamento 3:

Produto	Valor (em reais)
Cimento – 50 kg	29,99
Areia grossa – m <sup>3</sup>	146,89
Tinta para piso – 18L	458,71
Lâmpadas de led 400W	109,70
Telhas de metal 6 m x 1 m	189,84

Após analisar os três orçamentos e optar por comprar o produto mais barato apresentado por cada uma das três lojas, fez outro levantamento sobre a quantidade de produtos necessários e, os anotou no quadro a seguir:

Quantidades necessárias:

Produto	Quantidade
Cimento – 50 kg	10 sacos de 50 kg
Areia grossa – m <sup>3</sup>	4 m <sup>3</sup>
Tinta para piso – 18L	2 latas de 18L
Lâmpadas de led 400W	12
Telhas de metal 6 m x 1 m	10 telhas

Qual foi o custo com os materiais para a reforma dessa quadra esportiva?

- A) 4883,98
- B) 5217,20
- C) 4773,32
- D) 4758,62

23) O gráfico a seguir apresenta o consumo de água dividido em três setores: Agricultura, Indústria e Uso Doméstico.







Com base na análise desse gráfico, podemos **AFIRMAR** que:

- A) A Indústria consome o dobro de água em relação ao Uso Doméstico.
- B) A Agricultura consome cinco vezes mais água do que a Indústria.
- C) Um quinto da água consumida no mundo é de Uso Doméstico.
- D) A Agricultura consome, aproximadamente, 3,18 vezes mais água do que a Indústria.

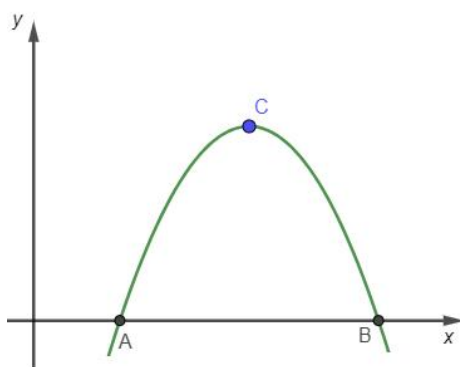
24) Seja  $f(x) = ax + b$ , com  $a$  e  $b$  reais. Se  $f(-1) = 1$  e  $f(2) = 7$ , qual é o valor da expressão  $(a^2 - b)^2$ ?

- A) 1
- B) 4
- C) 9
- D) 16

25) Uma empresa produz 120 telhas metálicas idênticas trabalhando 6 horas por dia com os seus 10 funcionários. Essa empresa recebeu uma encomenda de 320 unidades dessa telha metálica e contratou mais dois funcionários para trabalhar na linha de produção. Quantas horas por dia, esses 12 funcionários deverão trabalhar para produzir as 320 unidades de telha metálica? Considere que todos os funcionários dessa empresa apresentam o mesmo rendimento.

- A) 10h30min
- B) 12h
- C) 14h
- D) 13h20min

26) Seja  $f(x) = -x^2 + 5x - 4$  uma função quadrática cujo gráfico é apresentado a seguir.



Seja C o vértice dessa parábola. Qual é a medida da área do triângulo ABC, em unidades de área (u.a.) é:

- A)  $\frac{27}{8}$
- B)  $\frac{9}{4}$



C)  $\frac{21}{5}$

D) 2

27) Carlos verificou que seu veículo estava com  $\frac{1}{4}$  de combustível em seu tanque. Sabe-se que esse combustível era 100% etanol. Como iria viajar, resolveu então, completar o tanque com gasolina, e como ele sempre fica atento às notícias, lembrou-se, que na gasolina há uma concentração de 27,5% de etanol, ou seja, a gasolina não é pura, nela já há, por determinação, 27,5% de etanol. O tanque de combustível do carro de Carlos tem capacidade para 44L, sendo assim, após o abastecimento, qual é o percentual de etanol no tanque desse carro?

A) 45,625%

B) 52,5%

C) 37,5%

D) 48,375%

28) Foi realizada uma pesquisa acerca da preferência dos munícipes de uma certa cidade com relação às lojas de roupas A, B e C da região central.

A seguir os dados tabulados:

- 28 pessoas compraram exclusivamente na loja A;
- 46 pessoas compraram exclusivamente na loja B;
- 14 pessoas compraram exclusivamente na loja C;
- 14 pessoas compraram nas lojas A e B;
- 12 pessoas compraram nas lojas A e C;
- 18 pessoas compraram nas lojas B e C;
- 10 pessoas compraram nas lojas A, B e C;
- 16 pessoas não compraram em nenhuma das lojas citadas na pesquisa.

Quantas pessoas participaram dessa pesquisa?

A) 110

B) 158

C) 90

D) 86

## LÍNGUA PORTUGUESA

**Texto para as questões 29, 30, 31, 32, 33 e 34:**

A leptospirose é transmitida a partir do contato com a urina de animais, principalmente ratos, infectados pela bactéria *Leptospira*. No verão, época de chuvas mais fortes e frequentes, as enchentes e alagamentos aumentam o risco de contrair a doença através do contato com água suja e lama.

Segundo o infectologista do Hospital Israelita Albert Einstein Hélio Bacha, o “grande reservatório” da *Leptospira* é o rato urbano. “Como o rato está presente no



mundo todo, em todos os continentes, a leptospirose é uma doença universal”, acrescentou.

A ocorrência da leptospirose costuma estar associada a condições precárias de infraestrutura sanitária e alta infestação de ratos infectados.

Inundações permitem que a bactéria se dissemine nos ambientes e facilitam a ocorrência de surtos, tornando os grupos que estão expostos a alagamentos frequentes mais vulneráveis à doença.

### **Como a leptospirose é transmitida?**

A transmissão da leptospirose se dá através do contato com a urina de animais infectados diluída na água das enchentes.

A contaminação ocorre através de mucosas, a partir de lesões na pele, ou mesmo em uma pele íntegra, se ficar imersa na água contaminada durante muito tempo.

O infectologista esclareceu: “Não é a água da chuva que causa a doença, é a água das enchentes. Enchentes nas cidades, especialmente no Brasil, onde é muito comum a presença de ratos. Enchentes onde há presença de pessoas é um cenário típico de condição epidêmica da leptospirose.”

(...)

### **Como se prevenir da leptospirose em caso de enchentes?**

Para evitar a transmissão é importante tentar minimizar ao máximo o contato com água suja durante alagamentos e tentar sair do ambiente atingido o mais rápido possível para evitar que a bactéria penetre na pele.

O governo federal também recomenda algumas medidas preventivas:

- Cuidado ao retirar a lama de enchentes: a lama tem alto poder infectante e costuma aderir aos móveis, parede e chão. O recomendado é retirar a lama com proteção de luvas e botas de borracha e lavar o local com uma solução de água e água sanitária, deixando agir por 15 minutos.
- Evitar o contato com água e lama de enchentes e impedir que crianças brinquem na água: para limpar e organizar o local ou desentupir o esgoto é importante usar botas e luvas de borracha (ou sacos plásticos amarrados nas mãos e nos pés).
- Controle de roedores: para contribuir recomenda-se o acondicionamento e destino adequado do lixo, armazenamento apropriado de alimentos, desinfecção e vedação de caixas d'água e vedação de frestas e aberturas em portas e paredes.
- Descartar alimentos e medicamentos que tiveram contato com a água de enchente.
- Não pescar em rios e lagoas após as chuvas.

(...)

(PINOTTIDA, Fernanda. “Leptospirose: como é transmitida, quais os sintomas e como se prevenir”. Disponível em: [www.cnnbrasil.com.br](http://www.cnnbrasil.com.br)

Acesso em: 18/01/24)

**29)** De acordo com o texto, a principal causa da Leptospirose é:

- A)** a água da chuva.
- B)** a água parada.
- C)** a água das enchentes.
- D)** a água das caixas d'água.

**30)** Considerando o texto anterior, assinale a alternativa que contém um trecho de texto **INJUNTIVO**:

- A)** Não pescar em rios e lagoas após as chuvas.
- B)** O infectologista esclareceu.



- C) o “grande reservatório” da Leptospira é o rato urbano.
- D) A contaminação ocorre através de mucosas.

31) Assinale a alternativa que contém uma interpretação **ERRADA** das informações presentes no texto:

- A) Apesar de não ser o único, o rato é um dos principais “reservatórios” da Leptospira.
- B) Para a higienização de locais possivelmente infectados, é importante proteger mãos e pés.
- C) Mesmo uma pele íntegra pode ser passível de contaminação pela Leptospirose.
- D) A Leptospirose é uma doença presente exclusivamente no Brasil.

32) Considere o trecho: “Inundações permitem que a bactéria se dissemine nos ambientes e facilitam a ocorrência de surtos”. O verbo **FACILITAM** concorda com:

- A) inundações.
- B) bactéria.
- C) ambientes.
- D) surtos.

33) No trecho “Enchentes nas cidades, especialmente no Brasil, onde é muito comum a presença de ratos”, a palavra **ONDE** é:

- A) um verbo, que retoma o termo “enchentes”.
- B) um pronome relativo, que retoma o termo “Brasil”.
- C) um substantivo, que retoma o termo “Brasil”.
- D) um advérbio, que retoma o termo “enchentes”.

34) Leia o trecho retirado do texto: “A ocorrência da leptospirose costuma estar associada a condições precárias de infraestrutura sanitária e alta infestação de ratos infectados.” Em “a condições precárias”, a ausência do acento grave – indicativo da crase – está:

- A) correta, pois há apenas o artigo.
- B) incorreta, pois “condições” é uma palavra no feminino.
- C) correta, pois há apenas a preposição.
- D) incorreta, pois “precárias” está no plural.

35) Assinale a alternativa que apresenta **ERRO** no uso dos “porquês”:

- A) Ela não saiu porque não quis.
- B) Quero saber por que você não fez o relatório.
- C) Nunca descobrimos o porquê de sua desistência.
- D) Porque não falaram a verdade?

36) Há **ERRO** na utilização da vírgula em:

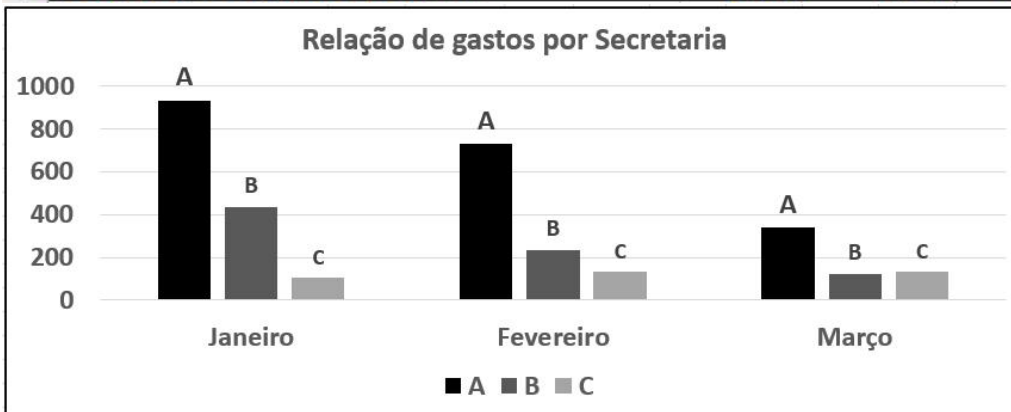


- A) A menina queria sair, mas os pais não deixaram.
- B) O dia e a noite, estavam muito quentes.
- C) O jovem, que salvou a vida do bebê, ficou emocionado.
- D) José queria café. Maria, chá.

## INFORMÁTICA

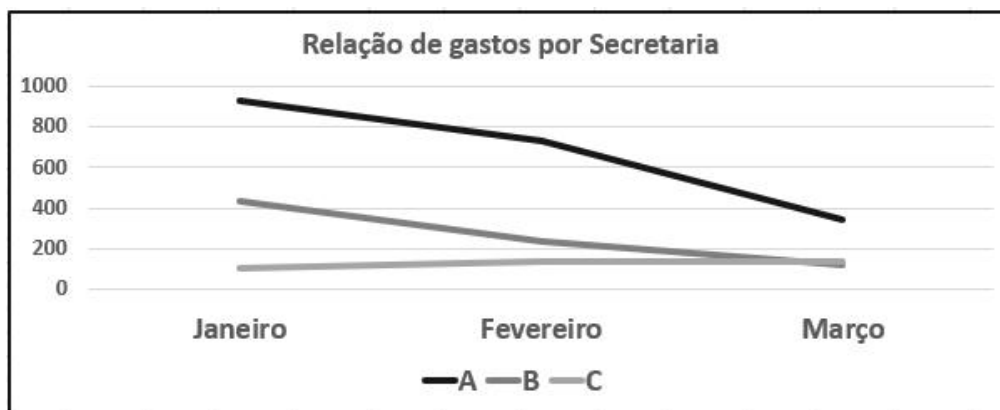
37) Uma das funções do Técnico Orçamentário é analisar necessidades e projetar gastos por Secretaria. O profissional pode utilizar um gráfico para visualizar e compreender informações. Faça uma análise dos dados contidos no exemplo a seguir, construído no Microsoft Excel, e assinale a opção **CORRETA**:

	A	B	C	D
1	<b>Relação de gastos por Secretaria em Reais</b>			
2	<b>Secretarias</b>	<b>Janeiro</b>	<b>Fevereiro</b>	<b>Março</b>
3	<b>A</b>	934	732	340
4	<b>B</b>	432	236	123
5	<b>C</b>	105	135	135
6	<b>Total geral de gastos por mês</b>	<b>1471</b>	<b>1103</b>	<b>598</b>



- A) Nos meses de janeiro a março houve uma queda nos gastos das secretarias A e B.
- B) Nos meses de janeiro a março houve um aumento nos gastos das secretarias A e B.
- C) Nos meses de janeiro a março houve uma queda apenas nos gastos da secretaria C.
- D) Nos meses de janeiro a março houve uma estabilidade nos gastos da secretaria A.

38) O Microsoft Excel utiliza-se de gráficos para exibir e organizar dados. Qual é o nome do gráfico que consta na imagem a seguir?



	A	B	C	D
1	<b>Relação de gastos por Secretaria em Reais</b>			
2	<b>Secretarias</b>	<b>Janeiro</b>	<b>Fevereiro</b>	<b>Março</b>
3	<b>A</b>	934	732	340
4	<b>B</b>	432	236	123
5	<b>C</b>	105	135	135
6	<b>Total geral de gastos por mês</b>	<b>1471</b>	<b>1103</b>	<b>598</b>

- A) Gráfico de Dispersão.
- B) Gráfico de Linhas.
- C) Gráfico de Pizza ou Rosca.
- D) Gráfico de Bolhas.

39) Fórmulas do Microsoft Excel: Na imagem a seguir, temos dados referentes a Receitas e Despesas de algumas secretarias. Os números estão em suas respectivas células, referenciados por colunas (uso de letras) e linhas (uso de números). Para obter o "Resultado do setor B", negativo, em "-198", qual é a fórmula **CORRETA**?

	A	B	C	D
1	<b>Receitas e despesas dos setores A e B do município</b>			
2	<b>Secretarias</b>	<b>Receitas</b>	<b>Despesas</b>	<b>Resultado</b>
3	<b>setor A</b>	345	234	<b>111</b>
4	<b>setor B</b>	456	654	<b>-198</b>
5				
6	<b>Total geral</b>	<b>801</b>	<b>888</b>	

- A) =(B2-B4)
- B) =(B2:C3)
- C) =SUBTRAIR(B4-C4)
- D) =(B4-C4)

40) Na imagem a seguir, há uma pasta de nome Relatórios, ela está na área de trabalho do Windows. Possui quatro arquivos, cada qual com o seu tamanho, que corresponde a quantidade de dados em cada um, em kilobytes(KB). É necessário transferir/gravar, esses arquivos, para um penDrive(dispositivo de armazenamento removível de dados usado em



computadores). Qual o penDrive adequado, com capacidade suficiente, para receber os arquivos?

Nome	Tamanho
Bancários	14 KB
Notas	254 KB
Laudos	7.704 KB
Pareceres	66 KB

- A) Usar um penDrive com 8 GB (oito gigabytes).
- B) Usar um penDrive com 2 MB (dois megabytes).
- C) Usar um penDrive com 1 MB (um megabyte).
- D) Usar um penDrive com 7 KB (sete kilobytes).

41) Arquivos do tipo PDF (Portable Document Format), podem conter grandes quantidades de textos, como informações de notas fiscais, consolidações bancárias, orçamentos, dentre outros. Uma forma fácil, de se localizar um determinado texto, pesquisar uma informação, enfim, encontrar um dado necessário, é usar uma combinação de duas teclas, que abre uma caixa de texto, e permite digitar e localizar a palavra desejada. A seguir, qual é a combinação **CORRETA** de teclas, a ser utilizada?



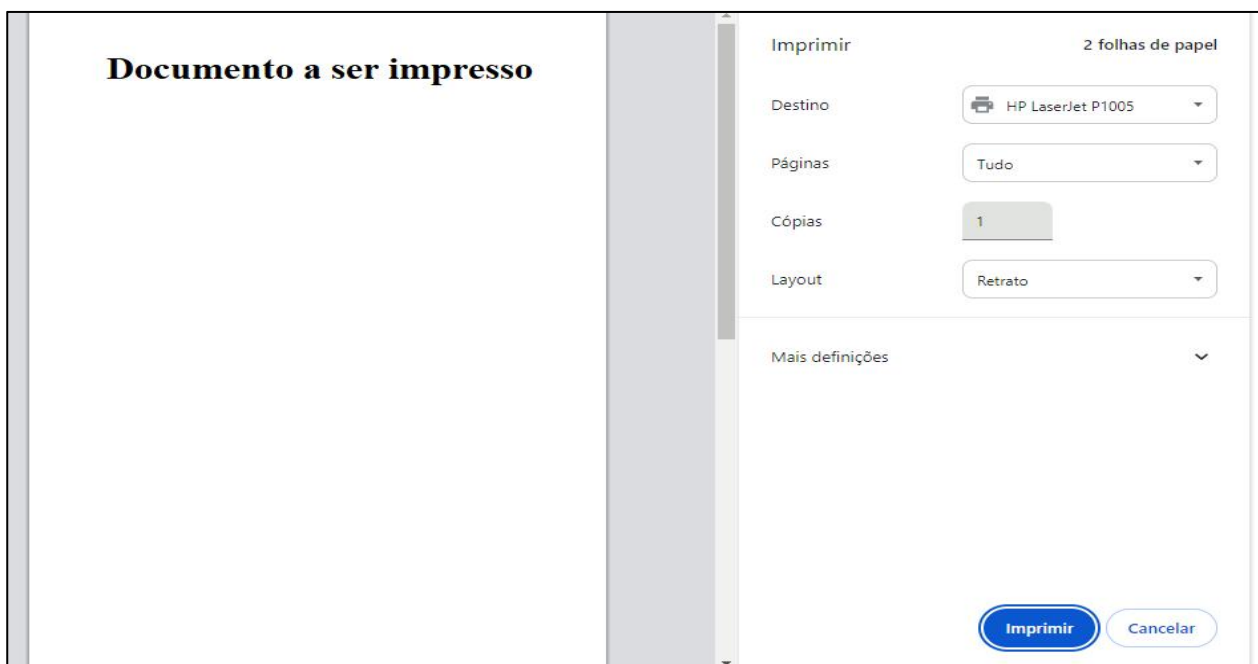
- A) CTRL + X
- B) CTRL + C
- C) CTRL + V
- D) CTRL + F

42) O Técnico Orçamentário precisa elaborar relatórios, pareceres e laudos técnicos em sua área de especialidade. Ele usou um editor de planilhas, para incluir os dados e criou fórmulas, para calcular automaticamente os resultados. Gerou também gráficos para visualizar as informações. Qual programa **CORRETO** a seguir, o técnico utilizou?



- A) Microsoft PowerPoint ou LibreOffice Impress.
- B) Microsoft Word ou LibreOffice Writer.
- C) Microsoft Excel ou LibreOffice Calc.
- D) Microsoft Access ou LibreOffice Writer.

43) O Técnico Orçamentário acessou um “website” governamental, para imprimir um documento. Na tela que se abriu, com o respectivo documento, não há um botão imprimir. Com uma combinação de teclas, é possível abrir a “janela de impressão”. A seguir, qual é a combinação correta, de teclas, a ser utilizada?



- A) CTRL + X
- B) CTRL + C
- C) CTRL + P
- D) CTRL + F

## LEGISLAÇÃO

44) A Constituição Federal de 1988, em seu art. 5º, dispõe que “todos são iguais perante a lei, sem distinção de qualquer natureza(...)”. Sobre o assunto, assinale a alternativa **CORRETA**:

- A) Homens e mulheres são iguais, após a maioridade civil, em direitos e obrigações, nos termos desta Constituição.
- B) Homens e mulheres são iguais, após o casamento, em direitos e obrigações, nos termos desta Constituição.
- C) Homens e mulheres são iguais em direitos e obrigações, nos termos desta Constituição.
- D) Homens e mulheres são iguais, desde que observados alguns requisitos, em direitos e obrigações, nos termos desta Constituição.





**45)** Segundo a Lei Orgânica Municipal, está inserido dentre os objetivos fundamentais do Município de Bauru:

- A) Garantir o desenvolvimento estadual.
- B) Construir uma sociedade livre, justa e solidária.
- C) Construir uma sociedade livre e majoritária.
- D) Garantir o desenvolvimento federal e municipal.

**46)** De acordo com a Lei Municipal nº 5.804, de 10 de novembro de 2009, que regula atos e processos administrativos no âmbito da Administração Pública Municipal, assinale a alternativa **CORRETA**:

- A) A norma administrativa deve ser interpretada e aplicada da forma que melhor garanta a realização do interesse privado a que se dirige.
- B) A norma administrativa é aplicada apenas subsidiariamente, quando o particular assim o exigir.
- C) A norma administrativa só deve ser aplicada quando houver conflito de interesses entre o direito público e o direito privado.
- D) A norma administrativa deve ser interpretada e aplicada da forma que melhor garanta a realização do fim público a que se dirige.

**47)** A Lei Municipal nº 3.781, de 21 de outubro de 1994, que dispõe sobre o direito de petição e sobre o regime disciplinar do servidor público municipal de Bauru, estabelece ser permitido ao servidor:

- A) Estar em dia com as leis estaduais e federais e ordens de serviço que digam respeito à função diversa da que exerce.
- B) Manter conduta incompatível com a moralidade administrativa.
- C) Opor resistência injustificada ao andamento de documento e processo ou execução de serviço.
- D) Zelar pela economia do material e a conservação do patrimônio público.

**48)** De acordo com a Constituição Federal de 1988, compete ao Município:

- A) Legislar sobre assuntos de interesse local.
- B) Instituir e arrecadar os tributos estaduais e federais.
- C) Legislar sobre matéria federal de competência da União.
- D) Legislar sobre matéria estadual e arrecadar os tributos do Estado.

**49)** Segundo a Lei Municipal nº 4.830, de 17 de maio de 2002, que Transforma o Serviço de Previdência dos Municipiários de Bauru – SEPREM na Fundação de Previdência dos Servidores Públicos Municipais efetivos de Bauru – FUNPREV, assinale a alternativa **CORRETA**:

- A) A FUNPREV tem como sede e foro a cidade de Bauru, Estado de São Paulo.
- B) A FUNPREV tem como sede e foro a capital do Estado de São Paulo.



- C) A FUNPREV não tem sede e foro especificados na lei.
- D) A FUNPREV tem apenas sede, mas o foro precisa ser especificado por lei.

**50)** A Lei Municipal nº 3.601, de 27 de julho de 1993, dispõe sobre a Estrutura Organizacional da Prefeitura Municipal de Bauru, estabelece fundamentos para as ações administrativas, define estrutura organizacional e fixa atribuições gerais dos órgãos da Administração Municipal de Bauru. Neste sentido, assinale a alternativa **CORRETA**:

- A) As Secretarias Municipais são órgãos de assessoramento indireto do Prefeito Municipal, com responsabilidade de supervisão e coordenação de ações administrativas.
- B) As Secretarias Municipais são órgãos de assessoramento indireto da Corregedoria Municipal, com responsabilidade de supervisão e coordenação de ações administrativas.
- C) As Secretarias Municipais são órgãos de assessoramento direto e imediato do Prefeito Municipal, com responsabilidade de coordenação, supervisão, orientação, acompanhamento, controle e execução de ações administrativas.
- D) As Secretarias Municipais são órgãos de assessoramento direto da Corregedoria Municipal e do Gabinete do Prefeito, com responsabilidade de supervisão e coordenação de ações administrativas.