



## PREFEITURA MUNICIPAL DE SÃO DOMINGOS DO CARIRI - PB

### NÍVEL FUNDAMENTAL INCOMPLETO

### COVEIRO

#### EXAME GRAFOTÉCNICO:

(Transcreva a frase abaixo no local indicado na sua Folha de Respostas)

**“Onde o Sol predomina e ilumina”**

#### INSTRUÇÕES:

- 01** Verifique se este caderno de provas contém **40 (quarenta)** questões de múltipla escolha, sendo Português de **01 a 20**, Matemática de **21 a 30** e Conhecimentos Gerais de **31 a 40**.
- 02** Observe se há falhas ou imperfeições gráficas que causem dúvidas. Caso existam, comunique imediatamente ao Fiscal de Sala.
- 03** Verifique se os dados existentes na Folha de Respostas conferem com os dados do Cartão de Inscrição.
- 04** Esta Prova tem duração de **4 (quatro)** horas. Não é permitida a saída do candidato antes de esgotado o tempo mínimo de **2 (duas)** horas.
- 05** É vetado, durante a prova, o intercâmbio ou empréstimo de material de qualquer natureza entre os candidatos, bem como o uso de celulares, calculadoras e/ou qualquer outro tipo de equipamento eletrônico. A fraude, ou tentativa, a indisciplina e o desrespeito às autoridades encarregadas dos trabalhos são faltas que eliminam o candidato.
- 06** Assine a **Lista de Presença** e entregue ao Fiscal de Sala a **Folha de Respostas** devidamente assinada, bem como o **Caderno de Prova**. O candidato poderá destacar o gabarito rascunho da última folha da prova, e levá-lo para sua conferência.







# PORTUGUÊS

## 1ª QUESTÃO

Há uma maneira correta para descartar o lixo, com a qual é possível reciclar, reaproveitar e reduzir para se viver em um mundo mais limpo e sustentável.



Fonte: <https://pin.it/JcuT4Ic>. Acesso em 22/09/2022. (Adaptado)

De acordo com o texto, assinale a alternativa CORRETA de descartar o lixo.

- a) Coleta seletiva.
- b) Lixo misturado.
- c) Coleta mista.
- d) Lixo seletivo.
- e) Coleta reciclada.

## 2ª QUESTÃO

O desmatamento, a destruição do meio ambiente e a poluição são fatores que contribuem para a extinção de animais. Precisamos proteger o meio ambiente para evitarmos que espécies como a arara azul desapareçam.

### Arara Azul



**Nome popular:** Arara Azul  
**Nome científico:** *Anodorhynchus Hyacinthinus*  
**Dimensões:** 110 cm  
**Peso:** 500grs  
**Área geográfica:** Brasil  
**Habitat:** Matas (Maranhão, Bahia e Mato Grosso)  
**Alimentação:** Sementes e frutas  
**Tempo médio de vida:** 50 anos  
**Estatuto:** Perigo  
**Motivo do seu estatuto:** Destruição das matas e florestas.

**Curiosidade:** Costumam nascer duas crias de cada vez. Ainda se encontram em liberdade no interior da Bahia.

Fonte: <https://pt.slideshare.net/ruingomes/ap-5-g-animais-em-vias-de-extino-20092010>. Acesso em: 22/09/2022.

Considerando a imagem apresentada assinale a alternativa CORRETA que indica o tipo de dieta da arara.

- a) Sementes e árvores.
- b) Animais pequenos.
- c) Plantas e vegetais.
- d) Insetos e legumes.
- e) Sementes e frutas.



### 3ª QUESTÃO

Leia a tirinha.



1º CONCURSO DE TIRAS



Fonte: Site Qualidade em Quadrinhos

Qual é o sentido figurado para explicação do desbotamento da bandeira do Brasil?

- a) Porque a bandeira está velha.
- b) Porque os animais comem as árvores.
- c) Porque o sol queima as florestas.
- d) Por culpa do desmatamento.
- e) Por culpa das chuvas.

Observe a imagem abaixo para responder as questões 4 e 5:

#### Manual controle sem fio Dualshock 3

#### Controle sem fio DUALSHOCK 3



Disponível em: <https://www.techtudo.com.br/noticias/2013/07/guia-do-playstationara-iniciantes-veja-como-configurar-facilmente-seu-console.ghml>

### 4ª QUESTÃO

A imagem acima apresenta um controle de videogame com seus botões e suas funções próprias. Podemos considerar que esta imagem funciona como um texto instrucional, pois orienta a utilização e o manuseio do controle.

Sendo assim, é CORRETO afirmar que as linhas que ligam os botões às informações servem para:

- a) Ordenar e limpar as informações para o leitor.
- b) Ordenar, marcar e organizar as informações para o leitor.
- c) Organizar e desatualizar as informações para o leitor.
- d) Selecionar e desinformar o leitor sobre a funções do controle.
- e) Limpar e selecionar as funções para o leitor.



## 5ª QUESTÃO



As imagens acima são trechos extraídos do texto *Manual controle sem fio Dualshock 3* e tratam sobre a função dos botões ▲ ✕ ● e o botão PS. Para tratar sobre cada função, são empregados as “formas verbais”: *exibe*, *confirma*, *cancela*, *liga*, *desliga* e *abandona*. Esses verbos, no contexto do texto “Manual controle sem fio Dualshock 3” servem para:

- a) Apagar a função dos botões.
- b) Desligar a função dos botões.
- c) Instruir sobre a função dos botões.
- d) Negar as funções dos botões.
- e) Mudar as funções dos botões.

## 6ª QUESTÃO

Leia o texto:

**Ágil e com enormes chifres, o carnotauro era um dinossauro diferente.**

**Ficha Técnica**

- Nome: Carnotauro (*Carnotaurus sastrei*)
- Origem: Argentina (América do Sul)
- Tamanho: cerca de 9 metros de comprimento e 3 metros de altura
- Peso: aproximadamente 1.500 quilogramas
- Época em que viveu: Há cerca de 71 milhões de anos (Período Cretáceo)

O Cretáceo foi o último período da Terra a presenciar os dinossauros não aviários, ou seja, que não foram ancestrais das aves. É nessa fase de nosso planeta que viveram alguns dos maiores e mais diferentes dinossauros, como o carnotauro ou *Carnotaurus sastrei*.

Pertenceu a esse animal um dos esqueletos mais bem preservados dentre os grandes dinossauros carnívoros já descobertos. Seus restos fossilizados estavam articulados, o que nos dá uma ótima ideia da sua aparência em vida. A característica mais marcante do carnotauro é a presença de chifres logo acima de seus olhos.

Fonte: <http://chc.org.br/artigo/o-touro-carnivoro-sul-americano/> - Acesso em agosto de 2022.

Considerando o texto é CORRETO afirmar que:

- a) O carnotauro foi um único dinossauro herbívoro que habitou a Terra no período de Cretáceo.
- b) O carnotauro foi um dos dinossauros, descendentes de aves, que habitou a Terra no período Cretáceo.
- c) O carnotauro foi um dos dinossauros de menor porte que habitou a Terra no período Cretáceo.
- d) O carnotauro foi o único dinossauro carnívoro a habitar a Terra no período Cretáceo.
- e) O carnotauro foi um dos dinossauros carnívoros que habitou a Terra no período Cretáceo.



Leia o texto abaixo e responda as questões 7, 8 e 9.

### Texto 01

#### O iglu

Maria Dörrenberg (autora)

Estava tudo escuro. As pessoas dormiam. Só aquele monótono barulho do motor do avião tinha vida. Eu me cansei de jogar videogame e o pus na mesinha na minha frente.

Eles moram em iglus, como o do museu no parque da minha cidade, ou dos desenhos da TV, das histórias de Natal. Vou morar em um iglu cercado de neve.

Da janela vi as nuvens e a lua.

É um lugar branco e gelado, sem árvore nem nada. Só água, gelo e céu. É frio e quieto lá e iglus são muito pequenos. Não vou ter um quarto, nem vai caber brinquedos. Tudo cheio de gelo e céu. Não vou andar de bicicleta. Vai ser legal?

Eu estava meio triste. Olhei para mãe, mas ela dormia também.

Ah! Mas vou pescar um peixão, o maior que tiver. Patinar e descer montanha e deslizar na neve. Vai ser cool!

Aí mãe soltou um bocejo.

Mãe, eles moram em iglus?

Ela riu.

Não, querido, eles moram em casas normais. Igus estão no Alasca, no Ártico. Não vamos para lá.

Pena! Eu já gostava da ideia de morar em um iglu.

E então as casas foram aparecendo na janela e não eram iglus e o avião corria e eu não conseguia ver as casas direito e passava floresta e aparecia bosque e estação e vinha vilarejo e eu tentava olhar as casas e não conseguia e fiquei cansado desse filme maluco e desisti de olhar as casas.

Fui morar num apartamento na cidade, que não era uma casa, mas era grande e eu tinha um quarto e não era iglu, nem tinha neve. Pena!

Fonte: [https://revistavessa.com/edicoes/2014/out-nov/avessa\\_out-nov.pdf](https://revistavessa.com/edicoes/2014/out-nov/avessa_out-nov.pdf) (trecho adaptado) - Acesso em agosto de 2022.

#### 7ª QUESTÃO

A partir da leitura e compreensão do texto “*O iglu*”, assinale a alternativa que exemplifica o narrador em 1ª pessoa:

- a) “Só aquele monótono barulho do motor do avião tinha vida.”
- b) “As pessoas dormiam.”
- c) “É um lugar branco e gelado, sem árvore nem nada.”
- d) “Estava tudo escuro.”
- e) “Eu estava meio triste.”

#### 8ª QUESTÃO

O texto “*O iglu*” é um conto que narra a história de uma criança que estava tendo ideias sobre sua nova casa. Ao saber que sua casa não seria um iglu, a criança ficou:

- a) alegre e expressou o seu sentimento através da palavra “Que pena”.
- b) triste e manifestou o seu sentimento através da expressão “eu tinha um quarto”.
- c) triste e manifestou o seu sentimento através da palavra “Pena” ao final do texto.
- d) feliz porque não fazia questão de morar em um iglu.
- e) contente e expressou a sua alegria através da frase “eu tinha um quarto”.

#### 9ª QUESTÃO

Observe o trecho do texto:

**“É um lugar branco e gelado, sem árvore nem nada. Só água, gelo e céu.”**

O trecho está descrevendo características de um lugar. Assinale a alternativa CORRETA.

- a) Um iglu.
- b) Uma cabana.
- c) Uma casa.
- d) Um vilarejo.
- e) Um avião.



Leia o texto abaixo e responda as questões 10, 11 e 12.

## Texto 02

### Como surgiu o avião?

A criação do avião foi um grande marco para a história, pois ele diminuiu de forma significativa o tempo de viagem entre duas cidades.

O avião teve origem com um brasileiro, chamado Alberto Santos Dumont, que teve a vida invadida pelo sonho de voar. Não somente ele, mas também os irmãos norte-americanos Wilbur e Orville Wriigh realizavam inúmeros experimentos de voo, buscando fazer com que um objeto mais pesado que o ar pudesse voar. Contudo, nessa época já existiam alguns veículos como, por exemplo, os balões e zepelins, que conseguiam se colocar acima das nuvens baseados nos princípios de Arquimedes. No entanto, eles não tinham autonomia para voar, não satisfaziam os sonhos do homem por inúmeros motivos como, por exemplo, o fato de não poder controlar completamente o destino do voo desses veículos. Foi em 23 de outubro de 1906 que Alberto S. Dumont apresentou um rústico avião a uma comissão julgadora, o 14-Bis, marcando dessa forma a origem da aviação.



Mas como é possível um veículo, sendo mais pesado que o ar, voar? Quando no ar, o avião não cai porque existem forças que atuam sobre ele, contrabalanceando seu peso, mas como o peso é direcionado para baixo, a força que o equilibra no ar é direcionada para cima. O que faz com que um avião não caia é, na verdade, a velocidade dele e as suas asas.

As asas de um avião são projetadas e construídas de forma que elas cortem o ar. Quando o avião está em movimento suas asas cortam o ar, fazendo com que a velocidade do ar que passa por cima da asa seja maior do que a velocidade do ar que passa por baixo, fazendo surgir, dessa forma, uma força de baixo para cima equilibrando o avião. Ou seja, a pressão do ar na parte de baixo do avião é maior que na parte de cima, empurrando o avião para cima, é essa força que o mantém no ar. Assim, quanto maior o peso do avião, maior deve ser a sua velocidade para que ele possa decolar e se manter em equilíbrio no ar.

Fonte: <https://mundoeducacao.uol.com.br/fisica/como-surgiu-aviao.htm> (adaptado) - Acesso em agosto de 2022.

#### Glossário:

**Gravidade:** força que atua sobre os corpos, empurrando-os ao centro da Terra.

#### 10ª QUESTÃO

De acordo com o texto 02, antes da criação dos aviões, já existiam os balões e os zepelins. Assinale a alternativa CORRETA que explica o que motivou a criação dos aviões por parte de Dumont e dos irmãos Wilbur e Orville Wriigh.

- a) O fato de os balões e zepelins serem impedidos de voar para lugares distantes, devido a acidentes constantes.
- b) O fato de os balões e zepelins serem impedidos de voar para longas distâncias, já que eram desconfortáveis.
- c) O fato de os balões e zepelins serem impedidos de voar para outras cidades e países, visto que a lei não permitia.
- d) O fato de os balões e zepelins serem impedidos de voar para longas distâncias, já que era impossível controlá-los completamente.
- e) O fato de os balões e zepelins serem transportes perigosos, já que os passageiros ficavam soltos durante as viagens.

#### 11ª QUESTÃO

Considerando o texto 02, assinale a alternativa CORRETA que explica o porquê do avião se manter no ar.

- a) O avião se mantém no ar porque há forças que atuam sobre ele.
- b) O avião se mantém no ar porque a força da gravidade o empurra para cima.
- c) O avião se mantém no ar porque a sua forma é superior à gravidade.
- d) O avião se mantém no ar porque o piloto sabe como agir.
- e) O avião se mantém no ar porque o peso do avião ajuda no equilíbrio.

#### 12ª QUESTÃO

Leia o trecho a seguir extraído do texto 02:

“Quando no ar, o avião não cai porque existem forças que atuam sobre ele, **contrabalanceando** seu peso, mas como o peso é direcionado para baixo, a força que o equilibra no ar é direcionada para cima.”

Assinale a alternativa que contém o significado da palavra em destaque.

- a) Afundando.
- b) Equilibrando.
- c) Empurrando.
- d) Balançando.
- e) Pesando.



Leia o texto abaixo e responda as questões 13 e 14.

### Texto 03

#### Sabia que alguns medicamentos têm origem em seres que habitam o oceano?

A chamada citarabina foi o primeiro fármaco a ser desenvolvido a partir de uma substância obtida de uma esponja que vive no mar do caribe (*Tectitethya crypta*). Ela vem sendo utilizada para tratar leucemia (câncer nas células do sangue), principalmente em crianças, desde a década de 1970, e já salvou muitas vidas!

Hoje, já existem mais de uma dezena de medicamentos para tratar o câncer desenvolvidos a partir do ambiente marinho. Muitos deles são totalmente inovadores e podem ser usados para pacientes que já não respondem bem aos remédios tradicionais.

Apesar da imensidão da costa brasileira, ainda não temos nenhum medicamento marinho desenvolvido em nosso país. Imaginem o tesouro escondido no fundo do mar, entre as milhares de espécies que só aparecem por aqui! É por isso que o Brasil precisa de investimentos na ciência e na tecnologia, para trazer mais qualidade de vida para as pessoas do nosso país – e tudo isso, é claro, precisa ser feito com o uso sustentável e a conservação dos recursos marinhos!

Fonte: <http://chc.org.br/artigo/farmacia-marinha/> (adaptado) – Acesso em agosto de 2022.

### 13ª QUESTÃO

O texto 03 trata de um tema bastante importante para nossa sociedade. Podemos considerar que este tema é:

- a) Produção de medicamentos a partir de chás naturais.
- b) Produção de medicamentos a partir de plantas medicinais.
- c) Produção de medicamentos a partir de seres marinhos.
- d) Produção de medicamentos a partir de frutas e de verduras.
- e) Produção de medicamentos a partir de comidas naturais.

### 14ª QUESTÃO

Considerando o texto 03 a substância “citarabina” está sendo utilizada para o tratamento de uma doença. Assinale a alternativa que corresponde a esta doença.

- a) Contribuir para o tratamento de gripe.
- b) Contribuir para o tratamento de leucemia.
- c) Contribuir para o tratamento de tosse alérgica.
- d) Contribuir para o tratamento de doenças da pele.
- e) Contribuir para o tratamento de doenças do pé.

Leia o texto abaixo e responda as questões 15 e 16.

### Texto 04

#### Pinóquio

Era uma vez um homem chamado Gepeto que fazia lindos bonecos de madeira. Vivia sozinho e o seu sonho era ter um filho com quem partilhar todo o seu amor e carinho.

Um dia, Gepeto fez um pequeno rapaz de madeira. Quando terminou, Gepeto suspirou: “Quem me dera que este rapazinho de madeira fosse real e pudesse viver aqui comigo...”.

De repente, aconteceu! O pequeno rapaz de madeira ganhou vida!

Gepeto gritou de alegria e, entre gargalhadas de felicidade, disse: “Sejas bem-vindo! Vou te chamar Pinóquio”.

Gepeto ajudou Pinóquio a vestir-se, deu-lhe alguns livros, um beijo na face e mandou-o para a escola, para aprender a ler e escrever. Mas avisou-o: “Assim que a escola terminar, vem para casa, Pinóquio”. Pinóquio respondeu que sim e, alegremente, foi caminhando em direção à escola.

Pelo caminho, Pinóquio reparou que na praça havia um espetáculo de marionetas. Juntou-se a elas e, dançou tão bem, que o dono das marionetas lhe ofereceu cinco moedas de ouro. Pinóquio estava maravilhado e só pensava como Gepeto iria ficar feliz quando lhe entregasse as moedas.

Já perto da escola, Pinóquio encontrou dois homens maus. Como era muito inocente, os dois homens convenceram Pinóquio a ir com eles até uma hospedaria para comerem e depois dormirem. Depois de comer, Pinóquio ficou sonolento e adormeceu facilmente. Sonhou que era rico e que ele e seu pai Gepeto viviam agora sem dificuldades e eram muito felizes.

Quando acordou, esses homens convenceram Pinóquio a enterrar as suas moedas de ouro num sítio que eles conheciam e disseram-lhe: “As moedas aqui enterradas serão transformadas numa árvore de dinheiro e nunca mais o teu pai, que já está velho e cansado, precisará trabalhar!”.

Pinóquio assim fez e ficou à espera de que as moedas de ouro se transformassem numa árvore de dinheiro. Esperou muito tempo até que, cansado, adormeceu. Os homens maus apareceram e levaram as moedas de ouro, enquanto Pinóquio dormia.

Quando acordou, Pinóquio viu que lhe tinham levado as moedas e chorou. Não queria voltar para casa com medo de que Gepeto ficasse zangado e triste com ele.

Fonte: <https://www.historiaparadormir.com.br/pinoquio/> (trecho adaptado) - Acesso em agosto de 2022.



**15ª QUESTÃO**

A partir da leitura e compreensão do texto 04, em que momento da história se deu o início do conflito no enredo?

- a) Quando Pinóquio é criado por Gepeto.
- b) Quando Pinóquio dança com as marionetas.
- c) Quando Pinóquio vai para escola.
- d) Quando Pinóquio encontra os homens maus.
- e) Quando Pinóquio ganha vida.

**16ª QUESTÃO**

O texto 04 apresenta uma coletânea de palavras e de expressões que podem parecer difíceis, a exemplo de marionetas, definidas como bonecos manipulados com cordas. Dessa maneira, a partir do contexto do texto, as palavras “hospedaria” e “zangado” significam:

- a) Espécie de apartamento e raivoso.
- b) Espécie de apartamento e bondoso.
- c) Espécie de hotel e bondoso.
- d) Espécie de hotel e raivoso.
- e) Espécie de acampamento e raivoso.

Leia o texto a seguir para responder as questões 17 e 18:

**Texto 05****Público gamer cresce e 3 em cada 4 brasileiros consomem jogos eletrônicos**

Pesquisa Game Brasil revelou que as mulheres representam a maioria dos jogadores no país; população brasileira nunca teve tantos gamers

O número de brasileiros que se divertem através dos jogos eletrônicos continua crescendo e, neste ano, o país atingiu a marca de 74,5% de sua população que diz jogar games. Isso significa que três em cada quatro pessoas no Brasil usam celulares, videogames ou computadores para jogar.

Este é o maior número já registrado em território nacional, e representa um aumento de dois pontos percentuais em relação ao ano passado. Já dentro do público gamer, a maioria dos usuários é composta por mulheres, que representam 51% dos jogadores.

Os números são do nono levantamento anual realizado pela Pesquisa Game Brasil (PGB), desenvolvida pelo Sioux Group e Go Gamers em parceria com Blend New Research e ESPM. Em 2022, o estudo ouviu 13.051 pessoas em 26 estados e no Distrito Federal entre os dias 11 de fevereiro e 7 de março.

Fonte: <https://www.cnnbrasil.com.br/tecnologia/publico-gamer-cresce-e-3-em-cada-4-brasileiros-consomem-jogos-eletronicos/> (adaptado) - Acesso em agosto de 2022.

**17ª QUESTÃO**

O texto 05 é uma notícia e apresenta informações sobre um tema do cotidiano. Considerando as informações contidas no trecho localizado abaixo do título – *Pesquisa Game Brasil revelou que as mulheres representam a maioria dos jogadores no país; população brasileira nunca teve tantos gamers*, assinale a alternativa CORRETA sobre a sua função.

- a) Informação resumida sobre o conteúdo da notícia.
- b) Informação detalhada sobre conteúdo da notícia.
- c) Informação sem ligação com o conteúdo da notícia.
- d) Informação divergente ao conteúdo da notícia.
- e) Informação sobre jogos de tabuleiro.

**18ª QUESTÃO**

Assinale a alternativa CORRETA que indica qual o maior público gamer no Brasil.

- a) Masculino.
- b) Feminino.
- c) Adolescente.
- d) Infantil.
- e) Idoso.



Observe o infográfico a seguir responda as questões 19 e 20.



Fonte: <https://agrosaber.com.br/brasil-tem-a-maior-producao-de-etanol-da-historia-mas-o-biocombustivel-esta-por-um-fio/> - Acesso em agosto de 2022.

### 19ª QUESTÃO

A partir da leitura do infográfico, percebe-se que são apresentadas informações sobre:

- a) Ciclo da gasolina.
- b) Ciclo do gás carbônico (CO<sub>2</sub>).
- c) Ciclo da cana-de-açúcar.
- d) Ciclo do álcool (etanol).
- e) Ciclo dos combustíveis.

### 20ª QUESTÃO

Considerando o infográfico, o gás carbônico é usado no ciclo da cana-de-açúcar.

Assinale a alternativa CORRETA acerca desse uso.

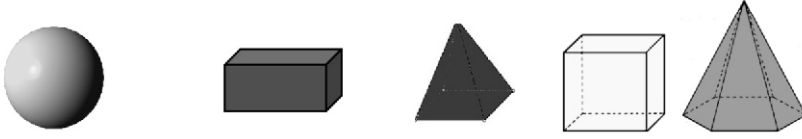
- a) Produzir o açúcar.
- b) Moer o seu bagaço.
- c) Abastecer os carros.
- d) Produzir a gasolina.
- e) Desenvolver as plantações.



# MATEMÁTICA

## 21ª QUESTÃO

Observe os detalhes de cada figura geométrica e marque a alternativa CORRETA indicando qual delas consegue rolar livremente.




FONTE: <https://www.ensinandomatematica.com/atividades-solidos-geometricos>.  
Acesso em: 18/09/2022. (Adaptado).

- a) Esfera.
- b) Paralelepípedo.
- c) Cubo.
- d) Pirâmide de base quadrada.
- e) Pirâmide de base hexagonal.

## 22ª QUESTÃO

Tainá gosta de desenhar e escolheu uma forma geométrica para criar sua mandala.



Que forma geométrica Tainá usou para iniciar o desenho?


- a) Círculo.
- b) Triângulo.
- c) Retângulo.
- d) Quadrado.
- e) Losango.

RASCUNHO



**23ª QUESTÃO**

A casquinha do sorvete e o chapéu lembram um dos sólidos geométricos.



Fonte: <https://br.pinterest.com/>. Acesso em: 18/09/2022. (Adaptado).

Marque a alternativa CORRETA que indica o sólido geométrico correspondente às figuras.

- a) Cilindro.
- b) Cone.
- c) Cubo.
- d) Pirâmide.
- e) Esfera.

**24ª QUESTÃO**

Alberto juntou algumas moedas para dar ao seu sobrinho.



Fonte: <https://pin.it/5txX8j7>. Acesso em: 18/09/2022. (Adaptado).

Quantas moedas ele conseguiu juntar?

- a) R\$ 7.
- b) R\$ 8.
- c) R\$ 10.
- d) R\$ 4.
- e) R\$ 3.

RASCUNHO



**25ª QUESTÃO**

O zoológico fez uma pesquisa para descobrir o animal preferido do público. Complete a tabela com a soma total de cada animal.

ANIMAIS PREFERIDOS DO PÚBLICO			
ANIMAIS	Crianças	Adultos	Total
Leão	1	0	_____
Zebra	4	3	_____
Onça	3	6	_____
Elefante	1	1	_____
Macaco	1	0	_____
<b>TOTAL</b>	<b>10</b>	<b>10</b>	<b>20</b>

Marque a alternativa que indica o animal mais votado:

- a) Leão.
- b) Macaco.
- c) Zebra.
- d) Elefante.
- e) Onça.

**26ª QUESTÃO**

A copa do mundo de futebol reúne as melhores seleções do planeta, mas apenas uma é a grande campeã.

PAÍSES VENCEDORES DA COPA DO MUNDO					
Brasil					
Itália					
Alemanha					
Argentina					
Uruguai					
Inglaterra					
França					
Espanha					

Marque a alternativa CORRETA que indica o nome do país que mais ganhou a taça da copa do mundo:

- a) Inglaterra.
- b) Argentina.
- c) Alemanha.
- d) Brasil.
- e) Itália.

RASCUNHO



**27ª QUESTÃO**

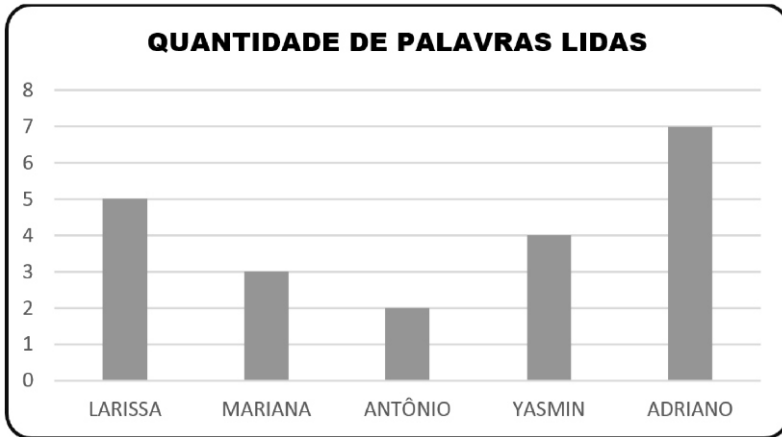
Na venda de Manoel os cachos de banana são padronizados com 10 unidades em cada. Ele colocou 6 cachos de banana à venda.

Marque a alternativa CORRETA que indica a quantidade total de bananas encontradas na venda:

- a) 30
- b) 40
- c) 60
- d) 50
- e) 20

**28ª QUESTÃO**

Larissa, Mariana, Antônio, Yasmin e Adriano fizeram uma competição de leitura de palavras e colocaram os resultados na tabela abaixo.



Observe a quantidade de palavras que cada um leu e marque a alternativa CORRETA que indica o nome de quem venceu:

- a) Antônio.
- b) Larissa.
- c) Mariana.
- d) Yasmin.
- e) Adriano.

**29ª QUESTÃO**

Davi precisa tomar 2 litros de água por dia, mas em sua casa só tem garrafinhas de 500ml. Quantas garrafinhas de 500ml ele precisará beber por dia?

- a) 3
- b) 2
- c) 6
- d) 4
- e) 5

**30ª QUESTÃO**

Os quadros abaixo estão organizados de acordo com uma sequência de três figuras geométricas.



Marque a alternativa que indica de forma CORRETA as figuras que completam a sequência.

- a)
- b)
- c)
- d)
- e)

RASCUNHO



# CONHECIMENTOS GERAIS

## 31ª QUESTÃO

Observe o mapa abaixo com a divisão regional do estado da Paraíba:



(Disponível em: <https://www.google.com/search?q=mesorregi%C3%B5es+da+paraiba&sca>. Acesso em: 30/01/2023)

Conforme o mapa acima, o estado da Paraíba está dividido em quatro (04) mesorregiões. Analisando as características destas regiões, é CORRETO afirmar que:

- a) a mesorregião do Sertão, por ser a mais extensa e a mais populosa, é a mais importante politicamente.
- b) a Borborema é a região que mais chove na Paraíba e tem, em seu espaço, a cidade de Campina Grande.
- c) a Mata Paraibana é a mais importante, tem a localização da capital e é a mais rica economicamente.
- d) a mesorregião do Agreste, devido sua localização geográfica, é a mais afetada pelo fenômeno das secas.
- e) as quatro mesorregiões não apresentam diferenças geográficas e nem históricas entre seus espaços.

## 32ª QUESTÃO

Observe os trechos da música “**Paraíba**”, de Luiz Gonzaga e Humberto Teixeira:

Quando a lama virou pedra  
E mandacaru secou  
Quando ribaçã de sede  
Bateu asas e voou  
Eu então se vim me embora  
Carregando a minha dor  
Hoje eu mando um abraço  
Pra ti, pequenina  
Paraíba masculina  
Muié macho, sim, sinhô.  
(...)

(Disponível em: <https://www.google.com/search?q=paraiba+masculina+letra&rlz=1C1CHB>. Acesso em: 30/01/2024)

Analisando o trecho da música acima e alguns aspectos da realidade atual desse estado, é CORRETO afirmar:

- a) A Paraíba é o menor estado do Brasil, em extensão territorial, por isso a afirmação “Pra ti pequenina”.
- b) A Paraíba é um dos estados do Nordeste que sofre, historicamente, com os efeitos da seca, conforme o trecho da música.
- c) No estado da Paraíba, a população masculina é superior à população feminina, de acordo com o IBGE.
- d) O mandacaru é uma espécie de planta típica da Caatinga, mas essa planta e essa vegetação não são características na Paraíba.
- e) A expressão pequenina, para a Paraíba, refere-se ao fato de ser o estado menos populoso do Nordeste, devido as migrações.



### 33ª QUESTÃO

O Artigo 1º da Constituição da República Federativa Brasileira de 1988 define o Brasil como um Estado Democrático de Direito. Assim, considerando os aspectos políticos atuais, da República e da Democracia, é CORRETO afirmar que o Brasil:

- a) não adota o princípio da soberania por parte do povo, para a eleição de seus representantes.
- b) adota o sistema parlamentarista, isso porque a Câmara dos Deputados é quem governa a Nação.
- c) é um país com limitada organização partidária e limitada liberdade de expressão política.
- d) é um país em que a Constituição não estabelece limites para atuação dos seus governantes.
- e) é uma democracia representativa, com eleições diretas para escolha de seus governantes.

### 34ª QUESTÃO

O Censo demográfico realizado pelo IBGE, além realizar a contagem populacional, também identifica várias outras informações importantes sobre a situação e o comportamento da população brasileira. Sendo assim, assinale a alternativa que indica, CORRETAMENTE, uma destas situações atuais a respeito da população brasileira.

- a) Distribuição equitativa da população, entre as regiões.
- b) Taxa de mortalidade anual, maior que a natalidade.
- c) Elevação da expectativa de vida da população.
- d) Aumento do número de pessoas por lar e por família.
- e) Diminuição da população em relação ao censo de 2010.

### 35ª QUESTÃO

Observe a figura abaixo e leia o texto sobre a agricultura familiar.



(Disponível em: <https://www.google.com/search?q=agricultura+familiar&sca>. Acesso em 31/01/2024).

A agricultura familiar, é um tipo de produção que utiliza a mão de obra de sua própria família nas atividades agropastoris, é realizada em pequenas propriedades. Este tipo de agricultura desempenha importante papel socioeconômico para a sociedade brasileira, em geração de empregos e na produção de alimentos.

Assinale a alternativa que indica, CORRETAMENTE, a modalidade de agricultura que também é conhecida como a agricultura familiar.

- a) Agronegócio.
- b) Agricultura de subsistência.
- c) Agricultura comercial.
- d) Agricultura Intensiva.
- e) Agricultura de precisão.

### 36ª QUESTÃO

Leia o trecho a seguir sobre a violência e a insegurança no Brasil:

"A violência no Brasil é um problema estrutural de nossa sociedade que gera pânico na população, perdas financeiras para o país e que reduz a qualidade de vida do povo brasileiro"

(Disponível em: <https://brasilescola.uol.com.br/sociologia/violencia-no-brasil.htm>. Acesso em 31/01/2024)

Analisando o problema da violência no Brasil, suas causas e suas consequências, é CORRETO afirmar que:

- a) a violência e os homicídios acontecem sobretudo com os mais idosos.
- b) a violência não é generalizada, ocorre apenas nas grandes cidades do país.
- c) a rigidez do sistema judiciário e das punições, são as causas da violência.
- d) a exclusão social de grande parte da população é uma das causas da violência.
- e) a violência atual não tem relação com a história colonial do Brasil.





**37ª QUESTÃO**

Observe a charge sobre o aquecimento global:



(Disponível em: <https://www.google.com/search?q=charge+sobre+o+aquecimento+global>. Acesso em 31/01/2024)

O aquecimento global refere-se ao aumento das temperaturas em toda a Terra, ao longo das últimas décadas. Uma das causas é a emissão de gases de efeito estufa, em função do elevado consumo de combustíveis fósseis. Sendo assim é necessário modificar a matriz energética global, para o consumo de energias limpas, que não contribuam para a problemática do aquecimento global.

Pensando em uma solução para o aquecimento global, assinale a alternativa que apresenta duas fontes de energias classificadas como limpas e renováveis, e que não liberam gases de estufa.

- a) Termoelétrica e carvão vegetal.
- b) Energia nuclear e gasolina.
- c) Gás natural e carvão mineral.
- d) Energias solar e eólica.
- e) Querosene e óleo diesel.

**38ª QUESTÃO**

Leia e analise as proposições abaixo sobre o acesso à internet e a utilização das tecnologias da comunicação e da informação:

- I- A Internet transformou muito a forma como nos comunicamos. Qualquer pessoa com acesso à rede e com um celular, pode compartilhar suas opiniões, ideias e informações.
- II- No Brasil, atualmente, o acesso à internet é universal. Todas as pessoas em todos os lugares, utilizam equipamentos para acessar sites diversos e interagir em redes sociais.
- III- As distâncias físicas entre cidades e países, representam um obstáculo para as comunicações e trocas de informações pela internet. A internet não venceu a distância entre os lugares.
- IV- Com a internet e através das redes sociais, várias pessoas, em diferentes lugares, podem se comunicar simultaneamente e instantaneamente, fazendo uso de diferentes plataformas.

É CORRETO o que se afirma apenas em:

- a) I e IV.
- b) II e III.
- c) I, II e III.
- d) II, III e IV.
- e) I, II e IV.



### 39ª QUESTÃO

Observe a imagem abaixo, sobre alguns dos problemas urbanos.



(Disponível em: <https://www.google.com/search?q=charge+sobre+lixo+urbano>. Acesso em 02/02/2024)

O lixo urbano é um dos problemas ambientais das cidades brasileiras. O aumento do consumo, por parte da população, tem gerado uma quantidade cada vez maior, de lixo, sobretudo os chamados resíduos secos: papel, plásticos, vidros e metais.

Assinale a alternativa que apresenta, CORRETAMENTE, uma prática ou alternativa ecológica adequada para minimizar os impactos ambientais, decorrentes da geração dos resíduos secos (papel, vidro, plásticos e metais).

- a) Lixão.
- b) Consumismo.
- c) Incineração.
- d) Compostagem.
- e) Reciclagem.

### 40ª QUESTÃO

De acordo com o Artigo 196º da Constituição Federal Brasileira: “Saúde é direito de todos e dever do Estado, garantido mediante políticas sociais e econômicas que visem à redução do risco de doenças e de outros agravos, e ao acesso universal e igualitário às ações e serviços para sua promoção, proteção e recuperação.”

(<https://www.invivo.fiocruz.br/saude/saude-sociedade-e-qualidade-de-vida/>.)

Analisando o que diz a Constituição sobre o direito à saúde e sua importância para a sociedade, leia as proposições abaixo:

- I- Saúde é um direito fundamental e uma condição indispensável para o desenvolvimento humano e a qualidade de vida.
- II- Saúde é também resultado de fatores econômicos e sociais, mas não tem relação com fatores políticos e culturais.
- III- O Estado não deve ser responsável pela saúde de toda a população e deve assegurar apenas o atendimento curativo.
- IV- No Brasil a desigualdade social e as precárias condições habitacionais, tem um papel importante na saúde e na qualidade de vida.

É CORRETO o que se afirma apenas em:

- a) I e IV.
- b) I e III.
- c) II e IV.
- d) I, II e III.
- e) II, III e IV.

