



PREFEITURA MUNICIPAL DE SÃO DOMINGOS DO CARIRI - PB

NÍVEL FUNDAMENTAL COMPLETO

AUXILIAR DE SERVIÇOS GERAIS, MERENDEIRA, MOTORISTA,
OPERADOR DE MÁQUINAS PESADAS E PEDREIRO.

EXAME GRAFOTÉCNICO:

(Transcreva a frase abaixo no local indicado na sua Folha de Respostas)

“Onde o Sol predomina e ilumina”

INSTRUÇÕES:

- 01** Verifique se este caderno de provas contém **40 (quarenta)** questões de múltipla escolha, sendo Português de **01 a 20**, Matemática de **21 a 30** e Conhecimentos Gerais de **31 a 40**.
- 02** Observe se há falhas ou imperfeições gráficas que causem dúvidas. Caso existam, comunique imediatamente ao Fiscal de Sala.
- 03** Verifique se os dados existentes na Folha de Respostas conferem com os dados do Cartão de Inscrição.
- 04** Esta Prova tem duração de **4 (quatro)** horas. Não é permitida a saída do candidato antes de esgotado o tempo mínimo de **2 (duas)** horas.
- 05** É vetado, durante a prova, o intercâmbio ou empréstimo de material de qualquer natureza entre os candidatos, bem como o uso de celulares, calculadoras e/ou qualquer outro tipo de equipamento eletrônico. A fraude, ou tentativa, a indisciplina e o desrespeito às autoridades encarregadas dos trabalhos são faltas que eliminam o candidato.
- 06** Assine a **Lista de Presença** e entregue ao Fiscal de Sala a **Folha de Respostas** devidamente assinada, bem como o **Caderno de Prova**. O candidato poderá destacar o gabarito rascunho da última folha da prova, e levá-lo para sua conferência.



PORTUGUÊS

Leia o texto abaixo para responder às questões de 1 a 7:

O Sentinela

Por Andréa de Nicola

O vermelho se espalha
Por toda a paisagem
Estrondos de canhões ardem
O ser vivente açoita.

E faz surgir o abismo
Limo no que foi formosura
Gritos, sufocos, gemidos
Choro na bela **Alexandria**.

E veloz tal qual um **Pégaso**
Um pássaro reluzente sobrevoa
Cortando o solo e o espaço
Nas fendas abertas da Pátria.

Bravos fardados tombam
Em suas medalhas, ouro e prata
Em seus túmulos, mármore e bronze
Em seus corpos, nada.

Tristes memórias, um clarim toca
Num grande silêncio seus espíritos habitam
Nos alvos braços celestiais dormem
Velando está um sentinela.

Fonte: Nicola, Andréa. O sentinela. In: ALMEIDA, Heriberto Coelho De (org.). **Antologia Contemporânea da Poesia Paraibana**. Paraíba: O Sebo Cultural, 1995.

1ª QUESTÃO

Diante da semântica imagética que o poema de Andréa de Nicola sugere, a partir da representação poética de um cenário de guerra, o que o vermelho simboliza?

- a) Os gemidos e sufocos.
- b) A formosura.
- c) O pássaro reluzente.
- d) O sangue.
- e) As medalhas de ouro e prata.

2ª QUESTÃO

Qual é o efeito da chegada do pássaro reluzente sobre a Pátria, conforme descrito no poema?

- a) O aumento da destruição, uma vez que, o pássaro metaforiza um avião de guerra.
- b) O renascimento da formosura, pela beleza da liberdade que as asas de um pássaro representam.
- c) A separação dos soldados, apartados de sua pátria.
- d) A ruína dos túmulos de mármore e bronze.
- e) O silenciamento de gemidos e sufocos.

3ª QUESTÃO

O que o verso "Em seus corpos, nada." sugere?

- a) Eles não foram atingidos pelos estrondos de canhões.
- b) Eles não possuíam nada material.
- c) Eles perderam suas medalhas de ouro e prata.
- d) Eles estavam vazios de sentimentos.
- e) Eles não tinham mais vida em seus corpos.



4ª QUESTÃO

O que justifica a utilização de letra maiúscula no início das palavras Alexandria e Pégaso, destacadas no poema?

- a) Representam palavras estrangeiras.
- b) São substantivos abstratos.
- c) Trata-se de nomes próprios.
- d) Foi apenas uma escolha estilística da poeta.
- e) Porque são precedidos por artigos definidos.

5ª QUESTÃO

Na frase: “Velando está um sentinela”, a poeta optou por usar “um sentinela” ao invés de “uma sentinela”, mesmo que a forma correta gramaticalmente é a segunda. Qual alternativa explica o efeito dessa escolha lexical no poema?

- a) Indica a intenção de apresentar a sentinela de uma forma mais precisa, buscando especificar o gênero masculino ou características individuais.
- b) A escolha foi feita para manter a rima com a palavra "está".
- c) A poeta desconsiderou as regras gramaticais por descuido.
- d) A poeta buscou criar ambiguidade na identidade de quem está velando.
- e) A opção por "um" tem o propósito de enfatizar o aspecto genérico da palavra.

6ª QUESTÃO

Na passagem "Em seus túmulos, mármore e bronze", qual figura de linguagem foi utilizada?

- a) Antítese.
- b) Metonímia.
- c) Metáfora.
- d) Hipérbole.
- e) Prosopopeia.

7ª QUESTÃO

No verso "Nas fendas abertas da pátria", a figura de linguagem empregada é uma:

- a) Anáfora.
- b) Hipérbole.
- c) Personificação.
- d) Metáfora.
- e) Sinestesia.

Leia o texto abaixo para responder às questões de 8 a 15.





8ª QUESTÃO

Considerando o discurso ácido presente na tirinha "Ecochatos", qual é o principal recurso utilizado para criticar a postura do personagem em relação ao aquecimento global?

- a) Metáfora.
- b) Paradoxo.
- c) Prosopopeia.
- d) Ironia.
- e) Antítese.

9ª QUESTÃO

Na tirinha "Ecochatos", qual é a postura do personagem em relação ao aquecimento global?

- a) De desdém sobre a influência humana nas mudanças climáticas.
- b) De preocupação exagerada com o aquecimento global.
- c) De reflexão sobre a necessidade de ações imediatas para combater as mudanças climáticas.
- d) De lançar um olhar à importância de se adaptar às mudanças climáticas.
- e) De preocupação com a indiferença diante dos problemas ambientais.

10ª QUESTÃO

No segundo quadrinho da tirinha "Ecochatos", a personagem utiliza a expressão "A temperatura do planeta sempre variou". Qual é a intenção da autora ao incluir essa fala?

- a) Mostrar a inevitabilidade das mudanças climáticas.
- b) Destacar a estabilidade climática ao longo do tempo.
- c) Ironizar o fato da alta temperatura causada pelo aquecimento global.
- d) Silenciar a existência de discursos negacionistas acerca do aquecimento global.
- e) Ressaltar a influência positiva das variações climáticas.

11ª QUESTÃO

No último quadrinho da tirinha "Ecochatos", a autora utiliza a imagem do personagem carbonizado e um cenário de fogo para transmitir uma ideia. Qual é essa ideia e qual figura de linguagem é empregada?

- a) A urgência de agir diante do aquecimento global. - ironia.
- b) A necessidade de se adaptar às mudanças climáticas. - metáfora.
- c) A inexistência de riscos reais relacionados ao aquecimento global. - ironia.
- d) A aceitação das consequências inevitáveis das mudanças climáticas. - prosopopeia.
- e) A exagerada preocupação com as mudanças climáticas. - antítese.

12ª QUESTÃO

No segundo quadrinho da tirinha "Ecochatos", são utilizados os termos "Uff" e "Arf". Qual é a principal função desses vocábulos nesse contexto?

- a) Reforçar a ideia de que o calor é benéfico para o planeta.
- b) Indicar surpresa diante das mudanças climáticas.
- c) Representar a alegria do personagem diante do calor.
- d) Demonstrar indiferença em relação ao aumento de temperatura.
- e) Indicar desconforto devido ao calor intenso, apesar do discurso negacionista.

13ª QUESTÃO

Ainda sobre os termos "Uff" e "Arf", eles são classificados, nesse contexto como:

- a) substantivos.
- b) onomatopeias.
- c) artigos.
- d) pronomes.
- e) interjeições.

**14ª QUESTÃO**

No último quadrinho da tirinha "Ecochatos", a expressão "Mó exagero!!!" é utilizada pela personagem para comentar uma situação dramática. Qual é a principal característica linguística presente nessa fala?

- a) Variação linguística regional - Regionalismo.
- b) Variação linguística estilística - Gíria.
- c) Variação linguística histórica - Arcaísmo.
- d) Variação linguística de gênero - Pajubá.
- e) Variação linguística situacional - Corporativa.

15ª QUESTÃO

Analise a tirinha "Ecochatos" e identifique a classificação da frase presente no segundo quadrinho, em que a personagem diz: "A temperatura do planeta sempre variou".

- a) Frase exclamativa.
- b) Frase negativa.
- c) Frase afirmativa.
- d) Frase interrogativa.
- e) Frase imperativa.

Leia o texto abaixo para responder às questões de 16 a 20:

Eu quero comer brigadeiro.

Por Dôra Limeira

Preto, traje roto, sandálias de dedo, ele morava num aglomerado habitacional de taipa, na periferia. Era menino ainda, mas suspeitaram que fosse bandido. Seu corpo amiúde fazia mogangas sobre um monte de barro, no arruado onde morava, equilibrando-se com agilidade. Brincava de ser cristo redentor, braços esticados, mãos estendidas sobre um corcovado de brasilites e isopores rasgados. Vadiava sob os aplausos da meninada e dos adultos desocupados. De tanto repetir a brincadeira, ganhou um apelido: "Cristo Redentor", Cristim na intimidade. Era franzino, comprido e não tinha medo de nada. Nos horários da escola, ora estendia seus braços em cruz sobre o arruado, ora se postava junto aos semáforos. Fazia malabarismos e virava cambalhotas diante dos carros parados no sinal vermelho. Comia fogo, canivetes, tesouras. Assim, ganhava uns trocados e entregava, em casa, à sua mãe que também tinha apelido – Dona Maria de Cristim. Um dia, final de tarde, parou junto à vitrine de uma lanchonete. Foi quando suspeitaram que fosse bandido. Imóvel, avistou os doces e brigadeiros, bolos confeitados, empadas e pastéis. As glândulas salivaram. Com a fome nos olhos e a boca babando, Cristim apalpou os bolsos rasos da bermuda. Ouviu o tilintar das moedas que arrecadara comendo tesouras no último semáforo. Retirou as moedas do bolso e pensou: "Eu quero comer brigadeiro". Mas não houve tempo. Um jato de sangue jorrou-lhe das entranhas e as moedas tilintaram no chão. Rolaram ladeira abaixo, alegres. Para Cristim, já não valiam nada. Seu corpo deu entrada no IML, sem sinais especiais que o identificassem, sem dono. Serviu de exemplo nos noticiários de televisão. O rosto morto foi capa de revista policial. Tarjas pretas cobriram-lhe os olhos desbotados, envergonhados. Cristo Redentor era menor de idade, um menino ainda, mas pensaram que fosse bandido. Em casa, sua mãe esperou a noite inteira. Volta para casa, Cristim, pensava. E chorava feito uma pietá. Dona Maria não sabia que, rígido e frio, Cristo jazia numa gaveta de frigorífico, sem túnica.

Sobre a autora: Dôra Limeira nasceu em João Pessoa no dia 21 de abril do século passado. Graduiu-se e especializou-se em História na UFPB. Depois que se aposentou enquanto professora, fez teatro, foi uma das fundadoras do Grupo Teatrália. Depois enveredou pela Literatura, tendo publicado seu primeiro livro aos 60 anos, o livro de contos "Arquitetura de um Abandono". Por causa desse livro, recebeu o prêmio de Revelação Literária 2003, promovido pelo Suplemento Literário Correio das Artes, do jornal A União. Em 2002, participou do Concurso Talentos da Maturidade (promovido pelo Banco Real) com o conto "Não há sinais", concorrendo com 10.338 inscritos em todo o país. Foi incluída entre os vinte melhores concorrentes. Como tal, teve seu conto publicado na antologia "Todas as estações", pela editora Peirópolis. Em 2005 publicou seu segundo livro de contos, o "Preces e Orgasmos dos Desvalidos". Dôra Limeira é uma das fundadoras do Clube do Conto da Paraíba.

Fonte: Limeira, Dôra. **Eu quero comer brigadeiro**. Disponível em: <https://clubedoconto.blogspot.com/> Acesso em 02 de abr de 2024.



16ª QUESTÃO

O texto "Eu quero comer brigadeiro" sugere uma crítica social, abordando a situação de um menino chamado Cristim. Qual é o desfecho do texto?

- a) A habilidade de Cristim em fazer malabarismos com objetos perigosos.
- b) A morte trágica de Cristim devido um acidente no número de engolir facas.
- c) A morte trágica de Cristim, pela interpretação equivocada de que ele fosse um bandido.
- d) A relação de Cristim com sua mãe, Dona Maria.
- e) A popularidade de Cristim como malabarista de rua.

17ª QUESTÃO

O apelido "Cristo Redentor" dado ao personagem principal, Cristim, revela:

- a) sua semelhança física com a estátua do Cristo Redentor.
- b) o estigma social imposto a ele devido ao seu comportamento.
- c) a devoção religiosa da comunidade onde ele vivia.
- d) o reconhecimento de sua generosidade para com os necessitados.
- e) sua habilidade em realizar malabarismos na rua.

18ª QUESTÃO

No trecho: "Com a fome nos olhos e a boca babando, Cristim apalpou os bolsos rasos da bermuda", como a autora descreve a condição de Cristim?

- a) Cristim estava preocupado e apreensivo.
- b) Cristim estava satisfeito e tranquilo.
- c) Cristim estava alegre e entusiasmado.
- d) Cristim estava faminto e desejoso.
- e) Cristim estava distraído e despreocupado.

19ª QUESTÃO

No trecho: "Seu corpo amiúde fazia mogangas sobre um monte de barro," a expressão "fazia mogangas" representa uma variante linguística chamada:

- a) onomatopeia.
- b) pleonasma.
- c) anacronismo.
- d) sinestesia.
- e) regionalismo.

20ª QUESTÃO

A palavra "brasilites" utilizada no trecho "equilibrando-se com agilidade. Brincava de ser cristo redentor, braços esticados, mãos estendidas sobre um corcovado de brasilites e isopores rasgados" refere-se a:

- a) um tipo de madeira encontrado na região.
- b) um tipo de material utilizado em telhados e lajes.
- c) um brinquedo popular na comunidade.
- d) um objeto religioso usado nas celebrações locais.
- e) uma planta nativa da região.



MATEMÁTICA

21ª QUESTÃO

O proprietário de uma padaria investiu R\$ 3.600,00 na compra de uma máquina para usar na fabricação de bolos. Com esse novo equipamento, ele irá produzir e vender 30 bolos diariamente, com um lucro de R\$ 8,00 por unidade. Sendo assim, com a venda dos bolos, em quantos dias, no mínimo, ele terá obtido, totalmente, o lucro igual ao valor gasto com a máquina?

- a) 18 dias
- b) 10 dias
- c) 12 dias
- d) 15 dias
- e) 19 dias

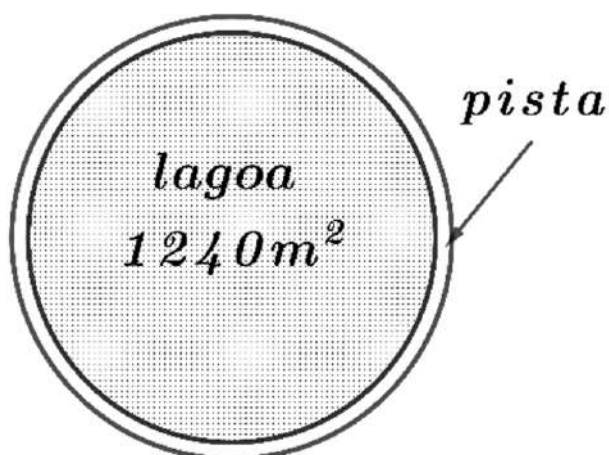
22ª QUESTÃO

Com o objetivo de participar de uma prova de atletismo nos jogos escolares, Diego iniciou um treino para melhorar o seu tempo de corrida em um percurso de 1 km. No primeiro dia de treino, ele completou o percurso em 8min 20s, e no último dia de treino, alcançou a marca em 5min 40s. É CORRETO afirmar que, em termos percentuais, o tempo de corrida de Diego durante o período de treinamento diminuiu em:

- a) 26%
- b) 20%
- c) 32%
- d) 25%
- e) 30%

23ª QUESTÃO

Uma lagoa possui um formato circular com área de $1240 m^2$, e ao seu redor foi construída uma pista de caminhada, conforme representada na figura abaixo. Se uma pessoa der 5 voltas completas na pista, quantos metros, no mínimo, ela terá percorrido? (use $\pi = 3,1$)



- a) 800 metros
- b) 620 metros
- c) 465 metros
- d) 530 metros
- e) 744 metros

RASCUNHO

**24ª QUESTÃO**

A prefeitura de uma cidade verificou que apenas 22% das 150 ruas estão pavimentadas. Com o objetivo de aumentar essa porcentagem para 40%, quantas ruas devem ser pavimentadas pela prefeitura?

- a) 33 ruas
- b) 30 ruas
- c) 27 ruas
- d) 36 ruas
- e) 24 ruas

25ª QUESTÃO

Se $A = \sqrt[3]{3^4 \times 3^5}$ e $B = 3^2 \times \sqrt[3]{64}$, então $\frac{A}{B}$ é igual a:

- a) 0,80
- b) 0,75
- c) 1,00
- d) 1,25
- e) 1,20

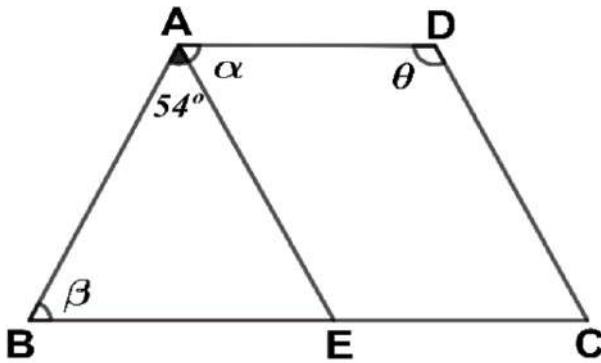
26ª QUESTÃO

Amanda e Bruno leram o mesmo livro, mas concluíram-no em tempos diferentes. Amanda dedicou-se à leitura de 20 páginas, diariamente, enquanto Bruno limitou-se a 15 páginas por dia. Sabendo que Bruno levou 4 dias a mais do que Amanda para finalizar a leitura, quantas páginas o livro possui?

- a) 360
- b) 180
- c) 120
- d) 300
- e) 240

27ª QUESTÃO

Na figura, AD e BC são segmentos paralelos, e o ponto $E \in BC$ é tal que ABE é um triângulo isósceles de base BE e $AECD$ é um paralelogramo.



Considerando que $\widehat{BAE} = 54^\circ$ avalie as seguintes proposições acerca dos ângulos α , β e θ indicados na figura:

- I- O ângulo β mede 65° .
- II- Os ângulos β e θ são suplementares.
- III- Os ângulos α e β são congruentes.

É CORRETO o que se afirma em:

- a) I e II apenas.
- b) III apenas.
- c) II apenas.
- d) II e III apenas.
- e) I, II e III.

RASCUNHO

**28ª QUESTÃO**

Um grupo de 9 amigos foi a uma pizzaria que oferece dois tipos de rodízio: o rodízio simples, composto apenas por pizzas, e o rodízio completo, que inclui pizzas, refrigerantes e sucos. Os preços, por pessoa, estão apresentados na tabela abaixo.

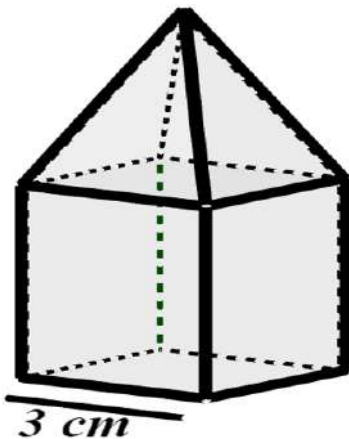
Tipo de Rodízio	Preço (R\$)
Simples	40,00
Completo	60,00

Considerando que cada um deles escolheu uma das opções oferecidas e pagaram juntos pelo rodízio, o total de R\$ 440,00, quantas pessoas optaram pelo rodízio completo?

- a) 4
- b) 5
- c) 7
- d) 3
- e) 6

29ª QUESTÃO

O sólido geométrico representado pela figura abaixo é formado por um cubo com arestas de 3 cm e por uma pirâmide regular, cuja base é uma face do cubo. Se o volume da pirâmide é $\frac{2}{5}$ do volume do cubo, é CORRETO afirmar que a altura da pirâmide é de:



- a) $4,5\text{ cm}$
- b) $4,0\text{ cm}$
- c) $3,8\text{ cm}$
- d) $4,2\text{ cm}$
- e) $3,6\text{ cm}$

30ª QUESTÃO

Em uma fábrica de chocolates, as máquinas **A** e **B** operam em diferentes taxas de produção para embalar os produtos. A máquina **A** consegue embalar 330 chocolates em 2 horas, enquanto a máquina **B** realiza a mesma tarefa em 3 horas. Qual é a quantidade total de chocolates que as duas máquinas, juntas, serão capazes de embalar em 5 horas?

- a) 1375 chocolates
- b) 1400 chocolates
- c) 1325 chocolates
- d) 1250 chocolates
- e) 1210 chocolates

RASCUNHO



CONHECIMENTOS GERAIS

31ª QUESTÃO

Observe o mapa abaixo com a divisão regional do estado da Paraíba:



(Disponível em: <https://www.google.com/search?q=mesorregi%C3%B5es+da+paraiba&sca>. Acesso em: 30/01/2023)

Conforme o mapa acima, o estado da Paraíba está dividido em quatro (04) mesorregiões. Analisando as características destas regiões, é CORRETO afirmar que:

- a) a mesorregião do Sertão, por ser a mais extensa e a mais populosa, é a mais importante politicamente.
- b) a Borborema é a região que mais chove na Paraíba e tem, em seu espaço, a cidade de Campina Grande.
- c) a Mata Paraibana é a mais importante, tem a localização da capital e é a mais rica economicamente.
- d) a mesorregião do Agreste, devido sua localização geográfica, é a mais afetada pelo fenômeno das secas.
- e) as quatro mesorregiões não apresentam diferenças geográficas e nem históricas entre seus espaços.

32ª QUESTÃO

Observe os trechos da música “**Paraíba**”, de Luiz Gonzaga e Humberto Teixeira:

Quando a lama virou pedra
E mandacaru secou
Quando ribaçã de sede
Bateu asas e voou
Eu então se vim me embora
Carregando a minha dor
Hoje eu mando um abraço
Pra ti, pequenina
Paraíba masculina
Muié macho, sim, sinhô.
(...)

(Disponível em: <https://www.google.com/search?q=paraiba+masculina+letra&rlz=1C1CHB>. Acesso em: 30/01/2024)

Analisando o trecho da música acima e alguns aspectos da realidade atual desse estado, é CORRETO afirmar:

- a) A Paraíba é o menor estado do Brasil, em extensão territorial, por isso a afirmação “Pra ti pequenina”.
- b) A Paraíba é um dos estados do Nordeste que sofre, historicamente, com os efeitos da seca, conforme o trecho da música.
- c) No estado da Paraíba, a população masculina é superior à população feminina, de acordo com o IBGE.
- d) O mandacaru é uma espécie de planta típica da Caatinga, mas essa planta e essa vegetação não são características na Paraíba.
- e) A expressão pequenina, para a Paraíba, refere-se ao fato de ser o estado menos populoso do Nordeste, devido as migrações.



33ª QUESTÃO

O Artigo 1º da Constituição da República Federativa Brasileira de 1988 define o Brasil como um Estado Democrático de Direito. Assim, considerando os aspectos políticos atuais, da República e da Democracia, é CORRETO afirmar que o Brasil:

- a) não adota o princípio da soberania por parte do povo, para a eleição de seus representantes.
- b) adota o sistema parlamentarista, isso porque a Câmara dos Deputados é quem governa a Nação.
- c) é um país com limitada organização partidária e limitada liberdade de expressão política.
- d) é um país em que a Constituição não estabelece limites para atuação dos seus governantes.
- e) é uma democracia representativa, com eleições diretas para escolha de seus governantes.

34ª QUESTÃO

O Censo demográfico realizado pelo IBGE, além realizar a contagem populacional, também identifica várias outras informações importantes sobre a situação e o comportamento da população brasileira. Sendo assim, assinale a alternativa que indica, CORRETAMENTE, uma destas situações atuais a respeito da população brasileira.

- a) Distribuição equitativa da população, entre as regiões.
- b) Taxa de mortalidade anual, maior que a natalidade.
- c) Elevação da expectativa de vida da população.
- d) Aumento do número de pessoas por lar e por família.
- e) Diminuição da população em relação ao censo de 2010.

35ª QUESTÃO

Observe a figura abaixo e leia o texto sobre a agricultura familiar.



(Disponível em: <https://www.google.com/search?q=agricultura+familiar&scs>. Acesso em 31/01/2024).

A agricultura familiar, é um tipo de produção que utiliza a mão de obra de sua própria família nas atividades agropastoris, é realizada em pequenas propriedades. Este tipo de agricultura desempenha importante papel socioeconômico para a sociedade brasileira, em geração de empregos e na produção de alimentos.

Assinale a alternativa que indica, CORRETAMENTE, a modalidade de agricultura que também é conhecida como a agricultura familiar.

- a) Agronegócio.
- b) Agricultura de subsistência.
- c) Agricultura comercial.
- d) Agricultura Intensiva.
- e) Agricultura de precisão.

36ª QUESTÃO

Leia o trecho a seguir sobre a violência e a insegurança no Brasil:

"A violência no Brasil é um problema estrutural de nossa sociedade que gera pânico na população, perdas financeiras para o país e que reduz a qualidade de vida do povo brasileiro"

(Disponível em: <https://brasilescola.uol.com.br/sociologia/violencia-no-brasil.htm>. Acesso em 31/01/2024)

Analisando o problema da violência no Brasil, suas causas e suas consequências, é CORRETO afirmar que:

- a) a violência e os homicídios acontecem sobretudo com os mais idosos.
- b) a violência não é generalizada, ocorre apenas nas grandes cidades do país.
- c) a rigidez do sistema judiciário e das punições, são as causas da violência.
- d) a exclusão social de grande parte da população é uma das causas da violência.
- e) a violência atual não tem relação com a história colonial do Brasil.



37ª QUESTÃO

Observe a charge sobre o aquecimento global:



(Disponível em: <https://www.google.com/search?q=charge+sobre+o+aquecimento+global>. Acesso em 31/01/2024)

O aquecimento global refere-se ao aumento das temperaturas em toda a Terra, ao longo das últimas décadas. Uma das causas é a emissão de gases de efeito estufa, em função do elevado consumo de combustíveis fósseis. Sendo assim é necessário modificar a matriz energética global, para o consumo de energias limpas, que não contribuam para a problemática do aquecimento global.

Pensando em uma solução para o aquecimento global, assinale a alternativa que apresenta duas fontes de energias classificadas como limpas e renováveis, e que não liberam gases de estufa.

- a) Termoelétrica e carvão vegetal.
- b) Energia nuclear e gasolina.
- c) Gás natural e carvão mineral.
- d) Energias solar e eólica.
- e) Querosene e óleo diesel.

38ª QUESTÃO

Leia e analise as proposições abaixo sobre o acesso à internet e a utilização das tecnologias da comunicação e da informação:

- I- A Internet transformou muito a forma como nos comunicamos. Qualquer pessoa com acesso à rede e com um celular, pode compartilhar suas opiniões, ideias e informações.
- II- No Brasil, atualmente, o acesso à internet é universal. Todas as pessoas em todos os lugares, utilizam equipamentos para acessar sites diversos e interagir em redes sociais.
- III- As distâncias físicas entre cidades e países, representam um obstáculo para as comunicações e trocas de informações pela internet. A internet não venceu a distância entre os lugares.
- IV- Com a internet e através das redes sociais, várias pessoas, em diferentes lugares, podem se comunicar simultaneamente e instantaneamente, fazendo uso de diferentes plataformas.

É CORRETO o que se afirma apenas em:

- a) I e IV.
- b) II e III.
- c) I, II e III.
- d) II, III e IV.
- e) I, II e IV.



39ª QUESTÃO

Observe a imagem abaixo, sobre alguns dos problemas urbanos.



(Disponível em: <https://www.google.com/search?q=charge+sobre+lixo+urbano>. Acesso em 02/02/2024)

O lixo urbano é um dos problemas ambientais das cidades brasileiras. O aumento do consumo, por parte da população, tem gerado uma quantidade cada vez maior, de lixo, sobretudo os chamados resíduos secos: papel, plásticos, vidros e metais.

Assinale a alternativa que apresenta, CORRETAMENTE, uma prática ou alternativa ecológica adequada para minimizar os impactos ambientais, decorrentes da geração dos resíduos secos (papel, vidro, plásticos e metais).

- a) Lixão.
- b) Consumismo.
- c) Incineração.
- d) Compostagem.
- e) Reciclagem.

40ª QUESTÃO

De acordo com o Artigo 196º da Constituição Federal Brasileira: “Saúde é direito de todos e dever do Estado, garantido mediante políticas sociais e econômicas que visem à redução do risco de doenças e de outros agravos, e ao acesso universal e igualitário às ações e serviços para sua promoção, proteção e recuperação.”

(<https://www.invivo.fiocruz.br/saude/saude-sociedade-e-qualidade-de-vida/>.)

Analisando o que diz a Constituição sobre o direito à saúde e sua importância para a sociedade, leia as proposições abaixo:

- I- Saúde é um direito fundamental e uma condição indispensável para o desenvolvimento humano e a qualidade de vida.
- II- Saúde é também resultado de fatores econômicos e sociais, mas não tem relação com fatores políticos e culturais.
- III- O Estado não deve ser responsável pela saúde de toda a população e deve assegurar apenas o atendimento curativo.
- IV- No Brasil a desigualdade social e as precárias condições habitacionais, tem um papel importante na saúde e na qualidade de vida.

É CORRETO o que se afirma apenas em:

- a) I e IV.
- b) I e III.
- c) II e IV.
- d) I, II e III.
- e) II, III e IV.

