

AVANÇASP



PREFEITURA MUNICIPAL DE
JUQUITIBA

PREFEITURA MUNICIPAL DE JUQUITIBA

CONCURSO PÚBLICO
01/2024

TRATORISTA

Leia atentamente as instruções abaixo

1. PROVA E FOLHA DE RESPOSTAS

Além deste Caderno de Prova, contendo 40 (quarenta) questões objetivas, você receberá do Fiscal de Sala:

- 01 (uma) Folha de Respostas destinada às respostas das questões objetivas. Confira se seus dados estão corretos.

2. TEMPO

- 03 (três) horas é o tempo disponível para realização da prova, já incluído o tempo para marcação da Folha de Respostas da prova objetiva;

- **01 (uma) hora** após o início da prova é possível, retirar-se da sala levando o caderno de prova;

3. INFORMAÇÕES GERAIS

- As questões objetivas têm 05 (cinco) alternativas de resposta (A, B, C, D, E) e somente **uma** delas está correta;

- Verifique se seu caderno está completo, sem repetição de questões ou falhas. Caso contrário, informe imediatamente o Fiscal da Sala, para que sejam tomadas as devidas providências;

- Confira seus dados pessoais na Folha de Respostas, especialmente nome, número de inscrição e documento de identidade e leia atentamente as instruções para preenchimento;

- O preenchimento das respostas da prova objetiva é de sua responsabilidade e não será permitida a troca de Folha de Respostas em caso de erro de marcação pelo candidato;

- Marque, na folha de respostas, com caneta de tinta azul ou preta, a letra correspondente à alternativa que você escolheu.

- Reserve tempo suficiente para o preenchimento de suas respostas. Para fins de avaliação, serão levadas em consideração apenas as marcações realizadas na Folha de Respostas da prova objetiva, não sendo permitido anotar informações relativas às respostas em qualquer outro meio que não seja o caderno de prova;

- Ao se retirar, entregue a Folha de Respostas preenchida e assinada ao Fiscal de Sala.

SERÁ ELIMINADO do presente certame o candidato que:

- a) for surpreendido, durante as provas, em qualquer tipo de comunicação com outro candidato;

- b) portar ou usar, qualquer tipo de aparelho eletrônico (calculadoras, bips/pagers, câmeras fotográficas, filmadoras, telefones celulares, smartphones, tablets, relógios, walkmans, MP3 players, fones de ouvido, agendas eletrônicas, notebooks, palmtops ou qualquer outro tipo de computador portátil, receptores ou gravadores) seja na sala de prova, sanitários, pátios ou qualquer outra dependência do local de prova;

- c) se ausentar da sala em que se realizam as provas levando consigo o Caderno de Questões e/ou a Folha de Respostas;

- d) se recusar a entregar a Folha de Respostas, quando terminar o tempo estabelecido;

- e) não assinar a Lista de Presença e/ou a Folha de Respostas.

LÍNGUA PORTUGUESA

TEXTO

Leia o texto para responder às questões de 1 a 5.

Vacina anticâncer para cães dobra a taxa de sobrevivência dos animais

Com tratamentos convencionais como quimioterapia, cachorros com certos tipos de câncer têm 35% mais chances de sobreviver por um período extra de um ano. Com uma nova vacina anticâncer, essa probabilidade sobe para 60% – praticamente o dobro.

Os resultados foram publicados na revista *Translational Oncology* em 2021, mas só foram divulgados em 5 de março pela Universidade de Yale, nos Estados Unidos. O tratamento é uma forma de imunoterapia e está atualmente sob revisão pelo Departamento de Agricultura dos Estados Unidos (USDA).

A vacina foi submetida a múltiplos ensaios clínicos ao longo dos últimos oito anos. Ela foi aplicada inclusive no golden retriever Hunter, de 11 anos, que, também passou por quimioterapia e, dois anos após seu diagnóstico inicial, não apresenta mais sinais de câncer.

O cachorro brincalhão que trabalhava antes como cão de resgate em locais de desastres agora vive com apenas três patas. Ele passou por uma amputação da pata dianteira esquerda após ser diagnosticado com osteossarcoma, forma de câncer ósseo que mata mais de 65% dos cães que aflige dentro de 12 meses.

“Cães, assim como humanos, desenvolvem câncer espontaneamente; eles crescem, metastatizam e mutam, assim como os cânceres humanos”, diz em comunicado um dos desenvolvedores da vacina, Mark Mamula, professor de reumatologia na Escola de Medicina de Yale.

O especialista conta que perdeu seu próprio cachorro para um câncer inoperável há cerca de 11 anos atrás. “Se pudermos fornecer algum benefício, algum alívio – uma vida sem dor – esse é o melhor resultado que poderíamos ter”, ele afirma.

Resultados promissores

Hunter recebeu sua primeira dose da vacina antes de sua cirurgia de amputação. A segunda dose veio antes do cachorro iniciar a quimioterapia e depois ele ainda recebeu um reforço.

Até agora, mais de 300 cães foram tratados com o imunizante durante uma série de ensaios clínicos, que ainda estão em andamento em 10 locais nos EUA e Canadá. Os resultados mostraram que a vacina cria anticorpos que encontram e se ligam a tumores, interferindo com as vias de sinalização responsáveis pelo crescimento tumoral.

Além de aumentar a taxa de sobrevivência de um ano após a vacinação, o tratamento também reduz os tumores em muitos dos cães. Por enquanto, a intervenção só se aplica a cachorros que já foram diagnosticados com câncer, mas, no futuro, os cientistas esperam descobrir se isso poderá ser aplicado para reduzir a incidência de tumores em cães saudáveis.

Mark Mamula criou uma empresa chamada TheraJan, que deve produzir eventualmente a vacina. “Recebo muitos e-mails de proprietários de cães gratos que foram informados de que seus animais de estimação teriam semanas ou meses de vida, mas que agora estão dois ou três anos além de seu diagnóstico de câncer”, ele relata.

Revista Superinteressante. Adaptado. Disponível em

<https://revistagalileu.globo.com/ciencia/noticia/2024/03/vacina-anti-cancer-para-caes-dobra-a-taxa-de-sobrevivencia-dos-animais.ghtml>

QUESTÃO 01

De acordo com o texto, é **incorreto** afirmar que:

- (A) os cânceres caninos se desenvolvem da mesma maneira que os cânceres humanos.
- (B) a vacina anticâncer em desenvolvimento se aplica a cães que já foram diagnosticados com câncer.
- (C) os anticorpos da vacina anticâncer atuam em vias responsáveis pelo crescimento tumoral.
- (D) a quimioterapia permite que cães com algum tipo de câncer tenham até 60% de chance de sobrevivência.
- (E) o câncer do tipo osteossarcoma pode levar cães à óbito em um período de doze meses.

QUESTÃO 02

Analise os excertos a seguir quanto à forma de discurso empregado:

I. O especialista conta que perdeu seu próprio cachorro para um câncer inoperável há cerca de 11 anos atrás.

II. “Se pudermos fornecer algum benefício, algum alívio – uma vida sem dor – esse é o melhor resultado que poderíamos ter”, ele afirma.

III. “Recebo muitos e-mails de proprietários de cães gratos que foram informados de que seus animais de estimação teriam semanas ou meses de vida, mas que agora estão dois ou três anos além de seu diagnóstico de câncer”, ele relata.

Nos excertos apresentados, verifica-se o emprego de discurso indireto apenas em:

- (A) I.
- (B) II.
- (C) III.
- (D) I e II.
- (E) II e III.

QUESTÃO 03

No quinto parágrafo do texto, em “(...) *eles crescem, metastatizam e mutam* (...)”, o pronome pessoal é utilizado para se referir aos:

- (A) cães.
- (B) cânceres caninos.
- (C) cânceres humanos.
- (D) testes clínicos da vacina anticâncer.
- (E) tratamentos convencionais.

QUESTÃO 04

As palavras “osteossarcoma” e “quimioterapia”, que ocorrem no texto, são formadas por composição por justaposição. São formadas pelo mesmo tipo de processo as palavras:

- (A) anticâncer e probabilidade.
- (B) vacinação e atualmente.
- (C) anticorpos e tumoral.
- (D) imunoterapia e agricultura.
- (E) reumatologia e especialista.

QUESTÃO 05

Considere o seguinte excerto: “Até agora, mais de 300 cães foram tratados com o imunizante durante uma série de ensaios clínicos (...)”. Dentre as palavras a seguir, que ocorrem no excerto apresentado, atua como advérbio apenas:

- (A) até.
- (B) agora.
- (C) durante.
- (D) série.
- (E) clínicos.

QUESTÃO 06

Analise as sentenças a seguir e assinale a alternativa em que o elemento em destaque funciona como um recurso de coesão sequencial.

- (A) O carro está estacionado **naquela** vaga.
- (B) A blusa branca e **a** cor-de-rosa estão na secadora.
- (C) **Esses** livros são muito bem escritos.
- (D) **Se** tirarmos férias na mesma época, podemos ir à praia.
- (E) Já cedo ouvia-se a britadeira. Não existe **ferramenta** mais barulhenta do que essa.

QUESTÃO 07

Analise as sentenças a seguir e assinale a alternativa em que o aspecto semântico da construção verbal em destaque equivale àquele expresso pelo pretérito mais-que-perfeito simples do modo indicativo.

- (A) Os animais **foram abandonados** na praça central da cidade.
- (B) Não **havia** uma testemunha sequer que pudesse ajudá-la no tribunal.
- (C) A organização do evento **estaria** melhor se houvesse mais funcionários no local.
- (D) Quando **soubermos** os detalhes da viagem, contaremos tudo.
- (E) Antes que sua mãe mandasse, a garotinha já **tinha feito** as malas.

QUESTÃO 08

Analise os pares de palavras a seguir e assinale a alternativa em que se verificam termos parônimos.

- (A) deferir; diferir.
- (B) martírio; suplício.
- (C) crédulo; ímpio.
- (D) automóvel; carro.
- (E) cordado; animal.

QUESTÃO 09

Analise as sentenças a seguir quanto ao emprego do vocábulo “a” em destaque e assinale a alternativa em que sua função é a de pronome demonstrativo.

- (A) Meus pais e eu já estamos **a** caminho do restaurante.
- (B) Os executivos começaram **a** discutir a respeito do preço do dólar.
- (C) **A** prateleira de livros já foi instalada e está pronta para uso.
- (D) Não compare sua forma de ver o mundo com **a** de Cecília.
- (E) A garota gostaria que **a** tratassem de outra forma.

QUESTÃO 10

Analise as sentenças a seguir quanto ao emprego do acento indicativo de crase:

- I. Escreva as respostas da prova à lápis.
- II. Ficou cara à cara com o criminoso.
- III. Costuma acender velas aromáticas à noite.

Está(ão) correta(s) apenas:

- (A) I.
- (B) II.
- (C) III.
- (D) I e II.
- (E) II e III.

Leia o texto a seguir para responder às questões de 11 a 15.

A palavra “lavanderia” tem algo a ver com a flor de lavanda? Na verdade, é o contrário: a flor é que tem a ver com a lavanderia.

A raiz *leue-* já se referia ao ato de tirar sujeira das coisas na Europa pré-histórica de 4 mil anos atrás, e deu origem à raiz *lav-* em latim, que então desembocou em “lavar”, “lavanderia”, “lavabo” e afins em português. Quando os romanos começaram a usar óleo de lavanda para perfumar roupas lavadas, a flor ganhou o nome. Outras palavras que vêm da raiz *leue-* são “dilúvio” e “diluir”, que ganham o *di(s)-* antes. Essa partícula remete à noção de distância (algo que fica óbvio na própria palavra “distância”) e, junto de *leue-*, significa usar água para levar algo para longe. Por fim, existe a palavra “aluvião”, nome que se dá à terra, argila e cascalho carregados pela água corrente de um rio, que vão se acumulando. A partícula *a-* antes do *lu-* significa “para”, “com a finalidade de”. Ou seja, aquela sujeira seria algo “para lavar”.

Fonte: blog Origem da Palavra, *Online Etymology Dictionary*.

Oráculo. Revista Superinteressante. Disponível em <<https://super.abril.com.br/coluna/oraculo/a-palavra-lavanderia-tem-algo-a-ver-com-a-flor-de-lavanda/>>

QUESTÃO 11

A formação de palavras de base latina na língua portuguesa, temática do texto apresentado, evoca o conceito gramatical de:

- (A) neologismo.
- (B) arcaísmo.
- (C) metáfora.
- (D) antitaxe.
- (E) hipotaxe.

QUESTÃO 12

O processo de formação de palavras como *lavanda* e *dilúvio*, referenciado no texto, é o de:

- (A) derivação.
- (B) flexão de número.
- (C) composição.
- (D) hibridismo.
- (E) recomposição.

QUESTÃO 13

Observando os radicais das palavras a seguir e levando em consideração os seus significados, conclui-se que a única palavra que não é formada a partir do mesmo radical mencionado no texto é:

- (A) diluente.
- (B) iluvial.
- (C) lavândula.
- (D) lavarar.
- (E) perlarvar.

QUESTÃO 14

Considere o excerto a seguir quanto à palavra “aluvião”: “A partícula *a-* antes do *lu-* significa “para”, “com a finalidade de”.” As características gramaticais dessa partícula, descritas no excerto apresentado, permitem classificá-la como um:

- (A) sufixo.
- (B) prefixo.
- (C) radical.
- (D) morfema de número.
- (E) morfema de gênero.

QUESTÃO 15

Enquanto substantivos, a característica comum entre as palavras *lavanda*, *lavanderia*, *aluvião* e *dilúvio* é o fato de serem:

- (A) abstratos.
- (B) compostos.
- (C) simples.
- (D) patronímicos.
- (E) próprios.

MATEMÁTICA E RACIOCÍNIO LÓGICO
QUESTÃO 16

Uma pessoa deseja juntar uma quantia de 1 bilhão de reais durante um período de 40 anos. Quantos reais por mês essa pessoa precisaria guardar para conseguir atingir sua meta? Indique o valor mais próximo:

- (A) 20 milhões.
- (B) 2 milhões.
- (C) 200 mil.
- (D) 20 mil.
- (E) 2 mil.

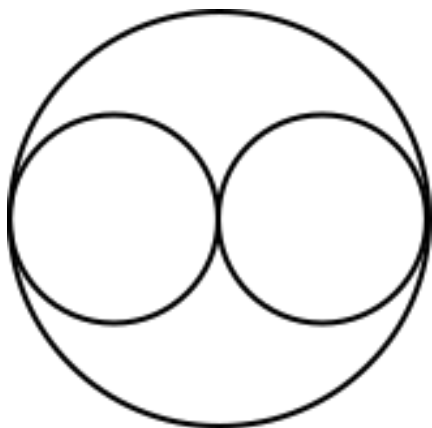
QUESTÃO 17

Um motorista fará um trajeto saindo da cidade A e passando pelas cidades B, C e D, nesta ordem. Sabe-se que a distância percorrida entre as cidades A e B é 10 km, a distância percorrida entre as cidades A e C é 22 km, e a distância percorrida entre as cidades B e D é 36 km. Nesta situação, qual a distância percorrida entre as cidades C e D?

- (A) 14 km.
- (B) 16 km.
- (C) 18 km.
- (D) 20 km.
- (E) 24 km.

QUESTÃO 18

Duas circunferências de raio r serão inscritas dentro de uma circunferência maior, de raio R , conforme a figura:



Se a área da circunferência menor é A_r , a área da circunferência maior será:

- (A) $3A_r$.
- (B) $\frac{A_r}{2}$.
- (C) $6A_r$.
- (D) $4A_r$.
- (E) $2A_r$.

QUESTÃO 19

Uma foto 3x4 ocupa a área de um retângulo de 3 cm de largura e 4 cm de altura. Considere que uma folha de papel no formato Carta tem dimensões 216 x 249 mm. Quantas fotos 3x4 cabem impressas nessa folha, no máximo? Todas as fotos serão impressas numa mesma direção em relação à folha.

- (A) 40.
- (B) 42.
- (C) 43.
- (D) 44.
- (E) 45.

QUESTÃO 20

Observe a seguinte sequência lógica numérica:

$$7/2, 5/2, 3/2, 1/2, -1/2, \dots$$

O próximo elemento desta sequência será:

- (A) -1.
- (B) $-3/2$.
- (C) $-5/2$.
- (D) $-7/2$.
- (E) $-2/3$.

QUESTÃO 21

A tabela abaixo mostra o número de chutes a gols e o número de gols marcados para três jogadores de futebol durante um campeonato:


Jogador	Chutes a gol	Gols
A	190	38
B	192	40
C	95	20

Os estatísticos dos jogos calculam a efetividade de um jogador como sendo a razão entre o número de gols marcados e o número de chutes a gol. Pode-se dizer que os jogadores com maiores efetividades nesse campeonato foram, do maior para o menor:

- (A) B, A, C.
- (B) C, A, B.
- (C) C, B, A.
- (D) B, C, A.
- (E) A, B, C.

QUESTÃO 22

Três filas são formadas lado a lado. Na primeira fila, a cada duas pessoas existe um espaço vazio, na segunda fila esse espaço é a cada 4 pessoas, e na terceira fila é a cada 3 pessoas, conforme a figura:



Percebe-se que nas linhas 3, 4, 5 e 6, há somente duas pessoas. Seguindo o padrão, qual a primeira linha que não haverá nenhuma pessoa?

- (A) 60.
- (B) 24.
- (C) 25.
- (D) 61.
- (E) 48.

QUESTÃO 23

Anderson tem 4 irmãos: Bruno, Carlos, Daniel e Emerson. Um dos cinco irmãos cometeu um crime, e todos eles participam de uma investigação policial. O delegado responsável ouviu os 5 irmãos, que deram os seguintes depoimentos:

- Anderson: Quem cometeu o crime foi o Daniel;
- Bruno: Quem cometeu o crime não fui eu;
- Carlos: Não foi o Emerson quem cometeu o crime;
- Daniel: Não foi o Carlos quem cometeu o crime;
- Emerson: Quem cometeu o crime foi o Bruno.

Sabendo-se que apenas um dos investigados mentiu na resposta para o delegado, quem cometeu o crime foi:

- (A) Anderson.
- (B) Bruno.
- (C) Carlos.
- (D) Daniel.
- (E) Emerson.

QUESTÃO 24

Observe a seguinte argumentação lógica:

“Não se preocupe, todos os recrutas até hoje foram aprovados neste curso de formação. Certamente você também será”.

A argumentação lógica trata-se do uso da:

- (A) Dedução.
- (B) Analogia.
- (C) Abdução.
- (D) Metáfora.
- (E) Hipótese.

QUESTÃO 25

Um chefe de cozinha decide abrir um restaurante que vende sanduíches. Suponha que o valor de venda do sanduíche será composto pelo custo de produção mais o lucro. Se o lucro pretendido do chefe é 25% do valor de venda do sanduíche e o custo de produção de cada sanduíche é R\$ 18,00, qual deve ser o valor de venda do sanduíche?

- (A) R\$ 20,00.
- (B) R\$ 22,50.
- (C) R\$ 23,50.
- (D) R\$ 24,00.
- (E) R\$ 25,50.

QUESTÃO 26

Um comerciante está fazendo o fechamento mensal contábil do seu negócio. Ele calcula que, de todo seu faturamento mensal, pagou 16% de impostos. Do total de impostos, o IPTU do estabelecimento representou 32%. Se o valor do IPTU nesse mês foi de R\$ 512,00, qual o faturamento mensal do negócio?

- (A) R\$ 4.660,00.
- (B) R\$ 4.800,00.
- (C) R\$ 5.120,00.
- (D) R\$ 5.800,00.
- (E) R\$ 10.000,00.

QUESTÃO 27

Indique, dentre as alternativas, o valor mais próximo de 0,18%:

- (A) 0,00018.
- (B) 0,180.
- (C) 0,0185.
- (D) 0,0017.
- (E) 0,017.

QUESTÃO 28

João tinha R\$ 25.000,00 guardado na poupança e investiu uma fração deste dinheiro numa aplicação no regime de juro simples. A taxa de juro anual foi de 15%, e o juro mensal recebido por João é de R\$ 200,00. Qual a fração do dinheiro guardado investida por João?

- (A) 9/16.
- (B) 9/25.
- (C) 16/25.
- (D) 9/4.
- (E) 25/48.

QUESTÃO 29

João e Maria juntam dinheiro num cofre. Para saber quanto cada um juntou, João só coloca cédulas de R\$ 2,00, enquanto Maria só coloca cédulas de R\$ 5,00. Certo dia, eles abriram o cofre e tinha um total de R\$ 105,00, e o número total de cédulas era de 33. Quanto foi o total juntado por Maria?

- (A) R\$ 65,00.
- (B) R\$ 55,00.
- (C) R\$ 50,00.
- (D) R\$ 40,00.
- (E) R\$ 75,00.

QUESTÃO 30

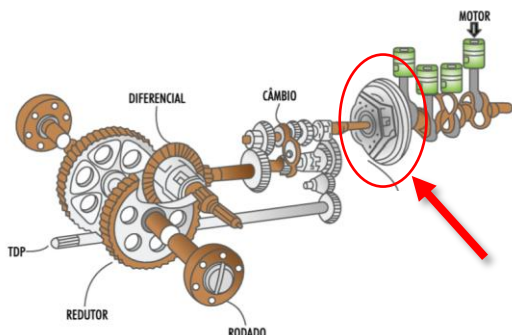
Em uma competição de matemática, um estudante participou de 5 rodadas e obteve as seguintes pontuações: 78, 82, 86, 87 e 92. Em um dado momento descobriu-se que, devido a um erro técnico, sua pontuação na terceira rodada foi registrada como o dobro do valor real. O estudante poderá participar de mais uma rodada. Qual a pontuação ele deve tirar nesta sexta rodada para que fique com a mesma média que teria antes da detecção do erro técnico?

- (A) 128.
- (B) 112.
- (C) 96.
- (D) 85.
- (E) 43.

CONHECIMENTOS ESPECÍFICOS

QUESTÃO 31

Analise a imagem abaixo, e assinale a alternativa que apresenta corretamente a peça indicada pela seta:



- (A) Embreagem.
- (B) Filtro de Ar.
- (C) Radiador.
- (D) Alternador.
- (E) Cilindro mestre de freio.

QUESTÃO 32

Qual é a recomendação ao conduzir uma máquina em declives acentuados?

- (A) Engatar uma marcha alta para garantir maior velocidade de descida.
- (B) Manter a máquina em ponto morto para economizar combustível.
- (C) Utilizar freios constantemente para controlar a velocidade.
- (D) Engatar uma marcha reduzida para garantir maior controle e segurança.
- (E) Acelerar bruscamente para vencer o declive rapidamente.

QUESTÃO 33

Analise as afirmativas abaixo, e assinale a alternativa que apresenta a alternativa com a relações:

- I - Trator 4x2 (tração simples).
- II - Trator 4x2 TDA (tração dianteira auxiliar).
- III - Trator 4x4.

() Possui todas as rodas do mesmo tamanho, providas de tração permanente, com velocidade igual nos dois eixos. Normalmente, o sistema de direcionamento do trator dá-se pela articulação do chassi.


() As rodas dianteiras, são menores que as traseiras e, além de possuírem função direcional, são providas de tração. Quando acionada a TDA, o rodado dianteiro tem um avanço de velocidade de, aproximadamente 5% em relação ao traseiro. Os rodados traseiros e dianteiros podem ter disposição de montagem individual ou duplado.

() Possui quatro rodas, sendo as duas traseiras de tração e as duas dianteiras, menores, apenas com finalidade direcional.

- (A) I, II, III.
- (B) II, I, III.
- (C) III, II, I.
- (D) III, I, II.
- (E) Nenhuma das alternativas.

QUESTÃO 34

Ao efetuar a troca de óleo do motor do Trator, é indicado que seja substituído, também qual das peças abaixo, para garantir a eficiência do sistema?



- (A) Bateria.
- (B) Sensor de temperatura do motor.
- (C) Correia do alternador.
- (D) Rolamento da roda dianteira.
- (E) Filtro de Óleo.

QUESTÃO 35

Para ajudar em uma fluidez melhor no tráfego das cidades existem as placas de trânsito. Assinale a alternativa que corresponde, respectivamente, aos reais e verdadeiros significados das placas demonstradas abaixo.



- (A) Serviços Auxiliares, Regulamentação e Advertência.
- (B) Regulamentação, Indicação e Serviços auxiliares.
- (C) Advertência, Indicação e Regulamentação.
- (D) Regulamentação, Serviços Auxiliares e Indicação.
- (E) Indicação, Serviços Auxiliares e Regulamentação.

QUESTÃO 36

De acordo com o Art. 1º do Código de Trânsito Brasileiro, o trânsito de qualquer natureza nas _____ do território nacional, abertas à circulação, rege-se por este Código.

- (A) Vias Terrestres.
- (B) Vias Espaciais e Terrestres.
- (C) Vias Aeroespaciais e Terrestres.
- (D) Vias Aquáticas e Terrestres.
- (E) Vias Aquáticas.

QUESTÃO 37

Máquinas pesadas, como escavadeiras, tratores e caminhões, são essenciais para essas operações, mas frequentemente consomem grandes quantidades de combustíveis fósseis e emitem poluentes atmosféricos, contribuindo para uma grande:

- (A) Sustentabilidade Ambiental.
- (B) Gradação Ambiental.
- (C) Manutenção Ambiental.
- (D) Preservação da Biodiversidade.
- (E) Degradação Ambiental.

QUESTÃO 38

Assinale a alternativa que corresponde com o termo que melhor se encaixa na lacuna do texto abaixo:

“A _____ é responsável por transferir a potência do motor para as rodas e para a tomada de força. Ela é composta principalmente por elementos como embreagem, caixa de marcha, redutores, diferencial e semieixos ou ponta de eixo. Além de transferir a potência, ela também possibilita sua interrupção e ajuste, incluindo mudanças na rotação. Em tratores, por exemplo, geralmente resulta em aumento de força e diminuição de rotação.”

- (A) Hidráulica.
- (B) Transmissão.
- (C) Junta do cabeçote.
- (D) Bateria.
- (E) Lanterna.

QUESTÃO 39

Analise a imagem abaixo, e assinale a alternativa que apresenta corretamente qual seu significado no painel do Trator:



- (A) Nível.
- (B) Líquido Arrefecedor.
- (C) Ar no motor.
- (D) Pressão do Óleo.
- (E) Luz de Ação.

QUESTÃO 40

De acordo com o Código de Trânsito Brasileiro, o condutor que dirigir veículo sem possuir os cursos especializados ou específicos obrigatórios, concorrerá em uma infração:

- (A) Grave.
- (B) Levíssima.
- (C) Média.
- (D) Gravíssima.
- (E) Leve.

