

**PREFEITURA MUNICIPAL DE IÚNA/ES**

**CONCURSO PÚBLICO  
EDITAL Nº 01/2023**



**OPERADOR DE MÁQUINAS PESADAS  
(TODAS AS REGIÕES)**

**Manhã**

**Tipo 1 - BRANCA**

Organizadora:



**INSTITUTO  
CONSULPLAN**

**CARGO: OPERADOR DE MÁQUINAS PESADAS (TODAS AS REGIÕES)**

**CONHECIMENTOS BÁSICOS**

**LÍNGUA PORTUGUESA**

**Quando eu estiver louco, afaste-se**

Há que se respeitar quem sofre de depressão, disritmia, bipolaridade e demais transtornos psíquicos que afetam parte da população. Muitos desses pacientes recorrem à ajuda psicanalítica e se medicam a fim de minimizar os efeitos desastrosos que respingam em suas relações profissionais e pessoais. Conseguem tornar, assim, mais tranquila a convivência. Mas tem um grupo que está longe de ser doente: são os que simplesmente se autointitulam “difíceis” com o propósito de facilitar para o lado deles. São os temperamentais que não estão seriamente comprometidos por uma disfunção psíquica – ao menos, não que se saiba, já que não possuem diagnóstico. São morrinhas, apenas. Seja por alguma insegurança trazida da infância, ou por narcisismo crônico, ou ainda por terem herdado um gênio desgraçado, se decretam “difíceis” e quem estiver por perto que se adapte. Que vida mole, não?

Tem uma música bonita do *Skank* que começa dizendo: “Quando eu estiver triste, simplesmente me abrace / Quando eu estiver louco, subitamente se afaste / Quando eu estiver fogo / suavemente se encaixe...”. A letra é poética, sem dúvida, mas é o melô do folgado. Você é obrigada a reagir conforme o humor da criatura.

Antigamente, quando uma amiga, um namorado ou um parente declarava-se uma pessoa difícil, eu relevava. Ora, estava previamente explicada a razão de o infeliz entornar o caldo, promover discussões, criar briga do nada, encasquetar com besteira. Era alguém difícil, coitado. E teve a gentileza de avisar antes. Como não perdoar?

Já fui muito boazinha, lembro bem.

Hoje em dia, se alguém chegar perto de mim avisando “sou uma pessoa difícil”, desejo sorte e desapareço em três segundos. Já gastei minha cota de paciência com esses difíceis que utilizam seu temperamento infantil e autocentrado como álibi para passar por cima dos sentimentos dos outros feito um trator, sem ligar a mínima se estão magoando – e claro que esses “outros” são seus afetos mais íntimos, pois com amigos e conhecidos eles são uns doces, a tal “dificuldade” que lhes caracteriza some como num passe de mágica. Onde foi parar o ogro que estava aqui?

Chega-se numa etapa da vida em que ser misericordioso cansa. Se a pessoa é difícil, é porque está se levando a sério demais. Será que já não tem idade para controlar seu egocentrismo? Se não controla, é porque não está muito interessada em investir em suas relações. Já que ficam loucos a torto e a direito, só nos resta nos afastar, mesmo. E investir em pessoas alegres, educadas, divertidas e que não desperdiçam nosso tempo com draminhas repetitivos, dos quais já se conhece o final: sempre sobra para nós, os fáceis.

*(Martha Medeiros. Revista O Globo. Em: abril de 2014. Adaptado.)*

**Questão 01**

**De acordo com as informações textuais, é possível inferir que a autora, Martha Medeiros, declara sobre a sua impaciência para com**

- A) as pessoas antissociais; que não sabem se relacionar com os outros.
- B) quem se distancia das pessoas, dos amigos, devido às adversidades cotidianas.
- C) as pessoas que não têm consideração com os demais; que são grosseiras, indelicadas e mal-educadas.
- D) os conhecidos que não têm flexibilidade para enfrentar as dificuldades do dia a dia; que precisam de atenção, zelo e dedicação constantes.

**Questão 02**

**“Seja por alguma insegurança trazida da infância, ou por narcisismo crônico, ou ainda por terem herdado um gênio desgraçado, se decretam ‘difíceis’ e quem estiver por perto que se adapte.” (1º§) Levando-se em consideração as informações enfatizadas ao longo do texto, depreende-se que a expressão “narcisismo crônico” significa:**

- A) Sensação esporádica de direito e exigência de admiração excessiva.
- B) Desvalorização de outras pessoas, a fim de manter uma sensação casual e fortuita de superioridade.
- C) Dificuldade incerta para regular a autoestima; necessidade de louvação e afiliações com pessoas próximas.
- D) Dependência permanente e habitual de afeto e amor do outro (para manter o sentido de si mesmo) e, ao mesmo tempo, não se preocupa com a necessidade do outro.

**Questão 03**

**Considere o fragmento a seguir: “Ora, estava previamente explicada a razão de o infeliz entornar o caldo, promover discussões, criar briga do nada, encasquetar com besteira.” (3º§). Podemos afirmar que a expressão destacada expressa valor:**

- A) Aditivo.
- B) Explicativo.
- C) Concessivo.
- D) Proporcional.

**Questão 04**

A palavra indicada que se refere corretamente à expressão sublinhada está evidenciada em:

- A) “Será que já não tem idade para controlar seu egocentrismo?” (6º§) – pudor.
- B) “A letra é poética, sem dúvida, mas é o melô do folgado.” (2º§) – malcontente.
- C) “Chega-se numa etapa da vida em que ser misericordioso cansa.” (6º§) – compassivo.
- D) “São os temperamentais que não estão seriamente comprometidos por uma disfunção psíquica [...]” (1º§) – impacientes.

**Questão 05**

“Ora, estava previamente explicada a razão de o infeliz entornar o caldo, promover discussões, criar briga do nada, encasquetar com besteira.” (3º§) A principal função da expressão “entornar o caldo” é ser expressiva para provocar sentimentos nos interlocutores. Essa expressão popular transmite um significado subjetivo da palavra, sujeito à interpretação de quem a lê. Podemos afirmar que o seu significado é:

- A) Convencer ou ficar convencido de algo.
- B) Estragar ou complicar muito alguma coisa.
- C) Não tomar decisões para agradar os outros, mas sim para ir em direção do próprio objetivo.
- D) Falar sem pensar; ser impulsivo, muitas vezes dispersos; expor as emoções de uma maneira disfuncional.

**Questão 06**

“Já gastei minha cota de paciência com esses difíceis que utilizam seu temperamento infantil e autocentrado como álibi para passar por cima dos sentimentos dos outros feito um trator, sem ligar a mínima se estão magando [...]” (5º§) Antônimo é toda palavra que tem o sentido oposto ao de outra. Assim sendo, a significação contrária da expressão grifada anteriormente é:

- A) Cativando.
- B) Agradando.
- C) Conquistando.
- D) Consternando.

**Questão 07**

Como estratégia de construção do texto, a narradora faz uso recorrente de alguns questionamentos ao longo da crônica. Que efeito eles provocam no texto?

- A) Persuadir o leitor e fazê-lo pensar a respeito da temática aludida.
- B) Legitimar as possíveis alterações de humor das pessoas atualmente.
- C) Sustentar e, ao mesmo tempo, contestar o ponto de vista apresentado.
- D) Sintetizar as diversas percepções a respeito do que é “ser uma pessoa difícil”.

**Questão 08**

Assinale a alternativa em que as palavras são acentuadas graficamente pelo mesmo motivo.

- A) melô / difícil / você
- B) álibi / música / poética
- C) mágica / gênio / alguém
- D) paciência / psíquica / está

**Tempo**

Filtrava-se como se pudesse se esquivar da fúria do tempo. A fúria das horas. A fúria que aflora nas horas de solidão. Era inócua aos seus medos. Mas determinada diante dos seus objetivos.

Costumava caminhar, e às vezes, percebendo ou não, deixava restos do que ficou e do que sonhava para trás. Pensava, inerte: e se eu voltar? Voltaria, se pudesse? Voltaria, se quisesse? Podia e, vez ou outra, queria. Mas o que ganharia? Não se constroem castelos com pedaços do que ficou. Do que se jogou, justamente por julgar, num momento de inspiração, um peso morto.

Mas o medo do fim teve fim. Findou-se numa tarde em que o sol se apagou. Num lapso, faltou-lhe ar. Estranhamente, não um sorriso. O mundo veio abaixo. Mas ela não. Nem ela, nem sua pele, nem seus objetivos. O mundo em pó. E ela, só. Mas não tão só. Olhou ao redor. Figuras emergindo das cinzas escuras. Viu-se naqueles rostos. Naqueles olhos confiantes. Naqueles sorrisos de alívio. Pela primeira vez, não se sentiu ameaçada. A ameaça e o tempo não mais andavam de mãos dadas. Desatada, ela conseguiu enfim encarar o futuro.

Naquele dia, fez as pazes com o tempo.

(MARTINZ, Juliano. *Tempo. Corrosiva – crônicas corrosivas e gestos de amor*, 2010.)

**Questão 09**

Após a leitura da crônica, é possível afirmar que:

- A) A personagem vive na mesmice do passado e não sente vontade em conhecer o que o futuro tem para lhe oferecer.
- B) O passar do tempo é algo extraordinário; no entanto, como o futuro é incerto, a personagem opta por permanecer com os hábitos e estilo de vida do passado.
- C) A personagem se desprende do passado, dos receios e das lembranças de um tempo que não volta mais, e se abre para vivenciar o futuro, novas mudanças, um novo tempo.
- D) Nada do que é deixado no passado é impossível de se resolver; porém, a personagem enfatiza que as mudanças futuras podem ser frustrantes e pretende continuar na monotonia.

**Questão 10**

Em “*Filtrava-se como se pudesse se esquivar da fúria do tempo.*” (1º§), o antônimo correto da palavra em destaque se refere a:

- A) Evadir.
- B) Desviar.
- C) Esgueirar.
- D) Confrontar.

**Questão 11**

O trecho “*Naquele dia, fez as pazes com o tempo.*” (4º§) nos permite compreender que:

- A) O tempo é algo passageiro; assim sendo, não devemos nos encantar com as ilusões futuras e sim permanecer acomodados em viver com as memórias do passado.
- B) O passado é algo que limita a personagem a encarar o futuro; por isso, ela permanece presa em seus pensamentos e prefere não encarar o tempo como o seu aliado.
- C) A personagem se desprende das incertezas e decidiu seguir novos caminhos que a vida irá lhe ofertar, desfrutando de todas as incertezas que o tempo pode lhe oferecer e surpreender.
- D) Após os desgastes causados pelo passado e as incertezas providas do futuro, a personagem faz a escolha de permanecer com os seus hábitos de rotina para não criar ilusões que lhe decepcione.

**Questão 12**

As palavras a seguir foram retiradas da crônica e possuem determinada similaridade, EXCETO uma; assinale-a.

- A) Fez.
- B) Jogou.
- C) Deixava.
- D) Ameaça.

**Questão 13**

No trecho “*Mas o medo do fim teve fim. Findou-se numa tarde em que o sol se apagou.*”, que inicia o 3º§, o autor utiliza o vocábulo “mas”. Sobre esta conjunção, assinale a afirmativa correta.

- A) Trata-se de uma dúvida que o autor irá apontar.
- B) O termo é empregado para fazer uma comparação.
- C) Refere-se a uma contradição que irá ocorrer a partir deste parágrafo.
- D) Trata-se, apenas, de uma continuação na ideia discorrida no parágrafo anterior.

**Questão 14**

As palavras a seguir foram retiradas do texto; assinale a alternativa INCORRETA quanto à separação silábica.

- A) lap – so
- B) ob – je – ti – vos
- C) pu – des – se
- D) es – tran – ha – men – te

**Questão 15**

A crônica nos faz pensar que devemos fazer escolhas durante todo o tempo e que essas escolhas irão refletir no nosso futuro.

Assinale, a seguir, o trecho em que indica o início de uma mudança para a personagem.

- A) “*Era inócua aos seus medos.*” (1º§)
- B) “[...] e se eu voltar? Voltaria, [...]” (2º§)
- C) “*Desatada, ela conseguiu enfim encarar o futuro.*” (3º§)
- D) “*Não se constroem castelos com pedaços do que ficou.*” (2º§)

**RACIOCÍNIO LÓGICO-MATEMÁTICO**

**Questão 16**

Felipe está se preparando para uma viagem de “mochilão” pela América do Sul, a fim de visitar alguns países. Ele separa em sua mochila 2 bermudas, 2 calças, 3 camisetas regatas, 3 camisetas de manga curta e 2 camisetas de manga longa. Quantas combinações são possíveis durante a viagem, se Felipe usar uma peça por vez para a parte superior e uma para a inferior do corpo?

- A) 24.
- B) 32.
- C) 48.
- D) 72.

**Questão 17**

Karla e Maria são amigas e viajam juntas; elas fazem o registro em um hotel de uma cidade onde irão visitar. Planejam para o dia ir ao centro histórico da cidade, depois ao *shopping* e, à noite, ao sair do *shopping*, irão retornar diretamente para o hotel. As seguintes linhas de ônibus funcionam conectando os locais:

- 3 linhas que vão do hotel ao centro histórico;
- 4 linhas que vão do centro histórico ao *shopping*;
- 2 linhas que vão do *shopping* ao hotel.

Quantas rotas pela cidade são possíveis, sabendo-se que as amigas cumpriram o planejado?

- A) 8.
- B) 12.
- C) 16.
- D) 24.

**Questão 18**

Observe a sequência de números a seguir:

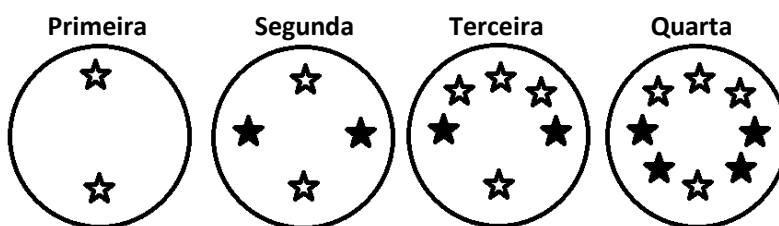
2, -8, 32, -128, ?

Qual será o próximo número da sequência que irá substituir a interrogação?

- A) 128.
- B) 256.
- C) 348.
- D) 512.

**Questão 19**

Observe a sequência de figuras a seguir:



Quantas estrelas brancas a sexta figura da sequência terá?

- A) 4.
- B) 6.
- C) 8.
- D) 10.

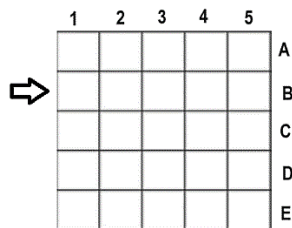
**Questão 20**

Ana, Bruna, Débora e Fernanda estão sentadas lado a lado na ordem apresentada em uma festa de casamento. Ambas se levantam para tentarem pegar o buquê da noiva. Quando voltam se sentam em cadeiras diferentes, trocando de posição da seguinte forma: A 2ª com a 4ª, a 1ª com a 3ª, a 4ª com a 1ª e a 3ª com a 2ª. Sendo assim, a pessoa que agora está sentada na 3ª cadeira é:

- A) Ana.
- B) Bruna.
- C) Débora.
- D) Fernanda.

**Questão 21**

A professora de educação infantil fará com os seus alunos uma dinâmica para melhorar a orientação espacial das crianças. Ela criou um quadrado grande com giz no pátio da escola, dividido por outros quadrados pequenos, conforme a imagem a seguir vista de cima. Os alunos deveriam seguir os seus comandos e andar para frente, para trás, esquerda e direita.



Determinada aluna está posicionada em cima da seta, mantendo o seu olhar na mesma direção da seta; sabe-se que não poderá girar seu corpo e deve seguir os seguintes comandos e na ordem dada: frente, frente, esquerda, frente, frente, direita, direita e frente. Em qual quadrado a aluna ficará posicionada ao final dos comandos dados pela professora?

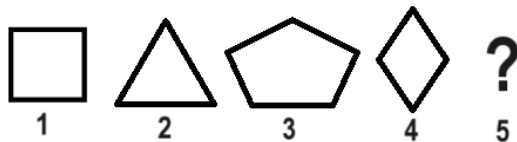
- A) 4B.
- B) 4C.
- C) 5C.
- D) 5D.

**Questão 22**

Um médico receitou ao paciente um complexo vitamínico; a caixa da vitamina possui 60 cápsulas. Como recomendação da receita ele deverá consumir um comprimido por dia de segunda a sexta-feira. Sabendo-se que o paciente já tomou todos os comprimidos e tinha começado a tomar as cápsulas dia 01 de janeiro deste ano, em uma segunda-feira, qual foi o dia que ele tomou o último comprimido?

- A) Quarta-feira.
- B) Quinta-feira.
- C) Sexta-feira.
- D) Sábado.

**Questão 23**



Observando a sequência de figuras apresentada, podemos afirmar que a quinta figura será:

- A)
- B)
- C)
- D)

**Questão 24**

Quantos números de 4 algarismos distintos são possíveis formar usando os algarismos 0, 1, 3, 5, 7?

- A) 24.
- B) 82.
- C) 96.
- D) 120.

**Questão 25**

Um escoteiro está treinando orientação com uma bússola e resolveu caminhar em sequência de um ponto **A** inicial, sendo 3 metros para o norte, 6 metros para o sul, 7 metros para o norte e 2 metros para o sul, parando em um ponto **B** final. Tomando como relação o ponto **B**, o ponto **A** inicial está:

- A) 2 metros a sul.
- B) 2 metros a norte.
- C) 3 metros a sul.
- D) 3 metros a norte.

**CONHECIMENTOS GERAIS**

**Questão 26**

**Transações por DOC chegam ao fim em 15 de janeiro após quatro décadas em operação**

*Modalidade de transferência se tornou obsoleta com chegada do Pix.*

As transações via DOC (Documento de Ordem de Crédito) estão com os dias contados. A partir das 22h da próxima segunda-feira (15/01/24), bancos deixarão de oferecer a modalidade de transferência após quase quatro décadas em operação, informou a Febraban (Federação Brasileira de Bancos) nesta semana. O fim da modalidade vem na esteira da predileção pelo *Pix*, que, em pouco tempo, se tornou a operação bancária favorita dos brasileiros.

*(Disponível em: <https://www1.folha.uol.com.br>. Acesso em: 13/01/2024. Adaptado.)*

**As transações via DOC deixarão de existir e um dos principais motivos é a preferência das pessoas pela utilização do *Pix*, que oferece algumas vantagens em relação ao DOC. Considerando as desvantagens do DOC com relação ao *Pix*, analise as afirmativas a seguir.**

- I. As operações são realizadas somente em dias úteis.
- II. Não possui limite de valores para a transferência.
- III. Pode haver cobrança de taxa de pessoas físicas, a depender da instituição que receberá a transação.

**Está correto o que se afirma em**

- A) I, II e III.
- B) II, apenas.
- C) I e II, apenas.
- D) I e III, apenas.

**Questão 27**

Observe a imagem a seguir:



*(Disponível em: <https://www.band.uol.com.br/noticias/>. Acesso em: 19/12/2023.)*

É possível observar dois personagens folclóricos muito conhecidos: o boi Garantido, um boi branco com um coração vermelho da testa, e o boi Caprichoso, um boi negro com uma estrela azul na testa. Eles participam anualmente de uma festa que ocorre geralmente na última semana de junho, na qual dois grupos, cada um representado por um boi, disputam em uma arena conhecida como “bumbódromo” a melhor apresentação. A festa é uma variação da festa do bumba-meu-boi contendo particularidades próprias do Estado do Amazonas; suas exibições remetem a lendas indígenas, mitos e tradições, além de várias personagens. O evento no qual fazem participação os bois Garantido e Caprichoso é:

- A) Festa Boi Manaus.
- B) Festival de Parintins.
- C) Eco festival do Peixe-boi.
- D) Festival de Ciranda de Manacapuru.

**Questão 28**

A Caatinga é um bioma exclusivamente brasileiro; suas características principais são a adaptação à ausência de água e a altas temperaturas. Assim como a Caatinga são exemplos de biomas brasileiros, EXCETO:

- A) Pampa.
- B) Cerrado.
- C) Floresta.
- D) Amazônia.

**Questão 29**

Art. 2º: São vias terrestres urbanas e rurais as ruas, as avenidas, os logradouros, os caminhos, as passagens, as estradas e as rodovias, que terão seu uso regulamentado pelo órgão ou entidade com circunscrição sobre elas, de acordo com as peculiaridades locais e as circunstâncias especiais.

(Código de Trânsito Brasileiro, Lei nº 9.503, de 23 de setembro de 1997.)

A velocidade máxima permitida nas vias é normalmente indicada por meio de sinalização, como em placas de trânsito; porém, algumas vias podem não possuir esta indicação. A velocidade máxima permitida em uma via urbana de trânsito rápido que não possui sinalização quanto ao limite de velocidade é de:

- A) 70 km/h.
- B) 80 km/h.
- C) 90 km/h.
- D) 100 km/h.

**Questão 30**

Observe a imagem a seguir:



(Disponível em: <https://www.abcdnafermagem.com.br>. Acesso em: 21/12/2023.)

Na imagem, é possível observar uma manobra utilizada em primeiros-socorros, na qual o socorrista realiza a inclinação da cabeça e a elevação do queixo. O objetivo dessa manobra é:

- A) Avaliar sinais vitais.
- B) Evitar hemorragias.
- C) Interromper convulsões.
- D) Desobstruir a passagem de ar.

**Questão 31**

**Lenda do Boto**

De acordo com a lenda, um boto cor-de-rosa sai dos rios nas primeiras horas das noites de festa e, com um poder especial, transforma-se em um lindo jovem vestido com roupas brancas. Ele usa um chapéu branco para encobrir o rosto e disfarçar o nariz grande. Nas festas, com seu jeito galanteador e falante, o boto dança, bebe, se comporta como um rapaz normal e se aproxima das jovens solteiras, seduzindo-as. Logo após, consegue convencer as mulheres para um passeio no fundo do rio, local onde costuma engravidá-las. Na manhã seguinte, volta a se transformar no boto, pois o seu encantamento só acontece à noite.

(Disponível em: <https://www.sohistoria.com.br>. Acesso em: 14/01/2024.)

O texto cita uma das histórias mais conhecidas do folclore brasileiro: a lenda do boto cor-de-rosa. Assinale, a seguir, a região brasileira que deu origem a essa lenda.

- A) Sul.
- B) Norte.
- C) Sudeste.
- D) Nordeste.



**Questão 32**

Em dezembro de 2023, o Governo Federal tornou disponível o serviço digital “Celular Seguro”, um aplicativo de celular que tem como objetivo:

- A) Combater roubos e furtos de telefones celulares.
- B) Combater a divulgação de *fake news* nas redes sociais.
- C) Alertar usuários sobre o uso de *web* páginas e *sites* perigosos.
- D) Bloquear conteúdos inadequados nos aparelhos utilizados por crianças e adolescentes.

**Questão 33**

**Butantan desenvolve teste pioneiro capaz de detectar leptospirose em estágio inicial**

*Doença pode levar a quadros graves, como o recente do caminhoneiro que, após consumir uma manga contaminada, teve paralisia em um dos rins e foi hospitalizado por 20 dias.*

Cientistas do Instituto Butantan, em São Paulo, desenvolveram uma forma inédita de diagnosticar a leptospirose ainda em estágio inicial que se mostrou superior ao teste padrão. Nos estudos, ainda preliminares, a novidade conseguiu identificar a doença em mais de 70% dos pacientes nos primeiros dias de sintomas. O micro-organismo penetra no indivíduo por meio de lesões na pele e provoca os sintomas, que podem surgir de 1 a 30 dias após a infecção. A bactéria causa um quadro febril agudo e grave, com uma letalidade que pode variar de 10% a até 70% dos casos graves. Segundo a Organização Mundial da Saúde (OMS), a leptospirose é considerada subnotificada e negligenciada. A estimativa é de ocorram 500 mil novos casos a cada ano.

*(Disponível em: <https://oglobo.com>. Acesso em: 13/01/2024. Adaptado.)*

**A leptospirose é uma doença infecciosa febril aguda, que apresenta elevada incidência em determinadas áreas, além do risco de letalidade, que pode chegar a 40% nos casos mais graves, segundo dados do Ministério da Saúde. Para evitar a disseminação da doença cuidados devem ser tomados, como o controle da proliferação dos vetores transmissores. É considerado o vetor causador da leptospirose:**

- A) Rato.
- B) Pássaro.
- C) Mosquito.
- D) Caramujo.

**Questão 34**

A Amazônia compreende um conjunto de ecossistemas que envolve a bacia hidrográfica do Rio Amazonas, bem como a floresta Amazônica; é considerada a região de maior biodiversidade do Planeta e o maior bioma do Brasil.

*(Disponível em: <https://brasilecola.uol.com.br/brasil/amazonia.htm>. Acesso em: 13/12/2023.)*

**A respeito da região amazônica pode-se considerar, EXCETO:**

- A) A flora da Amazônia é bastante diversificada; é constituída por árvores, ervas, arbustos, lianas e trepadeiras.
- B) O rio Amazonas, localizado na América do Sul, é o maior rio do mundo em volume de água e em extensão, com 6.992,06 km.
- C) O bioma Amazônia é exclusivo do território brasileiro, abrangendo os estados do Acre, Amapá, Amazonas, Pará, Roraima, Rondônia, Mato Grosso, Maranhão e Tocantins.
- D) Engloba os ecossistemas relacionados à floresta Amazônica, que é a maior floresta tropical do globo, e à bacia Amazônica, que detém o título de maior bacia hidrográfica do planeta.

**Questão 35**

O motorista da carreta suspeito de ter causado o acidente que deixou seis pessoas mortas, na Rodovia Fernão Dias, na altura da Serra de Igarapé, na Região Metropolitana de Belo Horizonte, fugiu do local, segundo fontes da Polícia Civil. No entanto, ele foi identificado, ainda na noite de segunda-feira, pela instituição.

*(Disponível em: <https://g1.globo.com/mg/minas-gerais/>. Acesso em: 13/12/2023. Adaptado.)*

**Segundo o Código de Trânsito Brasileiro, afastar-se o condutor do veículo do local do sinistro, para fugir à responsabilidade penal ou civil que lhe possa ser atribuída acarreta na seguinte penalidade:**

- A) Detenção em flagrante por omissão.
- B) Detenção, de seis meses a um ano, ou multa.
- C) Prisão sem possibilidade de conversão em liberdade provisória.
- D) Detenção, de seis meses a três anos, multa e suspensão ou proibição de se obter a permissão ou a habilitação para dirigir veículo automotor.

**Questão 36**

O aumento da temperatura média do Planeta é consequência do efeito estufa e do desmatamento, e provoca várias anomalias climáticas. Previsões apontam para um acréscimo máximo de quatro graus até o fim do século. Nos últimos 100 anos, foi de apenas 0,7 grau. Uma das grandes preocupações quanto ao aquecimento global é o derretimento do gelo dos polos Sul e Norte, que pode aumentar o nível do mar e inundar ilhas e áreas litorâneas. Outras geleiras, as dos Andes, já começaram a derreter.

(Disponível em: <https://www2.camara.leg-social-e-ambiental>. Acesso em: 13/12/2023.)

**Qual dos seguintes gases é comumente associado ao efeito estufa?**

- A) Radônio (Rn).
- B) Oxigênio (O).
- C) Hidrogênio (H).
- D) Dióxido de carbono (CO<sub>2</sub>).

**Questão 37**

A Lei nº 8.069, conhecida como Estatuto da Criança e do Adolescente (ECA), foi criada em 13 de julho de 1990. A norma que dispõe sobre a proteção integral à criança e ao adolescente é bastante famosa no mundo inteiro, pela amplitude de seus preceitos e pela forma como protege nossas crianças.

(Disponível em: <https://www.tjac.jus.br/>. Acesso em: 14/12/2023.)

**Segundo o Estatuto da Criança e do Adolescente (ECA), considera-se criança a pessoa até:**

- A) Dez anos de idade completos.
- B) Doze anos de idade completos.
- C) Onze anos de idade incompletos.
- D) Doze anos de idade incompletos.

**Questão 38**

O Banco Nacional de Desenvolvimento Econômico e Social foi fundado em 1952 e, atualmente, seu capital social subscrito está representado por 6.273.711.452 ações ordinárias, nominativas, sem valor nominal, de propriedade integral da União Federal.

(Disponível em: <https://www.bndes.gov.br>. Acesso em: 14/12/2023.)

**Sobre os principais objetivos do BNDES, marque V para as afirmativas verdadeiras e F para as falsas.**

- ( ) Apoiar programas, projetos, obras e serviços que se relacionem com o desenvolvimento cultural do país, apenas.
- ( ) Apoiar programas, projetos, obras e serviços que se relacionem com o desenvolvimento econômico e social do país.
- ( ) Estimular o setor público, sem prejuízo de apoio a empreendimentos de interesse nacional a cargo da iniciativa privada.
- ( ) Estimular a iniciativa privada, sem prejuízo de apoio a empreendimentos de interesse nacional a cargo do setor público.

**A sequência está correta em**

- A) F, V, F, V.
- B) F, V, V, F.
- C) V, V, V, V.
- D) F, F, V, F.

**Questão 39**

**Índios**

(Legião Urbana.)

Quem me dera, ao menos uma vez  
Ter de volta todo o ouro que entreguei a quem  
Conseguiu me convencer que era prova de amizade  
Se alguém levasse embora até o que eu não tinha  
[...]

(Trecho da música *Índios*, composição de Renato Russo. Acesso em: 14/12/2023.)

**O trecho da música se refere à relação entre os colonizadores portugueses e os indígenas conhecida como:**

- A) Escambo.
- B) Escravidão.
- C) Submissão.
- D) Vassalagem.

**Questão 40**

“Criado em 1988 pela Assembleia Nacional Constituinte, este Estado é o mais jovem entre os 26 estados do Brasil. Sua posição na região Norte o situa exatamente no centro geográfico do país, permitindo-lhe estabelecer limites com Estados do Nordeste, Centro-Oeste e da própria região Norte.” O texto se refere a criação de qual Estado brasileiro?

- A) Acre.
- B) Roraima.
- C) Tocantins.
- D) Mato Grosso do Sul.

**ATENÇÃO**



**NÃO É PERMITIDA a anotação das respostas da prova em NENHUM MEIO.  
O candidato flagrado nesta conduta poderá ser ELIMINADO do processo.**

## INSTRUÇÕES

1. Somente será permitida a utilização de caneta esferográfica de tinta azul ou preta, feita de material transparente e de ponta grossa.
2. É proibida, durante a realização das provas, a comunicação entre os candidatos e a utilização de máquinas calculadoras e/ou similares, livros, anotações, impressos ou qualquer outro material de consulta, protetor auricular, lápis, borracha ou corretivo. Especificamente, não será permitido ao candidato ingressar na sala de provas sem o devido recolhimento, com respectiva identificação, dos seguintes equipamentos: *bip*, telefone celular, *walkman*, agenda eletrônica, *notebook*, *palmtop*, *ipod*, *ipad*, *tablet*, *smartphone*, mp3, mp4, receptor, gravador, máquina de calcular, máquina fotográfica, controle de alarme de veículo, relógio de qualquer modelo, pulseiras magnéticas e similares etc., o que não acarreta em qualquer responsabilidade do Instituto Consulplan sobre tais equipamentos. No caso do candidato, durante a realização das provas, ser surpreendido portando os aparelhos eletrônicos citados, será automaticamente lavrado no Termo de Ocorrência o fato ocorrido e ELIMINADO automaticamente do Concurso Público.
3. Com vistas à garantia da segurança e da integridade do certame, no dia da realização das provas escritas, os candidatos serão submetidos ao sistema de detecção de metais na entrada e na saída dos sanitários. Excepcionalmente, poderão ser realizados, a qualquer tempo durante a realização das provas, outros procedimentos de vistoria além do descrito.
4. O caderno de provas consta de 40 (quarenta) questões de múltipla escolha para todos os cargos; e, ainda, uma Prova Discursiva (Dissertação) para os cargos de Nível Médio e Superior.
5. Ao receber o material de realização das provas, o candidato deverá conferir atentamente se o caderno de provas contém o número de questões previsto, se corresponde ao cargo a que está concorrendo, bem como se os dados constantes no Cartão de Respostas (Gabarito) e na Folha de Textos Definitivos (Prova Discursiva – Nível Médio e Superior) estão corretos. Caso os dados estejam incorretos, ou o material esteja incompleto ou, ainda, detenha qualquer imperfeição, o candidato deverá informar tal ocorrência ao Fiscal de Aplicação, não cabendo reclamações posteriores neste sentido.
6. A prova terá duração de 4 (quatro) horas para todos os cargos. Este período abrange a assinatura, assim como a transcrição das respostas para o Cartão de Respostas (Gabarito) e a Folha de Textos Definitivos (Prova Discursiva – Nível Médio e Superior).
7. As questões das provas objetivas são do tipo múltipla escolha, com 4 (quatro) opções (A a D) e uma única resposta correta. Ao terminar a prova, o candidato, obrigatoriamente, deverá devolver ao Fiscal de Aplicação o Cartão de Respostas (Gabarito) e a Folha de Textos Definitivos (Prova Discursiva – Nível Médio e Superior) devidamente assinados em local indicado.
8. Os Fiscais de Aplicação não estão autorizados a emitir opinião nem prestar esclarecimentos sobre o conteúdo das provas. Cabe única e exclusivamente ao candidato interpretar e decidir.
9. Não é permitida a anotação de informações relativas às suas respostas (cópia de gabarito) no comprovante de inscrição ou em nenhum outro meio.
10. O candidato somente poderá se retirar do local de realização das provas escritas levando o caderno de provas no decurso dos últimos 30 (trinta) minutos anteriores ao horário previsto para o seu término. O candidato poderá se retirar do local de realização das provas somente a partir dos 90 (noventa) minutos após o início de sua realização; contudo, não poderá levar o seu caderno de provas.
11. Os 3 (três) últimos candidatos de cada sala só poderão sair juntos. Caso algum insista em sair do local de aplicação antes de autorizado pelo Fiscal de Aplicação, será lavrado Termo de Ocorrência, assinado pelo candidato e testemunhado pelos 2 (dois) outros candidatos, pelo Fiscal de Aplicação da sala e pelo Coordenador da Unidade de provas, para posterior análise pela Comissão de Acompanhamento do Concurso.

## RESULTADOS E RECURSOS

- Os gabaritos oficiais preliminares das provas objetivas serão divulgados na *internet*, no endereço eletrônico [www.institutoconsulplan.org.br](http://www.institutoconsulplan.org.br), a partir das 16h00min da segunda-feira subsequente à realização das provas escritas objetivas de múltipla escolha.
- O candidato que desejar interpor recursos contra os gabaritos oficiais preliminares das provas objetivas disporá de 2 (dois) dias úteis, a partir do dia subsequente ao da divulgação (terça-feira), em requerimento próprio disponibilizado no *link* correlato ao Concurso Público no endereço eletrônico [www.institutoconsulplan.org.br](http://www.institutoconsulplan.org.br).
- A interposição de recursos poderá ser feita via *internet*, através do Sistema Eletrônico de Interposição de Recursos, com acesso pelo candidato com o fornecimento dos dados referentes à sua inscrição, apenas no prazo recursal, ao Instituto Consulplan, conforme disposições contidas no endereço eletrônico [www.institutoconsulplan.org.br](http://www.institutoconsulplan.org.br), no *link* correspondente ao Concurso Público.