



SÁBADO DE TARDE

PREFEITURA MUNICIPAL DE JARI/RS CONCURSO PÚBLICO Nº 01/2023

MOTORISTA E OPERADOR DE MÁQUINAS

INSTRUÇÕES

Leia atentamente e cumpra rigorosamente as instruções que seguem, pois elas são parte integrante das provas e das normas que regem esse certame.

1. Atente-se aos avisos contidos no quadro da sala.
2. Seus pertences deverão estar armazenados dentro de embalagem específica fornecida pelo fiscal, permanecendo em sua posse somente caneta esferográfica de ponta grossa, de material transparente, com tinta preferencialmente preta, lanche e água, se houver. A utilização de qualquer material não permitido em edital é expressamente proibida, acarretando a sua imediata eliminação do certame.
3. Certifique-se de que este caderno:
 - contém 40 (quarenta) questões;
 - **refere-se ao cargo para o qual realizou a inscrição.**
4. Cada questão oferece 5 (cinco) alternativas de respostas, representadas pelas letras A, B, C, D e E, sendo apenas 1 (uma) a resposta correta.
5. Será respeitado o tempo para realização da prova conforme previsto em edital, incluindo o preenchimento da grade de respostas.
6. Os três últimos candidatos deverão retirar-se da sala de prova ao mesmo tempo, devendo assinar a Ata de Prova.
7. A responsabilidade referente à interpretação dos conteúdos das questões é exclusiva do candidato.
8. No caderno de prova, você poderá rabiscar, riscar e calcular.
9. Os gabaritos preliminares da prova objetiva serão divulgados na data descrita no Cronograma de Execução desse certame.



V1_22/02/2024 19:07:33



7 fatores associados à diminuição do risco de depressão

01 Uma equipe internacional de pesquisadores analisou uma combinação de fatores, incluindo
02 fatores de estilo de vida, genética, estrutura cerebral e sistemas imunológico e metabólico, para
03 identificar os mecanismos associados à depressão.▲ A pesquisa mostrou, por exemplo, que uma
04 vida sedentária, sono de má qualidade e vícios como o álcool e o cigarro aumentam o risco da
05 doença.

06 Para compreender melhor a relação entre esses fatores e a depressão, os investigadores
07 recorreram ao UK Biobank, uma base de dados que contém informações sobre genética, estilo
08 de vida e saúde dos seus participantes. Ao examinar dados de quase 290 mil pessoas – das quais
09 13 mil tiveram depressão – acompanhadas ao longo de um período de nove anos, a equipe
10 conseguiu identificar sete fatores de estilo de vida associados a um menor risco de depressão.
11 Estes fatores foram: consumo moderado de álcool; dieta saudável; atividade física regular; sono
12 saudável; nunca fumar; comportamento sedentário baixo a moderado; conexão social frequente.

13 Ainda de acordo com a pesquisa, de todos esses fatores, ter uma boa noite de sono – entre
14 sete e nove horas por noite – fez a maior diferença, reduzindo o risco de depressão, incluindo
15 episódios depressivos únicos e depressão resistente ao tratamento em 22%.

(Disponível em: www.catracalivre.com.br/saude-bem-estar/7-fatores-associados-a-diminuicao-do-risco-de-depressao/ – texto adaptado especialmente para esta prova).

QUESTÃO 01 – A palavra “baixo”, retirada do texto, é grafada com X. Qual palavra também é escrita com X?

- A) Capri_o.
- B) Salsi_a.
- C) Embai_ador.
- D) Ran_o.
- E) Bola_a.

QUESTÃO 02 – A palavra “genética”, retirada do texto, é grafada com G. Qual palavra também é escrita com G?

- A) _ejum.
- B) _esso.
- C) Cere_eira.
- D) Desa_eitada.
- E) Ho_e.

QUESTÃO 03 – Qual sinal de pontuação substitui corretamente a figura da linha 03?

- A) Ponto-final (.).
- B) Ponto de interrogação (?).
- C) Dois-pontos (:).
- D) Travessão (-).
- E) Vírgula (,).

QUESTÃO 04 – Qual fator NÃO foi mencionado no texto como parte da análise da equipe de pesquisadores para identificar os fatores associados à depressão?

- A) Estilo de vida.
- B) Genética.
- C) Estrutura cerebral.
- D) Período de lazer.
- E) Sistema imunológico.

QUESTÃO 05 – Qual dos fatores a seguir aumenta o risco de depressão?

- A) Alimentação saudável.
 - B) Convivência social.
 - C) Sono regrado.
 - D) Exercício físico.
 - E) Fumar.
-

QUESTÃO 06 – Na pesquisa mencionada no texto, por quantos anos os participantes foram acompanhados?

- A) 6.
 - B) 7.
 - C) 8.
 - D) 9.
 - E) 10.
-

QUESTÃO 07 – Qual dos fatores a seguir está associado a um menor risco de depressão?

- A) Consumo excessivo de álcool.
 - B) Dieta rica em doces.
 - C) Sono desajustado.
 - D) Interação social constante.
 - E) Ausência de atividade física.
-

QUESTÃO 08 – Qual fator de estilo de vida faz maior diferença para diminuir o risco de depressão?

- A) Ter uma noite de sono com duração de 07 a 09 horas.
 - B) Comer mais carboidratos durante as refeições.
 - C) Exercitar-se todos os dias com alta intensidade.
 - D) Caminhar mais de 30 minutos diariamente.
 - E) Tomar uma maior quantidade de água por dia.
-

QUESTÃO 09 – Segundo o texto, os pesquisadores recorreram a qual recurso para entender melhor a relação entre diferentes fatores e a depressão?

- A) Um livro.
 - B) Uma base de dados.
 - C) Uma lista de critérios.
 - D) Um relatório.
 - E) Um gráfico de exames.
-

QUESTÃO 10 – Qual é o sinônimo (palavra de sentido similar) da palavra “moderado” (l. 11)?

- A) Excessivo.
 - B) Intenso.
 - C) Equilibrado.
 - D) Abundante.
 - E) Exagerado.
-

QUESTÃO 11 – Qual é o antônimo (palavra de sentido contrário) da palavra “frequente” (l. 12)?

- A) Constante.
 - B) Regular.
 - C) Habitual.
 - D) Rotineira.
 - E) Rara.
-

QUESTÃO 12 – A palavra “fatores” tem quantas vogais?

- A) 1.
- B) 2.
- C) 3.
- D) 4.
- E) 5.

QUESTÃO 13 – A palavra “saudável” tem quantas consoantes?

- A) 1.
- B) 2.
- C) 3.
- D) 4.
- E) 5.

QUESTÃO 14 – Qual é a correta separação das sílabas da palavra “comportamento”?

- A) Com – por – ta – men – to.
- B) Compor – tamen – to.
- C) Com – por – tamen – to.
- D) Compor – ta – mento.
- E) Com – por – ta – mento.

QUESTÃO 15 – Qual é a classe gramatical da palavra “depressivos” (l. 15)?

- A) Substantivo.
- B) Artigo.
- C) Adjetivo.
- D) Pronome.
- E) Advérbio.

CONHECIMENTOS GERAIS

QUESTÃO 16 – Localiza-se a 10 km ao sul da cidade de Jari. Encontra-se no meio da mata com belas e frondosas árvores e atinge a altura de 10 metros, desaguando em um belo lago com grutas ao redor. O trecho refere-se à:

- A) Lagoa dos Patos.
- B) Cascata da Bela Vista.
- C) Cachoeira do Imigrante.
- D) Cascata do Chuvisqueiro.
- E) Cachoeira do Tabuleiro.

QUESTÃO 17 – A história da origem de Jari está ligada à ação dos jesuítas no século XVIII. Onde hoje está situado o município, havia uma fazenda de criação de gado que pertencia a jesuítas. Como essa fazenda era chamada?

- A) São Francisco Xavier de Jari.
- B) Roncador.
- C) Valença.
- D) Recanto Feliz.
- E) Santa Clara.






QUESTÃO 18 – Quais siglas representam, respectivamente, os estados do Rio Grande do Sul e Santa Catarina?

- A) RJ – RS.
- B) RS – SC.
- C) SP – RS.
- D) RJ – SC.
- E) SP – MG.

QUESTÃO 19 – Esporte coletivo praticado em uma quadra dividida por uma rede. Duas equipes disputam a partida com o objetivo de jogar a bola no campo adversário, arremessando-a por cima da rede. O trecho se refere a qual esporte?

- A) Vôlei.
- B) Basquete.
- C) Futebol.
- D) Surf.
- E) Canoagem.

QUESTÃO 20 – Na temática da sustentabilidade, um dos assuntos mais tratados é a reciclagem, que é o processo de aproveitamento de materiais descartados. Qual é o símbolo da reciclagem?

- A) 
- B) 
- C) 
- D) 
- E) 

LEGISLAÇÃO

QUESTÃO 21 – Segundo o Art. 5º da Constituição Federal, “todos são iguais perante a _____, sem distinção de qualquer natureza”.

Assinale a alternativa que preenche corretamente a lacuna do trecho acima.

- A) lei
- B) sociedade
- C) escola
- D) polícia
- E) família

QUESTÃO 22 – Segundo a Constituição Federal, o crime de racismo é:

- A) Aceitável.
- B) Fundamental.
- C) Inafiançável.
- D) Irresponsável.
- E) Desrespeitoso.

QUESTÃO 23 – Segundo o Art. 5º da Constituição Federal, “ninguém será submetido a _____ nem a tratamento desumano ou degradante”.

Assinale a alternativa que preenche corretamente a lacuna do trecho acima.

- A) abandono
- B) tortura
- C) desemprego
- D) humilhação
- E) deslealdade

QUESTÃO 24 – O Estatuto Estadual da Igualdade Racial, Lei nº 13.694/2011, além de promover a igualdade racial, também combate a intolerância:

- A) Psicológica.
- B) Religiosa.
- C) Política.
- D) Contra os idosos.
- E) Contra as crianças.

QUESTÃO 25 – Segundo a Lei nº 11.340/2006, Lei Maria da Penha, o poder público desenvolverá políticas que visem garantir os direitos humanos das mulheres no âmbito das relações domésticas e _____, no sentido de resguardá-las de toda forma de negligência, discriminação, exploração, violência, crueldade e opressão.

Assinale a alternativa que preenche corretamente a lacuna do trecho acima.

- A) empresariais
- B) casuais
- C) de dependência
- D) autoritárias
- E) familiares

QUESTÃO 26 – De acordo com o Plano de Cargos e Carreiras do Município de Jari, a promoção a uma classe superior depende de um tempo na classe anterior. Esse tempo é de quantos anos?

- A) 2.
- B) 3.
- C) 5.
- D) 7.
- E) 10.

QUESTÃO 27 – Segundo a Lei Orgânica do Município de Jari, qual é o prazo de validade do concurso público?

- A) 1 ano.
- B) 2 anos.
- C) 3 anos.
- D) 4 anos.
- E) 5 anos.

QUESTÃO 28 – Segundo o Estatuto Estadual de Igualdade Racial, Lei nº 13.694/2011, considera-se negro aquele que se declara, EXCETO:

- A) Indígena.
- B) Mestiço de descendência africana.
- C) Pardo.
- D) Negro.
- E) Através de palavra ou expressão equivalente que o caracterize negro.

QUESTÃO 29 – Conforme a Constituição Estadual do Rio Grande do Sul, o Estado complementará o ensino público com programas permanentes e gratuitos de, EXCETO:

- A) Material didático.
- B) Transporte.
- C) Alimentação.
- D) Bolsas internacionais de estudo.
- E) Atividades culturais e esportivas.

QUESTÃO 30 – Segundo o Estatuto Nacional de Igualdade Racial, Lei nº 12.288/2010, é _____ a assistência religiosa aos praticantes de religiões de matrizes africanas internados em hospitais.

Assinale a alternativa que preenche corretamente a lacuna do trecho acima.

- A) proibida
- B) discriminada
- C) ilegal
- D) ilícita
- E) assegurada

MATEMÁTICA/RACIOCÍNIO LÓGICO

QUESTÃO 31 – No número 2.687, o algarismo 2 representa:

- A) Duzentas centenas.
- B) Duas centenas.
- C) Duzentas unidades.
- D) Vinte dezenas.
- E) Dois milhares.

QUESTÃO 32 – Nas obras de construção civil no Brasil, o tijolo mais utilizado é o de 6 furos. Para cada metro quadrado construído, são necessários, em média, 40 tijolos. Sabendo que tijolos são comprados em “milheiros” (conjunto com mil unidades), quantos milheiros de tijolos de 6 furos são necessários para construir um muro com 50 m²?

- A) 2.
- B) 4.
- C) 10.
- D) 20.
- E) 2.000.

QUESTÃO 33 – Vitor é irmão de Alice e tem 4 anos de idade a menos do que ela. Se Vitor tem 12 anos, a idade de Alice no sistema romano de numeração é:

- A) LI.
- B) XVIII.
- C) XVI.
- D) XII.
- E) X.

QUESTÃO 34 – Alfredo tem um pequeno aviário, e suas galinhas colocam em média 48 ovos por dia. Sendo assim, quantas dúzias de ovos as galinhas de Alfredo põem diariamente?

- A) 2.
- B) 3.
- C) 4.
- D) 5.
- E) 6.

QUESTÃO 35 – Letícia foi ao mercado e comprou 1 kg de carne moída por R\$ 35,90, 1 pão de sanduíche por R\$ 4,50 e 1 litro de leite por R\$ 6,30. O valor que Letícia gastou no mercado foi de:

- A) R\$ 44,40.
- B) R\$ 46,70.
- C) R\$ 62,00.
- D) R\$ 88,00.
- E) R\$ 103,30.

QUESTÃO 36 – Mauro é pintor e foi contratado para pintar a parte externa da casa de seu vizinho. Ele iniciou o trabalho na sexta-feira à tarde. No final do sábado, Mauro havia concluído $\frac{5}{7}$ da pintura. Para concluir a pintura ainda no final de semana, no domingo, ele deverá pintar:

- A) $\frac{7}{2}$ da casa.
- B) $\frac{2}{5}$ da casa.
- C) $\frac{3}{4}$ da casa.
- D) $\frac{2}{7}$ da casa.
- E) $\frac{9}{7}$ da casa.

QUESTÃO 37 – Nas saboneteiras dos banheiros de uma empresa, cabem 220 ml de sabonete líquido. A empresa compra o refil do sabonete em embalagens de 1 litro. Com uma embalagem, é possível encher aproximadamente quantas saboneteiras?



- A) 2.
- B) 4.
- C) 6.
- D) 10.
- E) 12.

QUESTÃO 38 – Cada saco de argamassa tem 20 kg. Como o saco é de papel, e o fechamento não é perfeito, no transporte, há uma perda de cerca de 100 gramas por saco. Sendo assim, no transporte de 30 sacos de argamassa, são desperdiçados:

- A) 300 g.
- B) 600 g.
- C) 3 kg.
- D) 6 kg.
- E) 30 kg.

QUESTÃO 39 – Como se escreve 0,47 por extenso?

- A) Quarenta e sete centésimos.
- B) Zero vírgula quarenta e sete décimos.
- C) Quarenta e sete décimos.
- D) Quarenta e sete milésimos.
- E) Zero inteiros e quarenta e sete décimos.

QUESTÃO 40 – Vicente é irmão de Augusto e de Arthur. Se Lavínia é filha de Arthur e de Fernanda, é correto afirmar que:

- A) Fernanda é irmã de Vicente.
- B) Augusto é pai de Fernanda.
- C) Fernanda é tia de Augusto.
- D) Vicente é tio de Lavínia.
- E) Lavínia é prima de Augusto.