

AVANÇASP



PREFEITURA MUNICIPAL DE
TAPIRATIBA/SP

CONCURSO PÚBLICO
01/2023

PSICÓLOGO DA EDUCAÇÃO

Leia atentamente as instruções abaixo

1. PROVA E FOLHA DE RESPOSTAS

Além deste Caderno de Prova, contendo 50 (cinquenta) questões objetivas, você receberá do Fiscal de Sala:

- 01 (uma) Folha de Respostas destinada às respostas das questões objetivas. Confira se seus dados estão corretos.

2. TEMPO

- 03 (três) horas é o tempo disponível para realização da prova, já incluído o tempo para marcação da Folha de Respostas da prova objetiva;

- **01 (uma) hora** após o início da prova é possível, retirar-se da sala levando o caderno de prova;

3. INFORMAÇÕES GERAIS

- As questões objetivas têm 05 (cinco) alternativas de resposta (A, B, C, D, E) e somente **uma** delas está correta;
- Verifique se seu caderno está completo, sem repetição de questões ou falhas. Caso contrário, informe imediatamente o Fiscal da Sala, para que sejam tomadas as devidas providências;
- Confira seus dados pessoais na Folha de Respostas, especialmente nome, número de inscrição e documento de identidade e leia atentamente as instruções para preenchimento;
- O preenchimento das respostas da prova objetiva é de sua responsabilidade e não será permitida a troca de Folha de Respostas em caso de erro de marcação pelo candidato;

- Marque, na folha de respostas, com caneta de tinta azul ou preta, a letra correspondente à alternativa que você escolheu.

- Reserve tempo suficiente para o preenchimento de suas respostas. Para fins de avaliação, serão levadas em consideração apenas as marcações realizadas na Folha de Respostas da prova objetiva, não sendo permitido anotar informações relativas às respostas em qualquer outro meio que não seja o caderno de prova;

- Ao se retirar, entregue a Folha de Respostas preenchida e assinada ao Fiscal de Sala.

SERÁ ELIMINADO do presente certame o candidato que:

- a) for surpreendido, durante as provas, em qualquer tipo de comunicação com outro candidato;
- b) portar ou usar, qualquer tipo de aparelho eletrônico (calculadoras, bips/pagers, câmeras fotográficas, filmadoras, telefones celulares, smartphones, tablets, relógios, walkmans, MP3 players, fones de ouvido, agendas eletrônicas, notebooks, palmtops ou qualquer outro tipo de computador portátil, receptores ou gravadores) seja na sala de prova, sanitários, pátios ou qualquer outra dependência do local de prova;
- c) se ausentar da sala em que se realizam as provas levando consigo o Caderno de Questões e/ou a Folha de Respostas;
- d) se recusar a entregar a Folha de Respostas, quando terminar o tempo estabelecido;
- e) não assinar a Lista de Presença e/ou a Folha de Respostas.

LÍNGUA PORTUGUESA

TEXTO

Leia o texto a seguir para responder às questões de 1 a 5.

Sumiço de ossos em tumba de 5,5 mil anos na Suécia intriga arqueólogos

Uma das câmaras mortuárias de pedra mais antigas da Suécia foi escavada por arqueólogos em Tiarp, perto da cidade de Falköping. Mas os pesquisadores notaram que algumas partes das pessoas enterradas no túmulo estão ausentes, como crânios e ossos da coxa. Os arqueólogos ficaram intrigados com esse sumiço – ainda mais porque estimam que a tumba de 5,5 mil anos permaneceu intocada desde a Idade da Pedra. Eles registraram os achados em 22 de dezembro de 2023 no periódico *Journal of Neolithic Archaeology*.

As escavações ocorreram no ano passado e foram conduzidas por especialistas da Universidade de Gotemburgo, na Suécia, e da Universidade de Kiel, na Alemanha. “É um túmulo antigo que remonta ao período Neolítico Inicial, por volta de 3500 a.C.”, diz o arqueólogo Karl-Göran Sjögren, em comunicado. Os especialistas acreditam que os crânios e ossos desaparecidos podem ter sido removidos do túmulo em rituais funerários. Mas, segundo Sjögren, essa hipótese ainda não foi estudada.

Tumba diferenciada

Uma análise do material da tumba revelou que o local contém ossos das mãos e dos pés, além de fragmentos de ossadas das costelas e dentes. Mas há pouquíssimos crânios e ossos maiores, como os da coxa e do braço. “Isso difere do que geralmente vemos em túmulos megalíticos, ou seja, câmaras mortuárias de pedra do período Neolítico”, avalia Sjögren. “Normalmente, os ossos ausentes são os menores das mãos e dos pés”.

Outro diferencial do túmulo é a forma com que foi construído, segundo o arqueólogo. “Há uma pequena saliência em cada extremidade. Isso é algo único entre túmulos em Falbygden”, ele diz.

Em Falbygden, uma área geográfica de Falköping, há mais de 250 túmulos de passagem que são construídos com blocos de pedra e datam de cerca de 3,3 mil a.C. “Mas este dólmen é mais antigo”, observa o especialista. “É cerca de 200 a 150 anos mais velho do que os túmulos de passagem, tornando-o uma das câmaras mortuárias de pedra mais antigas da Suécia e de toda a Escandinávia”.

Quem eram os mortos?

Torbjörn Ahlström, professor de Osteologia na Universidade de Lund, na Suécia, avaliou as descobertas e concluiu que os ossos são de pelo menos doze pessoas, incluindo crianças e idosos. Mas os arqueólogos ainda não sabem por que esses indivíduos morreram. “Não encontramos lesões nas pessoas enterradas, então não acreditamos que haja violência envolvida”, diz Sjögren. “Mas continuamos a estudar o DNA deles, o que mostrará se tinham alguma doença.” Apesar de não saberem ainda como a vida dessas pessoas acabou, os arqueólogos supõem que elas viveram da agricultura. A prática agrícola chegou a Falbygden por volta de 4 mil a.C., ou seja, cerca de 500 anos antes de o túmulo em Tiarp ser construído. “Eles viviam cultivando grãos e criando animais, consumindo produtos lácteos”, diz o arqueólogo.

Revista Galileu. (Adaptado). Disponível em <<https://revistagalileu.globo.com/ciencia/arqueologia/noticia/2024/01/sumico-de-ossos-em-tumba-de-55-mil-anos-na-suecia-intriga-arqueologos.ghtml>>

QUESTÃO 01

De acordo com o texto, sobre os túmulos megalíticos é correto afirmar que:

- (A) são naturalmente moldados com saliências em cada uma de suas extremidades.
- (B) podem apresentar tanto ossos grandes quanto ossos pequenos, embora estes possam ser também ausentes.
- (C) todos os túmulos conhecidos datam do mesmo período, de 3,3 mil a.C.
- (D) raramente apresentam ossos grandes, como crânios e ossos dos braços.
- (E) são comumente esvaziados para rituais funerários na Suécia.

QUESTÃO 02

Analise os conjuntos de palavras a seguir, separados por ponto e vírgula, e assinale a alternativa em que todas as palavras de cada conjunto remetem a um mesmo referente sempre que aparecem no texto.

- (A) pessoas - especialistas - elas; tumba - túmulo - local.
- (B) especialistas - arqueólogos - eles; tumba - local - dólmen.
- (C) pesquisadores - arqueólogos - especialistas; tumba - câmara mortuária - dólmen.
- (D) pessoas - indivíduos; pesquisadores - arqueólogos; Falbygden - Falköping.
- (E) pesquisadores - indivíduos - arqueólogos; tumba - túmulo - dólmen.

QUESTÃO 03

Considere o excerto: “Apesar de não saberem ainda como a vida dessas pessoas acabou, os arqueólogos supõem que elas viveram da agricultura.” A locução “apesar de” imprime ao contexto em que ocorre um sentido concessivo. A substituição de tal locução pela conjunção “embora”, de mesmo valor, implicaria a modificação:

- (A) da conjugação do verbo ‘saber’, de infinitivo flexionado para presente do indicativo.
- (B) da conjugação do verbo ‘saber’, de infinitivo flexionado para futuro do subjuntivo.
- (C) da conjugação do verbo ‘saber’, de infinitivo flexionado para presente do subjuntivo.
- (D) da conjugação do verbo ‘supor’, de presente do indicativo para futuro do presente do indicativo.
- (E) da conjugação do verbo ‘supor’, de presente do indicativo para futuro do presente do indicativo.

Considere o excerto a seguir para responder às questões 4 e 5:

Outro diferencial do túmulo é a forma com que foi construído, segundo o arqueólogo. “Há uma pequena saliência em cada extremidade. Isso é algo único entre túmulos em Falbygden”, ele diz. Em Falbygden, uma área geográfica de Falköping, há mais de 250 túmulos de passagem que são construídos com blocos de pedra e datam de cerca de 3,3 mil a.C.

QUESTÃO 04

As palavras “outro”, “cada” e “algo”, que ocorrem no contexto apresentado, são classificadas gramaticalmente e respectivamente como:

- (A) pronome indefinido, pronome indefinido, pronome indefinido.
- (B) pronome indefinido, adjetivo, pronome indefinido.
- (C) pronome indefinido, pronome indefinido, advérbio.
- (D) advérbio, advérbio, advérbio.
- (E) advérbio, adjetivo, advérbio.

QUESTÃO 05

Em “há mais de 250 túmulos de passagem que são construídos com blocos de pedra”, o termo regido de “construídos” é:

- (A) túmulos de passagem.
- (B) com.
- (C) blocos.
- (D) com blocos de pedra.
- (E) blocos de pedra.

QUESTÃO 06

Considere as sentenças a seguir:

- I. A vida escorre pelas mãos.
- II. Tens um coração de pedra, Mariana.
- III. Para economizar água, precisamos consertar a torneira, que não para de pingar.
- Verifica-se o emprego de palavras com sentido figurado apenas em:

- (A) I.
- (B) II.
- (C) III.
- (D) I e II.
- (E) I e III.

QUESTÃO 07

Analise as sentenças a seguir e assinale aquela em que o emprego do acento indicativo de crase é facultativo.

- (A) Às vezes, Maria fala sobre sua vida com muito pesar.
- (B) Assisti à novela ontem e me emocionei com o final daquela personagem.
- (C) Não se lembra que temos que ir à faculdade hoje?
- (D) Disse à minha aluna que sua escrita melhorou muito nos últimos meses.
- (E) Estou bastante à vontade neste lugar.

QUESTÃO 08

Considere o excerto a seguir, retirado de *Uma tarde plena*, de Clarice Lispector:

“Quando o saguim deu um pulo no colo da senhora, esta conteve um frisson, e o prazer encabulado de quem foi eleita. Mas os passageiros olharam-na com simpatia, aprovando o acontecimento, e, um pouco ruborizada, ela aceitou ser a tímida favorita. Não o acariciou porque não sabia se esse era o gesto a ser feito.” No excerto apresentado, a palavra “ruborizada” exprime o mesmo sentido que:

- (A) mecanizada.
- (B) assustada.
- (C) amedrontada.
- (D) descontraída.
- (E) corada.

QUESTÃO 09

Analise as sentenças a seguir e assinale a alternativa em que ocorre desvio ortográfico.

- (A) Os pais dessa criança não têm responsabilidade.
- (B) Em um ato heroico, o bombeiro resgatou todas as pessoas do incêndio.
- (C) Comprei pés-de-moleque e paçoquinhas para a festa junina.
- (D) Este bairro reúne uma comunidade afro-brasileira.
- (E) Os empréstimos de livros estão suspensos até a próxima segunda-feira.

QUESTÃO 10

Analise as sentenças a seguir em relação à regência verbal ou nominal. Assinale a alternativa em que ocorre desvio, de acordo com a norma-padrão da língua portuguesa.

- (A) Duas crianças foram avistadas arrasadas em lágrimas enquanto brincavam no parque.
- (B) Soube que fizeram apreciações sobre a minha fala no simpósio.
- (C) Durante as aulas, a professora incentiva os alunos em fazer faculdade.
- (D) Os livros de Machado de Assis e de Clarice Lispector compõem o acervo da biblioteca.
- (E) Este grupo é responsável por dar assistência às cerimônias formais da universidade.

MATEMÁTICA E RACIOCÍNIO LÓGICO**QUESTÃO 11**

Um determinado círculo tem raio 4 cm. Se fosse construído um quadrado com a mesma área deste círculo, qual seria a medida do lado desse quadrado? Considere $\sqrt{\pi} \approx 1,77$.

- (A) 4,05 cm.
- (B) 5,06 cm.
- (C) 6,07 cm.
- (D) 7,08 cm.
- (E) 8,09 cm.

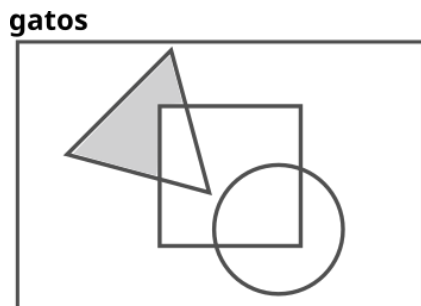
QUESTÃO 12

Foi colocado dentro de uma ampulheta 1,2 milhão de grãos de areia. A ampulheta tem dois reservatórios. Um deles está totalmente cheio, e quando ela é virada a areia começa a escoar de um reservatório para o outro numa velocidade constante de 50 grãos por segundos. Qual o tempo total para que toda a área passe de um reservatório para o outro?

- (A) 6 horas e 40 minutos.
- (B) 6 horas e 6 minutos.
- (C) 7 horas e 20 minutos.
- (D) 5 horas e 40 minutos.
- (E) 7 horas e 12 minutos.

QUESTÃO 13

O diagrama lógico abaixo mostra algumas características físicas no conjunto-universo dos gatos. Considere que a área dentro do quadrado representa os gatos com pelagem branca, no triângulo os gatos com um dos olhos azuis e no círculo os gatos com os dois olhos azuis:



A área sombreada da figura representa:

- (A) Gatos sem pelagem branca, com os dois olhos azuis.
- (B) Gatos com pelagem branca, com um dos olhos azuis.
- (C) Gatos sem pelagem branca, com um dos olhos azuis.
- (D) Gatos sem pelagem branca, e nenhum dos olhos azuis.
- (E) Gatos com pelagem branca, com os dois olhos azuis.

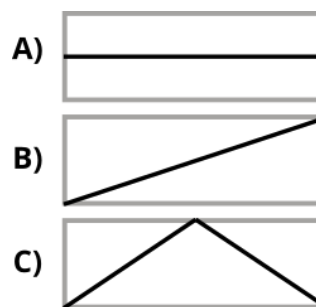
QUESTÃO 14

Suponha que um painel solar produz 40 kWh em 30 dias. Quantos painéis iguais a este são necessários para produzir 120 kWh em 10 dias?

- (A) 3.
- (B) 4.
- (C) 6.
- (D) 8.
- (E) 9.

QUESTÃO 15

Três nadadores, A, B e C, competem numa prova de natação. Eles mergulham na água no mesmo instante de tempo e mantêm todos a mesma velocidade constante durante toda a prova, porém seguem percursos ligeiramente diferentes. A velocidade é a razão (distância percorrida)/(tempo levado para completar a prova). A figura abaixo mostra o percurso dos três nadadores:

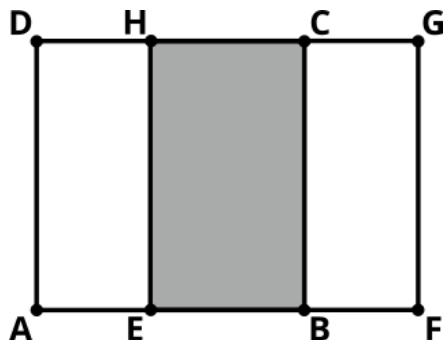


O comprimento da piscina e a largura de cada raia é a mesma para os três competidores. Considere o tempo levado para completar a prova dos nadadores A, B e C como t_A, t_B, t_C , respectivamente. Então pode-se afirmar que:

- (A) $t_A < t_B < t_C$.
- (B) $t_A > t_B = t_C$.
- (C) $t_A > t_C > t_B$.
- (D) $t_A = t_B < t_C$.
- (E) $t_A > t_B > t_C$.

QUESTÃO 16

A figura abaixo mostra dois quadrados ABCD e EFGH parcialmente sobrepostos:



Sabendo-se que o lado dos quadrados ABCD e EFGH é 2 metros, e que a medida AF é 3,5 metros, indique a área da região sombreada EBCH:

- (A) 2,0 m².
- (B) 1,0 m².
- (C) 3,5 m².
- (D) 0,5 m².
- (E) 1,5 m².

QUESTÃO 17

Os números 12 e 14 estão para os números r e s , assim como 6 está para 5 e 7 está para 8, respectivamente. Indique a soma $r + s$?

- (A) 06.
- (B) 16.
- (C) 10.
- (D) 26.
- (E) 20.

QUESTÃO 18

Uma pessoa tem dois pares de sapato de salto alto, com tamanhos diferentes. Quando ela usa o primeiro par, a altura total (pessoa + sapato) fica 1,77 m. Já quando ela usa o segundo par, a altura total fica 1,80 m. Além disso, a altura somada dos dois pares de sapato é 31 cm. Indique a altura da pessoa:

- (A) 1,70.
- (B) 1,65.
- (C) 1,67.
- (D) 1,59.
- (E) 1,63.

QUESTÃO 19

A tabela abaixo mostra a hora de chegada de alguns estudantes de uma determinada escola:

Estudante	Hora de chegada
Anderson	7h00min
Breno	7h15min
Clodovil	7h03min
Diego	7h06min
Evandro	7h21min

Sabendo-se que a aula começa às 7h00min, indique a média, em horas, do tempo de atraso entre esses estudantes:

- (A) 0,18.
- (B) 0,17.
- (C) 0,16.
- (D) 0,15.
- (E) 0,14.

QUESTÃO 20

Uma loja de roupas online calcula o sucesso de uma campanha de marketing com base em um parâmetro chamado de Conversão. Esse parâmetro é representado pela razão entre o número de compras de uma determinada peça, e o número de buscas por essa peça na sua plataforma. Se em um determinado mês o número de buscas foi 2 vezes menor, comparado ao mês anterior, e o número de compras foi 2 vezes maior, a conversão foi:

- (A) 2 vezes menor.
- (B) 4 vezes maior.
- (C) Não se alterou.
- (D) 2 vezes maior.
- (E) 4 vezes menor.

NOÇÕES DE INFORMÁTICA**QUESTÃO 21**

Sobre a função “responder” no MS-Outlook 2016, analise as afirmações abaixo:

- I. O campo “Assunto” não será preenchido automaticamente.
- II. O texto original do remetente não será mantido.
- III. O anexo será mantido na mensagem.
- IV. Essa função é útil quando você quer responder diretamente ao remetente original e não precisa envolver outros destinatários.
- V. O campo “Para” deverá ser preenchido.

Acerca da análise, é possível afirmar:

- (A) Todos os itens estão corretos.
- (B) Nenhum dos itens estão corretos.
- (C) Apenas os itens I e IV estão corretos.
- (D) Apenas os itens II e V estão corretos.
- (E) Dente os itens, apenas um deles está correto.

QUESTÃO 22

Sobre a função “encaminhar” no MS-Outlook 2016, analise as afirmações abaixo:

- () A função "Encaminhar" é usada quando você deseja compartilhar um e-mail com outra pessoa ou grupo de pessoas que não estão originalmente incluídos na conversa.
- () O campo “Para” não deverá ser preenchido.
- () O anexo não será mantido na mensagem.

Indique “V” para verdadeiro e “F” para falso.

- (A) V, F, F.
- (B) V, V, V.
- (C) F, F, F.
- (D) F, V, F.
- (E) V, F, V.

QUESTÃO 23

Leia os trechos abaixo e assinale a alternativa que complete corretamente e, respectivamente as lacunas:

I - O _____ é um software de processamento de texto desenvolvido pela Microsoft, utilizado para criar e formatar documentos, como cartas, relatórios e trabalhos acadêmicos. Ele oferece ferramentas para edição de texto, inserção de imagens, criação de tabelas e outros elementos gráficos, visando produzir documentos bem apresentados.

II - O _____, também desenvolvido pela Microsoft, é um software de planilha eletrônica utilizado para realizar cálculos, análises de dados e organização de informações em formato de tabela. É amplamente utilizado em ambientes profissionais e acadêmicos para criar orçamentos, gráficos, relatórios financeiros e realizar diversas outras tarefas relacionadas à manipulação de dados numéricos.

- (A) Excel; Word.
- (B) Excel; Outlook.
- (C) Word; PowerPoint.
- (D) Word; Excel.
- (E) PowerPoint; Excel.

QUESTÃO 24

Imprimir e digitalizar são duas ações distintas que envolvem a manipulação de documentos em formatos físicos e digitais, Neste sentido, analise as afirmações abaixo:

I. O ato de imprimir implica em transferir informações digitais de um dispositivo eletrônico para um meio físico, como papel. Ao imprimir um documento, você cria uma cópia física que pode ser manipulada, compartilhada ou arquivada de forma tangível.

II. Quando ocorre a impressão de um documento, o resultado final é um documento em formato digital, não podendo ser manuseado de forma física.

III. A digitalização envolve capturar informações de um meio físico, como documentos em papel, e convertê-las em formato digital. Ao digitalizar um documento, você cria uma versão eletrônica que pode ser armazenada, editada, compartilhada e processada em dispositivos eletrônicos..

Acerca da análise, é possível afirmar:

- (A) Todos os itens estão corretos.
- (B) Nenhum dos itens estão corretos.
- (C) Apenas os itens I e III estão corretos.
- (D) Apenas os itens II e III estão corretos.
- (E) Dente os itens, apenas um deles está correto.

QUESTÃO 25

O Microsoft Outlook 2016 é uma ferramenta de comunicação e gerenciamento de informações pessoais que oferece uma variedade de funções para ajudar os usuários a gerenciar seus e-mails, contatos, calendários e tarefas. Neste contexto, analise as afirmações:

I - Enviar, receber e organizar e-mails de várias contas de e-mail em uma única interface. Os usuários podem criar pastas, classificar e filtrar e-mails, além de usar regras para automatizar ações.

II - Não permite anexar arquivos do Microsoft Word, Excel ou PowerPoint aos e-mails, além de sincronizar informações com outros aplicativos do Microsoft Office.

- (A) As asserções I e II são proposições verdadeiras, e a II é uma justificativa da I.
- (B) A asserção I é uma proposição verdadeira, e a II é uma proposição falsa.
- (C) As asserções I e II são proposições verdadeiras, mas a II não é uma justificativa da I.
- (D) As asserções I e II são proposições falsas.
- (E) A asserção I é uma proposição falsa, e a II é uma proposição verdadeira.

CONHECIMENTOS ESPECÍFICOS**QUESTÃO 26**

De acordo com Oliveira e Marinho-Araújo 2009, nesse sentido, a _____ é entendida como um campo de atuação profissional do psicólogo e, também, de produção científica, caracterizado pela inserção da Psicologia no contexto _____, sendo que o objetivo principal deste campo é mediar os processos de desenvolvimento humano e de aprendizagem, contribuindo para sua promoção. Assinale a alternativa que preencha as respectivas lacunas:

- (A) Psicologia do Esporte, comunidade.
- (B) Psicologia do Trânsito, associações.
- (C) Psicologia Escolar, escolar.
- (D) Psicologia Hospitalar, escolar.
- (E) Psicologia Clínica, comunidade.

QUESTÃO 27

De acordo com os preceitos do antigo behaviorismo clássico/metodológico, que preconiza a ciência focada exclusivamente no mundo objetivo externo ao sujeito, a Psicologia deve direcionar sua atenção apenas ao comportamento suscetível de observação pública e mensuração, em detrimento da busca por causas ou influências provenientes de estados mentais. Nesse contexto, é considerado o pai do behaviorismo clássico:

- (A) John B. Watson.
- (B) Sigmund Freud.
- (C) B.F. Skinner.
- (D) William James.
- (E) Carl Rogers.

QUESTÃO 28

De acordo com Severino 1991, a educação pode ser uma prática de intervenção na realidade social, é um fenômeno _____ composto por um conjunto complexo de perspectivas e enfoques. Não pode, portanto, ser considerada como uma ciência isolada nem tampouco apreendida mediante categorias de um único campo epistemológico, já que várias disciplinas autônomas convergem para a constituição de seu objeto. Ou seja, a prática pedagógica é influenciada por múltiplas dimensões: social e política, filosófica, ética, histórica etc. Assinale a alternativa que preencha a respectiva lacuna:

- (A) Multifacetado.
- (B) Cultural.
- (C) Socioeconômico.
- (D) Político.
- (E) Sociocultural.

QUESTÃO 29

Conforme estabelecido pela Lei nº 13.935/2019, as redes públicas de educação básica são incumbidas de disponibilizar serviços destinados a atender às necessidades e prioridades determinadas pelas políticas de educação. Essa provisão é efetivada por meio de equipes multiprofissionais, compostas por profissionais devidamente habilitados em áreas específicas, conforme definido por esta legislação, para a prestação de serviços educacionais. Assinale a alternativa correta:

- (A) Pedagogos e Nutricionistas.
- (B) Fisioterapeutas e Historiadores.
- (C) Assistentes Sociais e Biólogos.
- (D) Psicólogos de serviço social.
- (E) Pedagogos e Psicólogos.

QUESTÃO 30

Com base na abordagem sobre os impasses no processo educativo e suas implicações para a atuação do psicólogo, analise as alternativas a seguir, identificando aquela que melhor reflete as considerações pertinentes ao tema:

- (A) Em conformidade com as reflexões sobre impasses no processo educativo, o psicólogo, ao se deparar com desafios na dinâmica escolar, deve priorizar intervenções individualizadas, focando exclusivamente no aluno em questão.
- (B) Diante dos impasses no contexto educativo, o psicólogo escolar é instigado a adotar abordagens preventivas e proativas, buscando identificar fatores sistêmicos que contribuem para a ocorrência de dificuldades no processo de ensino-aprendizagem.
- (C) A atuação do psicólogo no ambiente escolar, diante de impasses educativos, consiste primariamente na prescrição de métodos tradicionais de intervenção, negligenciando estratégias inovadoras que visem à promoção de uma educação mais inclusiva.
- (D) As implicações do psicólogo no enfrentamento de impasses educativos restringem-se ao âmbito individual, desconsiderando a importância de intervenções colaborativas e interdisciplinares com outros profissionais da educação.
- (E) Em consonância com as discussões acerca dos impasses no processo educativo, é imperativo que o psicólogo adote uma postura passiva, aguardando que os problemas se resolvem espontaneamente, sem a necessidade de intervenção direta.

QUESTÃO 31

Com base na Resolução CFP N.º 013/2007, delineando as atribuições do Psicólogo Escolar/Educacional, identifique a assertiva que não corresponde a uma competência:

- (A) Realizar pesquisas, diagnóstico e intervenção preventiva ou corretiva em grupo e individualmente.
- (B) O desenvolvimento de programas de orientação vocacional para estudantes do ensino médio.
- (C) A condução de intervenções psicopedagógicas voltadas para a melhoria do desempenho acadêmico.
- (D) A participação ativa na gestão de conflitos interpessoais no ambiente escolar.
- (E) A prescrição de medicamentos psicotrópicos para tratar questões emocionais de estudantes.

QUESTÃO 32

Qual foi a primeira escola de psicologia exclusivamente norte-americana. Nasceu nas Universidades de Chicago e Columbia, e teve como precursoras as ideias evolucionistas de Darwin, psicologia do ato, fenomenológica e o naturalismo. Os funcionalistas concentram seus esforços no para que serve, qual a função. A questão é de ordem prática e utilitária. O estudo deveria dirigir-se ao aspecto instrumental da consciência, cuja função é dirigir o comportamento e ajustar o homem às condições ambientais, isto é, ao meio físico e social.

- (A) Escola Funcionalismo.
- (B) Escola Idealismo.
- (C) Escola Criacionismo.
- (D) Escola de Chicago-Columbia:
- (E) Escola Ambientalista.

QUESTÃO 33

É uma terapia baseada nas ideias de Carl G. Jung seu objetivo principal é auxiliar o indivíduo a resgatar sua essência, através do contato com seu “self”, para que dessa forma ele possa viver de acordo com quem realmente é. Também chamada de Psicologia Analítica, ela trabalha para integrar aspectos inconscientes à consciência e estabelecer um equilíbrio entre o mundo interno e externo. Assinale a alternativa a qual se refere a descrição acima:

- (A) Psicoterapia Humanista.
- (B) Psicologia Junguiana.
- (C) Terapia Cognitivo-Comportamental.
- (D) Psicanálise Freudiana.
- (E) Terapia Gestalt.

QUESTÃO 34

De acordo com Myrian Sales, psicóloga do Hospital Oswaldo Cruz de Pernambuco, os benefícios da dança para a saúde mental estão associados à liberação de neurotransmissores ligados à sensação de bem-estar. Com base nessa informação, assinale a alternativa correta sobre os efeitos da dançaterapia.

- (A) A dança não tem impacto direto na liberação de neurotransmissores.
- (B) Durante a dança, ocorre uma diminuição do fluxo sanguíneo no corpo.
- (C) A liberação de dopamina, endorfina, ocitocina e serotonina está relacionada à sensação de bem-estar durante a dança.
- (D) A respiração durante a dança não é afetada devido à ativação do sistema cardiovascular.
- (E) A dança não influencia o sistema cardiovascular.

QUESTÃO 35

Para Karl Jaspers a _____ é uma ciência complexa: é uma ciência natural, destinada à explicação causal dos fenômenos psíquicos mediante os recursos e teorias acerca dos nexos extra conscientes que determinam esses fenômenos; e é ciência do espírito, voltada para a descrição das vivências subjetivas, para a interpretação das suas expressões objetivas e para a compreensão de seus nexos internos e significativos. Assinale a alternativa que preencha a respectiva lacuna:

- (A) Antropologia.
- (B) Psicanálise.
- (C) Psicopatologia.
- (D) Neurociência.
- (E) Psicologia.

QUESTÃO 36

Conforme a lei nº 10.436/2002, a Língua Brasileira de Sinais - Libras _____ substituir a modalidade escrita da língua portuguesa. Assinale a alternativa correta:

- (A)) Ocasionalmente.
- (B) Obrigatoriamente.
- (C) Poderá.
- (D) Não poderá.
- (E) Eventualmente.

QUESTÃO 37

Os psicotrópicos são classificados de acordo com os efeitos que produzem na vida psíquica. Os medicamentos utilizados para conter crises de pânico, os denominados:

- (A) Benzodiazepínicos.
- (B) Antidepressivos.
- (C) Antipsicóticos.
- (D) Estabilizadores de humor.
- (E) Sedativos.

QUESTÃO 38

Com o intuito de desenvolver modelos alternativos ao hospital psiquiátrico, visando à redução de custos e à eficácia aprimorada nos atendimentos, através da formação de grupos multiprofissionais, a inserção do psicólogo nos serviços públicos de saúde ocorreu em:

- (A) Década de 1970.
- (B) Década de 1990.
- (C) Década de 1980.
- (D) Década de 1960.
- (E) Década de 1950.

QUESTÃO 39

A Fenomenologia é um movimento filosófico iniciado por _____ no começo do século XX, influenciando rapidamente a psicologia. Trata-se de um esforço metódico de validação da experiência humana como fonte de conhecimento. Assinale a alternativa correta:

- (A) Friedrich Nietzsche.
- (B) Sigmund Freud.
- (C) Jean-Jacques Rousseau.
- (D) René Descartes.
- (E) Edmund Husserl.

QUESTÃO 40

O dispositivo psíquico, também conhecido como psique, representa a estrutura conceitual proposta por Sigmund Freud. Inicialmente, esse modelo foi categorizado em termos de inconsciente, pré-consciente e consciente. No entanto, ao longo do tempo, essa categorização foi refinada, resultando na identificação de três elementos inter-relacionados que colaboram de maneira conjunta nas operações mentais e nas respostas comportamentais. Esses elementos são:

- (A) Ego, Superego e Consciente.
- (B) Id, Superego e Inconsciente.
- (C) Pré-consciente, Consciente e Subconsciente.
- (D) Id, Ego e Superego.
- (E) Pré-consciente, Consciente e Subconsciente.

QUESTÃO 41

Qual é o nome da avaliação psicológica, cujo objetivo é avaliar os sintomas, costumes e comportamento dos pacientes, aprofundar-se neles e estudá-los, a fim de encontrar um possível diagnóstico psicológico.

- (A) Psicodiagnóstico.
- (B) Psicoterapia Diagnóstica.
- (C) Psicanálise Diagnóstica.
- (D) Avaliação Psicossocial.
- (E) Psicometria Clínica.

QUESTÃO 42

De acordo com J. Pratt a grupoterapia está comemorando seu primeiro centenário de existência isso se deve ao fato que a inauguração do recurso grupo terapia começou com este fisiologista americano que a partir de _____ em uma enfermaria com mais de 50 pacientes _____ criou intuitivamente o número de classes coletivas as quais consistia em uma aula prévia ministrada por frete sobre a higiene e os problemas da tuberculose em seguida de pergunta dos pacientes e da sua livre discussão com o médico. Assinale a alternativa que preencha as respectivas lacunas:

- (A) 1920, Gripe Espanhola.
- (B) 1900, Peste Bubônica;
- (C) 1910, Febre Tifoide.
- (D) 1950, Sarampo.
- (E) 1905, Tuberculosos.

QUESTÃO 43

Segundo Zanelli e Bastos (2004), o desenvolvimento da psicologia organizacional e o do trabalho no Brasil associaram-se as transformações mundiais tocantes à área, o seu surgimento está coeso a progressiva _____ que ocorreu nos principais países Ocidentais, no limiar do século XIX e início do século XX. Assinale a alternativa que preencha a respectiva lacuna:

- (A) Urbanização.
- (B) Industrialização.
- (C) Desindustrialização.
- (D) Renascimento.
- (E) Descentralização Industrial.

QUESTÃO 44

Segundo Fischer (2002), em meados dos anos 50 surge o termo Human Resource Management, o foco passa a ser na área:

- (A) Logística Pessoal.
- (B) Marketing de Recursos.
- (C) Comportamental do ser humano.
- (D) Contabilidade Humana.
- (E) Tecnologias Organizacionais.

QUESTÃO 45

De acordo com a lei nº 8.069/90 Estatuto da Criança e do Adolescente, o direito à liberdade compreende os seguintes aspectos, exceto:

- (A) Opinião e expressão.
- (B) Brincar, praticar esportes e divertir-se.
- (C) Participar da vida política, na forma da lei.
- (D) Buscar refúgio, auxílio e orientação.
- (E) Não participar da vida política, na forma da lei.

QUESTÃO 46

De acordo com a Lei nº 8.069/90, que estabelece o Estatuto da Criança e do Adolescente, o artigo 54º determina que é dever do Estado proteger a criança e ao adolescente, exceto:

- (A) Ensino fundamental, obrigatório e gratuito, inclusive para os que a ele não tiveram acesso na idade própria.
- (B) Progressiva extensão da obrigatoriedade e gratuidade ao ensino médio.
- (C) Atendimento educacional especializado aos portadores de deficiência, preferencialmente em escolas especializadas no ensino da educação especial.
- (D) Atendimento no ensino fundamental, através de programas suplementares de material didático-escolar, transporte, alimentação e assistência à saúde.
- (E) Oferta de ensino noturno regular, adequado às condições do adolescente trabalhador.

QUESTÃO 47

Conforme disposto na Lei nº 8.080/1990, em seu Art. 13, a coordenação das políticas e programas, incumbência das comissões intersetoriais, compreenderá, sobretudo, as seguintes atividades, com exceção:

- (A) Alimentação e nutrição.
- (B) Saneamento e meio ambiente.
- (C) Vigilância sanitária farmacoe epidemiologia.
- (D) Saúde do professor.
- (E) Recursos humanos.

QUESTÃO 48

De acordo com a lei nº 8.142/90 A Conferência de Saúde reunir-se-á a cada _____ anos com a representação dos vários segmentos sociais, para avaliar a situação de saúde e propor as diretrizes para a formulação da política de saúde nos níveis correspondentes, convocada pelo Poder Executivo ou, extraordinariamente, por esta ou pelo Conselho de Saúde. Assinale a alternativa que preencha a respectiva lacuna:

- (A) Quatro.
- (B) Cinco.
- (C) Dois.
- (D) Três.
- (E) Um.

QUESTÃO 49

Considerando a importância da psicologia no contexto do atendimento e orientação na área educacional, analise as seguintes afirmativas e assinale a opção correta:

Pergunta:

Considerando a importância da psicologia no contexto do atendimento e orientação na área educacional, analise as seguintes afirmativas e assinale a opção correta, garantindo coerência e claramente na abordagem do tema:

I. A psicologia educacional visa tratar exclusivamente distúrbios emocionais dos estudantes, deixando de lado aspectos cognitivos e sociais.

II. O atendimento psicológico na área educacional busca promover o desenvolvimento integral dos estudantes, considerando não apenas suas dificuldades, mas também suas potencialidades.

III. A orientação educacional é restrita aos aspectos acadêmicos, não abrangendo questões relacionadas ao bem-estar emocional e social dos alunos.

IV. O trabalho do psicólogo na área educacional é limitado à intervenção individual, não envolve ações de prevenção e promoção de saúde mental em nível coletivo.

V. A psicologia na educação desconsidera a importância da parceria entre escola, família e comunidade no processo de desenvolvimento e aprendizagem dos alunos.

- (A) Apenas I e IV estão corretas.
- (B) Apenas II e V estão corretos.
- (C) Todas as assertivas estão corretas.
- (D) Apenas III e IV estão corretas.
- (E) Nenhuma assertiva está correta.

QUESTÃO 50

Os _____ psicopatológicos são condições que afetam o funcionamento mental e emocional de uma pessoa, podendo interferir significativamente em suas atividades diárias, relacionamentos e bem-estar. Dentre eles, destaca-se o Transtorno de _____, caracterizado por períodos de humor elevado, impulsividade e diminuição da necessidade de sono.

- (A) Sintomas; Transtorno desafiador opositivo.
- (B) Comportamentos; Personalidade.
- (C) Transtornos; Depressão.
- (D) Distúrbios; Bipolaridade.
- (E) Problemas; Esquizofrenia.

