

PROVA OBJETIVA.

CARGO: CUIDADOR.

Leia atentamente as INSTRUÇÕES:

1. Não será permitido ao candidato realizar as provas usando óculos escuros (exceto para correção visual, ou fotofobia, desde que informe no ato da inscrição), ou portando aparelhos eletrônicos (mesmo desligados), qualquer tipo de relógio, chaves, carteira, bolsa, acessórios que cubram o rosto, a cabeça, ou parte desta.
2. Será eliminado deste Processo Seletivo Simplificado Unificado (PSS) 2022, o candidato que fizer uso do celular e/ou aparelho eletrônico, no local onde estiver ocorrendo o mesmo; o candidato cujo celular e/ou aparelho(s) eletrônico(s), mesmo desligado(s), emitir(em) qualquer som, durante a realização das provas. Durante todo o tempo em que permanecer no local, onde ocorre o Processo Seletivo Simplificado Unificado (PSS) 2022, o candidato deverá manter o celular desligado, sendo permitido ativá-lo, somente após ultrapassar o portão de saída do prédio.
3. **Sob pena de ser eliminado deste Processo Seletivo Simplificado Unificado (PSS) 2022**, o candidato poderá manter em cima da sua carteira apenas, caneta, um documento de identificação, lanche (exceto líquido). **Outros pertences**, antes do início das provas, o candidato deverá acomodá-los **embaixo de sua cadeira**, sob sua guarda e responsabilidade.
4. Confira se a sua prova tem **20** questões, cada qual com **4 alternativas**, veja se o cargo para o qual se inscreveu está correto.
5. Verifique seus dados no cartão-resposta (nome, número de inscrição e o cargo para o qual se inscreveu) e **ASSINE** o mesmo.
6. Preencha toda a área do cartão-resposta correspondente à alternativa de sua escolha, com caneta esferográfica (tinta azul, ou preta), sem ultrapassar as bordas. As marcações duplas, rasuradas, ou marcadas diferentemente do modelo estabelecido no cartão-resposta, serão anuladas.
7. Observe as orientações apresentadas no cartão-resposta. O mesmo não será substituído, salvo se contiver erro de impressão.
8. Aguarde a autorização do fiscal para abrir o caderno de provas. Ao receber a ordem, confira-o com muita atenção. Nenhuma reclamação sobre o total de questões, ou falha de impressão, será aceita depois de iniciada a prova. Cabe apenas ao candidato a interpretação das questões, o fiscal não poderá fazer nenhuma interferência.
9. A Prova Objetiva terá duração máxima de **3h (três horas)**, incluso o tempo destinado ao preenchimento do cartão-resposta.
10. O candidato poderá se retirar do local da prova somente **1h (uma hora)** após seu início, levando seu caderno de prova.
11. Ao terminar sua prova, o candidato deverá entregar ao fiscal de sala o cartão-resposta preenchido, assinado e retirar-se do recinto, onde está ocorrendo a mesma, não lhe sendo mais permitido o uso do banheiro e bebedouro.
12. Os **3 (três)** candidatos, que terminarem a prova por último, deverão permanecer na sala, só poderão sair juntos, após o fechamento do envelope, contendo os cartões-respostas dos candidatos presentes e ausentes, assinarem no referido envelope, atestando que este foi devidamente lacrado.

BOA PROVA!

LÍNGUA PORTUGUESA.

Leia o texto para responder à próxima questão.



Quando o filho chegou em casa, a mãe preocupada quis logo saber o motivo de ela ter recebido um recadinho da professora.


- A professora disse que lhe fez perguntas hoje e você não respondeu nada.
- Mãe, só estava seguindo ordens.
- Ordens? De quem?
- Suas.
- Minhas? E que ordens são essas?
- De nunca responder à professora.

01. De acordo com as palavras do texto, marque a alternativa onde temos um ditongo.

- a) Mãe.
- b) Suas.
- c) Preocupada.
- d) Ordens.

02. É um romance da 2ª geração modernista, de Graciliano Ramos; faz uma crítica social à pobreza e às dificuldades na vida de uma família de retirantes no sertão nordestino, buscando por melhor dignidade. Personagens principais: Fabiano, Sinhá Vitória, O Menino mais Velho, o Menino mais Novo, a Cachorra Baleia e o patrão Tomás da Bolandeira. Marque a alternativa correta.

- a) Angústia.
- b) Vidas Secas.
- c) O Quinze.
- d) São Bernardo.



Charge do cartunista Duke.

03. No quadro temos:

- a) Duas orações coordenadas assindéticas.
- b) Duas orações coordenadas sindéticas.
- c) Duas orações subordinadas adjetivas.
- d) Um período simples, uma oração absoluta.

04. Em se tratando de morfemas e processos de formação de palavras, aponte a alternativa que complete corretamente os textos.

“O morfema com significado lexical é também chamado _____. Ele porta o significado básico da palavra, o qual permanece o mesmo em um conjunto de palavras cognatas, isto é, que pertencem à mesma família”.

“_____ é um morfema que se associa ao radical para modificar seu sentido básico, acrescentar-lhe uma ideia secundária, ou mudar sua classe gramatical. É chamado _____ quando colocado antes do radical e _____ quando posto depois dele”.

- a) Sufixo, prefixo, afixo, radical.
- b) Afixo, prefixo, radical, sufixo.
- c) Prefixo, sufixo, radical, afixo.
- d) Radical, afixo, prefixo, sufixo.

05. Sobre figuras de linguagem, relacione a Coluna I com a Coluna II e marque a alternativa correta.

A- Metonímia.

B- Sinestesia.

C- Hipérbole.

D- Antítese.

Coluna II.

1- O padre tinha uma voz gélida.

2- Minha mochila está pesando uma tonelada.

3- Ao lado do casebre, construíram uma mansão.

4- Comprei esse carro com meu suor.

a) A (3) - B (1) - C (4) - D (2).

b) A (1) - B (3) - C (2) - D (4).

c) A (4) - B (1) - C (2) - D (3).

d) A (2) - B (4) - C (3) - D (1).

MATEMÁTICA.

06. O tamanho da tela de um tablet é determinado pelo comprimento (em polegadas) de sua diagonal. João comprou um tablet para escrita e desenho, cujas medidas da tela são, aproximadamente, 28 cm de comprimento por 20 cm de largura. Sabendo-se que 1 polegada = 2,54 cm, determine, em polegadas, o tamanho aproximado da tela do tablet. Considere 8,6 como aproximação para $\sqrt{74}$.

a) 10,0.

b) 12,0.

c) 13,5.

d) 15,0.

07. Um triângulo possui lados medindo 8 cm e 10 cm. O ângulo interno, formado entre esses lados, mede 60°. Determine em centímetros, a medida do terceiro lado do triângulo.

a) $2\sqrt{21}$.

b) 12.

c) $2\sqrt{61}$.

d) 17.

08. São fornecidas as coordenadas cartesianas de três vértices de um retângulo: (0, 3), (2, 1) e (5, 4). Marque a opção que contém as coordenadas do quarto vértice do retângulo.

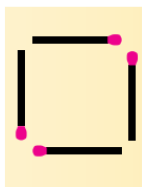
a) (1, 4).

b) (2, 5).

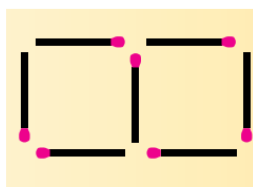
c) (3, 5).

d) (3, 6).

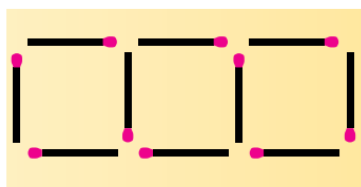
09. Isadora juntou palitos de fósforos para criar figuras formadas por quadrados, conforme ilustrado nas figuras. Seguindo o mesmo padrão das imagens, utilizando-se uma caixa com 40 palitos de fósforos, quantos quadrados se podem formar?



1 quadrado
4 palitos



2 quadrados
7 palitos



3 quadrados
10 palitos

a) 10.

b) 12.

c) 13.

d) 15.

10. O professor Sílvio aplicou uma prova em uma turma de 20 alunos do Ensino Médio. A seguir o registro das notas obtidas pelos estudantes nessa prova: 7,8 – 5,0 – 5,5 – 4,1 – 6,8 – 5,0 – 4,7 – 5,6 – 4,9 – 6,3 – 4,7 – 3,6 – 8,4 – 5,4 – 4,7 – 7,5 – 5,6 – 3,7 – 6,2 – 4,4. Qual o valor da mediana dessas notas?

a) 4,8.

- b) 5,0.
- c) 5,2.
- d) 5,4.

CONHECIMENTOS GERAIS.

Conforme a Lei Complementar nº 25/1997 e alterações, que dispõe sobre o Regime Jurídico dos Servidores Públicos do Município de Cáceres, MT, responda às próximas três questões.

11. A quem competes dar posse aos ocupantes de cargos em comissão, de funções e cargos efetivos da respectiva entidade?

- a) Ao secretário de administração.
- b) Aos dirigentes de autarquias e fundações.
- c) Ao Prefeito.
- d) Às Secretarias Municipais.

12. Atribua (V) verdadeiro ou (F) falso às assertivas e marque a alternativa verdadeira.

() O servidor estável só perderá o cargo, dentre outros motivos, mediante procedimento de avaliação periódica de desempenho, na forma de lei complementar, assegurado o contraditório e a ampla defesa.

() As carreiras serão organizadas em classes de cargos dispostos de acordo com a natureza profissional e complexidade de suas atribuições, guardando correlação com a finalidade do órgão ou entidade.

() Extinto o cargo, ou declarada a sua desnecessidade, o servidor estável ficará em disponibilidade, com remuneração proporcional ao tempo de serviço, até seu adequado aproveitamento em outro cargo.

- a) F – V – V.
- b) V – F – V.
- c) V – V – F.
- d) V – V – V.

13. Indique a alternativa que completa a lacuna.

_____ antes de findar o período do estágio probatório, será submetida à homologação da autoridade competente a avaliação de desempenho do servidor, realizada de acordo com o que dispuser a legislação ou o regulamento da respectiva carreira ou cargo, sem prejuízo da continuidade de apuração dos fatores enumerados nos incisos I a V do art. 28, da Lei Complementar nº 25/1997.

- a) Um mês
- b) Dois meses
- c) Quatro meses
- d) Seis meses

14. Marque a alternativa incorreta.

- a) O exercício de função gratificada dar-se-á no prazo de dez dias, a partir da publicação do ato de designação.
- b) A posse do servidor efetivo que for nomeado para outro cargo, independerá de inspeção médica, desde que se encontre em exercício.
- c) O início, a suspensão, a interrupção e o reinício do exercício serão registrados no assentamento individual do servidor.
- d) Ao entrar em exercício o servidor apresentará, ao órgão competente, os elementos necessários ao assentamento individual.

15. Leia o recorte da notícia publicada no site <https://www.caceres.mt.gov.br/>, acessada em 13/10/2022 e assinale a alternativa correta.

Cáceres conhece os campeões da Taça Mato Grosso de Futsal Masculino e Feminino categoria sub 15.

Após três dias de competições, chegou ao final em Cáceres, a Taça Mato Grosso de Futsal Masculino e Feminino, categoria sub 15.

O evento, realizado pela Federação Mato-grossense de Futsal, e com o apoio da prefeitura de Cáceres, que sediou a competição estadual, contou com a participação das cidades de Cáceres, Alto Garças, Comodoro, Cuiabá, Figueirópolis D'Oeste, Pedra Preta, Planalto da Serra, Sorriso e Várzea Grande.

Com um excelente nível técnico, a Taça Mato Grosso revelou atletas e definiu as duas equipes que representarão o estado na Taça Brasil da categoria no ano de 2023.

[...]

a) No feminino a grande campeã com méritos, foi a equipe de Várzea Grande, que venceu Sorriso por 4 x 1 e carimbou sua ida para a fase nacional no ano que vem. Já no masculino, a equipe de Várzea Grande derrotou a equipe de Pedra Preta pelo placar de 4 x 1, garantindo a primeira colocação e deixando Cáceres com o vice-campeonato.

b) No feminino a grande campeã com méritos, foi a equipe de Várzea Grande, que venceu Sorriso por 4 x 1 e carimbou sua ida para a fase nacional no ano que vem. Já no masculino, o Uirapuru Cuiabá derrotou a equipe cacerense do Salesiano ISM pelo placar de 4 x 1, garantindo a primeira colocação e deixando Cáceres com o vice-campeonato.

c) No feminino a grande campeã com méritos, foi a equipe de Várzea Grande, que venceu Sorriso por 4 x 1 e carimbou sua ida para a fase nacional no ano que vem. Já no masculino, a equipe de Alto Garças derrotou a equipe cacerense do Salesiano ISM pelo placar de 4 x 1, garantindo a primeira colocação e deixando Cáceres com o vice-campeonato.

d) No feminino a grande campeã com méritos, foi a equipe de Várzea Grande, que venceu Sorriso por 4 x 1 e carimbou sua ida para a fase nacional no ano que vem. Já no masculino, o Uirapuru Cuiabá derrotou a equipe de Sorriso pelo placar de 4 x 1, garantindo a primeira colocação e deixando Cáceres com o vice-campeonato.

CONHECIMENTOS ESPECÍFICOS.

16. Leia o texto e marque a alternativa correta.

Alimentos manipulados e preparados em serviços de alimentação, expostos à venda embalados, ou não, subdividem-se em:

I- Alimentos cozidos, mantidos quentes e expostos ao consumo.

II- Alimentos cozidos, mantidos refrigerados, congelados, ou à temperatura ambiente, que necessitam, ou não de aquecimento, antes do consumo.

III- Alimentos crus, mantidos refrigerados, ou à temperatura ambiente, expostos ao consumo.

- a) É verdadeiro apenas o item I.
- b) São verdadeiros apenas os itens II e III.
- c) São verdadeiros apenas os itens I e III.
- d) São verdadeiros todos os itens.

17. Atribua (V) verdadeiro ou (F) falso às assertivas e marque a alternativa verdadeira.

Os lotes das matérias-primas dos ingredientes, das embalagens reprovados, ou com prazos de validade vencidos devem:

() Serem imediatamente devolvidos ao fornecedor.

() Na impossibilidade de serem devolvidos ao fornecedor, devem ser devidamente identificados e armazenados separadamente.

() Deve ser determinada a destinação final dos mesmos.

- a) F – V – V.
- b) V – F – V.
- c) V – V – F.
- d) V – V – V.

18. Sobre preparação de alimentos, assinale a alternativa incorreta.

a) Quando aplicável, antes de iniciar a preparação dos alimentos, deve-se proceder à adequada limpeza das embalagens primárias das matérias-primas e dos ingredientes, minimizando o risco de contaminação.

b) Os óleos e gorduras utilizados devem ser aquecidos a temperaturas não superiores a 180°C (cento e oitenta graus Celsius).

c) Os alimentos submetidos ao descongelamento devem ser mantidos sob refrigeração, se não forem imediatamente utilizados, devem ser instantaneamente recongelados.

d) Para os alimentos congelados, antes do tratamento térmico, deve-se proceder ao descongelamento, a fim de garantir adequada penetração do calor.

19. Convulsão é caracterizada pela perda súbita da consciência, acompanhada de contrações musculares bruscas e involuntárias. Quando o cuidador tiver que socorrer uma vítima de convulsão, deverá adotar alguns procedimentos, exceto:

a) Proteger a cabeça da vítima, colocando um apoio macio.

b) Posicionar o indivíduo de lado para que o excesso de saliva, vômito, ou sangue, escorra da boca, evitando broncoaspiração.

c) Verificar nível de consciência da vítima.

d) Segurar firmemente a vítima para que não se movimente.

20. Luxação é uma lesão em que a extremidade de um dos ossos, que compõem uma articulação, é deslocada do seu lugar. Para identificar uma luxação deve-se observar as seguintes características:

(i) Dor intensa no local afetado.

(ii) Edema.

(iii) Impotência funcional.

(iv) Deformidade visível na articulação.

São características que permitem identificar uma luxação as relacionadas:

- a) Nos itens (i), (ii), (iii) e (iv).
- b) Apenas nos itens (iii) e (iv).
- c) Apenas nos itens (i) e (iii).
- d) Apenas nos itens (i), (ii) e (iii).

RASCUNHO.