

Caderno de Prova

AUXILIAR DE SERVIÇOS GERAIS

Data da prova: 09 de junho de 2024.

Duração máxima da prova: 2(duas) horas, incluído o tempo para o preenchimento do cartão resposta.

INSTRUÇÕES:

1. Este caderno contém 20 (vinte) questões objetivas com 04 (quatro) opções (A, B, C, D). A prova terá duração máxima de 02 (duas) horas. A prova terá seu horário de início em sala, a contar após a distribuição dos cadernos de prova e autorização do aplicador(a).
2. Confira em seu caderno de provas a sequência de questões. Você tem até 10 (dez) minutos do início das provas para solicitar a troca do caderno de provas que apresentar algum problema de impressão ou qualquer outro que inviabilize a realização da mesma, pois não serão aceitas reclamações posteriores nesse sentido.
3. A interpretação das questões, bem como das instruções, faz parte da prova. Portanto, ao aplicador(a) de sala e fiscais não há autorização para fornecer esclarecimentos sobre o conteúdo das provas, sendo esta atribuição de única e exclusiva responsabilidade do(a) candidato(a).
4. Você receberá do aplicador o cartão de respostas 30 (trinta) minutos após o início da prova, o cartão de respostas deverá obrigatoriamente ser assinado pelo(a) candidato(a) no local em que há a indicação: “**ASSINATURA**”, utilizando sempre caneta esferográfica de tinta preta ou azul.
5. Caso realmente precise, utilize como rascunho os espaços em branco nas folhas do caderno de prova. Sugerimos que você assinale, inicialmente, no próprio caderno de provas, todas as respostas que julgar correta. Depois, passe-as para o cartão de respostas.
6. Questões com mais de uma alternativa assinalada, rasurada ou em branco serão **ANULADAS**. Portanto, ao preencher o cartão de respostas faça-o cuidadosamente. Evite erros, pois em hipótese alguma haverá substituição do cartão de respostas por erro do(a) candidato(a).
7. Ao terminar a prova ou findo o horário limite para sua realização, o candidato deverá **OBRIGATORIAMENTE** entregar seu cartão de respostas “**ASSINADO**”, ao aplicador(a) de sala. O(a) candidato(a) que não devolver seu cartão de respostas será automaticamente **eliminado(a)** e não terá classificação alguma no processo seletivo.
8. **Atenção!** Preencha o cartão-resposta na mesma sequência numérica das questões do caderno de provas.
9. Somente será permitido levar o caderno de prova, depois de decorrido o período de **90 (noventa) minutos do início das provas**.
10. Não serão permitidas consultas a quaisquer materiais, uso de telefone celular ou outros aparelhos eletrônicos, assim como os demais procedimentos constantes no subitem 12.11 e no subitem 12.13 do Edital nº 001/2024.
11. Após o término da prova, o(a) candidato(a) deverá deixar imediatamente o recinto da mesma, sendo **terminantemente proibido** fazer contato com os(as) candidatos(as) que ainda não terminaram a prova sob pena de ser excluído do processo seletivo.
12. O desrespeito às normas que regem o presente processo seletivo, bem como, a desobediência às exigências registradas no edital, além de sanções legais cabíveis implica na desclassificação do(a) candidato(a).
13. Os dois últimos candidatos ao terminarem as provas deverão retirar-se da sala simultaneamente, após testemunharem o fechamento (lacre) do envelope de provas, assinando a Ata Relatório.
14. O candidato, após a divulgação dos gabaritos preliminares da prova objetiva, que será feita na página do processo seletivo acessível através do site www.idesg.org.br, na data prevista no QUADRO I – Cronograma geral de datas e eventos do Edital nº 001/2024, poderá peticionar **RECURSO** à banca examinadora, quando julgar que ocorreu erro na formulação das questões e divulgação do gabarito preliminar, observado o item 15 do Edital nº 001/2024.

BOA PROVA!!!

ATENÇÃO!!!

- O CARTÃO DE RESPOSTAS ABAIXO É PARA SER UTILIZADO SOMENTE COMO RASCUNHO.
- AO RECEBER O CARTÃO DE RESPOSTAS DEFINITIVO CONFIRA OS DADOS DE IDENTIFICAÇÃO (NOME, CARGO/EMPREGO, NÚMERO DE INSCRIÇÃO) E EM SEGUIDA ASSINE NO LOCAL INDICADO.

CARTÃO RESPOSTA



CONSÓRCIO PÚBLICO MULTIFINALITÁRIO DO NOROESTE/RJ - CONSPNOR/RJ									
PROCESSO SELETIVO Nº 001/2024									
Contratação e formação de Cadastro de reserva									
Nome:					Local:				
Cargo:					Data:	09/08/2024	Turno:		
Sala:					Nº de inscrição:				
<p>* Marcar apenas uma opção para cada questão, evitando ultrapassar o círculo; * O círculo correspondente à questão escolhida deve ser totalmente preenchido; * Marcar apenas a quantidade de questões existentes na sua prova; * Utilize somente caneta azul ou preta, não rasurar ou sujar o cartão; É responsabilidade do candidato a conferência dos dados de seu cartão (A) (B) (C) (D)</p>						<p>TIPO DE PROVA PADRÃO</p>			
01	(A)	(B)	(C)	(D)	16	(A)	(B)	(C)	(D)
02	(A)	(B)	(C)	(D)	17	(A)	(B)	(C)	(D)
03	(A)	(B)	(C)	(D)	18	(A)	(B)	(C)	(D)
04	(A)	(B)	(C)	(D)	19	(A)	(B)	(C)	(D)
05	(A)	(B)	(C)	(D)	20	(A)	(B)	(C)	(D)
06	(A)	(B)	(C)	(D)	21	(A)	(B)	(C)	(D)
07	(A)	(B)	(C)	(D)	22	(A)	(B)	(C)	(D)
08	(A)	(B)	(C)	(D)	23	(A)	(B)	(C)	(D)
09	(A)	(B)	(C)	(D)	24	(A)	(B)	(C)	(D)
10	(A)	(B)	(C)	(D)	25	(A)	(B)	(C)	(D)
11	(A)	(B)	(C)	(D)	26	(A)	(B)	(C)	(D)
12	(A)	(B)	(C)	(D)	27	(A)	(B)	(C)	(D)
13	(A)	(B)	(C)	(D)	28	(A)	(B)	(C)	(D)
14	(A)	(B)	(C)	(D)	29	(A)	(B)	(C)	(D)
15	(A)	(B)	(C)	(D)	30	(A)	(B)	(C)	(D)
Assinatura do Candidato								Nº DE INSCRIÇÃO	

ATENÇÃO:

- O(a) candidato(a) deverá **OBRIGATORIAMENTE**, entregar seu cartão de repostas definitivo preenchido e **ASSINADO**, sob pena de ter seu cartão de respostas **ANULADO**. (item 12.22 do edital nº 001/2024).
- Preencha o cartão-resposta na mesma sequência numérica das questões do caderno de provas.

LÍNGUA PORTUGUESA

Atenção: Leia atentamente o texto a seguir e responda as questões de 01 a 05:



The infographic features a central background image of a SAMU ambulance. It is surrounded by several circular inset images: a hand holding a mobile phone, a SAMU technician at a call center, a SAMU doctor at a call center, a SAMU ambulance on a road, a SAMU technician providing first aid to a patient, and the entrance of a hospital. Text boxes are connected to these images by dashed lines.

SAMU 192

O socorro começa com a ligação gratuita para a Central de Regulação das Urgências, no telefone 192

A ligação é atendida por técnicos que identificam a emergência e transferem o telefonema para um médico

Conforme a situação do paciente, o médico pode orientar a pessoa a procurar um posto de saúde, enviar ao local uma ambulância ou uma UTI móvel

O médico identifica a gravidade e inicia o atendimento, orientando o paciente ou a pessoa que fez a ligação

O SAMU realiza atendimento de urgência e emergência em qualquer lugar: residências, locais de trabalho e vias públicas

Em casos mais graves, o médico que atendeu a ligação reserva um leito no hospital público mais próximo para que o atendimento continue

Saiba quando chamar o SAMU

- Problemas cardio-respiratórios
- Intoxicação exógena
- Queimaduras graves
- Trabalhos de parto onde haja risco de morte da mãe ou do feto
- Tentativas de suicídio
- Acidentes/traumas com vítimas
- Crises hipertensivas
- Afogamentos
- Choque elétrico
- Acidentes com produtos perigosos
- Transferência inter-hospitalar

Fonte <<https://noticias.uol.com.br/publieditorial/hora-de-saude/160813a/>>. Acesso em 05/05/2024.

QUESTÃO 01. Por se tratar de um texto com informações sobre como funciona o SAMU, podemos classificar esse texto como um(a):

- (A) Folheto informativo.
- (B) Reportagem investigativa.
- (C) Anúncio publicitário empresarial.
- (D) Denúncia de cidadão à Polícia.

QUESTÃO 02. Marque a alternativa em que a palavra retirada do texto corresponde a uma classificação INCORRETA:

- (A) Queimaduras graves – adjetivo.
- (B) O socorro começa com a ligação gratuita... – interjeição.
- (C) O médico identifica a gravidade e inicia o atendimento – substantivo.
- (D) O SAMU realiza atendimento de urgência... – sigla com valor substantivo.

QUESTÃO 03. Marque a alternativa em que o termo extraído do texto está corretamente classificado.

- (A) Ligação – paroxítona.
- (B) Técnicos – oxítona.
- (C) Exógenas – proparoxítona.
- (D) Mãe – oxítona.

QUESTÃO 04. Dentre as palavras retiradas do texto, a única que contém ao menos um dígrafo é:

- (A) Lugar.
- (B) Hospital.
- (C) Gratuita.
- (D) Trabalho.

QUESTÃO 05. Marque a alternativa em que a palavra retirada do texto foi formada pelo processo conhecido como derivação parassintética ou parassíntese:

- (A) Intoxicação.
- (B) Atendimento.
- (C) Inter-hospitalar.
- (D) SAMU.

MATEMÁTICA

QUESTÃO 06. Considere os conjuntos $A=\{1,2,3\}$ e $B=\{2,3,4\}$. Determine o conjunto $A \cap B$ (interseção dos conjuntos A e B).

- (A) $\{1, 2, 3, 4\}$
- (B) $\{1, 4\}$
- (C) $\{2, 3\}$
- (D) $\{1, 2\}$

QUESTÃO 07. A figura a seguir mostra uma sequência de figuras que obedecem a um determinado padrão.



Figura 1

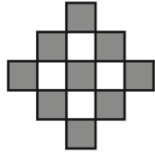


Figura 2

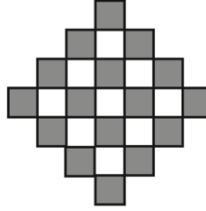


Figura 3

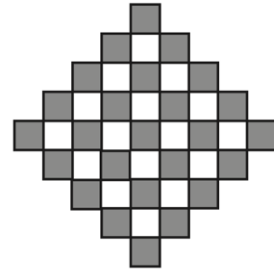


Figura 4

Seja w a quantidade de quadradinhos brancos na Figura 8 e z a quantidade de quadradinhos cinzas na Figura 10, então o valor da expressão $2w + 3z$ é:

- (A) 463. (B) 491. (C) 531. (D) 555.

QUESTÃO 08. Em uma empresa, a razão entre o número de funcionárias do sexo feminino e o número de funcionários do sexo masculino é $\frac{7}{11}$. A porcentagem de funcionários do sexo masculino nessa empresa é de, aproximadamente:

- (A) 64,3%.
(B) 66,6%.
(C) 60,3%.
(D) 61,1%.

QUESTÃO 09. Considere a equação $ax^2 - 2(a + 1)x + a + 5 = 0$. Sejam b e c as raízes dessa equação. Considerando que $m < -5$, podemos afirmar que:

- (A) $0 < b < c < 2$.
(B) $0 < c < b < 2$.
(C) $0 < b = c < 2$.
(D) $0 < b < 2 < c$.

QUESTÃO 10. Um investidor aplica R\$ 5.000,00 em um fundo de investimento que rende juros simples de 6% ao ano. Qual será o montante total acumulado após 3 anos?

- (A) R\$ 5.300,00.
(B) R\$ 5.900,00.
(C) R\$ 5.180,00.
(D) R\$ 5.450,00.

CONHECIMENTOS ESPECÍFICOS

QUESTÃO 11. Assinale a alternativa correta no que diz respeito às características que indica que os alimentos estão em boas condições para a compra:

- (A) As carnes suínas devem apresentar textura firme e pegajosa.
- (B) A pele dos peixes deve ser úmida e gordurosa.
- (C) As carnes bovinas devem apresentar gordura branca e cremosa.
- (D) Leites e derivados devem conter o carimbo da ANVISA.

QUESTÃO 12. O mofo e o bolor podem ser a causa do agravamento de doenças respiratórias e várias outras doenças causadas pela proliferação de fungos. Para prevenir a formação de mofo nas paredes, deve-se adotar, entre outras, a seguinte prática:

- (A) Manter as janelas fechadas, impedindo a exposição aos raios de sol.
- (B) Evitar o uso de desumificadores.
- (C) Evitar a utilização de impermeabilizantes.
- (D) Utilizar revestimentos para as paredes, chão e teto.

QUESTÃO 13. Um EPI - Equipamento de Proteção Individual, é um produto pensado para a segurança do trabalhador contra riscos ou doenças ocupacionais que possam ameaçar sua saúde ou integridade física, a curto ou longo prazo, como por exemplo:

- (A) Mangotes.
- (B) Cones de sinalização.
- (C) Extintores de incêndio.
- (D) Alarmes.

QUESTÃO 14. No controle de materiais, quando se tem produtos perecíveis, o ideal é utilizar o método de controle PEPS, que significa que:

- (A) No momento de utilizar um produto de limpeza, deve-se priorizar os mais baratos.
- (B) No momento que entrar um produto no estoque, deve ser utilizar o mais antigo.
- (C) No momento que entrar um produto no estoque, deve ser utilizado este que acabou de chegar.
- (D) No momento de utilizar um produto de limpeza, deve-se priorizar os mais caros.

QUESTÃO 15. Dentro das instalações do SAMU, a correta higienização das áreas de atendimento é vital para prevenir a transmissão de doenças. Qual é o procedimento correto para a limpeza e desinfecção de superfícies que possam ter entrado em contato com fluidos corporais?

- (A) Limpar apenas com água para evitar a corrosão das superfícies.
- (B) Usar um pano seco para remover os fluidos e evitar o uso de produtos químicos.
- (C) Aplicar um desinfetante específico, seguindo o tempo de contato recomendado pelo fabricante para eficácia.
- (D) Aspergir água sanitária pura diretamente nas superfícies, garantindo uma rápida desinfecção.

QUESTÃO 16. Em ambientes como o SAMU, onde equipamentos de emergência são cruciais, como deve ser realizada a limpeza de dispositivos eletrônicos sensíveis?

- (A) Utilizando sprays de água sob pressão para garantir a remoção de toda a sujeira.
- (B) Com o uso de panos molhados em soluções de água e sabão neutro, secando imediatamente após a aplicação.
- (C) Aplicando produtos à base de amônia para uma limpeza profunda.
- (D) Empregando lenços umedecidos específicos para equipamentos eletrônicos, evitando excesso de umidade.

QUESTÃO 17. Entender a aplicação correta de produtos de limpeza e higienização é fundamental para garantir um ambiente seguro e higiênico. Nesse sentido, associe a coluna A (produtos de limpeza) com a coluna B (utilização adequada).

Coluna A: Produtos de Limpeza

- 1) Água sanitária.
- 2) Detergente neutro.
- 3) Álcool 70%.
- 4) Desinfetante fenólico.

Coluna B: Utilização Adequada

- a) Ideal para limpar superfícies que entram em contato com alimentos, como bancadas e tábuas de corte.
- b) Utilizado para a desinfecção de pisos e superfícies em áreas de alto risco, como salas de procedimentos.
- c) Efetivo na desinfecção de mãos e pequenas superfícies, como maçanetas e interruptores.
- d) Recomendado para a limpeza geral de pisos e paredes, especialmente em banheiros e áreas de serviço.

Qual alternativa apresenta a correta associação entre as colunas?

- (A) 1-d, 2-a, 3-c, 4-b.
- (B) 1-b, 2-d, 3-a, 4-c.
- (C) 1-c, 2-b, 3-d, 4-a.
- (D) 1-d, 2-c, 3-a, 4-b.

QUESTÃO 18. Em relação ao estoque de alimentos não perecíveis, qual é a prática recomendada para manter a qualidade e segurança dos alimentos?

- (A) Estocar alimentos em locais úmidos para evitar o ressecamento e preservar a umidade natural.
- (B) Manter os alimentos em recipientes hermeticamente fechados e em prateleiras organizadas para evitar contaminação.
- (C) Armazenar alimentos próximo a produtos de limpeza para otimizar o espaço de armazenamento.
- (D) Dispor os alimentos diretamente no chão para facilitar o acesso e a ventilação.

QUESTÃO 19. Dentro das instalações do SAMU, a manutenção de móveis e imóveis requer técnicas específicas para garantir tanto a higiene quanto a durabilidade dos materiais. Qual é o método mais apropriado para a limpeza de superfícies de trabalho de madeira, como mesas e bancadas, utilizadas no SAMU?

- (A) Aplicar uma camada espessa de cera para proteger a madeira e limpar com um pano seco.
- (B) Usar panos úmidos com soluções abrasivas para garantir a remoção de todas as bactérias.
- (C) Limpar com um pano macio levemente umedecido em uma solução de água e sabão neutro, seguido de secagem imediata.
- (D) Aspergir diretamente produtos à base de cloro para desinfecção intensiva e secar ao sol.

QUESTÃO 20. Quando se fala em uso seguro de materiais de limpeza, para evitar riscos à saúde dos auxiliares de serviços gerais e outros funcionários, recomenda-se:

- I. Misturar diferentes produtos de limpeza para maximizar a eficácia.
- II. Utilizar equipamento de proteção individual (EPI), como luvas e máscaras, ao manusear produtos químicos.
- III. Manter os produtos de limpeza em locais fechados, mas ao alcance de todos.

Das assertivas, pode-se afirmar que:

- (A) Apenas II está correta.
- (B) I, II e III estão corretas.
- (C) Apenas I está incorreta.
- (D) Apenas II e III estão incorretas.

EM BRANCO

EM BRANCO