



DOMINGO DE MANHÃ

**PREFEITURA MUNICIPAL DE CIDREIRA/RS  
CONCURSO PÚBLICO Nº 01/2024****ARQUITETO****INSTRUÇÕES**

Leia atentamente e cumpra rigorosamente as instruções que seguem, pois elas são parte integrante das provas e das normas que regem esse certame.

1. Atente-se aos avisos contidos no quadro da sala.
2. Seus pertences deverão estar armazenados dentro de embalagem específica fornecida pelo fiscal, permanecendo em sua posse somente caneta esferográfica de ponta grossa, de material transparente, com tinta preferencialmente preta, lanche e água, se houver. A utilização de qualquer material não permitido em edital é expressamente proibida, acarretando a sua imediata eliminação do certame.
3. Certifique-se de que este caderno:
  - contém 40 (quarenta) questões;
  - **refere-se ao cargo para o qual realizou a inscrição.**
4. Cada questão oferece 5 (cinco) alternativas de respostas, representadas pelas letras A, B, C, D e E, sendo apenas 1 (uma) a resposta correta.
5. Será respeitado o tempo para realização da prova conforme previsto em edital, incluindo o preenchimento da grade de respostas.
6. Os três últimos candidatos deverão retirar-se da sala de prova ao mesmo tempo, devendo assinar a Ata de Prova.
7. A responsabilidade referente à interpretação dos conteúdos das questões é exclusiva do candidato.
8. No caderno de prova, você poderá rabiscar, riscar e calcular.
9. Os gabaritos preliminares da prova objetiva serão divulgados na data descrita no Cronograma de Execução desse certame.



V1\_15/05/2024 16:21:43



**De onde vem minha habilidade no futebol***Por Fabrício Carpinejar*

01 Quem já me viu jogando futebol — sim, eu jogo bem, apesar da minha postura inofensiva  
02 e cômica de gafanhoto — sabe que evito cair. Não tomo com facilidade. Não rolo no chão. Posso  
03 levar peteleco no calcanhar, carrinho, trombada, voadora, e faço de tudo para me manter de pé.  
04 Cambaleio, porém jamais me entrego. Tento me segurar em corrimões imaginários ou nas costas  
05 dos meus adversários.

06 Eu mesmo me driblo, se for o caso. Prefiro seguir adiante a cavar uma falta ou um pênalti  
07 e parar o jogo.

08 Minha resiliência partiu de um trauma, que me condicionou a jamais beijar o gramado na  
09 boca.

10 A quadra da escola em que estudei no Ensino Fundamental — Escola Municipal Imperatriz  
11 Leopoldina, no bairro Petrópolis — era simplesmente de piche e brita.

12 Uma BR seria mais convidativa. Uma pista de aeroporto seria mais confortável.

13 As pedras saltavam do solo escuro, pequenas lâminas e facas refletindo o sol.

14 Cair ali somente em último caso. Não fingia, não me dava ao luxo de fazer cera.

15 Eu me desequilibrava, tonteava, e permanecia ereto, de queixo erguido, aos trancos e  
16 barrancos.

17 Tinha que sobreviver. Tinha noção do quanto custaria cada queda. Ficaria absolutamente  
18 esfolado, como presunto fatiado em guilhotina de açougue.

19 Você não se machucava, você se acidentava. Tão grave quanto cair de uma moto.

20 As feridas terminavam absolutamente infeccionadas com o betume.

21 Havia a necessidade de limpar a pele com água oxigenada — e como ardia — e depois  
22 pincelar camadas de mercúrio-cromo — e como ardia.

23 As sequelas continuavam doendo na hora de tomar o banho e de dormir.

24 Minha habilidade com a bola foi forjada a evitar aquela sensação da calça colando no corpo.

25 Nenhum band-aid era capaz de cobrir os ferimentos. Ao me machucar, sofria para colocar  
26 ou tirar a roupa.

27 Isso quando o abrigo não rasgava por inteiro e vinha o suplício. Pois meus irmãos e eu  
28 contávamos com um par de abrigos para o ano, e os pais não compravam outro.

29 Se estragávamos um deles em nossas peladas indevidas durante o recreio, a família  
30 mandava para a costureira com o propósito cafona de colocar remendo de couro.

31 Começava o bullying. Vivíamos vestidos para uma festa junina.

32 Lembro que uma vez rasguei os fundilhos da calça descendo um barranco e, para minha  
33 surpresa, recebi de volta a peça com um remendo de couro no traseiro.

34 Eu entrava na escola já com uma sela embutida em mim. Diante da piada pronta, precisava  
35 ser, pelo menos, rápido como um cavalo nas notas, e nunca lento como um burro.

(Disponível em: [www.gauchazh.clicrbs.com.br/colunistas/carpinejar/noticia/2024/04/de-onde-vem-a-minha-habilidade-no-futebol-cluwxbocp00bg01czsf1xfzxe.html](http://www.gauchazh.clicrbs.com.br/colunistas/carpinejar/noticia/2024/04/de-onde-vem-a-minha-habilidade-no-futebol-cluwxbocp00bg01czsf1xfzxe.html) – texto adaptado especialmente para esta prova).

**QUESTÃO 01** – Sobre o texto, analise as assertivas a seguir:

- I. O autor demonstra resistência física ao jogar futebol, evitando quedas e mantendo-se de pé mesmo diante de adversidades como carrinhos, trombadas e voadoras.
- II. A resiliência do autor em não se entregar no jogo de futebol é atribuída a um trauma pessoal que o condicionou a evitar cair durante as partidas.
- III. A escola em que o autor estudou no Ensino Médio tinha uma quadra de piche e brita, o que pode ter contribuído para o desenvolvimento de sua habilidade em se manter de pé e evitar quedas no futebol.

Quais estão corretas?

- A) Apenas II.
- B) Apenas I e II.
- C) Apenas I e III.
- D) Apenas II e III.
- E) I, II e III.

**QUESTÃO 02** – Analise as seguintes asserções e a relação proposta entre elas:

- I. Os irmãos do autor e ele contavam apenas com um par de abrigos para o ano, sem possibilidade de substituição caso um deles se estragasse durante as brincadeiras.

**LOGO**

- II. Quando um abrigo estragava, os pais do autor enviavam o abrigo danificado para a costureira, com o propósito de colocar remendo de couro, demonstrando uma atitude considerada cafona pelo autor.

A respeito dessas asserções, assinale a alternativa correta.

- A) As asserções I e II são proposições verdadeiras, e a II é uma consequência da I.  
B) As asserções I e II são proposições verdadeiras, mas a II não é uma consequência da I.  
C) A asserção I é uma proposição verdadeira, e a II é uma proposição falsa.  
D) A asserção I é uma proposição falsa, e a II é uma proposição verdadeira.  
E) As asserções I e II são proposições falsas.

**QUESTÃO 03** – Segundo o exposto pelo texto, assinale a alternativa correta.

- A) O autor se orgulhava dos remendos de couro em suas roupas e os exibia como símbolo de sua habilidade em lidar com situações adversas.  
B) O autor levanta a hipótese de que teve suas roupas remendadas com couro após rasgá-las.  
C) Os remendos de couro nas roupas do autor eram motivo de espanto na escola.  
D) O autor sofreu bullying na escola devido aos remendos de couro nas roupas, que lembravam trajes típicos de festa junina.  
E) O autor desenvolveu uma paixão por cavalos devido à associação constante de sua imagem com esse animal nas brincadeiras dos colegas.

**QUESTÃO 04** – Assinale a alternativa que apresenta a palavra que NÃO poderia substituir corretamente o vocábulo "cômica" (l. 02).

- A) Divertida.  
B) Hilariante.  
C) Jocosa.  
D) Impagável.  
E) Séria.

**QUESTÃO 05** – No fragmento "Diante da piada pronta, precisava ser, pelo menos, rápido como um cavalo nas notas, e nunca lento como um burro", retirado do texto, o autor utiliza duas vezes a figura de linguagem denominada:

- A) Eufemismo.  
B) Hipérbole.  
C) Comparação.  
D) Hipérbato.  
E) Metáfora.

**QUESTÃO 06** – Considerando o fragmento "Minha resiliência partiu de um trauma, que me condicionou a jamais beijar o gramado na boca", retirado do texto, assinale a alternativa que apresenta a correta classificação do termo sublinhado.

- A) Adjetivo.  
B) Advérbio.  
C) Conjunção.  
D) Preposição.  
E) Pronome.

**QUESTÃO 07** – Relacione a Coluna 1 à Coluna 2, associando as palavras retiradas do texto às suas respectivas classes gramaticais.

**Coluna 1**

1. Adjetivo.
2. Advérbio.
3. Conjunção.
4. Pronome.

**Coluna 2**

- ( ) Bem (l. 01).
- ( ) Minha (l. 01).
- ( ) Imaginários (l. 04).
- ( ) Ou (l. 06).

A ordem correta de preenchimento dos parênteses, de cima para baixo, é:

- A) 2 - 3 - 4 - 1.
- B) 3 - 1 - 4 - 2.
- C) 2 - 4 - 1 - 3.
- D) 1 - 2 - 4 - 3.
- E) 3 - 4 - 2 - 1.

**QUESTÃO 08** – Considerando o fragmento “A quadra da escola em que estudei no ensino fundamental – Escola Municipal Imperatriz Leopoldina, no bairro Petrópolis – era simplesmente de piche e brita”, retirado do texto, o verbo sublinhado é classificado como:

- A) Intransitivo.
- B) Transitivo direto.
- C) Transitivo indireto.
- D) Transitivo direto e indireto.
- E) De ligação.

**QUESTÃO 09** – Considerando o fragmento “As feridas terminavam absolutamente infeccionadas com o betume”, retirado do texto, assinale a alternativa que apresenta a correta classificação do sujeito.

- A) Simples.
- B) Composto.
- C) Oculto.
- D) Indeterminado.
- E) Oração sem sujeito.

**QUESTÃO 10** – Considerando o fragmento “Começava o bullying”, retirado do texto, assinale a alternativa que apresenta a correta classificação do verbo presente na oração.

- A) Intransitivo.
- B) Transitivo direto.
- C) Transitivo indireto.
- D) Transitivo direto e indireto.
- E) De ligação.

**CONHECIMENTOS GERAIS**

**QUESTÃO 11** – O município de Cidreira faz divisa com quais outros municípios?

- A) Imbé, Osório e Caraá.
- B) Osório, Tramandaí, Balneário Pinhal e Capivari do Sul.
- C) Capivari do Sul, Imbé, Tramandaí e Balneário Pinhal.
- D) Palmares do Sul, Balneário Pinhal, Caraá e Osório.
- E) Tramandaí, Capivari do Sul e Xangri-lá.

**QUESTÃO 12** – Em 1950, foi iniciada a construção da estrada que ligava Porto Alegre ao litoral, que contribuiu para o processo de urbanização de Cidreira/Pinhal. Em que ano essa construção foi concluída?

- A) 1951.
- B) 1958.
- C) 1965.
- D) 1970.
- E) 1985.

**QUESTÃO 13** – A respeito da enchente que assolou o Rio Grande do Sul em maio de 2024, analise as assertivas abaixo e assinale V, se verdadeiras, ou F, se falsas.

- ( ) Na cidade de Canoas, diversos bairros foram evacuados por determinação da prefeitura da cidade, em função das enchentes.
- ( ) Roca Sales, Eldorado do Sul e Porto Alegre estão entre as cidades atingidas.
- ( ) O Aeroporto Salgado Filho, na capital, foi fechado no dia 3 de maio devido à elevação das águas do Guaíba, que no dia 5 de maio já registrava 5,33 m.

A ordem correta de preenchimento dos parênteses, de cima para baixo, é:

- A) V – V – V.
- B) V – V – F.
- C) V – F – F.
- D) F – F – F.
- E) F – V – V.

**QUESTÃO 14** – Assinale a alternativa INCORRETA a respeito da Rede de Banco de Leite Humano Brasileira.

- A) A Rede de Banco de Leite Humano é uma ação estratégica de promoção, proteção e apoio ao aleitamento materno.
- B) A Rede de Banco de Leite Humano engloba as ações de coleta, processamento e distribuição de leite humano para bebês prematuros ou de baixo peso que não podem ser alimentados pelas próprias mães, além de atendimento para apoio e orientação para o aleitamento materno.
- C) O Brasil tem a maior e mais complexa rede de bancos de leite humano do mundo.
- D) O estado do Mato Grosso é o único estado brasileiro que não conta com Rede de Banco de Leite Humano própria, dependendo do fornecimento de outros estados.
- E) O Brasil é referência internacional no que diz respeito a Banco de Leite Humano, por utilizar estratégias que aliam baixo custo e alta qualidade e tecnologia.

**QUESTÃO 15** – O Programa do Governo Federal que tem como pilares estruturantes o respeito às diferenças constitutivas das mulheres e de suas interseccionalidades raciais, étnicas, de orientação sexual e de identidade de gênero, das pessoas com deficiência, geracionais, regionais e de territórios. Destacam-se, dessa forma, as mulheres pertencentes a grupos que sofreram injustiças históricas e sofrem com os impactos dessas injustiças praticadas no passado pela escravização, como são as mulheres indígenas, negras (pretas e pardas) e quilombolas. O Programa oferta cursos de qualificação profissional, por meio do Programa Nacional de Acesso ao Ensino Técnico e Emprego (Pronatec). Qual é o nome desse Programa?

- A) Mulheres Mil.
- B) Mulheres na Educação.
- C) Educando Mulheres.
- D) Educa Mais Mulheres.
- E) Mulheres Pertencentes.

**LEGISLAÇÃO**

**QUESTÃO 16** – Conforme a Lei Orgânica do Município de Cidreira, em relação aos Direitos e Garantias Individuais e Coletivos, analise as assertivas abaixo e assinale a alternativa correta.

- I. O Município atuará, em cooperação com a União e o Estado, na defesa da proteção ao trabalho.
  - II. Os conselhos municipais, inclusive os que contem com a participação comunitária, deverão ter percentual assegurado a ser composto por representantes, grupos ou organização de mulheres, conforme regulamentação a ser expedida pelo Prefeito Municipal.
  - III. O Município garantirá educação não diferenciada a alunos de ambos os sexos, eliminando práticas discriminatórias nos currículos escolares e no material didático.
- A) Todas as assertivas estão corretas.  
B) Todas as assertivas estão incorretas.  
C) Apenas a assertiva I está correta.  
D) Apenas as assertivas I e III estão corretas.  
E) Apenas as assertivas II e III estão corretas.

**QUESTÃO 17** – Em relação ao Regime Jurídico dos Servidores Públicos do Município de Cidreira, analise as assertivas a seguir, assinalando V, se verdadeiras, ou F, se falsas.

- ( ) É de dez dias o prazo para o empossado entrar em exercício, contados da data da posse.
- ( ) À empossada que estiver no período compreendido pela licença à gestante, nos termos constitucionais, será dado o exercício ficto mediante apresentação de certidão de nascimento ou atestado médico, devendo iniciar de fato suas atividades no primeiro dia seguinte ao término da licença.
- ( ) Ao empossado que estiver cumprindo serviço militar obrigatório, será dado o exercício ficto, sem remuneração, devendo iniciar de fato suas atividades, após a desincorporação, nos prazos do Art. 105, § 2º.

A ordem correta de preenchimento dos parênteses, de cima para baixo, é:

- A) V – V – F.  
B) F – V – F.  
C) V – F – V.  
D) F – V – V.  
E) V – F – F.

**QUESTÃO 18** – Com base na Constituição Federal, sobre Nacionalidade, analise as assertivas abaixo:

- I. Será declarada a perda da nacionalidade do brasileiro que tiver cancelada sua naturalização, por sentença judicial, em virtude de fraude relacionada ao processo de naturalização.
- II. Será declarada a perda da nacionalidade do brasileiro que fizer pedido expresso de perda da nacionalidade brasileira perante autoridade brasileira competente, ressalvadas situações que acarretem apatridia.
- III. São brasileiros naturalizados os estrangeiros de qualquer nacionalidade, residentes na República Federativa do Brasil há mais de quinze anos ininterruptos e sem condenação penal, desde que requeiram a nacionalidade brasileira.

Quais estão corretas?

- A) Apenas I.  
B) Apenas II.  
C) Apenas I e II.  
D) Apenas II e III.  
E) I, II e III.

**QUESTÃO 19** – De acordo com a Constituição Federal, trata-se de caso de perda ou suspensão de direitos políticos o(a), EXCETO:

- A) Condenação criminal, mesmo sem trânsito em julgado.
- B) Cancelamento da naturalização por sentença transitada em julgado.
- C) Improbidade administrativa, nos termos do Art. 37, § 4º.
- D) Recusa de cumprir obrigação a todos imposta ou prestação alternativa, nos termos do art. 5º, VIII.
- E) Incapacidade civil absoluta.

**QUESTÃO 20** – Conforme previsto na Constituição Federal, a União não intervirá nos Estados nem no Distrito Federal, exceto para assegurar a observância de alguns Princípios Constitucionais, quais sejam, EXCETO:

- A) Autonomia municipal.
- B) Direitos da pessoa humana.
- C) Liberdade de expressão.
- D) Prestação de contas da Administração Pública, direta e indireta.
- E) Forma republicana, sistema representativo e regime democrático.

**QUESTÃO 21** – Conforme previsto na Lei nº 8.429/1992, são constituídos atos de Improbidade Administrativa que causam prejuízo ao erário:

- I. Permitir ou facilitar a aquisição, permuta ou locação de bem ou serviço por preço superior ao de mercado.
- II. Perceber vantagem econômica para intermediar a liberação ou aplicação de verba pública de qualquer natureza.
- III. Liberar verba pública sem a estrita observância das normas pertinentes ou influir de qualquer forma para a sua aplicação irregular.

Quais estão corretas?

- A) Apenas I.
- B) Apenas II.
- C) Apenas III.
- D) Apenas I e III.
- E) I, II e III.

**QUESTÃO 22** – Com base na Lei Maria da Penha, Lei nº 11.340/2006, analise as assertivas a seguir, assinalando V, se verdadeiras, ou F, se falsas.

- ( ) Violência moral: entendida como qualquer conduta que lhe cause dano emocional e diminuição da autoestima ou que lhe prejudique e perturbe o pleno desenvolvimento ou que vise degradar ou controlar suas ações, comportamentos, crenças e decisões, mediante ameaça, constrangimento, humilhação, manipulação, isolamento, vigilância constante, perseguição contumaz, insulto, chantagem, violação de sua intimidade, ridicularização, exploração e limitação do direito de ir e vir.
- ( ) Violência física: entendida como qualquer conduta que ofenda sua integridade ou saúde corporal.
- ( ) Violência psicológica: entendida como qualquer conduta que configure retenção, subtração, destruição parcial ou total de seus objetos, instrumentos de trabalho, documentos pessoais, bens, valores e direitos ou recursos econômicos, incluindo os destinados a satisfazer suas necessidades.

A ordem correta de preenchimento dos parênteses, de cima para baixo, é:

- A) V – V – F.
- B) F – V – F.
- C) V – F – V.
- D) F – F – V.
- E) V – F – F.

**QUESTÃO 23** – Na rua Tapajós, na cidade de Viradinhos, um grupo de pessoas se reúne em um terreiro, em sábados alternados, para praticar a religião Nação, que é uma religião de matriz africana. Um grupo de moradores, da mesma rua, incomodados com os cultos religiosos, afixou cartaz em frente ao terreiro com palavras de ódio, ameaças e desprezo. Com base no Estatuto Nacional da Igualdade Racial, Lei nº 12.288/2010, é correto afirmar que:

- A) O grupo de moradores praticantes da religião deve comunicar ao Ministério Público para abertura de ação penal em face de atitudes e práticas de intolerância religiosa naquela localidade.
- B) Não há o que ser feito, o grupo de moradores apenas expressou sua opinião ao afixar o cartaz.
- C) Em que pese a legislação, a prática de cultos religiosos de matriz africana é permitida desde que não seja realizada em área residencial.
- D) O grupo de moradores praticantes da religião deve comunicar ao órgão competente para que proceda com intimação escrita para a retirada do cartaz.
- E) O grupo de moradores que colocou o cartaz pode procurar o Ministério Público exigindo que as práticas não sejam realizadas naquele endereço, alegando que atrapalham o dia a dia dos moradores locais.

**QUESTÃO 24** – Em relação ao trabalho, com base no Estatuto Nacional da Igualdade Racial, analise as assertivas abaixo, assinalando V, se verdadeiras, ou F, se falsas.

- ( ) A implementação de políticas voltadas para a inclusão da população negra no mercado de trabalho será de responsabilidade do poder público, observando-se os compromissos assumidos pelo Brasil ao ratificar a Convenção Internacional sobre a Eliminação de Todas as Formas de Discriminação Racial, de 1965.
- ( ) Será assegurado o acesso ao crédito para a pequena produção, nos meios rural e urbano, com ações afirmativas para crianças negras.
- ( ) O poder público promoverá ações com o objetivo de elevar a escolaridade e a qualificação profissional nos setores da economia que contem com alto índice de ocupação por trabalhadores negros de baixa escolarização.

A ordem correta de preenchimento dos parênteses, de cima para baixo, é:

- A) V – V – F.
- B) F – V – F.
- C) F – V – V.
- D) V – F – F.
- E) V – F – V.

**QUESTÃO 25** – Conforme prevê o Estatuto Estadual da Igualdade Racial/RS, Lei nº 13.694/2011, as políticas públicas de promoção do direito à cultura, à educação, ao esporte e ao lazer são definidas da seguinte maneira:

- I. O Estado deverá promover políticas que valorizem a cultura “Hip-Hop” em suas manifestações de canto do “Rap”, da instrumentação dos “DJs”, da dança do “break dance” e da pintura do grafite.
- II. O Estado deverá promover programas de incentivo, inclusão e permanência da população negra nos diferentes níveis de ensino, estimulando a implementação de diretrizes curriculares que abordem as questões raciais.
- III. As instituições de ensino deverão respeitar a diversidade racial quando promoverem debates, palestras, cursos ou atividades afins, convidando negros, entre outros, para discorrer sobre os temas apresentados.

Quais estão corretas?

- A) Apenas I.
- B) Apenas II.
- C) Apenas III.
- D) Apenas I e III.
- E) I, II e III.



**MATEMÁTICA/RACIOCÍNIO LÓGICO**

**QUESTÃO 26** – Com base na seguinte proposição composta: “A caixa de som é camuflada e o ventilador é preto”, considerada como verdadeira, analise as proposições a seguir:

- I. A caixa de som não é camuflada ou o ventilador não é preto.
- II. Se a caixa de som é camuflada então o ventilador não é preto.
- III. A caixa de som é camuflada se, e somente se, o ventilador é preto.

São proposições falsas:

- A) Apenas III.
- B) Apenas I e II.
- C) Apenas I e III.
- D) Apenas II e III.
- E) I, II e III.

**QUESTÃO 27** – A metade de um número acrescido de 28 é igual ao dobro deste número menos 35. Esse número é o:

- A) 21.
- B) 32.
- C) 42.
- D) 48.
- E) 56.

**QUESTÃO 28** – Determine os juros produzidos em uma aplicação, sob regime de juros simples, de um capital de R\$ 19.000,00 a uma taxa mensal de 3% durante 2 bimestres.

- A) R\$ 2.082,00.
- B) R\$ 2.280,00.
- C) R\$ 2.802,00.
- D) R\$ 2.820,00.
- E) R\$ 8.022,00.

**QUESTÃO 29** – Um terreno quadrangular mede  $441 \text{ m}^2$  e deve ser totalmente cercado com 4 fios de arame, o qual deverá fechar totalmente o contorno do terreno. Quantos metros de arame serão necessários para fazer o cercamento?

- A) 84.
- B) 164.
- C) 286.
- D) 336.
- E) 358.

**QUESTÃO 30** – Uma torneira tem vazão de 32 litros a cada 4 minutos. Quanto tempo, em minutos, essa torneira levará para encher um tanque com 1.024 litros de capacidade?

- A) 32.
- B) 64.
- C) 128.
- D) 256.
- E) 512.

**CONHECIMENTOS ESPECÍFICOS**

**QUESTÃO 31** – Sobre a acessibilidade a edificações, mobiliário, espaços e equipamentos urbanos, assinale a alternativa INCORRETA.

- A) Tecnologia assistiva é o termo que designa produtos, equipamentos, dispositivos, recursos, metodologias, estratégias, práticas e serviços que objetivem promover a funcionalidade, relacionada à atividade e à participação da pessoa com deficiência ou mobilidade reduzida, visando à sua autonomia, independência, qualidade de vida e inclusão social.
- B) Área de descanso é o espaço livre de obstáculos, destinado ao uso de todas as pessoas.
- C) Calçada rebaixada é a rampa construída ou implantada na calçada, destinada a promover a concordância de nível entre esta e o leito carroçável.
- D) Fatores de impedância são os elementos ou condições que possam interferir no fluxo de pedestres, como, por exemplo, mobiliário urbano, entradas de edificações junto ao alinhamento, vitrines junto ao alinhamento, vegetação, postes de sinalização, entre outros.
- E) Foco de pedestres é a indicação luminosa de permissão ou impedimento de locomoção na faixa apropriada.

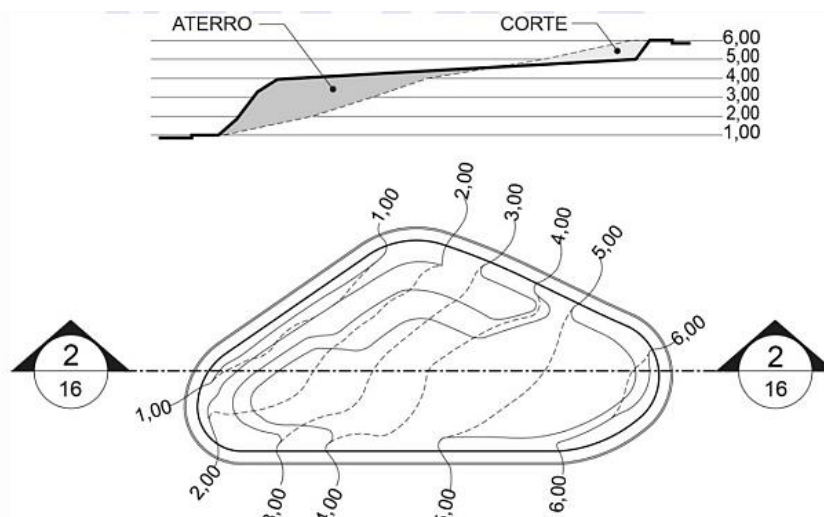
**QUESTÃO 32** – Sobre os atalhos do software AutoCad, disponibilizados no Guia de Atalhos, analise as assertivas abaixo:

- I. O atalho Ctrl+Shift+C permite salvar como o desenho.
- II. F8 alterna o modo ortogonal.
- III. DAN – DIMANGULAR, permite criar uma cota angular.

Quais estão corretas?

- A) Apenas I.
- B) Apenas II.
- C) Apenas III.
- D) Apenas II e III.
- E) I, II e III.

**QUESTÃO 33** – A Figura 1 abaixo, apresentada na NBR 16636-4, mostra:



**Figura 1 – sem escala**

- A) Curvas de nível a serem projetadas.
- B) Curvas de nível projetadas e existentes – representação em planta e corte.
- C) Planta e corte com curvas de nível projetadas.
- D) Planta das curvas de nível.
- E) Curvas de nível existentes – planta e corte.

**QUESTÃO 34** – Considerando a NBR 16636-1, analise as assertivas abaixo:

- I. Projeto da edificação é o plano geral para a construção de edificações representado pelo conjunto de estudos e desenhos constantes nos projetos arquitetônico e complementares da obra objeto de incorporação.
- II. Reutilização trata-se da recuperação da unidade primitiva da edificação, monumento ou sítio, e suas artes integradas, por meio de atividades técnicas que consistem em recuperar, em partes ou integralmente, os elementos e componentes de um edifício, monumento, conjunto arquitetônico ou paisagístico, por meio de diversas formas de intervenção física, de caráter técnico e científico, que visem à sua preservação.
- III. A vida útil de projeto é uma estimativa teórica de tempo que compõe o tempo de vida útil. O tempo de vida útil da edificação (VU) pode ou não ser confirmado em função de eficiência e registro das manutenções, de alterações no entorno da obra, fatores climáticos, etc.

Quais estão corretas?

- A) Apenas I.
- B) Apenas II.
- C) Apenas III.
- D) Apenas I e III.
- E) I, II e III.

**QUESTÃO 35** – Sobre os custos nas edificações, assinale a alternativa INCORRETA.

- A) Área real total do pavimento é a soma das áreas cobertas reais de um determinado pavimento, medidas a partir do projeto arquitetônico.
- B) Fração ideal é a fração expressa de forma decimal ou ordinária, que representa a parte ideal do terreno e coisas de uso comum atribuídas à unidade autônoma, sendo parte inseparável desta.
- C) As áreas de uso privativo subdividem-se em áreas privativas principais e áreas privativas acessórias.
- D) Custo unitário da construção é o quociente da divisão do custo global da construção pela área equivalente em área de custo padrão total.
- E) Entrosamento do cronograma das obras com as prestações da construção é a vinculação parcial ou total de prestações ou parcelas de pagamento da construção, previstas no contrato, às diferentes fases de desenvolvimento dos serviços considerados no cronograma da obra.

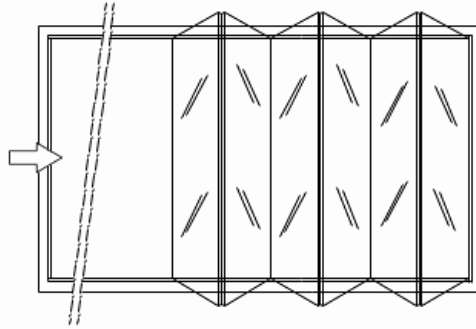
**QUESTÃO 36** – De acordo com a Lei nº 14.133/2021, analise as assertivas abaixo e assinale V, se verdadeiras, ou F, se falsas.

- ( ) Considera-se serviços não contínuos ou contratados por escopo aqueles que impõem ao contratado o dever de realizar a prestação de um serviço específico em período predeterminado, podendo ser prorrogado, desde que justificadamente, pelo prazo necessário à conclusão do objeto.
- ( ) Matriz de riscos é a cláusula contratual definidora de riscos e de responsabilidades entre as partes e caracterizadora do equilíbrio econômico-financeiro inicial do contrato, em termos de ônus financeiro decorrente de eventos supervenientes à contratação.
- ( ) Contratação integrada é o regime de contratação de mão de obra para pequenos trabalhos por preço certo, com fornecimento de materiais.
- ( ) Leilão é modalidade de licitação obrigatória para aquisição de bens e serviços comuns, cujo critério de julgamento será o de maior preço.

A ordem correta de preenchimento dos parênteses, de cima para baixo, é:

- A) F – F – V – V.
- B) V – V – F – F.
- C) V – F – V – F.
- D) F – V – F – V.
- E) F – V – V – V.

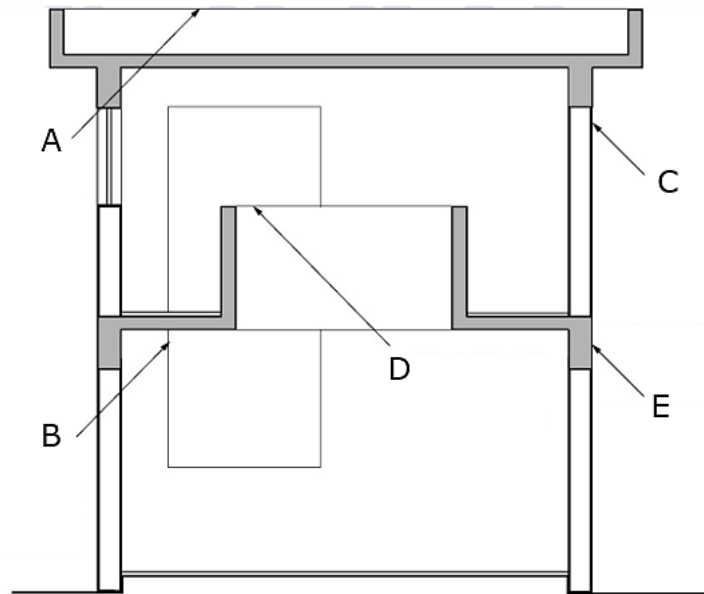
**QUESTÃO 37** – De acordo com a NBR 10821-1, a Figura 2 apresenta uma esquadria do tipo:



**Figura 2 – sem escala**

- A) Deslizante.
- B) Correr.
- C) Sanfona.
- D) Projetante-deslizante
- E) De giro, de eixo vertical.

**QUESTÃO 38** – Sobre a Figura 3 abaixo, que apresenta na NBR 6492/2021 o uso das linhas em corte, analise as assertivas que seguem:



**Figura 3 – Exemplo de uso de linhas – corte sem escala**

- I. A letra B representa aresta visível: linha contínua média.
- II. A letra D apresenta contornos em vista: linha contínua estreita.
- III. A letra E apresenta contorno visível em corte, elemento com hachura: linha contínua larga.

Quais estão corretas?

- A) Apenas I.
- B) Apenas II.
- C) Apenas III.
- D) Apenas II e III.
- E) I, II e III.

**QUESTÃO 39** – Sobre as saídas de emergência em edifícios abordadas pela NBR 9077/2001, analise as assertivas abaixo:

- I. Tabique é a parede interna, baixa ou atingindo o teto, sem efeito estrutural e que, portanto, pode ser suprimida facilmente em caso de reforma.
- II. Entrepiso é o conjunto de elementos de construção, com ou sem espaços vazios, compreendido entre a parte inferior do forro de um pavimento e a parte superior do piso do pavimento imediatamente superior.
- III. A escada não enclausurada não pode fazer parte de uma rota de saída.

Quais estão corretas?

- A) Apenas I.
- B) Apenas II.
- C) Apenas III.
- D) Apenas I e II.
- E) I, II e III.

**QUESTÃO 40** – Sobre a NBR 6118/2023, que estabelece os procedimentos e requisitos básicos para o projeto de estruturas de concreto simples, armado e protendido, assinale a alternativa INCORRETA.

- A) Elementos de concreto armado são aqueles cujo comportamento estrutural depende da aderência entre concreto e armadura, e nos quais não se aplicam alongamentos iniciais das armaduras antes da materialização dessa aderência.
- B) Estado-limite último é o estado-limite relacionado ao colapso, ou a qualquer outra forma de ruína estrutural, que determine a paralisação do uso da estrutura.
- C) Elementos de concreto composto são elementos estruturais elaborados com concreto que não possuem qualquer tipo de armadura, ou que a possuem em quantidade inferior ao mínimo exigido para o concreto armado.
- D) Junta de dilatação é qualquer interrupção do concreto com a finalidade de reduzir tensões internas que possam resultar em impedimentos a qualquer tipo de movimentação da estrutura, principalmente em decorrência de retração ou variação da temperatura.
- E) Estado-limite de descompressão é o estado no qual, em um ou mais pontos da seção transversal, a tensão normal é nula, não havendo tração no restante da seção.



DOMINGO DE MANHÃ

**PREFEITURA MUNICIPAL DE CIDREIRA/RS  
CONCURSO PÚBLICO Nº 01/2024****ARQUITETO****INSTRUÇÕES**

Leia atentamente e cumpra rigorosamente as instruções que seguem, pois elas são parte integrante das provas e das normas que regem esse certame.

1. Atente-se aos avisos contidos no quadro da sala.
2. Seus pertences deverão estar armazenados dentro de embalagem específica fornecida pelo fiscal, permanecendo em sua posse somente caneta esferográfica de ponta grossa, de material transparente, com tinta preferencialmente preta, lanche e água, se houver. A utilização de qualquer material não permitido em edital é expressamente proibida, acarretando a sua imediata eliminação do certame.
3. Certifique-se de que este caderno:
  - contém 40 (quarenta) questões;
  - **refere-se ao cargo para o qual realizou a inscrição.**
4. Cada questão oferece 5 (cinco) alternativas de respostas, representadas pelas letras A, B, C, D e E, sendo apenas 1 (uma) a resposta correta.
5. Será respeitado o tempo para realização da prova conforme previsto em edital, incluindo o preenchimento da grade de respostas.
6. Os três últimos candidatos deverão retirar-se da sala de prova ao mesmo tempo, devendo assinar a Ata de Prova.
7. A responsabilidade referente à interpretação dos conteúdos das questões é exclusiva do candidato.
8. No caderno de prova, você poderá rabiscar, riscar e calcular.
9. Os gabaritos preliminares da prova objetiva serão divulgados na data descrita no Cronograma de Execução desse certame.



V1\_15/05/2024 16:21:43



**MATEMÁTICA/RACIOCÍNIO LÓGICO**

**QUESTÃO 01** – Com base na seguinte proposição composta: “A caixa de som é camuflada e o ventilador é preto”, considerada como verdadeira, analise as proposições a seguir:

- I. A caixa de som não é camuflada ou o ventilador não é preto.
- II. Se a caixa de som é camuflada então o ventilador não é preto.
- III. A caixa de som é camuflada se, e somente se, o ventilador é preto.

São proposições falsas:

- A) Apenas III.
- B) Apenas I e II.
- C) Apenas I e III.
- D) Apenas II e III.
- E) I, II e III.

**QUESTÃO 02** – A metade de um número acrescido de 28 é igual ao dobro deste número menos 35. Esse número é o:

- A) 21.
- B) 32.
- C) 42.
- D) 48.
- E) 56.

**QUESTÃO 03** – Determine os juros produzidos em uma aplicação, sob regime de juros simples, de um capital de R\$ 19.000,00 a uma taxa mensal de 3% durante 2 bimestres.

- A) R\$ 2.082,00.
- B) R\$ 2.280,00.
- C) R\$ 2.802,00.
- D) R\$ 2.820,00.
- E) R\$ 8.022,00.

**QUESTÃO 04** – Um terreno quadrangular mede  $441 \text{ m}^2$  e deve ser totalmente cercado com 4 fios de arame, o qual deverá fechar totalmente o contorno do terreno. Quantos metros de arame serão necessários para fazer o cercamento?

- A) 84.
- B) 164.
- C) 286.
- D) 336.
- E) 358.

**QUESTÃO 05** – Uma torneira tem vazão de 32 litros a cada 4 minutos. Quanto tempo, em minutos, essa torneira levará para encher um tanque com 1.024 litros de capacidade?

- A) 32.
- B) 64.
- C) 128.
- D) 256.
- E) 512.

**De onde vem minha habilidade no futebol***Por Fabrício Carpinejar*

01 Quem já me viu jogando futebol — sim, eu jogo bem, apesar da minha postura inofensiva  
02 e cômica de gafanhoto — sabe que evito cair. Não tombo com facilidade. Não rolo no chão. Posso  
03 levar peteleco no calcanhar, carrinho, trombada, voadora, e faço de tudo para me manter de pé.  
04 Cambaleio, porém jamais me entrego. Tento me segurar em corrimões imaginários ou nas costas  
05 dos meus adversários.

06 Eu mesmo me driblo, se for o caso. Prefiro seguir adiante a cavar uma falta ou um pênalti  
07 e parar o jogo.

08 Minha resiliência partiu de um trauma, que me condicionou a jamais beijar o gramado na  
09 boca.

10 A quadra da escola em que estudei no Ensino Fundamental — Escola Municipal Imperatriz  
11 Leopoldina, no bairro Petrópolis — era simplesmente de piche e brita.

12 Uma BR seria mais convidativa. Uma pista de aeroporto seria mais confortável.

13 As pedras saltavam do solo escuro, pequenas lâminas e facas refletindo o sol.

14 Cair ali somente em último caso. Não fingia, não me dava ao luxo de fazer cera.

15 Eu me desequilibrava, tonteava, e permanecia ereto, de queixo erguido, aos trancos e  
16 barrancos.

17 Tinha que sobreviver. Tinha noção do quanto custaria cada queda. Ficaria absolutamente  
18 esfolado, como presunto fatiado em guilhotina de açougue.

19 Você não se machucava, você se acidentava. Tão grave quanto cair de uma moto.

20 As feridas terminavam absolutamente infeccionadas com o betume.

21 Havia a necessidade de limpar a pele com água oxigenada — e como ardia — e depois  
22 pincelar camadas de mercúrio-cromo — e como ardia.

23 As sequelas continuavam doendo na hora de tomar o banho e de dormir.

24 Minha habilidade com a bola foi forjada a evitar aquela sensação da calça colando no corpo.

25 Nenhum band-aid era capaz de cobrir os ferimentos. Ao me machucar, sofria para colocar  
26 ou tirar a roupa.

27 Isso quando o abrigo não rasgava por inteiro e vinha o suplício. Pois meus irmãos e eu  
28 contávamos com um par de abrigos para o ano, e os pais não compravam outro.

29 Se estragávamos um deles em nossas peladas indevidas durante o recreio, a família  
30 mandava para a costureira com o propósito cafona de colocar remendo de couro.

31 Começava o bullying. Vivíamos vestidos para uma festa junina.

32 Lembro que uma vez rasguei os fundilhos da calça descendo um barranco e, para minha  
33 surpresa, recebi de volta a peça com um remendo de couro no traseiro.

34 Eu entrava na escola já com uma sela embutida em mim. Diante da piada pronta, precisava  
35 ser, pelo menos, rápido como um cavalo nas notas, e nunca lento como um burro.

(Disponível em: [www.gauchazh.clicrbs.com.br/colunistas/carpinejar/noticia/2024/04/de-onde-vem-a-minha-habilidade-no-futebol-cluwxbocp00bg01czsf1xfzxe.html](http://www.gauchazh.clicrbs.com.br/colunistas/carpinejar/noticia/2024/04/de-onde-vem-a-minha-habilidade-no-futebol-cluwxbocp00bg01czsf1xfzxe.html) – texto adaptado especialmente para esta prova).

**QUESTÃO 06** – Sobre o texto, analise as assertivas a seguir:

- I. O autor demonstra resistência física ao jogar futebol, evitando quedas e mantendo-se de pé mesmo diante de adversidades como carrinhos, trombadas e voadoras.
- II. A resiliência do autor em não se entregar no jogo de futebol é atribuída a um trauma pessoal que o condicionou a evitar cair durante as partidas.
- III. A escola em que o autor estudou no Ensino Médio tinha uma quadra de piche e brita, o que pode ter contribuído para o desenvolvimento de sua habilidade em se manter de pé e evitar quedas no futebol.

Quais estão corretas?

- A) Apenas II.
- B) Apenas I e II.
- C) Apenas I e III.
- D) Apenas II e III.
- E) I, II e III.



**QUESTÃO 07** – Analise as seguintes asserções e a relação proposta entre elas:

- I. Os irmãos do autor e ele contavam apenas com um par de abrigos para o ano, sem possibilidade de substituição caso um deles se estragasse durante as brincadeiras.

**LOGO**

- II. Quando um abrigo estragava, os pais do autor enviavam o abrigo danificado para a costureira, com o propósito de colocar remendo de couro, demonstrando uma atitude considerada cafona pelo autor.

A respeito dessas asserções, assinale a alternativa correta.

- A) As asserções I e II são proposições verdadeiras, e a II é uma consequência da I.  
B) As asserções I e II são proposições verdadeiras, mas a II não é uma consequência da I.  
C) A asserção I é uma proposição verdadeira, e a II é uma proposição falsa.  
D) A asserção I é uma proposição falsa, e a II é uma proposição verdadeira.  
E) As asserções I e II são proposições falsas.

**QUESTÃO 08** – Segundo o exposto pelo texto, assinale a alternativa correta.

- A) O autor se orgulhava dos remendos de couro em suas roupas e os exibia como símbolo de sua habilidade em lidar com situações adversas.  
B) O autor levanta a hipótese de que teve suas roupas remendadas com couro após rasgá-las.  
C) Os remendos de couro nas roupas do autor eram motivo de espanto na escola.  
D) O autor sofreu bullying na escola devido aos remendos de couro nas roupas, que lembravam trajes típicos de festa junina.  
E) O autor desenvolveu uma paixão por cavalos devido à associação constante de sua imagem com esse animal nas brincadeiras dos colegas.

**QUESTÃO 09** – Assinale a alternativa que apresenta a palavra que NÃO poderia substituir corretamente o vocábulo "cômica" (l. 02).

- A) Divertida.  
B) Hilariante.  
C) Jocosa.  
D) Impagável.  
E) Séria.

**QUESTÃO 10** – No fragmento "Diante da piada pronta, precisava ser, pelo menos, rápido como um cavalo nas notas, e nunca lento como um burro", retirado do texto, o autor utiliza duas vezes a figura de linguagem denominada:

- A) Eufemismo.  
B) Hipérbole.  
C) Comparação.  
D) Hipérbato.  
E) Metáfora.

**QUESTÃO 11** – Considerando o fragmento "Minha resiliência partiu de um trauma, que me condicionou a jamais beijar o gramado na boca", retirado do texto, assinale a alternativa que apresenta a correta classificação do termo sublinhado.

- A) Adjetivo.  
B) Advérbio.  
C) Conjunção.  
D) Preposição.  
E) Pronome.

**QUESTÃO 12** – Relacione a Coluna 1 à Coluna 2, associando as palavras retiradas do texto às suas respectivas classes gramaticais.

**Coluna 1**

1. Adjetivo.
2. Advérbio.
3. Conjunção.
4. Pronome.

**Coluna 2**

- ( ) Bem (l. 01).
- ( ) Minha (l. 01).
- ( ) Imaginários (l. 04).
- ( ) Ou (l. 06).

A ordem correta de preenchimento dos parênteses, de cima para baixo, é:

- A) 2 – 3 – 4 – 1.
- B) 3 – 1 – 4 – 2.
- C) 2 – 4 – 1 – 3.
- D) 1 – 2 – 4 – 3.
- E) 3 – 4 – 2 – 1.

**QUESTÃO 13** – Considerando o fragmento “A quadra da escola em que estudei no ensino fundamental – Escola Municipal Imperatriz Leopoldina, no bairro Petrópolis – era simplesmente de piche e brita”, retirado do texto, o verbo sublinhado é classificado como:

- A) Intransitivo.
- B) Transitivo direto.
- C) Transitivo indireto.
- D) Transitivo direto e indireto.
- E) De ligação.

**QUESTÃO 14** – Considerando o fragmento “As feridas terminavam absolutamente infeccionadas com o betume”, retirado do texto, assinale a alternativa que apresenta a correta classificação do sujeito.

- A) Simples.
- B) Composto.
- C) Oculto.
- D) Indeterminado.
- E) Oração sem sujeito.

**QUESTÃO 15** – Considerando o fragmento “Começava o bullying”, retirado do texto, assinale a alternativa que apresenta a correta classificação do verbo presente na oração.

- A) Intransitivo.
- B) Transitivo direto.
- C) Transitivo indireto.
- D) Transitivo direto e indireto.
- E) De ligação.

**CONHECIMENTOS GERAIS**

**QUESTÃO 16** – O município de Cidreira faz divisa com quais outros municípios?

- A) Imbé, Osório e Caraá.
- B) Osório, Tramandaí, Balneário Pinhal e Capivari do Sul.
- C) Capivari do Sul, Imbé, Tramandaí e Balneário Pinhal.
- D) Palmares do Sul, Balneário Pinhal, Caraá e Osório.
- E) Tramandaí, Capivari do Sul e Xangri-lá.

**QUESTÃO 17** – Em 1950, foi iniciada a construção da estrada que ligava Porto Alegre ao litoral, que contribuiu para o processo de urbanização de Cidreira/Pinhal. Em que ano essa construção foi concluída?

- A) 1951.
- B) 1958.
- C) 1965.
- D) 1970.
- E) 1985.

**QUESTÃO 18** – A respeito da enchente que assolou o Rio Grande do Sul em maio de 2024, analise as assertivas abaixo e assinale V, se verdadeiras, ou F, se falsas.

- ( ) Na cidade de Canoas, diversos bairros foram evacuados por determinação da prefeitura da cidade, em função das enchentes.
- ( ) Roca Sales, Eldorado do Sul e Porto Alegre estão entre as cidades atingidas.
- ( ) O Aeroporto Salgado Filho, na capital, foi fechado no dia 3 de maio devido à elevação das águas do Guaíba, que no dia 5 de maio já registrava 5,33 m.

A ordem correta de preenchimento dos parênteses, de cima para baixo, é:

- A) V – V – V.
- B) V – V – F.
- C) V – F – F.
- D) F – F – F.
- E) F – V – V.

**QUESTÃO 19** – Assinale a alternativa INCORRETA a respeito da Rede de Banco de Leite Humano Brasileira.

- A) A Rede de Banco de Leite Humano é uma ação estratégica de promoção, proteção e apoio ao aleitamento materno.
- B) A Rede de Banco de Leite Humano engloba as ações de coleta, processamento e distribuição de leite humano para bebês prematuros ou de baixo peso que não podem ser alimentados pelas próprias mães, além de atendimento para apoio e orientação para o aleitamento materno.
- C) O Brasil tem a maior e mais complexa rede de bancos de leite humano do mundo.
- D) O estado do Mato Grosso é o único estado brasileiro que não conta com Rede de Banco de Leite Humano própria, dependendo do fornecimento de outros estados.
- E) O Brasil é referência internacional no que diz respeito a Banco de Leite Humano, por utilizar estratégias que aliam baixo custo e alta qualidade e tecnologia.

**QUESTÃO 20** – O Programa do Governo Federal que tem como pilares estruturantes o respeito às diferenças constitutivas das mulheres e de suas interseccionalidades raciais, étnicas, de orientação sexual e de identidade de gênero, das pessoas com deficiência, geracionais, regionais e de territórios. Destacam-se, dessa forma, as mulheres pertencentes a grupos que sofreram injustiças históricas e sofrem com os impactos dessas injustiças praticadas no passado pela escravização, como são as mulheres indígenas, negras (pretas e pardas) e quilombolas. O Programa oferta cursos de qualificação profissional, por meio do Programa Nacional de Acesso ao Ensino Técnico e Emprego (Pronatec). Qual é o nome desse Programa?

- A) Mulheres Mil.
- B) Mulheres na Educação.
- C) Educando Mulheres.
- D) Educa Mais Mulheres.
- E) Mulheres Pertencentes.

**LEGISLAÇÃO**

**QUESTÃO 21** – Conforme a Lei Orgânica do Município de Cidreira, em relação aos Direitos e Garantias Individuais e Coletivos, analise as assertivas abaixo e assinale a alternativa correta.

- I. O Município atuará, em cooperação com a União e o Estado, na defesa da proteção ao trabalho.
- II. Os conselhos municipais, inclusive os que contem com a participação comunitária, deverão ter percentual assegurado a ser composto por representantes, grupos ou organização de mulheres, conforme regulamentação a ser expedida pelo Prefeito Municipal.
- III. O Município garantirá educação não diferenciada a alunos de ambos os sexos, eliminando práticas discriminatórias nos currículos escolares e no material didático.

- A) Todas as assertivas estão corretas.
- B) Todas as assertivas estão incorretas.
- C) Apenas a assertiva I está correta.
- D) Apenas as assertivas I e III estão corretas.
- E) Apenas as assertivas II e III estão corretas.

**QUESTÃO 22** – Em relação ao Regime Jurídico dos Servidores Públicos do Município de Cidreira, analise as assertivas a seguir, assinalando V, se verdadeiras, ou F, se falsas.

- ( ) É de dez dias o prazo para o empossado entrar em exercício, contados da data da posse.
- ( ) À empossada que estiver no período compreendido pela licença à gestante, nos termos constitucionais, será dado o exercício ficto mediante apresentação de certidão de nascimento ou atestado médico, devendo iniciar de fato suas atividades no primeiro dia seguinte ao término da licença.
- ( ) Ao empossado que estiver cumprindo serviço militar obrigatório, será dado o exercício ficto, sem remuneração, devendo iniciar de fato suas atividades, após a desincorporação, nos prazos do Art. 105, § 2º.

A ordem correta de preenchimento dos parênteses, de cima para baixo, é:

- A) V – V – F.
- B) F – V – F.
- C) V – F – V.
- D) F – V – V.
- E) V – F – F.

**QUESTÃO 23** – Com base na Constituição Federal, sobre Nacionalidade, analise as assertivas abaixo:

- I. Será declarada a perda da nacionalidade do brasileiro que tiver cancelada sua naturalização, por sentença judicial, em virtude de fraude relacionada ao processo de naturalização.
- II. Será declarada a perda da nacionalidade do brasileiro que fizer pedido expresso de perda da nacionalidade brasileira perante autoridade brasileira competente, ressalvadas situações que acarretem apatridia.
- III. São brasileiros naturalizados os estrangeiros de qualquer nacionalidade, residentes na República Federativa do Brasil há mais de quinze anos ininterruptos e sem condenação penal, desde que requeiram a nacionalidade brasileira.

Quais estão corretas?

- A) Apenas I.
- B) Apenas II.
- C) Apenas I e II.
- D) Apenas II e III.
- E) I, II e III.

**QUESTÃO 24** – De acordo com a Constituição Federal, trata-se de caso de perda ou suspensão de direitos políticos o(a), EXCETO:

- A) Condenação criminal, mesmo sem trânsito em julgado.
- B) Cancelamento da naturalização por sentença transitada em julgado.
- C) Improbidade administrativa, nos termos do Art. 37, § 4º.
- D) Recusa de cumprir obrigação a todos imposta ou prestação alternativa, nos termos do art. 5º, VIII.
- E) Incapacidade civil absoluta.

**QUESTÃO 25** – Conforme previsto na Constituição Federal, a União não intervirá nos Estados nem no Distrito Federal, exceto para assegurar a observância de alguns Princípios Constitucionais, quais sejam, EXCETO:

- A) Autonomia municipal.
- B) Direitos da pessoa humana.
- C) Liberdade de expressão.
- D) Prestação de contas da Administração Pública, direta e indireta.
- E) Forma republicana, sistema representativo e regime democrático.

**QUESTÃO 26** – Conforme previsto na Lei nº 8.429/1992, são constituídos atos de Improbidade Administrativa que causam prejuízo ao erário:

- I. Permitir ou facilitar a aquisição, permuta ou locação de bem ou serviço por preço superior ao de mercado.
- II. Perceber vantagem econômica para intermediar a liberação ou aplicação de verba pública de qualquer natureza.
- III. Liberar verba pública sem a estrita observância das normas pertinentes ou influir de qualquer forma para a sua aplicação irregular.

Quais estão corretas?

- A) Apenas I.
- B) Apenas II.
- C) Apenas III.
- D) Apenas I e III.
- E) I, II e III.

**QUESTÃO 27** – Com base na Lei Maria da Penha, Lei nº 11.340/2006, analise as assertivas a seguir, assinalando V, se verdadeiras, ou F, se falsas.

- ( ) Violência moral: entendida como qualquer conduta que lhe cause dano emocional e diminuição da autoestima ou que lhe prejudique e perturbe o pleno desenvolvimento ou que vise degradar ou controlar suas ações, comportamentos, crenças e decisões, mediante ameaça, constrangimento, humilhação, manipulação, isolamento, vigilância constante, perseguição contumaz, insulto, chantagem, violação de sua intimidade, ridicularização, exploração e limitação do direito de ir e vir.
- ( ) Violência física: entendida como qualquer conduta que ofenda sua integridade ou saúde corporal.
- ( ) Violência psicológica: entendida como qualquer conduta que configure retenção, subtração, destruição parcial ou total de seus objetos, instrumentos de trabalho, documentos pessoais, bens, valores e direitos ou recursos econômicos, incluindo os destinados a satisfazer suas necessidades.

A ordem correta de preenchimento dos parênteses, de cima para baixo, é:

- A) V – V – F.
- B) F – V – F.
- C) V – F – V.
- D) F – F – V.
- E) V – F – F.

**QUESTÃO 28** – Na rua Tapajós, na cidade de Viradinhos, um grupo de pessoas se reúne em um terreiro, em sábados alternados, para praticar a religião Nação, que é uma religião de matriz africana. Um grupo de moradores, da mesma rua, incomodados com os cultos religiosos, afixou cartaz em frente ao terreiro com palavras de ódio, ameaças e desprezo. Com base no Estatuto Nacional da Igualdade Racial, Lei nº 12.288/2010, é correto afirmar que:

- A) O grupo de moradores praticantes da religião deve comunicar ao Ministério Público para abertura de ação penal em face de atitudes e práticas de intolerância religiosa naquela localidade.
- B) Não há o que ser feito, o grupo de moradores apenas expressou sua opinião ao afixar o cartaz.
- C) Em que pese a legislação, a prática de cultos religiosos de matriz africana é permitida desde que não seja realizada em área residencial.
- D) O grupo de moradores praticantes da religião deve comunicar ao órgão competente para que proceda com intimação escrita para a retirada do cartaz.
- E) O grupo de moradores que colocou o cartaz pode procurar o Ministério Público exigindo que as práticas não sejam realizadas naquele endereço, alegando que atrapalham o dia a dia dos moradores locais.

**QUESTÃO 29** – Em relação ao trabalho, com base no Estatuto Nacional da Igualdade Racial, analise as assertivas abaixo, assinalando V, se verdadeiras, ou F, se falsas.

- ( ) A implementação de políticas voltadas para a inclusão da população negra no mercado de trabalho será de responsabilidade do poder público, observando-se os compromissos assumidos pelo Brasil ao ratificar a Convenção Internacional sobre a Eliminação de Todas as Formas de Discriminação Racial, de 1965.
- ( ) Será assegurado o acesso ao crédito para a pequena produção, nos meios rural e urbano, com ações afirmativas para crianças negras.
- ( ) O poder público promoverá ações com o objetivo de elevar a escolaridade e a qualificação profissional nos setores da economia que contem com alto índice de ocupação por trabalhadores negros de baixa escolarização.

A ordem correta de preenchimento dos parênteses, de cima para baixo, é:

- A) V – V – F.
- B) F – V – F.
- C) F – V – V.
- D) V – F – F.
- E) V – F – V.

**QUESTÃO 30** – Conforme prevê o Estatuto Estadual da Igualdade Racial/RS, Lei nº 13.694/2011, as políticas públicas de promoção do direito à cultura, à educação, ao esporte e ao lazer são definidas da seguinte maneira:

- I. O Estado deverá promover políticas que valorizem a cultura “Hip-Hop” em suas manifestações de canto do “Rap”, da instrumentação dos “DJs”, da dança do “break dance” e da pintura do grafite.
- II. O Estado deverá promover programas de incentivo, inclusão e permanência da população negra nos diferentes níveis de ensino, estimulando a implementação de diretrizes curriculares que abordem as questões raciais.
- III. As instituições de ensino deverão respeitar a diversidade racial quando promoverem debates, palestras, cursos ou atividades afins, convidando negros, entre outros, para discorrer sobre os temas apresentados.

Quais estão corretas?

- A) Apenas I.
- B) Apenas II.
- C) Apenas III.
- D) Apenas I e III.
- E) I, II e III.

**CONHECIMENTOS ESPECÍFICOS**

**QUESTÃO 31** – Sobre a acessibilidade a edificações, mobiliário, espaços e equipamentos urbanos, assinale a alternativa INCORRETA.

- A) Tecnologia assistiva é o termo que designa produtos, equipamentos, dispositivos, recursos, metodologias, estratégias, práticas e serviços que objetivem promover a funcionalidade, relacionada à atividade e à participação da pessoa com deficiência ou mobilidade reduzida, visando à sua autonomia, independência, qualidade de vida e inclusão social.
- B) Área de descanso é o espaço livre de obstáculos, destinado ao uso de todas as pessoas.
- C) Calçada rebaixada é a rampa construída ou implantada na calçada, destinada a promover a concordância de nível entre esta e o leito carroçável.
- D) Fatores de impedância são os elementos ou condições que possam interferir no fluxo de pedestres, como, por exemplo, mobiliário urbano, entradas de edificações junto ao alinhamento, vitrines junto ao alinhamento, vegetação, postes de sinalização, entre outros.
- E) Foco de pedestres é a indicação luminosa de permissão ou impedimento de locomoção na faixa apropriada.

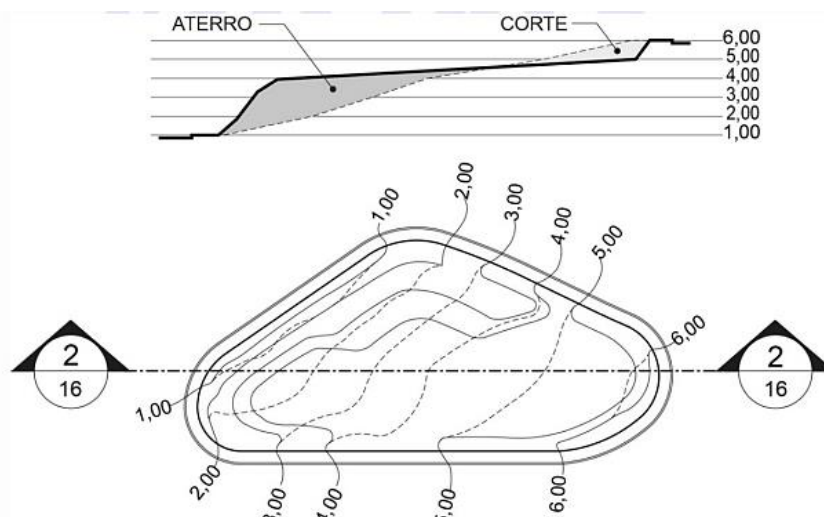
**QUESTÃO 32** – Sobre os atalhos do software AutoCad, disponibilizados no Guia de Atalhos, analise as assertivas abaixo:

- I. O atalho Ctrl+Shift+C permite salvar como o desenho.
- II. F8 alterna o modo ortogonal.
- III. DAN – DIMANGULAR, permite criar uma cota angular.

Quais estão corretas?

- A) Apenas I.
- B) Apenas II.
- C) Apenas III.
- D) Apenas II e III.
- E) I, II e III.

**QUESTÃO 33** – A Figura 1 abaixo, apresentada na NBR 16636-4, mostra:



**Figura 1 – sem escala**

- A) Curvas de nível a serem projetadas.
- B) Curvas de nível projetadas e existentes – representação em planta e corte.
- C) Planta e corte com curvas de nível projetadas.
- D) Planta das curvas de nível.
- E) Curvas de nível existentes – planta e corte.

**QUESTÃO 34** – Considerando a NBR 16636-1, analise as assertivas abaixo:

- I. Projeto da edificação é o plano geral para a construção de edificações representado pelo conjunto de estudos e desenhos constantes nos projetos arquitetônico e complementares da obra objeto de incorporação.
- II. Reutilização trata-se da recuperação da unidade primitiva da edificação, monumento ou sítio, e suas artes integradas, por meio de atividades técnicas que consistem em recuperar, em partes ou integralmente, os elementos e componentes de um edifício, monumento, conjunto arquitetônico ou paisagístico, por meio de diversas formas de intervenção física, de caráter técnico e científico, que visem à sua preservação.
- III. A vida útil de projeto é uma estimativa teórica de tempo que compõe o tempo de vida útil. O tempo de vida útil da edificação (VU) pode ou não ser confirmado em função de eficiência e registro das manutenções, de alterações no entorno da obra, fatores climáticos, etc.

Quais estão corretas?

- A) Apenas I.
- B) Apenas II.
- C) Apenas III.
- D) Apenas I e III.
- E) I, II e III.

**QUESTÃO 35** – Sobre os custos nas edificações, assinale a alternativa INCORRETA.

- A) Área real total do pavimento é a soma das áreas cobertas reais de um determinado pavimento, medidas a partir do projeto arquitetônico.
- B) Fração ideal é a fração expressa de forma decimal ou ordinária, que representa a parte ideal do terreno e coisas de uso comum atribuídas à unidade autônoma, sendo parte inseparável desta.
- C) As áreas de uso privativo subdividem-se em áreas privativas principais e áreas privativas acessórias.
- D) Custo unitário da construção é o quociente da divisão do custo global da construção pela área equivalente em área de custo padrão total.
- E) Entrosamento do cronograma das obras com as prestações da construção é a vinculação parcial ou total de prestações ou parcelas de pagamento da construção, previstas no contrato, às diferentes fases de desenvolvimento dos serviços considerados no cronograma da obra.

**QUESTÃO 36** – De acordo com a Lei nº 14.133/2021, analise as assertivas abaixo e assinale V, se verdadeiras, ou F, se falsas.

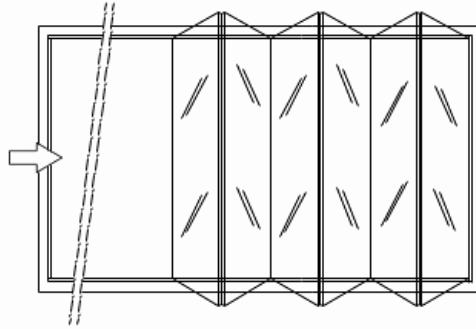
- ( ) Considera-se serviços não contínuos ou contratados por escopo aqueles que impõem ao contratado o dever de realizar a prestação de um serviço específico em período predeterminado, podendo ser prorrogado, desde que justificadamente, pelo prazo necessário à conclusão do objeto.
- ( ) Matriz de riscos é a cláusula contratual definidora de riscos e de responsabilidades entre as partes e caracterizadora do equilíbrio econômico-financeiro inicial do contrato, em termos de ônus financeiro decorrente de eventos supervenientes à contratação.
- ( ) Contratação integrada é o regime de contratação de mão de obra para pequenos trabalhos por preço certo, com fornecimento de materiais.
- ( ) Leilão é modalidade de licitação obrigatória para aquisição de bens e serviços comuns, cujo critério de julgamento será o de maior preço.

A ordem correta de preenchimento dos parênteses, de cima para baixo, é:

- A) F – F – V – V.
- B) V – V – F – F.
- C) V – F – V – F.
- D) F – V – F – V.
- E) F – V – V – V.



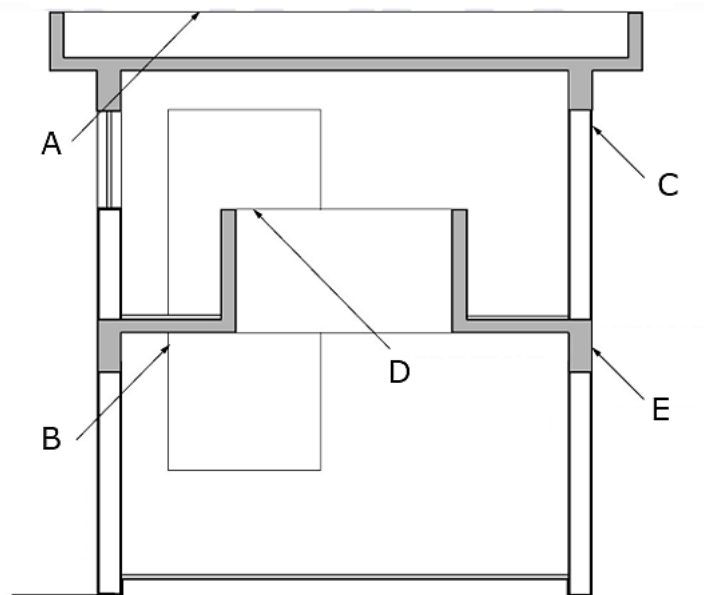
**QUESTÃO 37** – De acordo com a NBR 10821-1, a Figura 2 apresenta uma esquadria do tipo:



**Figura 2 – sem escala**

- A) Deslizante.
- B) Correr.
- C) Sanfona.
- D) Projetante-deslizante
- E) De giro, de eixo vertical.

**QUESTÃO 38** – Sobre a Figura 3 abaixo, que apresenta na NBR 6492/2021 o uso das linhas em corte, analise as assertivas que seguem:



**Figura 3 – Exemplo de uso de linhas – corte sem escala**

- I. A letra B representa aresta visível: linha contínua média.
- II. A letra D apresenta contornos em vista: linha contínua estreita.
- III. A letra E apresenta contorno visível em corte, elemento com hachura: linha contínua larga.

Quais estão corretas?

- A) Apenas I.
- B) Apenas II.
- C) Apenas III.
- D) Apenas II e III.
- E) I, II e III.

**QUESTÃO 39** – Sobre as saídas de emergência em edifícios abordadas pela NBR 9077/2001, analise as assertivas abaixo:

- I. Tabique é a parede interna, baixa ou atingindo o teto, sem efeito estrutural e que, portanto, pode ser suprimida facilmente em caso de reforma.
- II. Entrepiso é o conjunto de elementos de construção, com ou sem espaços vazios, compreendido entre a parte inferior do forro de um pavimento e a parte superior do piso do pavimento imediatamente superior.
- III. A escada não enclausurada não pode fazer parte de uma rota de saída.

Quais estão corretas?

- A) Apenas I.
- B) Apenas II.
- C) Apenas III.
- D) Apenas I e II.
- E) I, II e III.

**QUESTÃO 40** – Sobre a NBR 6118/2023, que estabelece os procedimentos e requisitos básicos para o projeto de estruturas de concreto simples, armado e protendido, assinale a alternativa INCORRETA.

- A) Elementos de concreto armado são aqueles cujo comportamento estrutural depende da aderência entre concreto e armadura, e nos quais não se aplicam alongamentos iniciais das armaduras antes da materialização dessa aderência.
- B) Estado-limite último é o estado-limite relacionado ao colapso, ou a qualquer outra forma de ruína estrutural, que determine a paralisação do uso da estrutura.
- C) Elementos de concreto composto são elementos estruturais elaborados com concreto que não possuem qualquer tipo de armadura, ou que a possuem em quantidade inferior ao mínimo exigido para o concreto armado.
- D) Junta de dilatação é qualquer interrupção do concreto com a finalidade de reduzir tensões internas que possam resultar em impedimentos a qualquer tipo de movimentação da estrutura, principalmente em decorrência de retração ou variação da temperatura.
- E) Estado-limite de descompressão é o estado no qual, em um ou mais pontos da seção transversal, a tensão normal é nula, não havendo tração no restante da seção.