

**Auxiliar de Administração
Auxiliar de Saúde**
Códigos 113 e 114

Este caderno contém a Prova Objetiva abrangendo os conteúdos de **Língua Portuguesa, Matemática e Conhecimentos Gerais**.

Use como rascunho a **Folha de Respostas** reproduzida no final deste caderno.

Ao receber a **Folha de Respostas**:

- confira seu nome, número de inscrição e o cargo;
- assine, **A TINTA**, no espaço próprio indicado.

	A	B	C	D
01	<input checked="" type="checkbox"/>	<input type="checkbox"/>	<input type="checkbox"/>	<input type="checkbox"/>
02	<input type="checkbox"/>	<input checked="" type="checkbox"/>	<input type="checkbox"/>	<input type="checkbox"/>
03	<input type="checkbox"/>	<input type="checkbox"/>	<input checked="" type="checkbox"/>	<input type="checkbox"/>
04	<input type="checkbox"/>	<input type="checkbox"/>	<input type="checkbox"/>	<input checked="" type="checkbox"/>

Ao transferir as respostas para a **Folha de Respostas**:

- **use apenas caneta esferográfica azul ou preta;**
- preencha, sem forçar o papel, toda a área reservada à letra correspondente à resposta solicitada em cada questão;
- assinale somente **uma** alternativa em cada questão. Sua resposta **não** será computada se houver marcação de mais de uma alternativa, questões não assinaladas ou questões rasuradas.

NÃO DEIXE NENHUMA QUESTÃO SEM RESPOSTA.

A **Folha de Respostas** não deve ser dobrada, amassada ou rasurada.

CUIDE BEM DELA. ELA É A SUA PROVA.

O tempo de duração da prova abrange, inclusive, o tempo necessário à transcrição das respostas do rascunho para a **Folha de Respostas**.

ATENÇÃO - Nos termos do Edital n. 01/2009, "Poderá, ainda, ser eliminado o candidato que [...] **portar arma(s)** no local de realização das provas [...]; **portar**, mesmo que desligados [...] **qualquer equipamento eletrônico** [...] ou de **instrumentos de comunicação** interna ou externa, tais como **telefone celular** [...] entre **outros** [...]". (subitem 8.2.29, alíneas "d" e "e")

DURAÇÃO DA PROVA: TRÊS HORAS

ATENÇÃO

Sr.(a) Candidato(a),

Antes de começar a fazer a prova, confira se este caderno contém, ao todo, 30 (trinta) questões de múltipla escolha — cada uma constituída de 4 (quatro) alternativas — assim distribuídas: **10 (dez) questões de Língua Portuguesa, 10 (dez) questões de Matemática e 10 (dez) questões de Conhecimentos Gerais**, todas perfeitamente legíveis.

Havendo algum problema, informe ***imediatamente*** ao aplicador de provas para que ele tome as providências necessárias.

Caso V. S^a não observe essa recomendação, ***não lhe caberá qualquer reclamação ou recurso posteriores.***

➤ Língua Portuguesa

Dedicação e remuneração

Quantas vezes ouvimos os nossos colegas de trabalho, amigos e até familiares reclamar de que ganham mal, apesar de trabalhar muito? Comentários desse tipo costumam ser apoiados por “sofredores”, que, além de se solidarizar com o queixoso, começam eles próprios a reclamar das dificuldades que enfrentam e a

5 falar mal da empresa em que trabalham. Ao agir assim, esses profissionais não atentam para o óbvio: eles estão maculando o próprio currículo. Afinal, se eles estão em uma empresa que não os valoriza e permanecem ali, talvez haja algo questionável na competência deles.

Claro que uma dedução dessas pode ser precipitada e injusta. No entanto, é

10 quase instantânea. É justamente por isso que temos de prestar mais atenção ao modo como agimos, aos interlocutores que escolhemos e, sobretudo, àquilo que falamos. Construir uma imagem profissional ruim é um dos piores entraves que alguém pode impor à própria carreira. Além disso, assumir o papel de vítima é uma atitude destrutiva, que traz desânimo e uma sensação de infelicidade. Quanto mais

15 se repete o mantra “sou explorado, ninguém me valoriza”, maior é o desgaste emocional. O resultado disso, com o passar do tempo, é a queda na qualidade do trabalho realizado. E quando o profissional começa a fazer somente o necessário para não ser despedido, ele se distancia cada vez mais da ambicionada promoção. Por isso, em vez de nos acomodarmos a um papel que em nada contribuirá para

20 nos tornar felizes e realizados, devemos nos propor a responder a uma questão da maior importância: “Será que eu me dedico além do que o meu cargo e a minha remuneração pressupõem, ou me dedico menos do que seria capaz e, por isso, ninguém pensa em me dar aumento?” [...]

[...] Por isso, um profissional que almeja evoluir deve parar de pensar em

25 como “está” e passar a focar naquilo que ele, de fato “é”. Estar num cargo aquém da sua capacidade é circunstancial; ser uma pessoa competente e em constante aprimoramento é o que importa de fato.

Marcelo Gonçalves
Jornal Estado de Minas, 15/11/2009
Texto adaptado

Questão 1

De acordo com o texto é **CORRETO** afirmar

- A) que todo profissional deve aceitar tudo que a empresa demanda.
- B) que o bom profissional nunca é valorizado.
- C) que o profissional, em vez de reclamar, deve buscar sempre o crescimento.
- D) que, em geral, todo profissional ganha mal.

Questão 2

“Estar num cargo aquém da sua capacidade é circunstancial; [...]” (linhas 25 e 26)

A palavra sublinhada pode ser substituída, sem alterar o sentido da frase, por

- A) fundamental.
- B) habitual.
- C) temporário.
- D) comum.

Questão 3

Com o seguinte trecho: “[...] ao agir assim, esses profissionais não atentam para o óbvio: eles estão maculando o próprio currículo”, o autor quis dizer que os profissionais estão

- A) comprometendo o próprio currículo.
- B) melhorando o próprio currículo.
- C) valorizando o próprio currículo.
- D) ampliando o próprio currículo.

Questão 4

“[...] além de se solidarizar com o queixoso, começam eles próprios a reclamar das dificuldades que enfrentam e a falar mal da empresa em que trabalham.” (linhas 3 a 5)

A partir do trecho acima, é **CORRETO** afirmar que, em relação ao queixoso, muitas pessoas apresentam uma atitude de

- A) discordância.
- B) concordância.
- C) censura.
- D) crítica.

Questão 5

É **CORRETO** afirmar que a linguagem usada pelo autor no texto corresponde à linguagem

- A) padrão (formal).
- B) coloquial (informal).
- C) literária.
- D) poética.

INSTRUÇÃO – As questões **6** e **7** relacionam-se com o texto abaixo.
Leia atentamente todo o texto antes de responder a elas.

Amigo colaborador!

Neste dia, dizer “obrigado”, ainda que seja em coro de centenas e centenas dos sobreviventes do câncer, atendidos graças à sua colaboração, é pouco. Então o quê dizer?

- 5 Ah! Quem sabe lhe falar dos milagres que presenciamos, de doentes de câncer que foram curados, de outros que continuam em tratamento com a possibilidade de sobrevivência, de alguns que infelizmente nos deixaram, mas com dignidade. Falar, principalmente, daqueles que ainda esperam por um milagre, o da sua solidariedade. Que você continue a ajudar. Ajude a combater o câncer, cada vida que for salva tem a sua participação...
- 10 Agora sim, feche os olhos e imagine milhares de sobreviventes que gritarão bem alto: Obrigado!!!!!!!!!!

*(Agradecimento aos colaboradores do Centro
de Apoio aos Portadores de Câncer,
novembro de 2009 - Texto adaptado)*

Questão 6

Na frase: “Ah! Quem sabe lhe falar dos milagres que presenciamos [...]” (linha 4), o pronome oblíquo lhe se refere aos

- A) doentes.
- B) médicos.
- C) enfermeiros.
- D) colaboradores.

Questão 7

“Falar, principalmente, daqueles que ainda esperam por mais um milagre, o da sua solidariedade.” (linhas 7 e 8)

Nessa frase, a palavra sublinhada

- A) indica uma ação.
- B) indica uma qualidade.
- C) nomeia um ser.
- D) substitui um nome.

Questão 8

Assinale a alternativa em que as duas palavras estão escritas **corretamente**.

- A) carpinteiro – relojero
- B) mecânico – máquinas
- C) auxiliar – analisar
- D) administração - obituração

Questão 9

Assinale a frase em que a concordância verbal está **CORRETA**.

- A) Fazem três meses que a doença apareceu.
- B) Fui devagar, mas o pé ou o espelho traíram-me.
- C) Na sala de visitas haviam três quadros do famoso pintor.
- D) Sou eu quem dará o diagnóstico da doença.

Questão 10

Assinale a alternativa em que todas as palavras estão grafadas **corretamente**.

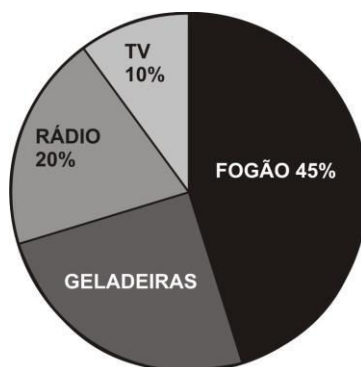
- A) cajú – pé – você
- B) café – sofá – parabêns
- C) história – órfão – lápis
- D) lâmpada – médico – ítem

➤ Matemática

Questão 11

Em uma loja de eletrodomésticos foram vendidos, em uma promoção relâmpago, quatro tipos de produtos num total de 320 itens.

O seguinte gráfico mostra como os produtos foram comercializados.



Nesse caso, a porcentagem e o número de geladeiras comercializadas foram, respectivamente,

- A) 25% - 90 geladeiras.
- B) 18% - 30 geladeiras.
- C) 25% - 80 geladeiras.
- D) 45% - 120 geladeiras.

Questão 12

Analise as seguintes afirmativas e assinale com **V** as **verdadeiras** e com **F** as **falsas**.

- () A soma dos ângulos internos de um quadrilátero é 360°
- () A raiz quadrada de 51 é 7
- () $(-2)^2 + 3(2)^2 - (\sqrt{2})^2 = 16$
- () $\frac{2}{3} = \frac{16}{24}$

Assinale a alternativa que apresenta a sequência de letras **CORRETA**.

- A) (V) (F) (V) (F)
- B) (F) (V) (V) (V)
- C) (F) (V) (F) (F)
- D) (V) (F) (F) (V)

Questão 13

Na construção de uma casa estava previsto o consumo de 250 sacos de cimento, mas foram necessários mais 32%.

Assinale a alternativa que representa o total de sacos de cimentos gastos.

- A) 430
- B) 330
- C) 370
- D) 410.

Questão 14

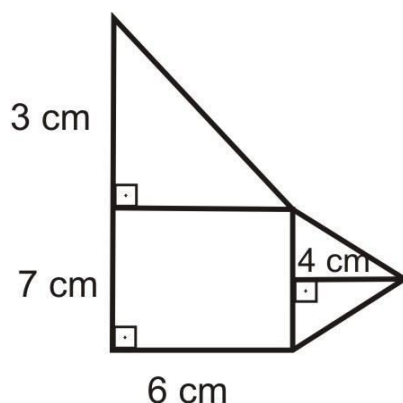
Cláudia queria dividir entre suas amigas uma coleção de brincos. Ela deu 6 brincos para cada amiga e sobraram 19. Se ela desejasse dar 12 brincos a cada uma, faltariam 5.

O número de amigas e a quantidade de brincos que Cláudia tem em sua coleção são

- A) 3 amigas e 18 brincos.
- B) 5 amigas e 64 brincos.
- C) 8 amigas e 24 brincos.
- D) 4 amigas e 43 brincos.

Questão 15

Analise a seguinte figura.



Assinale a alternativa que representa a área dessa figura.

- A) 65 cm^2
- B) 57 cm^2
- C) 70 cm^2
- D) 76 cm^2

Questão 16

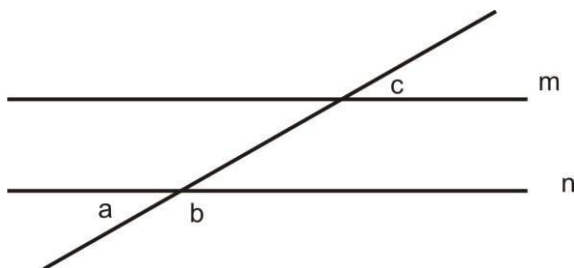
Um pedreiro assenta 51 m^2 de cerâmicas, em um piso, em 3 dias. Para assentar 119 m^2 , levará

- A) 5 dias.
- B) 8 dias.
- C) 6 dias.
- D) 7 dias.

Questão 17

Sabendo-se que as retas m e n são paralelas e formam um ângulo c com medida igual a 27° , as medidas dos ângulos a e b , respectivamente, serão

- A) 63° e 110° .
- B) 27° e 153° .
- C) 47° e 93° .
- D) 36° e 124° .



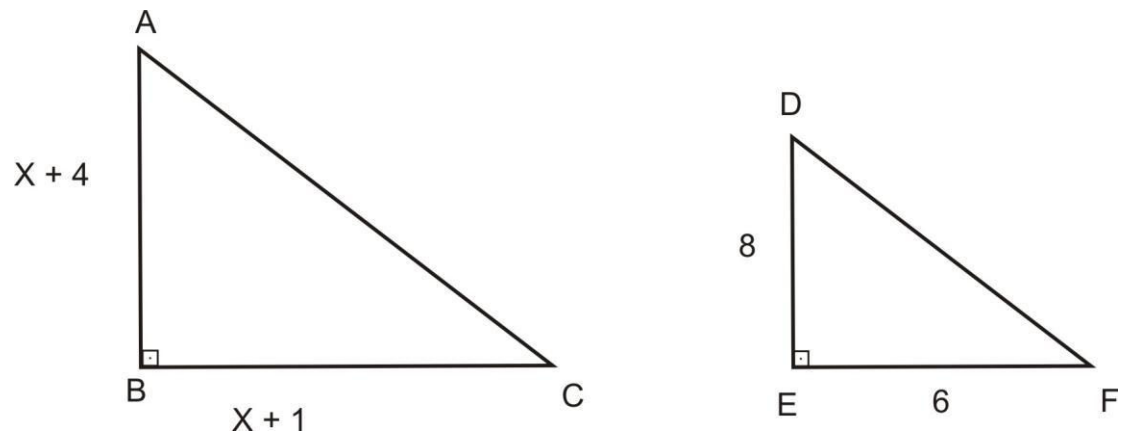
Questão 18

Durante uma viagem de caminhão, Ricardo abasteceu após percorrer 261 km e completou o tanque com 58 litros de diesel. A média de consumo de diesel que o caminhão de Ricardo manteve nesse percurso foi de

- A) 4,5 km/l.
- B) 5 km/l.
- C) 5,4 km/l.
- D) 3,2 km/l.

Questão 19

Os seguintes triângulos são semelhantes.



As medidas dos lados AB e BC do triângulo ABC são, respectivamente,

- A) 8 e 7.
- B) 7 e 5.
- C) 6 e 10.
- D) 12 e 9.

Questão 20

Em uma casa construiu-se uma piscina com as seguintes dimensões: largura igual a 3 m, comprimento igual a 950 cm e profundidade igual a 0,14 dam. A quantidade de água que será gasta para encher essa piscina será

- A) $39,90 \text{ m}^3$.
- B) $41,26 \text{ m}^3$.
- C) $36,76 \text{ m}^3$.
- D) $45,60 \text{ m}^3$.

➤ Conhecimentos Gerais

Questão 21

A lei municipal n. 3.533/2002 da Prefeitura de Patrocínio instituiu o Programa Municipal de Educação Ambiental, com o objetivo de promover ações que visem a formação da consciência ecológica dos estudantes da rede pública municipal.

De acordo com o art. 2º da referida lei, compete ao Poder Executivo, na execução e coordenação do programa, desenvolver atividades extraclasse compreendendo, **EXCETO**

- A) a coordenação de atividades práticas de plantio de árvores.
- B) a coordenação de atividades para a conscientização sobre a coleta seletiva dos resíduos líquidos.
- C) a conscientização sobre a preservação das matas ciliares e nascentes dos rios.
- D) a realização de palestras destinadas à formação da consciência ecológica do educando.

Questão 22

A introdução de plantas ou animais estranhos a determinado ambiente que é capaz de provocar desequilíbrio ecológico é denominada

- A) poluição biológica.
- B) poluição do ar.
- C) poluição do solo.
- D) poluição hídrica.

Questão 23

A erosão poderá ser controlada por meio

- A) da adubação verde.
- B) da biotecnologia.
- C) do manejo adequado do solo.
- D) da rotação de cultivos.

Questão 24

Segundo Kurt Kloetzel (1998), existem três tipos de ultraje ao meio ambiente.

Entre esses tipos de ultraje **NÃO** se inclui(em)

- A) a poluição do ar, da água e do solo.
- B) a preservação da fauna e da flora.
- C) as alterações de sua topografia.
- D) o furto de suas riquezas.

Questão 25

NÃO é considerado um comportamento ético numa sociedade

- A) agir com deslealdade.
- B) respeitar direitos e deveres.
- C) seguir normas.
- D) agir com responsabilidade.

Questão 26

Em relação ao Estado, os problemas éticos são muito amplos e complexos.

Considerando a ética política, assinale a afirmativa **INCORRETA**.

- A) A informação através dos meios de comunicação é uma forma de poder e, como tal, pode favorecer as relações políticas.
- B) As eleições periódicas são questões éticas fundamentais.
- C) As leis e a divisão de poderes evitam abusos do poder político.
- D) Os cidadãos, numa ditadura, possuem liberdade política.

Questão 27

Pode-se considerar como problema ético numa sociedade civil, **EXCETO**

- A) a valorização do trabalhador.
- B) as formas escravizadoras do trabalho.
- C) os baixos salários.
- D) o desemprego.

Questão 28

Com base no art. 4º da Lei complementar n. 061/2009 do município de Patrocínio, numere a **COLUNA II** de acordo com a **COLUNA I** relacionando cada termo ao seu significado.

COLUNA I	COLUNA II
1. Nomeação	() volume de trabalho de cada cargo, para cuja execução é necessária uma pessoa.
2. Emprego	() o que é provido em caráter transitório para desempenho de atividades de direção superior de livre nomeação e exoneração.
3. Cargo efetivo	() ato inicial do procedimento de investidura do servidor que designa a pessoa para prover o cargo público.
4. Cargo em comissão	() o que é provido em caráter permanente por pessoa aprovada e classificada em concurso público.

Assinale a alternativa que apresenta a sequência de números **CORRETA**.

- A) (1) (3) (2) (4)
- B) (3) (2) (4) (1)
- C) (2) (4) (1) (3)
- D) (4) (1) (3) (2)

Questão 29

O art. 5º da Lei Complementar n. 061/2009 da Prefeitura Municipal de Patrocínio instituiu a jornada de trabalho de seus servidores compreendendo

- A) 43 hs (quarenta e três horas) semanais.
- B) 42,5 hs (quarenta e duas horas e trinta minutos) semanais.
- C) 44,5 hs (quarenta e quatro horas e trinta minutos) semanais.
- D) 50 hs (cinquenta horas) semanais.

Questão 30

É **INCORRETO** afirmar que a avaliação de desempenho tem como objetivo

- A) avaliar a insatisfação do servidor no ambiente de trabalho.
- B) avaliar o desempenho do servidor pelo menos uma vez a cada ano.
- C) apurar a eficiência do servidor e a qualidade de seu trabalho.
- D) apurar as características comportamentais do servidor.