

CONCURSO PÚBLICO N° 001/2020

PREFEITURA MUNICIPAL DE GRANITO

ASSINATURA DO(A) CANDIDATO(A)

N° DE INSCRIÇÃO

CARGO: AUXILIAR DE SERVIÇOS GERAIS

CONCURSO PÚBLICO

PROVA OBJETIVA

VERIFIQUE SE ESTE CADERNO:

- ❖ Corresponde a sua opção de cargo.
- ❖ Contém 40 (quarenta) questões, numeradas de 01 a 40, caso contrário reclame ao fiscal da sala outro caderno. NÃO serão aceitas reclamações posteriores.
- ❖ Para cada questão existe apenas UMA resposta certa.
- ❖ Você deve ler cuidadosamente cada uma das questões e escolher a resposta certa.
- ❖ A alternativa escolhida deve ser marcada na FOLHA DE RESPOSTAS que você recebeu.

VOCÊ DEVE:

- ❖ Procurar na FOLHA DE RESPOSTAS, o número da questão que você está respondendo.
- ❖ Verificar no caderno de prova qual a letra (A, B, C, D, E) da resposta que você escolheu.
- ❖ Marcar essa letra na FOLHA DE RESPOSTAS, conforme o exemplo: [■].

ATENÇÃO:

- ❖ Marque as respostas com caneta esferográfica azul ou preta.
- ❖ Marque apenas uma letra para cada questão, mais de uma letra assinalada implicará nota zero à questão.
- ❖ Não será permitida qualquer espécie de consulta, nem o uso de máquina calculadora.
- ❖ Você terá 3 (três) horas para responder a todas as questões e preencher a folha de respostas.
- ❖ Devolva esse caderno de prova ao aplicador, juntamente com a sua folha de respostas. } Proibida a divulgação ou impressão parcial ou total da presente prova. Direitos Reservados.

QUESTÕES - LÍNGUA PORTUGUESA (1 – 12)**02 PONTOS**

SOMOS SÓ PARTE DA IMENSA DIVERSIDADE

Protagonista do filme “Colegas”, que estreou sexta, fala da vida com a síndrome de Down e de como se sente igual a todos.

Protagonista do filme “Colegas”, do diretor Marcelo Galvão, o ator Ariel Goldenberg, 32, se define como um “guerreiro”. E ele é. Guerreiro *down*, diga-se. *Down* de síndrome de Down mesmo.(...)

O sonho do guerreiro, agora é se firmar na carreira de ator (pensa em atuar em uma novela) e estudar para se tornar diretor também.

Abaixo, entrevista de Goldenberg, em que revela o segredo de seu sucesso e dá dicas sobre como os pais de crianças com *Down* podem ajudar seus filhos.

Como você avalia o seu desempenho no filme?

Eu dei a minha alma para que o Stallone expressasse a realidade de um *down* que luta para materializar seus sonhos. Stallone sou eu. Tenho orgulho de dizer que fizemos o filme todo em um *take* só. Gravamos direto, não houve a necessidade de refazer cenas porque os atores se esqueceram do texto, ou porque não colocaram verdade nos personagens.

Você alguma vez se sentiu discriminado por ser *down*?

Uma vez. E foi, por coincidência, em um cinema. Eu e a Rita estamos acostumados a ir ao cinema toda sexta-feira. Sempre fomos tratados com respeito, mas, naquele dia, o gerente se recusou a aceitar que pagássemos meia-entrada, que é um direito assegurado aos *downs*. Ficou claro que ele não nos queria lá. Me subiu o sangue na hora.

Como você conheceu a Rita?

Entrei no site “Grandes encontros”, que é uma sala de bate-papo para pessoas com deficiência, e a encontrei. O que ela tem de mais? Nada. Apenas uma alma pura e os olhos azuis bonitos. Casamos nos rituais judaico, religião da minha família, e no católico, da família da Rita.

Você se sente um cara diferente das pessoas comuns?

Não. Eu me sinto igual a todo mundo. Nós *downs* perante a sociedade somos *downs*, mas, perante Deus, somos normais. É claro que eu sei que temos uma cópia a mais do cromossomo 21. Mas todo dia nasce um bebê torto, ou loiro, ou moreno, ou mais inteligente ou menos.

Nós somos apenas parte da imensa diversidade dos seres humanos. Por isso, somos normais.

E ter filhos, você e a Rita não planejam?

Não. Porque dá muito trabalho formar um filho com a síndrome. E há a probabilidade muito grande de termos um filho com a síndrome. Eu não quero arriscar.

CAPRIGLIONE, Laura. Folha de São Paulo. Disponível em:

<https://www1.folha.uol.com.br/paywall/login.shtml?https://www1.folha.uol.com.br/fsp/ilustrada/96794-somos-so-parte-da-imensa-diversidade-dos-seres-humanos.shtml>

01. É correto afirmar sobre o texto o que se encontra na alternativa:

- a) O ator Ariel Goldenberg, portador de síndrome de *Down*, declara que se percebe igual aos outros e não sofre preconceito.
- b) O casal Ariel e Rita não pretendem ter filhos, porque ele quer se firmar na carreira de ator, pretendendo atuar em alguma novela, portanto vai focar na profissão.
- c) O casal sofreu dificuldades em se relacionar, pois a família de Rita é cristã, e a de Ariel, judaica.
- d) O ator Ariel Goldenberg teve dificuldades em gravar o filme, por ser portador da síndrome, sendo necessário repetir várias vezes algumas cenas.
- e) A passagem centralizada logo abaixo do título funciona como uma espécie de síntese das ideias do texto.

02. Por ser o texto acima pertencente ao gênero entrevista, assinale a opção correta quanto à linguagem:

- a) A linguagem é apenas formal.
- b) A linguagem não verbal está presente.
- c) A linguagem mista compõe o texto.
- d) Há marcas de oralidade.
- e) Percebe-se a variedade linguística regional.

03. Na passagem “***Eu dei a minha alma*** para que o Stallone expressasse a realidade de um *down* que luta para materializar seus sonhos.”, a parte destacada apresenta a figura de linguagem:

- a) antítese;
- b) personificação;
- c) metáfora;
- d) eufemismo;
- e) paradoxo.

04. As aspas foram empregadas no fragmento “Protagonista do filme “***Colegas***”, do diretor Marcelo Galvão, o ator Ariel Goldenberg, 32, (...)”, pois se trata de:

- a) uma explicação.
- b) um nome de obra.
- c) um estrangeirismo.
- d) uma citação.
- e) uma fala de personagem.

05. O vocábulo destacado em “E ele é. *Guerreiro **down**, diga-se.*” funciona como um:

- a) substantivo;
- b) pronome;
- c) adjetivo;
- d) verbo;
- e) numeral.

06. Quanto à classificação dos tipos de sujeito, assinale a opção correta que indica o tipo de sujeito para o verbo destacado na passagem “Eu e a Rita estamos acostumados a ir ao cinema toda sexta-feira. Sempre **fomos** tratados com respeito, mas, naquele dia, o gerente se recusou a aceitar que pagássemos meia-entrada, que é um direito assegurado aos downs.”:

- a) desinencial;
- b) composto;
- c) indeterminado;
- d) simples;
- e) inexistente.

07. O plural do substantivo composto destacado neste fragmento “(...) o gerente se recusou a aceitar que pagássemos **meia-entrada**, (...)” é o mesmo que o plural do substantivo composto apontado na alternativa:

- a) beija-flor;
- b) navio-escola;
- c) guarda-roupa;
- d) ave-maria;
- e) sexta-feira.

08. O vocábulo “*guerreiro*” presente no texto apresenta:

- a) 8 fonemas;
- b) 7 fonemas;
- c) 9 fonemas;
- d) 3 fonemas;
- e) 10 fonemas.

09. Quanto a ter filhos, no texto, o ator Ariel Goldenberg mostra-se contrário e declara os motivos. Um motivo, dentre outros, está corretamente apontado na opção:

- a) O filho, com toda certeza, sofrerá preconceito.
- b) Portadores de *Down* não podem gerar um filho sem a síndrome.
- c) É difícil educar um filho com a síndrome.
- d) Ele não tem afinidade com criança.
- e) A carreira de ator é algo mais importante no momento.

10. O adjetivo “pura”, presente em “*Apenas uma alma pura e os olhos azuis bonitos.*”, dá origem a uma palavra grafada com “z”: “pureza”; o mesmo fenômeno ocorre com a palavra apontada na alternativa:

- a) campo;
- b) marquês;
- c) francês;
- d) real;

e) burguês.

11. Uma passagem que pode justificar o título do texto está presente na resposta da:

- a) 1ª pergunta;
- b) 2ª pergunta;
- c) 3ª pergunta;
- d) 4ª pergunta;
- e) 5ª pergunta.

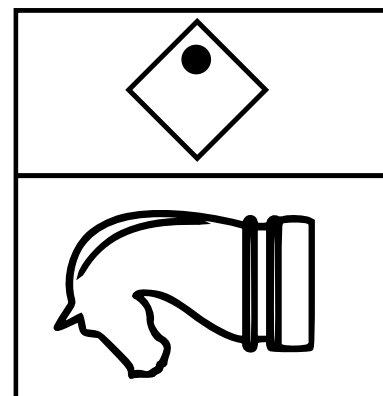
12. O adjetivo em destaque na passagem “*Apenas uma alma pura e os olhos **azuis** (...)*” apresenta a mesma sílaba tônica que a palavra da opção:

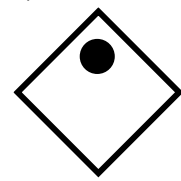
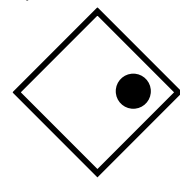

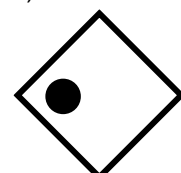
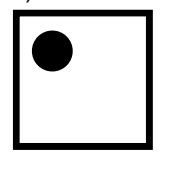
- a) “dia”;
- b) “loiro”;
- c) “filho”;
- d) “mundo”;
- e) “arriscar”.

QUESTÕES – RACIOCÍNIO LÓGICO (13 – 16)

02 PONTOS

13. Qual deveria ser a orientação correta do quadrilátero e do círculo?



- a) 
- b) 
- c) 
- d) 
- e) 

14. Qual o próximo número na seguinte sequência:

3, 10, 17, 24, 31, ...

- a) 40
- b) 36
- c) 45
- d) 38
- e) 53

15. Encontre duas palavras, uma de cada grupo, que guardem a relação mais próxima.

Grupo A: criança, rosa, ônibus.

Grupo B: nuvem, pedra, escola.

- a) rosa e nuvem
- b) ônibus e pedra
- c) ônibus e escola
- d) criança e nuvem
- e) criança e escola

16. Quais entre os seguintes arranjos formam palavras, usando todas as letras de cada arranjo, na língua portuguesa?

I – H I G S E

II – T O O M T

III – A C S C A O

IV – O A R C R

V – A C M R A U

- a) III e IV
- b) II e V
- c) I e II
- d) III e V
- e) II e IV

QUESTÕES – ATUALIDADES (17 – 20)

02 PONTOS

17. Em visita ao Estado de Pernambuco, o presidente Jair Bolsonaro (Sem Partido), prometeu pagar um auxílio aos caminhoneiros, sem, portanto, revelar a fonte dos recursos. A cidade pernambucana de onde o presidente fez o anúncio é

- a) Iguaraci.
- b) Sertânia.
- c) Caruaru.
- d) Arcoverde.
- e) Custódia.

18. Dentre as pessoas com pedido de indiciamento, no relatório da CPI da Covid-19, está uma médica que ficou conhecida como “Capitã Cloroquina”. Trata-se da médica

- a) Mayra Pinheiro.
- b) Luana Araújo.
- c) Nise Yamaguchi.
- d) Natália Pasternak.
- e) Ludhmila Hajjar.

19. O Ministro do Supremo Tribunal Federal, Alexandre de Moraes, determinou a prisão preventiva e a extradição dos Estados Unidos para o Brasil, de um blogueiro, que responde a inquérito na Corte por disseminar Fake News e atuação em milícias digitais que trabalham contra a democracia e as instituições. Muito ligado a família Bolsonaro, o blogueiro é

- a) Oswaldo Eustáquio.
- b) Luiz Mussini.
- c) Anderson Azevedo Rossi.
- d) Allan dos Santos
- e) Ermani Fernandes Barbosa.

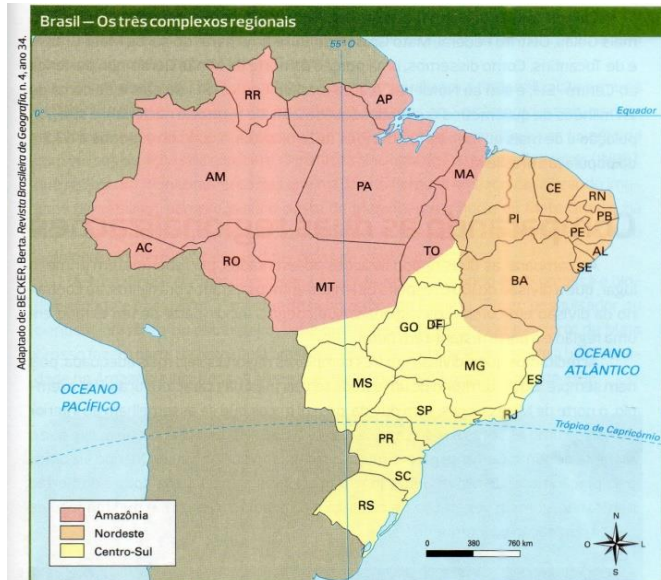
20. A Área de Proteção Ambiental (APA) Costa dos Corais, foi criada em 1997. Criada para preservar recifes e corais, ordenar o turismo, incentivar as manifestações culturais, entre outros, a APA está em quatro municípios do Estado de Pernambuco, exceto:

- a) São José da Coroa Grande.
- b) Barreiros.
- c) Rio Formoso.
- d) Sirinhaém
- e) Tamandaré.

QUESTÕES – CONTEÚDO ESPECÍFICO

(21 – 40) 03 PONTOS

21. Observe o mapa abaixo e assinale a afirmativa correta sobre a regionalização do território brasileiro:



a) A regionalização apresentada no mapa acima busca compreender as partes que compõem o Brasil com uma rígida preocupação com os limites dos estados.

b) A regionalização representada pelo mapa acima divide o Brasil em três complexos regionais ou regiões geoeconômicas e tenta compreender as partes que compõem o Brasil sem uma rígida preocupação com os limites dos estados, procurando levar em consideração as mudanças observadas nas últimas décadas.

c) O tipo de regionalização apresentado no mapa acima, estabelecido em 1969 pelo Instituto Brasileiro de Geografia e Estatística (IBGE) dividiu o Brasil em três macrorregiões: Norte, Nordeste e Centro-Sul.

d) O tipo de regionalização apresentada acima divide o Brasil em quatro complexos regionais ou regiões geoeconômicas e leva em consideração apenas as mudanças observadas nas últimas décadas.

e) A regionalização apresentada no mapa acima, estabelecida pelo IBGE divide o Brasil em cinco regiões geoeconômicas e tenta compreender as partes que compõem o Brasil, procurando levar em consideração apenas as mudanças observadas nas últimas décadas.

22. Sobre os complexos regionais brasileiros, assinale a afirmativa incorreta:

a) O complexo regional da Amazônia não deve ser confundido com a região Norte do IBGE, pois é mais ampla, abrangendo também a porção norte do de Mato Grosso e a parte oeste do Maranhão.

b) O Nordeste não pode ser confundido inteiramente com a região Nordeste do IBGE, pois abrange, além dos nove estados (exceto o oeste do Maranhão), uma parte do norte de Minas Gerais.

c) O Centro-Sul corresponde às regiões Sul e Sudeste (exceto uma parte de Minas Gerais) da regionalização do IBGE, mais Goiás, Distrito Federal, Mato Grosso do Sul e uma parte do sul de Mato Grosso e Tocantins.

d) Essa regionalização mais recente passou a ser empregada tanto nos meios acadêmicos (universidades) como em alguns textos ou documentos do IBGE e de outros órgãos do governo, como o Ipea (Instituto de Pesquisas Econômicas Aplicadas) e o Ministério do Meio Ambiente.

e) Foi estabelecida em 1969, pelo Instituto Brasileiro de Geografia e Estatística (IBGE) e dividiu o Brasil em três complexos regionais: Nordeste, Sudeste e Sul.

23. Observe o mapa.



Em 1969, o Instituto Brasileiro de Geografia e Estatística (IBGE) dividiu o Brasil em cinco macrorregiões: Norte, Nordeste, Centro-oeste, Sudeste e Sul. Marque a alternativa que corresponde à macrorregião que possui a maior extensão litorânea do Brasil.

- a) Sul.
- b) Sudeste.
- c) Centro-Oeste.
- d) Nordeste.
- e) Norte.

24. De acordo com as principais características das macrorregiões e o conhecimento sobre o assunto, relacione a 2ª coluna de acordo com a 1ª

- (1) Norte () Segunda maior região do Brasil em extensão territorial que possui a segunda menor população.
- (2) Nordeste () Região mais populosa e mais industrializada do Brasil.
- (3) Centro-Oeste () Região com menor densidade demográfica do Brasil.
- (4) Sudeste () Com muitas indústrias e uma agropecuária moderna, é considerada a segunda região mais desenvolvida do país.
- (5) Sul () Região que abrange uma área de 1.561.177 km² (18,3% do território nacional). É também onde se deu início à colonização europeia no país.

Marque a sequência correta:

- a) 3, 4, 1, 5, 2
b) 5, 1, 2, 3, 4
c) 2, 3, 5, 1, 4
d) 3, 1, 4, 2, 5
e) 2, 1, 3, 5, 4

25. No Nordeste apenas uma de suas capitais de estados não é banhada pelo Oceano Atlântico. Marque a afirmativa correta em relação a essa cidade.

- a) Salvador
b) São Luís
c) Teresina
d) Aracaju
e) Maceió

26. Em relação a regionalização do Brasil em macrorregiões (segundo o IBGE), assinale a afirmativa incorreta:

- a) Esse tipo de regionalização obedece de forma rígida os limites entre os estados.
b) Essa forma de regionalização foi definida segundo uma combinação de características econômicas, demográficas e naturais.
c) Essa regionalização se mostra ineficiente, pois considera apenas características naturais para a sua definição.
d) As formas de organização da economia e as características gerais do espaço geográfico serviram de base para a divisão em cinco macrorregiões.

e) As macrorregiões – Sul, Sudeste, Centro-Oeste, Nordeste e Norte – agregam as unidades da federação.

27. “O conjunto de características do estado da atmosfera em determinado momento e local é denominado tempo. Quando alguém pergunta ‘como está o tempo hoje?’, quer saber se está quente ou frio, se vai chover ou se vai ventar. É uma condição momentânea da atmosfera que está sujeita a variações. Já o clima resulta dos tipos de tempo mais comuns ocorridos durante 30 anos seguidos, no mínimo em uma região.”

TERRA, Lygia. Conexões: estudos de geografia geral e do Brasil / Lygia Terra, Regina Araújo, Raul Borges Guimarães. – 3. ed. – São Paulo: Moderna, 2016.

Entre as alternativas abaixo, assinale aquela que contém os dois tipos de clima que, somados abrangem a maior parte do território brasileiro.

- a) Equatorial úmido e tropical.
b) Tropical semiárido e litorâneo úmido.
c) Tropical de altitude e litorâneo úmido.
d) Subtropical úmido e tropical de altitude.
e) Tropical semiárido e tropical de altitude.

28. Assinale a alternativa correspondente ao tipo de clima predominante na região Norte do Brasil.

- a) Tropical semiárido
b) Equatorial úmido.
c) Litorâneo úmido.
d) Tropical de altitude.
e) Tropical.

29. Entre os tipos de clima abaixo, assinale a alternativa que contém o tipo de clima predominante na região Sul do Brasil.

- a) Equatorial úmido (convergência dos alísios).
b) Tropical (verão úmido e inverno seco).
c) Tropical semiárido (ação irregular das massas de ar).
d) Tropical de altitude (a altitude acima de 1.000m determina o clima).
e) Subtropical úmido (domínio da massa Polar atlântica; ao longo da costa, influência da massa Tropical atlântica).

30. Com base nos conhecimentos sobre as principais características dos principais tipos de clima presentes no Brasil, classifique as afirmativas a seguir com “V” para as VERDADEIRAS e “F” para as FALSAS:

() O clima tropical semiárido predomina em grande parte do Nordeste brasileiro, no Sertão e no norte de Minas Gerais. Pouca quantidade de chuvas (média anual inferior a 1.000 mm) e temperaturas altas (média térmica anual de 28°C).

() O clima equatorial úmido abrange uma pequena parte da Amazônia. Apresenta temperaturas elevadas e chuvas abundantes e bem distribuídas durante o ano (2.500 mm anuais).

() O clima tropical predomina na maior parte do país, em grande parte das regiões Centro-Oeste, Sudeste e Nordeste e no Estado do Tocantins. Caracterizado por temperaturas altas (média anual por volta de 20° C), apresenta uma estação seca no inverno e outra bem chuvosa no verão.

() O clima tropical de altitude abrange as terras altas do Sudeste, nas regiões serranas do Rio de Janeiro, São Paulo, Espírito Santo e Minas Gerais. Se caracteriza por invernos mais rigorosos sob influência da massa Polar atlântica (Pa). As temperaturas variam entre 15° C e 21° C e os verões são brandos.

Marque a sequência correta:

- a) VVVV
- b) FVfV
- c) VFVF
- d) VFVV
- e) VFFV

31. O Estado Novo foi um regime político brasileiro instaurado por Getúlio Vargas em 10 de novembro de 1937. No contexto político econômico era nacional desenvolvimentista, com investimentos estatais na indústria de base e criação de indústrias nesse setor. Entre as empresas a seguir, assinale aquela que não foi criada durante o Estado Novo.

- a) Companhia Siderúrgica Nacional.
- b) Companhia Vale do Rio Doce.
- c) Petrobras.
- d) Companhia Nacional de Álcalis.
- e) Companhia Hidrelétrica do São Francisco.

32. Houve um período histórico no Brasil, caracterizado pela aceleração do crescimento do PIB (Produto Interno Bruto), industrialização e inflação baixa. Nessa época o então ministro da Fazenda Delfim Netto utilizava uma metáfora para justificar suas medidas econômicas: "Primeiro temos de fazer o bolo crescer para depois dividi-lo". Marque a afirmativa que cita corretamente como ficou conhecido esse período histórico do Brasil.

- a) O Estado Novo (1937-1946).
- b) O Milagre Econômico (1968-1973).
- c) O Governo de Itamar Franco (1992-1994).
- d) O Governo de Fernando Henrique Cardoso (1995-2002).
- e) O Governo de Luiz Inácio Lula da Silva (2003-2010).

33. No dia 31 de março de 1964, o presidente _____ foi deposto pelos militares e refugiou-se no Uruguai. Aqueles que tentaram resistir ao golpe sofreram dura repressão.

Sobre esse fato histórico assinale a alternativa que preenche corretamente a lacuna.

- a) João Goulart.
- b) Juscelino Kubitschek.
- c) Jânio Quadros.
- d) Ranieri Mazzilli.
- e) Humberto Castelo Branco.

34. O **Plano Real** se constituiu numa série de reformas econômicas instauradas no Brasil, na primeira metade dos anos 1990. Devido ao controle da inflação, alcançado pelo plano e por ser o responsável por reunir a equipe econômica que o construiu, Fernando Henrique Cardoso foi um dos nomes que mais ganhou destaque.

Assinale a alternativa correspondente ao cargo exercido por Fernando Henrique Cardoso no ano da implantação do Plano Real.

- a) Presidente da República.
- b) Ministro das Minas e Energia.
- c) Presidente do Banco Central.
- d) Presidente do Banco do Brasil.
- e) Ministro da Fazenda.

35. A respeito da Revolução de 1930, ocorrida no Brasil, assinale a afirmativa incorreta.

- a) É considerado o acontecimento da história do período republicano brasileiro que pôs fim à chamada **República Velha**.
- b) foi o acontecimento que deu fim às articulações políticas entre as oligarquias regionais do Brasil, que sobrepujam os seus interesses particulares aos interesses do Estado e da Nação como um todo.
- c) O principal protagonista da Revolução de 1930 foi **Getúlio Vargas**, então presidente do estado do Rio Grande do Sul.

d) No dia 24 de outubro de 1930, a Aliança Liberal chegou ao poder. Getúlio Vargas foi deposto do cargo e logo exilado.

e) O assassinato de João Pessoa, candidato a vice-presidente na chapa de Getúlio Vargas, se transformou na alavanca para a revolução.

36. Em 1986, foi lançado o Plano Cruzado como tentativa de resolver problemas econômicos num período conturbado do Brasil. Assinale a afirmação correta sobre as medidas adotadas por esse plano.

a) Introdução de uma nova moeda, congelamento de preços e aumento automático do salário para acompanhar a inflação.

b) Introdução de uma nova moeda, aumento de preços e congelamento do salário para controlar a inflação.

c) Introdução de uma nova moeda, isenção de diversos impostos e implantação da Zona Franca de Manaus para alavancar a economia.

d) Introdução de uma nova moeda, aumento de preços e reforma tributária para aumentar a arrecadação e controlar a inflação.

e) Introdução de uma nova moeda, congelamento de preços e ampla reforma tributária para reduzir impostos e controlar a inflação.

37. Durante o governo de Luiz Inácio Lula da Silva (2003-2010) houve um perceptível crescimento econômico no Brasil. Dentre as alternativas abaixo e sobre o período em questão, assinale aquela que enumera corretamente fatores que favoreceram esses avanços econômicos.

a) Ainda em seu primeiro mandato, o presidente pautou pela privatização de várias estatais brasileiras, como a Companhia Vale do Rio Doce, a Telebrás e o Banespa. Tais medidas garantiram recursos para o crescimento econômico.

b) Esse cenário de crescimento econômico foi possível, entre outros fatores, devido ao crescimento das exportações de matérias-primas e *commodities* do Brasil para nações em vertiginoso crescimento, como a China.

c) O governo de Lula anunciou o Plano Real, uma de recuperação da economia e o combate imediato de nossas taxas inflacionárias. Pelo novo plano, uma nova moeda, o Real, iria promover a estabilidade econômica através da paridade da moeda com as reservas cambiais disponíveis.

d) Esses avanços econômicos ocorreram, sobretudo, através do aumento dos investimentos na infraestrutura do país por meio do Programa de Aceleração do Crescimento 2 (PAC 2), em 2008.

e) O governo Lula promoveu uma grande reforma, enxugando os ministérios de 23 para 12. Isso fez com que houvesse economia dos recursos públicos que foram utilizados para os investimentos estatais em infraestrutura.

38. A quebra da Bolsa de Valores de Nova Iorque em 1929 foi um dos fatos históricos mais relevantes do mundo, uma vez que expandiu a crise além das fronteiras estadunidenses. O Brasil foi amplamente afetado nesse período. Marque a alternativa que apresenta corretamente uma medida do Governo de Getúlio Vargas para amenizar os efeitos dessa crise.

a) Estatização de empresas estrangeiras atingidas pela crise.

b) Fundação da Associação Brasileira da Indústria do Café (ABIC).

c) Compra e queima de sacas de café.

d) Criação do **Programa Permanente de Controle da Pureza do Café (PPCPC)**.

e) Criação do Ministério do Trabalho.

39. O **Departamento de Imprensa e Propaganda** (DIP), foi criado durante o Estado Novo. Esse órgão era responsável por:

a) Tornar a circulação de informações relevantes para a população cada vez mais eficiente e rápida.

b) promover a democratização dos meios de comunicação.

c) aumentar a participação popular nas decisões do governo.

d) censurar as opiniões contrárias ao governo e produzir a propaganda que ressaltava o regime e o líder.

e) tornar a sociedade civil mais informada acerca dos seus direitos e deveres.

40. O período da Ditadura Militar no Brasil (1964-1985) ficou conhecido como um dos mais conturbados da nossa história e se caracterizou pela falta de liberdade, pelo uso de tortura contra os opositores políticos e pela prática de terrorismo praticado pelo Estado. Assinale a alternativa que indica corretamente o número de

presidentes militares que governaram o Brasil nesse período.

- a) 7
- b) 8
- c) 6
- d) 4
- e) 5

RASCUNHO