


**OPERADOR DE MÁQUINAS**

**INSTRUÇÕES AO CANDIDATO**

- **Durante a realização da prova não será permitido ao candidato, sob pena de exclusão do Processo Seletivo:**
  - a) Qualquer espécie de consulta bibliográfica, utilização de livros, manuais ou anotações;
  - b) Comunicação entre candidatos;**
  - c) Uso de máquina calculadora;
  - d) Uso de relógio de qualquer tipo;
  - e) Agendas eletrônicas, telefones celulares, smartphones, MP3, notebook, palmtop, tablet, BIP, walkman, gravador ou qualquer outro receptor ou transmissor;
  - f) Uso de óculos escuros, bonés, protetores auriculares e outros acessórios similares;
  - g) Perturbar de qualquer modo a execução dos trabalhos;
- Todas as respostas do Caderno de Prova deverão ser transportadas para o Cartão Resposta;
- Não serão computadas as questões não assinaladas ou que contenham mais de uma resposta, ementa ou rasura;
- O gabarito da letra escolhida deve ser pintado de forma a completar todo o círculo. Exemplo:  

- Para a realização da Prova Escrita, o candidato deverá utilizar caneta esferográfica de tinta azul ou preta;
- Após a realização da prova, o candidato deverá afastar-se do local;
- Ao terminar a prova, o candidato entregará ao fiscal o Caderno de Prova e o Cartão Resposta devidamente **preenchido e assinado**;
- Os 03 últimos candidatos permanecerão até o último concluir, os quais assinarão a ata de encerramento, juntamente com os fiscais, efetuarão a conferência dos Cartões-Resposta, cujas irregularidades serão apontadas na referida ata, e assinarão o lacre dos envelopes em que forem guardados os Cartões-Resposta;
- A Prova escrita terá início às 08h30min com término às 11h00min. A duração mínima para realização da prova é de 30 (minutos), com tempo máximo de 02h30min (duas horas e trinta

minutos). A Prova será composta por questões de múltipla escolha, sendo cada questão composta de 05 alternativas (a, b, c, d, e), possuindo somente uma alternativa correta;

- O Caderno de Provas será composto:

<b>CONTEÚDO</b>	<b>Nº DE QUESTÕES</b>
Língua Portuguesa	02 (duas)
Raciocínio Lógico	02 (duas)
Informática	02 (duas)
Conhecimentos Gerais	02 (duas)
Conhecimentos Específicos	12 (doze)
<b>Total de Questões</b>	<b>20 (vinte)</b>

- Verifique se o Caderno de Provas está completo, sem falhas de impressão e se a quantidade de questões está correta;
- Você deverá transcrever as respostas das questões para o Cartão-Resposta, que será o **único documento válido para a correção das provas.**
- **O preenchimento do Cartão Resposta é de inteira responsabilidade do candidato e não será substituído em caso de erro do candidato.**

BOA PROVA!

## Língua Portuguesa

---

### Questão 01

Assinale a única palavra que deve ser acentuada:

- (A) Avaro.
- (B) Nobel.
- (C) Ibero.
- (D) Filantropo.
- (E) Latex.

### Questão 02

Na frase: "Preciso que alguém me ajude com esse projeto", as palavras destacadas (alguém - esse) são classificadas respectivamente como:


- (A) Adjetivo - pronome.
- (B) Substantivo - pronome.
- (C) Adjetivo - substantivo.
- (D) Pronome - pronome.
- (E) Substantivo - adjetivo.

## Raciocínio Lógico

---

### Questão 03

Observe as figuras geométricas abaixo:



Como essas figuras são classificadas (chamadas) em relação ao seu número de lados?

- (A) Quadriláteros.
- (B) Quadrados.
- (C) Paralelogramos.
- (D) Triângulos.
- (E) Retângulos.

### Questão 04

Se em uma pesquisa feita com 150 pessoas sobre suas preferências pelas marcas de sabão em pó A e B, 54 pessoas disseram gostar das duas e 36 disseram gostar apenas da marca A, quantas pessoas afirmaram gostar apenas da marca B?

- (A) Oitenta e uma pessoas afirmaram gostar apenas da marca B.
- (B) Trinta e sete pessoas afirmaram gostar apenas da marca B.
- (C) Cento e quatro pessoas afirmaram gostar apenas da marca B.

- (D) Sessenta pessoas afirmaram gostar apenas da marca B.
- (E) Setenta e sete pessoas afirmaram gostar apenas da marca B.

## Informática

---

### Questão 05

É a versão oficial para Windows, Mac, Android e iOS, do popular editor de planilhas da Microsoft. O programa possui uma interface intuitiva e capacitadas ferramentas de cálculo e de construção de gráficos.

Marque a alternativa CORRETA que corresponde o contexto acima.

- (A) Excel.
- (B) PowerPoint.
- (C) Outlook.
- (D) Wordpad.
- (E) Word.

### Questão 06

É um editor de textos, para Windows, Mac, Android e iOS, muito popular em todo o mundo e também um dos favoritos dos brasileiros. Acessível tanto online, pela nuvem, como também em uma versão com discos do pacote Office, o programa é uma das ferramentas mais poderosas e potentes para trabalhar com textos.

Marque a alternativa CORRETA que corresponde o contexto acima.

- (A) Word.
- (B) Bloco de Notas.
- (C) Powerpoint.
- (D) Excel.
- (E) Outlook.

## Conhecimentos Gerais

---

### Questão 07

A história de Piratuba tem início quando funcionários da Brasil Railway, empresa responsável pela construção da Estrada de Ferro, São Paulo - Rio Grande do Sul se instalaram na região, acampando às margens do rio chamado:

- (A) Rio Bonito.
- (B) Rio do Índio.
- (C) Rio do Peixe.
- (D) Rio Alegre.
- (E) Rio Doce.

## Questão 08

O ano de 2022 está marcado por uma intensa movimentação política em torno das eleições que acontecerão, chamada de Eleições Gerais, por decidirem quem serão os representantes dos poderes executivo e legislativo a nível federal e estadual. Quais são os cargos ocupados no Poder Executivo nacional e estadual?

- (A) Presidente e Governador.
- (B) Governador e Deputado Estadual.
- (C) Presidente e Senador.
- (D) Deputado Federal e Deputado Estadual.
- (E) Senador e Deputado Federal.

## Conhecimentos Específicos

### Questão 09

Leia as afirmativas a seguir:

I. Ao parar o trator desligue o motor e aplique o freio de estacionamento antes de descer do trator.

II. Somente coloque o motor em funcionamento quando estiver devidamente acomodado no assento do operador.

III. Ao descer ladeira utilize o freio motor e os freios do trator, jamais pise na embreagem ou desça em ponto morto.

Estão CORRETOS:

- (A) Nenhum item está correto.
- (B) Somente o item I.
- (C) Os itens II e III.
- (D) Os itens I, II e III.
- (E) Os itens I e III.

### Questão 10

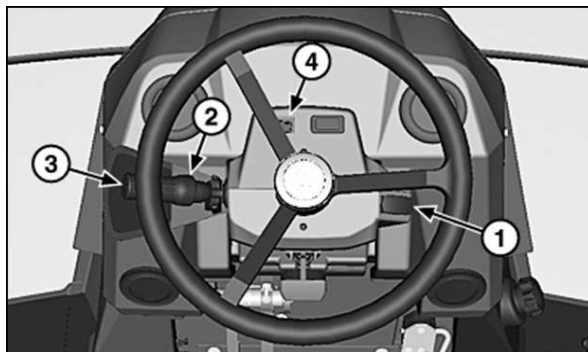
De acordo com o Código de Trânsito Brasileiro, deixar o condutor, envolvido em acidente sem vítima, de adotar providências para remover o veículo do local, quando necessária tal medida para assegurar a segurança e a fluidez do trânsito, constitui:

- (A) Infração grave, e multa.
- (B) Infração gravíssima, e multa.
- (C) Advertência.
- (D) Infração média, multa.
- (E) Infração leve, e multa.

### Questão 11

Analise a figura abaixo dos controles de console de direção da pá carregadeira 310L John Deere, e indique a descrição correta para os itens 1, 2, 3, e 4,

respectivamente:



- (A) 1-Indicador de água no combustível. 2-Alavanca de controle da transmissão (TCL). 3-Botão de buzina. 4-Interruptor do pisca direcional.
- (B) 1-Interruptor das Luzes de Trabalho Traseiras. 2-Manípulo de Controle de Rotação do Motor. 3-Botão de buzina. 4-Interruptor e Indicador do Controle de Vazão Seletiva.
- (C) 1-Interruptor da Tração Dianteira Mecânica. 2-Alavanca de controle da transmissão (TCL). 3-Botão de buzina. 4-Interruptor do pisca direcional.
- (D) 1-Interruptor de partida. 2-Alavanca de controle da transmissão (TCL). 3-Botão de buzina. 4-Interruptor e Indicador do Controle de Vazão Seletiva.
- (E) 1-Interruptor do pisca direcional. 2-Alavanca de controle da transmissão (TCL). 3-Botão de buzina. 4-Indicador de água no combustível.


### Questão 12

Acerca das infrações à legislação de trânsito brasileira, previstas no Código de Trânsito Brasileiro (Lei n.º 9.503/1997), transitar com o veículo na faixa ou pista da direita, regulamentada como de circulação exclusiva para determinado tipo de veículo, exceto para acesso a imóveis lindeiros ou conversões à direita, constitui:

- (A) Infração grave, e multa.
- (B) Infração leve, e multa.
- (C) Infração média, multa.
- (D) Infração gravíssima, e multa.
- (E) Advertência.

### Questão 13

No painel de instrumentos de máquinas pesadas encontra-se o indicador apresentado na figura, que tem por finalidade indicar:



- (A) Filtro de ar.
- (B) Advertência.
- (C) Neutro (Ponto morto).
- (D) Luzes.
- (E) Buzina.

### Questão 14

Sobre direção defensiva, leia as afirmativas a seguir:

I.IMPRUDÊNCIA: Ocorre quando o condutor deixa de respeitar qualquer norma, procedimento ou técnica que lhe ofereça segurança.

II.IMPERÍCIA: Ocorre quando o condutor age com desleixo, quer com seu carro, quer com seu próprio bem-estar.

III.NEGLIGÊNCIA: Ocorre quando o condutor é imperito na prática da direção e todos os conceitos e habilidades que ela envolve.

Estão CORRETOS:

- (A) Os itens, I e II.
- (B) Os itens, II e III.
- (C) Os itens, I, II e III.
- (D) Nenhum item está correto.
- (E) Somente o item, I.

### Questão 15

A sinalização de regulamentação a seguir indica que:



Marque a alternativa CORRETA.

- (A) Proibido parar veículos no local.
- (B) Proibido trânsito de veículos automotores.
- (C) Proibido trânsito de tratores e máquinas de obras.
- (D) Proibido trânsito de caminhões.
- (E) Proibido estacionar veículos.

### Questão 16

Leia as afirmativas a seguir sobre segurança na operação com tratores:

I.Acesse a plataforma de operação pelo lado esquerdo

do trator e segure no volante.

II.Antes de trabalhar com implementos, faça uma leitura do manual de instrução, fornecido pelo fabricante, pois certos instrumentos requerem técnicas especiais de operação.

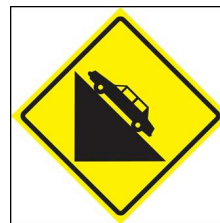
III.Desça sempre de costas colocando as mãos nos apoios e os pés nos degraus.

Estão CORRETOS:

- (A) Somente o item I.
- (B) Os itens, I, II e III.
- (C) Os itens, I e II.
- (D) Nenhum item está correto.
- (E) Os itens, II e III.

### Questão 17

A sinalização de advertência a seguir indica que:



Marque a alternativa CORRETA.

- (A) Aclive acentuado.
- (B) Saliência.
- (C) Depressão.
- (D) Confluência acentuada.
- (E) Declive acentuado.

### Questão 18

Antes de colocar o veículo em circulação, o condutor deve fazer uma checagem apropriada para prevenir surpresas desagradáveis. Leia as afirmativas a seguir:

I.Água, deve ser feita a verificação da água do sistema de arrefecimento (radiador) e do lavador do para-brisa.

II.Pneus, o condutor deve sempre verificar se os pneus estão calibrados e em condições de uso. Os pneus podem estar gastos - o popular careca - atingindo a marca do TWI.

III.Luzes, todo o sistema de iluminação deve ser testado para verificar se há algum defeito ou lâmpada queimada.

Estão CORRETOS:

- (A) Somente o item, III.
- (B) Os itens, I, II e III.

- (C) Nenhum item está correto.
- (D) Os itens, I e II.
- (E) Os itens, I e III.

### **Questão 19**

Sobre o painel de instrumentos, leia as afirmativas a seguir:

I.Termômetro: Indica as faixas de temperatura da água do sistema de arrefecimento.

II.Horímetro: Marca as rotações por minuto (RPM) desenvolvidas pelo motor.

III.Tacômetro: Marca as horas trabalhadas e é a base para todo serviço de assistência e manutenção.

Estão CORRETOS:

- (A) Os itens I, II e III.
- (B) Os itens I e III.
- (C) Os itens II e III.
- (D) Nenhum item está correto.
- (E) Somente o item I.

### **Questão 20**

Sobre a manutenção de uma retroescavadeira, leia as afirmativas a seguir:

I.Antes de realizar manutenção, abaixe o implemento até o solo, acione os freios de estacionamento, desligue o motor e remova a chave de partida.

II.Nunca realize nenhum trabalho no implemento se não estiver autorizado e qualificado para fazê-lo. Sempre leia os manuais de serviço do operador antes de fazer qualquer reparo.

III.Faça reparos hidráulicos quando o sistema estiver sob pressão ou os cilindros sob carga.

É CORRETO o que se afirma em:

- (A) Os itens I, II e III.
- (B) Somente o item I.
- (C) Os itens I e II.
- (D) Os itens II e III.
- (E) Nenhum item está correto.