





Leia o texto para responder às questões de 1 a 5.



Copyright ©1999 Mauricio de Sousa Produções Ltda. Todos os direitos reservados.

7115

Fonte: <http://www.dfe.uem.br/comunicauem/2019/06/17/turma-da-monica-das-tirinhas-as-telas-de-cinema/>. Acessado em 06/02/2023.

### QUESTÃO 1

Em "Turma da Mônica", sempre iremos nos deparar com a rivalidade entre os personagens Mônica e Cebolinha de Maurício de Souza. Desde pequenos, eles vivem brigando, pois Cebolinha sempre quer roubar o coelhinho dela e se tornar o dono da rua. Nesta tirinha qual personagem propõem uma trégua?

- A) Mônica
- B) Cebolinha
- C) Mônica e Cebolinha
- D) Nenhum

### QUESTÃO 2

A tirinha fica engraçada quando...

- A) Mônica corre atrás do Cebolinha com o tabuleiro de xadrez.
- B) Cebolinha fala para resolver as diferenças com inteligência.
- C) Mônica e Cebolinha brincam de pega-pega.
- D) O Cebolinha propõe o jogo.

### QUESTÃO 3

No terceiro quadrinho na fala do Cebolinha "Que tal com um **tabuleiro** de **xadrez**" a escrita correta das palavras seguindo as normas ortográfica da língua é:

- A) rabuleito/xadrez
- B) tabuleiro/xadrez
- C) tabuleiro/xadlez
- D) tabureiro/xadrez

### QUESTÃO 4

"Emprega-se a letra inicial maiúscula nos substantivos próprios." Qual das palavras abaixo segue esta regra?

- A) Dum
- B) Inteligente
- C) Mônica
- D) Nossas


### QUESTÃO 5

Quantas sílabas tem a palavra **TABULEIRO**?

- A) 3 sílabas
- B) 2 sílabas
- C) 4 sílabas
- D) 1 sílaba

## QUESTÃO 6

Observe a imagem.



O nome da fruta representada na imagem está grafado corretamente em:

- A) mçã
- B) açã
- C) maça
- D) maçã

## QUESTÃO 7

Observe a placa.



A placa indica que é proibido o uso do...

- A) rádio
- B) notebook
- C) apenas do iphone
- D) celular

Leia o texto abaixo para responder às questões 8 e 9.



Fonte: <https://www.google.com.br/imghp?hl=pt-BR&tab=ri&ogbl>. Acessado em 06/02/2023.

**QUESTÃO 8**

A palavra **CONEXÃO**, tem o mesmo significado que...

- A) prosa
- B) ligação
- C) apelação
- D) rotulação

**QUESTÃO 9**

Na frase "... O **AMOR** é a maior conexão", a palavra destacada tem por antônimo, **EXCETO**:

- A) aversão
- B) raiva
- C) ódio
- D) apreço

**QUESTÃO 10**

Leia o trecho da notícia com atenção.

**"Obesidade infantil: as razões por trás do aumento de peso entre as crianças brasileiras".**

Uma em cada 10 crianças brasileiras de até 5 anos está com o peso acima do ideal.  
Por Julia Braun, BBC. 21/03/2022.

Um estudo encomendado pelo Ministério da Saúde mostrou que uma em cada 10 crianças brasileiras de até 5 anos está com o peso acima do ideal: são 7% com sobrepeso e 3% já com obesidade. O Estudo Nacional de Alimentação e Nutrição Infantil (Enani-2019), coordenado pelo Instituto de Nutrição Josué de Castro, da Universidade Federal do Rio de Janeiro (UFRJ), indica ainda que um quinto das crianças (18,6%) na mesma faixa etária estão em uma zona de risco de sobrepeso. No estudo, foram considerados indicadores de 2019, período anterior à pandemia de covid-19 e durante o qual especialistas acreditam que os indicadores possam ter piorado ainda mais devido a mudanças na rotina de alimentação, atividade física e consultas médicas.

Fonte: <https://g1.globo.com/saude/noticia/2022/03/21/obesidade-infantil-as-razoes-por-tras-do-aumento-de-peso-entre-as-criancas-brasileiras.ghtml>. Acessado em 06/02/2023.

O assunto tratado na notícia é...

- A) bullying
- B) obesidade infantil
- C) alimentação saudável
- D) incentivo à atividade física

**MATEMÁTICA****QUESTÃO 11**

120 artistas precisam ser distribuídos em grupos menores para ensaiarem uma apresentação comemorativa, sem que nenhum deles fique sem grupo. A quantidade ideal de artistas por grupo tal que não haja sobras na divisão é de:

- A) 3, 4, 5 ou 8
- B) 2, 3, 7 ou 12
- C) 3, 4, 7 ou 10
- D) 3, 5, 9 ou 12

**QUESTÃO 12**

Bernardo está se preparando para uma prova de concurso público e, para aliviar a tensão, corre no campo da cidade a cada 2 dias, nada na piscina do lago da cidade a cada 3 dias e sai para se divertir com os amigos a cada 7 dias. Se ele praticou as três atividades hoje, em quantos dias Bernardo irá realizar novamente, juntamente, às atividades de correr no campo, nadar na piscina e sair com os amigos?

- A) 12 dias
- B) 21 dias
- C) 28 dias
- D) 42 dias

**QUESTÃO 13**

Benedita, uma grande confeitadora da região, fez 240 doces que devem ser distribuídos igualmente em 15 embalagens, de modo que todas as embalagens tenham a mesma quantidade de doces. Portanto, quantos doces haverá em cada embalagem?

- A) 15 doces
- B) 16 doces
- C) 24 doces
- D) 60 doces

**QUESTÃO 14**

Sabendo que números primos são aqueles que só são divisíveis por 1 e por si mesmos, marque a alternativa abaixo que representa um número primo.

- A) 60
- B) 125
- C) 293
- D) 529

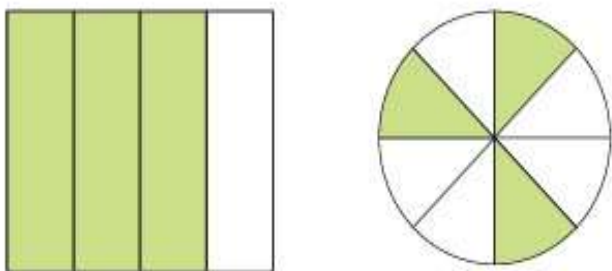
**QUESTÃO 15**

João vai ao mercado e percebe que possui cinco notas de R\$10,00, dez notas de R\$5,00, quatro notas de R\$2,00 e dez moedas de R\$1,00. Quantos reais ele tem para gastar no mercado?

- A) R\$18,00
- B) R\$73,00
- C) R\$108,00
- D) R\$118,00

**QUESTÃO 16**

As figuras abaixo representam uma situação que pode ser expressa por meio de frações.



Marque a alternativa que faz a representação fracionária das partes hachuradas das figuras.

- A)  $\frac{3}{4}$  e  $\frac{3}{8}$
- B)  $\frac{3}{4}$  e  $\frac{5}{8}$
- C)  $\frac{1}{3}$  e  $\frac{5}{8}$
- D)  $\frac{3}{4}$  e  $\frac{3}{5}$

**QUESTÃO 17**

Uma empresa possuía 120 funcionários. Devido a uma crise financeira, foi necessário demitir 15% dos seus colaboradores. Após as demissões, a empresa ficou com um quadro de funcionários igual a:

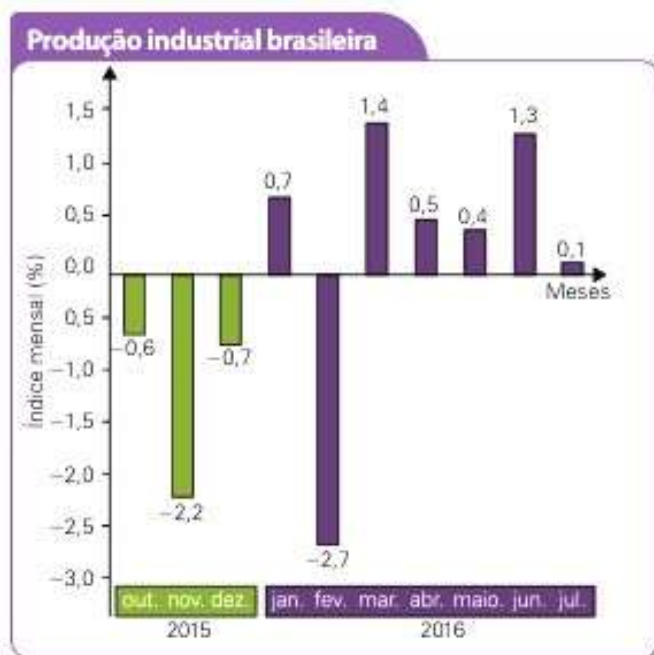
- A) 15 funcionários
- B) 18 funcionários
- C) 102 funcionários
- D) 105 funcionários

**QUESTÃO 18**

Maria quer fazer um bordado ao longo do contorno de um forro de mesa que possui 120 cm de largura e 160 cm de comprimento. Em quantos metros desse forro de mesa, no mínimo, foi feito esse bordado?

- A) 1,2 m
- B) 1,4 m
- C) 2,6 m
- D) 5,2 m

Observe o gráfico a seguir e responda às questões 19 e 20.



Fonte: CAOLI, Cristiane e CAVALLINI, Marta. A produção da indústria tem resultado positivo pelo 5o mês seguido, diz IBGE. G1. Disponível em: <<http://g1.globo.com/economia/noticia/2016/09/producao-daindustria-cresce-01-em-julho-diz-ibge.html>>. Acesso em: 11 fev. 2023.

#### QUESTÃO 19

Em qual mês e ano a produção industrial brasileira teve o seu menor índice?

- A) Julho de 2016
- B) Fevereiro de 2016
- C) Dezembro de 2015
- D) Maio de 2016

#### QUESTÃO 20

Qual foi o período em que a produção teve um maior crescimento?

- A) Fevereiro de 2016
- B) Junho de 2016
- C) Outubro de 2015
- D) Março de 2016