

AVANÇASP



PREFEITURA MUNICIPAL DE  
ARAÇARIGUAMA

CONCURSO PÚBLICO  
02/2024

# MÉDICO GINECOLOGISTA

## Leia atentamente as instruções abaixo

### 1. PROVA E FOLHA DE RESPOSTAS

• Além deste Caderno de Prova, contendo 50 (cinquenta) questões objetivas, você receberá do Fiscal de Sala:

• 01 (uma) Folha de Respostas destinada às respostas das questões objetivas. Confira se seus dados estão corretos.

### 2. TEMPO

• 03 (três) horas é o tempo disponível para realização da prova, já incluído o tempo para marcação da Folha de Respostas da prova objetiva;

• **01 (uma) hora** após o início da prova é possível, retirar-se da sala levando o caderno de prova;

### 3. INFORMAÇÕES GERAIS

• As questões objetivas têm 05 (cinco) alternativas de resposta (A, B, C, D, E) e somente **uma** delas está correta;

• Verifique se seu caderno está completo, sem repetição de questões ou falhas. Caso contrário, informe imediatamente o Fiscal da Sala, para que sejam tomadas as devidas providências;

• Confira seus dados pessoais na Folha de Respostas, especialmente nome, número de inscrição e documento de identidade e leia atentamente as instruções para preenchimento;

• O preenchimento das respostas da prova objetiva é de sua responsabilidade e não será permitida a troca de Folha de Respostas em caso de erro de marcação pelo candidato;

• Marque, na folha de respostas, com caneta de tinta azul ou preta, a letra correspondente à alternativa que você escolheu.

• Reserve tempo suficiente para o preenchimento de suas respostas. Para fins de avaliação, serão levadas em consideração apenas as marcações realizadas na Folha de Respostas da prova objetiva, não sendo permitido anotar informações relativas às respostas em qualquer outro meio que não seja o caderno de prova;

• Ao se retirar, entregue a Folha de Respostas preenchida e assinada ao Fiscal de Sala.

### SERÁ ELIMINADO do presente certame o candidato que:

a) for surpreendido, durante as provas, em qualquer tipo de comunicação com outro candidato;

b) portar ou usar, qualquer tipo de aparelho eletrônico (calculadoras, bips/pagers, câmeras fotográficas, filmadoras, telefones celulares, smartphones, tablets, relógios, walkmans, MP3 players, fones de ouvido, agendas eletrônicas, notebooks, palmtops ou qualquer outro tipo de computador portátil, receptores ou gravadores) seja na sala de prova, sanitários, pátios ou qualquer outra dependência do local de prova;

c) se ausentar da sala em que se realizam as provas levando consigo o Caderno de Questões e/ou a Folha de Respostas;

d) se recusar a entregar a Folha de Respostas, quando terminar o tempo estabelecido;

e) não assinar a Lista de Presença e/ou a Folha de Respostas.

CADERNO DE QUESTÕES

PROVA OBJETIVA

---

**LÍNGUA PORTUGUESA**

---

**TEXTO**

---

**Leia o texto para responder às questões de 1 a 6.**

**Daqui a 25 anos**

Perguntaram-me uma vez se eu saberia calcular o Brasil daqui a vinte e cinco anos. Nem daqui a vinte e cinco minutos, quanto mais vinte e cinco anos. Mas a impressão-desejo é a de que num futuro não muito remoto talvez compreendamos que os movimentos caóticos atuais já eram os primeiros passos afinando-se e orquestrando-se para uma situação econômica mais digna de um homem, de uma mulher, de uma criança. E isso porque o povo já tem dado mostras de ter maior maturidade política do que a grande maioria dos políticos, e é quem um dia terminará liderando os líderes. Daqui a vinte e cinco anos o povo terá falado muito mais.

Mas se não sei prever, posso pelo menos desejar. Posso intensamente desejar que o problema mais urgente se resolva: o da fome. Muitíssimo mais depressa, porém, do que em vinte e cinco anos, porque não há mais tempo de esperar: milhares de homens, mulheres e crianças são verdadeiros moribundos ambulantes que tecnicamente deviam estar internados em hospitais para subnutridos. Tal é a miséria, que se justificaria ser decretado estado de prontidão, como diante de calamidade pública. Só que é pior: a fome é a nossa endemia, já está fazendo parte orgânica do corpo e da alma. E, na maioria das vezes, quando se descrevem as características físicas, morais e mentais de um brasileiro, não se nota que na verdade se estão descrevendo os sintomas físicos, morais e mentais da fome. Os líderes que tiverem como meta a solução econômica do problema da comida serão tão abençoados por nós como, em comparação, o mundo abençoará os que descobrirem a cura do câncer.

**LISPECTOR, C.** *A descoberta do mundo*. Rio de Janeiro: Nova Fronteira, 1984.

---

**QUESTÃO 01**

---

Dentre as afirmativas a seguir, aquela que está em conformidade com o texto apresentado é:

- (A) A solução para a fome é mais importante do que a cura do câncer.
- (B) O mundo está mais preocupado com a cura do câncer do que com a fome.
- (C) A fome é endêmica porque constitui um problema recorrente no Brasil.
- (D) A imaturidade política é causada pela fome.
- (E) Os estragos causados pela fome são semelhantes àqueles causados pelo câncer.

---

**QUESTÃO 02**

---

Analise os excertos a seguir, retirados do texto, e assinale a alternativa em que ocorre um pronome demonstrativo, que atua como elemento de coesão referencial.

- (A) Posso intensamente desejar que o problema mais urgente se resolva: o da fome.
- (B) Perguntaram-me uma vez se eu saberia calcular o Brasil daqui a vinte e cinco anos.
- (C) Mas se não sei prever, posso pelo menos desejar.
- (D) Daqui a vinte e cinco anos o povo terá falado muito mais.
- (E) Só que é pior: a fome é a nossa endemia, já está fazendo parte orgânica do corpo e da alma.

---

**QUESTÃO 03**

---

O significado da palavra ‘moribundos’, no trecho “*milhares de homens, mulheres e crianças são verdadeiros moribundos ambulantes...*”, se relaciona a:

- (A) morte.
- (B) ignorância.
- (C) vigor.
- (D) esperança.
- (E) veemência.

**QUESTÃO 04**

Analise as construções “*perguntaram-me*” e “*afastando-se*”, que ocorrem no texto. Assinale a alternativa que classifica corretamente o tipo de pronome e a colocação pronominal que apresentam.

- (A) pronome pessoal do caso oblíquo átono, em ênclise.
- (B) pronome pessoal do caso oblíquo tônico, em ênclise.
- (C) pronome pessoal do caso oblíquo átono, em próclise.
- (D) pronome pessoal do caso oblíquo tônico, em próclise.
- (E) pronome pessoal do caso reto, em ênclise.

**Considere o excerto a seguir para responder às questões 5 e 6:**

*“Muitíssimo mais depressa, porém, do que em vinte e cinco anos, porque não há mais tempo de esperar...”*

**QUESTÃO 05**

Analise os conjuntos de palavras a seguir, que ocorrem no excerto dado. Assinale a alternativa em que todas as palavras indicadas são advérbios.

- (A) *muitíssimo; mais; não; há.*
- (B) *depressa; porém; tempo; porque.*
- (C) *muitíssimo; mais; depressa; não.*
- (D) *tempo; porque; porém.*
- (E) *mais; não; porque.*

**QUESTÃO 06**

No contexto apresentado, a palavra “*que*” atua como uma conjunção:

- (A) integrante.
- (B) causal.
- (C) comparativa.
- (D) consecutiva.
- (E) adversativa.

**QUESTÃO 07**

Dentre as palavras a seguir, aquela que apresenta um sufixo que indica grau aumentativo é:

- (A) radícula.
- (B) cristianismo.
- (C) beijoleta.
- (D) livreco.
- (E) riacho.

**QUESTÃO 08**

O emprego do acento indicativo de crase está correto em:

- (A) Ofereça um café à ela.
- (B) Pintou à Picasso.
- (C) Escreva primeiro à lápis.
- (D) Não volte à essa hora.
- (E) Você deve aprender à esperar.

**QUESTÃO 09**

Analise as sentenças a seguir e assinale a alternativa em que o verbo empregado é irregular.

- (A) O incenso queimava por horas.
- (B) Ele pôs seu nome na lista de doadores de mantimentos.
- (C) Nós almoçamos em um restaurante italiano.
- (D) Sabrina adora livros de romance.
- (E) Não conheço este lugar.

**QUESTÃO 10**

Analise as sentenças a seguir e assinale a alternativa em que o adjetivo se apresenta no grau superlativo relativo.

- (A) Anastácia é tão linda quanto sua irmã mais velha.
- (B) Fátima está paupérrima, após ter sido demitida.
- (C) A livraria está belíssima com esses lustres.
- (D) Aquele pesquisador é o mais preparado da equipe.
- (E) Os quitutes estão muito deliciosos.

**MATEMÁTICA E RACIOCÍNIO LÓGICO**

**QUESTÃO 11**

Em um clube de xadrez há dois tipos de frequentadores: iniciantes e mestres. O clube notou que este ano há o dobro de frequentadores em relação ao ano passado, e que a razão entre mestres e iniciantes no ano passado era de 1/10 e passou a ser de 1/5 este ano. Se no ano passado havia 24 mestres, quantos mestres há esse ano?

- (A) 56.
- (B) 96.
- (C) 88.
- (D) 48.
- (E) 36.

**QUESTÃO 12**

Uma empresa faturou em outubro 1 milhão de reais, e em novembro faturou 20% a mais que em outubro, porém em dezembro, devido a campanhas de *marketing* malsucedidas, o faturamento caiu 40% em relação a novembro. Com isso, qual foi o valor faturado em dezembro?

- (A) R\$ 800.000,00.
- (B) R\$ 720.000,00.
- (C) R\$ 80.000,00.
- (D) R\$ 72.000,00.
- (E) R\$ 600.000,00.

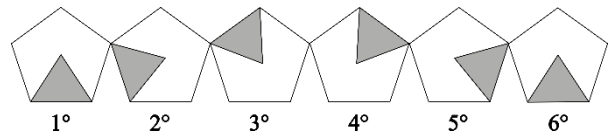
**QUESTÃO 13**

Considere que um determinado ano tem 365 dias e que o ano em questão começou numa segunda-feira (01 de janeiro). Se uma pessoa lê 10 páginas por dia somente em dias de semana (ou seja, excluindo-se os finais de semana), começando do primeiro dia do ano, até o último dia do ano, estes inclusos, quantas páginas ela terá lido?

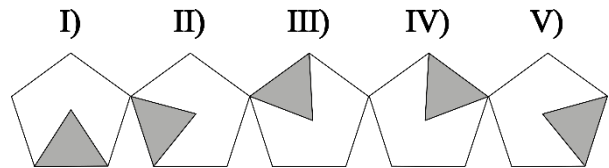
- (A) 2110.
- (B) 2540.
- (C) 2550.
- (D) 2600.
- (E) 2610.

**QUESTÃO 14**

Observe o padrão lógico mostrado na figura a seguir:



A sequência continua indefinidamente seguindo o mesmo padrão lógico. Dentre as correspondências abaixo, qual delas representa o 2024º elemento da sequência?



- (A) I.
- (B) II.
- (C) III.
- (D) IV.
- (E) V.

**QUESTÃO 15**

Joana compra um saco de ração de 20 kg para o seu cachorro e é suficiente para 15 dias. Ela então decide ter outro cachorro, que come por dia metade do que o primeiro cachorro come. Com os dois cachorros, quantos dias o saco de ração durará?

- (A) 10.
- (B) 12.
- (C) 15.
- (D) 16.
- (E) 18.

**QUESTÃO 16**

A média das idades de uma determinada turma de estudantes é 22 anos. Sabendo-se que a proporção entre homens e mulheres dessa turma é de  $\frac{4}{5}$ , e que a soma das idades de todas as pessoas da turma é 1980 anos, quantas mulheres há nessa turma?

- (A) 40.
- (B) 50.
- (C) 45.
- (D) 55.
- (E) 65.

**QUESTÃO 17**

Um mural é feito com dois tipos de cerâmica, chamadas de tipo A e tipo B. Todas as cerâmicas de um mesmo tipo têm áreas iguais. O artista percebe que se ele utilizar 10 cerâmicas do tipo A e 15 cerâmicas do tipo B, juntas, ele consegue cobrir uma área de  $260 \text{ cm}^2$ , e se ele utilizar 10 cerâmicas do tipo B e 15 cerâmicas do tipo A, juntas, ele consegue cobrir uma área de  $240 \text{ cm}^2$ . Com base nessas informações, a área de cada cerâmica do tipo A é:

- (A)  $8 \text{ cm}^2$ .
- (B)  $10 \text{ cm}^2$ .
- (C)  $12 \text{ cm}^2$ .
- (D)  $14 \text{ cm}^2$ .
- (E)  $16 \text{ cm}^2$ .

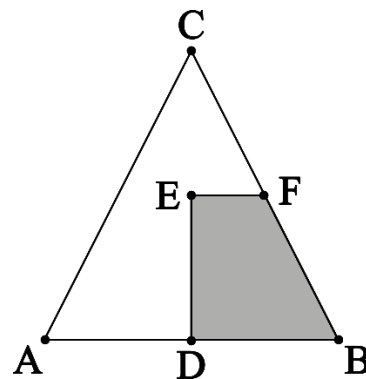
**QUESTÃO 18**

Numa aplicação a juro simples, um investidor aplicou um capital inicial de  $C$  e recebe um valor  $J$  de juro num determinado tempo  $t$ . Se ele tivesse aplicado um capital que fosse o dobro do capital inicial, mas cuja taxa de juro fosse  $\frac{1}{4}$  da taxa anterior, quanto tempo ele teria que ter esperado para receber o mesmo valor de juro  $J$ ?

- (A)  $\frac{t}{4}$ .
- (B)  $\frac{t}{2}$ .
- (C)  $t$ .
- (D)  $2t$ .
- (E)  $4t$ .

**QUESTÃO 19**

O triângulo abaixo é isóscele de forma que a medida da sua altura é igual a medida da sua base:



Sabendo-se que o segmento DE é metade da altura, e que o segmento EF é paralelo ao segmento AB, então qual fração a área sombreada representa da área total do triângulo ABC?

- (A)  $\frac{5}{16}$ .
- (B)  $\frac{1}{8}$ .
- (C)  $\frac{1}{4}$ .
- (D)  $\frac{3}{16}$ .
- (E)  $\frac{3}{8}$ .

**QUESTÃO 20**

Os saltos ornamentais são praticados numa piscina com, no mínimo, 5 metros de profundidade para evitar que os atletas colidam com o fundo da piscina durante o salto. Considerando uma piscina com formato de um prisma retangular reto, cuja área da base é 50 metros quadrados e a altura é 5 metros, qual o volume comportado, em litros, pela piscina quando cheia?

- (A) 250.
- (B) 2.500.
- (C) 25.000.
- (D) 250.000.
- (E) 2.500.000.

---

**NOÇÕES DE INFORMÁTICA**  
**QUESTÃO 21**

---

O Windows 7 é uma das versões do sistema operacional desenvolvido pela Microsoft.

No Windows 7, qual é a pasta padrão para acessar os arquivos baixados da internet:

- (A) AppData.
- (B) TMP.
- (C) TEMP.
- (D) Jsistem.
- (E) Downloads.

---

**QUESTÃO 22**

---

Atalhos de teclado são teclas ou combinações de teclas que apresentam uma maneira alternativa de fazer algo que normalmente seria feito com um mouse.

No Windows a tecla de atalho **Ctrl + Shift + Esc** tem a função de:

- (A) Abrir o gerenciador de tarefas.
- (B) Abrir o painel de comandos.
- (C) Abrir o Notepad++.
- (D) Criar uma nota autoadesiva.
- (E) Abrir as configurações do teclado.

---

**QUESTÃO 23**

---

O Microsoft Word é um aplicativo de processamento de texto que permite aos usuários criar, editar e formatar documentos.

Na versão 2019 do Microsoft Word, temos entre as funcionalidades presentes nativamente na guia “Revisão” a opção de:

- (A) Alinhar o texto à esquerda.
- (B) Ler em voz alta o texto produzido.
- (C) Inserir gráficos.
- (D) Alterar a fonte do texto.
- (E) Alterar o sombreamento do texto.

---

**QUESTÃO 24**

---

O Microsoft Word pode contar o número de palavras em um documento enquanto você digita. Essa quantidade de palavras será apresentada em qual dos locais descritos a seguir:

- (A) Faixa de observações.
- (B) Faixa de opções.
- (C) Barra de Acesso Rápido.
- (D) Barra de Status.
- (E) Barra de rolagem.

---

**QUESTÃO 25**

---

Utilizar um teclado externo com atalhos de teclado do Excel ajuda os profissionais a trabalharem de forma mais eficiente.

No Excel 2019, ao deixar o cursor sobre uma das células e acionar o comando **Ctrl+I** (um), o resultado será:

- (A) A exclusão da célula.
- (B) A abertura da caixa de diálogo “Formatar Célula”.
- (C) A inserção de anotações na célula.
- (D) A possibilidade de copiar a célula selecionada.
- (E) A possibilidade de aplicar formatação em tachado.

---

**CONHECIMENTOS ESPECÍFICOS**

---

**QUESTÃO 26**

---

A artéria uterina é responsável pela principal irrigação sanguínea do útero. Durante uma histerectomia, é importante identificar e ligar a artéria uterina corretamente para evitar lesões aos órgãos adjacentes. É a relação anatômica correta entre a artéria uterina e o ureter no ligamento cardinal:

- (A) A artéria uterina cruza anterior e superiormente ao ureter.
- (B) A artéria uterina cruza posterior e inferiormente ao ureter.
- (C) A artéria uterina corre paralela ao ureter, sem cruzá-lo.
- (D) A artéria uterina cruza lateral e superiormente ao ureter.
- (E) A artéria uterina cruza medial e inferiormente ao ureter.

**QUESTÃO 27**

Os músculos do assoalho pélvico desempenham um papel importante na continência urinária e no suporte dos órgãos pélvicos. Qual dos músculos abaixo faz parte do complexo do levantador do ânus?

- (A) Músculo isquiocavernoso.
- (B) Músculo bulboesponjoso.
- (C) Músculo pubococcígeo.
- (D) Músculo transverso superficial do períneo.
- (E) Músculo glúteo máximo.

**QUESTÃO 28**

Os ductos paramesonéfricos (Müllerianos) são estruturas embrionárias que originam a maior parte dos órgãos genitais femininos internos. Selecione qual condição clínica está associada à fusão incompleta dos ductos Müllerianos:

- (A) Útero septado.
- (B) Útero unicorno.
- (C) Útero bicorno.
- (D) Síndrome de Asherman.
- (E) Síndrome de Rokitansky.

**QUESTÃO 29**

A síndrome de Rokitansky (agenesia Mülleriana) é uma anomalia congênita caracterizada pela ausência do desenvolvimento do útero e do terço superior da vagina. Indique qual outra estrutura genital feminina geralmente se desenvolve normalmente nessas pacientes:

- (A) Ovários.
- (B) Tubas uterinas.
- (C) Colo do útero.
- (D) Períneo.
- (E) Lábios menores.

**QUESTÃO 30**

Analise as afirmativas abaixo sobre a fisiologia do ciclo menstrual e indique a correta:

- (A) A fase folicular é caracterizada pelo desenvolvimento do folículo dominante e produção crescente de estrogênio.
- (B) O pico de hormônio luteinizante (LH) ocorre durante a fase lútea e induz a ovulação.
- (C) A progesterona é produzida principalmente pelos folículos ovarianos antes da ovulação.
- (D) A fase lútea é mantida pelo corpo lúteo, que produz altos níveis de estrogênio e progesterona.
- (E) O espessamento endometrial é regulado principalmente pelo estrogênio durante a fase proliferativa.

**QUESTÃO 31**

Em relação à endocrinologia do aparelho genital feminino, é correto afirmar que:

- (A) O hipotálamo produz o hormônio folículo estimulante (FSH) e o hormônio luteinizante (LH).
- (B) A prolactina é secretada principalmente pelos ovários e regula a produção de estrogênio.
- (C) A inibina é um hormônio produzido pelo corpo lúteo e inibe a secreção de FSH.
- (D) A globulina ligadora de hormônios sexuais (SHBG) é produzida pelo hipotálamo e facilita o transporte de estrogênio.
- (E) A insulina desempenha um papel importante na regulação do eixo hipotálamo-hipófise-ovário.



**QUESTÃO 32**

Sobre as manifestações clínicas associadas às alterações do ciclo menstrual, é correto afirmar:

- (A) A amenorreia hipotalâmica é frequentemente associada a ganho de peso e hirsutismo.
- (B) A dismenorreia primária está relacionada a alterações ovulatórias e níveis elevados de prostaglandinas.
- (C) A síndrome do ovário policístico é caracterizada por ciclos menstruais regulares e ovulação normal.
- (D) A tensão pré-menstrual é causada por deficiência de estrogênio na fase lútea.
- (E) A endometriose é uma condição benigna e não está associada a ciclos menstruais abundantes.

**QUESTÃO 33**

Em relação à fisiologia da resposta sexual feminina, analise as afirmativas abaixo:

- (A) A fase de platô é caracterizada pelo aumento da lubrificação vaginal e tumescência dos órgãos genitais.
- (B) A vasocongestão do tecido erétil clitoridiano é mediada principalmente pela prolactina.
- (C) O orgasmo é desencadeado pela contração involuntária do músculo isquiocavernoso.
- (D) A fase de resolução é marcada pelo retorno imediato dos níveis hormonais ao estado basal.
- (E) A testosterona desempenha um papel crucial na libido e na excitação sexual feminina.

**QUESTÃO 34**

No climatério, ocorre uma diminuição gradual na produção de hormônios sexuais femininos. Qual das alterações endócrinas abaixo é mais característica do período pós-menopausa?

- (A) Aumento dos níveis séricos de estradiol.
- (B) Aumento dos níveis séricos de hormônio luteinizante (LH).
- (C) Diminuição dos níveis séricos de hormônio folículo-estimulante (FSH).
- (D) Aumento dos níveis séricos de globulina transportadora de hormônios sexuais (SHBG).
- (E) Diminuição dos níveis séricos de testosterona livre.

**QUESTÃO 35**

Durante a puberdade, ocorre um aumento progressivo na secreção de hormônios gonadotróficos e sexuais. É o primeiro sinal clínico geralmente observado na puberdade feminina:

- (A) Menarca.
- (B) Aumento do crescimento estatural.
- (C) Início da ovulação regular.
- (D) Telarca.
- (E) Pubarca.



**QUESTÃO 36**

A síndrome da insensibilidade completa aos andrógenos (SICA) é uma condição de intersexualidade caracterizada por resistência à ação dos andrógenos. Qual é o cariótipo e a apresentação clínica mais comuns nessa síndrome?

- (A) 46,XX com genitália feminina e ovários normais.
- (B) 46,XY com genitália feminina e ausência de pêlos pubianos.
- (C) 46,XY com genitália ambígua e útero hipoplásico.
- (D) 46,XX com genitália ambígua e desenvolvimento mamário normal.
- (E) 47,XXY com genitália masculina e testículos atróficos.

**QUESTÃO 37**

Na hiperplasia adrenal congênita (HAC), o diagnóstico precoce pode ser feito por meio da dosagem de hormônios específicos. Qual dos exames laboratoriais abaixo é considerado o mais adequado para o diagnóstico da forma clássica da HAC causada pela deficiência de 21-hidroxilase?

- (A) Dosagem de sulfato de desidroepiandrosterona (DHEA-S).
- (B) Dosagem de 17-hidroxiprogesterona (17-OHP).
- (C) Dosagem de aldosterona sérica.
- (D) Dosagem de cortisol livre na urina de 24 horas.
- (E) Dosagem de testosterona total.

**QUESTÃO 38**

Em um hospital de referência em ginecologia, uma paciente de 32 anos de idade chega ao pronto-socorro apresentando dor abdominal intensa e sangramento vaginal. Após a realização de exames iniciais, é diagnosticada com gravidez ectópica. A equipe médica, ciente dos riscos associados a essa condição, inicia imediatamente o planejamento do tratamento.

Considerando a situação descrita, qual das alternativas a seguir apresenta a abordagem mais adequada para o diagnóstico e a conduta a ser adotada diante de um caso de gravidez ectópica?

- (A) Diante do diagnóstico de gravidez ectópica, a intervenção cirúrgica imediata por laparoscopia é a única opção terapêutica viável para evitar complicações graves, como a ruptura tubária.
- (B) Após o diagnóstico de gravidez ectópica, é fundamental realizar uma ultrassonografia transvaginal para confirmar a localização do embrião e, em seguida, administrar metotrexato para induzir a resolução da gravidez.
- (C) Ao identificar uma gravidez ectópica, é necessário realizar uma abordagem conservadora, monitorando a paciente com exames de sangue seriados para verificar os níveis de hormônio beta-hCG até a resolução espontânea da gravidez.
- (D) Diante da gravidez ectópica, é fundamental realizar uma laparotomia de emergência para remover o embrião e a trompa afetada, seguida de um acompanhamento rigoroso pós-operatório para prevenir complicações.
- (E) Após o diagnóstico de gravidez ectópica, a conduta inicial deve ser a administração de metotrexato, seguida de monitoramento clínico e laboratorial para garantir a eficácia do tratamento e a segurança da paciente.

**QUESTÃO 39**

Uma mulher de 29 anos chega ao pronto-socorro apresentando dor abdominal baixa e sangramento vaginal. Seu histórico clínico inclui uma gravidez ectópica anterior. A ultrassonografia transvaginal mostra uma massa anexial à direita e ausência de saco gestacional intrauterino. O teste de gravidez é positivo, com níveis de beta-hCG de 1500 mIU/mL. Após a confirmação do diagnóstico de gravidez ectópica, é a conduta mais adequada:

- (A) Aguardar até que os níveis de beta-hCG atinjam 5000 mIU/mL antes de realizar a intervenção cirúrgica.
- (B) Administrar metotrexato em dose única, seguida de monitoramento dos níveis de beta-hCG.
- (C) Realizar curetagem uterina para excluir gravidez intrauterina.
- (D) Realizar laparoscopia imediata, independentemente do quadro clínico e dos níveis de beta-hCG.
- (E) Administrar metotrexato apenas após a realização de laparoscopia para confirmação do diagnóstico.

**QUESTÃO 40**

Em relação aos fenômenos mecânicos do parto, analise as afirmativas abaixo e indique a correta:

- (A) A descida é o movimento pelo qual o polo fetal desce através do canal de parto, sendo determinada pela contração uterina e impulsão abdominal.
- (B) A deflexão é o movimento pelo qual a apresentação fetal se adapta ao estreito superior da pelve, ocorrendo antes da descida.
- (C) A rotação interna ocorre após a descida completa, quando a apresentação fetal rotaciona para se colocar na posição ântero-posterior.
- (D) A expulsão é o movimento pelo qual o polo fetal atravessa o estreito inferior da pelve, sendo facilitada pela rotação externa.
- (E) A restituição é o movimento pelo qual a apresentação fetal retorna à sua posição original após a expulsão.

**QUESTÃO 41**

Sobre os fenômenos plásticos do parto, é correto afirmar:

- (A) A plasticidade óssea fetal é essencial para permitir a moldagem da apresentação durante o parto.
- (B) A cabeça fetal não apresenta áreas de menor resistência, o que dificulta sua modelagem durante o parto.
- (C) O amolecimento dos tecidos moles maternos é um fenômeno plástico que favorece a passagem do concepto pelo canal de parto.
- (D) A formação da bossa serossanguínea é um fenômeno plástico que ocorre na apresentação fetal durante o parto.
- (E) A plasticidade óssea materna é um fenômeno importante que facilita a abertura do estreito superior da pelve.

**QUESTÃO 42**

Em relação à analgesia e anestesia no parto, é correto afirmar que:

- (A) O bloqueio pudendo bilateral é uma técnica analgésica indicada para o alívio da dor durante o primeiro período do parto.
- (B) A raquianestesia é uma técnica anestésica que promove alívio da dor durante todo o período expulsivo.
- (C) O uso de opioides parenterais é contraindicado durante o trabalho de parto devido ao risco de depressão respiratória fetal.
- (D) A analgesia peridural é considerada a técnica mais eficaz para o alívio da dor durante o trabalho de parto e o parto.
- (E) O uso de anestésicos locais por via peridural é contraindicado durante o período expulsivo devido ao risco de paralisia muscular materna.

**QUESTÃO 43**

A placenta acreta é uma complicação obstétrica caracterizada pela invasão anormal da placenta no miométrio. Em relação à decidação, é a característica histológica mais associada à placenta acreta:

- (A) Presença de tecido decidual hipertrófico entre a placenta e o miométrio.
- (B) Ausência parcial ou total de camada de Nitabuch entre a placenta e o miométrio.
- (C) Invasão da camada basal da decidua pelo citotrofoblasto.
- (D) Espessamento da camada esponjosa da decidua basal.
- (E) Espessamento da camada compacta da decidua capsular.

**QUESTÃO 44**

A placenta prévia é uma condição em que a placenta se implanta sobre ou próxima ao colo do útero. Qual é o subgrupo de placenta prévia que é mais associado a hemorragia obstétrica severa e requer geralmente cesariana para o parto?

- (A) Placenta prévia marginal.
- (B) Placenta prévia parcial.
- (C) Placenta prévia central total.
- (D) Placenta prévia lateral.
- (E) Placenta prévia velamentosa.

**QUESTÃO 45**

A artéria umbilical única (AUU) é uma anomalia congênita do cordão umbilical associada a malformações fetais. Em um cordão umbilical com AUU, quantos vasos sanguíneos são normalmente encontrados?

- (A) Dois vasos: uma artéria e uma veia.
- (B) Dois vasos: duas artérias.
- (C) Três vasos: duas artérias e uma veia.
- (D) Um vaso: uma veia única.
- (E) Quatro vasos: três artérias e uma veia.

**QUESTÃO 46**

A inserção velamentosa do cordão umbilical é uma condição rara que pode ser associada a complicações obstétricas. É a característica anatômica dessa condição:

- (A) As artérias e veia umbilicais se ramificam dentro das membranas antes de atingir a placental.
- (B) O cordão umbilical se insere diretamente na decidua basal sem contato com a placenta.
- (C) O cordão umbilical é composto por duas artérias e duas veias.
- (D) O cordão umbilical se insere na porção mais baixa da placenta, próximo ao colo uterino.
- (E) O cordão umbilical se insere diretamente no saco vitelino.

**QUESTÃO 47**

Em relação aos métodos de estudo em epidemiologia, analise as afirmativas abaixo e indique a correta:

- (A) Os estudos ecológicos analisam dados agregados de populações e são adequados para estabelecer relações causais.
- (B) Os estudos de coorte prospectivos acompanham indivíduos ao longo do tempo para avaliar a ocorrência de desfechos de interesse.
- (C) Os estudos caso-controle são retrospectivos e avaliam a exposição em indivíduos com e sem a doença em estudo.
- (D) Os ensaios clínicos randomizados são considerados o padrão-ouro para avaliar a eficácia de intervenções terapêuticas.
- (E) Os estudos transversais são adequados para estimar a incidência de doenças em uma população.

**QUESTÃO 48**

Sobre as medidas de associação utilizadas em estudos epidemiológicos, é correto afirmar que:

- (A) A razão de chances (odds ratio) é uma medida de risco utilizada em estudos de coorte.
- (B) O risco relativo é uma medida de frequência adequada para estudos caso-controle.
- (C) O risco atribuível populacional é uma medida de impacto utilizada para quantificar a contribuição de fatores de risco.
- (D) A razão de prevalências é uma medida de associação apropriada para estudos transversais.
- (E) O hazard ratio é uma medida de sobrevivência utilizada em estudos de coorte prospectivos.

**QUESTÃO 49**

Qual das alternativas abaixo apresenta um indicador de saúde adequado para avaliar a qualidade da atenção pré-natal em uma determinada região?

- (A) Taxa de mortalidade infantil.
- (B) Expectativa de vida ao nascer.
- (C) Coeficiente de mortalidade materna.
- (D) Proporção de nascidos vivos de mães com sete ou mais consultas de pré-natal.
- (E) Taxa de prevalência de doenças crônicas na população.

**QUESTÃO 50**

Em um estado brasileiro com histórico de forte centralização na gestão do SUS, a implementação de um novo modelo de descentralização visou ampliar a autonomia dos municípios na gestão das ações de saúde e fortalecer a participação da sociedade civil. O modelo, baseado em diretrizes nacionais e pactuações interfederativas, transferiu responsabilidades e recursos para os municípios, incentivando a elaboração de planos de saúde locais e a criação de conselhos municipais de saúde com ampla participação popular. Após cinco anos da implementação do novo modelo, observam-se avanços em algumas regiões, como a melhora na qualidade da atenção básica à saúde e a maior efetividade na utilização dos recursos. No entanto, persistem desafios, como a disparidade na capacidade de gestão entre os municípios, a insuficiência de recursos financeiros e a fragilidade dos mecanismos de controle social. Diante desse cenário, indique qual alternativa apresenta a análise mais adequada da descentralização do SUS em ação, considerando os resultados alcançados e os desafios persistentes:

- (A) A descentralização demonstrou potencial limitado para fortalecer a autonomia local e a participação social, uma vez que os desafios persistentes indicam a necessidade de maior centralização e controle por parte das esferas estadual e federal.
- (B) O fracasso em algumas regiões comprova a inviabilidade da descentralização, sugerindo a necessidade de retorno ao modelo centralizado de gestão do SUS, com maior controle e coordenação por parte do governo estadual.
- (C) A piora na qualidade da atenção básica à saúde evidencia o impacto negativo da descentralização, revelando a necessidade de fortalecer os mecanismos de controle centralizados e a revisão das pactuações interfederativas.
- (D) Os resultados negativos demonstram a ineficácia da participação social e da autonomia local, exigindo a revisão imediata do modelo de descentralização, com foco na retomada da gestão centralizada em nível estadual.
- (E) O cenário ilustra a complexa dinâmica da descentralização do SUS, com avanços e desafios interligados, demonstrando a necessidade de um debate contínuo sobre o modelo de gestão, buscando soluções inovadoras para os problemas de saúde pública e garantindo a equidade e a efetividade das ações.

