

PREFEITURA MUNICIPAL DE SANTO ANDRÉ
ESTADO DE SÃO PAULO

CONCURSO PÚBLICO

073. PROVA OBJETIVA

AUDITOR DE CONTROLE INTERNO

- ◆ Você recebeu sua folha de respostas, este caderno, contendo 50 questões objetivas, e o caderno de prova dissertativa.
- ◆ Confira seus dados impressos na capa deste caderno e na folha de respostas.
- ◆ Quando for permitido abrir o caderno, verifique se está completo ou se apresenta imperfeições. Caso haja algum problema, informe ao fiscal da sala para a devida substituição desse caderno.
- ◆ Leia cuidadosamente todas as questões e escolha a resposta que você considera correta.
- ◆ Marque, na folha de respostas, com caneta de tinta preta, a letra correspondente à alternativa que você escolheu.
- ◆ A duração das provas objetiva e dissertativa é de 5 horas, já incluído o tempo para o preenchimento da folha de respostas e para a transcrição da resposta definitiva.
- ◆ Só será permitida a saída definitiva da sala e do prédio após transcorridos 75% do tempo de duração das provas.
- ◆ Deverão permanecer em cada uma das salas de prova os 3 últimos candidatos, até que o último deles entregue suas provas, assinando termo respectivo.
- ◆ Ao sair, você entregará ao fiscal o caderno de prova dissertativa, a folha de respostas e este caderno.
- ◆ Até que você saia do prédio, todas as proibições e orientações continuam válidas.

AGUARDE A ORDEM DO FISCAL PARA ABRIR ESTE CADERNO.

Nome do candidato _____

RG _____

Inscrição _____

Prédio _____

Sala _____

Carteira _____

CONHECIMENTOS GERAIS

LÍNGUA PORTUGUESA

Leia a tira para responder às questões de números 01 e 02.



(M. Schulz, "Minduim Charles". <https://cultura.estadao.com.br/quadrinhos>. 25.05.2023. Adaptado)

01. De acordo com a norma-padrão, as lacunas da tira devem ser preenchidas, respectivamente, com:

- (A) quiser ... esse ... têm
- (B) querer ... este ... tiver
- (C) quer ... o ... têm
- (D) querer ... esse ... tem
- (E) quiser ... este ... tiver

02. O pensamento do cachorro – Senso de humor esquisito! – refere-se

- (A) à sua própria indiferença por um lanche tão tardio.
- (B) a um horário esdrúxulo para o menino servir lanche.
- (C) à falta de solidariedade do menino com a fome canina.
- (D) à necessidade de um formulário para conseguir lanche.
- (E) à criação de uma burocracia para um lanche que não existe.

Leia o texto para responder às questões de números **03 a 10**.

Traumas do Trânsito

Entre 2011 e 2021, o número de motocicletas circulando no Brasil cresceu 64,7%, de 18 milhões para 30,3 milhões. Como se sabe e boletim do Ministério da Saúde comprova, a escalada elevou a insegurança.

Em 2011, 70,5 mil motociclistas lesionados em acidentes de trânsito foram hospitalizados (3,9 a cada 100 mil habitantes). Já em 2021, foram 115,7 mil (6,1 a cada 100 mil) – aumento de 55% em dez anos.

Apesar de o número de mortos ter permanecido quase estável no período (11,5 mil e 11,1 mil, respectivamente), ele representa 26,6% das fatalidades no tráfego em 2011 e 35,3% em 2021.

Acidentes de trânsito são grave problema de saúde pública no país que, no caso de motocicletas, atinge estratos sociais fragilizados.

Em 2021, as hospitalizações de motociclistas custaram R\$ 167 milhões ao Estado. Despesas por traumatismo cranioencefálico grave (TCE) passaram de R\$ 123,7 milhões, em 2008, para R\$ 278 milhões em 2019. Acidentes de trânsito são a principal causa de TCEs, seguidos por violência interpessoal.

Os custos não findam com a internação. Traumas geram sequelas que exigem tratamentos custosos para reabilitação e podem incapacitar o paciente por toda a vida. Ou seja, além dos gastos públicos, o país perde força laboral.

Para diminuir gastos na saúde e proteger jovens trabalhadores, é fundamental que o poder público, nas esferas municipal, estadual e federal, implemente ações de fiscalização e de conscientização que integrem órgãos de transporte, justiça, saúde e educação.

Tal orientação já consta do Plano Nacional de Redução de Mortes e Lesões no Trânsito, legislação aprovada pelo Congresso em 2018. Basta tirá-lo do papel.

(Editorial. *Folha de S.Paulo*, 31.05.2023. Adaptado)

03. Ao longo do texto, são apresentados dados numéricos com o objetivo de

- (A) mostrar como a violência no trânsito está ceifando vidas inocentes, o que exige da sociedade manifestações para que haja mudanças na leis de trânsito.
- (B) sensibilizar os leitores sobre a situação caótica no trânsito das cidades brasileiras devido ao aumento irresponsável do número de motocicletas em circulação.
- (C) enfatizar a dimensão e a complexidade do problema analisado, como os contratempos por que passam os motociclistas quando se acidentam no trânsito.
- (D) criticar as pessoas que recorrem ao Estado para obter recursos financeiros, ou seja, aquelas que se acidentam e depois deixam de trabalhar regularmente.
- (E) contestar a necessidade de discussão ampla sobre as mortes de motociclistas no trânsito das grandes cidades, pois o número de acidentes fatais está estável.

04. Nos dois primeiros parágrafos, o editorial deixa claro que

- (A) o recrudescimento de casos de motociclistas lesionados é um fator que comprova a insegurança do trânsito brasileiro.
- (B) o Ministério da Saúde divulgou um boletim cujas informações atestam a diminuição do tráfego de motociclistas nas cidades.
- (C) o número de motociclistas envolvidos em acidentes em 2021 foi maior que o de 2011, apesar de haver menos motos circulando.
- (D) o número de motos circulando no país gera uma insegurança que não se justifica em razão do número de acidentes constatados.
- (E) o boletim do Ministério da Saúde ratifica que os acidentes com motos acontecem, mas que não devem gerar insegurança social.

05. As passagens “... atinge estratos sociais fragilizados.” (4º parágrafo) e “Os custos não findam com a internação.” (6º parágrafo) podem ser interpretadas, correta e respectivamente, da seguinte forma:

- (A) Os acidentes de trânsito com motocicletas envolvem principalmente pessoas reconhecidas na sociedade. / Hospitais públicos, caso o período de internação seja longo, podem cobrar dos acidentados.
- (B) Os acidentes de trânsito com motocicletas envolvem principalmente pessoas abaladas emocionalmente. / É possível que um acidentado custe mais ao cofre público do que a internação hospitalar.
- (C) Os acidentes de trânsito com motocicletas envolvem principalmente pessoas de diferentes grupos sociais. / Os hospitais tentam limitar os custos relativos à internação de acidentados.
- (D) Os acidentes de trânsito com motocicletas envolvem principalmente pessoas de menor poder aquisitivo. / Os custos com um acidentado normalmente não se limitam à internação.
- (E) Os acidentes de trânsito com motocicletas envolvem principalmente pessoas com poucos recursos financeiros. / Os custos ficam restritos à internação inicial dos acidentados.

06. Nas passagens do 6º parágrafo “Traumas geram **sequelas...**” e “... o país perde força **laboral**”, os termos destacados significam, correta e respectivamente:

- (A) anomalias; de conciliação.
- (B) consequências; de trabalho.
- (C) limitações; recorrente.
- (D) efeitos; inalterável.
- (E) contrariedades; de lei.

07. No 3º parágrafo – **Apesar de o número de mortos ter permanecido quase estável no período** (11,5 mil e 11,1 mil, respectivamente), ele representa 26,6% das fatalidades no tráfego em 2011 e 35,3% em 2021. –, o sentido das informações e a conformidade com a norma-padrão são mantidos com a seguinte reescrita do trecho destacado:

- (A) Uma vez que o número de mortos teve permanecido quase estável no período...
- (B) Por mais que o número de mortos tem permanecido quase estável no período...
- (C) Ainda que o número de mortos tenha permanecido quase estável no período...
- (D) Para que o número de mortos tivesse permanecido quase estável no período...
- (E) Posto que o número de mortos teria permanecido quase estável no período...

08. Na frase final do texto – Basta **tirá-lo do papel**. –, a expressão destacada está empregada em sentido

- (A) figurado, criticando a legislação de trânsito existente no país.
- (B) próprio, amenizando a preocupação com uma nova legislação.
- (C) figurado, exortando a necessidade de pôr em prática a legislação.
- (D) próprio, enaltecendo as qualidades da legislação de trânsito.
- (E) figurado, questionando a validade de fazer valer a legislação.

09. A pontuação está em conformidade com a norma-padrão em:

- (A) O boletim do Ministério da Saúde comprova, que a escalada elevou a insegurança.
- (B) Com os tratamentos o país, tem aumento, nos gastos públicos, e perda da força laboral.
- (C) Os acidentes de trânsito com motocicletas, atingem estratos sociais fragilizados.
- (D) Despesas por TCE, que eram de 123,7 milhões em 2008, atingiram 278 milhões em 2019.
- (E) Foram hospitalizados, 70,5 mil motociclistas lesionados em acidentes em 2011.

10. De acordo com a norma-padrão, a lacuna em – Traumas geram sequelas que exigem tratamentos custosos para reabilitação do paciente e podem _____ para a vida profissional. – deve ser preenchida com:

- (A) lhe incapacitar
- (B) incapacitá-lo
- (C) incapacitar ele
- (D) incapacitar-lhe
- (E) incapacitar-no

Leia o poema para responder às questões de números 11 a 15.

Minha terra

Saí menino de minha terra.
Passei trinta anos longe dela.
De vez em quando me diziam:
Sua terra está completamente mudada,
Tem avenidas, arranha-céus...
É hoje uma bonita cidade!

Meu coração ficava pequenino.

Revi afinal o meu Recife.
Está de fato completamente mudado.
Tem avenidas, arranha-céus.
É hoje uma bonita cidade.

Diabo leve quem pôs bonita a minha terra!

(Manuel Bandeira, *As cidades e as musas*)

11. A diferença na pontuação dos versos “É hoje uma bonita cidade!” e “É hoje uma bonita cidade.” permite concluir corretamente que o eu lírico expressa

- (A) emoção incontrolável com a revisitação a Recife, o que se comprova com o verso: “Meu coração ficava pequenino.”
- (B) desdém pelas mudanças ocorridas em Recife, o que se comprova com o verso: “Diabo leve quem pôs bonita a minha terra!”
- (C) ojeriza por ter de estar mais uma vez em Recife, o que se comprova com o verso: “Está de fato completamente mudado.”
- (D) contentamento por visitar o seu Recife de outrora, o que se comprova com o verso: “Passei trinta anos longe dela.”
- (E) desprezo pela cidade miserável que é Recife onde nasceu há trinta anos, o que se comprova com o verso: “Tem avenidas, arranha-céus.”

12. No verso – Está de fato completamente mudado. –, as expressões “de fato” e “completamente” exprimem, correta e respectivamente, sentidos de

- (A) intensidade e meio.
- (B) dúvida e modo.
- (C) lugar e afirmação.
- (D) afirmação e intensidade.
- (E) modo e dúvida.

13. Assinale a alternativa que atende à norma-padrão de concordância nominal e de concordância verbal.

- (A) Avenidas e arranha-céus tornaram o meu Recife bonito, bastante diferente de trinta anos atrás.
- (B) Diziam para mim que, em Recife, haviam avenidas e arranha-céus maravilhosos a embelezá-la.
- (C) Ao longo de trinta anos, aconteceu mudanças em Recife, com bastante avenidas e arranha-céus.
- (D) O meu Recife, hoje, dispõem de muitas avenidas e arranha-céus esplendorosos a embelezá-lo.
- (E) Foi trinta anos longe de Recife, até rever essa cidade, com suas amplas avenidas e arranha-céus.

14. O eu lírico estava ansioso _____ rever o seu Recife e não discordou _____ quem lhe afirmara _____ a cidade estava bonita.

De acordo com a norma-padrão, as lacunas do enunciado devem ser preenchidas, respectivamente, com:

- (A) por ... de ... que
- (B) em ... com ... de que
- (C) a ... contra ... que
- (D) de ... a ... de que
- (E) com ... em ... que

15. A colocação pronominal atende à norma-padrão em:

- (A) Me diziam que Recife estava bonita e meu coração, então, ficava pequenininho.
- (B) Quando falavam-me de Recife, aludiam a suas avenidas e a seus arranha-céus.
- (C) Recife tinha transformado-se em uma cidade cheia de avenidas e arranha-céus.
- (D) Disseram que construíram-se avenidas e arranha-céus para embelezar meu Recife.
- (E) Há 30 anos deixei Recife e hoje a reencontrei transformada numa bonita cidade.

16. Uma empresa tem certo número de departamentos, e todos os funcionários da empresa participaram uma única vez de uma palestra sobre primeiros socorros. Essa palestra foi oferecida 5 vezes, e, na primeira vez, participaram 11 funcionários de cada departamento. A segunda palestra contou com a presença de 9 funcionários de cada departamento, e a terceira palestra, com 15 funcionários de cada departamento. Na quarta palestra, de metade dos departamentos, foram chamados 8 funcionários, e, da outra metade, 7 funcionários. A quinta palestra contou com a presença de todos os funcionários que ainda não tinham participado, num total de 175. Se a primeira palestra teve 21 funcionários a menos que a última, o total de funcionários dessa empresa é

- (A) 630.
- (B) 650.
- (C) 700.
- (D) 770.
- (E) 820.

17. O fluxo de veículos em certo trecho de uma via é controlado por dois semáforos que possuem apenas a luz verde (indicando que a passagem está liberada) e a luz vermelha (indicando proibição de passagem). Um desses semáforos fica com a luz verde acesa por 1 minuto e 10 segundos, e outro, por 2 minutos e 30 segundos, e passam, ao fim de cada fase verde, para a fase vermelha. Esses dois semáforos ficam 50 segundos na fase vermelha, passando em seguida para a fase verde. Considerando que à 0h de certo dia os dois semáforos iniciaram a liberação de passagem, nesse dia, o último momento em que esses semáforos iniciaram a fase vermelha foi às

- (A) 23h59min10s.
- (B) 23h59min20s.
- (C) 23h59min30s.
- (D) 23h59min40s.
- (E) 23h59min50s.

18. O *Tour de France* é uma competição anual de ciclismo realizada na França. Considerando um grupo de 500 ciclistas, no fim de 2018, alguns já tinham participado uma única vez do *Tour de France*, e os demais nunca participaram. No fim de 2021, entre os que já tinham participado até o fim de 2018, 20% participaram mais duas vezes nesse *Tour*, 35% participaram mais uma vez, e os demais não voltaram a participar. Considerando os que nunca tinham participado até o fim de 2018, 30 participaram uma primeira e única vez, 25% participaram em 2019 e 2020, e os demais continuaram sem participar dessa competição. Se no fim de 2021 a soma de todas as participações no *Tour* feitas por esses ciclistas era igual a 555, o número desses ciclistas que já tinham participado do *Tour* até o final de 2018 era

- (A) 180.
- (B) 200.
- (C) 220.
- (D) 240.
- (E) 260.

19. Em uma cidade, a razão entre o número de pessoas e o número de animais domésticos é de $\frac{12}{5}$. Se o número de

pessoas dessa cidade aumentar em 15%, e o número de animais domésticos diminuir em 924, a razão indicada passará a ser de $\frac{15}{4}$. O número atual de pessoas na

cidade é

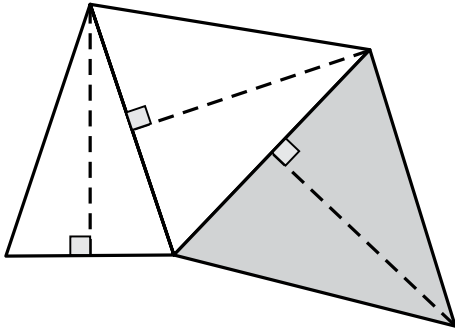
- (A) 8000.
- (B) 8400.
- (C) 8800.
- (D) 9200.
- (E) 9600.

20. Uma empresa produz um certo tipo de peça e as embala em um lote do tipo L, que contém um determinado número de peças ou em um lote do tipo P, que contém o dobro de peças do lote L. Para produzir peças para 12 lotes do tipo L, 3 máquinas idênticas devem funcionar por 5 horas. Para produzir peças para 20 lotes do tipo P, 8 dessas mesmas máquinas devem funcionar por

- (A) 6 horas.
- (B) 6 horas e 15 minutos.
- (C) 6 horas e 30 minutos.
- (D) 6 horas e 45 minutos.
- (E) 7 horas.

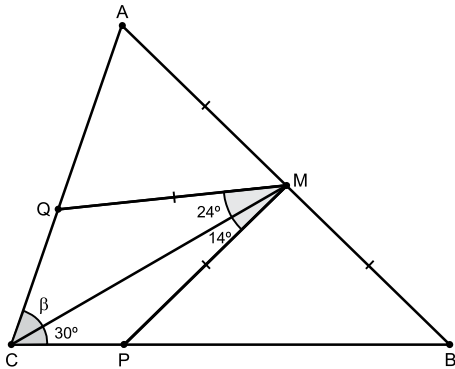
21. Um grupo de amigos combinou de preparar uma festa. Cada amigo deveria levar dois pratos de iguarias, cada prato contendo um número de iguarias igual ao número de amigos do grupo subtraído de 8. Se o total de iguarias que foram levadas foi 1 768, o algarismo das unidades do número de amigos desse grupo é
- (A) 8.
 - (B) 7.
 - (C) 6.
 - (D) 5.
 - (E) 4.
22. Uma livraria fez uma promoção para vender todos os 235 livros de determinado autor que tinha em estoque. Em 3 dias, todos os livros foram vendidos, de maneira que, no primeiro dia, foi vendido um quarto do total vendido nos outros dois dias, e, no segundo dia, foram vendidos 22 livros a mais do que no terceiro dia. O total de livros desse autor que foram vendidos no primeiro dia foi
- (A) 47.
 - (B) 48.
 - (C) 49.
 - (D) 50.
 - (E) 51.
23. Um ciclista percorreu uma certa distância em alguns dias e, após ter percorrido 330 km, ele trocou um dos pneus da bicicleta por um pneu estepe, de maneira que, considerando os 3 pneus usados durante todo o trajeto, a média aritmética do número de quilômetros percorridos por pneu foi 400 km. A distância percorrida pelo pneu menos usado, ou seja, o que percorreu a menor distância, foi
- (A) 90 km.
 - (B) 110 km.
 - (C) 270 km.
 - (D) 330 km.
 - (E) 400 km.

24. Três triângulos isósceles possuem lados em comum, conforme mostra a figura, em que as linhas tracejadas representam alturas de 6 cm, e o triângulo de maior área está destacado.



Se a menor área entre esses triângulos é 12 cm^2 , o triângulo de maior área tem

- (A) $2\sqrt{48} \text{ cm}^2$
 - (B) $2\sqrt{72} \text{ cm}^2$
 - (C) $3\sqrt{40} \text{ cm}^2$
 - (D) $3\sqrt{42} \text{ cm}^2$
 - (E) $3\sqrt{46} \text{ cm}^2$
25. Em um triângulo ABC, o ponto M divide o lado AB em duas partes de mesma medida, e os pontos P e Q estão sobre os lados desse triângulo, de modo que $MP = MQ = MA$, conforme mostra a figura.



A medida do ângulo β é

- (A) 38° .
- (B) 39° .
- (C) 40° .
- (D) 41° .
- (E) 42° .

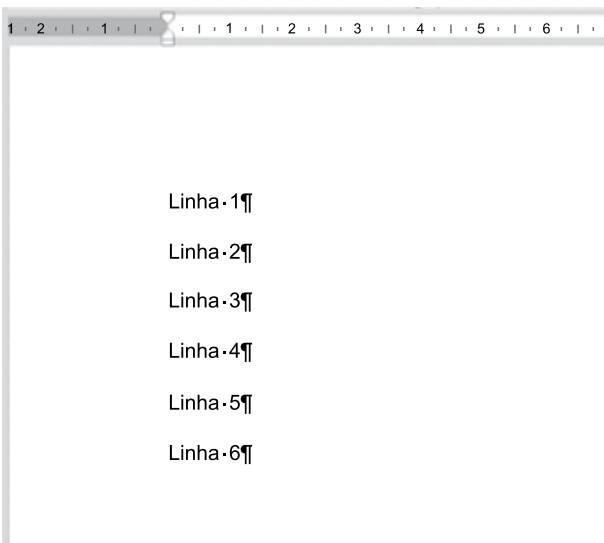
26. Tem-se a seguinte planilha, criada no Microsoft Excel 2016, em sua configuração-padrão.

	A	B	C
1	8	7	13
2	12	10	6
3	7	12	8
4			
5			

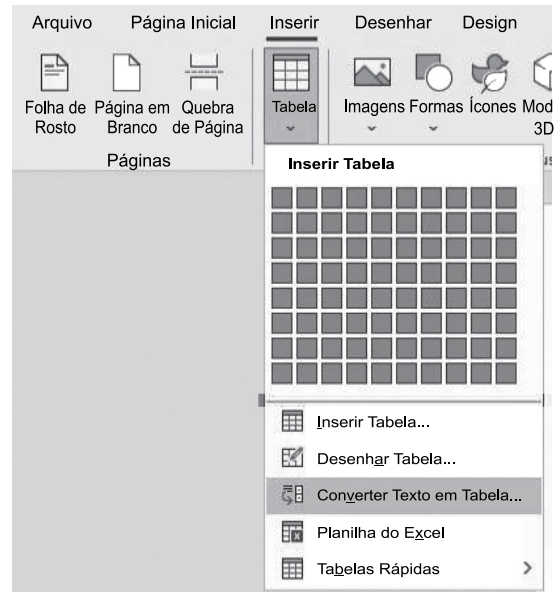
Para contar a quantidade de células entre A1 e C3 que possuem valor maior do que 10 e menor do que 13, e exibir o resultado na célula A5, é preciso inserir na célula A5 a fórmula

- (A) =CONT.SE(A1:C3;"<13") - CONT.SE(A1:C3;">10")
- (B) =CONT.SES(A1:C3;">10";A1:C3;"<13")
- (C) =CONT.SE(A1:C3;E(">10";"<13"))
- (D) =CONT.SES(A1:C3;">10";"<13")
- (E) =CONT.SE(A1:C3;"<13") / CONT.SE(A1:C3;">10")

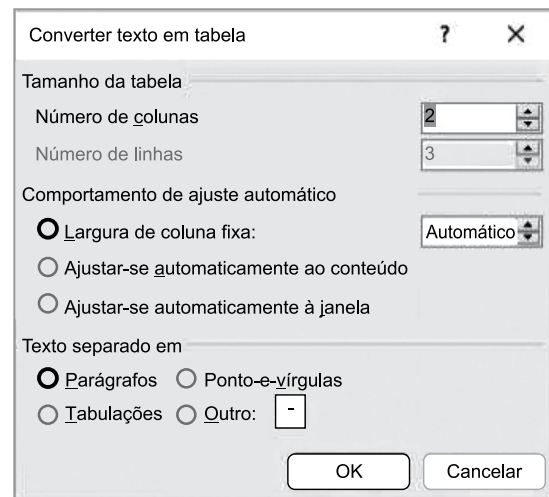
27. Tem-se o seguinte documento, criado no Microsoft Word 2016, em sua configuração-padrão, com as marcas de parágrafo ativadas.



Um usuário selecionou todo o texto, e selecionou a opção Converter Texto em Tabela... a partir do ícone Tabela, grupo Tabelas, guia Inserir, conforme imagem a seguir.



Finalmente, configurou a janela Converter texto em tabela para ser 2 colunas e 3 linhas, conforme imagem a seguir.



Assinale a alternativa com o resultado correto dessa ação, mostrado sem as marcas de parágrafo.

- (A)

Linha 1	
Linha 2	
Linha 3	
- (B)


Linha 1	
Linha 2	
Linha 3	
- (C)

Linha 1	
Linha 2	
Linha 3	
Linha 4	
Linha 5	
Linha 6	
- (D)

Linha 1	Linha 2
Linha 3	Linha 4
Linha 5	Linha 6
- (E)

Linha 1	
Linha 2	
Linha 3	
Linha 4	
Linha 5	
Linha 6	

28. Tem-se a seguinte imagem, do Explorador de Arquivos do Microsoft Windows 10, em sua configuração original.

<input type="checkbox"/> Nome	Data de modificação	Tipo	Tamanho
 Projeto.docx.txt	25/04/2023 21:33	Documento de Texto	5 KB

Ao efetuar um duplo clique sobre o arquivo da imagem, com o botão primário do mouse,

- (A) será aberto o Microsoft Word com o conteúdo do arquivo Projeto.docx.txt.
- (B) serão abertos ambos o Bloco de Notas e o Microsoft Word com o conteúdo do arquivo Projeto.docx.txt.
- (C) será aberto o Bloco de Notas com o conteúdo do arquivo Projeto.docx.txt.
- (D) o Windows irá apresentar um erro.
- (E) nenhum aplicativo será aberto.

29. Em uma apresentação com 6 slides, criada no Microsoft PowerPoint 2016, em sua configuração-padrão, um usuário configurou os slides da seguinte forma:

Slide 1: não oculto

Slide 2: oculto

Slide 3: não oculto

Slide 4: oculto

Slide 5: oculto

Slide 6: não oculto

Não existem transições ou animações configuradas. No slide 1, existe um botão de ação com hiperlink para o próximo slide. Ao iniciar o Modo de Apresentação pressionando a tecla F5, o slide 1 é exibido. Ao clicar no botão de ação, é apresentado o slide _____. Ao pressionar ENTER, é exibido o slide _____. Ao pressionar End, é exibido o slide _____. Ao pressionar Seta para Cima, é exibido o slide _____.

Assinale a alternativa que preenche, correta e respectivamente, as lacunas do texto.

- (A) 2, 3, 6, 3
- (B) 2, 3, 6, 5
- (C) 3, 3, 6, 3
- (D) 3, 4, 6, 5
- (E) 3, 6, 6, 3

30. Considere as características de uma mensagem de correio eletrônico, preparada no Microsoft Outlook 2016, em sua configuração original:

De: Paulo

Para: Joana

Cc: Andreia

Cco: Ricardo

Assunto: Renato

Após Paulo clicar em enviar, a mensagem foi gravada e permaneceu na pasta Caixa de Saída do computador de Paulo.

Quanto ao recebimento da mensagem, é correto afirmar que

- (A) nenhum dos usuários recebeu.
- (B) apenas Joana recebeu.
- (C) apenas Joana e Andreia receberam.
- (D) apenas Joana, Andreia e Ricardo receberam.
- (E) Joana, Andreia, Ricardo e Renato receberam.

CONHECIMENTOS ESPECÍFICOS

31. Ao final da avaliação da campanha municipal de vacinação contra a influenza de determinado ano foi verificado o seguinte: (i) nenhuma dose foi desperdiçada por ter atingido o prazo de validade; (ii) o público-alvo foi imunizado; (iii) o número de casos de gripe registrados em unidades básicas de saúde (UBSs) reduziu drasticamente.

Essas três situações podem ser mensuradas, respectivamente, por meio de indicadores de

- (A) (i) economicidade, (ii) eficácia e (iii) eficiência.
- (B) (i) eficácia, (ii) eficiência e (iii) efetividade.
- (C) (i) eficiência, (ii) eficácia e (iii) efetividade.
- (D) (i) efetividade, (ii) eficácia e (iii) economicidade.
- (E) (i) eficiência, (ii) efetividade e (iii) eficácia.

32. Ao deparar-se com uma grande quantidade de problemas, um grupo de auditores atribuiu pontuação para cada um dos fatores que integram uma ferramenta frente aos casos que careciam de solução, realizou determinado cálculo e chegou à definição de prioridades de atuação.

Dadas essas características, a ferramenta utilizada foi a seguinte:

- (A) Balanced Scorecard (BSC).
- (B) Ciclo PDCA.
- (C) Análise SWOT.
- (D) Canvas.
- (E) Matriz GUT.

33. A Lei de Diretrizes Orçamentárias (LDO) contempla o Anexo de Metas Fiscais e o Anexo de Riscos Fiscais. Por meio do Anexo de Riscos Fiscais, encontra-se

- (A) o demonstrativo da estimativa e compensação da renúncia de receita e da margem de expansão das despesas obrigatórias de caráter continuado.
- (B) a avaliação dos passivos contingentes e outros riscos capazes de afetar as contas públicas.
- (C) a evolução do patrimônio líquido, destacando-se a origem e a aplicação dos recursos obtidos com a alienação de ativos.
- (D) o estabelecimento das metas anuais relativas a receitas, despesas, resultados nominal e primário e montante da dívida pública.
- (E) a avaliação da situação financeira e atuarial dos regimes geral de previdência social e próprio dos servidores públicos e do Fundo de Amparo ao Trabalhador (FAT).

34. No federalismo fiscal brasileiro, dos 50% que a União transfere do produto da arrecadação dos impostos sobre renda e proventos de qualquer natureza (IR) e sobre produtos industrializados (IPI), o Fundo de Participação dos Municípios (FPM) recebe

- (A) 25,5%
- (B) 17%
- (C) 22,5%
- (D) 21,5%
- (E) 23%

35. Considere que João é servidor público e exerce a função de gestor de um contrato de prestação de serviços, regido pela Lei nº 14.133/21. O órgão em que trabalha foi notificado de que será realizada uma auditoria do Tribunal de Contas, visando avaliar a conformidade do contrato e da sua execução com a legislação vigente. Por ter dúvidas sobre como proceder, João procura Fábio, que trabalha no setor de controle interno, para obter esclarecimentos a respeito do regime do controle das contratações previsto na Lei.

Com base nessa situação hipotética, Fábio poderá informar a João de forma correta que

- (A) o setor de controle interno compõe a segunda linha de defesa da contratação, bem como que o Tribunal de Contas deverá ter acesso irrestrito aos documentos necessários à realização do trabalho, inclusive os classificados como sigilosos.
- (B) os agentes públicos responsáveis pela auditoria, quando constatarem qualquer impropriedade formal na execução do contrato, deverão adotar as providências necessárias para a apuração das infrações administrativas.
- (C) na fiscalização, caso o órgão de controle externo identifique alguma impropriedade, será oportunizado que o setor de execução contratual apresente esclarecimentos, cabendo ao Tribunal de Contas desentranhar do processo os documentos que julgue impertinentes ou que não sejam interessantes para a elucidação dos fatos.
- (D) o setor de execução do contrato compõe a primeira linha de defesa da conformidade da contratação, cabendo a ele definir e implementar práticas contínuas e permanentes de gestão de riscos, que levará em consideração os custos e os benefícios decorrentes de sua implantação.
- (E) caso o Tribunal de Contas identifique irregularidade que importe em dano à Administração, mas que não seja considerado pela autoridade fiscalizadora como expressivo, deverá recomendar ao setor de execução contratual a adoção de medidas para o saneamento e mitigação de riscos de nova ocorrência.

- 36.** A respeito do controle externo da Administração Pública, exercido pelos Tribunais de Contas, assinale a alternativa correta.
- (A) Os Tribunais de Contas Estaduais dispõem de competência para apreciar e julgar, anualmente, as contas prestadas pelos prefeitos municipais.
 - (B) O montante pago por administrados à título de contribuição compulsória de natureza tributária está sujeito à fiscalização dos tribunais de contas, ainda que os destinatários sejam pessoas de direito privado.
 - (C) As decisões dos Tribunais de Contas de que resulte a imputação de débito terão eficácia de título executivo e o ordenamento atribui a eles a legitimidade para promover as respectivas ações de cobrança.
 - (D) Os Tribunais de Contas possuem a atribuição de examinar, previamente, a validade de contratos administrativos celebrados pelo Poder Público, sendo constitucional lei local que confira essa competência à respectiva Corte de Contas.
 - (E) É possível a decretação pelos Tribunais de Contas da indisponibilidade de bens de particulares responsáveis pela administração de dinheiro de origem pública, salvo se constatado que eles também se submetam à fiscalização de outras instâncias administrativas.
- 37.** A respeito da Lei de Acesso à Informação (Lei nº 12.527/11), assinale a alternativa correta.
- (A) Considera-se informação sigilosa aquela relacionada à pessoa natural identificada ou identificável.
 - (B) Desde que fundado no interesse coletivo, o interessado em obter informações de interesse público deverá demonstrar os motivos da solicitação.
 - (C) Qualquer interessado poderá apresentar pedido de acesso à informação aos órgãos e entidades sujeitos à Lei, por qualquer meio legítimo.
 - (D) A informação armazenada em formato digital deverá sempre ser fornecida neste formato.
 - (E) O órgão ou a entidade não poderão exigir o ressarcimento de custos por serviços ou materiais utilizados, ainda que seja exigida a reprodução de documentos.
- 38.** No setor público, recurso é um item com potencial de serviços ou com a capacidade de gerar benefícios econômicos. Considerando esse conceito, conforme a Estrutura Conceitual Básica aplicada ao setor público, assinale a alternativa correta.
- (A) A forma física é uma condição necessária para um recurso no setor público.
 - (B) O potencial de serviços é a capacidade de prestar serviços que contribuam para alcançar os objetivos da entidade pública.
 - (C) O potencial de serviços possibilita à entidade alcançar os seus objetivos e, necessariamente, gera entrada líquida de caixa.
 - (D) Os ativos do patrimônio cultural são exemplos de recursos que geram, obrigatoriamente para a entidade, receita com contraprestação.
 - (E) Os benefícios econômicos correspondem a saídas de caixa ou a reduções das saídas de caixa.
- 39.** Em fevereiro de 2023, um auditor municipal verificou que, em 26 de dezembro de 2022, uma despesa pública relativa à prestação de serviço foi aceita como cumprida pelo servidor responsável pelo contrato. Ao verificar a documentação do processo, o auditor verificou a conformidade das notas de empenho e de liquidação dessa despesa pública.
- Após a análise dos registros das fases de empenho e liquidação, o auditor deverá verificar se houve registro, no sistema orçamentário, de:
- (A) despesas de exercícios anteriores.
 - (B) variação patrimonial diminutiva.
 - (C) títulos a receber.
 - (D) restos a pagar processados.
 - (E) restos a pagar não processados.

As informações a seguir serão utilizadas para responder às questões de números **40** e **41**.

O auditor de um ente municipal previu em seu plano de auditoria interna para 2024 um trabalho para verificação da conformidade dos procedimentos realizados pela Secretaria de Fazenda do município ao reconhecer, em 2023, uma redução do valor recuperável de um ativo imobilizado em R\$ 115.000,00.

Ao analisar o processo, o auditor verificou que em 31 de dezembro de 2023 o ativo imobilizado estava registrado em R\$ 560.000,00 e tinha depreciação acumulada de R\$ 360.000,00.

Adicionalmente, o auditor verificou que o ativo em questão era um edifício, onde funcionava uma escola, a qual foi fechada em virtude de problemas estruturais encontrados pela Defesa Civil.

No processo consta que foram estimados o valor em uso e o valor líquido de venda. Há uma nota técnica da Defesa Civil validada pela Contabilidade informando que o valor em uso do edifício era nulo em virtude do risco de desabamento.

Nos autos consta que, em média, o valor de venda do edifício seria de R\$ 100.000,00 e que as despesas estimadas para formalizar uma possível venda totalizavam, aproximadamente, R\$ 15.000,00.

Com essas informações, o auditor realizou as análises e finalizou seu relatório de auditoria interna.

40. Assinale a alternativa que apresenta o valor contábil líquido do edifício em 31 de dezembro de 2023.

- (A) R\$ 85.000,00
- (B) R\$ 100.000,00
- (C) R\$ 115.000,00
- (D) R\$ 160.000,00
- (E) R\$ 200.000,00

41. Considerando que as informações são fidedignas, é correto afirmar que os procedimentos realizados pela Secretaria de Fazenda, do ponto de vista contábil patrimonial:

- (A) não estão em conformidade com os procedimentos contábeis patrimoniais, uma vez que o valor em uso deveria ter sido utilizado para o registro da operação, já que é o maior quando comparado com o valor líquido de venda.
- (B) não estão em conformidade com os procedimentos contábeis orçamentários, uma vez que o valor em uso deveria ter sido utilizado para o registro da operação, já que é o maior, quando comparado com o valor líquido de venda.
- (C) estão em conformidade com os procedimentos contábeis patrimoniais, uma vez que o valor em uso foi considerado para reconhecimento da variação patrimonial diminutiva de R\$ 115.000,00.
- (D) estão em conformidade com os procedimentos contábeis patrimoniais, uma vez que o valor líquido de venda foi considerado para o reconhecimento da variação patrimonial diminutiva de R\$ 115.000,00.
- (E) estão em conformidade com os procedimentos contábeis patrimoniais, mas são ilegais do ponto de vista fiscal, visto que a Lei de Responsabilidade Fiscal proíbe a venda de ativos não geradores de caixa.

42. A receita corrente líquida de um município localizado em uma região metropolitana de um estado totalizou R\$ 45.500.000,00. Considerando essas informações, é correto afirmar que o limite de despesa com pessoal do município será, em R\$, de:

- (A) 11.165.700,00
- (B) 13.377.000,00
- (C) 14.742.000,00
- (D) 22.750.000,00
- (E) 27.300.000,00

43. Considere que a empresa Sempre Bem presta serviços de consultoria financeira para empresas que estão localizadas no Brasil e no exterior, bem como executa determinadas atividades que envolvem a prestação de serviços e o fornecimento de mercadorias.

Como começou a operar no Município X recentemente, buscou o setor de atendimento da respectiva Secretaria da Fazenda para saber sobre o recolhimento do Imposto Sobre Serviços de Qualquer Natureza (ISSQN).

Com base na situação hipotética e no disposto na Lei Complementar nº 116/03, o servidor da Secretaria da Fazenda poderá informar, de forma correta, ao representante da empresa, que

- (A) o imposto não incidirá sobre os serviços exportados para o exterior do País ou sobre o proveniente do exterior.
- (B) o imposto não incide sobre operações de crédito realizadas por instituições financeiras.
- (C) o imposto será devido, em regra, ao Município em que estiver localizado o tomador de serviços.
- (D) caso a prestação de serviços envolva o fornecimento de mercadoria, ressalvadas as exceções previstas em Lei, deverá recolher o ICMS com base no valor do produto.
- (E) a base de cálculo do ISSQN será o preço do serviço, excluídos os valores pagos pelo Contribuinte a título de tributos federais.

44. A respeito do Sistema Tributário Nacional, assinale a alternativa correta.

- (A) Os impostos e as taxas terão caráter pessoal e serão graduados segundo a capacidade econômica do contribuinte.
- (B) Cabe à lei complementar estabelecer normas gerais em matéria de legislação tributária, regulando o processo administrativo tributário que será seguido pelos entes federativos.
- (C) A imunidade recíproca impede que os entes federativos exijam o pagamento de impostos incidentes sobre as atividades de empresas estatais que prestem serviço público em regime de livre concorrência.
- (D) A concessão de isenção deve ser realizada por lei complementar específica do ente federativo competente para a cobrança do tributo.
- (E) Os Estados não possuem competência para cobrar empréstimos compulsórios e a União, caso os institua, deverá aplicar os recursos provenientes do tributo à despesa que fundamentou a sua instituição.

45. Considere que o órgão de controle interno do Município X irá realizar uma auditoria no órgão da procuradoria do município responsável pela gestão dos precatórios municipais. Dentre as práticas a seguir, aponte a conduta que poderá ser validada pelo setor de fiscalização.

- (A) Designação de casos especiais para o recebimento de valor de condenação, fora da ordem cronológica de precatórios, desde que justificada pelo interesse público.
- (B) Imposição de concordância do devedor para a cessação de precatórios.
- (C) Consignação de dotação orçamentária diretamente ao Poder Judiciário, para pagamento dos precatórios.
- (D) Definição, por decreto, de regime especial de pagamento de créditos de precatórios, prevendo vinculação de percentual da receita líquida para esse fim.
- (E) Fixação em meio salário mínimo do valor para pagamento de créditos por requisições de pequeno valor.

46. De acordo com a Lei de Responsabilidade Fiscal (Lei Complementar nº 101/01), a respeito do regime das Transferências Voluntárias, é correto afirmar que:

- (A) a aplicação da sanção de suspensão de transferências voluntárias, prevista na Lei, não se estende para as ações relativas aos setores da educação, saúde e assistência social.
- (B) salvo os casos de desvio para o pagamento de despesas com pessoal, fica vedada a utilização de recursos transferidos em finalidade diversa da pactuada.
- (C) a observância dos limites de despesa total com pessoal não é condição para a realização dessa espécie de transferência.
- (D) para que possam ser realizadas, é necessário que haja prévia dotação específica e que o ente destinatário do recurso não possua débitos com precatórios.
- (E) o recebimento de transferência voluntária não presuporá a previsão orçamentária de contrapartida, caso os recursos sejam empregados na saúde ou na educação.

47. Os testes substantivos são aqueles que verificam a suficiência, exatidão e a validade dos dados que são objeto de análise.

Assinale a alternativa que apresenta exemplos de testes substantivos.

- (A) Apreciação da totalidade dos processos e análise de conformidade dos atos, normas e leis da unidade auditada.
- (B) Conformidade dos atos, normas e leis e análise de ajuste a valor recuperável.
- (C) Entrevistas com gestores e laudo pericial judicial.
- (D) Inspeção física e confirmação.
- (E) Partidas dobradas e suporte documental.


- 48.** A etapa que tem por finalidade identificar, com base no prévio entendimento obtido acerca do objeto de auditoria, os aspectos de maior importância ou de maior exposição a riscos que possam ameaçar o atingimento dos objetivos do processo ou da unidade auditada é a de:
- (A) reporte da matriz de achados.
 - (B) execução.
 - (C) coleta de dados.
 - (D) aprovação do relatório final de auditoria.
 - (E) análise preliminar do objeto.
- 49.** O relatório de auditoria interna deve conter:
- (A) imparcialidade e prudência sobre o escopo e a extensão dos trabalhos.
 - (B) os testes substantivos não utilizados e as evidências encontradas.
 - (C) os riscos associados aos fatos constatados e as principais conclusões e recomendações.
 - (D) o nome dos fraudadores e as possíveis penalidades cabíveis.
 - (E) a metodologia adotada e opinião adversa sobre o escopo do trabalho de auditoria.
- 50.** Assinale a alternativa que apresenta, corretamente, uma característica comum à auditoria interna e à auditoria externa.
- (A) Ambas utilizam técnica pericial para encontrar fraudes.
 - (B) Ambas empregam papéis de trabalho para documentação das evidências.
 - (C) Ambas emitem relatório final com opinião sobre as demonstrações contábeis do ente.
 - (D) Ambas possuem relatórios assinados por auditor registrado no CNAI e no CRC do estado da entidade auditada.
 - (E) Ambas emitem relatório final certificando qualidade de produto ou serviço.



PMSD2301



03110001

**PREFEITURA MUNICIPAL DE SANTO ANDRÉ**

ESTADO DE SÃO PAULO

CONCURSO PÚBLICO

110. PROVA DISCURSIVA**AUDITOR DE CONTROLE INTERNO**

- ◆ Você recebeu este caderno contendo uma questão dissertativa.
- ◆ Confira seus dados impressos na capa deste caderno.
- ◆ Quando for permitido abrir o caderno, verifique se está completo ou se apresenta imperfeições. Caso haja algum problema, informe ao fiscal da sala para a devida substituição desse caderno.
- ◆ Assine apenas no local indicado na capa; qualquer identificação ou marca feita pelo candidato no corpo deste caderno, que possa permitir sua identificação, acarretará a atribuição de nota zero à prova.
- ◆ Redija a resposta com caneta de tinta preta. Os rascunhos não serão considerados na correção. A ilegibilidade da letra acarretará prejuízo à nota do candidato.
- ◆ A duração das provas objetiva e discursiva é de 5 horas, já incluído o tempo para o preenchimento da folha de respostas e para a transcrição da resposta definitiva.
- ◆ Só será permitida a saída definitiva da sala e do prédio após transcorridos 75% do tempo de duração das provas.
- ◆ Deverão permanecer em cada uma das salas de prova os 3 últimos candidatos, até que o último deles entregue suas provas, assinando termo respectivo.
- ◆ Ao sair, você entregará ao fiscal o caderno de prova objetiva, a folha de respostas e este caderno.
- ◆ Até que você saia do prédio, todas as proibições e orientações continuam válidas.

AGUARDE A ORDEM DO FISCAL PARA ABRIR ESTE CADERNO.

Nome do candidato

RG

Inscrição

Prédio

Sala

Carteira

USO EXCLUSIVO DO FISCAL

AUSENTE

Assinatura do candidato



PMSD2301



03110002

NÃO ESCREVA NESTA PÁGINA


Confidencial até o momento da aplicação.



PMSD2301



03110003



PREFEITURA MUNICIPAL DE SANTO ANDRÉ

ESTADO DE SÃO PAULO

CONCURSO PÚBLICO

110. PROVA DISCURSIVA

AUDITOR DE CONTROLE INTERNO

NÃO ESCREVA NESTA PÁGINA



PMSD2301



03110004

NÃO ESCREVA NESTE ESPAÇO

NÃO ASSINE ESTA FOLHA



PMSD2301



03110005

QUESTÃO 1

Considere que João é servidor público da Secretaria de Gestão e responsável pelo setor de compras da Prefeitura X. Por saber que, em breve, será obrigatório o uso da Lei nº 14.133/21, procurou o setor de controle interno da Prefeitura para obter assessoramento sobre as práticas que deverão ser adotadas pelo órgão público para garantir a conformidade de suas contratações, bem como para ter ciência de que forma a nova lei impacta a atuação de alguns agentes públicos importantes no processo de execução dos contratos.

Na condição de auditor de controle interno, responda, de forma fundamentada, se:

- a) as funções de gestor contratual e fiscal contratual devem ser exercidas por servidores públicos;
- b) um mesmo servidor público pode desempenhar, de forma simultânea, as funções descritas no item a, bem como se o órgão de controle interno pode indicar algum agente público para exercer a função de fiscal de contrato;
- c) é possível que a Administração exija que os contratados implantem programas de integridade.

NÃO ESCREVA NESTE ESPAÇO

NÃO ASSINE ESTA FOLHA



PMSD2301



03110006

QUESTÃO 1

Os rascunhos não serão considerados na correção.

Blank lined area for writing the answer to the question.

RASCUNHO

EM HIPÓTESE ALGUMA ESCREVA NAS LATERAIS DESTA PÁGINA

NÃO ASSINE ESTA FOLHA



PMSD2301



03110008