

PREFEITURA MUNICIPAL DE SANTO ANDRÉ
ESTADO DE SÃO PAULO

CONCURSO PÚBLICO

067. PROVA OBJETIVA

ANALISTA FINANCEIRO

- ◆ Você recebeu sua folha de respostas e este caderno contendo 50 questões objetivas.
- ◆ Confira seus dados impressos na capa deste caderno e na folha de respostas.
- ◆ Quando for permitido abrir o caderno, verifique se está completo ou se apresenta imperfeições. Caso haja algum problema, informe ao fiscal da sala para a devida substituição desse caderno.
- ◆ Leia cuidadosamente todas as questões e escolha a resposta que você considera correta.
- ◆ Marque, na folha de respostas, com caneta de tinta preta, a letra correspondente à alternativa que você escolheu.
- ◆ A duração da prova é de 3 horas e 30 minutos, já incluído o tempo para o preenchimento da folha de respostas.
- ◆ Só será permitida a saída definitiva da sala e do prédio após transcorridos 75% do tempo de duração da prova.
- ◆ Deverão permanecer em cada uma das salas de prova os 3 últimos candidatos, até que o último deles entregue sua prova, assinando termo respectivo.
- ◆ Ao sair, você entregará ao fiscal a folha de respostas e este caderno.
- ◆ Até que você saia do prédio, todas as proibições e orientações continuam válidas.

AGUARDE A ORDEM DO FISCAL PARA ABRIR ESTE CADERNO.

Nome do candidato _____

RG _____

Inscrição _____

Prédio _____

Sala _____

Carteira _____

Leia a tira para responder às questões de números 01 e 02.



(M. Schulz, "Minduim Charles". <https://cultura.estadao.com.br/quadrinhos>. 25.05.2023. Adaptado)

01. De acordo com a norma-padrão, as lacunas da tira devem ser preenchidas, respectivamente, com:

- (A) quiser ... esse ... têm
- (B) querer ... este ... tiver
- (C) quer ... o ... têm
- (D) querer ... esse ... tem
- (E) quiser ... este ... tiver

02. O pensamento do cachorro – Senso de humor esquisito! – refere-se

- (A) à sua própria indiferença por um lanche tão tardio.
- (B) a um horário esdrúxulo para o menino servir lanche.
- (C) à falta de solidariedade do menino com a fome canina.
- (D) à necessidade de um formulário para conseguir lanche.
- (E) à criação de uma burocracia para um lanche que não existe.

Leia o texto para responder às questões de números **03 a 10**.

Traumas do Trânsito

Entre 2011 e 2021, o número de motocicletas circulando no Brasil cresceu 64,7%, de 18 milhões para 30,3 milhões. Como se sabe e boletim do Ministério da Saúde comprova, a escalada elevou a insegurança.

Em 2011, 70,5 mil motociclistas lesionados em acidentes de trânsito foram hospitalizados (3,9 a cada 100 mil habitantes). Já em 2021, foram 115,7 mil (6,1 a cada 100 mil) – aumento de 55% em dez anos.

Apesar de o número de mortos ter permanecido quase estável no período (11,5 mil e 11,1 mil, respectivamente), ele representa 26,6% das fatalidades no tráfego em 2011 e 35,3% em 2021.

Acidentes de trânsito são grave problema de saúde pública no país que, no caso de motocicletas, atinge estratos sociais fragilizados.

Em 2021, as hospitalizações de motociclistas custaram R\$ 167 milhões ao Estado. Despesas por traumatismo cranioencefálico grave (TCE) passaram de R\$ 123,7 milhões, em 2008, para R\$ 278 milhões em 2019. Acidentes de trânsito são a principal causa de TCEs, seguidos por violência interpessoal.

Os custos não findam com a internação. Traumas geram sequelas que exigem tratamentos custosos para reabilitação e podem incapacitar o paciente por toda a vida. Ou seja, além dos gastos públicos, o país perde força laboral.

Para diminuir gastos na saúde e proteger jovens trabalhadores, é fundamental que o poder público, nas esferas municipal, estadual e federal, implemente ações de fiscalização e de conscientização que integrem órgãos de transporte, justiça, saúde e educação.

Tal orientação já consta do Plano Nacional de Redução de Mortes e Lesões no Trânsito, legislação aprovada pelo Congresso em 2018. Basta tirá-lo do papel.

(Editorial. *Folha de S.Paulo*, 31.05.2023. Adaptado)

03. Ao longo do texto, são apresentados dados numéricos com o objetivo de

- (A) mostrar como a violência no trânsito está ceifando vidas inocentes, o que exige da sociedade manifestações para que haja mudanças na leis de trânsito.
- (B) sensibilizar os leitores sobre a situação caótica no trânsito das cidades brasileiras devido ao aumento irresponsável do número de motocicletas em circulação.
- (C) enfatizar a dimensão e a complexidade do problema analisado, como os contratempos por que passam os motociclistas quando se acidentam no trânsito.
- (D) criticar as pessoas que recorrem ao Estado para obter recursos financeiros, ou seja, aquelas que se acidentam e depois deixam de trabalhar regularmente.
- (E) contestar a necessidade de discussão ampla sobre as mortes de motociclistas no trânsito das grandes cidades, pois o número de acidentes fatais está estável.

04. Nos dois primeiros parágrafos, o editorial deixa claro que

- (A) o recrudescimento de casos de motociclistas lesionados é um fator que comprova a insegurança do trânsito brasileiro.
- (B) o Ministério da Saúde divulgou um boletim cujas informações atestam a diminuição do tráfego de motociclistas nas cidades.
- (C) o número de motociclistas envolvidos em acidentes em 2021 foi maior que o de 2011, apesar de haver menos motos circulando.
- (D) o número de motos circulando no país gera uma insegurança que não se justifica em razão do número de acidentes constatados.
- (E) o boletim do Ministério da Saúde ratifica que os acidentes com motos acontecem, mas que não devem gerar insegurança social.

05. As passagens “... atinge estratos sociais fragilizados.” (4º parágrafo) e “Os custos não findam com a internação.” (6º parágrafo) podem ser interpretadas, correta e respectivamente, da seguinte forma:

- (A) Os acidentes de trânsito com motocicletas envolvem principalmente pessoas reconhecidas na sociedade. / Hospitais públicos, caso o período de internação seja longo, podem cobrar dos acidentados.
- (B) Os acidentes de trânsito com motocicletas envolvem principalmente pessoas abaladas emocionalmente. / É possível que um acidentado custe mais ao cofre público do que a internação hospitalar.
- (C) Os acidentes de trânsito com motocicletas envolvem principalmente pessoas de diferentes grupos sociais. / Os hospitais tentam limitar os custos relativos à internação de acidentados.
- (D) Os acidentes de trânsito com motocicletas envolvem principalmente pessoas de menor poder aquisitivo. / Os custos com um acidentado normalmente não se limitam à internação.
- (E) Os acidentes de trânsito com motocicletas envolvem principalmente pessoas com poucos recursos financeiros. / Os custos ficam restritos à internação inicial dos acidentados.

06. Nas passagens do 6º parágrafo “Traumas geram **sequelas...**” e “... o país perde força **laboral**”, os termos destacados significam, correta e respectivamente:

- (A) anomalias; de conciliação.
- (B) consequências; de trabalho.
- (C) limitações; recorrente.
- (D) efeitos; inalterável.
- (E) contrariedades; de lei.

07. No 3º parágrafo – **Apesar de o número de mortos ter permanecido quase estável no período** (11,5 mil e 11,1 mil, respectivamente), ele representa 26,6% das fatalidades no tráfego em 2011 e 35,3% em 2021. –, o sentido das informações e a conformidade com a norma-padrão são mantidos com a seguinte reescrita do trecho destacado:

- (A) Uma vez que o número de mortos teve permanecido quase estável no período...
- (B) Por mais que o número de mortos tem permanecido quase estável no período...
- (C) Ainda que o número de mortos tenha permanecido quase estável no período...
- (D) Para que o número de mortos tivesse permanecido quase estável no período...
- (E) Posto que o número de mortos teria permanecido quase estável no período...

08. Na frase final do texto – Basta **tirá-lo do papel**. –, a expressão destacada está empregada em sentido

- (A) figurado, criticando a legislação de trânsito existente no país.
- (B) próprio, amenizando a preocupação com uma nova legislação.
- (C) figurado, exortando a necessidade de pôr em prática a legislação.
- (D) próprio, enaltecendo as qualidades da legislação de trânsito.
- (E) figurado, questionando a validade de fazer valer a legislação.

09. A pontuação está em conformidade com a norma-padrão em:

- (A) O boletim do Ministério da Saúde comprova, que a escalada elevou a insegurança.
- (B) Com os tratamentos o país, tem aumento, nos gastos públicos, e perda da força laboral.
- (C) Os acidentes de trânsito com motocicletas, atingem estratos sociais fragilizados.
- (D) Despesas por TCE, que eram de 123,7 milhões em 2008, atingiram 278 milhões em 2019.
- (E) Foram hospitalizados, 70,5 mil motociclistas lesionados em acidentes em 2011.

10. De acordo com a norma-padrão, a lacuna em – Traumas geram sequelas que exigem tratamentos custosos para reabilitação do paciente e podem _____ para a vida profissional. – deve ser preenchida com:

- (A) lhe incapacitar
- (B) incapacitá-lo
- (C) incapacitar ele
- (D) incapacitar-lhe
- (E) incapacitar-no

Leia o poema para responder às questões de números 11 a 15.

Minha terra

Saí menino de minha terra.
Passei trinta anos longe dela.
De vez em quando me diziam:
Sua terra está completamente mudada,
Tem avenidas, arranha-céus...
É hoje uma bonita cidade!

Meu coração ficava pequenino.

Revi afinal o meu Recife.
Está de fato completamente mudado.
Tem avenidas, arranha-céus.
É hoje uma bonita cidade.

Diabo leve quem pôs bonita a minha terra!

(Manuel Bandeira, *As cidades e as musas*)

11. A diferença na pontuação dos versos “É hoje uma bonita cidade!” e “É hoje uma bonita cidade.” permite concluir corretamente que o eu lírico expressa

- (A) emoção incontrolável com a revisitação a Recife, o que se comprova com o verso: “Meu coração ficava pequenino.”
- (B) desdém pelas mudanças ocorridas em Recife, o que se comprova com o verso: “Diabo leve quem pôs bonita a minha terra!”
- (C) ojeriza por ter de estar mais uma vez em Recife, o que se comprova com o verso: “Está de fato completamente mudado.”
- (D) contentamento por visitar o seu Recife de outrora, o que se comprova com o verso: “Passei trinta anos longe dela.”
- (E) desprezo pela cidade miserável que é Recife onde nasceu há trinta anos, o que se comprova com o verso: “Tem avenidas, arranha-céus.”

12. No verso – Está de fato completamente mudado. –, as expressões “de fato” e “completamente” exprimem, correta e respectivamente, sentidos de

- (A) intensidade e meio.
- (B) dúvida e modo.
- (C) lugar e afirmação.
- (D) afirmação e intensidade.
- (E) modo e dúvida.

13. Assinale a alternativa que atende à norma-padrão de concordância nominal e de concordância verbal.

- (A) Avenidas e arranha-céus tornaram o meu Recife bonito, bastante diferente de trinta anos atrás.
- (B) Diziam para mim que, em Recife, haviam avenidas e arranha-céus maravilhosos a embelezá-la.
- (C) Ao longo de trinta anos, aconteceu mudanças em Recife, com bastante avenidas e arranha-céus.
- (D) O meu Recife, hoje, dispõem de muitas avenidas e arranha-céus esplendorosos a embelezá-lo.
- (E) Foi trinta anos longe de Recife, até rever essa cidade, com suas amplas avenidas e arranha-céus.

14. O eu lírico estava ansioso _____ rever o seu Recife e não discordou _____ quem lhe afirmara _____ a cidade estava bonita.

De acordo com a norma-padrão, as lacunas do enunciado devem ser preenchidas, respectivamente, com:

- (A) por ... de ... que
- (B) em ... com ... de que
- (C) a ... contra ... que
- (D) de ... a ... de que
- (E) com ... em ... que

15. A colocação pronominal atende à norma-padrão em:

- (A) Me diziam que Recife estava bonita e meu coração, então, ficava pequenininho.
- (B) Quando falavam-me de Recife, aludiam a suas avenidas e a seus arranha-céus.
- (C) Recife tinha transformado-se em uma cidade cheia de avenidas e arranha-céus.
- (D) Disseram que construíram-se avenidas e arranha-céus para embelezar meu Recife.
- (E) Há 30 anos deixei Recife e hoje a reencontrei transformada numa bonita cidade.

16. Uma empresa tem certo número de departamentos, e todos os funcionários da empresa participaram uma única vez de uma palestra sobre primeiros socorros. Essa palestra foi oferecida 5 vezes, e, na primeira vez, participaram 11 funcionários de cada departamento. A segunda palestra contou com a presença de 9 funcionários de cada departamento, e a terceira palestra, com 15 funcionários de cada departamento. Na quarta palestra, de metade dos departamentos, foram chamados 8 funcionários, e, da outra metade, 7 funcionários. A quinta palestra contou com a presença de todos os funcionários que ainda não tinham participado, num total de 175. Se a primeira palestra teve 21 funcionários a menos que a última, o total de funcionários dessa empresa é

- (A) 630.
- (B) 650.
- (C) 700.
- (D) 770.
- (E) 820.

17. O fluxo de veículos em certo trecho de uma via é controlado por dois semáforos que possuem apenas a luz verde (indicando que a passagem está liberada) e a luz vermelha (indicando proibição de passagem). Um desses semáforos fica com a luz verde acesa por 1 minuto e 10 segundos, e outro, por 2 minutos e 30 segundos, e passam, ao fim de cada fase verde, para a fase vermelha. Esses dois semáforos ficam 50 segundos na fase vermelha, passando em seguida para a fase verde. Considerando que à 0h de certo dia os dois semáforos iniciaram a liberação de passagem, nesse dia, o último momento em que esses semáforos iniciaram a fase vermelha foi às

- (A) 23h59min10s.
- (B) 23h59min20s.
- (C) 23h59min30s.
- (D) 23h59min40s.
- (E) 23h59min50s.

18. O *Tour de France* é uma competição anual de ciclismo realizada na França. Considerando um grupo de 500 ciclistas, no fim de 2018, alguns já tinham participado uma única vez do *Tour de France*, e os demais nunca participaram. No fim de 2021, entre os que já tinham participado até o fim de 2018, 20% participaram mais duas vezes nesse *Tour*, 35% participaram mais uma vez, e os demais não voltaram a participar. Considerando os que nunca tinham participado até o fim de 2018, 30 participaram uma primeira e única vez, 25% participaram em 2019 e 2020, e os demais continuaram sem participar dessa competição. Se no fim de 2021 a soma de todas as participações no *Tour* feitas por esses ciclistas era igual a 555, o número desses ciclistas que já tinham participado do *Tour* até o final de 2018 era

- (A) 180.
- (B) 200.
- (C) 220.
- (D) 240.
- (E) 260.

19. Em uma cidade, a razão entre o número de pessoas e o número de animais domésticos é de $\frac{12}{5}$. Se o número de

pessoas dessa cidade aumentar em 15%, e o número de animais domésticos diminuir em 924, a razão indicada passará a ser de $\frac{15}{4}$. O número atual de pessoas na

cidade é

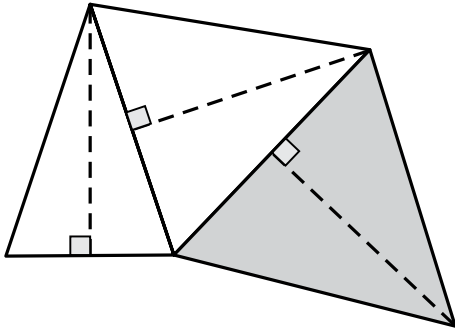
- (A) 8000.
- (B) 8400.
- (C) 8800.
- (D) 9200.
- (E) 9600.

20. Uma empresa produz um certo tipo de peça e as embala em um lote do tipo L, que contém um determinado número de peças ou em um lote do tipo P, que contém o dobro de peças do lote L. Para produzir peças para 12 lotes do tipo L, 3 máquinas idênticas devem funcionar por 5 horas. Para produzir peças para 20 lotes do tipo P, 8 dessas mesmas máquinas devem funcionar por

- (A) 6 horas.
- (B) 6 horas e 15 minutos.
- (C) 6 horas e 30 minutos.
- (D) 6 horas e 45 minutos.
- (E) 7 horas.

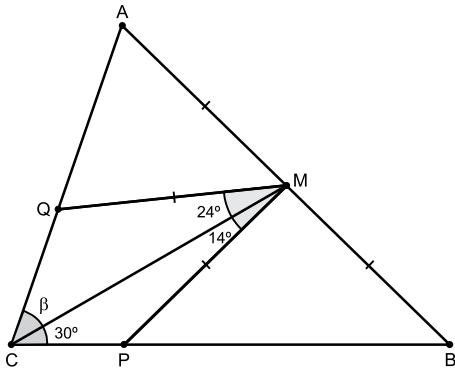
21. Um grupo de amigos combinou de preparar uma festa. Cada amigo deveria levar dois pratos de iguarias, cada prato contendo um número de iguarias igual ao número de amigos do grupo subtraído de 8. Se o total de iguarias que foram levadas foi 1 768, o algarismo das unidades do número de amigos desse grupo é
- (A) 8.
 - (B) 7.
 - (C) 6.
 - (D) 5.
 - (E) 4.
22. Uma livraria fez uma promoção para vender todos os 235 livros de determinado autor que tinha em estoque. Em 3 dias, todos os livros foram vendidos, de maneira que, no primeiro dia, foi vendido um quarto do total vendido nos outros dois dias, e, no segundo dia, foram vendidos 22 livros a mais do que no terceiro dia. O total de livros desse autor que foram vendidos no primeiro dia foi
- (A) 47.
 - (B) 48.
 - (C) 49.
 - (D) 50.
 - (E) 51.
23. Um ciclista percorreu uma certa distância em alguns dias e, após ter percorrido 330 km, ele trocou um dos pneus da bicicleta por um pneu estepe, de maneira que, considerando os 3 pneus usados durante todo o trajeto, a média aritmética do número de quilômetros percorridos por pneu foi 400 km. A distância percorrida pelo pneu menos usado, ou seja, o que percorreu a menor distância, foi
- (A) 90 km.
 - (B) 110 km.
 - (C) 270 km.
 - (D) 330 km.
 - (E) 400 km.

24. Três triângulos isósceles possuem lados em comum, conforme mostra a figura, em que as linhas tracejadas representam alturas de 6 cm, e o triângulo de maior área está destacado.



Se a menor área entre esses triângulos é 12 cm^2 , o triângulo de maior área tem

- (A) $2\sqrt{48} \text{ cm}^2$
 - (B) $2\sqrt{72} \text{ cm}^2$
 - (C) $3\sqrt{40} \text{ cm}^2$
 - (D) $3\sqrt{42} \text{ cm}^2$
 - (E) $3\sqrt{46} \text{ cm}^2$
25. Em um triângulo ABC, o ponto M divide o lado AB em duas partes de mesma medida, e os pontos P e Q estão sobre os lados desse triângulo, de modo que $MP = MQ = MA$, conforme mostra a figura.



A medida do ângulo β é

- (A) 38° .
- (B) 39° .
- (C) 40° .
- (D) 41° .
- (E) 42° .

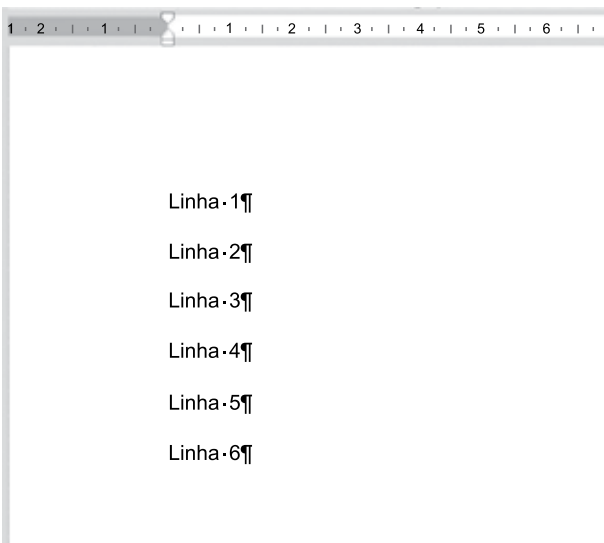
26. Tem-se a seguinte planilha, criada no Microsoft Excel 2016, em sua configuração-padrão.

	A	B	C
1	8	7	13
2	12	10	6
3	7	12	8
4			
5			

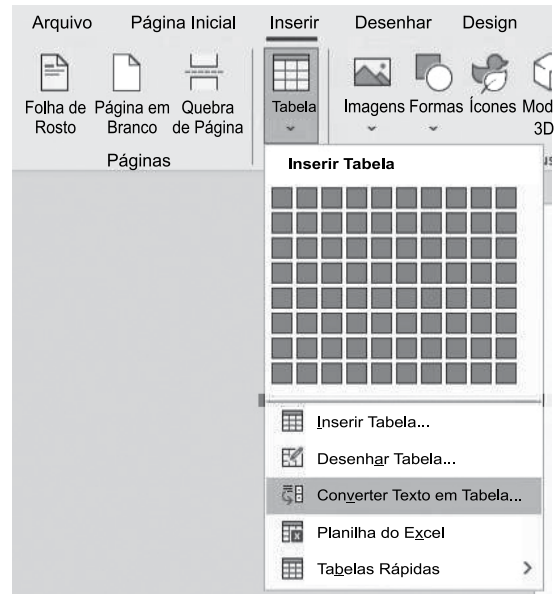
Para contar a quantidade de células entre A1 e C3 que possuem valor maior do que 10 e menor do que 13, e exibir o resultado na célula A5, é preciso inserir na célula A5 a fórmula

- (A) =CONT.SE(A1:C3;"<13") - CONT.SE(A1:C3;">10")
- (B) =CONT.SES(A1:C3;">10";A1:C3;"<13")
- (C) =CONT.SE(A1:C3;E(">10";"<13"))
- (D) =CONT.SES(A1:C3;">10";"<13")
- (E) =CONT.SE(A1:C3;"<13") / CONT.SE(A1:C3;">10")

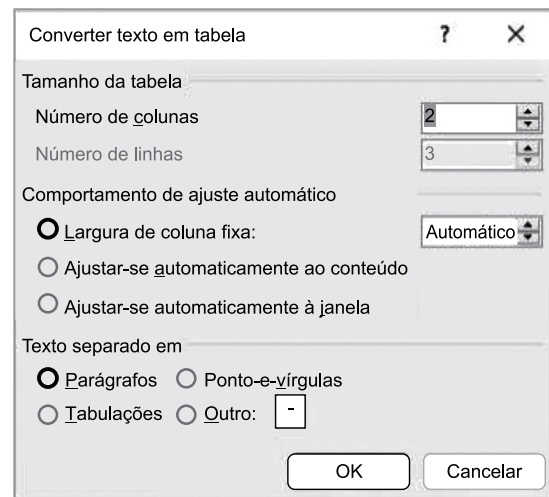
27. Tem-se o seguinte documento, criado no Microsoft Word 2016, em sua configuração-padrão, com as marcas de parágrafo ativadas.



Um usuário selecionou todo o texto, e selecionou a opção Converter Texto em Tabela... a partir do ícone Tabela, grupo Tabelas, guia Inserir, conforme imagem a seguir.



Finalmente, configurou a janela Converter texto em tabela para ser 2 colunas e 3 linhas, conforme imagem a seguir.



Assinale a alternativa com o resultado correto dessa ação, mostrado sem as marcas de parágrafo.

- (A)

Linha 1	
Linha 2	
Linha 3	
Linha 4	
Linha 5	
Linha 6	
- (B)


Linha 1	
Linha 2	
Linha 3	
- (C)

Linha 1	
Linha 2	
Linha 3	
Linha 4	
Linha 5	
Linha 6	
- (D)

Linha 1	Linha 2
Linha 3	Linha 4
Linha 5	Linha 6
- (E)

Linha 1	
Linha 2	
Linha 3	
Linha 4	
Linha 5	
Linha 6	

28. Tem-se a seguinte imagem, do Explorador de Arquivos do Microsoft Windows 10, em sua configuração original.

<input type="checkbox"/> Nome	Data de modificação	Tipo	Tamanho
 Projeto.docx.txt	25/04/2023 21:33	Documento de Texto	5 KB

Ao efetuar um duplo clique sobre o arquivo da imagem, com o botão primário do mouse,

- (A) será aberto o Microsoft Word com o conteúdo do arquivo Projeto.docx.txt.
- (B) serão abertos ambos o Bloco de Notas e o Microsoft Word com o conteúdo do arquivo Projeto.docx.txt.
- (C) será aberto o Bloco de Notas com o conteúdo do arquivo Projeto.docx.txt.
- (D) o Windows irá apresentar um erro.
- (E) nenhum aplicativo será aberto.

29. Em uma apresentação com 6 slides, criada no Microsoft PowerPoint 2016, em sua configuração-padrão, um usuário configurou os slides da seguinte forma:

Slide 1: não oculto

Slide 2: oculto

Slide 3: não oculto

Slide 4: oculto

Slide 5: oculto

Slide 6: não oculto

Não existem transições ou animações configuradas. No slide 1, existe um botão de ação com hiperlink para o próximo slide. Ao iniciar o Modo de Apresentação pressionando a tecla F5, o slide 1 é exibido. Ao clicar no botão de ação, é apresentado o slide _____. Ao pressionar ENTER, é exibido o slide _____. Ao pressionar End, é exibido o slide _____. Ao pressionar Seta para Cima, é exibido o slide _____.

Assinale a alternativa que preenche, correta e respectivamente, as lacunas do texto.

- (A) 2, 3, 6, 3
- (B) 2, 3, 6, 5
- (C) 3, 3, 6, 3
- (D) 3, 4, 6, 5
- (E) 3, 6, 6, 3

30. Considere as características de uma mensagem de correio eletrônico, preparada no Microsoft Outlook 2016, em sua configuração original:

De: Paulo

Para: Joana

Cc: Andreia

Cco: Ricardo

Assunto: Renato

Após Paulo clicar em enviar, a mensagem foi gravada e permaneceu na pasta Caixa de Saída do computador de Paulo.

Quanto ao recebimento da mensagem, é correto afirmar que

- (A) nenhum dos usuários recebeu.
- (B) apenas Joana recebeu.
- (C) apenas Joana e Andreia receberam.
- (D) apenas Joana, Andreia e Ricardo receberam.
- (E) Joana, Andreia, Ricardo e Renato receberam.

CONHECIMENTOS ESPECÍFICOS

CONTABILIDADE GERAL

Os dados a seguir serão utilizados para responder às questões 31 e 32.

A Cia Santo André apresentou os seguintes saldos de suas contas contábeis em 30 de junho de 2023:

Conta contábil	Valor (em R\$)
Amortização acumulada	4.500,00
Aplicação financeira (30 dias)	500.000,00
Ativo imobilizado	2.000.000,00
Ativo intangível	245.000,00
Bancos	450.000,00
Caixa	3.500,00
Capital social	2.000.000,00
Clientes	900.000,00
Custo da mercadoria vendida	1.800.000,00
Depreciação acumulada	235.000,00
Despesa com amortização	1.500,00
Despesa com IR e CSLL	85.000,00
Despesa com perda estimada de crédito	5.000,00
Despesa com salários	500.000,00
Despesa financeira	12.500,00
Despesas administrativas	120.000,00
Despesas com vendas	300.000,00
Despesas de depreciação	25.000,00
Dividendos a pagar	80.000,00
Duplicatas descontadas	1.000.000,00
Encargos financeiros a apropriar	137.500,00
Estoques	780.000,00
Fornecedores	800.000,00
Imposto de renda a pagar	230.000,00
Notas promissórias a pagar	339.500,00
Perda estimada de crédito de liquidação duvidosa (PECLD)	45.000,00
Propriedades para investimento	1.000.000,00
Receita financeira	9.500,00
Receita líquida	3.000.000,00
Reservas de capital	531.500,00
Reservas de lucros	80.500,00
Salários a pagar	670.000,00

31. O resultado líquido em 30 de junho de 2023 totalizou, em:

- (A) R\$ 1.200.000,00.
- (B) R\$ 500.000,00.
- (C) R\$ 245.500,00.
- (D) R\$ 160.500,00.
- (E) R\$ 80.000,00.

32. No Balanço Patrimonial, referente a 30 de junho de 2023, o saldo do ativo não circulante apresentou um total de:

- (A) R\$ 5.594.000,00.
- (B) R\$ 3.005.500,00.
- (C) R\$ 2.982.000,00.
- (D) R\$ 2.612.000,00.
- (E) R\$ 2.558.500,00.

33. Uma entidade adquiriu, à vista, um veículo para utilização em suas atividades comerciais por R\$ 500.000,00. Em 01 de junho de 2023, a máquina foi instalada e começou a ser utilizada.

Considerando que a vida útil do bem é de 8 anos e que o fabricante não prevê a existência de valor residual, a despesa com depreciação da entidade registrada no 3º trimestre de 2023 totalizou, em:

- (A) R\$ 0,00.
- (B) R\$ 5.208,30.
- (C) R\$ 15.625,00.
- (D) R\$ 20.833,30.
- (E) R\$ 62.500,00.

34. A _____ ajuda a garantir aos usuários que as informações representem de forma fidedigna os fenômenos econômicos que pretendem representar. Isso significa que diferentes observadores bem informados e independentes podem chegar ao consenso, embora não a acordo necessariamente completo, de que a representação específica é representação fidedigna.

O conceito que preenche a lacuna e torna a afirmação verdadeira, conforme o CPC 00 é:

- (A) Compreensibilidade.
- (B) Fidedignidade.
- (C) Neutralidade.
- (D) Prudência.
- (E) Verificabilidade.

35. O ente federal transferiu para um ente municipal hipotético o valor de R\$ 1.200.000,00 referente ao fundo de participação constitucional.

Considerando essa informação, é correto afirmar que no município (ente receptor), no momento efetivo do ingresso do recurso, deverá ser realizado, no sistema patrimonial, o registro devedor de

- (A) caixa e equivalentes de caixa.
- (B) contas a receber.
- (C) receita orçamentária de capital.
- (D) variação patrimonial aumentativa.
- (E) variação patrimonial diminutiva.

36. A autorização legislativa para a realização da despesa constitui crédito orçamentário, que poderá ser inicial ou adicional. Os créditos adicionais destinados a despesas para as quais não haja dotação orçamentária específica são os denominados:

- (A) complementares.
- (B) especiais.
- (C) discricionários.
- (D) iniciais.
- (E) suplementares.

37. Um ente municipal, após a finalização de um processo licitatório, assinou um contrato com fornecedor no valor de R\$ 950.000,00 para entrega de materiais de suprimentos para a prefeitura em 01 de março de 2023.

Em 06 de julho de 2023 (dia do recebimento), o fornecedor entregou os materiais previstos no contrato e o ordenador da despesa, após conferência, atestou a conformidade da entrega dos materiais contratados.

Considerando essas informações, é correto afirmar que no dia

- (A) da assinatura do contrato, a despesa foi liquidada.
- (B) da assinatura do contrato, foi registrada uma variação patrimonial diminutiva.
- (C) do recebimento do material, a despesa foi empenhada.
- (D) do recebimento do material, a receita foi arrecadada.
- (E) do recebimento do material, foi registrada uma variação patrimonial diminutiva.

38. Assinale a alternativa que contém a denominação dada às despesas orçamentárias para cobertura de despesas de instituições privadas de caráter assistencial ou cultural, sem finalidade lucrativa, conforme a Lei nº 4.320/64.

- (A) Assistência social.
- (B) Previdência social.
- (C) Subvenções econômicas.
- (D) Subvenções sociais.
- (E) Transferência voluntária.

39. O Secretário Municipal de Obras da Prefeitura do Município "X", no momento da assinatura de contrato com empreiteira vencedora de licitação para realização de obra no Município, deu-se conta de que a lei orçamentária vigente não trouxe crédito orçamentário com a abrangência necessária para lastrear a referida despesa decorrente desse contrato. Em face disso, o Secretário Municipal realizou o empenho da despesa à conta de crédito orçamentário destinado a fazer frente a despesas administrativas da Secretaria, ao mesmo tempo em que alertou o Secretário Municipal da Fazenda para a necessidade da abertura de crédito adicional para a correção do referido empenho. Com base nessa situação hipotética, é correto afirmar que

- (A) a conduta do secretário configura violação da vedação constitucional à transposição, ao remanejamento ou à transferência de recursos de uma categoria de programação, sem prévia autorização legislativa.
- (B) por se tratar de empenho de natureza temporária, a conduta do secretário se apresenta como integralmente compatível com o princípio orçamentário do conservadorismo.
- (C) eventual abertura de crédito adicional seria realizada mediante Portaria do Secretário Municipal da Fazenda, na modalidade crédito adicional suplementar, considerando-se a inexistência prévia do programa de trabalho específico.
- (D) a não indicação na licitação dos créditos orçamentários que deveriam lastrear a futura despesa está em linha com a anualidade do orçamento municipal e com o princípio orçamentário do planejamento.
- (E) eventual abertura de crédito adicional seria realizada mediante Decreto do Chefe do Poder Executivo, na modalidade crédito adicional suplementar, considerando-se a inexistência prévia do programa de trabalho específico.

40. Entende-se por excesso de arrecadação, com base na Lei nº 4.320/1964,

- (A) o saldo positivo das diferenças acumuladas mês a mês entre a arrecadação prevista e a realizada, desconsiderando-se a tendência do exercício.
- (B) o saldo positivo das diferenças entre a arrecadação prevista e a realizada, após encerrado o exercício fiscal, apurado em balanço patrimonial do exercício anterior.
- (C) o saldo positivo das diferenças acumuladas mês a mês entre a arrecadação prevista e a realizada, considerando-se, ainda, a tendência do exercício.
- (D) a diferença positiva entre o ativo financeiro e o passivo financeiro, conjugando-se, ainda, os saldos dos créditos adicionais transferidos e as operações de crédito a eles vinculadas.
- (E) a diferença positiva entre o ativo financeiro e o passivo financeiro, desconsiderando-se os saldos dos créditos adicionais transferidos e as operações de crédito a eles vinculadas.

- 41.** Segundo a jurisprudência dos tribunais superiores no Brasil, em regra, o valor cobrado dos usuários pelos serviços de água e esgoto prestados por concessionária de serviço público tem natureza jurídica de
- (A) contribuição econômica, em razão do caráter compulsório da cobrança.
 - (B) taxa, em razão do caráter compulsório da utilização do serviço.
 - (C) preço privado, em razão da equivalência dos regimes jurídicos das empresas estatais e privadas que explorem atividade econômica.
 - (D) contribuição social, em razão de se tratar de serviço público de caráter essencial.
 - (E) preço público, por ser o pagamento devido apenas para aqueles que pretendam se beneficiar do serviço.
- 42.** A respeito do imposto sobre a propriedade predial e territorial urbana ("IPTU"), é correto afirmar com base na legislação nacional que
- (A) é cobrado apenas em razão da propriedade, não sendo passível de cobrança sobre aquele que apenas detém o domínio útil do bem imóvel.
 - (B) é passível de cobrança sobre imóveis situados fora da zona urbana definida em lei, quando situados em área legalmente definida como urbanizável ou de expansão urbana.
 - (C) exige para a sua cobrança que o logradouro no qual o imóvel esteja situado seja servido de meio-fio ou calçamento com canalização de águas pluviais, bem como de sistema de esgotos.
 - (D) pode ser cobrado sobre bens imóveis por natureza, mas não sobre os bens imóveis por acessão física, sobre os quais se aplica o imposto sobre propriedade territorial rural, de competência estadual.
 - (E) não cabe à lei municipal a escolha do sujeito passivo da obrigação, quando a propriedade e a posse do imóvel recaiam sobre indivíduos distintos.
- 43.** Durante quantos meses uma aplicação de \$ 35.000,00 poderá gerar um montante de \$ 53.375,00 considerando a taxa de 30% ao ano?
- (A) 12 meses.
 - (B) 14 meses e 3 dias.
 - (C) 17 meses e 15 dias.
 - (D) 19 meses e 8 dias.
 - (E) 21 meses.
- 44.** Qual é a taxa para 183 dias, equivalente a 65% ao ano?
- (A) 13,75%
 - (B) 18,72%
 - (C) 28,99%
 - (D) 31,10%
 - (E) 38,22%
- 45.** Qual o valor do desconto simples de um título de \$ 3.400,00 com vencimento para 90 dias, à taxa de 2,5% ao mês?
- (A) \$ 255,00.
 - (B) \$ 250,00.
 - (C) \$ 245,00.
 - (D) \$ 235,00.
 - (E) \$ 215,00.

46. Um mutuário contrata um empréstimo no valor de \$ 2.000,00 para ser quitado por \$ 2.400,00 ao final do ano. Sabendo que o banco desconta do valor emprestado 2,13% de Imposto sobre Operações Financeiras (IOF) e mais 2% como despesa de cadastro, e que a taxa de inflação no período foi de 6,30%, as taxas efetiva e real são:

- (A) 27,0% e 20,0%
- (B) 25,17% e 17,75%
- (C) 24,22% e 18,34%
- (D) 23,92% e 19,30%
- (E) 22,0% e 20,0%

R A S C U N H O

MERCADO FINANCEIRO

47. O Sistema Financeiro Nacional é composto por instituições que estão divididas em três grupos: órgãos normativos, entidades supervisoras e operadores. Fazem parte do grupo entidades supervisoras:

- (A) Conselho Monetário Nacional, Conselho Nacional de Previdência e Conselho de Valores Mobiliários.
- (B) Banco Central do Brasil, Superintendência de Seguros Privados e Sociedades de Capitalização.
- (C) Banco Central do Brasil, Comissão de Valores Mobiliários, Superintendência de Seguros Privados e Superintendência Nacional de Previdência Complementar.
- (D) Comissão de Valores Mobiliários, Superintendência de Seguros Privados, Superintendência Nacional de Previdência Complementar e Fundos de Pensão.
- (E) Banco Central do Brasil, Bolsa de Valores, Bancos de Mercadorias e Futuros e Superintendência Nacional de Previdência Complementar.

48. É um título de renda fixa, emitido por bancos comerciais, bancos de investimentos e sociedades de crédito, sendo o valor investido somente passível de resgate na data de vencimento. Trata-se do

- (A) Certificado de Operações Estruturadas (COE).
- (B) Recibo de Depósito Bancário (RDB).
- (C) Crédito Imobiliário (LCI).
- (D) Certificado de Depósito Bancário (CDB).
- (E) Fundo Financeiro do Tesouro (FFT).

49. Existem basicamente três modalidades de títulos emitidos pelo Tesouro Nacional, sendo um deles com rendimento definido na Selic, qual seja:

- (A) LTN (Letra do Tesouro Nacional).
- (B) LBC (Letra do Banco Central).
- (C) NTN (Nota do Tesouro Nacional).
- (D) Tesouro Selic.
- (E) LTN+ (Letra do Tesouro Nacional plus).

50. São considerados recursos disponíveis para fins de abertura de créditos suplementares e especiais, conforme disposto na Lei nº 4.320/1964:

- (A) o superávit financeiro apurado em balanço patrimonial do exercício anterior.
- (B) a arrecadação tributária prevista na PLOA (Projeto de Lei Orçamentária Anual).
- (C) o saldo de empenho obtido no decorrer da execução orçamentária.
- (D) a receita obtida com prestação de serviços financeiros.
- (E) a diferença entre dotação e liquidação orçamentária.

