



PREFEITURA MUNICIPAL DE LINS

ESTADO DE SÃO PAULO

CONCURSO PÚBLICO

010. PROVA OBJETIVA

FISCAL DE TRIBUTOS

- ◆ Você recebeu sua folha de respostas e este caderno contendo 50 questões objetivas.
- ◆ Confira seus dados impressos na capa deste caderno e na folha de respostas.
- ◆ Quando for permitido abrir o caderno, verifique se está completo ou se apresenta imperfeições. Caso haja algum problema, informe ao fiscal da sala para a devida substituição deste caderno.
- ◆ Leia cuidadosamente todas as questões e escolha a resposta que você considera correta.
- ◆ Marque, na folha de respostas, com caneta de tinta preta, a letra correspondente à alternativa que você escolheu.
- ◆ A duração da prova é de 3 horas, já incluído o tempo para o preenchimento da folha de respostas.
- ◆ Só será permitida a saída definitiva da sala e do prédio após transcorridas 2 horas do início da prova.
- ◆ Deverão permanecer em cada uma das salas de prova os 3 últimos candidatos, até que o último deles entregue sua prova e assine o termo respectivo.
- ◆ Ao sair, você entregará ao fiscal a folha de respostas e este caderno.
- ◆ Até que você saia do prédio, todas as proibições e orientações continuam válidas.

AGUARDE A ORDEM DO FISCAL PARA ABRIR ESTE CADERNO.

Nome do candidato

RG

Inscrição

Prédio

Sala

Carteira

CONHECIMENTOS GERAIS

LÍNGUA PORTUGUESA

Leia o anúncio do jornal para responder às questões de números **01** a **03**.



VEM AÍ

MAIO AMARELO

[2024]

Especial multimídia traz um panorama sobre novas iniciativas destinadas _____ conscientizar _____ população sobre o papel de cada um por um trânsito mais seguro.

E você pode aliar _____ sua marca _____ esse movimento! Saiba como:

A PAZ NO TRÂNSITO COMEÇA POR VOCÊ

(O Estado de S.Paulo, 12 de abril de 2024. Adaptado)

01. De acordo com a norma-padrão, as lacunas devem ser preenchidas, correta e respectivamente, com:

- (A) à ... a ... a ... à
- (B) a ... à ... a ... a
- (C) à ... à ... a ... à
- (D) a ... a ... a ... a

02. Assinale a alternativa que apresenta as duas palavras do texto que pertencem à mesma classe gramatical da palavra destacada em: **MAIO AMARELO**.

- (A) multimídia, sobre.
- (B) panorama, população.
- (C) especial, novas.
- (D) iniciativas, você.

03. A alternativa que completa, corretamente, a seguinte frase do texto, reescrita, de acordo com a norma-padrão de regência verbal, é:

A paz no trânsito...

- (A) provém a você.
- (B) necessita em você.
- (C) depende de você.
- (D) precisa por você.

Considere a letra da música a seguir, para responder às questões de números 04 a 07.

Sapato 36

Eu calço é 37
Meu pai me dá 36
Dói, mas no dia seguinte
Aperto meu pé outra vez

Pai eu já tô crescidinho
Pague prá ver, que eu aposto
Vou escolher meu sapato
E andar do jeito que eu gosto

Por que cargas d'águas
Você acha que tem o direito
De afogar tudo aquilo que eu
Sinto em meu peito
Você só vai ter o respeito que quer
Na realidade
No dia em que você souber respeitar
A minha vontade
Meu pai

Pai já tô indo-me embora
Quero partir sem brigar
Pois eu já escolhi meu sapato
Que não vai mais me apertar

(Raul Seixas)

04. A partir da leitura do texto, é correto afirmar que

- (A) na primeira estrofe, o eu lírico demonstra conformismo em aceitar o que o pai lhe impõe.
- (B) na terceira estrofe, o eu lírico reconhece que o pai tem consciência do respeito que deve ao filho.
- (C) em – Vou escolher meu sapato –, o eu lírico debocha das escolhas de sapatos feitas pelo pai.
- (D) a quarta estrofe evidencia o gênio violento e desrespeitoso que o eu lírico tem em relação ao pai.

05. O tema da letra da música gira em torno de:

- (A) busca da independência econômica devido às brutais agressões verbais.
- (B) afirmação da própria identidade frente a imposições familiares.
- (C) afinidade de gostos nas escolhas das diferentes gerações.
- (D) brigas violentas na infância, resultando em quebra dos vínculos afetivos.

06. Na terceira estrofe, há palavra empregada em sentido figurado na alternativa:

- (A) direito.
- (B) afogar.
- (C) respeito.
- (D) realidade.

07. Leia os versos:

Dói, **mas** no dia seguinte
Aperto meu pé outra vez
[...]
Pois eu já escolhi meu sapato
Que não vai mais me apertar

Os termos em destaque expressam, correta e respectivamente, sentido de

- (A) explicação e causa.
- (B) conformidade e conclusão.
- (C) conclusão e concessão.
- (D) oposição e explicação.

08. Leia a tira.

O melhor de Calvin Bill Watterson



(O Estado de S.Paulo, 11 de abril de 2024)

Considerando a norma-padrão, assinale a alternativa que apresenta a afirmação correta a respeito do fato linguístico.

- (A) No 1º quadrinho, a expressão “Daqui a pouco” deve ser corrigida para “Daqui há pouco”.
- (B) A frase do tigre no 1º quadrinho – Será que ela lembra que você trancou ... – tem a correta redação em – Será que ela lembra de que você trancou ...
- (C) Na frase do 2º quadrinho – Se lembrar, estamos fritos! – a incorreção está em se iniciar a frase com pronome pessoal do caso oblíquo.
- (D) No 2º quadrinho, a frase – Os outros garotos que ela toma conta. – deve ter a redação corrigida para – Os outros garotos de quem ela toma conta.

Leia o texto a seguir e responda às questões de números **09 a 15**.

O método Jokic

Muitos entusiastas do basquetebol foram cativados pelo esporte influenciados pelo excepcional Michael Jordan. O esporte naturalmente evolui, e suas dificuldades também; os ídolos se renovam com o tempo. Basta lembrar do nosso “Mão Santa”, Oscar Schmidt, um dos maiores cestinhas da história do esporte e uma lenda do basquetebol brasileiro.

Gostaria de destacar um jogador de basquete profissional cujo talento é equiparável ao dos demais que se destacaram, mas com uma particularidade digna de nota. Estou me referindo a Nikola Jokic. Atualmente, ele atua na National Basketball Association (NBA) pela equipe do Denver Nuggets. Foi selecionado apenas como a 41ª escolha geral no *Draft** de 2014, e conquistou o prêmio de Most Valuable Player e a final da temporada 2022-2023 da NBA, quando o Denver Nuggets ganhou o título inédito.

Originalmente situado na posição de pivô (jogador especializado em defender e atacar próximo ao aro); a posição garante a defesa e os bloqueios dos arremessos dos adversários no garrafão**, o atleta é conhecido por suas habilidades versáteis, destacando-se em assistências.

No basquete, a assistência refere-se ao ato de um jogador passar a bola para um companheiro de equipe que, em seguida, converte a cesta. Essa é a habilidade do jogador que cria oportunidades ofensivas para seus colegas; quem presta assistência não marca ponto, mas ajuda o outro a fazê-lo. Enfim, a equipe é a beneficiária. A assistência é a obsessão de Nikola. Ele não quer marcar ponto, quer servir o companheiro.

Essa atitude demonstra uma humildade peculiar e um olhar para o outro que gera confiança, respeito e influência. Seu jogo supre a necessidade alheia, pois é desapegado do objetivo primordial do basquete que normalmente glorifica o jogador: o ponto. Pode-se pensar que a especialização nas assistências seja um subterfúgio para escamotear uma habilidade precária. Nada disso! Nikola Jokic compreende o jogo plenamente. Quando é preciso, ele marca pontos de várias maneiras. A sua polivalência lhe rendeu o apelido *The Joker* (o coringa).

Tudo isso revela um estilo peculiar de liderança que chamo de “o método Jokic”. Quanto mais ele serve a equipe, mais se destaca como referência de liderança. Ele não é um líder ostensivo, mas alguém que lidera por ações para a equipe, não para si. Seu compromisso é com o sucesso coletivo, não com o individual.

Assistir a uma partida com Nikola Jokic é uma lição de liderança, fundamentada numa das mais belas qualidades humanas: a assistência ao outro.

(Fernando F. Rossi. *O Estado de S. Paulo*, 7 de abril de 2024. Adaptado)

* O *Draft* da NBA é o evento mais aguardado da temporada do basquete. É nessa noite que as equipes escolhem os jogadores que farão parte de suas respectivas franquias na próxima temporada e se esses jovens darão bons frutos no futuro.

** garrafão: região retangular que fica próxima à cesta.

09. Na frase do 5º parágrafo – Pode-se pensar que a especialização nas assistências seja um subterfúgio para **escamotear** uma habilidade **precária**. – os termos em destaque têm como sinônimos, correta e respectivamente:

- (A) ludibriar; estável.
- (B) acobertar; contínua.
- (C) esconder; insuficiente.
- (D) ocultar; assídua.

10. De acordo com o texto, a respeito do jogador Nikola, é correto afirmar que

- (A) na seleção para o *Draft*, dentre todos os jogadores, ele teve a melhor classificação.
- (B) seu maior valor está nas defesas e nos bloqueios dos arremessos de sua equipe.
- (C) ele é considerado melhor que Oscar Schmidt e Michael Jordan, hoje esquecidos.
- (D) sua aptidão é comparada à dos jogadores que se sobressairam no basquete.

11. O texto informa que, no jogo de basquetebol, a assistência é uma habilidade que

- (A) é obrigatório estar presente nos famosos jogadores que se destacam nesse esporte.
- (B) se volta para o sucesso do grupo, o que evidencia a característica de modéstia.
- (C) está a serviço da individualidade e da fama, embora atenda a necessidade de outros.
- (D) proporciona ponto ao jogador toda vez que ele ajuda o companheiro a fazer cesta.

12. Assinale a alternativa em que, na frase do texto, a mudança de colocação do pronome indicada nos parênteses contraria a norma-padrão.

- (A) Pode-se pensar que a especialização... – 5º parágrafo – (Se pode pensar que a especialização...)
- (B) A sua polivalência lhe rendeu o apelido... – 5º parágrafo – (A sua polivalência rendeu-lhe o apelido...)
- (C) Estou me referindo... – 2º parágrafo – (Estou referindo-me...)
- (D) ... os ídolos se renovam com o tempo. – 1º parágrafo – (... os ídolos renovam-se com o tempo.)

13. No trecho final – Assistir a uma partida com Nikola Jokic é uma lição de liderança, fundamentada numa das mais belas qualidades humanas: a assistência ao outro. – os dois pontos foram utilizados para
- (A) realçar um termo.
 - (B) distinguir uma palavra.
 - (C) explicar uma ideia.
 - (D) mostrar uma condição.
14. A frase, construída a partir do texto, que apresenta o emprego do sinal indicativo de crase de acordo com a norma-padrão está na alternativa:
- (A) Assitir **à** um jogo com Nikola é uma lição de liderança.
 - (B) O autor do texto refere-se **às** habilidades do jogador.
 - (C) Seu jogo complementa, com humildade, **à** necessidade alheia.
 - (D) Nikola começa **à** jogar dando assistência aos seus colegas.
15. Assinale a alternativa em que a frase construída a partir do texto apresenta concordância de acordo com a norma-padrão.
- (A) O jogador cria oportunidades ofensivas aos companheiros, as quais lhe garante muito respeito.
 - (B) As habilidades versáteis do jogador o tornam um importante exemplo de liderança.
 - (C) Um dos maiores cestinhas da história do esporte influenciaram muitos jovens.
 - (D) A equipe pode beneficiarem-se intensamente com os atos de humildade do jogador.
16. De acordo com informações que constam no *site* do Instituto Brasileiro de Geografia e Estatística (IBGE), o número total de caminhões e de caminhões tratores, registrados na cidade de Lins, em 2022, era igual a 3089, sendo que existiam 273 caminhões tratores a mais que o número de caminhões.
- Sendo assim, o número de caminhões registrados na cidade de Lins, em 2022, de acordo com o IBGE, era igual a
- (A) 1408.
 - (B) 1410.
 - (C) 1681.
 - (D) 1683.
17. Em um grupo de amigos, todos com carteira de habilitação, a razão entre as quantidades dos que têm habilitação categoria B e dos que têm habilitação categoria C pode ser representada pela fração $\frac{5}{2}$. Se o grupo é composto apenas por motoristas com essas duas categorias de habilitação, e a quantidade de amigos que têm habilitação categoria B é 3 unidades menor que o triplo da quantidade dos que têm habilitação categoria C, então esse grupo é formado por
- (A) 19 pessoas.
 - (B) 21 pessoas.
 - (C) 23 pessoas.
 - (D) 25 pessoas.

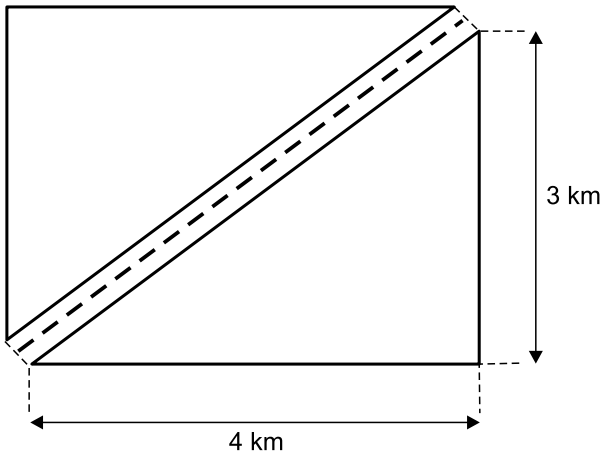
18. A tabela a seguir apresenta, para cada dia da primeira semana de abril de 2024, o número de veículos que inicialmente estavam no pátio de veículos apreendidos, de certo município, bem como os números de veículos que nele chegaram e que foram retirados por seus proprietários ao longo do dia:

| Pátio de veículos apreendidos (números registrados na primeira semana de abril de 2024) | | | |
|--|--|--------------------------------|--|
| | Número de veículos inicialmente no pátio | Número de veículos apreendidos | Número de veículos retirados pelos proprietários |
| Segunda-feira | 45 | 4 | 2 |
| Terça-feira | 47 | 7 | 4 |
| Quarta-feira | 50 | | 3 |
| Quinta-feira | 52 | 4 | 1 |
| Sexta-feira | 55 | 5 | |

Sabendo-se que não houve apreensão nem retirada de veículos no sábado e no domingo imediatamente posterior à sexta-feira que consta na tabela, e que na segunda-feira da semana seguinte o pátio tinha, inicialmente, 57 veículos, é correto afirmar que, na primeira semana de abril de 2024, o número de veículos retirados pelos donos, na sexta-feira, correspondeu, do número de veículos apreendidos, na quarta-feira, a:

- (A) 30%
- (B) 40%
- (C) 50%
- (D) 60%
19. A média aritmética simples das atuais idades de três motoristas é 33 anos, sendo que o mais novo tem 28 anos, e a diferença entre as idades dos outros dois motoristas é de 9 anos. Se o motorista com a maior idade faz aniversário no próximo mês, então é verdade que ele completará
- (A) 38 anos.
- (B) 39 anos.
- (C) 40 anos.
- (D) 41 anos.

20. No quarteirão originalmente retangular de um bairro planejado que está sendo construído, com comprimento de 4 km e largura de 3 km, decidiu-se fazer uma rua de mão dupla, conforme representado na figura a seguir, em que a linha pontilhada separa as duas mãos da rua que será feita:



A previsão de custo para asfaltar a rua que será construída foi feita por metro linear, ou seja, pelo comprimento da rua, uma vez que sua largura será constante, sendo de R\$ 90,00 cada metro linear de asfalto. Desta forma, a previsão de custo para asfaltar a rua é de

- (A) R\$ 430.000,00.
 (B) R\$ 440.000,00.
 (C) R\$ 450.000,00.
 (D) R\$ 460.000,00.
21. Em um concurso público, os salários de dois dos cargos oferecidos eram distintos, sendo que o maior deles, de R\$ 2.760,00, era 15% mais alto que o menor dos salários. A diferença entre esses dois salários era de
- (A) R\$ 360,00.
 (B) R\$ 370,00.
 (C) R\$ 398,00.
 (D) R\$ 414,00.
22. Um total de 270 motocicletas novas, todas iguais, precisam ser organizadas em filas, sendo que em cada fila, as motos serão colocadas lado a lado, com todas as filas contendo o mesmo número de motocicletas. Após alguns estudos do local em que essas motos ficarão, foi possível identificar que o número de filas deve ser três unidades maior que o número de motocicletas em cada fila. Contando-se todas as motocicletas que ficarão nas cinco primeiras filas, tem-se o total de
- (A) 75.
 (B) 80.
 (C) 85.
 (D) 90.

23. Uma caixa d'água, no formato interno de paralelepípedo reto, tem a altura igual à medida de uma das arestas da base, e está com três quartos do seu volume ocupado com água, o que corresponde a 9 mil litros de água, ou seja, 9 m^3 . Se a outra aresta da base mede 3 m, a área da base dessa caixa d'água é de:

- (A) $9,0 \text{ m}^2$
- (B) $7,5 \text{ m}^2$
- (C) $6,0 \text{ m}^2$
- (D) $4,5 \text{ m}^2$

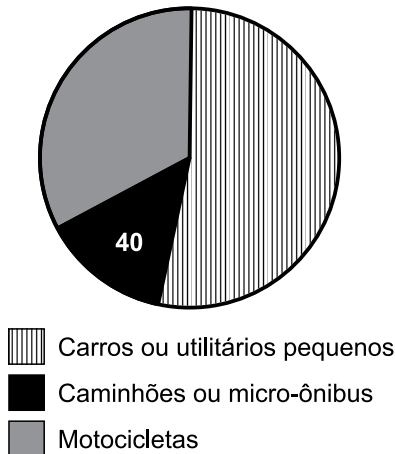
24. Dois rolos de fita de sinalização zebraada, um com 180 m, e outro com 300 m de comprimento de fita, serão divididos em partes, todas com o mesmo comprimento, o maior possível, sem desperdício, para um curso de formação dos novos agentes de trânsito contratados em determinado município.

O número de partes que será obtido do rolo com o maior comprimento de fita será igual a

- (A) 8.
- (B) 6.
- (C) 5.
- (D) 4.

25. Do total de infrações de trânsito cometidas em determinado município, em abril de 2024, o gráfico representa algumas informações sobre a distribuição dessas infrações, de acordo com a categoria dos veículos com as quais foram cometidas essas infrações:

Infrações cometidas – abril 2024



Sabendo-se que, naquele mês, o setor correspondente às infrações cometidas com caminhões ou micro-ônibus, em número de 40, tinha medida de ângulo central igual a 48° , e que o ângulo central do setor correspondente às infrações cometidas com motocicletas tinha medida de 120° , o número de infrações cometidas com carros ou utilitários pequenos foi igual a

- (A) 150.
- (B) 160.
- (C) 170.
- (D) 180.

26. Considere um computador com MS-Windows 10, em sua configuração padrão, contendo as duas pastas locais descritas a seguir:

- Pasta chamada X, contendo os arquivos a.txt e b.docx.
- Pasta chamada Y, contendo os arquivos a.docx e b.docx.

O usuário acessou a pasta X, selecionou todos os arquivos da pasta e, em seguida, pressionou o atalho por teclado Ctrl+X. Acessou a pasta Y, selecionou o arquivo a.docx e pressionou o atalho por teclado Ctrl+V.

Sabendo que o usuário tem permissão para executar todas as ações (e escolheu sobrepor, caso exista mensagem de confirmação de operação), assinale a alternativa que apresenta a quantidade de arquivos na pasta Y, após as ações descritas no enunciado.

- (A) 1
- (B) 2
- (C) 3
- (D) 4

27. Um usuário do MS-Word 2016, em sua configuração padrão, a partir de um novo documento vazio, realizou as seguintes ações, nessa ordem:

- 1 – Pressiona o botão Alinhar à Direita.
- 2 – Digita Projetos.
- 3 – Pressiona Enter.
- 4 – Pressiona o botão Centralizar.
- 5 – Digita De.
- 6 – Pressiona Enter.
- 7 – Digita Sinalização.
- 8 – Pressiona Enter.
- 9 – Pressiona o botão Alinhar à Esquerda.
- 10 – Digita Viária.

Após todas as ações, o número de parágrafos centralizados é

- (A) 1
- (B) 2
- (C) 3
- (D) 4

28. Um agente de trânsito elaborou a planilha a seguir, por meio do MS-Excel 2016, em sua configuração padrão, para trabalhar com valores de taxas de poluição veicular aplicadas.

| | A | B |
|---|------------|--------------|
| 1 | Mês | Valor |
| 2 | Janeiro | R\$ 600,00 |
| 3 | Fevereiro | R\$ 4.500,00 |
| 4 | Março | R\$ 2.700,00 |
| 5 | Abril | R\$ 1.800,00 |
| 6 | | |
| 7 | Calculado | R\$ 2.400,00 |

O agente digitou, na coluna A, a descrição dos meses, e na coluna B, os valores de taxas aplicados no respectivo mês.

Em seguida, na célula B7 colocou uma fórmula para realizar um determinado cálculo com tais dados.

Assinale a alternativa que apresenta a fórmula que resulta no valor exibido na célula B7.





- (A) =MAIOR(B5;2400)
- (B) =MENOR(B3;2400)
- (C) =SOMA(B2:B5)
- (D) =MÉDIA(B2:B5)

29. Um agente de trânsito preparou uma apresentação, por meio do MS-PowerPoint 2016, em sua configuração padrão, sobre atividades de educação no trânsito que pretende organizar, contendo 8 slides, sem nenhum efeito de animação nem efeito de transição. Os slides 3, 5 e 7 estão ocultos. Finalizou a edição do slide 2 e apertou o atalho _____, que iniciou o Modo de Apresentação no slide _____. Ao pressionar a tecla Enter 2 vezes seguidas, o slide _____ foi exibido.

Assinale a alternativa que preenche, correta e respectivamente, as lacunas do enunciado.

- (A) Shift + F5 ... 2 ... 6
- (B) Shift + F5 ... 1 ... 4
- (C) F5 ... 1 ... 3
- (D) F5 ... 2 ... 6

30. Um agente de trânsito, após documentar um processo de remoção de veículo, precisa enviar o relatório preparado, que se encontra em uma pasta local de seu computador, para seu chefe imediato. Ao decidir enviar tal relatório (um arquivo chamado relatorio_remocao.docx) por meio do gmail.com, em sua configuração padrão, abriu a opção para escrever um novo e-mail e, para incluir o arquivo do relatório no e-mail sendo preparado, deve utilizar a opção:

- (A) 
- (B) 
- (C) 
- (D) 

CONHECIMENTOS ESPECÍFICOS

31. De acordo com a definição de tributo expressa no Código Tributário Nacional, assinale a alternativa correta.
- (A) Como regra geral, é admissível o cumprimento da prestação tributária mediante prestações *in natura* ou *in labore*.
 - (B) O tributo deverá ser pago em moeda nacional, exceto no caso do imposto de importação, que deverá ser pago no valor da moeda em que foi realizada a compra.
 - (C) Os tributos só podem ser instituídos por Leis Complementares ou Medidas Provisórias.
 - (D) A cobrança de tributos é realizada por meio de regular processo administrativo, na forma da lei, mediante atividade administrativa plenamente vinculada.
32. A natureza jurídica do tributo é determinada
- (A) pelo fato gerador da respectiva obrigação.
 - (B) pela denominação adotada pela lei.
 - (C) pelas características formais adotadas pela lei.
 - (D) pela destinação legal do produto da sua arrecadação.
33. Determinada Lei Ordinária Municipal, publicada em 31 de novembro de 2023, alterou o valor venal dos imóveis do Município de Lins. Diante da situação hipotética apresentada, o aumento legal será eficaz
- (A) de forma imediata.
 - (B) a partir de 90 dias da publicação da referida lei.
 - (C) a partir de 1º de janeiro de 2024.
 - (D) a partir de 1º de janeiro de 2025, uma vez que o IPTU deve atender tanto o princípio da anterioridade anual quanto o da anterioridade nonagesimal.
34. Acerca do princípio da legalidade, assinale a alternativa correta.
- (A) O Imposto sobre grandes fortunas obedece ao princípio da legalidade, porém deve ser criado por lei complementar.
 - (B) Em regra, a lei apta a instituir um tributo é a Lei Complementar.
 - (C) Apenas a redução do Imposto de Importação pode se dar por meio de Decreto Presidencial, a sua majoração deve obedecer ao princípio da legalidade.
 - (D) Os impostos que têm caráter extrafiscal não podem ter suas alíquotas majoradas ou reduzidas por portaria do Ministro da Fazenda.
35. Acerca da classificação das competências tributárias, é correto afirmar que as Taxas e Contribuições de Melhoria são de competência
- (A) privativa da União.
 - (B) comum da União, Estados, Municípios e Distrito Federal.
 - (C) cumulativa da União, Estados, Municípios e Distrito Federal.
 - (D) extraordinária da União.
36. Acerca da competência para instituir imposto residual, assinale a alternativa correta.
- (A) Pode ser instituído por lei ordinária.
 - (B) Deve ser um imposto provisório, com limitação de tempo.
 - (C) Há proibição de coincidência entre o fato gerador e a base de cálculo dele com os de outros impostos discriminados na Constituição Federal.
 - (D) Não há limitações quanto à sua estrutura de incidência.
37. A empresa “Melodia Digital” lança um novo serviço de *streaming* de música que permite aos usuários acessarem um catálogo ilimitado de músicas mediante assinatura mensal. O serviço se diferencia dos concorrentes por oferecer recursos inovadores, como inteligência artificial para criar *playlists* personalizadas e audiodescrição das músicas para pessoas com deficiência visual. Ocorre que a legislação tributária vigente não menciona especificamente como tributar os serviços inovadores prestados pela “Melodia Digital”, uma vez que não há dispositivo legal que defina o fato gerador, a base de cálculo, a alíquota ou a forma de pagamento do tributo para essas atividades inovadoras. Diante da situação hipotética apresentada, é correto afirmar que a autoridade competente para aplicar a legislação tributária
- (A) poderá se utilizar da equidade para tributar essas atividades inovadoras.
 - (B) poderá lançar tributos com fundamento no princípio da capacidade contributiva por meio dos princípios gerais de direito tributário e princípios gerais de direito público.
 - (C) poderá fazer incidir leis tributárias que incidem sobre fatos semelhantes com uso da analogia.
 - (D) não poderá tributar as atividades inovadoras, em razão do princípio da legalidade tributária.
38. No caso de dúvida quanto à natureza do fato, a lei tributária que define infrações interpreta-se
- (A) de maneira mais favorável ao acusado.
 - (B) de maneira mais favorável ao Estado.
 - (C) por analogia.
 - (D) por equidade.

- 39.** Acerca da obrigação tributária acessória, assinale a alternativa correta.
- (A) Deve estar prevista expressamente em lei complementar federal.
 - (B) A sua existência independe da existência da obrigação principal.
 - (C) Pode ter natureza contributiva ou punitiva.
 - (D) Tem por objeto a obrigação de fazer, não fazer ou pagar.
- 40.** Interessada em abrir seu próprio negócio, Edna adquiriu, a título oneroso, em outubro de 2023, a loja de bolos “Bolo Fofó” que pertencia à Dara, mantendo a razão social e explorando o comércio de bolos. Em fevereiro de 2024, Dara abriu um novo estabelecimento comercial para o comércio de bolos chamado “Mais Bolo”. Diante da situação hipotética apresentada, é correto afirmar que os tributos relativos à loja “Bolo Fofó”, devidos até a data da compra, são de responsabilidade
- (A) solidária entre Dara e Edna.
 - (B) integral de Dara.
 - (C) integral de Edna.
 - (D) de Edna e subsidiariamente de Dara.
- 41.** O lançamento efetuado e revisto pela autoridade administrativa sem participação do contribuinte é um lançamento
- (A) por homologação.
 - (B) direto.
 - (C) por declaração.
 - (D) denominado autolancamento.
- 42.** Em 2023, o Município X, que tem como principal fonte de receitas o turismo, foi atingido por um incêndio de grandes proporções, afetando diversos setores, especialmente o de comércio. Diante dessa situação, o Município, por meio de lei específica, concedeu a ampliação do prazo legal para o pagamento do Imposto sobre Serviços de Qualquer Natureza (ISS) às empresas que foram mais afetadas pelo incêndio. Diante da situação hipotética apresentada, é correto afirmar que tal medida é uma hipótese de
- (A) suspensão do crédito tributário, chamada moratória.
 - (B) extinção do crédito tributário, chamada medida liminar.
 - (C) exclusão do crédito tributário, chamada isenção.
 - (D) revogação do crédito tributário, chamada remissão.
- 43.** O Sr. João recebeu a Certidão de Dívida Ativa (CDA) referente a um débito de IPTU em atraso. No entanto, a CDA não informava a forma de cálculo dos juros de mora acrescidos ao débito original. Diante da situação hipotética apresentada, é correto afirmar que:
- (A) trata-se de erro material que não afeta a validade da CDA, devendo o Sr. João pagar o débito.
 - (B) a inscrição e o processo de cobrança dela decorrente deverão ser suspensos até a correção do erro, a pedido do Sr. João.
 - (C) a CDA é nula e poderá ser sanada pela autoridade Municipal a qualquer momento, dentro do prazo prescricional.
 - (D) sendo sanada a nulidade da CDA, será devolvido ao Sr. João o prazo para defesa que somente poderá versar sobre o cálculo dos juros de mora acrescidos ao débito original.
- 44.** Acerca das certidões negativas, assinale a alternativa correta.
- (A) A certidão negativa será sempre expedida nos termos em que tenha sido requerida e será fornecida dentro de 30 (trinta) dias da data da entrada do requerimento na repartição.
 - (B) A certidão negativa expedida com dolo ou fraude, que contenha erro contra a Fazenda Pública, responsabiliza o órgão que a expedir pelo crédito tributário e juros de mora acrescidos.
 - (C) Tem efeitos de certidão negativa a certidão de que conste a existência de créditos não vencidos, em curso de cobrança executiva em que tenha sido efetivada a penhora, ou cuja exigibilidade esteja suspensa.
 - (D) Ainda que seja para a prática de ato indispensável para evitar a caducidade de direito, será necessária a prova de quitação de tributos ou o seu suprimento.
- 45.** Acerca da base de cálculo do Imposto sobre Serviço de Qualquer Natureza (ISS), assinale a alternativa correta.
- (A) No caso de prestação de serviços na forma de trabalho pessoal, a base de cálculo é o preço do serviço.
 - (B) No caso de prestação de serviços por empresas, o valor do imposto é fixo.
 - (C) Em regra, o serviço considera-se prestado, e o imposto, devido, no local do estabelecimento prestador ou, na falta do estabelecimento, no local do domicílio do prestador.
 - (D) No caso de operações de locação de bens móveis, a base de cálculo é o valor total do contrato de locação.

- 46.** Assinale a alternativa correta em relação às características do Imposto sobre a Propriedade Predial e Territorial Urbana.
- (A) Está sujeito apenas ao princípio da anterioridade anual.
 - (B) Poderá ser progressivo em razão do valor do imóvel e ter alíquotas diferentes de acordo com a sua localização e o seu uso.
 - (C) Incide nos imóveis localizados na zona rural do município, mesmo se destinados à exploração agrícola, pecuária, extrativa vegetal ou agroindustrial.
 - (D) O lançamento do crédito tributário é feito por homologação, e a base de cálculo será o valor do imóvel.
- 47.** Considerando o cenário hipotético no qual o Brasil está em crise, a inflação está alta e as montadoras possuem muitos carros em seus pátios sem conseguir realizar a venda, o Ministro da Fazenda, por meio de portaria, decide zerar o IPI para a venda de carros usados de forma a regular a economia do país. Tal situação hipotética apresentada caracteriza a
- (A) contribuição especial.
 - (B) parafiscalidade.
 - (C) extrafiscalidade.
 - (D) fiscalidade.
- 48.** Assinale a alternativa que corresponde a uma situação em que ocorre a responsabilidade por substituição.
- (A) Recolhimento do Imposto de Renda Pessoa Física (IRPF) pela fonte pagadora.
 - (B) O proprietário de determinado imóvel urbano falece sem pagar o IPTU, sendo a responsabilidade do espólio.
 - (C) Os pais, pelos tributos devidos por seus filhos menores.
 - (D) Sócio em relação às dívidas fiscais da pessoa jurídica extinta.
- 49.** Incide Imposto sobre Transmissão de Bens Imóveis (ITBI) sobre
- (A) hipoteca e penhor.
 - (B) servidões, usufruto, uso, habitação e as rendas expressamente constituídas sobre imóveis.
 - (C) a usucapião.
 - (D) sobre a transmissão de bens incorporados ao patrimônio da pessoa jurídica.
- 50.** Os dispositivos de lei que extinguem ou reduzem isenções, salvo se a lei dispuser de maneira mais favorável ao contribuinte, entram em vigor
- (A) na data da publicação.
 - (B) trinta dias após a data de publicação.
 - (C) quarenta e cinco dias após a data de publicação.
 - (D) no primeiro dia do exercício seguinte àquele em que ocorra a sua publicação.

