



PREFEITURA MUNICIPAL DE LINS

ESTADO DE SÃO PAULO

CONCURSO PÚBLICO

008. PROVA OBJETIVA

FISCAL DE POSTURAS

- ◆ Você recebeu sua folha de respostas e este caderno contendo 50 questões objetivas.
- ◆ Confira seus dados impressos na capa deste caderno e na folha de respostas.
- ◆ Quando for permitido abrir o caderno, verifique se está completo ou se apresenta imperfeições. Caso haja algum problema, informe ao fiscal da sala para a devida substituição deste caderno.
- ◆ Leia cuidadosamente todas as questões e escolha a resposta que você considera correta.
- ◆ Marque, na folha de respostas, com caneta de tinta preta, a letra correspondente à alternativa que você escolheu.
- ◆ A duração da prova é de 3 horas, já incluído o tempo para o preenchimento da folha de respostas.
- ◆ Só será permitida a saída definitiva da sala e do prédio após transcorridas 2 horas do início da prova.
- ◆ Deverão permanecer em cada uma das salas de prova os 3 últimos candidatos, até que o último deles entregue sua prova e assine o termo respectivo.
- ◆ Ao sair, você entregará ao fiscal a folha de respostas e este caderno.
- ◆ Até que você saia do prédio, todas as proibições e orientações continuam válidas.

AGUARDE A ORDEM DO FISCAL PARA ABRIR ESTE CADERNO.

Nome do candidato

RG

Inscrição

Prédio

Sala

Carteira

CONHECIMENTOS GERAIS

LÍNGUA PORTUGUESA

Leia o anúncio do jornal para responder às questões de números **01** a **03**.



VEM AÍ

MAIO AMARELO

[2024]

Especial multimídia traz um panorama sobre novas iniciativas destinadas _____ conscientizar _____ população sobre o papel de cada um por um trânsito mais seguro.

E você pode aliar _____ sua marca _____ esse movimento! Saiba como:

A PAZ NO TRÂNSITO COMEÇA POR VOCÊ

(O Estado de S.Paulo, 12 de abril de 2024. Adaptado)

01. De acordo com a norma-padrão, as lacunas devem ser preenchidas, correta e respectivamente, com:

- (A) à ... a ... a ... à
- (B) a ... à ... a ... a
- (C) à ... à ... a ... à
- (D) a ... a ... a ... a

02. Assinale a alternativa que apresenta as duas palavras do texto que pertencem à mesma classe gramatical da palavra destacada em: **MAIO AMARELO**.

- (A) multimídia, sobre.
- (B) panorama, população.
- (C) especial, novas.
- (D) iniciativas, você.

03. A alternativa que completa, corretamente, a seguinte frase do texto, reescrita, de acordo com a norma-padrão de regência verbal, é:

A paz no trânsito...

- (A) provém a você.
- (B) necessita em você.
- (C) depende de você.
- (D) precisa por você.

Considere a letra da música a seguir, para responder às questões de números 04 a 07.

Sapato 36

Eu calço é 37
Meu pai me dá 36
Dói, mas no dia seguinte
Aperto meu pé outra vez

Pai eu já tô crescidinho
Pague prá ver, que eu aposto
Vou escolher meu sapato
E andar do jeito que eu gosto

Por que cargas d'águas
Você acha que tem o direito
De afogar tudo aquilo que eu
Sinto em meu peito
Você só vai ter o respeito que quer
Na realidade
No dia em que você souber respeitar
A minha vontade
Meu pai

Pai já tô indo-me embora
Quero partir sem brigar
Pois eu já escolhi meu sapato
Que não vai mais me apertar

(Raul Seixas)

04. A partir da leitura do texto, é correto afirmar que

- (A) na primeira estrofe, o eu lírico demonstra conformismo em aceitar o que o pai lhe impõe.
- (B) na terceira estrofe, o eu lírico reconhece que o pai tem consciência do respeito que deve ao filho.
- (C) em – Vou escolher meu sapato –, o eu lírico debocha das escolhas de sapatos feitas pelo pai.
- (D) a quarta estrofe evidencia o gênio violento e desrespeitoso que o eu lírico tem em relação ao pai.

05. O tema da letra da música gira em torno de:

- (A) busca da independência econômica devido às brutais agressões verbais.
- (B) afirmação da própria identidade frente a imposições familiares.
- (C) afinidade de gostos nas escolhas das diferentes gerações.
- (D) brigas violentas na infância, resultando em quebra dos vínculos afetivos.

06. Na terceira estrofe, há palavra empregada em sentido figurado na alternativa:

- (A) direito.
- (B) afogar.
- (C) respeito.
- (D) realidade.

07. Leia os versos:

Dói, **mas** no dia seguinte
Aperto meu pé outra vez
[...]
Pois eu já escolhi meu sapato
Que não vai mais me apertar

Os termos em destaque expressam, correta e respectivamente, sentido de

- (A) explicação e causa.
- (B) conformidade e conclusão.
- (C) conclusão e concessão.
- (D) oposição e explicação.

08. Leia a tira.

O melhor de Calvin Bill Watterson



(O Estado de S.Paulo, 11 de abril de 2024)

Considerando a norma-padrão, assinale a alternativa que apresenta a afirmação correta a respeito do fato linguístico.

- (A) No 1º quadrinho, a expressão “Daqui a pouco” deve ser corrigida para “Daqui há pouco”.
- (B) A frase do tigre no 1º quadrinho – Será que ela lembra que você trancou ... – tem a correta redação em – Será que ela lembra de que você trancou ...
- (C) Na frase do 2º quadrinho – Se lembrar, estamos fritos! – a incorreção está em se iniciar a frase com pronome pessoal do caso oblíquo.
- (D) No 2º quadrinho, a frase – Os outros garotos que ela toma conta. – deve ter a redação corrigida para – Os outros garotos de quem ela toma conta.

Leia o texto a seguir e responda às questões de números **09 a 15**.

O método Jokic

Muitos entusiastas do basquetebol foram cativados pelo esporte influenciados pelo excepcional Michael Jordan. O esporte naturalmente evolui, e suas dificuldades também; os ídolos se renovam com o tempo. Basta lembrar do nosso “Mão Santa”, Oscar Schmidt, um dos maiores cestinhas da história do esporte e uma lenda do basquetebol brasileiro.

Gostaria de destacar um jogador de basquete profissional cujo talento é equiparável ao dos demais que se destacaram, mas com uma particularidade digna de nota. Estou me referindo a Nikola Jokic. Atualmente, ele atua na National Basketball Association (NBA) pela equipe do Denver Nuggets. Foi selecionado apenas como a 41ª escolha geral no *Draft** de 2014, e conquistou o prêmio de Most Valuable Player e a final da temporada 2022-2023 da NBA, quando o Denver Nuggets ganhou o título inédito.

Originalmente situado na posição de pivô (jogador especializado em defender e atacar próximo ao aro); a posição garante a defesa e os bloqueios dos arremessos dos adversários no garrafão**, o atleta é conhecido por suas habilidades versáteis, destacando-se em assistências.

No basquete, a assistência refere-se ao ato de um jogador passar a bola para um companheiro de equipe que, em seguida, converte a cesta. Essa é a habilidade do jogador que cria oportunidades ofensivas para seus colegas; quem presta assistência não marca ponto, mas ajuda o outro a fazê-lo. Enfim, a equipe é a beneficiária. A assistência é a obsessão de Nikola. Ele não quer marcar ponto, quer servir o companheiro.

Essa atitude demonstra uma humildade peculiar e um olhar para o outro que gera confiança, respeito e influência. Seu jogo supre a necessidade alheia, pois é desapegado do objetivo primordial do basquete que normalmente glorifica o jogador: o ponto. Pode-se pensar que a especialização nas assistências seja um subterfúgio para escamotear uma habilidade precária. Nada disso! Nikola Jokic compreende o jogo plenamente. Quando é preciso, ele marca pontos de várias maneiras. A sua polivalência lhe rendeu o apelido *The Joker* (o coringa).

Tudo isso revela um estilo peculiar de liderança que chamo de “o método Jokic”. Quanto mais ele serve a equipe, mais se destaca como referência de liderança. Ele não é um líder ostensivo, mas alguém que lidera por ações para a equipe, não para si. Seu compromisso é com o sucesso coletivo, não com o individual.

Assistir a uma partida com Nikola Jokic é uma lição de liderança, fundamentada numa das mais belas qualidades humanas: a assistência ao outro.

(Fernando F. Rossi. *O Estado de S. Paulo*, 7 de abril de 2024. Adaptado)

* O *Draft* da NBA é o evento mais aguardado da temporada do basquete. É nessa noite que as equipes escolhem os jogadores que farão parte de suas respectivas franquias na próxima temporada e se esses jovens darão bons frutos no futuro.

** garrafão: região retangular que fica próxima à cesta.

09. Na frase do 5º parágrafo – Pode-se pensar que a especialização nas assistências seja um subterfúgio para **escamotear** uma habilidade **precária**. – os termos em destaque têm como sinônimos, correta e respectivamente:

- (A) ludibriar; estável.
- (B) acobertar; contínua.
- (C) esconder; insuficiente.
- (D) ocultar; assídua.

10. De acordo com o texto, a respeito do jogador Nikola, é correto afirmar que

- (A) na seleção para o *Draft*, dentre todos os jogadores, ele teve a melhor classificação.
- (B) seu maior valor está nas defesas e nos bloqueios dos arremessos de sua equipe.
- (C) ele é considerado melhor que Oscar Schmidt e Michael Jordan, hoje esquecidos.
- (D) sua aptidão é comparada à dos jogadores que se sobressairam no basquete.

11. O texto informa que, no jogo de basquetebol, a assistência é uma habilidade que

- (A) é obrigatório estar presente nos famosos jogadores que se destacam nesse esporte.
- (B) se volta para o sucesso do grupo, o que evidencia a característica de modéstia.
- (C) está a serviço da individualidade e da fama, embora atenda a necessidade de outros.
- (D) proporciona ponto ao jogador toda vez que ele ajuda o companheiro a fazer cesta.

12. Assinale a alternativa em que, na frase do texto, a mudança de colocação do pronome indicada nos parênteses contraria a norma-padrão.

- (A) Pode-se pensar que a especialização... – 5º parágrafo – (Se pode pensar que a especialização...)
- (B) A sua polivalência lhe rendeu o apelido... – 5º parágrafo – (A sua polivalência rendeu-lhe o apelido...)
- (C) Estou me referindo... – 2º parágrafo – (Estou referindo-me...)
- (D) ... os ídolos se renovam com o tempo. – 1º parágrafo – (... os ídolos renovam-se com o tempo.)

13. No trecho final – Assistir a uma partida com Nikola Jokic é uma lição de liderança, fundamentada numa das mais belas qualidades humanas: a assistência ao outro. – os dois pontos foram utilizados para
- (A) realçar um termo.
 - (B) distinguir uma palavra.
 - (C) explicar uma ideia.
 - (D) mostrar uma condição.
14. A frase, construída a partir do texto, que apresenta o emprego do sinal indicativo de crase de acordo com a norma-padrão está na alternativa:
- (A) Assitir **à** um jogo com Nikola é uma lição de liderança.
 - (B) O autor do texto refere-se **às** habilidades do jogador.
 - (C) Seu jogo complementa, com humildade, **à** necessidade alheia.
 - (D) Nikola começa **à** jogar dando assistência aos seus colegas.
15. Assinale a alternativa em que a frase construída a partir do texto apresenta concordância de acordo com a norma-padrão.
- (A) O jogador cria oportunidades ofensivas aos companheiros, as quais lhe garante muito respeito.
 - (B) As habilidades versáteis do jogador o tornam um importante exemplo de liderança.
 - (C) Um dos maiores cestinhas da história do esporte influenciaram muitos jovens.
 - (D) A equipe pode beneficiarem-se intensamente com os atos de humildade do jogador.
16. De acordo com informações que constam no *site* do Instituto Brasileiro de Geografia e Estatística (IBGE), o número total de caminhões e de caminhões tratores, registrados na cidade de Lins, em 2022, era igual a 3089, sendo que existiam 273 caminhões tratores a mais que o número de caminhões.
- Sendo assim, o número de caminhões registrados na cidade de Lins, em 2022, de acordo com o IBGE, era igual a
- (A) 1408.
 - (B) 1410.
 - (C) 1681.
 - (D) 1683.
17. Em um grupo de amigos, todos com carteira de habilitação, a razão entre as quantidades dos que têm habilitação categoria B e dos que têm habilitação categoria C pode ser representada pela fração $\frac{5}{2}$. Se o grupo é composto apenas por motoristas com essas duas categorias de habilitação, e a quantidade de amigos que têm habilitação categoria B é 3 unidades menor que o triplo da quantidade dos que têm habilitação categoria C, então esse grupo é formado por
- (A) 19 pessoas.
 - (B) 21 pessoas.
 - (C) 23 pessoas.
 - (D) 25 pessoas.

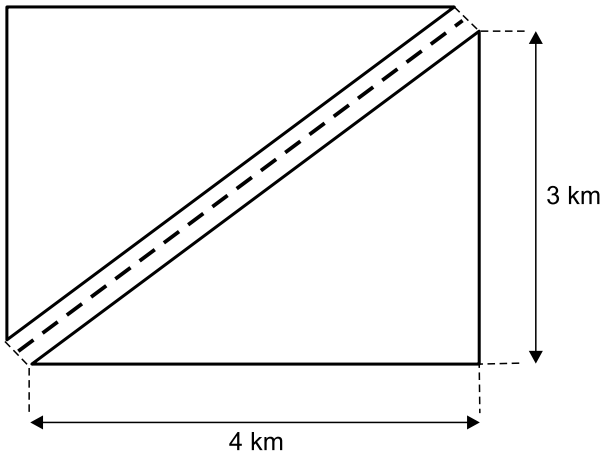
18. A tabela a seguir apresenta, para cada dia da primeira semana de abril de 2024, o número de veículos que inicialmente estavam no pátio de veículos apreendidos, de certo município, bem como os números de veículos que nele chegaram e que foram retirados por seus proprietários ao longo do dia:

Pátio de veículos apreendidos (números registrados na primeira semana de abril de 2024)			
	Número de veículos inicialmente no pátio	Número de veículos apreendidos	Número de veículos retirados pelos proprietários
Segunda-feira	45	4	2
Terça-feira	47	7	4
Quarta-feira	50		3
Quinta-feira	52	4	1
Sexta-feira	55	5	

Sabendo-se que não houve apreensão nem retirada de veículos no sábado e no domingo imediatamente posterior à sexta-feira que consta na tabela, e que na segunda-feira da semana seguinte o pátio tinha, inicialmente, 57 veículos, é correto afirmar que, na primeira semana de abril de 2024, o número de veículos retirados pelos donos, na sexta-feira, correspondeu, do número de veículos apreendidos, na quarta-feira, a:

- (A) 30%
- (B) 40%
- (C) 50%
- (D) 60%
19. A média aritmética simples das atuais idades de três motoristas é 33 anos, sendo que o mais novo tem 28 anos, e a diferença entre as idades dos outros dois motoristas é de 9 anos. Se o motorista com a maior idade faz aniversário no próximo mês, então é verdade que ele completará
- (A) 38 anos.
- (B) 39 anos.
- (C) 40 anos.
- (D) 41 anos.

20. No quarteirão originalmente retangular de um bairro planejado que está sendo construído, com comprimento de 4 km e largura de 3 km, decidiu-se fazer uma rua de mão dupla, conforme representado na figura a seguir, em que a linha pontilhada separa as duas mãos da rua que será feita:



A previsão de custo para asfaltar a rua que será construída foi feita por metro linear, ou seja, pelo comprimento da rua, uma vez que sua largura será constante, sendo de R\$ 90,00 cada metro linear de asfalto. Desta forma, a previsão de custo para asfaltar a rua é de

- (A) R\$ 430.000,00.
 (B) R\$ 440.000,00.
 (C) R\$ 450.000,00.
 (D) R\$ 460.000,00.
21. Em um concurso público, os salários de dois dos cargos oferecidos eram distintos, sendo que o maior deles, de R\$ 2.760,00, era 15% mais alto que o menor dos salários. A diferença entre esses dois salários era de
- (A) R\$ 360,00.
 (B) R\$ 370,00.
 (C) R\$ 398,00.
 (D) R\$ 414,00.
22. Um total de 270 motocicletas novas, todas iguais, precisam ser organizadas em filas, sendo que em cada fila, as motos serão colocadas lado a lado, com todas as filas contendo o mesmo número de motocicletas. Após alguns estudos do local em que essas motos ficarão, foi possível identificar que o número de filas deve ser três unidades maior que o número de motocicletas em cada fila. Contando-se todas as motocicletas que ficarão nas cinco primeiras filas, tem-se o total de
- (A) 75.
 (B) 80.
 (C) 85.
 (D) 90.

23. Uma caixa d'água, no formato interno de paralelepípedo reto, tem a altura igual à medida de uma das arestas da base, e está com três quartos do seu volume ocupado com água, o que corresponde a 9 mil litros de água, ou seja, 9 m^3 . Se a outra aresta da base mede 3 m, a área da base dessa caixa d'água é de:

- (A) $9,0 \text{ m}^2$
- (B) $7,5 \text{ m}^2$
- (C) $6,0 \text{ m}^2$
- (D) $4,5 \text{ m}^2$

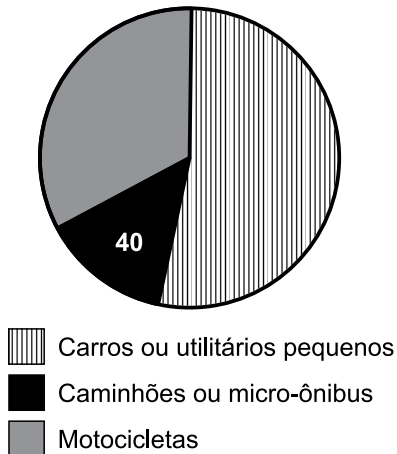
24. Dois rolos de fita de sinalização zebraada, um com 180 m, e outro com 300 m de comprimento de fita, serão divididos em partes, todas com o mesmo comprimento, o maior possível, sem desperdício, para um curso de formação dos novos agentes de trânsito contratados em determinado município.

O número de partes que será obtido do rolo com o maior comprimento de fita será igual a

- (A) 8.
- (B) 6.
- (C) 5.
- (D) 4.

25. Do total de infrações de trânsito cometidas em determinado município, em abril de 2024, o gráfico representa algumas informações sobre a distribuição dessas infrações, de acordo com a categoria dos veículos com as quais foram cometidas essas infrações:

Infrações cometidas – abril 2024



Sabendo-se que, naquele mês, o setor correspondente às infrações cometidas com caminhões ou micro-ônibus, em número de 40, tinha medida de ângulo central igual a 48° , e que o ângulo central do setor correspondente às infrações cometidas com motocicletas tinha medida de 120° , o número de infrações cometidas com carros ou utilitários pequenos foi igual a

- (A) 150.
- (B) 160.
- (C) 170.
- (D) 180.

26. Considere um computador com MS-Windows 10, em sua configuração padrão, contendo as duas pastas locais descritas a seguir:

- Pasta chamada X, contendo os arquivos a.txt e b.docx.
- Pasta chamada Y, contendo os arquivos a.docx e b.docx.

O usuário acessou a pasta X, selecionou todos os arquivos da pasta e, em seguida, pressionou o atalho por teclado Ctrl+X. Acessou a pasta Y, selecionou o arquivo a.docx e pressionou o atalho por teclado Ctrl+V.

Sabendo que o usuário tem permissão para executar todas as ações (e escolheu sobrepor, caso exista mensagem de confirmação de operação), assinale a alternativa que apresenta a quantidade de arquivos na pasta Y, após as ações descritas no enunciado.

- (A) 1
- (B) 2
- (C) 3
- (D) 4

27. Um usuário do MS-Word 2016, em sua configuração padrão, a partir de um novo documento vazio, realizou as seguintes ações, nessa ordem:

- 1 – Pressiona o botão Alinhar à Direita.
- 2 – Digita Projetos.
- 3 – Pressiona Enter.
- 4 – Pressiona o botão Centralizar.
- 5 – Digita De.
- 6 – Pressiona Enter.
- 7 – Digita Sinalização.
- 8 – Pressiona Enter.
- 9 – Pressiona o botão Alinhar à Esquerda.
- 10 – Digita Viária.

Após todas as ações, o número de parágrafos centralizados é

- (A) 1
- (B) 2
- (C) 3
- (D) 4

28. Um agente de trânsito elaborou a planilha a seguir, por meio do MS-Excel 2016, em sua configuração padrão, para trabalhar com valores de taxas de poluição veicular aplicadas.

	A	B
1	Mês	Valor
2	Janeiro	R\$ 600,00
3	Fevereiro	R\$ 4.500,00
4	Março	R\$ 2.700,00
5	Abril	R\$ 1.800,00
6		
7	Calculado	R\$ 2.400,00

O agente digitou, na coluna A, a descrição dos meses, e na coluna B, os valores de taxas aplicados no respectivo mês.

Em seguida, na célula B7 colocou uma fórmula para realizar um determinado cálculo com tais dados.

Assinale a alternativa que apresenta a fórmula que resulta no valor exibido na célula B7.





- (A) =MAIOR(B5;2400)
- (B) =MENOR(B3;2400)
- (C) =SOMA(B2:B5)
- (D) =MÉDIA(B2:B5)

29. Um agente de trânsito preparou uma apresentação, por meio do MS-PowerPoint 2016, em sua configuração padrão, sobre atividades de educação no trânsito que pretende organizar, contendo 8 slides, sem nenhum efeito de animação nem efeito de transição. Os slides 3, 5 e 7 estão ocultos. Finalizou a edição do slide 2 e apertou o atalho _____, que iniciou o Modo de Apresentação no slide _____. Ao pressionar a tecla Enter 2 vezes seguidas, o slide _____ foi exibido.

Assinale a alternativa que preenche, correta e respectivamente, as lacunas do enunciado.

- (A) Shift + F5 ... 2 ... 6
- (B) Shift + F5 ... 1 ... 4
- (C) F5 ... 1 ... 3
- (D) F5 ... 2 ... 6

30. Um agente de trânsito, após documentar um processo de remoção de veículo, precisa enviar o relatório preparado, que se encontra em uma pasta local de seu computador, para seu chefe imediato. Ao decidir enviar tal relatório (um arquivo chamado relatorio_remocao.docx) por meio do gmail.com, em sua configuração padrão, abriu a opção para escrever um novo e-mail e, para incluir o arquivo do relatório no e-mail sendo preparado, deve utilizar a opção:

- (A) 
- (B) 
- (C) 
- (D) 

CONHECIMENTOS ESPECÍFICOS

31. A administração pública direta e indireta de qualquer dos Poderes da União, dos Estados, do Distrito Federal e dos Municípios obedecerá aos princípios de impessoalidade, moralidade, publicidade, eficiência e

- (A) legalidade.
- (B) eficácia.
- (C) responsabilidade.
- (D) hierarquia.

32. Ressalvados os casos especificados na legislação, obras, serviços, compras e alienações serão contratados mediante processo de

- (A) aquisição direta que assegure o pagamento e o recebimento, no prazo estipulado e nos termos da lei, dos itens e/ou dos serviços adquiridos.
- (B) licitação pública que assegure igualdade de condições a todos os concorrentes, com cláusulas que estabeleçam obrigações de pagamento, mantidas as condições efetivas da proposta, nos termos da lei; o processo somente permitirá as exigências de qualificação técnica e econômica indispensáveis à garantia do cumprimento das obrigações.
- (C) contratação público-privada que assegure igualdade de condições a todos os fornecedores de mercadorias e/ou serviços, com cláusulas que estabeleçam obrigações de pagamento e entrega dos itens adquiridos e/ou dos serviços contratados.
- (D) financiamento privado de serviços e bens por parte de empresas parceiras do poder público de tal forma que fiquem assegurados o pagamento e o recebimento de itens e serviços com qualificação técnica adequada ao fim a que se destinam.

33. São estáveis, após três anos de efetivo exercício, os servidores nomeados para cargo de provimento efetivo em virtude de concurso público.

O servidor público estável perderá o cargo somente nos seguintes casos:

- (A) em virtude de sentença judicial, mesmo não ocorrendo o trânsito em julgado; em virtude de necessidade comprovada de equilíbrio das contas públicas, de acordo com a Lei de Responsabilidade Fiscal; mediante procedimento de avaliação periódica de desempenho, na forma estipulada pelo seu superior imediato, sem ampla defesa.
- (B) mediante processo administrativo, mesmo sem que lhe seja assegurada ampla defesa; em virtude de necessidade comprovada de equilíbrio das contas públicas, de acordo com a Lei de Responsabilidade Fiscal; mediante desempenho inferior a 75% em processo de avaliação periódica de desempenho, na forma estipulada pelo seu superior imediato.
- (C) mediante desempenho inferior a 50% em processo de avaliação periódica de desempenho, na forma estipulada pelo seu superior direto; em virtude de sentença judicial, mesmo não ocorrendo o trânsito em julgado; em virtude de necessidade comprovada de equilíbrio das contas públicas, de acordo com a Lei de Responsabilidade Fiscal.
- (D) em virtude de sentença judicial transitada em julgado; mediante processo administrativo em que lhe seja assegurada ampla defesa; mediante procedimento de avaliação periódica de desempenho, na forma de lei complementar, assegurada ampla defesa.

34. Para os fins do disposto na Constituição Federal, a despesa total com pessoal, em cada período de apuração e em cada ente da Federação, não poderá exceder os percentuais da receita corrente líquida. Nos municípios, esse percentual é de

- (A) 80%.
- (B) 70%.
- (C) 60%.
- (D) 50%.

35. Se a dívida consolidada de um ente da Federação ultrapassar o respectivo limite ao final de um _____, deverá ser a ele reconduzida até o término dos três subsequentes, reduzindo o excedente em pelo menos _____ no primeiro.

As lacunas são, correta e respectivamente, preenchidas por:

- (A) bimestre ... 15%
- (B) bimestre ... 20%
- (C) trimestre ... 15%
- (D) quadrimestre ... 25%

- 36.** Segundo o Código de Posturas do Município (LCM nº 502/99), divertimentos públicos são os que se realizam nas vias e nos logradouros públicos ou em recintos fechados, de livre acesso ao público. Nenhum divertimento público poderá ser realizado sem licença da Prefeitura. Não serão fornecidas licenças para a realização de jogos de diversões reunidos em locais compreendidos próximos de hospitais, casas de saúde, maternidades, escolas e igrejas em área formada por um raio de até
- (A) 100 m.
 - (B) 200 m.
 - (C) 350 m.
 - (D) 500 m.
- 37.** A Lei nº 14.133/21 estabelece normas gerais de licitação e contratação para as Administrações Públicas diretas, autárquicas e fundacionais da União, dos Estados, do Distrito Federal e dos Municípios.
- Tal lei aplica-se, entre outros casos, a
- (A) concessão e permissão de uso de bens públicos; prestação de serviços, inclusive os técnico-profissionais especializados; obras e serviços de arquitetura e engenharia.
 - (B) obras e serviços de arquitetura e engenharia; contratações de tecnologia da informação e de comunicação e contratos que tenham por objeto operação de crédito, interno ou externo.
 - (C) prestação de serviços, inclusive os técnico-profissionais especializados; obras e serviços de arquitetura e engenharia; contratações sujeitas a normas previstas em legislação própria.
 - (D) alienação e concessão de direito real de uso de bens; concessão e permissão de uso de bens públicos; contratos que tenham por objeto operação de crédito, interno ou externo.
- 38.** Segundo a Lei nº 14.133/21, que estabelece normas gerais de licitação e contratação para as Administrações Públicas diretas, autárquicas e fundacionais da União, dos Estados, do Distrito Federal e dos Municípios, o regime de contratação de obras e serviços de engenharia em que o contratado é responsável por elaborar e desenvolver os projetos básico e executivo, executar obras e serviços de engenharia, fornecer bens ou prestar serviços especiais e realizar montagem, teste, pré-operação e as demais operações necessárias e suficientes para a entrega final do objeto, denomina-se contratação
- (A) por empreitada integral.
 - (B) por tarefa.
 - (C) semi-integrada.
 - (D) integrada.
- 39.** Segundo a Lei nº 14.133/21 (Lei de Licitações e Contratos Administrativos), a modalidade de licitação para contratação de bens e serviços especiais e de obras e serviços comuns e especiais de engenharia, cujo critério de julgamento poderá ser menor preço; melhor técnica ou conteúdo artístico; técnica e preço; maior retorno econômico e maior desconto, denomina-se
- (A) concurso.
 - (B) concorrência.
 - (C) pregão.
 - (D) diálogo competitivo.
- 40.** Para os fins do disposto na Lei nº 10.257, que regulamenta os artigos 182 e 183 da Constituição Federal e estabelece diretrizes gerais da política urbana e dá outras providências, sobre a usucapião especial de imóvel urbano, aquele que possuir como sua área ou edificação urbana de até _____ m², por _____ anos, ininterruptamente e sem oposição, utilizando-a para sua moradia ou de sua família, adquirir-lhe-á o domínio, desde que não seja proprietário de outro imóvel urbano ou rural.
- As lacunas são, correta e respectivamente, preenchidas por:
- (A) 500 ... 5
 - (B) 350 ... 7
 - (C) 250 ... 5
 - (D) 200 ... 4
- 41.** Segundo a Lei nº 10.257, o plano diretor é obrigatório para cidades com mais de _____ habitantes; integrantes de regiões metropolitanas e aglomerações urbanas; inseridas na área de influência de empreendimentos ou atividades com significativo impacto ambiental de âmbito regional ou nacional; incluídas no cadastro nacional de Municípios com áreas suscetíveis à ocorrência de deslizamentos de grande impacto, inundações bruscas ou processos geológicos ou hidrológicos correlatos, entre outras situações. No caso de cidades com mais de _____ habitantes, deverá ser elaborado um plano de transporte urbano integrado, compatível com o plano diretor ou nele inserido.
- As lacunas são, correta e respectivamente, preenchidas por:
- (A) 5000 ... 150000
 - (B) 10000 ... 250000
 - (C) 15000 ... 300000
 - (D) 20000 ... 500000

42. Considerando as condições de segurança e saúde no trabalho na indústria da construção, é proibido trabalhar em plataforma de trabalho sobre cavaletes que possuam altura superior a

- (A) 1,5 m e largura inferior a 0,9 m.
- (B) 1,6 m e largura inferior a 0,8 m.
- (C) 1,7 m e largura inferior a 0,7 m.
- (D) 1,8 m e largura inferior a 0,6 m.

43. Considerando as condições de segurança e saúde no trabalho na indústria da construção, é obrigatória a instalação de proteção coletiva, projetada por profissional legalmente habilitado, onde houver risco de queda de trabalhadores ou de projeção de materiais e objetos no entorno da obra. É obrigatória, na periferia da edificação, a instalação de proteção contra queda de trabalhadores e projeção de materiais a partir do início dos serviços necessários à concretagem da primeira laje.

Quando constituída de anteparos rígidos com fechamento total do vão, a proteção deve ter altura mínima de

- (A) 1,2 m.
- (B) 1,0 m.
- (C) 0,8 m.
- (D) 0,6 m.

44. Da responsabilidade pelo Fato do Produto e do Serviço, o fabricante, o produtor, o construtor, nacional ou estrangeiro, e o importador respondem, independentemente da existência de culpa, pela reparação dos danos causados aos consumidores por defeitos decorrentes de projeto, fabricação, construção, montagem, fórmulas, manipulação, apresentação ou acondicionamento de seus produtos, bem como por informações insuficientes ou inadequadas sobre sua utilização e seus riscos.

Nesses casos, o comerciante é igualmente responsável mesmo quando

- (A) o fabricante, o construtor, o produtor ou o importador puderem ser identificados.
- (B) o produto for fornecido com identificação clara do seu fabricante, produtor, construtor ou importador.
- (C) conservar adequadamente os produtos perecíveis e não perecíveis devidamente identificados.
- (D) não conservar adequadamente os produtos perecíveis.

45. Segundo o Código de Posturas do Município (LCM nº 502/99), para preservar, de maneira geral, a higiene pública, fica permitido

- (A) consentir o escoamento de águas servidas das residências para a rua onde haja rede de esgoto.
- (B) destinar todo o resíduo industrial sólido e os entulhos provenientes de construções, nos locais determinados pela Prefeitura, por conta e responsabilidade do proprietário ou do responsável pela indústria ou construção.
- (C) queimar, apenas nos próprios quintais, folhas de árvores e lixo não orgânico, sem restrição de quantidade em ambos os casos.
- (D) aterrar vias públicas, desde que especificadas pela prefeitura, com detritos e materiais velhos.

46. Segundo o Código de Posturas do Município (LCM nº 502/99), nas feiras, instaladas em vias ou logradouros públicos, onde haja a venda de gêneros alimentícios, produtos hortifrutigranjeiros ou outros pontos de interesse do ponto de vista do abastecimento público, é obrigatória a colocação de recipientes de recolhimento de lixo em local visível e acessível ao público, em uma quantidade de

- (A) um recipiente a cada 3 bancas instaladas.
- (B) um recipiente por banca instalada.
- (C) dois recipientes a cada 5 bancas instaladas.
- (D) dois recipientes por banca instalada.

47. Segundo o Código de Posturas do Município (LCM nº 502/99), é proibido executar qualquer serviço ou propaganda que produza ruído que perturbe o sossego público, antes das _____ e depois das _____, de segundas às sextas-feiras, e antes das _____ e depois das _____, aos sábados, domingos e feriados, nas proximidades de hospitais, escolas, asilos, casas de repouso e casas residenciais. Fica excluída desta proibição a realização de cultos religiosos, desde que no período compreendido entre as 9h e as 22h.

As lacunas são, correta e respectivamente, preenchidas por:

- (A) 6h ... 23h ... 7h ... 22h
- (B) 6h30 ... 22h ... 8h ... 22h
- (C) 8h30 ... 20h ... 9h ... 18h
- (D) 9h ... 23h ... 9h ... 21h

48. Sobre os índices urbanísticos a serem implantados para o controle da ocupação do solo, segundo a Lei de Uso e Ocupação do Solo (LCM nº 1.687/20), entende-se, por Gabarito de Altura Máxima, a altura máxima do edifício, e esse gabarito pode ser expresso em metros ou em número de pavimentos.

O gabarito máximo, estipulado pela referida lei, é de

- (A) 20 andares, desde que não ultrapasse a altura total máxima de 60 metros.
- (B) 20 andares, desde que não ultrapasse a altura total máxima de 50 metros.
- (C) 18 andares, desde que não ultrapasse a altura total máxima de 45 metros.
- (D) 25 andares, desde que não ultrapasse a altura total máxima de 60 metros.

49. Segundo a Lei de Uso e Ocupação do Solo (LCM nº 1.687/20), para o município de Lins, os valores limites adotados para a Taxa de Ocupação das construções residenciais e das construções comerciais e a Taxa de Permeabilidade Mínima (TPM) são, respectivamente, iguais a

- (A) 90%, 90% e 5%.
- (B) 80%, 85% e 20%.
- (C) 70%, 80% e 10%.
- (D) 65%, 85% e 8%.

50. Segundo o Plano Diretor Urbanístico do município de Lins, o Zoneamento Urbano de Lins não permitirá, entre outros critérios, a instalação dos estabelecimentos referidos nos itens I e II, respectivamente perigosos e nocivos, na Z4, devendo, no caso dos estabelecimentos incluídos no inciso III, classificados como incômodos, ser adotadas as precauções e medidas que, a juízo da Secretaria de Urbanismo, Obras e Serviços Públicos, afastem a possibilidade de incômodos à vizinhança, de acordo com o Código de Posturas do Município, em especial a Lei do Sossego.

A Z4 refere-se à Zona

- (A) Central.
- (B) de Uso Misto e Ocupação Induzida.
- (C) Industrial Comercial e Serviços.
- (D) de Uso Predominante Residencial e de Ocupação Preferencial.

