



PREFEITURA MUNICIPAL DE LINS

ESTADO DE SÃO PAULO

CONCURSO PÚBLICO

012. PROVA OBJETIVA

GUARDA CIVIL MUNICIPAL

- ◆ Você recebeu sua folha de respostas e este caderno contendo 50 questões objetivas.
- ◆ Confira seus dados impressos na capa deste caderno e na folha de respostas.
- ◆ Quando for permitido abrir o caderno, verifique se está completo ou se apresenta imperfeições. Caso haja algum problema, informe ao fiscal da sala para a devida substituição deste caderno.
- ◆ Leia cuidadosamente todas as questões e escolha a resposta que você considera correta.
- ◆ Marque, na folha de respostas, com caneta de tinta preta, a letra correspondente à alternativa que você escolheu.
- ◆ A duração da prova é de 3 horas, já incluído o tempo para o preenchimento da folha de respostas.
- ◆ Só será permitida a saída definitiva da sala e do prédio após transcorridas 2 horas do início da prova.
- ◆ Deverão permanecer em cada uma das salas de prova os 3 últimos candidatos, até que o último deles entregue sua prova e assine o termo respectivo.
- ◆ Ao sair, você entregará ao fiscal a folha de respostas e este caderno.
- ◆ Até que você saia do prédio, todas as proibições e orientações continuam válidas.

AGUARDE A ORDEM DO FISCAL PARA ABRIR ESTE CADERNO.

Nome do candidato

RG

Inscrição

Prédio

Sala

Carteira

CONHECIMENTOS GERAIS

LÍNGUA PORTUGUESA

Leia o anúncio do jornal para responder às questões de números **01** a **03**.



VEM AÍ

MAIO AMARELO

[2024]

Especial multimídia traz um panorama sobre novas iniciativas destinadas _____ conscientizar _____ população sobre o papel de cada um por um trânsito mais seguro.

E você pode aliar _____ sua marca _____ esse movimento! Saiba como:

A PAZ NO TRÂNSITO COMEÇA POR VOCÊ

(O Estado de S.Paulo, 12 de abril de 2024. Adaptado)

01. De acordo com a norma-padrão, as lacunas devem ser preenchidas, correta e respectivamente, com:

- (A) à ... a ... a ... à
- (B) a ... à ... a ... a
- (C) à ... à ... a ... à
- (D) a ... a ... a ... a

02. Assinale a alternativa que apresenta as duas palavras do texto que pertencem à mesma classe gramatical da palavra destacada em: MAIO **AMARELO**.

- (A) multimídia, sobre.
- (B) panorama, população.
- (C) especial, novas.
- (D) iniciativas, você.

03. A alternativa que completa, corretamente, a seguinte frase do texto, reescrita, de acordo com a norma-padrão de regência verbal, é:

A paz no trânsito...

- (A) provém a você.
- (B) necessita em você.
- (C) depende de você.
- (D) precisa por você.

Considere a letra da música a seguir, para responder às questões de números 04 a 07.

Sapato 36

Eu calço é 37
Meu pai me dá 36
Dói, mas no dia seguinte
Aperto meu pé outra vez

Pai eu já tô crescidinho
Pague prá ver, que eu aposto
Vou escolher meu sapato
E andar do jeito que eu gosto

Por que cargas d'águas
Você acha que tem o direito
De afogar tudo aquilo que eu
Sinto em meu peito
Você só vai ter o respeito que quer
Na realidade
No dia em que você souber respeitar
A minha vontade
Meu pai

Pai já tô indo-me embora
Quero partir sem brigar
Pois eu já escolhi meu sapato
Que não vai mais me apertar

(Raul Seixas)

04. A partir da leitura do texto, é correto afirmar que

- (A) na primeira estrofe, o eu lírico demonstra conformismo em aceitar o que o pai lhe impõe.
- (B) na terceira estrofe, o eu lírico reconhece que o pai tem consciência do respeito que deve ao filho.
- (C) em – Vou escolher meu sapato –, o eu lírico debocha das escolhas de sapatos feitas pelo pai.
- (D) a quarta estrofe evidencia o gênio violento e desrespeitoso que o eu lírico tem em relação ao pai.

05. O tema da letra da música gira em torno de:

- (A) busca da independência econômica devido às brutais agressões verbais.
- (B) afirmação da própria identidade frente a imposições familiares.
- (C) afinidade de gostos nas escolhas das diferentes gerações.
- (D) brigas violentas na infância, resultando em quebra dos vínculos afetivos.

06. Na terceira estrofe, há palavra empregada em sentido figurado na alternativa:

- (A) direito.
- (B) afogar.
- (C) respeito.
- (D) realidade.

07. Leia os versos:

Dói, **mas** no dia seguinte
Aperto meu pé outra vez
[...]
Pois eu já escolhi meu sapato
Que não vai mais me apertar

Os termos em destaque expressam, correta e respectivamente, sentido de

- (A) explicação e causa.
- (B) conformidade e conclusão.
- (C) conclusão e concessão.
- (D) oposição e explicação.

08. Leia a tira.

O melhor de Calvin Bill Watterson



(O Estado de S.Paulo, 11 de abril de 2024)

Considerando a norma-padrão, assinale a alternativa que apresenta a afirmação correta a respeito do fato linguístico.

- (A) No 1º quadrinho, a expressão “Daqui a pouco” deve ser corrigida para “Daqui há pouco”.
- (B) A frase do tigre no 1º quadrinho – Será que ela lembra que você trancou ... – tem a correta redação em – Será que ela lembra de que você trancou ...
- (C) Na frase do 2º quadrinho – Se lembrar, estamos fritos! – a incorreção está em se iniciar a frase com pronome pessoal do caso oblíquo.
- (D) No 2º quadrinho, a frase – Os outros garotos que ela toma conta. – deve ter a redação corrigida para – Os outros garotos de quem ela toma conta.

Leia o texto a seguir e responda às questões de números 09 a 15.

O método Jokic

Muitos entusiastas do basquetebol foram cativados pelo esporte influenciados pelo excepcional Michael Jordan. O esporte naturalmente evolui, e suas dificuldades também; os ídolos se renovam com o tempo. Basta lembrar do nosso “Mão Santa”, Oscar Schmidt, um dos maiores cestinhas da história do esporte e uma lenda do basquetebol brasileiro.

Gostaria de destacar um jogador de basquete profissional cujo talento é equiparável ao dos demais que se destacaram, mas com uma particularidade digna de nota. Estou me referindo a Nikola Jokic. Atualmente, ele atua na National Basketball Association (NBA) pela equipe do Denver Nuggets. Foi selecionado apenas como a 41ª escolha geral no *Draft** de 2014, e conquistou o prêmio de Most Valuable Player e a final da temporada 2022-2023 da NBA, quando o Denver Nuggets ganhou o título inédito.

Originalmente situado na posição de pivô (jogador especializado em defender e atacar próximo ao aro); a posição garante a defesa e os bloqueios dos arremessos dos adversários no garrafão**, o atleta é conhecido por suas habilidades versáteis, destacando-se em assistências.

No basquete, a assistência refere-se ao ato de um jogador passar a bola para um companheiro de equipe que, em seguida, converte a cesta. Essa é a habilidade do jogador que cria oportunidades ofensivas para seus colegas; quem presta assistência não marca ponto, mas ajuda o outro a fazê-lo. Enfim, a equipe é a beneficiária. A assistência é a obsessão de Nikola. Ele não quer marcar ponto, quer servir o companheiro.

Essa atitude demonstra uma humildade peculiar e um olhar para o outro que gera confiança, respeito e influência. Seu jogo supre a necessidade alheia, pois é desapegado do objetivo primordial do basquete que normalmente glorifica o jogador: o ponto. Pode-se pensar que a especialização nas assistências seja um subterfúgio para escamotear uma habilidade precária. Nada disso! Nikola Jokic compreende o jogo plenamente. Quando é preciso, ele marca pontos de várias maneiras. A sua polivalência lhe rendeu o apelido *The Joker* (o coringa).

Tudo isso revela um estilo peculiar de liderança que chamo de “o método Jokic”. Quanto mais ele serve a equipe, mais se destaca como referência de liderança. Ele não é um líder ostensivo, mas alguém que lidera por ações para a equipe, não para si. Seu compromisso é com o sucesso coletivo, não com o individual.

Assistir a uma partida com Nikola Jokic é uma lição de liderança, fundamentada numa das mais belas qualidades humanas: a assistência ao outro.

(Fernando F. Rossi. *O Estado de S. Paulo*, 7 de abril de 2024. Adaptado)

* O *Draft* da NBA é o evento mais aguardado da temporada do basquete. É nessa noite que as equipes escolhem os jogadores que farão parte de suas respectivas franquias na próxima temporada e se esses jovens darão bons frutos no futuro.

** garrafão: região retangular que fica próxima à cesta.

09. Na frase do 5º parágrafo – Pode-se pensar que a especialização nas assistências seja um subterfúgio para **escamotear** uma habilidade **precária**. – os termos em destaque têm como sinônimos, correta e respectivamente:

- (A) ludibriar; estável.
- (B) acobertar; contínua.
- (C) esconder; insuficiente.
- (D) ocultar; assídua.

10. De acordo com o texto, a respeito do jogador Nikola, é correto afirmar que

- (A) na seleção para o *Draft*, dentre todos os jogadores, ele teve a melhor classificação.
- (B) seu maior valor está nas defesas e nos bloqueios dos arremessos de sua equipe.
- (C) ele é considerado melhor que Oscar Schmidt e Michael Jordan, hoje esquecidos.
- (D) sua aptidão é comparada à dos jogadores que se sobressairam no basquete.

11. O texto informa que, no jogo de basquetebol, a assistência é uma habilidade que

- (A) é obrigatório estar presente nos famosos jogadores que se destacam nesse esporte.
- (B) se volta para o sucesso do grupo, o que evidencia a característica de modéstia.
- (C) está a serviço da individualidade e da fama, embora atenda a necessidade de outros.
- (D) proporciona ponto ao jogador toda vez que ele ajuda o companheiro a fazer cesta.

12. Assinale a alternativa em que, na frase do texto, a mudança de colocação do pronome indicada nos parênteses contraria a norma-padrão.

- (A) Pode-se pensar que a especialização... – 5º parágrafo – (Se pode pensar que a especialização...)
- (B) A sua polivalência lhe rendeu o apelido... – 5º parágrafo – (A sua polivalência rendeu-lhe o apelido...)
- (C) Estou me referindo... – 2º parágrafo – (Estou referindo-me...)
- (D) ... os ídolos se renovam com o tempo. – 1º parágrafo – (... os ídolos renovam-se com o tempo.)

13. No trecho final – Assistir a uma partida com Nikola Jokic é uma lição de liderança, fundamentada numa das mais belas qualidades humanas: a assistência ao outro. – os dois pontos foram utilizados para
- (A) realçar um termo.
 (B) distinguir uma palavra.
 (C) explicar uma ideia.
 (D) mostrar uma condição.
14. A frase, construída a partir do texto, que apresenta o emprego do sinal indicativo de crase de acordo com a norma-padrão está na alternativa:
- (A) Assitir **à** um jogo com Nikola é uma lição de liderança.
 (B) O autor do texto refere-se **às** habilidades do jogador.
 (C) Seu jogo complementa, com humildade, **à** necessidade alheia.
 (D) Nikola começa **à** jogar dando assistência aos seus colegas.
15. Assinale a alternativa em que a frase construída a partir do texto apresenta concordância de acordo com a norma-padrão.
- (A) O jogador cria oportunidades ofensivas aos companheiros, as quais lhe garante muito respeito.
 (B) As habilidades versáteis do jogador o tornam um importante exemplo de liderança.
 (C) Um dos maiores cestinhas da história do esporte influenciaram muitos jovens.
 (D) A equipe pode beneficiarem-se intensamente com os atos de humildade do jogador.

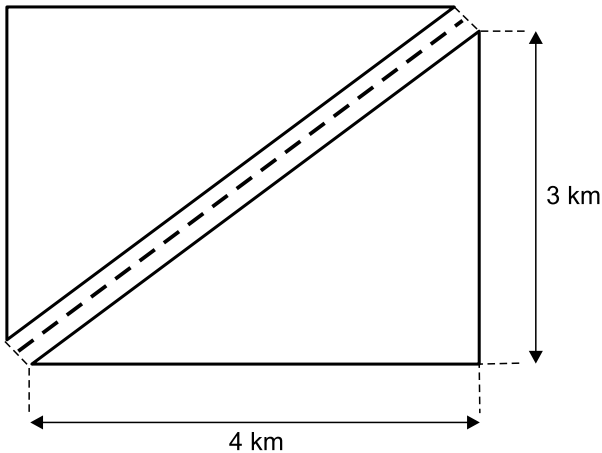
16. A tabela a seguir apresenta, para cada dia da primeira semana de abril de 2024, o número de veículos que inicialmente estavam no pátio de veículos apreendidos, de certo município, bem como os números de veículos que nele chegaram e que foram retirados por seus proprietários ao longo do dia:

Pátio de veículos apreendidos (números registrados na primeira semana de abril de 2024)			
	Número de veículos inicialmente no pátio	Número de veículos apreendidos	Número de veículos retirados pelos proprietários
Segunda-feira	45	4	2
Terça-feira	47	7	4
Quarta-feira	50		3
Quinta-feira	52	4	1
Sexta-feira	55	5	

Sabendo-se que não houve apreensão nem retirada de veículos no sábado e no domingo imediatamente posterior à sexta-feira que consta na tabela, e que na segunda-feira da semana seguinte o pátio tinha, inicialmente, 57 veículos, é correto afirmar que, na primeira semana de abril de 2024, o número de veículos retirados pelos donos, na sexta-feira, correspondeu, do número de veículos apreendidos, na quarta-feira, a:

- (A) 30%
 (B) 40%
 (C) 50%
 (D) 60%
17. A média aritmética simples das atuais idades de três motoristas é 33 anos, sendo que o mais novo tem 28 anos, e a diferença entre as idades dos outros dois motoristas é de 9 anos. Se o motorista com a maior idade faz aniversário no próximo mês, então é verdade que ele completará
- (A) 38 anos.
 (B) 39 anos.
 (C) 40 anos.
 (D) 41 anos.

18. No quarteirão originalmente retangular de um bairro planejado que está sendo construído, com comprimento de 4 km e largura de 3 km, decidiu-se fazer uma rua de mão dupla, conforme representado na figura a seguir, em que a linha pontilhada separa as duas mãos da rua que será feita:



A previsão de custo para asfaltar a rua que será construída foi feita por metro linear, ou seja, pelo comprimento da rua, uma vez que sua largura será constante, sendo de R\$ 90,00 cada metro linear de asfalto. Desta forma, a previsão de custo para asfaltar a rua é de

- (A) R\$ 430.000,00.
 (B) R\$ 440.000,00.
 (C) R\$ 450.000,00.
 (D) R\$ 460.000,00.
19. Em um concurso público, os salários de dois dos cargos oferecidos eram distintos, sendo que o maior deles, de R\$ 2.760,00, era 15% mais alto que o menor dos salários. A diferença entre esses dois salários era de
- (A) R\$ 360,00.
 (B) R\$ 370,00.
 (C) R\$ 398,00.
 (D) R\$ 414,00.
20. Dois rolos de fita de sinalização zebra, um com 180 m, e outro com 300 m de comprimento de fita, serão divididos em partes, todas com o mesmo comprimento, o maior possível, sem desperdício, para um curso de formação dos novos agentes de trânsito contratados em determinado município. O número de partes que será obtido do rolo com o maior comprimento de fita será igual a
- (A) 8.
 (B) 6.
 (C) 5.
 (D) 4.

RACIOCÍNIO LÓGICO

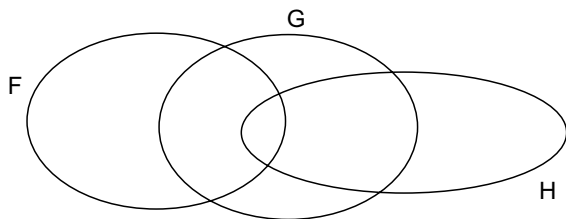
21. A sequência a seguir foi criada com um padrão lógico. 10, 21, 24, 12, 25, 28, 14, 29, 32, 16, ...
O 26º termo desta sequência é o número
- (A) 31.
 - (B) 47.
 - (C) 53.
 - (D) 59.

22. Considere a proposição:

Se todas as ruas foram vistoriadas, então a ronda está completa.

Uma proposição que corresponde à negação lógica da proposição inicial é:

- (A) Se nem todas as ruas foram vistoriadas, então a ronda não está completa.
 - (B) Nem todas as ruas foram vistoriadas ou a ronda está completa.
 - (C) Se a ronda não está completa, então todas as ruas foram vistoriadas.
 - (D) Todas as ruas foram vistoriadas e a ronda não está completa.
23. A partir das informações obtidas no diagrama lógico a seguir,



é logicamente verdadeiro afirmar que

- (A) qualquer elemento de G, que não é elemento de H, é elemento de F.
- (B) há elemento de F, que é elemento de H, que não é elemento de G.
- (C) os elementos de G, que são elementos de H, são também elementos de F.
- (D) há elemento de H que é elemento de G e não é elemento de F.

24. Considere a proposição:

A proteção não é suficiente ou o local está seguro.

Uma proposição que seja equivalente lógica desta proposição é

- (A) A proteção é suficiente, e o local não está seguro.
- (B) Se a proteção é suficiente, então o local está seguro.
- (C) Se o local está seguro, então a proteção é suficiente.
- (D) A proteção é suficiente ou o local está seguro.

25. Considere as afirmações e seus respectivos valores lógicos.

I. Se Francisco não é honesto, então Geraldo é esforçado. VERDADE.

II. Se Geraldo não é esforçado, então José é trabalhador. FALSIDADE.

III. Manoel é preguiçoso e Francisco é honesto. FALSIDADE.

A partir dessas informações, é logicamente verdadeiro que

- (A) Geraldo é esforçado.
- (B) Manoel não é preguiçoso.
- (C) Francisco não é honesto.
- (D) José é trabalhador.

R A S C U N H O

26. Considere um computador com MS-Windows 10, em sua configuração padrão, contendo as duas pastas locais descritas a seguir:

- Pasta chamada X, contendo os arquivos a.txt e b.docx.
- Pasta chamada Y, contendo os arquivos a.docx e b.docx.

O usuário acessou a pasta X, selecionou todos os arquivos da pasta e, em seguida, pressionou o atalho por teclado Ctrl+X. Acessou a pasta Y, selecionou o arquivo a.docx e pressionou o atalho por teclado Ctrl+V.

Sabendo que o usuário tem permissão para executar todas as ações (e escolheu sobrepor, caso exista mensagem de confirmação de operação), assinale a alternativa que apresenta a quantidade de arquivos na pasta Y, após as ações descritas no enunciado.

- (A) 1
- (B) 2
- (C) 3
- (D) 4

27. Um usuário do MS-Word 2016, em sua configuração padrão, a partir de um novo documento vazio, realizou as seguintes ações, nessa ordem:

- 1 – Pressiona o botão Alinhar à Direita.
- 2 – Digita Projetos.
- 3 – Pressiona Enter.
- 4 – Pressiona o botão Centralizar.
- 5 – Digita De.
- 6 – Pressiona Enter.
- 7 – Digita Sinalização.
- 8 – Pressiona Enter.
- 9 – Pressiona o botão Alinhar à Esquerda.
- 10 – Digita Viária.

Após todas as ações, o número de parágrafos centralizados é

- (A) 1
- (B) 2
- (C) 3
- (D) 4

28. Um agente de trânsito elaborou a planilha a seguir, por meio do MS-Excel 2016, em sua configuração padrão, para trabalhar com valores de taxas de poluição veicular aplicadas.

	A	B
1	Mês	Valor
2	Janeiro	R\$ 600,00
3	Fevereiro	R\$ 4.500,00
4	Março	R\$ 2.700,00
5	Abril	R\$ 1.800,00
6		
7	Calculado	R\$ 2.400,00

O agente digitou, na coluna A, a descrição dos meses, e na coluna B, os valores de taxas aplicados no respectivo mês.

Em seguida, na célula B7 colocou uma fórmula para realizar um determinado cálculo com tais dados.

Assinale a alternativa que apresenta a fórmula que resulta no valor exibido na célula B7.





- (A) =MAIOR(B5;2400)
- (B) =MENOR(B3;2400)
- (C) =SOMA(B2:B5)
- (D) =MÉDIA(B2:B5)

29. Um agente de trânsito preparou uma apresentação, por meio do MS-PowerPoint 2016, em sua configuração padrão, sobre atividades de educação no trânsito que pretende organizar, contendo 8 slides, sem nenhum efeito de animação nem efeito de transição. Os slides 3, 5 e 7 estão ocultos. Finalizou a edição do slide 2 e apertou o atalho _____, que iniciou o Modo de Apresentação no slide _____. Ao pressionar a tecla Enter 2 vezes seguidas, o slide _____ foi exibido.

Assinale a alternativa que preenche, correta e respectivamente, as lacunas do enunciado.

- (A) Shift + F5 ... 2 ... 6
- (B) Shift + F5 ... 1 ... 4
- (C) F5 ... 1 ... 3
- (D) F5 ... 2 ... 6

30. Um agente de trânsito, após documentar um processo de remoção de veículo, precisa enviar o relatório preparado, que se encontra em uma pasta local de seu computador, para seu chefe imediato. Ao decidir enviar tal relatório (um arquivo chamado relatorio_remocao.docx) por meio do gmail.com, em sua configuração padrão, abriu a opção para escrever um novo e-mail e, para incluir o arquivo do relatório no e-mail sendo preparado, deve utilizar a opção:

- (A) 
- (B) 
- (C) 
- (D) 

CONHECIMENTOS ESPECÍFICOS

31. Nos termos do artigo 5º da Constituição da República Federativa do Brasil, é correto afirmar que
- (A) nenhum brasileiro poderá ser extraditado.
 - (B) a pena de morte somente poderá ser aplicada em caso de guerra declarada contra agressão estrangeira.
 - (C) nenhum estrangeiro poderá ser extraditado.
 - (D) o direito de petição aos Poderes Públicos, em defesa de direitos ou contra ilegalidade ou abuso de poder, dependerá de pagamento de taxas.
32. São direitos sociais, insculpidos no artigo 6º da Constituição da República Federativa do Brasil:
- (A) a educação, a saúde e a previdência social.
 - (B) a alimentação, o trabalho e o sufrágio universal.
 - (C) a moradia, o transporte e o plebiscito.
 - (D) o lazer, a segurança, e o referendo.
33. De acordo com o artigo 144 da Constituição da República Federativa do Brasil, é correto afirmar que
- (A) a polícia rodoviária federal possui a atribuição de apuração de infrações penais ocorridas nas rodovias federais.
 - (B) as polícias civis, dirigidas por delegados de polícia de carreira, possuem, ressalvada a competência da União, as funções de polícia judiciária e de apuração de infrações penais, inclusive os crimes militares.
 - (C) a execução de atividades de defesa civil é atribuição dos corpos de bombeiros militares.
 - (D) as guardas municipais possuem as atribuições de polícia ostensiva e a preservação da ordem pública.
34. Sobre o crime de homicídio previsto no Código Penal Brasileiro, assinale a alternativa correta.
- (A) Todo e qualquer crime de homicídio contra a mulher, doloso ou culposo, é denominado feminicídio.
 - (B) Será considerado simples o homicídio praticado contra um guarda municipal, em decorrência da função pública por ele exercida.
 - (C) O homicídio será qualificado, quando for praticado com o emprego de arma de fogo de uso permitido.
 - (D) O homicídio praticado contra menor de 14 (quatorze) anos será sempre qualificado.

35. Constitui crime de _____ a conduta de agenciar, aliciar, recrutar, transportar, transferir, comprar, alojar ou acolher pessoa, mediante grave ameaça, violência, coação, fraude ou abuso, com a finalidade de realizar adoção ilegal.

Assinale a alternativa que preenche corretamente a lacuna.

- (A) Intimidação sistemática (*bullying*)
 - (B) Cárcere privado
 - (C) Redução a condição análoga à de escravo
 - (D) Tráfico de pessoas
36. Noé, guarda municipal, por conta de negligência na administração de suas finanças pessoais, encontra-se bastante endividado; por conta disso, Noé exigiu de Adão, egresso do sistema penitenciário pela prática do crime de tráfico de drogas, a quantia de R\$ 50.000,00 (cinquenta mil reais), sob pena de, não satisfeita a exigência, forjar uma prisão em flagrante por tráfico de drogas contra Adão. A conduta de Noé
- (A) tipifica o crime de corrupção passiva.
 - (B) configura a contravenção de usura pecuniária.
 - (C) tipifica o crime de prevaricação.
 - (D) configura o crime de extorsão.
37. Maria e João, guardas municipais, prévia e nominalmente escalados em serviço de ronda escolar, durante o patrulhamento, surpreendem Joana, estudante, pichando o muro de uma escola municipal com tinta *spray*. Como condição para deixarem de adotar as providências legais cabíveis, Maria e João exigiram de Joana o pagamento de R\$ 1.000,00 (um mil reais) em espécie, cuja exigência foi recusada por Antônio, genitor de Joana. A conduta dos guardas municipais configura, em tese,
- (A) fato atípico, vez que houve recusa por parte de Antônio.
 - (B) o crime de concussão.
 - (C) a contravenção penal de violação de dever funcional.
 - (D) o crime de corrupção passiva.
38. Sobre o tema “prisão em flagrante”, previsto no Código de Processo Penal, assinale a alternativa correta.
- (A) Qualquer pessoa do povo tem o dever legal de prender aquele que for encontrado em flagrante delito.
 - (B) A prisão em flagrante não será possível na hipótese de infrações permanentes.
 - (C) A falta de testemunhas da infração obstará a lavratura do auto de prisão em flagrante.
 - (D) O auto de prisão em flagrante será assinado por duas testemunhas instrumentárias, caso o preso se recuse a assiná-lo.

39. Nos termos do Estatuto da Criança e do Adolescente, é correto afirmar que
- (A) o ato infracional diz respeito à conduta descrita como crime, enquanto o ato contravençional refere-se à conduta descrita como contravenção penal.
 - (B) a internação, antes da sentença, pode ser determinada pelo prazo máximo de noventa dias.
 - (C) medidas socioeducativas não são aplicáveis a crianças, autoras de ato infracional.
 - (D) a internação, antes da sentença, deve ser determinada pelo prazo máximo de sessenta dias.
40. Sobre o tema “Conselho Tutelar”, insculpido no Estatuto da Criança e do Adolescente, é correto afirmar que
- (A) cada Conselho Tutelar será composto de 07 (sete) membros.
 - (B) o Conselheiro Tutelar tem o mandato de 03 (três) anos, permitida recondução por novos processos de escolha.
 - (C) um dos requisitos para a candidatura a membro do Conselho Tutelar é a idade mínima de 30 (trinta) anos.
 - (D) as decisões do Conselho Tutelar somente poderão ser revistas pela autoridade judiciária a pedido de quem tenha legítimo interesse.
41. Sobre a disciplina dada pelo Estatuto da Criança e do Adolescente (ECA) aos crimes nele previstos, assinale a alternativa correta.
- (A) Aos crimes cometidos contra a criança e o adolescente, independentemente da pena prevista, não se aplica a Lei nº 9.099, de 26 de setembro de 1995 (Juizados Especiais Criminais).
 - (B) Nos casos de violência doméstica e familiar contra a criança e o adolescente, é permitida a aplicação de penas de cesta básica ou de outras de prestação pecuniária.
 - (C) Os crimes definidos no ECA podem ser de ação pública incondicionada ou condicionada à representação dos pais ou responsáveis da vítima, criança ou adolescente.
 - (D) A condenação por qualquer crime previsto no ECA implicará necessariamente na perda de cargo, função pública ou mandato eletivo do agente público.
42. O Estatuto da Pessoa Idosa é destinado a regular os direitos assegurados às pessoas com idade _____. Entre as pessoas idosas, é assegurada prioridade especial aos maiores de _____, atendendo-se suas necessidades sempre preferencialmente em relação às demais pessoas idosas. Assinale a alternativa que preenche corretamente as lacunas.
- (A) igual ou superior a 60 (sessenta) anos ... 70 (setenta) anos
 - (B) superior a 60 (sessenta) anos ... 70 (setenta) anos
 - (C) igual ou superior a 60 (sessenta) anos ... 80 (oitenta) anos
 - (D) superior a 65 (sessenta e cinco) anos ... 80 (oitenta) anos
43. Dispõe o Estatuto do Desarmamento (Lei nº 10.823/2003) que
- (A) a autorização para o porte de arma de fogo de uso restrito, em todo o território nacional, é de competência da Polícia Federal e somente será concedida após autorização do Sinarm.
 - (B) compete ao Ministério da Justiça o registro e a concessão de porte de trânsito de arma de fogo para colecionadores, atiradores e caçadores e de representantes estrangeiros em competição internacional oficial de tiro realizada no território nacional.
 - (C) um dos requisitos para a concessão de porte de arma de fogo, na categoria caçador para subsistência, é o requerente possuir a idade mínima de 21 (vinte e um) anos.
 - (D) o caçador para subsistência que der outro uso à sua arma de fogo, independentemente de outras tipificações penais, responderá, conforme o caso, por porte ilegal ou por disparo de arma de fogo de uso permitido.
44. Sobre a Lei “Maria da Penha”, assinale a alternativa correta.
- (A) A mencionada Lei cria mecanismos para coibir e prevenir a violência doméstica e familiar contra a mulher e o homem.
 - (B) Os Juizados de Violência Doméstica e Familiar foram criados pela mencionada Lei.
 - (C) Apenas a pessoa do sexo masculino pode ser autora de violência doméstica e familiar.
 - (D) Qualquer conduta que configure calúnia, difamação ou injúria contra a mulher será considerada violência psicológica.

- 45.** Nos termos da Lei nº 13.869/2019 – Abuso de Autoridade, é correto afirmar que incorre em crime o agente público que cumpre mandado de busca e apreensão domiciliar, contra a vontade do morador, às
- (A) quatro horas e cinquenta minutos.
 - (B) vinte horas e trinta minutos.
 - (C) seis horas e quinze minutos.
 - (D) doze horas.
- 46.** Ainda sobre a Lei de Abuso de Autoridade, é correto afirmar que
- (A) a aplicação das penas decorrentes da Lei dependerá de prévia e eventual imposição de sanções de natureza civil ou administrativa.
 - (B) a declaração de existência do fato e sua autoria pelo juízo criminal poderá ser modificada no âmbito civil e administrativo.
 - (C) a sentença penal que reconhecer o exercício regular de direito não faz coisa julgada no âmbito disciplinar.
 - (D) as notícias de crimes previstos na Lei que descreverem falta funcional serão informadas à autoridade competente com vistas à apuração.
- 47.** De acordo com a Lei nº 13.022/2014 – Estatuto Geral das Guardas Municipais, é correto afirmar que
- (A) as guardas municipais utilizarão uniforme e equipamentos padronizados, preferencialmente, na cor azul-marinho.
 - (B) a estrutura hierárquica da guarda municipal é semelhante às forças militares, motivo pelo qual será facultativa a utilização de denominações como Sargento, Tenente, Capitão e Coronel.
 - (C) é assegurado ao guarda municipal o recolhimento a presídio especial destinado a policiais civis ou militares quando sujeito à prisão antes de condenação definitiva.
 - (D) a Agência Nacional de Telecomunicações (Anatel) destinará linha telefônica de número 197 e faixa compartilhada de frequência de rádio com a Polícia Militar, aos Municípios que possuem guarda municipal.
- 48.** Ainda sobre o Estatuto Geral das Guardas Municipais, é correto afirmar que um dos princípios mínimos de atuação das guardas municipais é
- (A) a polícia ostensiva.
 - (B) o patrulhamento preventivo.
 - (C) a execução de atividades de defesa civil.
 - (D) a educação, engenharia e fiscalização de trânsito.
- 49.** Segundo a Lei nº 13.022/2014 – Estatuto Geral das Guardas Municipais, é correto afirmar que
- (A) corregedoria e ouvidoria são órgãos obrigatórios em todas as guardas municipais.
 - (B) corregedoria é um órgão de controle externo.
 - (C) é obrigatório o funcionamento de corregedoria nas guardas municipais com efetivo superior a 50 (cinquenta) servidores da guarda e em todas as que utilizam arma de fogo.
 - (D) é facultativo o funcionamento de ouvidoria nas guardas municipais com efetivo inferior a 50 (cinquenta) servidores da guarda.
- 50.** Nos termos da Lei Complementar Municipal nº 1.714/2022, é vedada a nomeação de _____ para o exercício de cargo de confiança, pela autoridade nomeante.
- Assinale a alternativa que completa corretamente a lacuna.
- (A) primo
 - (B) amigo
 - (C) sócio de empresa
 - (D) sobrinho

