

AVANÇASP

Rio CLARO
AMOR PELA CIDADE

Fundação Municipal
de Saúde



FUNDAÇÃO MUNICIPAL DE SAÚDE DE
RIO CLARO/SP

CONCURSO PÚBLICO
EDITAL Nº 02/2023

FARMACÊUTICO

Leia atentamente as instruções abaixo

1. PROVA E FOLHA DE RESPOSTAS

Além deste Caderno de Prova, contendo 50 (cinquenta) questões objetivas, você receberá do Fiscal de Sala:

- 01 (uma) Folha de Respostas destinada às respostas das questões objetivas. Confira se seus dados estão corretos.

2. TEMPO

- 03 (três) horas é o tempo disponível para realização da prova, já incluído o tempo para marcação da Folha de Respostas da prova objetiva;

- **01 (uma) hora** após o início da prova é possível, retirar-se da sala levando o caderno de prova;

3. INFORMAÇÕES GERAIS

- As questões objetivas têm 05 (cinco) alternativas de resposta (A, B, C, D, E) e somente **uma** delas está correta;
- Verifique se seu caderno está completo, sem repetição de questões ou falhas. Caso contrário, informe imediatamente o Fiscal da Sala, para que sejam tomadas as devidas providências;
- Confira seus dados pessoais na Folha de Respostas, especialmente nome, número de inscrição e documento de identidade e leia atentamente as instruções para preenchimento;
- O preenchimento das respostas da prova objetiva é de sua responsabilidade e não será permitida a troca de Folha de Respostas em caso de erro de marcação pelo candidato;

- Marque, na folha de respostas, com caneta de tinta azul ou preta, a letra correspondente à alternativa que você escolheu.

- Reserve tempo suficiente para o preenchimento de suas respostas. Para fins de avaliação, serão levadas em consideração apenas as marcações realizadas na Folha de Respostas da prova objetiva, não sendo permitido anotar informações relativas às respostas em qualquer outro meio que não seja o caderno de prova;

- Ao se retirar, entregue a Folha de Respostas preenchida e assinada ao Fiscal de Sala.

SERÁ ELIMINADO do presente certame o candidato que:

- a) for surpreendido, durante as provas, em qualquer tipo de comunicação com outro candidato;
- b) portar ou usar, qualquer tipo de aparelho eletrônico (calculadoras, bips/pagers, câmeras fotográficas, filmadoras, telefones celulares, smartphones, tablets, relógios, walkmans, MP3 players, fones de ouvido, agendas eletrônicas, notebooks, palmtops ou qualquer outro tipo de computador portátil, receptores ou gravadores) seja na sala de prova, sanitários, pátios ou qualquer outra dependência do local de prova;
- c) se ausentar da sala em que se realizam as provas levando consigo o Caderno de Questões e/ou a Folha de Respostas;
- d) se recusar a entregar a Folha de Respostas, quando terminar o tempo estabelecido;
- e) não assinar a Lista de Presença e/ou a Folha de Respostas.

LÍNGUA PORTUGUESA

TEXTO

Caso de divórcio (I)

O divórcio é necessário. Todos conhecem dezenas de casos que convenceriam até um arcebispo. Eu mesmo conheço meia dúzia. Vou contar uns três ou quatro. O nome dele é Morgadinho. Baixo, retaco, careca precoce. Você conhece o tipo. No carnaval se fantasia de legionário romano e no futebol de praia dá pau que não é fácil. Frequenta o clube e foi lá que conheceu sua mulher, mais alta do que ele, morena, linda, as unhas do pé pintadas de roxo. Na noite de núpcias, ele lhe declarou.

— Se você algum dia me enganar, eu te esgoelo.

— Ora, Morgadinho...

Ela se chama Fátima Araci. Ou é Mara Sirlei? Não, Fátima Araci. Não é que ela não goste do Morgadinho, é que nunca prestou muita atenção no marido. Na cerimônia do casamento já dava para notar. O olhar dela passava dois centímetros acima da careca do Morgadinho. Ela estava maravilhada com o próprio casamento e o Morgadinho era um simples acessório daquele dia inesquecível. Como um castiçal ou um coroinha. No álbum de fotografias do casamento que ela guardou junto com a grinalda, há esta constatação terrível: o Morgadinho não aparece. Aparece o coroinha mas não aparece o Morgadinho. Um ou dois meses depois do casamento, o Morgadinho sugeriu que ela lhe desse um apelido. Um nome secreto, carinhoso, para ser usado na intimidade, algo que os unisse ainda mais, sei lá. Ela prometeu que ia pensar no assunto. O Morgadinho insistiu.

— Eu te chamo de Fafá e você me chama de qualquer coisa.

— Vamos ver.

Uma semana depois, Morgadinho voltou ao assunto.

— Já pensaste num apelido para mim, Fafá?

— Ainda não.

Três semanas depois, ele mesmo deu um palpite.

— Quem sabe Momo?

— Não.

— Gagá? Fofura? — Tomou coragem e, rindo meio sem jeito, arriscou:

— Tigre?

Ela nem riu. Pediu que ele tivesse paciência. Estava lendo o Sétimo Céu. Tinha tempo. O Morgadinho não desistiu. Às vezes, chegava em casa com uma novidade.

— Que tal este: “Barrilzinho”?

— Não gosto.

Outra vez, os dois estavam passando por um quintal e ouviram uma criança chamando um cachorro.

— Pitoco. Vem, Pitoco.

Morgadinho virou-se para a mulher, cheio de esperança, mas ela fez que não com a cabeça. Finalmente (passava um ano do casamento e nada de apelido), Morgadinho perdeu a paciência. Estavam os dois na cama. Ela pintava as unhas do pé.

— Você não me ama.

— Ora, Morgadinho...

— Até hoje não pensou num apelido para mim.

— Está bem, sabe o que tu és? Um xaropão. Taí teu apelido. Xaropão.

O Morgadinho já tinha enfrentado várias levaras de policiais a tapa. Uma vez desmontara um bar depois de um mal-entendido e saíra para a rua dando cadeiradas em meio mundo. Homens, mulheres e crianças. Mas naquela noite virou-se para o lado e chorou no travesseiro. Aí a mulher, com cuidado para não estragar o esmalte, chegou perto do seu ouvido e disse, rindo:

— Xaropãozinho... — Rindo. Rindo!

Luís Fernando Verissimo. *Ed Mort – todas as histórias*. 1ª Ed. São Paulo: Objetiva, 2011.

QUESTÃO 01

No texto Caso de divórcio (I), o humor é desencadeado por uma situação em que não há reciprocidade aparente entre um casal, em relação ao uso de apelidos carinhosos. Depois de diversas cobranças, a esposa dá o apelido ao marido de 'Xaropão'. No entanto, há uma quebra de expectativa quando:

- (A) Morgadinho se chateia e chora no travesseiro.
- (B) a esposa acrescenta à palavra o diminutivo, que remete a um apelido carinhoso.
- (C) Morgadinho enfrenta policiais.
- (D) a esposa simplesmente o ignora para não estragar o esmalte.
- (E) Morgadinho sai para a rua dando cadeiradas em todo mundo.

QUESTÃO 02

O uso da palavra “xarope” retratado no texto exprime um sentido:

- (A) figurativo, de pessoa que causa aborrecimento.
- (B) literal, de líquido medicamentoso utilizado para fins terapêuticos.
- (C) literal, de líquido doce e concentrado utilizado para fins culinários.
- (D) figurativo, de pessoa pouco inteligente.
- (E) figurativo, de líquido alcoólico, como aguardente.

QUESTÃO 03

Considere as seguintes sentenças, retiradas do texto:

- I. “No carnaval se fantasia de legionário romano e no futebol de praia dá pau que não é fácil.”
- II. “— Se você algum dia me enganar, eu te esgoelo.”

Nas sentenças dadas, a palavra “se” atua, respectivamente, como:

- (A) pronome reflexivo e conjunção integrante.
- (B) conjunção integrante e conjunção condicional.
- (C) pronome reflexivo e conjunção condicional.
- (D) pronome reflexivo e pronome reflexivo.
- (E) conjunção integrante e conjunção integrante.

QUESTÃO 04

Considere as palavras I. fofura e II. barrilzinho, que ocorrem no texto. As palavras dadas apresentam marcas que indicam tipos de processos de formação. Assinale a alternativa que classifica corretamente os elementos -ura e -inho, que ocorrem respectivamente nas palavras I e II, e o tipo de processo ao qual esses elementos são relacionados.

- (A) elementos mórficos de composição por aglutinação.
- (B) elementos mórficos de composição por justaposição.
- (C) prefixos de derivação.
- (D) sufixos de derivação.
- (E) morfemas de flexão de número.

QUESTÃO 05

Considere o seguinte excerto: “Uma vez desmontara um bar depois de um mal-entendido e saíra para a rua dando cadeiradas em meio mundo.” Neste contexto, os verbos ‘desmontara’, ‘saíra’ e ‘dando’ apresentam, respectivamente, as conjugações:

- (A) pretérito mais-que-perfeito do modo indicativo, pretérito mais-que-perfeito do modo indicativo e gerúndio.
- (B) pretérito imperfeito do modo indicativo, pretérito mais-que-perfeito do modo indicativo e gerúndio.
- (C) pretérito mais-que-perfeito do modo indicativo, pretérito perfeito do modo indicativo e gerúndio.
- (D) pretérito mais-que-perfeito do modo indicativo, pretérito mais-que-perfeito do modo indicativo e imperativo.
- (E) pretérito perfeito do modo indicativo, pretérito perfeito do modo indicativo e participípio.

QUESTÃO 06

Considere as seguintes sentenças, retiradas do texto:

- I. “Mas naquela noite virou-se para o lado e chorou no travesseiro.”
- II. “Você não me ama.”

Nas sentenças dadas, a colocação pronominal ocorre, respectivamente, como:

- (A) mesóclise e próclise.
- (B) mesóclise e ênclise.
- (C) próclise e ênclise.
- (D) ênclise e ênclise.
- (E) ênclise e próclise.

QUESTÃO 07

Considere as seguintes sentenças, retiradas do texto:

- I. “Todos conhecem dezenas de casos que convenceriam até um arcebispo.”
- II. “Na noite de núpcias, ele lhe declarou.”
- III. “Taí teu apelido. Xaropão.”

As sentenças dadas apresentam diferentes tipos de pronomes. Ocorre pronome indefinido apenas em:

- (A) I.
- (B) II.
- (C) III.
- (D) I e II.
- (E) II e III.

QUESTÃO 08

Assinale a alternativa em que todas as palavras são proparoxítonas.

- (A) prato, enfermo, colocação.
- (B) aviso, diáspora, gentil.
- (C) abrasivo, lápis, pé.
- (D) cântico, sábado, cinéfilo.
- (E) rito, efêmero, fugaz.

QUESTÃO 09

Considere as seguintes sentenças:

- I. Mesmo que tenhamos feito as pazes, nada será como antes.
- II. Ela se deu bem na prova, embora não tenha estudado.
- III. Apesar dos momentos ruins, este ano foi cheio de realizações.

Nas sentenças dadas, as orações subordinadas que apresentam as expressões “mesmo que”, “embora” e “apesar de” exprimem o mesmo sentido. Este sentido é:

- (A) condicional.
- (B) adversativo.
- (C) causal.
- (D) temporal.
- (E) concessivo.

QUESTÃO 10

Assinale a alternativa que apresenta a sentença correta em relação ao emprego da crase.

- (A) Diga àquela aluna que não teremos aula amanhã.
- (B) Já conversamos quanto à isso.
- (C) A empresa comunicou que não haverá doações à asilos neste ano.
- (D) Fazer tudo isso à que custo?
- (E) Esta máquina funciona à vapor.

MATEMÁTICA E RACIOCÍNIO LÓGICO
QUESTÃO 11

Uma loja de materiais de construções vai fazer uma entrega de areia num caminhão que comporta no máximo 5 m^3 de volume de material. Sabendo-se que cada m^3 de areia pesa 1,5 tonelada, quantas toneladas de areia serão utilizadas para preencher 80% da capacidade do caminhão?

- (A) 7,5 toneladas.
- (B) 7,0 toneladas.
- (C) 6,0 toneladas.
- (D) 5,5 toneladas.
- (E) 5,0 toneladas.

QUESTÃO 12

Um acionista investiu R\$50.000,00 num investimento a juro simples rendendo R\$ 1.000,00 todo mês. Qual a taxa de juros anual do investimento?

- (A) 2%.
- (B) 12%.
- (C) 15%.
- (D) 20%.
- (E) 24%.

QUESTÃO 13

Uma folha de papel em formato de triângulo equilátero de lado a é cortada ao longo de uma das suas medianas, conforme a figura.



Indique o perímetro de cada um dos triângulos formados após o corte:

- (A) $\frac{a\sqrt{3}}{2}$.
- (B) $\frac{a}{4}(3 + \sqrt{3})$.
- (C) $3a$.
- (D) $\frac{3a}{2}$.
- (E) $\frac{a}{2}(3 + \sqrt{3})$.

QUESTÃO 14

Uma unidade muito comum utilizada na astronomia para medir a distância entre astros é a unidade ‘ano-luz’. Que corresponde à distância percorrida pela luz em um ano. Sabendo-se que a velocidade da luz é tal que ela percorre aproximadamente 300 milhões de metros a cada segundo, qual o equivalente de 1 ano-luz em quilômetros, assumindo esta velocidade? Considere 1 ano com aproximadamente 31,5 milhões de segundos, e indique o número mais próximo:

- (A) 95 trilhões.
- (B) 9.5 trilhões.
- (C) 950 bilhões.
- (D) 95 bilhões.
- (E) 9.5 bilhões.

QUESTÃO 15

A tabela abaixo mostra o resultado da pontuação de uma competição de tiro ao alvo entre 3 competidores de países diferentes. Cada jogador tem 5 tentativas. A cada tentativa ele obtém uma determinada quantidade de pontos. Após as 5 tentativas, sua pontuação final é a média das pontuações das 5 tentativas. Ganha quem tiver a maior média final.

	BRA	EUA	CHI
Tentativa 1	80	90	60
Tentativa 2	60	80	65
Tentativa 3	80	50	60
Tentativa 4	90	55	80
Tentativa 5	40	90	90

Sabendo que os pontos são sempre múltiplos de 5, quantos pontos a mais o competidor do BRA deveria ter tirado na Tentativa 5 para que ganhasse a competição?

- (A) 5.
- (B) 10.
- (C) 15.
- (D) 20.
- (E) 25.

QUESTÃO 16

Uma sorveteria possui uma máquina de sorvetes que produz 20 litros de sorvete por hora. Para atender à demanda do verão, eles decidem comprar outra máquina mais moderna que agora produz 40 litros por hora. Porém, devido a um problema no resfriamento, cada máquina está perdendo 10% da sua produção por hora. Nessas condições, quantas horas serão necessárias para fabricar 810 litros de sorvete utilizando ambas as máquinas?

- (A) 15 horas.
- (B) 16 horas.
- (C) 17 horas.
- (D) 18 horas.
- (E) 19 horas.

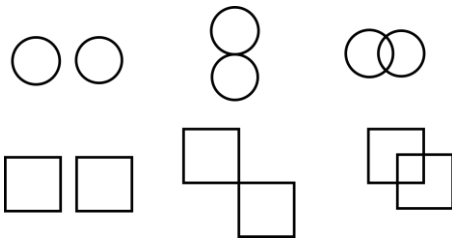
QUESTÃO 17

Um caminhão-cegonha é um caminhão utilizado para transportar outros carros de pequeno porte. Uma empresa de locação de carros precisa transportar 60 carros do Tipo A, 40 carros do tipo B e 100 carros do tipo C num caminhão-cegonha, que tem capacidade máxima de 10 carros por viagem. Em todas as viagens, o caminhão deve levar sempre x carros do tipo A, y carros do tipo B e z carros do tipo C. Qual deve ser o valor de z para que o caminhão dê o mínimo de viagens possível?


- (A) 1.
- (B) 2.
- (C) 3.
- (D) 4.
- (E) 5.

QUESTÃO 18

Observe as seguintes sequências figurais:



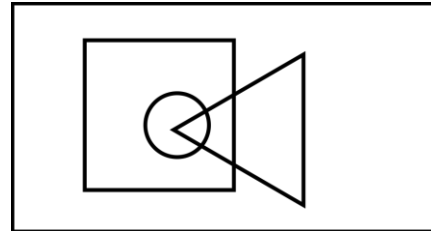
De acordo com as correspondências abaixo, indique as possíveis sequências que seguem a mesma lógica:



- (A) Somente I.
 (B) I e II.
 (C) I e III.
 (D) II e III.
 (E) I, II e III.

QUESTÃO 19

No diagrama lógico abaixo, o retângulo maior representa todos os profissionais. O quadrado representa todos os pedreiros, o círculo representa todos os encanadores e o triângulo representa todos os eletricitas:



Em seguida, observe as seguintes afirmativas:

- I - Há pedreiros que também são eletricitas;
 II – Todo encanador também é eletricitista;
 III - Todo encanador também é pedreiro;
 IV – Não há eletricitas que também são encanadores.

Com base no diagrama, as afirmativas corretas são:

- (A) Somente I.
 (B) I e II.
 (C) I e III.
 (D) II, III e IV.
 (E) III e IV.

QUESTÃO 20

Uma estudante escreve 4 folhas a cada dia que estuda. Ela usa cadernos de 98 folhas limpas, e termina de usar o caderno quando ele tem menos de 4 folhas disponíveis (limpas) para o seu uso. Sabendo que ela estuda somente em dias úteis, quantos cadernos ela precisará durante um ano, considerando que o ano tem 251 dias úteis.

- (A) 8.
- (B) 9.
- (C) 10.
- (D) 11.
- (E) 12.

**NOÇÕES DE INFORMÁTICA
QUESTÃO 21**

Em se tratando de MS-Windows 7, assinale a alternativa que apresenta o atalho para abrir o menu Iniciar:

- (A) Ctrl + R.
- (B) Ctrl + Esc.
- (C) Ctrl + V.
- (D) Ctrl + W.
- (E) Caps + U.

QUESTÃO 22

Sobre a função “responder” no MS-Outlook 2016, é possível afirmar:

- (A) O texto original do remetente não será mantido.
- (B) Ao clicar em "Responder", o Outlook abrirá uma nova janela de composição de e-mail com o endereço de e-mail do remetente já preenchido no campo "Para:".
- (C) O anexo será mantido na mensagem.
- (D) O campo “Assunto” não será preenchido automaticamente.
- (E) O campo “Para” deverá ser preenchido.

QUESTÃO 23

O Microsoft Outlook é principalmente uma ferramenta de comunicação e gerenciamento de informações pessoais, e muitas tarefas específicas exigem software dedicado para serem realizadas com eficiência. São funções do MS-Outlook 2016, EXCETO:

- (A) Enviar e Receber E-mails.
- (B) Desenvolvimento de Software.
- (C) Agendar Compromissos e Reuniões.
- (D) Gerenciar Contatos.
- (E) Arquivar E-mails e Organizar Pastas.

QUESTÃO 24

Roberto trabalha em um escritório de contabilidade, e precisa entregar uma Nota Fiscal que está em arquivo PDF para o seu cliente, para isso, ele deve:

- (A) Digitalizar o documento, que envolve a conversão de uma cópia física em um formato digital, geralmente um arquivo PDF, imagem ou texto.
- (B) Digitalizar o documento, que envolve a conversão de uma cópia digital em um formato físico.
- (C) Imprimir o documento, que envolve a criação de uma cópia física em papel ou outro meio impresso.
- (D) Imprimir o documento, que envolve a conversão de uma cópia física em um formato digital, geralmente um arquivo PDF, imagem ou texto.
- (E) Digitalizar o documento, que envolve a criação de uma cópia física em papel ou outro meio impresso.

QUESTÃO 25

Leia o trecho abaixo e assinale a alternativa que complete corretamente a lacuna:

O _____ é um serviço de armazenamento em nuvem que permite aos usuários armazenar, sincronizar e compartilhar arquivos e documentos online. Ele oferece a capacidade de acessar seus arquivos a partir de qualquer dispositivo com conexão à internet e facilita a colaboração em documentos compartilhados.

- (A) Microsoft OneDrive.
- (B) Microsoft Excel.
- (C) Microsoft OneNote.
- (D) Microsoft Outlook.
- (E) Microsoft Word.

CONHECIMENTOS ESPECÍFICOS**QUESTÃO 26**

A lei nº 8080/90, conhecida como Lei do SUS, em seu 2º diz que a saúde é um direito fundamental do ser humano, devendo o Estado prover as condições indispensáveis ao seu pleno exercício. Com relação ao SUS analise as afirmativas abaixo e marque a alternativa correta.

- () É vedada a participação direta ou indireta de empresas ou capitais estrangeiros na assistência à saúde no país, salvo nos casos previstos em lei.
 - () As instituições privadas não poderão participar de forma complementar ao Sistema Único de Saúde
 - () É permitido a destinação de recursos públicos para auxílios ou subvenções às instituições privadas com fins lucrativos
 - () Ao SUS, compete executar as ações de vigilância sanitária e epidemiológica, bem como as de saúde do trabalhador
 - () É de competência do SUS a fiscalização e inspeção de alimentos, compreendido o controle de seu teor nutricional, bem como bebidas e águas para consumo humano
- (A) V-F-V-V-V.
 - (B) V-V-F-V-V.
 - (C) F-F-F-V-V.
 - (D) V-F-F-V-V.
 - (E) F-F-V-V-V.

QUESTÃO 27

Com base na resolução nº 724, de 29 de abril de 2022, do Conselho Federal de Farmácia que atualiza o Código de Ética, o Código de Processo Ético e estabelece as infrações e as regras de aplicação das sanções ético-disciplinares, é vedado ao farmacêutico:

- (A) Avaliar a prescrição, decidindo, justificadamente, pela não dispensação ou aviamento.
- (B) Interagir com os demais profissionais, para garantir a segurança e a eficácia da terapêutica, observado o uso racional de medicamentos.
- (C) Realizar a intercambialidade de medicamentos.
- (D) Exercer simultaneamente a medicina.
- (E) Utilizar as mídias sociais na divulgação de informações científicas, baseadas em evidências.

QUESTÃO 28

Com fim da RDC 357/2020, a partir do 22/09/2023, voltou a valer as regras anteriores previstas para a prescrição e dispensação de Notificações de Receita e Receitas de Controle Especial, incluindo as quantidades máximas permitidas em cada receituário, conforme a Portaria SVS 344/98. Com relação ao tipo de receituário Notificação de Receita B, as quantidades máximas permitidas são:

- (A) 5 unidades (ampolas) ou quantidade máxima para 60 dias de tratamento (demais formas farmacêuticas).
- (B) 18 unidades (ampolas) ou quantidade máxima para 6 meses de tratamento (demais formas farmacêuticas).
- (C) 5 unidades (ampolas) ou quantidade máxima para 6 meses de tratamento (demais formas farmacêuticas).
- (D) 18 unidades (ampolas) ou quantidade máxima para 60 dias de tratamento (demais formas farmacêuticas).
- (E) 5 unidades (ampolas) ou quantidade máxima para 30 dias de tratamento (demais formas farmacêuticas).

QUESTÃO 29

A RDC nº 222, de 28 de março de 2018, regulamenta as Boas Práticas de Gerenciamento dos Resíduos de Serviços de Saúde e dá outras providências. São resíduos de saúde pertencentes ao grupo B:

- (A) Resíduos com a possível presença de agentes biológicos que, por suas características, podem apresentar risco de infecção.
- (B) Resíduos contendo produtos químicos que podem apresentar risco à saúde pública ou ao meio ambiente, dependendo de suas características de inflamabilidade, corrosividade, reatividade e toxicidade.
- (C) Rejeitos radioativos.
- (D) Resíduos que não apresentam risco biológico, químico ou radiológico à saúde ou ao meio ambiente, podendo ser equiparados aos resíduos domiciliares.
- (E) Resíduos perfurocortantes ou escarificantes.

QUESTÃO 30

Conforme preconizado pelo RDC nº 36/2013 da ANVISA que institui ações para a segurança do paciente em serviços de saúde e dá outras providências, o Plano de Segurança do Paciente em Serviços de Saúde (PSP), elaborado pelo Núcleo de Segurança do Paciente, deve estabelecer estratégias e ações de gestão de risco, conforme as atividades desenvolvidas pelo serviço de saúde para. São elas, exceto:

- (A) Identificação do paciente.
- (B) Higiene das mãos.
- (C) Segurança cirúrgica.
- (D) Prevenção de desabastecimento de medicamentos.
- (E) Segurança na prescrição, uso e administração de sangue e hemocomponentes.

QUESTÃO 31

A assistência farmacêutica é um conceito que engloba o conjunto de práticas voltadas à saúde individual e coletiva, tendo o ciclo do medicamento e o seu uso racional como foco. Com base nos conhecimentos dos componentes da Assistência Farmacêutica, associe as colunas e assinale a alternativa correta.

- 1 – Componente Básico da Assistência Farmacêutica
- 2 – Componente Estratégico da Assistência Farmacêutica
- 3 – Componente Especializado da Assistência Farmacêutica

- () Efavirenz 600mg comprimido
- () Aciclovir 200mg comprimido
- () Atorvastatina 40mg comprimido

- (A) 1-2-3.
- (B) 1-3-2.
- (C) 2-1-3.
- (D) 3-1-2.
- (E) 3-2-1.

QUESTÃO 32

A Assistência Farmacêutica na Atenção Básica envolve um grupo de ações desenvolvidas de forma articulada pelo Ministério da Saúde, Secretarias Estaduais e Municipais de Saúde. Com relação ao financiamento pode-se afirmar que:

- (A) O componente básico é financiado pelo Ministério da Saúde e Estados.
- (B) O componente especializado é financiado integralmente pelo Ministério da Saúde.
- (C) O componente estratégico tem origem de financiamento apenas no Ministério da Saúde.
- (D) O componente especializado é subdividido em 3 grupos que diferem quanto a forma de financiamento, sendo o Grupo 2 de responsabilidade dos Estados, do Distrito Federal e municípios.
- (E) O financiamento do Grupo 1 do componente especializado é tripartite: Ministério da Saúde, Estados e Municípios.

QUESTÃO 33

O ciclo da Assistência Farmacêutica (AF) é caracterizada por ações articuladas visando a garantia ao acesso ao medicamento de forma adequada e satisfatória aos usuários. Com relação ao ciclo da AF, assinale a alternativa que não pertence ao ciclo:

- (A) Seleção.
- (B) Programação.
- (C) Aquisição.
- (D) Armazenamento e Distribuição.
- (E) Farmacovigilância.

QUESTÃO 34

O ciclo da Assistência Farmacêutica (AF) é caracterizada por ações articuladas visando a garantia ao acesso ao medicamento de forma adequada e satisfatória aos usuários. Com relação ao ciclo da AF, assinale a alternativa que não pertence ao ciclo:

- (A) Seleção.
- (B) Programação.
- (C) Aquisição.
- (D) Armazenamento e Distribuição.
- (E) Atenção Farmacêutica.

QUESTÃO 35

Conjunto de atividades destinadas a identificar eventos adversos produzidos por medicamentos, a quantificar seus riscos, a caracterizar estes fatores de risco, a prevenir iatrogenias e a avaliar suas causas. Essa definição é referente à:

- (A) Farmacocinética.
- (B) Farmacovigilância.
- (C) Farmacodinâmica.
- (D) Farmácia Clínica.
- (E) Farmacoeconomia.

QUESTÃO 36

As cefalosporinas assemelham-se às penicilinas, porém são mais estáveis em relação a muitas β -lactamases bacterianas e, portanto, exibem um espectro de atividade mais amplo. São exemplos de cefalosporinas de 3ª geração:

- (A) Ceftriaxona e Cefotaxima.
- (B) Cefalexina e Cefuroxima.
- (C) Cefazolina e Ceftriaxona.
- (D) Ceftazidima e Cefepime.
- (E) Cefadroxila e Cefaclor.

QUESTÃO 37

O diabetes tipo 2 caracteriza-se por resistência dos tecidos à ação da insulina, com deficiência relativa na secreção do hormônio. O uso de hipoglicemiantes orais tem sido amplamente para controle da doença. Um dos mecanismos é o aumento da liberação de insulina pelo pâncreas, chamados secretagogos. Pertence a essa classe:

- (A) Os derivados da D-fenilalanina e as biguanidas.
- (B) As tiazolinedionas e as sulfonilureias.
- (C) Os inibidores da Alfa-glicosidase e as tiazolinedionas.
- (D) Os agonistas do receptor de peptídeo semelhante ao glucagon (GLP-1) e as biguanidas..
- (E) As sulfonilureias e os análogos das meglitinidas.

QUESTÃO 38

Uma das metas internacionais de segurança do paciente é a melhoria na segurança de medicamentos de alta vigilância, também conhecidos como potencialmente perigosos. São medicamentos de alta vigilância, exceto:

- (A) Sulfato de magnésio injetável.
- (B) Água estéril para inalação e irrigação em embalagens de 100 mL ou volume superior.
- (C) Cloreto de potássio concentrado injetável.
- (D) Glicose 10%.
- (E) Insulina subcutânea e intravenosa (em todas as formas de administração).

QUESTÃO 39

O farmacêutico que atua na gestão de estoque deve ter conhecimento em diversas áreas, além das ciências farmacêuticas, como administração e logística. Uma das ferramentas de gestão de estoque é a utilização da curva XYZ, que se baseia em:

- (A) Custo.
- (B) Criticidade.
- (C) Classes terapêuticas.
- (D) Quantidade de saídas.
- (E) Disponibilidade no mercado.

QUESTÃO 40

As ações do fármaco no corpo são denominadas processos farmacodinâmicos. Já as ações do corpo sobre o fármaco são denominadas processos farmacocinéticos. São variáveis relacionadas à farmacocinética, exceto:

- (A) Entrada.
- (B) Meia-vida.
- (C) Depuração.
- (D) Distribuição.
- (E) Ligação fármaco-receptor.

QUESTÃO 41

No tratamento da hipertensão, um o efeito colateral comum no uso prolongado de tiazídicos é a hipocalcemia e alcalose metabólica. Em pacientes em uso de tiazídico com essa condição clínica, é recomendado a substituição ou associação com:

- (A) Diuréticos de Alça.
- (B) Beta-bloqueadores.
- (C) Inibidores da Eca.
- (D) Poupadores de Potássio.
- (E) Bloqueadores do receptor de Angiotensina.

QUESTÃO 42

A RDC Nº 67, de 8 de outubro de 2007, dispõe sobre Boas Práticas de Manipulação de Preparações Magistrais e Oficiais para Uso Humano em farmácias. Com relação às disposições gerais, é correto em:

- (A) É permitido a captação de receitas com prescrições magistrais e oficiais por drogarias, ervanárias e postos de medicamentos.
- (B) É permitido a exposição ao público de produtos manipulados, com o objetivo de propaganda, publicidade ou promoção.
- (C) É permitido à farmácia centralizar, em um de seus estabelecimentos, as atividades do controle de qualidade, sem prejuízo dos controles em processos necessários para avaliação das preparações manipuladas.
- (D) É permitido à farmácia a dispensação de medicamentos manipulados em substituição a medicamentos industrializados, sejam de referência, genéricos ou similares.
- (E) É permitido às farmácias que possuem filiais, permanecerem estas apenas como posto de coleta de receitas, sem necessidade de possuírem laboratório de manipulação nessa unidade.

QUESTÃO 43

O processo de seleção de medicamentos tem como objetivo assegurar uma terapêutica racional. Para tanto, torna-se necessário desenvolver uma padronização de medicamentos no hospital. São vantagens da seleção de medicamentos, exceto:

- (A) Reduzir o número de dosagens e formas farmacêuticas.
- (B) Reduzir os estoques quantitativos e qualitativos.
- (C) Reduzir o custo de aquisição de medicamentos.
- (D) Reduzir o custo de manutenção de estoque.
- (E) Reduzir o número de eventos adversos a medicamentos.

QUESTÃO 44

Com relação ao Balanço de Medicamentos Psicoativos e de outros Sujeitos a Controle Especial - BMPO, que se destina ao registro de vendas de medicamentos à base de substâncias constantes das listas "A1", "A2" (entorpecentes), "A3" e "B2" (psicotrópicos) e "C4" (anti-retrovirais) deste Regulamento Técnico e de suas atualizações, por farmácias e drogarias, é correto afirmar que:

- (A) O Balanço Anual deverá ser entregue até o último dia do mês de fevereiro do ano seguinte.
- (B) O Balanço Trimestral deverá ser remetido à Autoridade Sanitária pelo farmacêutico responsável trimestralmente até o dia 15 (quinze) dos meses de abril, julho, outubro e janeiro.
- (C) As farmácias de unidades hospitalares e clínicas médicas, ficam dispensadas da apresentação do Balanço de Medicamentos Psicoativos e de outros Sujeitos a Controle Especial trimestral, sendo obrigatório o anual.
- (D) As clínicas veterinárias ficam dispensadas da apresentação do Balanço de Medicamentos Psicoativos e de outros Sujeitos a Controle Especial anual, sendo obrigatório o balanço anual.
- (E) O balanço trimestral e anual deverá ser realizado em 3 vias, sendo uma enviada para a ANVISA, outra retida pela autoridade sanitária local e outra retida pela farmácia após o visto da autoridade local.

QUESTÃO 45

A escolha do sistema de distribuição de medicamentos deve se basear nas características do hospital, para atender o paciente com segurança, qualidade e economia. Julgue as afirmativas abaixo e assinale a alternativa correta:

- () O Sistema coletivo tem como vantagem, possuir maior exatidão no faturamento de gastos por paciente.
 - () O Sistema de Dose Unitária possui a desvantagem de apresentar maior custo de implantação.
 - () O Sistema Individualizado tem a vantagem de diminuição dos estoques nas unidades assistenciais.
 - () O Sistema de Dose Unitária tem como vantagem a redução de erros de administração.
 - () O Sistema Individualizado tem como desvantagem o menor controle sobre as prescrições.
- (A) F-V-V-F-F.
 - (B) V-V-F-V-F.
 - (C) F-V-V-V-F.
 - (D) V-V-V-V-F.
 - (E) F-V-V-V-V.

QUESTÃO 46

As fluoroquinolonas pertencem a uma classe de agentes antimicrobianos com um largo espectro de atividade contra bactérias Gram-positivos e Gram-negativos, assim como em bactérias anaeróbias, sendo a sua ação terapêutica fundamental, sobretudo em infecções causadas por microorganismos resistentes a outras classes de fármacos. O mecanismo de ação das fluoroquinolonas é a:

- (A) Inibição da síntese de DNA.
- (B) Inibição da síntese da parede celular.
- (C) Inibição da síntese proteica.
- (D) Antagonismo metabólico.
- (E) Alteração da permeabilidade da membrana citoplasmática.

QUESTÃO 47

A dislipidemia é caracterizada por um quadro clínico com concentrações anormais de lipídeos ou lipoproteínas no plasma, sendo um dos principais fatores de risco para o desenvolvimento de doenças cardiovasculares. Uma das alternativas terapêuticas para diminuição do risco, é o uso de fármacos antidislipidêmicos. Com relação à farmacologia dos hipolipemiantes, pode-se afirmar que:

- (A) Os inibidores da HMG-CoA-redutase, as estatinas, tem menor eficácia na redução do LDL quando comparado à ezetimiba..
- (B) O efeito colateral mais comum dos fibratos é a mialgia.
- (C) Dentre as estatinas, a rosuvastatina tem maior eficácia na redução do LDL-c quando comparado à atorvastatina na mesma posologia.
- (D) Os sequestradores dos ácidos biliares são indicados para pacientes com LDL-c elevado, sendo o ezetimiba o mais importante representante da classe.
- (E) Em pacientes com hipertrigliceridemia, há uma redução significativa dos níveis de VLDL com o uso de colestiramina.

QUESTÃO 48

Um anticoagulante, para ser ideal, deve impedir a ocorrência de trombose patológica e limitar a lesão por reperfusão; contudo, deve propiciar uma resposta normal à lesão vascular e limitar o sangramento. Com relação aos fármacos utilizados nos distúrbios da coagulação, associe a classe terapêutica ao medicamento pertencente à classe, e marque a opção correta.

- 1 – Inibidor indireto da trombina
- 2 – Anticoagulante cumarínico
- 3 – Inibidor direto do Fator Xa
- 4 – Inibidor direto da Trombina
- 5 – Agente fibrinolítico
- 6 – Antiplaquetário

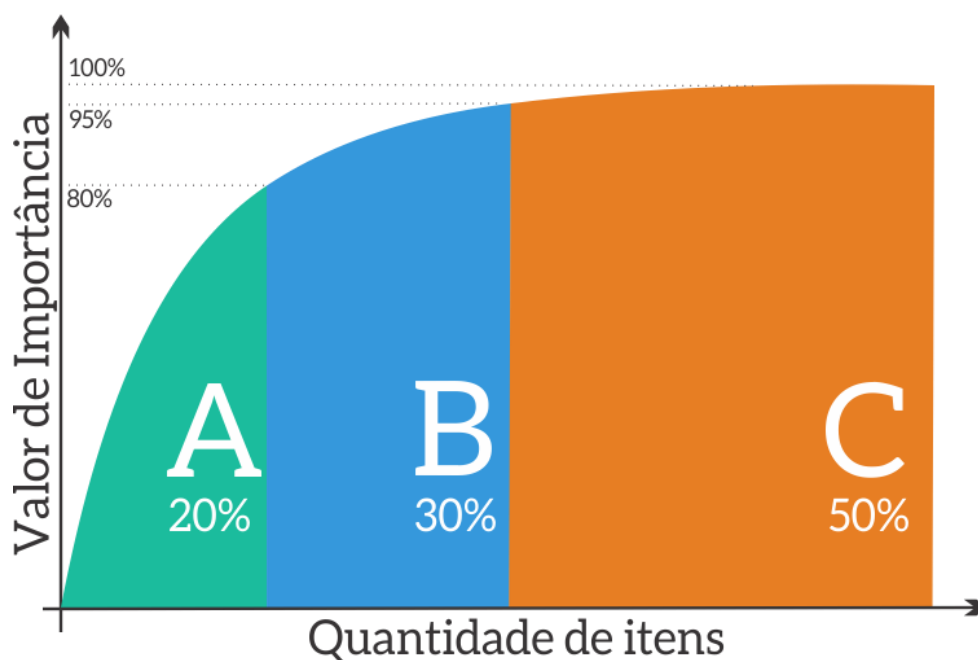
- () Rivaroxabana
- () Dabigratana
- () Heparina
- () Varfarina
- () Ticagrelor
- () Tenecteplase

- (A) 1-5-4-2-6-3.
- (B) 3-4-1-2-6-5.
- (C) 3-4-1-2-5-6.
- (D) 1-3-4-2-5-6.
- (E) 1-4-3-6-2-5.

QUESTÃO 49

O farmacêutico responsável por uma Central de Abastecimento Farmacêutica (CAF) hipotética, considerando as regras de Pareto e tomando como base os dados da tabela abaixo de distribuição de custo e consumo de medicamentos anual, montou uma curva ABC, conforme características do gráfico abaixo, para melhor análise, chegando à seguinte conclusão que:

Medicamento	Custo Unitário	Consumo Anual	Custo anual
1	R\$ 1,80	3200	R\$ 5.760,00
2	R\$ 0,50	2300	R\$ 1.150,00
3	R\$ 5,00	8000	R\$ 40.000,00
4	R\$ 20,00	45	R\$ 900,00
5	R\$ 2,70	700	R\$ 1.890,00
6	R\$ 130,00	50	R\$ 6.500,00
7	R\$ 16,50	200	R\$ 3.300,00
8	R\$ 2,50	500	R\$ 1.250,00
9	R\$ 23,00	1700	R\$ 39.100,00
10	R\$ 0,05	3000	R\$ 150,00
			R\$ 100.000,00



- (A) Os medicamentos 3 e 6 pertencem à curva A.
- (B) Os medicamentos 1 e 7 pertencem à curva B.
- (C) Os medicamentos 2 e 9 pertencem à curva C.
- (D) Os medicamentos 4 e 8 pertencem à curva A.
- (E) Os medicamentos 5 e 10 pertencem à curva B.

QUESTÃO 50

A Notificação de Receita é o documento que acompanhado de receita autoriza a dispensação de medicamentos à base de substâncias constantes das listas da Portaria 344/98. Com relação a receita de cor **AZUL**, trata-se de uma:

- (A) Notificação de Receita referente aos medicamentos classificados como entorpecentes, tem validade por 30 dias em todo território nacional.
- (B) Notificação de Receita é referente aos medicamentos classificados como psicotrópicos, tem validade por 60 dias e somente dentro da Unidade da Federação que concedeu a numeração.
- (C) Notificação de Receita é referente aos medicamentos classificados como anorexígenos, tem validade por 30 dias e somente dentro da Unidade da Federação que concedeu a numeração.
- (D) Notificação de Receita referente aos medicamentos classificados como retinóides, tem validade por 60 dias em todo território nacional.
- (E) Notificação de Receita referente aos medicamentos classificados como imunossupressoras, tem validade por 30 dias em todo território nacional.

