

**AVANÇASP**

**Rio CLARO**  
AMOR PELA CIDADE

Fundação Municipal  
de Saúde



FUNDAÇÃO MUNICIPAL DE SAÚDE DE  
RIO CLARO/SP

**CONCURSO PÚBLICO**  
**EDITAL Nº 02/2023**

# TERAPEUTA OCUPACIONAL

## Leia atentamente as instruções abaixo

### 1. PROVA E FOLHA DE RESPOSTAS

Além deste Caderno de Prova, contendo 50 (cinquenta) questões objetivas, você receberá do Fiscal de Sala:

- 01 (uma) Folha de Respostas destinada às respostas das questões objetivas. Confira se seus dados estão corretos.

### 2. TEMPO

- 03 (três) horas é o tempo disponível para realização da prova, já incluído o tempo para marcação da Folha de Respostas da prova objetiva;

- **01 (uma) hora** após o início da prova é possível, retirar-se da sala levando o caderno de prova;

### 3. INFORMAÇÕES GERAIS

- As questões objetivas têm 05 (cinco) alternativas de resposta (A, B, C, D, E) e somente **uma** delas está correta;

- Verifique se seu caderno está completo, sem repetição de questões ou falhas. Caso contrário, informe imediatamente o Fiscal da Sala, para que sejam tomadas as devidas providências;

- Confira seus dados pessoais na Folha de Respostas, especialmente nome, número de inscrição e documento de identidade e leia atentamente as instruções para preenchimento;

- O preenchimento das respostas da prova objetiva é de sua responsabilidade e não será permitida a troca de Folha de Respostas em caso de erro de marcação pelo candidato;

- Marque, na folha de respostas, com caneta de tinta azul ou preta, a letra correspondente à alternativa que você escolheu.

- Reserve tempo suficiente para o preenchimento de suas respostas. Para fins de avaliação, serão levadas em consideração apenas as marcações realizadas na Folha de Respostas da prova objetiva, não sendo permitido anotar informações relativas às respostas em qualquer outro meio que não seja o caderno de prova;

- Ao se retirar, entregue a Folha de Respostas preenchida e assinada ao Fiscal de Sala.

**SERÁ ELIMINADO do presente certame o candidato que:**

- a) for surpreendido, durante as provas, em qualquer tipo de comunicação com outro candidato;

- b) portar ou usar, qualquer tipo de aparelho eletrônico (calculadoras, bips/pagers, câmeras fotográficas, filmadoras, telefones celulares, smartphones, tablets, relógios, walkmans, MP3 players, fones de ouvido, agendas eletrônicas, notebooks, palmtops ou qualquer outro tipo de computador portátil, receptores ou gravadores) seja na sala de prova, sanitários, pátios ou qualquer outra dependência do local de prova;

- c) se ausentar da sala em que se realizam as provas levando consigo o Caderno de Questões e/ou a Folha de Respostas;

- d) se recusar a entregar a Folha de Respostas, quando terminar o tempo estabelecido;

- e) não assinar a Lista de Presença e/ou a Folha de Respostas.

CADERNO DE QUESTÕES

PROVA OBJETIVA

**LÍNGUA PORTUGUESA****TEXTO****Caso de divórcio (I)**

O divórcio é necessário. Todos conhecem dezenas de casos que convenceriam até um arcebispo. Eu mesmo conheço meia dúzia. Vou contar uns três ou quatro. O nome dele é Morgadinho. Baixo, retaco, careca precoce. Você conhece o tipo. No carnaval se fantasia de legionário romano e no futebol de praia dá pau que não é fácil. Frequenta o clube e foi lá que conheceu sua mulher, mais alta do que ele, morena, linda, as unhas do pé pintadas de roxo. Na noite de núpcias, ele lhe declarou.

— Se você algum dia me enganar, eu te esgoelo.

— Ora, Morgadinho...

Ela se chama Fátima Araci. Ou é Mara Sirlei? Não, Fátima Araci. Não é que ela não goste do Morgadinho, é que nunca prestou muita atenção no marido. Na cerimônia do casamento já dava para notar. O olhar dela passava dois centímetros acima da careca do Morgadinho. Ela estava maravilhada com o próprio casamento e o Morgadinho era um simples acessório daquele dia inesquecível. Como um castiçal ou um coroinha. No álbum de fotografias do casamento que ela guardou junto com a grinalda, há esta constatação terrível: o Morgadinho não aparece. Aparece o coroinha mas não aparece o Morgadinho. Um ou dois meses depois do casamento, o Morgadinho sugeriu que ela lhe desse um apelido. Um nome secreto, carinhoso, para ser usado na intimidade, algo que os unisse ainda mais, sei lá. Ela prometeu que ia pensar no assunto. O Morgadinho insistiu.

— Eu te chamo de Fafá e você me chama de qualquer coisa.

— Vamos ver.

Uma semana depois, Morgadinho voltou ao assunto.

— Já pensaste num apelido para mim, Fafá?

— Ainda não.

Três semanas depois, ele mesmo deu um palpite.

— Quem sabe Momo?

— Não.

— Gagá? Fofura? — Tomou coragem e, rindo meio sem jeito, arriscou:

— Tigre?

Ela nem riu. Pediu que ele tivesse paciência. Estava lendo o Sétimo Céu. Tinha tempo. O Morgadinho não desistiu. Às vezes, chegava em casa com uma novidade.

— Que tal este: “Barrilzinho”?

— Não gosto.

Outra vez, os dois estavam passando por um quintal e ouviram uma criança chamando um cachorro.

— Pitoco. Vem, Pitoco.

Morgadinho virou-se para a mulher, cheio de esperança, mas ela fez que não com a cabeça. Finalmente (passava um ano do casamento e nada de apelido), Morgadinho perdeu a paciência. Estavam os dois na cama. Ela pintava as unhas do pé.

— Você não me ama.

— Ora, Morgadinho...

— Até hoje não pensou num apelido para mim.

— Está bem, sabe o que tu és? Um xaropão. Taí teu apelido. Xaropão.

O Morgadinho já tinha enfrentado várias levaras de policiais a tapa. Uma vez desmontara um bar depois de um mal-entendido e saíra para a rua dando cadeiradas em meio mundo. Homens, mulheres e crianças. Mas naquela noite virou-se para o lado e chorou no travesseiro. Aí a mulher, com cuidado para não estragar o esmalte, chegou perto do seu ouvido e disse, rindo:

— Xaropãozinho... — Rindo. Rindo!

Luís Fernando Verissimo. *Ed Mort – todas as histórias*. 1ª Ed. São Paulo: Objetiva, 2011.

**QUESTÃO 01**

No texto Caso de divórcio (I), o humor é desencadeado por uma situação em que não há reciprocidade aparente entre um casal, em relação ao uso de apelidos carinhosos. Depois de diversas cobranças, a esposa dá o apelido ao marido de 'Xaropão'. No entanto, há uma quebra de expectativa quando:

- (A) Morgadinho se chateia e chora no travesseiro.
- (B) a esposa acrescenta à palavra o diminutivo, que remete a um apelido carinhoso.
- (C) Morgadinho enfrenta policiais.
- (D) a esposa simplesmente o ignora para não estragar o esmalte.
- (E) Morgadinho sai para a rua dando cadeiradas em todo mundo.

**QUESTÃO 02**

O uso da palavra “xarope” retratado no texto exprime um sentido:

- (A) figurativo, de pessoa que causa aborrecimento.
- (B) literal, de líquido medicamentoso utilizado para fins terapêuticos.
- (C) literal, de líquido doce e concentrado utilizado para fins culinários.
- (D) figurativo, de pessoa pouco inteligente.
- (E) figurativo, de líquido alcoólico, como aguardente.

**QUESTÃO 03**

Considere as seguintes sentenças, retiradas do texto:

- I. “No carnaval se fantasia de legionário romano e no futebol de praia dá pau que não é fácil.”
- II. “— Se você algum dia me enganar, eu te esgoelo.”

Nas sentenças dadas, a palavra “se” atua, respectivamente, como:

- (A) pronome reflexivo e conjunção integrante.
- (B) conjunção integrante e conjunção condicional.
- (C) pronome reflexivo e conjunção condicional.
- (D) pronome reflexivo e pronome reflexivo.
- (E) conjunção integrante e conjunção integrante.

**QUESTÃO 04**

Considere as palavras I. fofura e II. barrilzinho, que ocorrem no texto. As palavras dadas apresentam marcas que indicam tipos de processos de formação. Assinale a alternativa que classifica corretamente os elementos -ura e -inho, que ocorrem respectivamente nas palavras I e II, e o tipo de processo ao qual esses elementos são relacionados.

- (A) elementos mórficos de composição por aglutinação.
- (B) elementos mórficos de composição por justaposição.
- (C) prefixos de derivação.
- (D) sufixos de derivação.
- (E) morfemas de flexão de número.

**QUESTÃO 05**

Considere o seguinte excerto: “Uma vez desmontara um bar depois de um mal-entendido e saíra para a rua dando cadeiradas em meio mundo.” Neste contexto, os verbos ‘desmontara’, ‘saíra’ e ‘dando’ apresentam, respectivamente, as conjugações:

- (A) pretérito mais-que-perfeito do modo indicativo, pretérito mais-que-perfeito do modo indicativo e gerúndio.
- (B) pretérito imperfeito do modo indicativo, pretérito mais-que-perfeito do modo indicativo e gerúndio.
- (C) pretérito mais-que-perfeito do modo indicativo, pretérito perfeito do modo indicativo e gerúndio.
- (D) pretérito mais-que-perfeito do modo indicativo, pretérito mais-que-perfeito do modo indicativo e imperativo.
- (E) pretérito perfeito do modo indicativo, pretérito perfeito do modo indicativo e participio.

**QUESTÃO 06**

Considere as seguintes sentenças, retiradas do texto:

- I. “Mas naquela noite virou-se para o lado e chorou no travesseiro.”
- II. “Você não me ama.”

Nas sentenças dadas, a colocação pronominal ocorre, respectivamente, como:

- (A) mesóclise e próclise.
- (B) mesóclise e ênclise.
- (C) próclise e ênclise.
- (D) ênclise e ênclise.
- (E) ênclise e próclise.

**QUESTÃO 07**

Considere as seguintes sentenças, retiradas do texto:

- I. “Todos conhecem dezenas de casos que convenceriam até um arcebispo.”
- II. “Na noite de núpcias, ele lhe declarou.”
- III. “Taí teu apelido. Xaropão.”

As sentenças dadas apresentam diferentes tipos de pronomes. Ocorre pronome indefinido apenas em:

- (A) I.
- (B) II.
- (C) III.
- (D) I e II.
- (E) II e III.

**QUESTÃO 08**

Assinale a alternativa em que todas as palavras são proparoxítonas.

- (A) prato, enfermo, colocação.
- (B) aviso, diáspora, gentil.
- (C) abrasivo, lápis, pé.
- (D) cântico, sábado, cinéfilo.
- (E) rito, efêmero, fugaz.

**QUESTÃO 09**

Considere as seguintes sentenças:

- I. Mesmo que tenhamos feito as pazes, nada será como antes.
- II. Ela se deu bem na prova, embora não tenha estudado.
- III. Apesar dos momentos ruins, este ano foi cheio de realizações.

Nas sentenças dadas, as orações subordinadas que apresentam as expressões “mesmo que”, “embora” e “apesar de” exprimem o mesmo sentido. Este sentido é:

- (A) condicional.
- (B) adversativo.
- (C) causal.
- (D) temporal.
- (E) concessivo.

**QUESTÃO 10**

Assinale a alternativa que apresenta a sentença correta em relação ao emprego da crase.

- (A) Diga àquela aluna que não teremos aula amanhã.
- (B) Já conversamos quanto à isso.
- (C) A empresa comunicou que não haverá doações à asilos neste ano.
- (D) Fazer tudo isso à que custo?
- (E) Esta máquina funciona à vapor.

---

**MATEMÁTICA E RACIOCÍNIO LÓGICO**
**QUESTÃO 11**

Uma loja de materiais de construções vai fazer uma entrega de areia num caminhão que comporta no máximo  $5 \text{ m}^3$  de volume de material. Sabendo-se que cada  $\text{m}^3$  de areia pesa 1,5 tonelada, quantas toneladas de areia serão utilizadas para preencher 80% da capacidade do caminhão?

- (A) 7,5 toneladas.
- (B) 7,0 toneladas.
- (C) 6,0 toneladas.
- (D) 5,5 toneladas.
- (E) 5,0 toneladas.

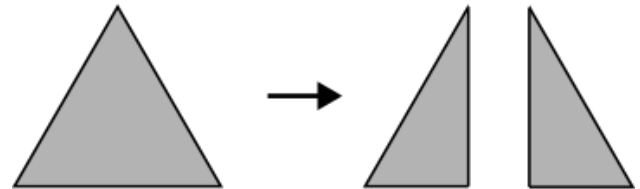
**QUESTÃO 12**

Um acionista investiu R\$50.000,00 num investimento a juro simples rendendo R\$ 1.000,00 todo mês. Qual a taxa de juros anual do investimento?

- (A) 2%.
- (B) 12%.
- (C) 15%.
- (D) 20%.
- (E) 24%.

**QUESTÃO 13**

Uma folha de papel em formato de triângulo equilátero de lado  $a$  é cortada ao longo de uma das suas medianas, conforme a figura.



Indique o perímetro de cada um dos triângulos formados após o corte:

- (A)  $\frac{a\sqrt{3}}{2}$ .
- (B)  $\frac{a}{4}(3 + \sqrt{3})$ .
- (C)  $3a$ .
- (D)  $\frac{3a}{2}$ .
- (E)  $\frac{a}{2}(3 + \sqrt{3})$ .

**QUESTÃO 14**

Uma unidade muito comum utilizada na astronomia para medir a distância entre astros é a unidade ‘ano-luz’. Que corresponde à distância percorrida pela luz em um ano. Sabendo-se que a velocidade da luz é tal que ela percorre aproximadamente 300 milhões de metros a cada segundo, qual o equivalente de 1 ano-luz em quilômetros, assumindo esta velocidade? Considere 1 ano com aproximadamente 31,5 milhões de segundos, e indique o número mais próximo:

- (A) 95 trilhões.
- (B) 9.5 trilhões.
- (C) 950 bilhões.
- (D) 95 bilhões.
- (E) 9.5 bilhões.

**QUESTÃO 15**

A tabela abaixo mostra o resultado da pontuação de uma competição de tiro ao alvo entre 3 competidores de países diferentes. Cada jogador tem 5 tentativas. A cada tentativa ele obtém uma determinada quantidade de pontos. Após as 5 tentativas, sua pontuação final é a média das pontuações das 5 tentativas. Ganha quem tiver a maior média final.

|             | BRA | EUA | CHI |
|-------------|-----|-----|-----|
| Tentativa 1 | 80  | 90  | 60  |
| Tentativa 2 | 60  | 80  | 65  |
| Tentativa 3 | 80  | 50  | 60  |
| Tentativa 4 | 90  | 55  | 80  |
| Tentativa 5 | 40  | 90  | 90  |

Sabendo que os pontos são sempre múltiplos de 5, quantos pontos a mais o competidor do BRA deveria ter tirado na Tentativa 5 para que ganhasse a competição?

- (A) 5.
- (B) 10.
- (C) 15.
- (D) 20.
- (E) 25.

**QUESTÃO 16**

Uma sorveteria possui uma máquina de sorvetes que produz 20 litros de sorvete por hora. Para atender à demanda do verão, eles decidem comprar outra máquina mais moderna que agora produz 40 litros por hora. Porém, devido a um problema no resfriamento, cada máquina está perdendo 10% da sua produção por hora. Nessas condições, quantas horas serão necessárias para fabricar 810 litros de sorvete utilizando ambas as máquinas?

- (A) 15 horas.
- (B) 16 horas.
- (C) 17 horas.
- (D) 18 horas.
- (E) 19 horas.

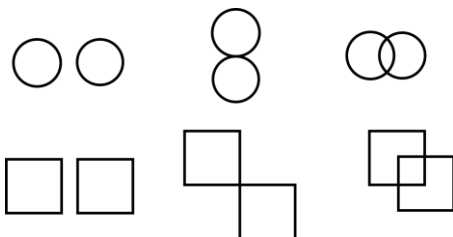
**QUESTÃO 17**

Um caminhão-cegonha é um caminhão utilizado para transportar outros carros de pequeno porte. Uma empresa de locação de carros precisa transportar 60 carros do Tipo A, 40 carros do tipo B e 100 carros do tipo C num caminhão-cegonha, que tem capacidade máxima de 10 carros por viagem. Em todas as viagens, o caminhão deve levar sempre  $x$  carros do tipo A,  $y$  carros do tipo B e  $z$  carros do tipo C. Qual deve ser o valor de  $z$  para que o caminhão dê o mínimo de viagens possível?


- (A) 1.
- (B) 2.
- (C) 3.
- (D) 4.
- (E) 5.

**QUESTÃO 18**

Observe as seguintes sequências figurais:



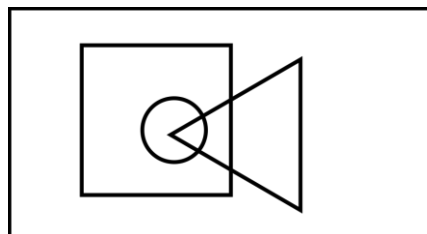
De acordo com as correspondências abaixo, indique as possíveis sequências que seguem a mesma lógica:



- (A) Somente I.
- (B) I e II.
- (C) I e III.
- (D) II e III.
- (E) I, II e III.

**QUESTÃO 19**

No diagrama lógico abaixo, o retângulo maior representa todos os profissionais. O quadrado representa todos os pedreiros, o círculo representa todos os encanadores e o triângulo representa todos os eletricitas:



Em seguida, observe as seguintes afirmativas:

- I - Há pedreiros que também são eletricitas;
- II – Todo encanador também é eletricista;
- III - Todo encanador também é pedreiro;
- IV – Não há eletricitas que também são encanadores.

Com base no diagrama, as afirmativas corretas são:

- (A) Somente I.
- (B) I e II.
- (C) I e III.
- (D) II, III e IV.
- (E) III e IV.

**QUESTÃO 20**

Uma estudante escreve 4 folhas a cada dia que estuda. Ela usa cadernos de 98 folhas limpas, e termina de usar o caderno quando ele tem menos de 4 folhas disponíveis (limpas) para o seu uso. Sabendo que ela estuda somente em dias úteis, quantos cadernos ela precisará durante um ano, considerando que o ano tem 251 dias úteis.

- (A) 8.
- (B) 9.
- (C) 10.
- (D) 11.
- (E) 12.

**NOÇÕES DE INFORMÁTICA  
QUESTÃO 21**

Em se tratando de MS-Windows 7, assinale a alternativa que apresenta o atalho para abrir o menu Iniciar:

- (A) Ctrl + R.
- (B) Ctrl + Esc.
- (C) Ctrl + V.
- (D) Ctrl + W.
- (E) Caps + U.

**QUESTÃO 22**

Sobre a função “responder” no MS-Outlook 2016, é possível afirmar:

- (A) O texto original do remetente não será mantido.
- (B) Ao clicar em "Responder", o Outlook abrirá uma nova janela de composição de e-mail com o endereço de e-mail do remetente já preenchido no campo "Para:".
- (C) O anexo será mantido na mensagem.
- (D) O campo “Assunto” não será preenchido automaticamente.
- (E) O campo “Para” deverá ser preenchido.

**QUESTÃO 23**

O Microsoft Outlook é principalmente uma ferramenta de comunicação e gerenciamento de informações pessoais, e muitas tarefas específicas exigem software dedicado para serem realizadas com eficiência. São funções do MS-Outlook 2016, EXCETO:

- (A) Enviar e Receber E-mails.
- (B) Desenvolvimento de Software.
- (C) Agendar Compromissos e Reuniões.
- (D) Gerenciar Contatos.
- (E) Arquivar E-mails e Organizar Pastas.

**QUESTÃO 24**

Roberto trabalha em um escritório de contabilidade, e precisa entregar uma Nota Fiscal que está em arquivo PDF para o seu cliente, para isso, ele deve:

- (A) Digitalizar o documento, que envolve a conversão de uma cópia física em um formato digital, geralmente um arquivo PDF, imagem ou texto.
- (B) Digitalizar o documento, que envolve a conversão de uma cópia digital em um formato físico.
- (C) Imprimir o documento, que envolve a criação de uma cópia física em papel ou outro meio impresso.
- (D) Imprimir o documento, que envolve a conversão de uma cópia física em um formato digital, geralmente um arquivo PDF, imagem ou texto.
- (E) Digitalizar o documento, que envolve a criação de uma cópia física em papel ou outro meio impresso.



**QUESTÃO 25**

Leia o trecho abaixo e assinale a alternativa que complete corretamente a lacuna:

O \_\_\_\_\_ é um serviço de armazenamento em nuvem que permite aos usuários armazenar, sincronizar e compartilhar arquivos e documentos online. Ele oferece a capacidade de acessar seus arquivos a partir de qualquer dispositivo com conexão à internet e facilita a colaboração em documentos compartilhados.

- (A) Microsoft OneDrive.
- (B) Microsoft Excel.
- (C) Microsoft OneNote.
- (D) Microsoft Outlook.
- (E) Microsoft Word.

**CONHECIMENTOS ESPECÍFICOS**  
**QUESTÃO 26**

Avalie as afirmativas sobre o Serviço Residencial Terapêutico (SRT):

I. Os SRTs são casas situadas no meio rural, criadas para atender às necessidades de moradia de indivíduos com transtornos mentais graves e institucionalizados.

II. O número de residentes pode variar de uma a um grupo de até 8 pessoas.

III. O processo de reabilitação psicossocial focar na exclusão da rede de serviços, organizações e conexões sociais da comunidade.

É correto o que se afirma em:

- (A) I, apenas.
- (B) II, apenas.
- (C) I e III, apenas.
- (D) II e III, apenas.
- (E) I, II e III.

**QUESTÃO 27**

Sobre os tipos de Serviços Residenciais Terapêuticos (SRT) existentes, avalie as afirmações a seguir:

I. SRT III — é o tipo residência mais incomum, sendo necessário apenas a ajuda apenas um cuidador. O suporte busca a inclusão dos moradores na rede hospitalar existente.

II. SRT II — é uma residência aonde são prestados cuidados a idosos, doentes e/ou dependentes físicos institucionalizados. A residência é projetada para clientes que necessitam de cuidados permanentes, com acompanhamento técnico diário e pessoal auxiliar permanente na residência.

III. SRT I — é o tipo residência mais frequente, onde é necessário apenas assistência de um cuidador. O suporte focaliza-se na inserção dos moradores na rede social existente (trabalho, lazer, educação, etc.).

É correto o que se afirma em:

- (A) I, apenas.
- (B) II, apenas.
- (C) I e III, apenas.
- (D) II e III, apenas.
- (E) I, II e III.

**QUESTÃO 28**

Nos últimos anos, o Sistema Único de Saúde tem se dedicado a desinstitucionalização e a reintegração efetiva das pessoas com transtornos mentais graves e persistentes na comunidade. A implementação e o financiamento de(o) \_\_\_\_\_ surgem neste contexto como componentes fundamentais da política de saúde mental do Ministério da Saúde.

Assinale a alternativa que preenche, corretamente, a lacuna do texto:

- (A) Projeto Singular.
- (B) Serviços Residenciais Terapêuticos.
- (C) Serviços Residenciais Permanente.
- (D) Projeto Terapêutico Domiciliares.
- (E) Reestruturação da Assistência Hospitalar no SUS.

**QUESTÃO 29**

A atuação do Terapeuta Ocupacional em contextos hospitalares se desenvolve em três áreas: na \_\_\_\_\_, planeja e executa a intervenção terapêutico-ocupacional junto aos pacientes, familiares e acompanhantes e/ou cuidadores, em regime de internação e ambulatorial.

Assinale a alternativa que preenche, corretamente, a lacuna do texto:

- (A) atenção hospitalar.
- (B) atenção extra-hospitalar.
- (C) atenção em cuidados paliativos.
- (D) atenção intra-hospitalar.
- (E) atenção em cuidados em geriatria.

**QUESTÃO 30**

A atuação do Terapeuta Ocupacional (TO) em contextos hospitalares visa a proteção, promoção, prevenção, recuperação, reabilitação e cuidados paliativos, do indivíduo e da coletividade. Em relação às responsabilidades do TO no contexto hospitalar, assinale a alternativa incorreta:

- (A) Determinar as condições de alta terapêutica ocupacional e possíveis encaminhamentos.
- (B) Realizar o planejamento do tratamento e intervenção.
- (C) Realizar consulta, interconsulta e avaliação terapêutica ocupacional com paciente, cliente, usuário, família, cuidadores e grupos.
- (D) Estabelecer diagnóstico médico e se necessário solicitar interconsulta, exames complementares e pareceres.
- (E) Emitir laudos, atestados, pareceres e relatórios terapêuticos ocupacionais.

**QUESTÃO 31**

A Política Nacional de Humanização (PNH) deve estar presente em todas as políticas e programas do Sistema Único de Saúde. A PNH tem os seguintes princípios:

- (A) Universalização; Equidade; Integralidade; Descentralização e da participação popular.
- (B) Transversalidade; Dissociabilidade entre atenção e gestão; Protagonismo, coparticipação e autonomia dos sujeitos e coletivos.
- (C) Universalização; Equidade; Integralidade; Transversalidade; Indissociabilidade entre atenção e gestão.
- (D) Transversalidade; Equidade entre atenção e gestão; Protagonismo; Descentralização e da participação popular.
- (E) Transversalidade; Indissociabilidade entre atenção e gestão; Protagonismo, corresponsabilidade e autonomia dos sujeitos e coletivos.

**QUESTÃO 32**

A Política Nacional de Humanização (PNH) destaca grupos de cogestão:

I. Aqueles que dizem respeito à organização de um espaço coletivo de gestão, que permita o acordo entre necessidades e interesses de usuários, trabalhadores e gestores;

II. Aqueles que criam espaços saudáveis, acolhedores e confortáveis, que respeitem a privacidade, propiciem mudanças no processo de trabalho.

III. Aqueles que se referem aos mecanismos que garantem a participação ativa de usuários e familiares no cotidiano das unidades de saúde.

É correto o que se afirma em:

- (A) I, apenas.
- (B) II, apenas.
- (C) I e III, apenas.
- (D) II e III, apenas.
- (E) I, II e III.

**QUESTÃO 33**

A clínica ampliada, proposta pela Política Nacional de Humanização, visa contribuir para uma abordagem clínica do \_\_\_\_\_ e do sofrimento, que considere a singularidade do sujeito e a complexidade do \_\_\_\_\_.

Assinale a alternativa que preenche, corretamente, a lacuna do texto:

- (A) envelhecimento; processo saúde/doença.
- (B) indivíduo; processo saúde/doença.
- (C) adoecimento; processo saúde/envelhecimento.
- (D) adoecimento; processo saúde/doença.
- (E) pertencimento; caso de saúde.

**QUESTÃO 34**

Em relação à Lei Brasileira de Inclusão da Pessoa com Deficiência (Estatuto da Pessoa com Deficiência), avalie as seguintes afirmativas:

I. A pessoa com deficiência é aquela apresenta impedimentos de curto prazo de natureza física, mental, intelectual ou sensorial.

II. A pessoa com mobilidade reduzida é aquela, por qualquer motivo, enfrenta dificuldades para se movimentar de forma permanente ou temporária, resultando em uma redução efetiva da mobilidade, flexibilidade, coordenação motora ou percepção.

III. Moradia para a vida independente da pessoa com deficiência: casas com estrutura adequadas capazes de proporcionar serviços de apoio a adolescentes com deficiência.

É correto o que se afirma em:

- (A) I, apenas.
- (B) II, apenas.
- (C) I e III, apenas.
- (D) II e III, apenas.
- (E) I, II e III.

**QUESTÃO 35**

Avalie as afirmações a seguir em relação às principais causas das deficiências e sua prevenção, descritas na Política Nacional de Saúde da Pessoa com Deficiência (2010), são:

I. Em decorrência da oferta de uma assistência adequada às mulheres durante a gestação e o parto.

II. As doenças hereditárias ou congênitas, que surgem devido a questões genéticas (no feto).

III. As hereditárias ou congênitas podem, em parte, ser evitadas com exames pré-natais específicos e serviços de genética clínica para aconselhamento genético aos casais.

É correto o que se afirma em:

- (A) I, apenas.
- (B) II, apenas.
- (C) I e III, apenas.
- (D) II e III, apenas.
- (E) I, II e III.

**QUESTÃO 36**

As principais diretrizes da Política Nacional de Saúde da Política Nacional de Saúde da pessoa com deficiência, são:

I. A promoção da qualidade de vida, a prevenção de deficiências.

II. A capacitação de recursos humanos, bem como a desorganização dos serviços de saúde.

III. A atenção integral à saúde, a melhoria dos mecanismos de informação.

É correto o que se afirma em:

- (A) I, apenas.
- (B) II, apenas.
- (C) I e III, apenas.
- (D) II e III, apenas.
- (E) I, II e III.

**QUESTÃO 37**

Assinale a alternativa incorreta em relação aos direitos das pessoas com deficiência:

- (A) Tem direito a ser encaminhado para serviços mais complexos.
- (B) Tem direito a receber assistência específica nas unidades especializadas de média e alta complexidade.
- (C) Tem direito a receber auxílio técnico, órteses, próteses e meios auxiliares de locomoção de que necessite.
- (D) Tem o direito de receber assistência para reabilitação física, auditiva, visual e intelectual.
- (E) Tem o direito de receber assistência de saúde somente nas Unidades da Atenção Básica.

**QUESTÃO 38**

O perfil de saúde da população idosa é caracterizado por três principais de problemas:

- (A) Doenças agudas, problemas de saúde agudos decorrentes de causas externas e agravamento de condições crônicas.
- (B) Doenças crônicas, problemas de saúde crônicos decorrentes de causas externas e agravamento de condições crônicas.
- (C) Doenças crônicas, assistência a saúde em casos de doenças decorrentes de causas externas e agravamento de condições crônicas.
- (D) Doenças crônicas, problemas de saúde agudos decorrentes de causas externas e agravamento de condições crônicas.
- (E) Doenças agudas, problemas de saúde crônicos decorrentes de causas externas e agravamento de condições crônicas.

**QUESTÃO 39**

As quedas são um problema recorrente entre as pessoas idosas, por poder ocasionar causar fraturas, traumatismos cranianos, contusões musculares, além de causar medo de cair novamente. Para evitar tais situações, é importante tomar as seguintes medidas:

- (A) Consultar o médico ou equipe de saúde de referência e informe sobre a presença de desequilíbrios ou quedas na última década.
- (B) Certificar que as escadas e os corredores não tenham corrimão dos dois lados.
- (C) Evitar o uso de medicamentos sem prescrição médica e manter em dia seu acompanhamento de saúde.
- (D) Mantenha móveis e objetos espalhados por toda a casa.
- (E) Manter luz apagada à noite ao levantar da cama.

**QUESTÃO 40**

O Estatuto da Pessoa Idosa garante diversos direitos fundamentais à saúde, como:

- I.O direito de acompanhante é garantido em caso de internação ou observação em hospital.
- II.O direito de exigir medidas de proteção sempre que seus direitos forem ameaçados ou violados.
- III.Prioridade na tramitação dos processos e procedimentos para a execução de atos e diligências judiciais.

É correto o que se afirma em:

- (A) I, apenas.
- (B) II, apenas.
- (C) I e III, apenas.
- (D) II e III, apenas.
- (E) I, II e III.

**QUESTÃO 41**

Conforme o Estatuto da Pessoa Idosa, é assegurada prioridade especial aos \_\_\_\_\_, atendendo às suas necessidades preferencialmente em relação às outras pessoas idosas.

Assinale a alternativa que preenche, corretamente, a lacuna do texto:

- (A) maiores de 79 (setenta e nove) anos.
- (B) maiores de 91 (noventa e um) anos.
- (C) maiores de 80 (oitenta) anos.
- (D) maiores de 65 (sessenta e cinco) anos.
- (E) maiores de 71 (setenta e um) anos.

**QUESTÃO 42**

O envelhecimento deve ser acompanhado de saúde, de forma ativa, livre de qualquer tipo de dependência funcional, requerendo a promoção da saúde em todas as idades. Sobre diretrizes da Política Nacional de Saúde da Pessoa Idosa, avalie as afirmações a seguir:

I. Oferecer de recursos que garantam a qualidade da atenção à saúde a população idosa.

II. Incentivar o à participação e o fortalecimento do controle familiar sobre a vida do idoso.

III. Promoção do envelhecimento ativo e saudável.

É correto o que se afirma em:

- (A) I, apenas.
- (B) II, apenas.
- (C) I e III, apenas.
- (D) II e III, apenas.
- (E) I, II e III.

**QUESTÃO 43**

O Terapeuta Ocupacional usar a Tecnologia Assistiva nas Atividades de Vida Diária e Atividades Instrumentais de Vida Diária, visando:

I. Realizar adaptações de jogos, brincadeiras e brinquedos.

II. Criar equipamentos, adaptar o acesso ao computador e software.

III. Promover adequações posturais para o desempenho ocupacional por meio de adaptações instrumentais.

É correto o que se afirma em:

- (A) I, apenas.
- (B) II, apenas.
- (C) I e III, apenas.
- (D) II e III, apenas.
- (E) I, II e III.

**QUESTÃO 44**

A Tecnologia é \_\_\_\_\_ quando auxilia no desempenho funcional de atividades, reduzindo a incapacidade para a realização de Atividades de Vida Diária e das Atividades Instrumentais de Vida Diária, nos diversos domínios do cotidiano.

Assinale a alternativa que preenche, corretamente, a lacuna do texto:

- (A) de Assistência.
- (B) Assistiva.
- (C) de Apoio.
- (D) Assistencialista.
- (E) Dinâmica.

**QUESTÃO 45**

Segundo o Ministério da Saúde, \_\_\_\_\_ são os elementos que permitem compensar uma ou mais limitações funcionais motoras, sensoriais ou mentais, visando superar as barreiras da comunicação e da mobilidade, possibilitando a sua plena inclusão social.

Assinale a alternativa que preenche, corretamente, a lacuna do texto:

- (A) Tecnologia de Apoio.
- (B) Ajudas Técnicas.
- (C) Tecnologia Assistiva .
- (D) Tecnologia de Assistência.
- (E) Tecnologia de Intuitiva.

**QUESTÃO 46**

É

Considerando a competência do Terapeuta Ocupacional (TO), avalie as afirmações a seguir:

I. O TO promove estratégias para superação dos problemas com consequente adaptação ao espaço hospitalar, com atividades terapêuticas ocupacionais.

II. É responsabilidade do TO, devidamente registrado no CREFITO, desenvolver atividades de brincar e usar o brinquedo como recurso terapêutico-ocupacional na assistência às crianças e idosos no nível primário.

III. O TO usará o brinquedo como recursos terapêutico-ocupacionais somente em situação grupal.

É correto o que se afirma em:

- (A) I, apenas.
- (B) II, apenas.
- (C) I e III, apenas.
- (D) II e III, apenas.
- (E) I, II e III.

**QUESTÃO 47**

Sobre o acesso à Educação, descrito na Política Nacional para a Integração da Pessoa Portadora de Deficiência, avalie as afirmações a seguir:

I. As instituições de ensino superior deverão oferecer adaptações de provas e os apoios necessários.

II. A educação do aluno com deficiência deverá iniciar-se na educação infantil, a partir de dois anos.

III. A educação especial contará com equipe multiprofissional, com a adequada especialização, e adotará orientações pedagógicas individualizadas.

É correto o que se afirma em:

- (A) I, apenas.
- (B) II, apenas.
- (C) I e III, apenas.
- (D) II e III, apenas.
- (E) I, II e III.

**QUESTÃO 48**

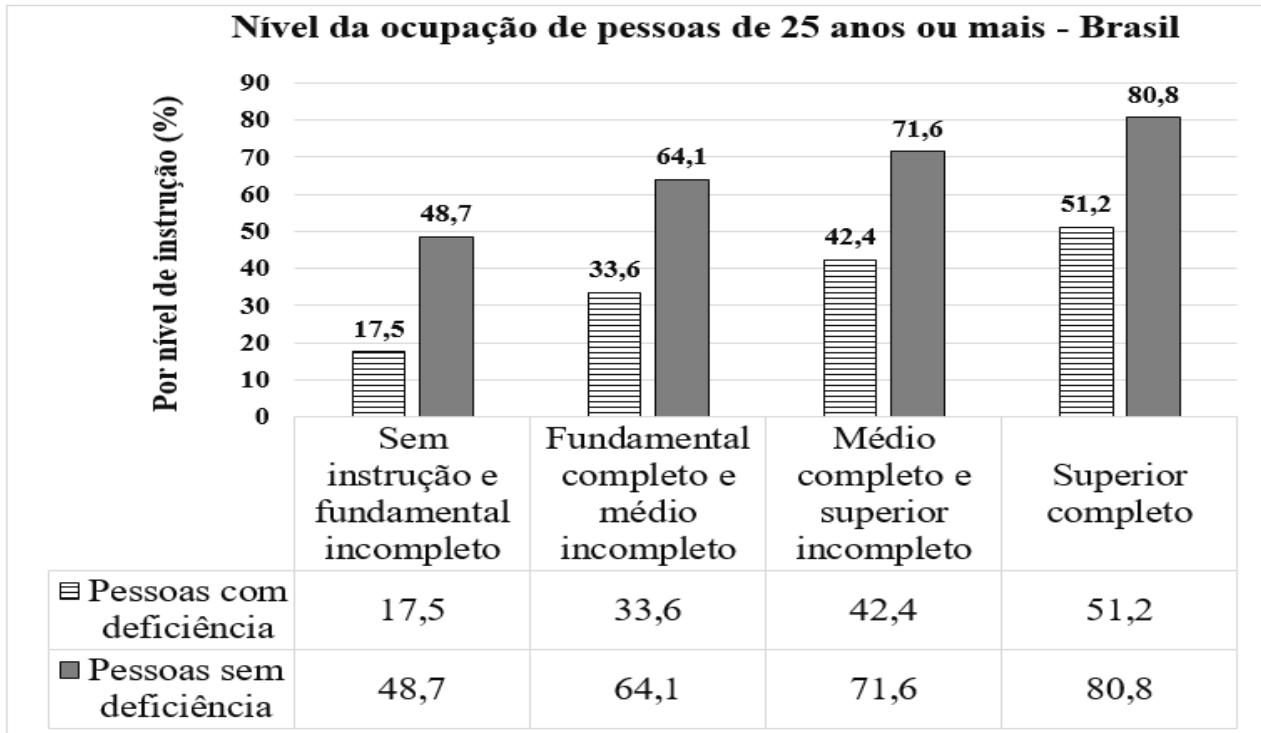
A habilitação e reabilitação profissional possibilita que a pessoa portadora de deficiência, a partir da identificação de suas potencialidades laborativas, adquira o nível suficiente de \_\_\_\_\_ para ingresso e \_\_\_\_\_ no mercado de trabalho e participar da vida comunitária.

Assinale a alternativa que preenche, corretamente, a lacuna do texto:

- (A) desenvolvimento intelectual; reingresso.
- (B) desenvolvimento emocional; retorno.
- (C) desenvolvimento pessoal; retorno.
- (D) desenvolvimento profissional; reingresso.
- (E) desenvolvimento físico; reingresso.

**QUESTÃO 49**

O gráfico a seguir mostra o nível de ocupação das pessoas com deficiência, de 25 anos ou mais no Brasil, por nível de instrução. (PNAD Contínua, 2022)



Fonte: PNAD Contínua — Pessoas com Deficiência — 2022.

Considerando o gráfico apresentado, avalie as afirmações a seguir:

- I. Apesar de ter concluído o nível superior, a escolaridade não foi suficiente para equilibrar a sua situação em relação às pessoas sem deficiência no mercado de trabalho.
- II. Os dados mostraram que o nível de ocupação das pessoas com deficiência foi sempre semelhante à das pessoas sem deficiência.
- III. Os dados mostraram que 51,2% das pessoas com deficiência que tinham ensino superior estavam desocupadas.

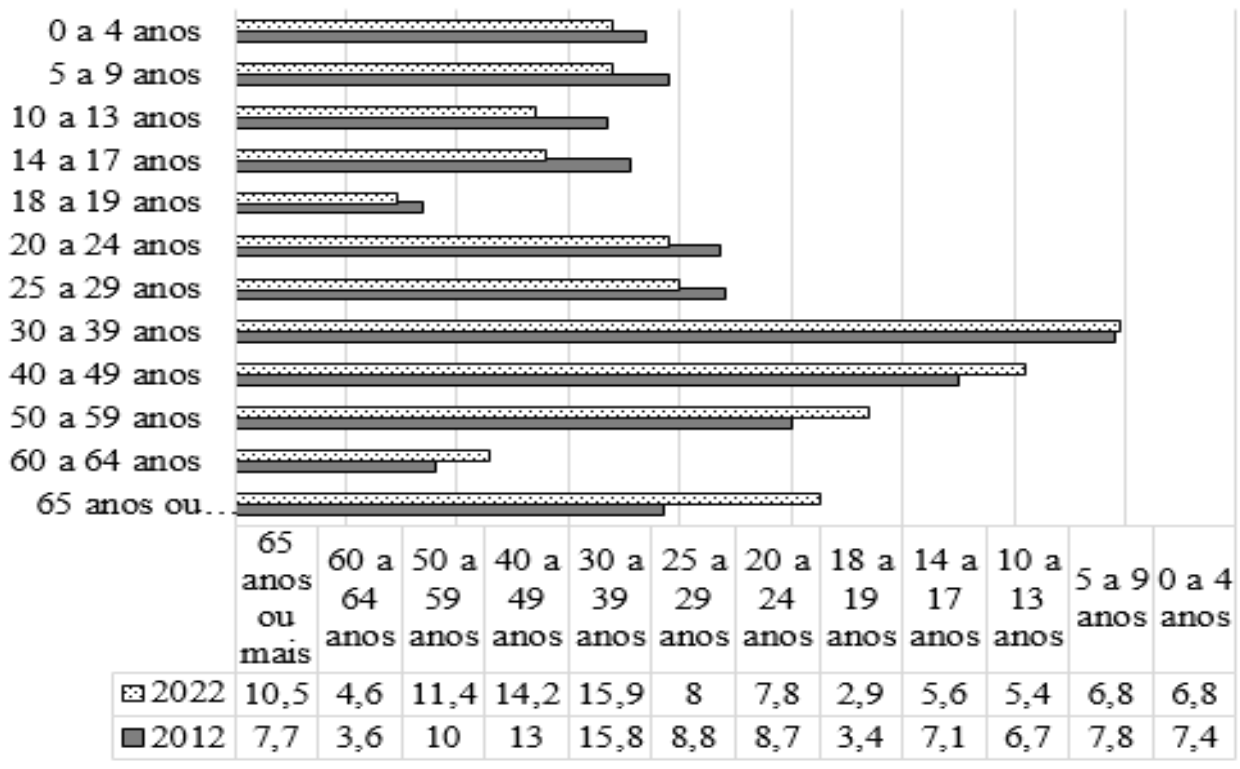
É correto o que se afirma em:

- (A) I, apenas.
- (B) II, apenas.
- (C) I e III, apenas.
- (D) II e III, apenas.
- (E) I, II e III.

**QUESTÃO 50**

O gráfico a seguir, apresenta a distribuição da população residente no Brasil conforme os grupos de idade, em uma pesquisa realizada pelo IBGE em 2022.

**Distribuição da população residente, segundo os grupos de idade (%)**



Fonte: IBGE, Pesquisa Nacional por Amostra de Domicílios Contínua 2012/2022.

Considerando o gráfico apresentado, assinale a alternativa incorreta:

- (A) O gráfico apresenta uma tendência de queda na proporção de indivíduos com idade inferior a 30 anos.
- (B) A população de pessoas de 65 anos ou mais aumentou, atingindo 10,5% da população total em 2022.
- (C) O gráfico indica uma tendência de queda na proporção de indivíduos com a idade entre 60 a 64 anos em 2022.
- (D) A estimativa é de que, entre 2012 e 2022, a população com menos de 30 anos sofreu uma redução significativa na sua participação na população.
- (E) Em 2022, a proporção de indivíduos com 60 anos ou mais representou 15,1% da população, em comparação com a estimativa de 11,3% para 2012



