

AVANÇASP

Rio CLARO
AMOR PELA CIDADE

Fundação Municipal
de Saúde



FUNDAÇÃO MUNICIPAL DE SAÚDE DE
RIO CLARO/SP

CONCURSO PÚBLICO
EDITAL Nº 02/2023

CIRURGIÃO DENTISTA PERIODONTISTA

Leia atentamente as instruções abaixo

1. PROVA E FOLHA DE RESPOSTAS

Além deste Caderno de Prova, contendo 50 (cinquenta) questões objetivas, você receberá do Fiscal de Sala:

- 01 (uma) Folha de Respostas destinada às respostas das questões objetivas. Confira se seus dados estão corretos.

2. TEMPO

- 03 (três) horas é o tempo disponível para realização da prova, já incluído o tempo para marcação da Folha de Respostas da prova objetiva;

- **01 (uma) hora** após o início da prova é possível, retirar-se da sala levando o caderno de prova;

3. INFORMAÇÕES GERAIS

- As questões objetivas têm 05 (cinco) alternativas de resposta (A, B, C, D, E) e somente **uma** delas está correta;
- Verifique se seu caderno está completo, sem repetição de questões ou falhas. Caso contrário, informe imediatamente o Fiscal da Sala, para que sejam tomadas as devidas providências;
- Confira seus dados pessoais na Folha de Respostas, especialmente nome, número de inscrição e documento de identidade e leia atentamente as instruções para preenchimento;
- O preenchimento das respostas da prova objetiva é de sua responsabilidade e não será permitida a troca de Folha de Respostas em caso de erro de marcação pelo candidato;

- Marque, na folha de respostas, com caneta de tinta azul ou preta, a letra correspondente à alternativa que você escolheu.

- Reserve tempo suficiente para o preenchimento de suas respostas. Para fins de avaliação, serão levadas em consideração apenas as marcações realizadas na Folha de Respostas da prova objetiva, não sendo permitido anotar informações relativas às respostas em qualquer outro meio que não seja o caderno de prova;

- Ao se retirar, entregue a Folha de Respostas preenchida e assinada ao Fiscal de Sala.

SERÁ ELIMINADO do presente certame o candidato que:

- a) for surpreendido, durante as provas, em qualquer tipo de comunicação com outro candidato;
- b) portar ou usar, qualquer tipo de aparelho eletrônico (calculadoras, bips/pagers, câmeras fotográficas, filmadoras, telefones celulares, smartphones, tablets, relógios, walkmans, MP3 players, fones de ouvido, agendas eletrônicas, notebooks, palmtops ou qualquer outro tipo de computador portátil, receptores ou gravadores) seja na sala de prova, sanitários, pátios ou qualquer outra dependência do local de prova;
- c) se ausentar da sala em que se realizam as provas levando consigo o Caderno de Questões e/ou a Folha de Respostas;
- d) se recusar a entregar a Folha de Respostas, quando terminar o tempo estabelecido;
- e) não assinar a Lista de Presença e/ou a Folha de Respostas.

CADERNO DE QUESTÕES

PROVA OBJETIVA

LÍNGUA PORTUGUESA

TEXTO

Caso de divórcio (I)

O divórcio é necessário. Todos conhecem dezenas de casos que convenceriam até um arcebispo. Eu mesmo conheço meia dúzia. Vou contar uns três ou quatro. O nome dele é Morgadinho. Baixo, retaco, careca precoce. Você conhece o tipo. No carnaval se fantasia de legionário romano e no futebol de praia dá pau que não é fácil. Frequenta o clube e foi lá que conheceu sua mulher, mais alta do que ele, morena, linda, as unhas do pé pintadas de roxo. Na noite de núpcias, ele lhe declarou.

— Se você algum dia me enganar, eu te esgoelo.

— Ora, Morgadinho...

Ela se chama Fátima Araci. Ou é Mara Sirlei? Não, Fátima Araci. Não é que ela não goste do Morgadinho, é que nunca prestou muita atenção no marido. Na cerimônia do casamento já dava para notar. O olhar dela passava dois centímetros acima da careca do Morgadinho. Ela estava maravilhada com o próprio casamento e o Morgadinho era um simples acessório daquele dia inesquecível. Como um castiçal ou um coroinha. No álbum de fotografias do casamento que ela guardou junto com a grinalda, há esta constatação terrível: o Morgadinho não aparece. Aparece o coroinha mas não aparece o Morgadinho. Um ou dois meses depois do casamento, o Morgadinho sugeriu que ela lhe desse um apelido. Um nome secreto, carinhoso, para ser usado na intimidade, algo que os unisse ainda mais, sei lá. Ela prometeu que ia pensar no assunto. O Morgadinho insistiu.

— Eu te chamo de Fafá e você me chama de qualquer coisa.

— Vamos ver.

Uma semana depois, Morgadinho voltou ao assunto.

— Já pensaste num apelido para mim, Fafá?

— Ainda não.

Três semanas depois, ele mesmo deu um palpite.

— Quem sabe Momo?

— Não.

— Gagá? Fofura? — Tomou coragem e, rindo meio sem jeito, arriscou:

— Tigre?

Ela nem riu. Pediu que ele tivesse paciência. Estava lendo o Sétimo Céu. Tinha tempo. O Morgadinho não desistiu. Às vezes, chegava em casa com uma novidade.

— Que tal este: “Barrilzinho”?

— Não gosto.

Outra vez, os dois estavam passando por um quintal e ouviram uma criança chamando um cachorro.

— Pitoco. Vem, Pitoco.

Morgadinho virou-se para a mulher, cheio de esperança, mas ela fez que não com a cabeça. Finalmente (passava um ano do casamento e nada de apelido), Morgadinho perdeu a paciência. Estavam os dois na cama. Ela pintava as unhas do pé.

— Você não me ama.

— Ora, Morgadinho...

— Até hoje não pensou num apelido para mim.

— Está bem, sabe o que tu és? Um xaropão. Taí teu apelido. Xaropão.

O Morgadinho já tinha enfrentado várias levaras de policiais a tapa. Uma vez desmontara um bar depois de um mal-entendido e saíra para a rua dando cadeiradas em meio mundo. Homens, mulheres e crianças. Mas naquela noite virou-se para o lado e chorou no travesseiro. Aí a mulher, com cuidado para não estragar o esmalte, chegou perto do seu ouvido e disse, rindo:

— Xaropãozinho... — Rindo. Rindo!

Luís Fernando Verissimo. *Ed Mort – todas as histórias*. 1ª Ed. São Paulo: Objetiva, 2011.

QUESTÃO 01

No texto Caso de divórcio (I), o humor é desencadeado por uma situação em que não há reciprocidade aparente entre um casal, em relação ao uso de apelidos carinhosos. Depois de diversas cobranças, a esposa dá o apelido ao marido de 'Xaropão'. No entanto, há uma quebra de expectativa quando:

- (A) Morgadinho se chateia e chora no travesseiro.
- (B) a esposa acrescenta à palavra o diminutivo, que remete a um apelido carinhoso.
- (C) Morgadinho enfrenta policiais.
- (D) a esposa simplesmente o ignora para não estragar o esmalte.
- (E) Morgadinho sai para a rua dando cadeiradas em todo mundo.

QUESTÃO 02

O uso da palavra “xarope” retratado no texto exprime um sentido:

- (A) figurativo, de pessoa que causa aborrecimento.
- (B) literal, de líquido medicamentoso utilizado para fins terapêuticos.
- (C) literal, de líquido doce e concentrado utilizado para fins culinários.
- (D) figurativo, de pessoa pouco inteligente.
- (E) figurativo, de líquido alcoólico, como aguardente.

QUESTÃO 03

Considere as seguintes sentenças, retiradas do texto:

- I. “No carnaval se fantasia de legionário romano e no futebol de praia dá pau que não é fácil.”
- II. “— Se você algum dia me enganar, eu te esgoelo.”

Nas sentenças dadas, a palavra “se” atua, respectivamente, como:

- (A) pronome reflexivo e conjunção integrante.
- (B) conjunção integrante e conjunção condicional.
- (C) pronome reflexivo e conjunção condicional.
- (D) pronome reflexivo e pronome reflexivo.
- (E) conjunção integrante e conjunção integrante.

QUESTÃO 04

Considere as palavras I. fofura e II. barrilzinho, que ocorrem no texto. As palavras dadas apresentam marcas que indicam tipos de processos de formação. Assinale a alternativa que classifica corretamente os elementos -ura e -inho, que ocorrem respectivamente nas palavras I e II, e o tipo de processo ao qual esses elementos são relacionados.

- (A) elementos mórficos de composição por aglutinação.
- (B) elementos mórficos de composição por justaposição.
- (C) prefixos de derivação.
- (D) sufixos de derivação.
- (E) morfemas de flexão de número.

QUESTÃO 05

Considere o seguinte excerto: “Uma vez desmontara um bar depois de um mal-entendido e saíra para a rua dando cadeiradas em meio mundo.” Neste contexto, os verbos ‘desmontara’, ‘saíra’ e ‘dando’ apresentam, respectivamente, as conjugações:

- (A) pretérito mais-que-perfeito do modo indicativo, pretérito mais-que-perfeito do modo indicativo e gerúndio.
- (B) pretérito imperfeito do modo indicativo, pretérito mais-que-perfeito do modo indicativo e gerúndio.
- (C) pretérito mais-que-perfeito do modo indicativo, pretérito perfeito do modo indicativo e gerúndio.
- (D) pretérito mais-que-perfeito do modo indicativo, pretérito mais-que-perfeito do modo indicativo e imperativo.
- (E) pretérito perfeito do modo indicativo, pretérito perfeito do modo indicativo e particípio.

QUESTÃO 06

Considere as seguintes sentenças, retiradas do texto:

- I. “Mas naquela noite virou-se para o lado e chorou no travesseiro.”
- II. “Você não me ama.”

Nas sentenças dadas, a colocação pronominal ocorre, respectivamente, como:

- (A) mesóclise e próclise.
- (B) mesóclise e ênclise.
- (C) próclise e ênclise.
- (D) ênclise e ênclise.
- (E) ênclise e próclise.

QUESTÃO 07

Considere as seguintes sentenças, retiradas do texto:

- I. “Todos conhecem dezenas de casos que convenceriam até um arcebispo.”
- II. “Na noite de núpcias, ele lhe declarou.”
- III. “Taí teu apelido. Xaropão.”

As sentenças dadas apresentam diferentes tipos de pronomes. Ocorre pronome indefinido apenas em:

- (A) I.
- (B) II.
- (C) III.
- (D) I e II.
- (E) II e III.

QUESTÃO 08

Assinale a alternativa em que todas as palavras são proparoxítonas.

- (A) prato, enfermo, colocação.
- (B) aviso, diáspora, gentil.
- (C) abrasivo, lápis, pé.
- (D) cântico, sábado, cinéfilo.
- (E) rito, efêmero, fugaz.

QUESTÃO 09

Considere as seguintes sentenças:

- I. Mesmo que tenhamos feito as pazes, nada será como antes.
- II. Ela se deu bem na prova, embora não tenha estudado.
- III. Apesar dos momentos ruins, este ano foi cheio de realizações.

Nas sentenças dadas, as orações subordinadas que apresentam as expressões “mesmo que”, “embora” e “apesar de” exprimem o mesmo sentido. Este sentido é:

- (A) condicional.
- (B) adversativo.
- (C) causal.
- (D) temporal.
- (E) concessivo.

QUESTÃO 10

Assinale a alternativa que apresenta a sentença correta em relação ao emprego da crase.

- (A) Diga àquela aluna que não teremos aula amanhã.
- (B) Já conversamos quanto à isso.
- (C) A empresa comunicou que não haverá doações à asilos neste ano.
- (D) Fazer tudo isso à que custo?
- (E) Esta máquina funciona à vapor.

MATEMÁTICA E RACIOCÍNIO LÓGICO**QUESTÃO 11**

Uma loja de materiais de construções vai fazer uma entrega de areia num caminhão que comporta no máximo 5 m^3 de volume de material. Sabendo-se que cada m^3 de areia pesa 1,5 tonelada, quantas toneladas de areia serão utilizadas para preencher 80% da capacidade do caminhão?

- (A) 7,5 toneladas.
- (B) 7,0 toneladas.
- (C) 6,0 toneladas.
- (D) 5,5 toneladas.
- (E) 5,0 toneladas.

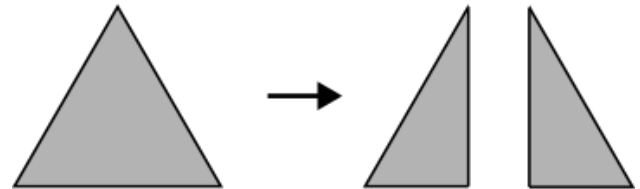
QUESTÃO 12

Um acionista investiu R\$50.000,00 num investimento a juro simples rendendo R\$ 1.000,00 todo mês. Qual a taxa de juros anual do investimento?

- (A) 2%.
- (B) 12%.
- (C) 15%.
- (D) 20%.
- (E) 24%.

QUESTÃO 13

Uma folha de papel em formato de triângulo equilátero de lado a é cortada ao longo de uma das suas medianas, conforme a figura.



Indique o perímetro de cada um dos triângulos formados após o corte:

- (A) $\frac{a\sqrt{3}}{2}$.
- (B) $\frac{a}{4}(3 + \sqrt{3})$.
- (C) $3a$.
- (D) $\frac{3a}{2}$.
- (E) $\frac{a}{2}(3 + \sqrt{3})$.

QUESTÃO 14

Uma unidade muito comum utilizada na astronomia para medir a distância entre astros é a unidade ‘ano-luz’. Que corresponde à distância percorrida pela luz em um ano. Sabendo-se que a velocidade da luz é tal que ela percorre aproximadamente 300 milhões de metros a cada segundo, qual o equivalente de 1 ano-luz em quilômetros, assumindo esta velocidade? Considere 1 ano com aproximadamente 31,5 milhões de segundos, e indique o número mais próximo:

- (A) 95 trilhões.
- (B) 9.5 trilhões.
- (C) 950 bilhões.
- (D) 95 bilhões.
- (E) 9.5 bilhões.

QUESTÃO 15

A tabela abaixo mostra o resultado da pontuação de uma competição de tiro ao alvo entre 3 competidores de países diferentes. Cada jogador tem 5 tentativas. A cada tentativa ele obtém uma determinada quantidade de pontos. Após as 5 tentativas, sua pontuação final é a média das pontuações das 5 tentativas. Ganha quem tiver a maior média final.

	BRA	EUA	CHI
Tentativa 1	80	90	60
Tentativa 2	60	80	65
Tentativa 3	80	50	60
Tentativa 4	90	55	80
Tentativa 5	40	90	90

Sabendo que os pontos são sempre múltiplos de 5, quantos pontos a mais o competidor do BRA deveria ter tirado na Tentativa 5 para que ganhasse a competição?

- (A) 5.
- (B) 10.
- (C) 15.
- (D) 20.
- (E) 25.

QUESTÃO 16

Uma sorveteria possui uma máquina de sorvetes que produz 20 litros de sorvete por hora. Para atender à demanda do verão, eles decidem comprar outra máquina mais moderna que agora produz 40 litros por hora. Porém, devido a um problema no resfriamento, cada máquina está perdendo 10% da sua produção por hora. Nessas condições, quantas horas serão necessárias para fabricar 810 litros de sorvete utilizando ambas as máquinas?

- (A) 15 horas.
- (B) 16 horas.
- (C) 17 horas.
- (D) 18 horas.
- (E) 19 horas.

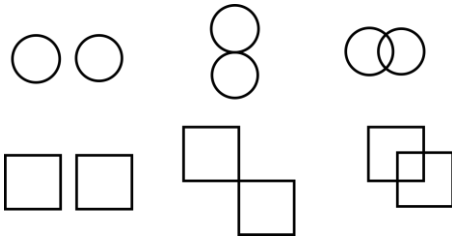
QUESTÃO 17

Um caminhão-cegonha é um caminhão utilizado para transportar outros carros de pequeno porte. Uma empresa de locação de carros precisa transportar 60 carros do Tipo A, 40 carros do tipo B e 100 carros do tipo C num caminhão-cegonha, que tem capacidade máxima de 10 carros por viagem. Em todas as viagens, o caminhão deve levar sempre x carros do tipo A, y carros do tipo B e z carros do tipo C. Qual deve ser o valor de z para que o caminhão dê o mínimo de viagens possível?


- (A) 1.
- (B) 2.
- (C) 3.
- (D) 4.
- (E) 5.

QUESTÃO 18

Observe as seguintes sequências figurais:



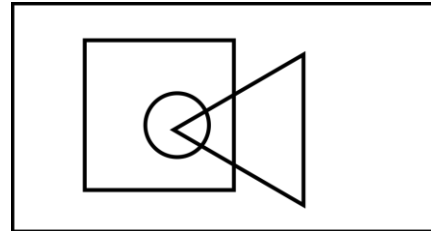
De acordo com as correspondências abaixo, indique as possíveis sequências que seguem a mesma lógica:



- (A) Somente I.
- (B) I e II.
- (C) I e III.
- (D) II e III.
- (E) I, II e III.

QUESTÃO 19

No diagrama lógico abaixo, o retângulo maior representa todos os profissionais. O quadrado representa todos os pedreiros, o círculo representa todos os encanadores e o triângulo representa todos os eletricitas:



Em seguida, observe as seguintes afirmativas:

- I - Há pedreiros que também são eletricitas;
- II – Todo encanador também é eletricitista;
- III - Todo encanador também é pedreiro;
- IV – Não há eletricitas que também são encanadores.

Com base no diagrama, as afirmativas corretas são:

- (A) Somente I.
- (B) I e II.
- (C) I e III.
- (D) II, III e IV.
- (E) III e IV.

QUESTÃO 20

Uma estudante escreve 4 folhas a cada dia que estuda. Ela usa cadernos de 98 folhas limpas, e termina de usar o caderno quando ele tem menos de 4 folhas disponíveis (limpas) para o seu uso. Sabendo que ela estuda somente em dias úteis, quantos cadernos ela precisará durante um ano, considerando que o ano tem 251 dias úteis.

- (A) 8.
- (B) 9.
- (C) 10.
- (D) 11.
- (E) 12.

**NOÇÕES DE INFORMÁTICA
QUESTÃO 21**

Em se tratando de MS-Windows 7, assinale a alternativa que apresenta o atalho para abrir o menu Iniciar:

- (A) Ctrl + R.
- (B) Ctrl + Esc.
- (C) Ctrl + V.
- (D) Ctrl + W.
- (E) Caps + U.

QUESTÃO 22

Sobre a função “responder” no MS-Outlook 2016, é possível afirmar:

- (A) O texto original do remetente não será mantido.
- (B) Ao clicar em "Responder", o Outlook abrirá uma nova janela de composição de e-mail com o endereço de e-mail do remetente já preenchido no campo "Para:".
- (C) O anexo será mantido na mensagem.
- (D) O campo “Assunto” não será preenchido automaticamente.
- (E) O campo “Para” deverá ser preenchido.

QUESTÃO 23

O Microsoft Outlook é principalmente uma ferramenta de comunicação e gerenciamento de informações pessoais, e muitas tarefas específicas exigem software dedicado para serem realizadas com eficiência. São funções do MS-Outlook 2016, EXCETO:

- (A) Enviar e Receber E-mails.
- (B) Desenvolvimento de Software.
- (C) Agendar Compromissos e Reuniões.
- (D) Gerenciar Contatos.
- (E) Arquivar E-mails e Organizar Pastas.

QUESTÃO 24

Roberto trabalha em um escritório de contabilidade, e precisa entregar uma Nota Fiscal que está em arquivo PDF para o seu cliente, para isso, ele deve:

- (A) Digitalizar o documento, que envolve a conversão de uma cópia física em um formato digital, geralmente um arquivo PDF, imagem ou texto.
- (B) Digitalizar o documento, que envolve a conversão de uma cópia digital em um formato físico.
- (C) Imprimir o documento, que envolve a criação de uma cópia física em papel ou outro meio impresso.
- (D) Imprimir o documento, que envolve a conversão de uma cópia física em um formato digital, geralmente um arquivo PDF, imagem ou texto.
- (E) Digitalizar o documento, que envolve a criação de uma cópia física em papel ou outro meio impresso.

QUESTÃO 25

Leia o trecho abaixo e assinale a alternativa que complete corretamente a lacuna:

O _____ é um serviço de armazenamento em nuvem que permite aos usuários armazenar, sincronizar e compartilhar arquivos e documentos online. Ele oferece a capacidade de acessar seus arquivos a partir de qualquer dispositivo com conexão à internet e facilita a colaboração em documentos compartilhados.

- (A) Microsoft OneDrive.
- (B) Microsoft Excel.
- (C) Microsoft OneNote.
- (D) Microsoft Outlook.
- (E) Microsoft Word.

**CONHECIMENTOS ESPECÍFICOS
QUESTÃO 26**

Analise os itens a seguir de acordo a Lei nº 8.080/1990. Assinale a alternativa correta.

I - Entende-se por saúde bucal o conjunto articulado de ações, em todos os níveis de complexidade, que visem a garantir promoção, prevenção, recuperação e reabilitação odontológica, individual e coletiva, inseridas no contexto da integralidade da atenção à saúde.

II - As ações e serviços de saúde, executados pelo Sistema Único de Saúde (SUS), seja indiretamente ou mediante participação complementar da iniciativa privada, serão organizados de forma municipal e hierarquizada em níveis de complexidade decrescente.

- (A) A asserção I é uma proposição falsa, e a II é uma proposição verdadeira.
- (B) As asserções I e II são proposições verdadeiras, e a II é um complemento da I.
- (C) A asserção I é uma proposição verdadeira, e a II é uma proposição falsa.
- (D) As asserções I e II são proposições falsas.
- (E) As asserções I e II são proposições verdadeiras, mas a II não é um complemento da I.

QUESTÃO 27

De acordo com o Decreto Federal nº 7.508/2011. Considera-se, **Rede de Atenção à Saúde**:

- (A) espaço geográfico contínuo constituído por agrupamentos de Municípios limítrofes, delimitado a partir de identidades culturais, econômicas e sociais.
- (B) serviços de atendimento inicial à saúde do usuário no SUS.
- (C) instâncias de pactuação consensual entre os entes federativos para definição das regras da gestão compartilhada do SUS.
- (D) conjunto de ações e serviços de saúde articulados em níveis de complexidade crescente, com a finalidade de garantir a integralidade da assistência à saúde.
- (E) serviços de saúde específicos para o atendimento da pessoa que, em razão de agravo ou de situação laboral, necessita de atendimento especial.

QUESTÃO 28

De acordo com a Lei Federal 8.142/1990. assinale a alternativa correta. Os recursos do Fundo Nacional de Saúde (FNS) serão alocados como:

- (A) despesas de custeio e de capital do Ministério da Saúde, seus órgãos e entidades, da administração direta e indireta.
- (B) investimentos não previstos em lei orçamentária, de iniciativa do Poder Legislativo e aprovados pelo Presidente da República.
- (C) investimentos previstos no Plano anual do Ministério da Saúde.
- (D) cobertura das ações e serviços de saúde a serem implementados pelos, Estados e Distrito Federal, exceto Municípios.
- (E) investimentos previstos no Plano Trienal do Ministério da Saúde.

QUESTÃO 29

Analise os itens a seguir de acordo com a Constituição da República Federativa do Brasil e assinale a alternativa correta.

I – A seguridade social será financiada pelo estado de forma indireta, e pela sociedade de forma direta, mediante recursos provenientes dos orçamentos dos Estados, e Distrito Federal.

II – A seguridade social compreende um conjunto integrado de ações de iniciativa dos Poderes Públicos e da sociedade, destinadas a assegurar os direitos relativos à saúde, à previdência e à assistência social.

(A) A asserção I é uma proposição falsa, e a II é uma proposição verdadeira.

(B) As asserções I e II são proposições verdadeiras, e a II é um complemento da I.

(C) A asserção I é uma proposição verdadeira, e a II é uma proposição falsa.

(D) As asserções I e II são proposições falsas.

(E) As asserções I e II são proposições verdadeiras, mas a II não é um complemento da I.

QUESTÃO 30

De acordo com o Decreto Federal nº 7.508/2011. Assinale a alternativa incorreta.

Para ser instituída, a Região de Saúde deve conter, no mínimo, ações e serviços de:

(A) atenção primária.

(B) urgência e emergência.

(C) atenção psicossocial.

(D) atenção ambulatorial especializada e hospitalar.

(E) vigilância em Educação.

QUESTÃO 31

O dente humano é constituído por: esmalte e dentina na sua parte coronária e dentina e cimento na parte radicular, além da polpa que ocupa a região central do dente. O espaço ocupado pela polpa no interior do dente é denominado de:

(A) Divertículo.

(B) Teto da câmara pulpar

(C) Soalho da câmara pulpar

(D) Sistema central de canais

(E) Cavidade pulpar

QUESTÃO 32

O amálgama é formado quando o mercúrio líquido é misturado a uma liga metálica composta basicamente por prata, estanho e cobre. Nessa reação de cristalização são formadas 3 fases. A fase menos resistente e mais propensa a corrosão é:

(A) gama-2

(B) gama

(C) gama-1

(D) fase Eta

(E) fase nana

QUESTÃO 33

O método radiográfico simples e exato que pode ser realizado na localização de estruturas de posição desconhecida na mandíbula, onde é possível obter duas radiografias que se complementam, uma radiografia periapical e uma oclusal total, é denominado de:

(A) Método de Miller-Winter

(B) Método de Donavan

(C) Método de Parma

(D) Método de Clarck

(E) Método de Paralaxe

QUESTÃO 34

A _____ é definida como a capacidade de absorver luz ultravioleta de um determinado comprimento de onda e em resposta emitir luz visível com comprimento de onda azulada.

- (A) O palescência
- (B) Transparência
- (C) Fluorescência
- (D) Metamerismo
- (E) Translucidez

QUESTÃO 35

O fenômeno de extravasamento de muco no assoalho bucal e que pode também acometer glândulas salivares maiores em geral sublinguais é denominado (a):

- (A) Anquilose
- (B) Mucocele
- (C) Leucoplasia
- (D) Rânula
- (E) Granuloma

QUESTÃO 36

Em relação aos efeitos do Tabagismo na Prevalência e Gravidade das Doenças Periodontais podemos afirmar que:

- (A) O desenvolvimento da inflamação em resposta ao acúmulo de placa é maior nos fumantes em comparação com os não fumantes.
- (B) Os fumantes apresentam menos inflamação gengival do que os não fumantes.
- (C) O tabagismo pode ser considerado um fator de risco importante para o aumento da prevalência e gravidade da destruição periodontal.
- (D) A profundidade de bolsa, a perda de inserção e a perda óssea alveolar são mais prevalentes nos pacientes que fumam em comparação com os não fumantes.
- (E) Observa-se um aumento no número de perdas dentárias em pacientes fumantes.

QUESTÃO 37

O padrão radiográfico que representa uma condição fisiológica de saúde periodontal pode ser considerado quando:

- (A) A Crista óssea a $\pm 2,0$ mm da junção muco-gengival.
- (B) A Crista óssea a $\pm 3,0$ mm da junção esmalte-cimento.
- (C) Crista a $\pm 1,5$ mm da junção esmalte-cimento. Para a análise das perdas ósseas deve-se dividir a raiz em terços.
- (D) Crista a $< 0,5$ mm da junção esmalte-cimento.. Para a análise das perdas ósseas deve-se dividir o arco em sextantes.
- (E) Crista a $\pm 1,0$ mm da junção muco-gengival.

QUESTÃO 38

Somado ao impacto dos fatores locais na composição dos biofilmes gengivais, fatores relacionados ao hospedeiro também podem afetar a composição do biofilme. Alguns destes fatores diretamente relacionados ao hospedeiro estão descritos abaixo EXCETO:

- (A) Padrão genético do indivíduo.
- (B) Tabagismo
- (C) Dieta.
- (D) Condições sistêmicas.
- (E) Potencial de virulência das espécies patogênicas.

QUESTÃO 39

Observe a imagem abaixo e marque a alternativa que identifica corretamente o instrumental.



- (A) Foice 204SD.
- (B) Cureta universal
- (C) Sonda curva de Nabers nº2
- (D) Sonda da Organização Mundial da Saúde (OMS).
- (E) Curetas de furca de Quéting.

QUESTÃO 40

Infecção oral frequentemente acompanhada por sinais e sintomas sistêmicos que ocorre tipicamente nas crianças, podendo acometer os adultos também. Seu curso é de 7 a 10 dias e normalmente cicatriza sem deixar marcas. O tratamento consiste no diagnóstico precoce e na iniciação imediata da terapia antiviral.

O quadro acima descrito se refere a:

- (A) Pericoronarite.
- (B) Gengivite Ulcerativa Necrosante.
- (C) Úlcera aftosa.
- (D) Gengivoestomatite Herpética Aguda.
- (E) Periodontite Ulcerativa Necrosante.

QUESTÃO 41

A estabilidade e o controle são essenciais para a instrumentação eficaz e para evitar danos ao paciente e ao clínico. Durante os procedimentos de raspagem e alisamento radicular uma empunhadura conveniente é essencial para o controle preciso dos movimentos feitos durante a instrumentação periodontal.



- O polegar, o indicador e o dedo médio são usados para segurar o instrumento como se segura uma caneta. embora o dedo médio seja posicionado para que o lado da polpa do dedo próxima à unha apoie na haste do instrumento.
 - O dedo indicador é inclinado na segunda articulação a partir da ponta do dedo e é posicionado bem acima do dedo médio, no mesmo lado do cabo.
 - A polpa do polegar é colocada a meio caminho entre os dedos médio e indicador no lado oposto do cabo.
- A descrição acima bem como a figura se referem a empunhadura do tipo:

- (A) Empunhadura com a palma e o polegar.
- (B) Empunhadura dedo no dedo.
- (C) Empunhadura convencional.
- (D) Empunhadura de caneta padrão.
- (E) Empunhadura de caneta modificada.

QUESTÃO 42

Diferentes propostas tem sido utilizadas para separar

os diferentes tipos abscessos periodontais, a separação mais racional é a baseada no critério etiológico. Dependendo da causa do processo infeccioso agudo, dois tipos de abscessos periodontais podem ocorrer: *Abscesso relacionado à periodontite*, quando a infecção aguda se origina do biofilme presente em bolsas periodontais profundas *Abscessos não-relacionados à periodontite*, quando a infecção aguda se origina de outra fonte local, como impactação por corpos estranhos ou alterações na integridade da raiz.

Marque a alternativa que NÃO representa um Abscesso relacionado à periodontite.

- (A) Exacerbação da lesão crônica.
- (B) Abscesso periodontal pós-raspagem.
- (C) Abscesso periodontal pós-antibiótico.
- (D) Impactação de corpo estranho no sulco gengival ou bolsa periodontal.
- (E) Abscesso periodontal pós-cirurgia.

QUESTÃO 43

A Portaria nº 600/GM, de 23 de março de 2006, estabelece procedimentos na especialidade da Periodontia, para registro de produtividade dos Centros de Especialidades Odontológicas – CEOs. Assinale a alternativa que não corresponde a um procedimento deste grupo.

- (A) Cirurgia periodontal por hemi-arcada.
- (B) Cirurgia odontológica com aplicação de aloenxerto.
- (C) Enxerto gengival
- (D) Gengivoplastia por hemi-arcada.
- (E) Gengivectomia.

QUESTÃO 44

O tratamento das doenças periodontais necrosantes é dividido em duas fases: tratamento da fase aguda e da fase de manutenção. Podemos considerar como tratamento indicado para fase aguda:

- (A) Na primeira consulta realizar uma raspagem superficial preferivelmente com instrumentos manuais com pressão leve.
- (B) Prescrição de bochechos de clorexidina 0,12%, duas vezes ao dia e agendar nova consulta para avaliação em 15 dias.
- (C) Prescrição de antibióticos sistêmicos associado a bochechos com Peróxido de Hidrogênio duas vezes ao dia antes de iniciar o tratamento.
- (D) Na primeira consulta, deve-se tentar realizar uma raspagem, tão completa quanto as condições permitirem, preferencialmente com uso de Ultrassom.
- (E) Iniciar com procedimento cirúrgico e prescrição de antibióticos posteriormente.

QUESTÃO 45

O diabetes mellitus é uma doença complexa com grau variável de complicações sistêmicas e bucais, com implicações sobre a resposta do hospedeiro à placa bacteriana.

Sobre a cicatrização de feridas e resposta ao tratamento pode-se dizer que estas são prejudicadas pelos efeitos cumulativos sobre as funções celulares.

São fatores que acarretam esses efeitos EXCETO:

- (A) O aumento da degradação pela colage.
- (B) A diminuição da síntese do colágeno pelos fibroblastos.
- (C) Defeitos de remodelagem e rápida degradação do colágeno recém-sintetizado.
- (D) Função aumentada dos Leucócitos polimorfonucleares (PMN).
- (E) A glicosilação do colágeno existente nas margens da ferida.

QUESTÃO 46

Além do tecido epitelial, o periodonto de proteção também é composto por um tecido conjuntivo que se localiza logo abaixo do epitélio. Uma das funções do tecido conjuntivo é preencher espaços, ele é rico em diversos componentes com funções variadas. Estes componentes estão corretamente descritos na alternativa:

- (A) Fibras gengivais colágenas (35%), vasos sanguíneos (25%), fibroblastos (40%), células de defesa e substância fundamental amorfa.
- (B) Fibras gengivais colágenas (60%), vasos sanguíneos (35%), fibroblastos (5%), células de defesa e substância fundamental amorfa.
- (C) Fibras gengivais colágenas (5%), vasos sanguíneos (35%), fibroblastos (60%), células de defesa e substância fundamental amorfa.
- (D) Fibras gengivais colágenas (50%), vasos sanguíneos (25%), fibroblastos (25%), células de defesa e substância fundamental amorfa.
- (E) Fibras gengivais colágenas (10%), vasos sanguíneos (60%), fibroblastos (30%), células de defesa e substância fundamental amorfa.

QUESTÃO 47

A avaliação clínica da resposta dos tecidos moles à raspagem e alisamento radicular, incluindo a sondagem, não deve ser conduzida antes de:

- (A) 2 semanas de pós operatório.
- (B) 2 dias de pós operatório.
- (C) 2 meses de pós operatório.
- (D) 1 semana de pós operatório.
- (E) 10 dias de pós operatório.

QUESTÃO 48

Segundo disposto no Código de Ética Odontológico, marque a alternativa INCORRETA.

Constitui infração ética:

- (A) Deixar de esclarecer adequadamente os propósitos, riscos, custos e alternativas do tratamento.
- (B) Deixar de atender paciente que procure cuidados profissionais em caso de urgência, quando não haja outro cirurgião-dentista em condições de fazê-lo.
- (C) Renunciar ao atendimento do paciente, durante o tratamento, quando da constatação de fatos que, a critério do profissional, prejudiquem o bom relacionamento com o paciente ou o pleno desempenho profissional. Nestes casos tem o profissional o dever de comunicar previamente, por escrito, ao paciente ou seu responsável legal, fornecendo ao cirurgião-dentista que lhe suceder todas as informações necessárias para a continuidade do tratamento.
- (D) Fazer referência a casos clínicos identificáveis, exibir paciente, sua imagem ou qualquer outro elemento que o identifique, em qualquer meio de comunicação ou sob qualquer pretexto, salvo se o cirurgião-dentista estiver no exercício da docência ou em publicações científicas, nos quais, a autorização do paciente ou seu responsável legal, lhe permite a exibição da imagem ou prontuários com finalidade didático-acadêmicas.
- (E) Iniciar qualquer procedimento ou tratamento odontológico sem o consentimento prévio do paciente ou do seu responsável legal, exceto em casos de urgência ou emergência.

QUESTÃO 49

São achados que podem indicar a necessidade de uma fase cirúrgica na terapia periodontal, EXCETO:

- (A) Persistência da condição inflamatória após a reavaliação da raspagem e alisamento radicular.
- (B) Bolsas intraósseas nas áreas distais dos últimos molares.
- (C) Inflamação persistente nas áreas com bolsas de moderadas a profundas.
- (D) Áreas com contornos ósseos irregulares, crateras profundas e outros defeitos.
- (E) Envolvimento de grau II ou III de bifurcação.

QUESTÃO 50

A hemostasia é um aspecto importante da cirurgia periodontal, pois um bom controle intraoperatório do sangramento permite uma visualização precisa do campo operatório. Para um fluxo sanguíneo lento, constante e gotejante, a hemostasia pode ser alcançada com agentes hemostáticos.

O agente que é uma matriz porosa preparada a partir da pele do porco que ajuda a estabilizar um coágulo sanguíneo normal, pode ser cortado nas dimensões desejadas posicionado dentro da ferida, sendo absorvida em 4 a 6 semanas. Esta descrição se refere a:

- (A) Celulose oxidada.
- (B) Esponja de gelatina absorvível
- (C) Celulose oxidada regenerada.
- (D) Trombina.
- (E) PRF Plasma Rico em Fibrina.

