

AVANÇASP

Rio CLARO
AMOR PELA CIDADE

Fundação Municipal
de Saúde



FUNDAÇÃO MUNICIPAL DE SAÚDE DE
RIO CLARO/SP

CONCURSO PÚBLICO
EDITAL Nº 02/2023

MÉDICO DO TRABALHO

Leia atentamente as instruções abaixo

1. PROVA E FOLHA DE RESPOSTAS

Além deste Caderno de Prova, contendo 50 (cinquenta) questões objetivas, você receberá do Fiscal de Sala:

- 01 (uma) Folha de Respostas destinada às respostas das questões objetivas. Confira se seus dados estão corretos.

2. TEMPO

- 03 (três) horas é o tempo disponível para realização da prova, já incluído o tempo para marcação da Folha de Respostas da prova objetiva;

- **01 (uma) hora** após o início da prova é possível, retirar-se da sala levando o caderno de prova;

3. INFORMAÇÕES GERAIS

- As questões objetivas têm 05 (cinco) alternativas de resposta (A, B, C, D, E) e somente **uma** delas está correta;
- Verifique se seu caderno está completo, sem repetição de questões ou falhas. Caso contrário, informe imediatamente o Fiscal da Sala, para que sejam tomadas as devidas providências;
- Confira seus dados pessoais na Folha de Respostas, especialmente nome, número de inscrição e documento de identidade e leia atentamente as instruções para preenchimento;
- O preenchimento das respostas da prova objetiva é de sua responsabilidade e não será permitida a troca de Folha de Respostas em caso de erro de marcação pelo candidato;

- Marque, na folha de respostas, com caneta de tinta azul ou preta, a letra correspondente à alternativa que você escolheu.

- Reserve tempo suficiente para o preenchimento de suas respostas. Para fins de avaliação, serão levadas em consideração apenas as marcações realizadas na Folha de Respostas da prova objetiva, não sendo permitido anotar informações relativas às respostas em qualquer outro meio que não seja o caderno de prova;

- Ao se retirar, entregue a Folha de Respostas preenchida e assinada ao Fiscal de Sala.

SERÁ ELIMINADO do presente certame o candidato que:

- a) for surpreendido, durante as provas, em qualquer tipo de comunicação com outro candidato;
- b) portar ou usar, qualquer tipo de aparelho eletrônico (calculadoras, bips/pagers, câmeras fotográficas, filmadoras, telefones celulares, smartphones, tablets, relógios, walkmans, MP3 players, fones de ouvido, agendas eletrônicas, notebooks, palmtops ou qualquer outro tipo de computador portátil, receptores ou gravadores) seja na sala de prova, sanitários, pátios ou qualquer outra dependência do local de prova;
- c) se ausentar da sala em que se realizam as provas levando consigo o Caderno de Questões e/ou a Folha de Respostas;
- d) se recusar a entregar a Folha de Respostas, quando terminar o tempo estabelecido;
- e) não assinar a Lista de Presença e/ou a Folha de Respostas.

LÍNGUA PORTUGUESA**TEXTO****Caso de divórcio (I)**

O divórcio é necessário. Todos conhecem dezenas de casos que convenceriam até um arcebispo. Eu mesmo conheço meia dúzia. Vou contar uns três ou quatro. O nome dele é Morgadinho. Baixo, retaco, careca precoce. Você conhece o tipo. No carnaval se fantasia de legionário romano e no futebol de praia dá pau que não é fácil. Frequenta o clube e foi lá que conheceu sua mulher, mais alta do que ele, morena, linda, as unhas do pé pintadas de roxo. Na noite de núpcias, ele lhe declarou.

— Se você algum dia me enganar, eu te esgoelo.

— Ora, Morgadinho...

Ela se chama Fátima Araci. Ou é Mara Sirlei? Não, Fátima Araci. Não é que ela não goste do Morgadinho, é que nunca prestou muita atenção no marido. Na cerimônia do casamento já dava para notar. O olhar dela passava dois centímetros acima da careca do Morgadinho. Ela estava maravilhada com o próprio casamento e o Morgadinho era um simples acessório daquele dia inesquecível. Como um castiçal ou um coroinha. No álbum de fotografias do casamento que ela guardou junto com a grinalda, há esta constatação terrível: o Morgadinho não aparece. Aparece o coroinha mas não aparece o Morgadinho. Um ou dois meses depois do casamento, o Morgadinho sugeriu que ela lhe desse um apelido. Um nome secreto, carinhoso, para ser usado na intimidade, algo que os unisse ainda mais, sei lá. Ela prometeu que ia pensar no assunto. O Morgadinho insistiu.

— Eu te chamo de Fafá e você me chama de qualquer coisa.

— Vamos ver.

Uma semana depois, Morgadinho voltou ao assunto.

— Já pensaste num apelido para mim, Fafá?

— Ainda não.

Três semanas depois, ele mesmo deu um palpite.

— Quem sabe Momo?

— Não.

— Gagá? Fofura? — Tomou coragem e, rindo meio sem jeito, arriscou:

— Tigre?

Ela nem riu. Pediu que ele tivesse paciência. Estava lendo o Sétimo Céu. Tinha tempo. O Morgadinho não desistiu. Às vezes, chegava em casa com uma novidade.

— Que tal este: “Barrilzinho”?

— Não gosto.

Outra vez, os dois estavam passando por um quintal e ouviram uma criança chamando um cachorro.

— Pitoco. Vem, Pitoco.

Morgadinho virou-se para a mulher, cheio de esperança, mas ela fez que não com a cabeça. Finalmente (passava um ano do casamento e nada de apelido), Morgadinho perdeu a paciência. Estavam os dois na cama. Ela pintava as unhas do pé.

— Você não me ama.

— Ora, Morgadinho...

— Até hoje não pensou num apelido para mim.

— Está bem, sabe o que tu és? Um xaropão. Taí teu apelido. Xaropão.

O Morgadinho já tinha enfrentado várias levadas de policiais a tapa. Uma vez desmontara um bar depois de um mal-entendido e saíra para a rua dando cadeiradas em meio mundo. Homens, mulheres e crianças. Mas naquela noite virou-se para o lado e chorou no travesseiro. Aí a mulher, com cuidado para não estragar o esmalte, chegou perto do seu ouvido e disse, rindo:

— Xaropãozinho... — Rindo. Rindo!

Luís Fernando Verissimo. *Ed Mort – todas as histórias*. 1ª Ed. São Paulo: Objetiva, 2011.

QUESTÃO 01

No texto Caso de divórcio (I), o humor é desencadeado por uma situação em que não há reciprocidade aparente entre um casal, em relação ao uso de apelidos carinhosos. Depois de diversas cobranças, a esposa dá o apelido ao marido de 'Xaropão'. No entanto, há uma quebra de expectativa quando:

- (A) Morgadinho se chateia e chora no travesseiro.
- (B) a esposa acrescenta à palavra o diminutivo, que remete a um apelido carinhoso.
- (C) Morgadinho enfrenta policiais.
- (D) a esposa simplesmente o ignora para não estragar o esmalte.
- (E) Morgadinho sai para a rua dando cadeiradas em todo mundo.

QUESTÃO 02

O uso da palavra "xarope" retratado no texto exprime um sentido:

- (A) figurativo, de pessoa que causa aborrecimento.
- (B) literal, de líquido medicamentoso utilizado para fins terapêuticos.
- (C) literal, de líquido doce e concentrado utilizado para fins culinários.
- (D) figurativo, de pessoa pouco inteligente.
- (E) figurativo, de líquido alcoólico, como aguardente.

QUESTÃO 03

Considere as seguintes sentenças, retiradas do texto:

- I. "No carnaval se fantasia de legionário romano e no futebol de praia dá pau que não é fácil."
- II. "— Se você algum dia me enganar, eu te esgoelo."

Nas sentenças dadas, a palavra "se" atua, respectivamente, como:

- (A) pronome reflexivo e conjunção integrante.
- (B) conjunção integrante e conjunção condicional.
- (C) pronome reflexivo e conjunção condicional.
- (D) pronome reflexivo e pronome reflexivo.
- (E) conjunção integrante e conjunção integrante.

QUESTÃO 04

Considere as palavras I. fofura e II. barrilzinho, que ocorrem no texto. As palavras dadas apresentam marcas que indicam tipos de processos de formação. Assinale a alternativa que classifica corretamente os elementos -ura e -inho, que ocorrem respectivamente nas palavras I e II, e o tipo de processo ao qual esses elementos são relacionados.

- (A) elementos mórficos de composição por aglutinação.
- (B) elementos mórficos de composição por justaposição.
- (C) prefixos de derivação.
- (D) sufixos de derivação.
- (E) morfemas de flexão de número.

QUESTÃO 05

Considere o seguinte excerto: “Uma vez desmontara um bar depois de um mal-entendido e saíra para a rua dando cadeiradas em meio mundo.” Neste contexto, os verbos ‘desmontara’, ‘saíra’ e ‘dando’ apresentam, respectivamente, as conjugações:

- (A) pretérito mais-que-perfeito do modo indicativo, pretérito mais-que-perfeito do modo indicativo e gerúndio.
- (B) pretérito imperfeito do modo indicativo, pretérito mais-que-perfeito do modo indicativo e gerúndio.
- (C) pretérito mais-que-perfeito do modo indicativo, pretérito perfeito do modo indicativo e gerúndio.
- (D) pretérito mais-que-perfeito do modo indicativo, pretérito mais-que-perfeito do modo indicativo e imperativo.
- (E) pretérito perfeito do modo indicativo, pretérito perfeito do modo indicativo e participípio.

QUESTÃO 06

Considere as seguintes sentenças, retiradas do texto:

- I. “Mas naquela noite virou-se para o lado e chorou no travesseiro.”
- II. “Você não me ama.”

Nas sentenças dadas, a colocação pronominal ocorre, respectivamente, como:

- (A) mesóclise e próclise.
- (B) mesóclise e ênclise.
- (C) próclise e ênclise.
- (D) ênclise e ênclise.
- (E) ênclise e próclise.

QUESTÃO 07

Considere as seguintes sentenças, retiradas do texto:

- I. “Todos conhecem dezenas de casos que convenceriam até um arcebispo.”
- II. “Na noite de núpcias, ele lhe declarou.”
- III. “Taí teu apelido. Xaropão.”

As sentenças dadas apresentam diferentes tipos de pronomes. Ocorre pronome indefinido apenas em:

- (A) I.
- (B) II.
- (C) III.
- (D) I e II.
- (E) II e III.

QUESTÃO 08

Assinale a alternativa em que todas as palavras são proparoxítonas.

- (A) prato, enfermo, colocação.
- (B) aviso, diáspora, gentil.
- (C) abrasivo, lápis, pé.
- (D) cântico, sábado, cinéfilo.
- (E) rito, efêmero, fugaz.

QUESTÃO 09

Considere as seguintes sentenças:

- I. Mesmo que tenhamos feito as pazes, nada será como antes.
- II. Ela se deu bem na prova, embora não tenha estudado.
- III. Apesar dos momentos ruins, este ano foi cheio de realizações.

Nas sentenças dadas, as orações subordinadas que apresentam as expressões “mesmo que”, “embora” e “apesar de” exprimem o mesmo sentido. Este sentido é:

- (A) condicional.
- (B) adversativo.
- (C) causal.
- (D) temporal.
- (E) concessivo.

QUESTÃO 10

Assinale a alternativa que apresenta a sentença correta em relação ao emprego da crase.

- (A) Diga àquela aluna que não teremos aula amanhã.
- (B) Já conversamos quanto à isso.
- (C) A empresa comunicou que não haverá doações à asilos neste ano.
- (D) Fazer tudo isso à que custo?
- (E) Esta máquina funciona à vapor.

MATEMÁTICA E RACIOCÍNIO LÓGICO**QUESTÃO 11**

Uma loja de materiais de construções vai fazer uma entrega de areia num caminhão que comporta no máximo 5 m^3 de volume de material. Sabendo-se que cada m^3 de areia pesa 1,5 tonelada, quantas toneladas de areia serão utilizadas para preencher 80% da capacidade do caminhão?

- (A) 7,5 toneladas.
- (B) 7,0 toneladas.
- (C) 6,0 toneladas.
- (D) 5,5 toneladas.
- (E) 5,0 toneladas.

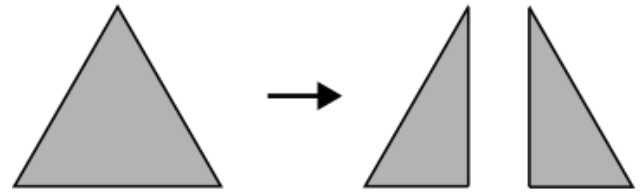
QUESTÃO 12

Um acionista investiu R\$50.000,00 num investimento a juro simples rendendo R\$ 1.000,00 todo mês. Qual a taxa de juros anual do investimento?

- (A) 2%.
- (B) 12%.
- (C) 15%.
- (D) 20%.
- (E) 24%.

QUESTÃO 13

Uma folha de papel em formato de triângulo equilátero de lado a é cortada ao longo de uma das suas medianas, conforme a figura.



Indique o perímetro de cada um dos triângulos formados após o corte:

- (A) $\frac{a\sqrt{3}}{2}$.
- (B) $\frac{a}{4}(3 + \sqrt{3})$.
- (C) $3a$.
- (D) $\frac{3a}{2}$.
- (E) $\frac{a}{2}(3 + \sqrt{3})$.

QUESTÃO 14

Uma unidade muito comum utilizada na astronomia para medir a distância entre astros é a unidade ‘ano-luz’. Que corresponde à distância percorrida pela luz em um ano. Sabendo-se que a velocidade da luz é tal que ela percorre aproximadamente 300 milhões de metros a cada segundo, qual o equivalente de 1 ano-luz em quilômetros, assumindo esta velocidade? Considere 1 ano com aproximadamente 31,5 milhões de segundos, e indique o número mais próximo:

- (A) 95 trilhões.
- (B) 9.5 trilhões.
- (C) 950 bilhões.
- (D) 95 bilhões.
- (E) 9.5 bilhões.

QUESTÃO 15

A tabela abaixo mostra o resultado da pontuação de uma competição de tiro ao alvo entre 3 competidores de países diferentes. Cada jogador tem 5 tentativas. A cada tentativa ele obtém uma determinada quantidade de pontos. Após as 5 tentativas, sua pontuação final é a média das pontuações das 5 tentativas. Ganha quem tiver a maior média final.

	BRA	EUA	CHI
Tentativa 1	80	90	60
Tentativa 2	60	80	65
Tentativa 3	80	50	60
Tentativa 4	90	55	80
Tentativa 5	40	90	90

Sabendo que os pontos são sempre múltiplos de 5, quantos pontos a mais o competidor do BRA deveria ter tirado na Tentativa 5 para que ganhasse a competição?

- (A) 5.
- (B) 10.
- (C) 15.
- (D) 20.
- (E) 25.

QUESTÃO 16

Uma sorveteria possui uma máquina de sorvetes que produz 20 litros de sorvete por hora. Para atender à demanda do verão, eles decidem comprar outra máquina mais moderna que agora produz 40 litros por hora. Porém, devido a um problema no resfriamento, cada máquina está perdendo 10% da sua produção por hora. Nessas condições, quantas horas serão necessárias para fabricar 810 litros de sorvete utilizando ambas as máquinas?

- (A) 15 horas.
- (B) 16 horas.
- (C) 17 horas.
- (D) 18 horas.
- (E) 19 horas.

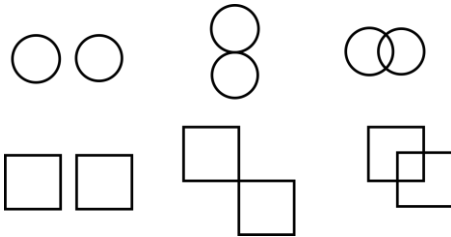
QUESTÃO 17

Um caminhão-cegonha é um caminhão utilizado para transportar outros carros de pequeno porte. Uma empresa de locação de carros precisa transportar 60 carros do Tipo A, 40 carros do tipo B e 100 carros do tipo C num caminhão-cegonha, que tem capacidade máxima de 10 carros por viagem. Em todas as viagens, o caminhão deve levar sempre x carros do tipo A, y carros do tipo B e z carros do tipo C. Qual deve ser o valor de z para que o caminhão dê o mínimo de viagens possível?


- (A) 1.
- (B) 2.
- (C) 3.
- (D) 4.
- (E) 5.

QUESTÃO 18

Observe as seguintes sequências figurais:



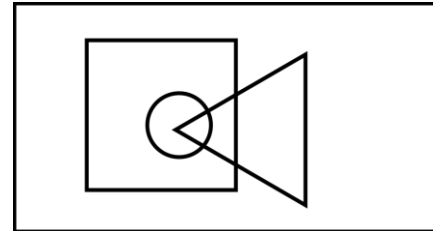
De acordo com as correspondências abaixo, indique as possíveis sequências que seguem a mesma lógica:



- (A) Somente I.
- (B) I e II.
- (C) I e III.
- (D) II e III.
- (E) I, II e III.

QUESTÃO 19

No diagrama lógico abaixo, o retângulo maior representa todos os profissionais. O quadrado representa todos os pedreiros, o círculo representa todos os encanadores e o triângulo representa todos os eletricitas:



Em seguida, observe as seguintes afirmativas:

- I - Há pedreiros que também são eletricitas;
- II – Todo encanador também é eletricitista;
- III - Todo encanador também é pedreiro;
- IV – Não há eletricitas que também são encanadores.

Com base no diagrama, as afirmativas corretas são:

- (A) Somente I.
- (B) I e II.
- (C) I e III.
- (D) II, III e IV.
- (E) III e IV.

QUESTÃO 20

Uma estudante escreve 4 folhas a cada dia que estuda. Ela usa cadernos de 98 folhas limpas, e termina de usar o caderno quando ele tem menos de 4 folhas disponíveis (limpas) para o seu uso. Sabendo que ela estuda somente em dias úteis, quantos cadernos ela precisará durante um ano, considerando que o ano tem 251 dias úteis.

- (A) 8.
- (B) 9.
- (C) 10.
- (D) 11.
- (E) 12.

**NOÇÕES DE INFORMÁTICA
QUESTÃO 21**

Em se tratando de MS-Windows 7, assinale a alternativa que apresenta o atalho para abrir o menu Iniciar:

- (A) Ctrl + R.
- (B) Ctrl + Esc.
- (C) Ctrl + V.
- (D) Ctrl + W.
- (E) Caps + U.

QUESTÃO 22

Sobre a função “responder” no MS-Outlook 2016, é possível afirmar:

- (A) O texto original do remetente não será mantido.
- (B) Ao clicar em "Responder", o Outlook abrirá uma nova janela de composição de e-mail com o endereço de e-mail do remetente já preenchido no campo "Para:".
- (C) O anexo será mantido na mensagem.
- (D) O campo “Assunto” não será preenchido automaticamente.
- (E) O campo “Para” deverá ser preenchido.

QUESTÃO 23

O Microsoft Outlook é principalmente uma ferramenta de comunicação e gerenciamento de informações pessoais, e muitas tarefas específicas exigem software dedicado para serem realizadas com eficiência. São funções do MS-Outlook 2016, EXCETO:

- (A) Enviar e Receber E-mails.
- (B) Desenvolvimento de Software.
- (C) Agendar Compromissos e Reuniões.
- (D) Gerenciar Contatos.
- (E) Arquivar E-mails e Organizar Pastas.

QUESTÃO 24

Roberto trabalha em um escritório de contabilidade, e precisa entregar uma Nota Fiscal que está em arquivo PDF para o seu cliente, para isso, ele deve:

- (A) Digitalizar o documento, que envolve a conversão de uma cópia física em um formato digital, geralmente um arquivo PDF, imagem ou texto.
- (B) Digitalizar o documento, que envolve a conversão de uma cópia digital em um formato físico.
- (C) Imprimir o documento, que envolve a criação de uma cópia física em papel ou outro meio impresso.
- (D) Imprimir o documento, que envolve a conversão de uma cópia física em um formato digital, geralmente um arquivo PDF, imagem ou texto.
- (E) Digitalizar o documento, que envolve a criação de uma cópia física em papel ou outro meio impresso.

QUESTÃO 25

Leia o trecho abaixo e assinale a alternativa que complete corretamente a lacuna:

O _____ é um serviço de armazenamento em nuvem que permite aos usuários armazenar, sincronizar e compartilhar arquivos e documentos online. Ele oferece a capacidade de acessar seus arquivos a partir de qualquer dispositivo com conexão à internet e facilita a colaboração em documentos compartilhados.

- (A) Microsoft OneDrive.
- (B) Microsoft Excel.
- (C) Microsoft OneNote.
- (D) Microsoft Outlook.
- (E) Microsoft Word.

**CONHECIMENTOS ESPECÍFICOS
QUESTÃO 26**

De acordo a Lei nº 8.080/1990 que dispõe sobre as condições para a promoção, proteção e recuperação da saúde, a organização e o funcionamento dos serviços correspondentes e dá outras providências. Complete a lacuna:

A saúde é um _____ do ser humano, devendo o Estado prover as condições indispensáveis ao seu pleno exercício.

- (A) direito suplementar
- (B) direito subordinado ao direito à educação
- (C) direito fundamental
- (D) direito voluntário
- (E) direito exclusivo dos profissionais de saúde

QUESTÃO 27

Assinale a alternativa que completa corretamente as lacunas.

_____ Trata-se de um tipo de demência, mas que provoca uma deterioração progressiva, global e irreversível de algumas funções cognitivas. A memória é a mais afetada, porém, os sintomas também surgem na dificuldade de lidar com a concentração, na falta de atenção, na dificuldade de articular o pensamento e usar a linguagem etc.

_____ é degenerativa e progressiva, afetando partes cerebrais. Ela altera principalmente os movimentos do corpo, provocando tremor, lentidão, desequilíbrio, falta de reflexo e até rigidez involuntária dos músculos.

_____ É uma espécie de derrame cerebral, e os sintomas incluem problemas para andar, falar ou até mesmo compreender coisas simples. Pode ocorrer paralisia ou dormência da face, da perna ou do braço — geralmente, em um lado do corpo. Quando acontece, provoca dificuldade de fala, de compreensão e de alimentação, por exemplo.

- (A) Parkinson - Alzheimer - Acidente Vascular Cerebral (AVC)
- (B) Parkinson - Acidente Vascular Cerebral (AVC) - Alzheimer
- (C) Alzheimer – Parkinson - Acidente Vascular Cerebral (AVC)
- (D) Acidente Vascular Cerebral (AVC) - Alzheimer - Parkinson
- (E) Acidente Vascular Cerebral (AVC) - Parkinson - Alzheimer

QUESTÃO 28

Analise os itens a seguir atribuindo (V) para Verdadeira e (F) para Falsa, em seguida assinale a alternativa com a sequência correta.

Há vários fatores que influenciam nos níveis de **pressão arterial**, entre eles:

- () Obesidade;
 - () Níveis altos de colesterol;
 - () Falta de atividade física.
- (A) V- F -V
(B) F- V- V
(C) V- V -F
(D) V -V -V
(E) F -F -V

QUESTÃO 29

Complete a lacuna e assinale a alternativa correta de acordo com a Lei Federal 8.142/1990.

O Conselho de Saúde, em _____ e deliberativo, órgão colegiado composto por representantes do governo, prestadores de serviço, profissionais de saúde e usuários, atua na formulação de estratégias e no controle da execução da política de saúde na instância correspondente, inclusive nos aspectos econômicos e financeiros, cujas decisões serão homologadas pelo chefe do poder legalmente constituído em cada esfera do governo.

- (A) caráter permanente
- (B) caráter temporário
- (C) caráter deliberativo
- (D) caráter normativo
- (E) caráter executivo

QUESTÃO 30

Analise os itens a seguir de acordo com o **Reanimação Cardiopulmonar** atribuindo (V) para Verdadeira e (F) para Falsa, em seguida assinale a alternativa com a sequência correta.

São procedimentos corretos para procedimento de reanimação:

- () Verificar os sinais de respiração por meio de sons ou movimentos do tórax. Se a pessoa não respira ou sofre para respirar, deite-a de barriga para baixo em uma superfície rígida;
 - () Ajoelhe-se ao lado da vítima, na altura dos ombros dela, e localize o centro do tórax, entre os mamilos;
 - () Posicione os braços estendidos com os dedos entrelaçados, colocando uma mão sobre a outra, apoiando-se no centro do peito;
- (A) V- F -F
(B) F- V- V
(C) V- F -V
(D) V -V -V
(E) F -V -F

QUESTÃO 31

Complete a lacuna de acordo com a Constituição da República Federativa do Brasil.

A seguridade social compreende um conjunto integrado de ações de iniciativa dos Poderes Públicos e da sociedade, destinadas a assegurar os _____ direitos _____ relativos _____.

- (A) à saúde, à previdência e à assistência social.
- (B) à educação, à saúde e à assistência social.
- (C) à previdência, livre iniciativa e à assistência social.
- (D) à assistência comunitária, à educação e o empreendedorismo.
- (E) à assistência médica, à educação e ao bem-estar social.

QUESTÃO 32

De acordo a Lei Federal 8.080. analise as afirmativas abaixo atribuindo (V) para Verdadeira e (F) para Falsa, em seguida assinale a alternativa com a sequência correta.

() O Conselho Nacional de Secretários de Saúde (Conass) e o Conselho Nacional de Secretarias Municipais de Saúde (Conasems) são reconhecidos como entidades representativas dos entes estaduais e municipais para tratar de matérias referentes à saúde e declarados de utilidade pública e de relevante função social, na forma do regulamento.

() O Conass e o Conasems receberão recursos do orçamento geral da União por meio do Fundo Nacional de Saúde, para auxiliar no custeio de suas despesas institucionais, podendo ainda celebrar convênios com a União.

() Os Conselhos de Secretarias Municipais de Saúde (Cosems) são reconhecidos como entidades que representam os entes municipais, no âmbito estadual, para tratar de matérias referentes à educação, desde que vinculados institucionalmente ao Conasems, na forma que dispuserem seus estatutos.

- (A) V- F -F
- (B) F- V- V
- (C) V- F -V
- (D) V -V -V
- (E) V -V -F

QUESTÃO 33

Analise os itens abaixo de acordo com a Lei e 8.142/1990.

Os recursos do Fundo Nacional de Saúde (FNS) serão alocados como:

I - despesas de custeio e de capital do Ministério da Saúde, seus órgãos e entidades, da administração direta apenas.

II - investimentos previstos no Plano anual do Ministério da Saúde.

III - cobertura das ações e serviços de saúde a serem implementados pelos Municípios, Estados e Distrito Federal.

IV - investimentos previstos em lei orçamentária, de iniciativa do Poder Legislativo e aprovados pelo Congresso Nacional.

Está(ão) incorreta(s) a(s) assertiva(s):

- (A) I, II e III apenas.
- (B) I e II apenas.
- (C) II e IV apenas.
- (D) II, III e IV apenas
- (E) I, II, III e IV.

QUESTÃO 34

Assinale a alternativa correta. A hipertensão arterial ou pressão alta é uma doença crônica caracterizada pelos níveis elevados da pressão sanguínea nas artérias. Ela acontece quando:

- (A) Pressão sanguínea abaixo de 90/60 mmHg.
- (B) Os valores das pressões máxima e mínima são iguais ou ultrapassam os 140/90 mmHg (ou 14 por 9).
- (C) Pressão sanguínea igual a 120/80 mmHg.
- (D) Os valores das pressões máxima e mínima ultrapassam os 100/30 mmHg (ou 1 por 3).
- (E) Níveis elevados de colesterol no sangue.

QUESTÃO 35

De acordo com a Lei e 8.142/1990. O Sistema Único de Saúde (SUS), de que trata a Lei nº 8.080, de 19 de setembro de 1990, contará, em cada esfera de governo, sem prejuízo das funções do Poder Legislativo, com as seguintes instâncias colegiadas. Quais das alternativas abaixo é uma dessas instâncias?

- (A) O Parlamento de Saúde.
- (B) O Conselho de Educação.
- (C) A Conferência de Saúde.
- (D) A Assembleia de Bem-Estar.
- (E) O Fórum de Cultura.

QUESTÃO 36

Conforme versa o artigo 198 da Constituição Federal, as ações e serviços públicos de saúde integram uma rede regionalizada e hierarquizada e constituem um sistema único, organizado de acordo com as seguintes diretrizes:

- (A) integração em nível executivo das ações de saúde, meio ambiente e saneamento básico; participação da comunidade; conjugação dos recursos financeiros, tecnológicos, materiais e humanos da União, dos Estados, do Distrito Federal e dos Municípios na prestação de serviços de assistência à saúde da população.
- (B) atendimento integral, com prioridade para as atividades preventivas, sem prejuízo dos serviços assistenciais; universalidade de acesso aos serviços de saúde em todos os níveis de assistência; regionalização e hierarquização da rede de serviços de saúde.
- (C) descentralização, com direção única em cada esfera de governo; atendimento integral, com prioridade para as atividades preventivas, sem prejuízo dos serviços assistenciais; participação da comunidade.
- (D) descentralização, com direção única em cada esfera de governo; a identificação e divulgação dos fatores condicionantes e determinantes da saúde; o incremento, em sua área de atuação, do desenvolvimento científico e tecnológico.
- (E) a assistência às pessoas por intermédio de ações de promoção, proteção e recuperação da saúde, com a realização integrada das ações assistenciais e das atividades preventivas; participação da comunidade; o incremento, em sua área de atuação, do desenvolvimento científico e tecnológico.

QUESTÃO 37

Tanto nas isquemias crônicas quanto nas agudas de MMII, as mais comuns são:

- (A) dormência e formigamento.
- (B) frialdade e esfriamento.
- (C) espontânea e hipóxica.
- (D) claudicante e revascularizada.
- (E) retardada e ruborizada.

QUESTÃO 38

A impotência de ereção, seja pela dificuldade de obtê-la e principalmente pela impossibilidade de manter a ereção peniana, pode ser um dos sintomas dos pacientes com doença arterial. Quando associada à claudicação dos membros inferiores (região glútea, coxa ou panturrilha) e outros sintomas de isquemia, constitui a síndrome de:

- (A) Mirizzi.
- (B) Gardner.
- (C) Irlen.
- (D) Agar.
- (E) Leriche.

QUESTÃO 39

Na Marcha Tabética, o paciente mantém o olhar fixo para o chão, os membros inferiores são levantados abrupta e explosivamente e, ao serem recolocados no chão, os calcanhares tocam o solo pesadamente. Piora com olhos fechados ou torna-se impossível. É um quadro presente em casos de:

- (A) paralisia cerebral.
- (B) hemiplegia isquêmica à esquerda.
- (C) mulheres grávidas.
- (D) *tabes dorsalis*.
- (E) lesão do cerebelo.

QUESTÃO 40

A insuficiência ventricular esquerda ocorre quando o lado esquerdo do coração entra em falência, originando diversos sinais e sintomas, dos quais, não se inclui:

- (A) dispneia.
- (B) estertores pulmonares finos nas bases pulmonares.
- (C) congestão venocapilar pulmonar.
- (D) hepatoesplenomegalia.
- (E) expectoração hemoptoica.

QUESTÃO 41

Os distúrbios do metabolismo do ferro, em especial, sua deficiência, apresentam elevada prevalência na prática clínica. Na investigação desses distúrbios, o resultado isolado da dosagem de ferro sérico tem valor limitado, devendo ser empregada em conjunto com outros testes, como:

I - a determinação da capacidade total de ligação do ferro.

II - a saturação da transferrina.

III - a dosagem da ferritina.

É correto o que se afirma em:

- (A) I, apenas.
- (B) I e II, apenas.
- (C) II e III, apenas.
- (D) III, apenas.
- (E) I, II e III.

QUESTÃO 42

Cálcio é o cátion mais prevalente no corpo humano e 99% dele está depositado nos ossos, sendo apenas 1% remanescente encontra-se no fluido extracelular. São causas de hipercalemia:

- (A) Pancreatite aguda, pseudo-hipoparatiroidismo, uso de drogas como anticonvulsivantes.
- (B) Corticosteroides, calcitonina, gastrina, insulina, glucagon, glicose, sais de magnésio
- (C) Doença de Paget, hiperparatiroidismo, mieloma múltiplo quando as proteínas estão elevadas, neoplasias com metástase óssea, sarcoidose.
- (D) Hipoparatiroidismo idiopático ou cirúrgico, insuficiência renal, nefrose ou outras condições com baixos níveis de proteínas séricas.
- (E) Deficiência de magnésio, deficiência de vitamina D, doenças gastrointestinais que interferem com a absorção de vitamina D ou cálcio.

QUESTÃO 43

A determinação do magnésio tem assumido importância clínica considerável principalmente na neonatologia, onde os distúrbios metabólicos deste íon (hipomagnesemia) são os responsáveis por sinais e sintomas clínicos, frequentemente atribuídos à hipocalcemia. É causa de hipermagnesemia:

- (A) pancreatite aguda.
- (B) uremia.
- (C) estados de má absorção (esteatorreia).
- (D) alcoolismo (principalmente no *delirium tremens*).
- (E) estados de má nutrição como Kwashiorkor.

QUESTÃO 44

A Tuberculose é doença de evolução aguda, subaguda ou crônica que compromete vários órgãos e sistemas, em especial as vias aéreas inferiores. No Brasil, resulta da infecção pelo *Mycobacterium tuberculosis*, transmitida geralmente por inalação, e pelo *Mycobacterium bovis*, veiculada por ingestão de material infectante. Sobre o tema, indique a alternativa correta:

(A) Em trabalhadores expostos a poeiras de sílica e/ou portadores de silicose, a tuberculose e a sílico-tuberculose deverão ser consideradas como doenças relacionadas ao trabalho, do Grupo II da Classificação de Schilling, uma vez que tem sido demonstrado, clínica e epidemiologicamente, que a exposição à sílica pode favorecer a reativação da infecção tuberculosa latente, pois os cristais de sílica no interior dos macrófagos alveolares deprimem sua função fagocitária e aumentam sua destruição.

(B) A Tomografia Computadorizada expande a visão radiográfica e pode revelar lesões não perceptíveis à telerradiografia, inclusive a presença de lesões suspeitas de neoplasia localizadas em áreas de neoformação conjuntiva e fibrose.

(C) O quadro clínico caracteriza-se por tosse, inicialmente produtiva com expectoração intensa e amarelada, com hemoptóicos ou hemoptise, dispneia, dor torácica, perda ponderal, febre e sudorese (geralmente matutina) e dor pleurítica.

(D) Na infecção secundária, devido ao número excessivo de bacilos e/ou à diminuição da capacidade de resposta

imunológica do hospedeiro. Há desequilíbrio imunológico desfavorável ao hospedeiro

(E) Em determinados trabalhadores, a tuberculose pode ser considerada doença relacionada ao trabalho, do Grupo III da Classificação de Schilling, posto que as condições de trabalho podem favorecer a exposição ao *M. tuberculosis* ou ao *M. bovis*, como no caso de trabalhadores em laboratórios de biologia e em atividades que propiciam contato direto com produtos contaminados ou com doentes bacilíferos.

QUESTÃO 45

Sobre as ondas eletrocardiográficas, “q” é assim descrita:

(A) é qualquer deflexão positiva.

(B) é uma deflexão negativa precedida de uma deflexão positiva.

(C) é uma deflexão negativa inicial, seguida de deflexão positiva.

(D) é uma deflexão exclusivamente negativa. Às vezes pode aparecer em forma de W.

(E) é o espaço que vai de uma onda a outra sem incluí-la.

QUESTÃO 46

A Dengue é doença aguda febril, endemo-epidêmica, causada por um dos Flavivírus do dengue (família *Togaviridae*), com quatro tipos sorológicos (1, 2, 3 e 4). Sobre a doença indique a alternativa correta:

(A) Após repasto de sangue infectado, o mosquito estará apto a transmitir o vírus após 3 dias de incubação extrínseca.

(B) O período de transmissibilidade ocorre durante o período de viremia, que começa três dias antes da febre até o décimo dia da doença.

(C) A dengue pode ser considerado como doença relacionada ao trabalho, do Grupo I da Classificação de Schilling.

(D) A dengue relacionado ao trabalho tem sido descrito em trabalhadores que exercem atividades em zonas endêmicas, em trabalhos de saúde pública e em laboratórios de pesquisa, entre outras atividades em que a exposição ocupacional pode ser identificada.

(E) O hemograma, na doença ativa, revela leucocitose e linfopenia.

QUESTÃO 47

Sobre o Câncer de Pulmão relacionado ao trabalho, analise os itens:

I - A exposição ocupacional ao asbesto – a mais importante na produção de câncer pulmonar relacionado ao trabalho – produz um aumento de 3 a 4 vezes o risco de ocorrência do adenocarcinoma pulmonar em trabalhadores não-fumantes e do carcinoma de células escamosas em trabalhadores fumantes (risco 3 vezes superior ao risco de fumantes não-expostos ao amianto).

II - Estudos epidemiológicos rigorosos têm demonstrado, a partir da década de 50, a importância do cromo hexavalente, ou seja, íon cromo na valência 6+ ou CrVI, na etiologia do câncer de pulmão. A exposição se dá, particularmente na produção do cromo, nas névoas dos tanques de cromagem, pigmentos de tintas, como cromatos de chumbo e zinco, fumos de solda provenientes de metais com alto teor de cromo, como aço inoxidável nos processos de galvanoplastia e na indústria de ferro-cromo.

III - O câncer de pulmão pode ser classificado como doença relacionada ao trabalho, do Grupo III da Classificação de Schilling, sendo o trabalho considerado como fator de risco associado com a etiologia multicausal do câncer de pulmão.

É correto o que se afirma em:

- (A) I, apenas.
- (B) I e II, apenas.
- (C) II e III, apenas.
- (D) III, apenas.
- (E) I, II e III.

QUESTÃO 48

Da classificação de Schilling, para doenças ocupacionais, enquadra-se no grupo I:

- (A) Dermatite de contato alérgica.
- (B) Asma.
- (C) Doenças do aparelho locomotor.
- (D) Doença coronariana.
- (E) Intoxicação por chumbo.

QUESTÃO 49

A anemia produzida pelo chumbo constitui apenas uma das muitas manifestações do quadro clínico de intoxicação crônica por esse metal, entre elas, dor abdominal, nefropatia, hipertensão arterial, alterações espermáticas, neuropatia periférica e encefalopatia. Em adultos, a anemia (e sua sintomatologia) pode ser observada com níveis de chumbo sanguíneo acima de:

- (A) 10 µg/100 ml.
- (B) 20 µg/100 ml.
- (C) 30 µg/100 ml.
- (D) 40 µg/100 ml.
- (E) 50 µg/100 ml.

QUESTÃO 50

A doença renal hipertensiva faz parte do processo de envelhecimento normal, mas pode ser exacerbada pela hipertensão arterial e por condições subjacentes, como o diabetes mellitus. Sua relação causal com o trabalho ligada às condições de trabalho estressogênicas, está associada com:

- (A) exposição ao mercúrio.
- (B) efeito aterogênico sobre a parede dos vasos, como é o caso típico do sulfeto de carbono.
- (C) efeitos produzidos pelo chumbo.
- (D) conflitos no trabalho, exposição ao ruído.
- (E) efeitos de constrição arteriolar diretamente sobre a vasculatura do rim.

