

AVANÇASP

Rio CLARO
AMOR PELA CIDADE

Fundação Municipal
de Saúde



FUNDAÇÃO MUNICIPAL DE SAÚDE DE
RIO CLARO/SP

CONCURSO PÚBLICO
EDITAL Nº 02/2023

MÉDICO ESPECIALISTA PEDIATRA

Leia atentamente as instruções abaixo

1. PROVA E FOLHA DE RESPOSTAS

Além deste Caderno de Prova, contendo 50 (cinquenta) questões objetivas, você receberá do Fiscal de Sala:

- 01 (uma) Folha de Respostas destinada às respostas das questões objetivas. Confira se seus dados estão corretos.

2. TEMPO

- 03 (três) horas é o tempo disponível para realização da prova, já incluído o tempo para marcação da Folha de Respostas da prova objetiva;

- **01 (uma) hora** após o início da prova é possível, retirar-se da sala levando o caderno de prova;

3. INFORMAÇÕES GERAIS

- As questões objetivas têm 05 (cinco) alternativas de resposta (A, B, C, D, E) e somente **uma** delas está correta;
- Verifique se seu caderno está completo, sem repetição de questões ou falhas. Caso contrário, informe imediatamente o Fiscal da Sala, para que sejam tomadas as devidas providências;
- Confira seus dados pessoais na Folha de Respostas, especialmente nome, número de inscrição e documento de identidade e leia atentamente as instruções para preenchimento;
- O preenchimento das respostas da prova objetiva é de sua responsabilidade e não será permitida a troca de Folha de Respostas em caso de erro de marcação pelo candidato;

- Marque, na folha de respostas, com caneta de tinta azul ou preta, a letra correspondente à alternativa que você escolheu.

- Reserve tempo suficiente para o preenchimento de suas respostas. Para fins de avaliação, serão levadas em consideração apenas as marcações realizadas na Folha de Respostas da prova objetiva, não sendo permitido anotar informações relativas às respostas em qualquer outro meio que não seja o caderno de prova;

- Ao se retirar, entregue a Folha de Respostas preenchida e assinada ao Fiscal de Sala.

SERÁ ELIMINADO do presente certame o candidato que:

- a) for surpreendido, durante as provas, em qualquer tipo de comunicação com outro candidato;
- b) portar ou usar, qualquer tipo de aparelho eletrônico (calculadoras, bips/pagers, câmeras fotográficas, filmadoras, telefones celulares, smartphones, tablets, relógios, walkmans, MP3 players, fones de ouvido, agendas eletrônicas, notebooks, palmtops ou qualquer outro tipo de computador portátil, receptores ou gravadores) seja na sala de prova, sanitários, pátios ou qualquer outra dependência do local de prova;
- c) se ausentar da sala em que se realizam as provas levando consigo o Caderno de Questões e/ou a Folha de Respostas;
- d) se recusar a entregar a Folha de Respostas, quando terminar o tempo estabelecido;
- e) não assinar a Lista de Presença e/ou a Folha de Respostas.

LÍNGUA PORTUGUESA

TEXTO

Caso de divórcio (I)

O divórcio é necessário. Todos conhecem dezenas de casos que convenceriam até um arcebispo. Eu mesmo conheço meia dúzia. Vou contar uns três ou quatro. O nome dele é Morgadinho. Baixo, retaco, careca precoce. Você conhece o tipo. No carnaval se fantasia de legionário romano e no futebol de praia dá pau que não é fácil. Frequenta o clube e foi lá que conheceu sua mulher, mais alta do que ele, morena, linda, as unhas do pé pintadas de roxo. Na noite de núpcias, ele lhe declarou.

— Se você algum dia me enganar, eu te esgoelo.

— Ora, Morgadinho...

Ela se chama Fátima Araci. Ou é Mara Sirlei? Não, Fátima Araci. Não é que ela não goste do Morgadinho, é que nunca prestou muita atenção no marido. Na cerimônia do casamento já dava para notar. O olhar dela passava dois centímetros acima da careca do Morgadinho. Ela estava maravilhada com o próprio casamento e o Morgadinho era um simples acessório daquele dia inesquecível. Como um castiçal ou um coroinha. No álbum de fotografias do casamento que ela guardou junto com a grinalda, há esta constatação terrível: o Morgadinho não aparece. Aparece o coroinha mas não aparece o Morgadinho. Um ou dois meses depois do casamento, o Morgadinho sugeriu que ela lhe desse um apelido. Um nome secreto, carinhoso, para ser usado na intimidade, algo que os unisse ainda mais, sei lá. Ela prometeu que ia pensar no assunto. O Morgadinho insistiu.

— Eu te chamo de Fafá e você me chama de qualquer coisa.

— Vamos ver.

Uma semana depois, Morgadinho voltou ao assunto.

— Já pensaste num apelido para mim, Fafá?

— Ainda não.

Três semanas depois, ele mesmo deu um palpite.

— Quem sabe Momo?

— Não.

— Gagá? Fofura? — Tomou coragem e, rindo meio sem jeito, arriscou:

— Tigre?

Ela nem riu. Pediu que ele tivesse paciência. Estava lendo o Sétimo Céu. Tinha tempo. O Morgadinho não desistiu. Às vezes, chegava em casa com uma novidade.

— Que tal este: “Barrilzinho”?

— Não gosto.

Outra vez, os dois estavam passando por um quintal e ouviram uma criança chamando um cachorro.

— Pitoco. Vem, Pitoco.

Morgadinho virou-se para a mulher, cheio de esperança, mas ela fez que não com a cabeça. Finalmente (passava um ano do casamento e nada de apelido), Morgadinho perdeu a paciência. Estavam os dois na cama. Ela pintava as unhas do pé.

— Você não me ama.

— Ora, Morgadinho...

— Até hoje não pensou num apelido para mim.

— Está bem, sabe o que tu és? Um xaropão. Taí teu apelido. Xaropão.

O Morgadinho já tinha enfrentado várias levaras de policiais a tapa. Uma vez desmontara um bar depois de um mal-entendido e saíra para a rua dando cadeiradas em meio mundo. Homens, mulheres e crianças. Mas naquela noite virou-se para o lado e chorou no travesseiro. Aí a mulher, com cuidado para não estragar o esmalte, chegou perto do seu ouvido e disse, rindo:

— Xaropãozinho... — Rindo. Rindo!

Luís Fernando Verissimo. *Ed Mort – todas as histórias*. 1ª Ed. São Paulo: Objetiva, 2011.

QUESTÃO 01

No texto Caso de divórcio (I), o humor é desencadeado por uma situação em que não há reciprocidade aparente entre um casal, em relação ao uso de apelidos carinhosos. Depois de diversas cobranças, a esposa dá o apelido ao marido de ‘Xaropão’. No entanto, há uma quebra de expectativa quando:

- (A) Morgadinho se chateia e chora no travesseiro.
- (B) a esposa acrescenta à palavra o diminutivo, que remete a um apelido carinhoso.
- (C) Morgadinho enfrenta policiais.
- (D) a esposa simplesmente o ignora para não estragar o esmalte.
- (E) Morgadinho sai para a rua dando cadeiradas em todo mundo.

QUESTÃO 02

O uso da palavra “xarope” retratado no texto exprime um sentido:

- (A) figurativo, de pessoa que causa aborrecimento.
- (B) literal, de líquido medicamentoso utilizado para fins terapêuticos.
- (C) literal, de líquido doce e concentrado utilizado para fins culinários.
- (D) figurativo, de pessoa pouco inteligente.
- (E) figurativo, de líquido alcoólico, como aguardente.

QUESTÃO 03

Considere as seguintes sentenças, retiradas do texto:

- I. “No carnaval se fantasia de legionário romano e no futebol de praia dá pau que não é fácil.”
- II. “— Se você algum dia me enganar, eu te esgoelo.”

Nas sentenças dadas, a palavra “se” atua, respectivamente, como:

- (A) pronome reflexivo e conjunção integrante.
- (B) conjunção integrante e conjunção condicional.
- (C) pronome reflexivo e conjunção condicional.
- (D) pronome reflexivo e pronome reflexivo.
- (E) conjunção integrante e conjunção integrante.

QUESTÃO 04

Considere as palavras I. fofura e II. barrilzinho, que ocorrem no texto. As palavras dadas apresentam marcas que indicam tipos de processos de formação. Assinale a alternativa que classifica corretamente os elementos -ura e -inho, que ocorrem respectivamente nas palavras I e II, e o tipo de processo ao qual esses elementos são relacionados.

- (A) elementos mórficos de composição por aglutinação.
- (B) elementos mórficos de composição por justaposição.
- (C) prefixos de derivação.
- (D) sufixos de derivação.
- (E) morfemas de flexão de número.

QUESTÃO 05

Considere o seguinte excerto: “Uma vez desmontara um bar depois de um mal-entendido e saíra para a rua dando cadeiradas em meio mundo.” Neste contexto, os verbos ‘desmontara’, ‘saíra’ e ‘dando’ apresentam, respectivamente, as conjugações:

- (A) pretérito mais-que-perfeito do modo indicativo, pretérito mais-que-perfeito do modo indicativo e gerúndio.
- (B) pretérito imperfeito do modo indicativo, pretérito mais-que-perfeito do modo indicativo e gerúndio.
- (C) pretérito mais-que-perfeito do modo indicativo, pretérito perfeito do modo indicativo e gerúndio.
- (D) pretérito mais-que-perfeito do modo indicativo, pretérito mais-que-perfeito do modo indicativo e imperativo.
- (E) pretérito perfeito do modo indicativo, pretérito perfeito do modo indicativo e participípio.

QUESTÃO 06

Considere as seguintes sentenças, retiradas do texto:

- I. “Mas naquela noite virou-se para o lado e chorou no travesseiro.”
- II. “Você não me ama.”

Nas sentenças dadas, a colocação pronominal ocorre, respectivamente, como:

- (A) mesóclise e próclise.
- (B) mesóclise e ênclise.
- (C) próclise e ênclise.
- (D) ênclise e ênclise.
- (E) ênclise e próclise.

QUESTÃO 07

Considere as seguintes sentenças, retiradas do texto:

- I. “Todos conhecem dezenas de casos que convenceriam até um arcebispo.”
- II. “Na noite de núpcias, ele lhe declarou.”
- III. “Taí teu apelido. Xaropão.”

As sentenças dadas apresentam diferentes tipos de pronomes. Ocorre pronome indefinido apenas em:

- (A) I.
- (B) II.
- (C) III.
- (D) I e II.
- (E) II e III.

QUESTÃO 08

Assinale a alternativa em que todas as palavras são proparoxítonas.

- (A) prato, enfermo, colocação.
- (B) aviso, diáspora, gentil.
- (C) abrasivo, lápis, pé.
- (D) cântico, sábado, cinéfilo.
- (E) rito, efêmero, fugaz.

QUESTÃO 09

Considere as seguintes sentenças:

- I. Mesmo que tenhamos feito as pazes, nada será como antes.
- II. Ela se deu bem na prova, embora não tenha estudado.
- III. Apesar dos momentos ruins, este ano foi cheio de realizações.

Nas sentenças dadas, as orações subordinadas que apresentam as expressões “mesmo que”, “embora” e “apesar de” exprimem o mesmo sentido. Este sentido é:

- (A) condicional.
- (B) adversativo.
- (C) causal.
- (D) temporal.
- (E) concessivo.

QUESTÃO 10

Assinale a alternativa que apresenta a sentença correta em relação ao emprego da crase.

- (A) Diga àquela aluna que não teremos aula amanhã.
- (B) Já conversamos quanto à isso.
- (C) A empresa comunicou que não haverá doações à asilos neste ano.
- (D) Fazer tudo isso à que custo?
- (E) Esta máquina funciona à vapor.

MATEMÁTICA E RACIOCÍNIO LÓGICO**QUESTÃO 11**

Uma loja de materiais de construções vai fazer uma entrega de areia num caminhão que comporta no máximo 5 m^3 de volume de material. Sabendo-se que cada m^3 de areia pesa 1,5 tonelada, quantas toneladas de areia serão utilizadas para preencher 80% da capacidade do caminhão?

- (A) 7,5 toneladas.
- (B) 7,0 toneladas.
- (C) 6,0 toneladas.
- (D) 5,5 toneladas.
- (E) 5,0 toneladas.

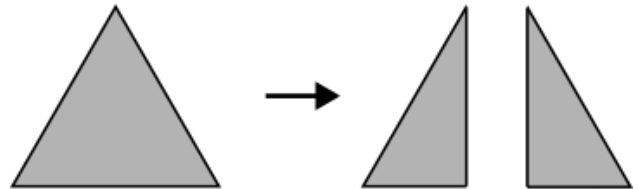
QUESTÃO 12

Um acionista investiu R\$50.000,00 num investimento a juro simples rendendo R\$ 1.000,00 todo mês. Qual a taxa de juros anual do investimento?

- (A) 2%.
- (B) 12%.
- (C) 15%.
- (D) 20%.
- (E) 24%.

QUESTÃO 13

Uma folha de papel em formato de triângulo equilátero de lado a é cortada ao longo de uma das suas medianas, conforme a figura.



Indique o perímetro de cada um dos triângulos formados após o corte:

- (A) $\frac{a\sqrt{3}}{2}$.
- (B) $\frac{a}{4}(3 + \sqrt{3})$.
- (C) $3a$.
- (D) $\frac{3a}{2}$.
- (E) $\frac{a}{2}(3 + \sqrt{3})$.

QUESTÃO 14

Uma unidade muito comum utilizada na astronomia para medir a distância entre astros é a unidade ‘ano-luz’. Que corresponde à distância percorrida pela luz em um ano. Sabendo-se que a velocidade da luz é tal que ela percorre aproximadamente 300 milhões de metros a cada segundo, qual o equivalente de 1 ano-luz em quilômetros, assumindo esta velocidade? Considere 1 ano com aproximadamente 31,5 milhões de segundos, e indique o número mais próximo:

- (A) 95 trilhões.
- (B) 9.5 trilhões.
- (C) 950 bilhões.
- (D) 95 bilhões.
- (E) 9.5 bilhões.

QUESTÃO 15

A tabela abaixo mostra o resultado da pontuação de uma competição de tiro ao alvo entre 3 competidores de países diferentes. Cada jogador tem 5 tentativas. A cada tentativa ele obtém uma determinada quantidade de pontos. Após as 5 tentativas, sua pontuação final é a média das pontuações das 5 tentativas. Ganha quem tiver a maior média final.

	BRA	EUA	CHI
Tentativa 1	80	90	60
Tentativa 2	60	80	65
Tentativa 3	80	50	60
Tentativa 4	90	55	80
Tentativa 5	40	90	90

Sabendo que os pontos são sempre múltiplos de 5, quantos pontos a mais o competidor do BRA deveria ter tirado na Tentativa 5 para que ganhasse a competição?

- (A) 5.
- (B) 10.
- (C) 15.
- (D) 20.
- (E) 25.

QUESTÃO 16

Uma sorveteria possui uma máquina de sorvetes que produz 20 litros de sorvete por hora. Para atender à demanda do verão, eles decidem comprar outra máquina mais moderna que agora produz 40 litros por hora. Porém, devido a um problema no resfriamento, cada máquina está perdendo 10% da sua produção por hora. Nessas condições, quantas horas serão necessárias para fabricar 810 litros de sorvete utilizando ambas as máquinas?

- (A) 15 horas.
- (B) 16 horas.
- (C) 17 horas.
- (D) 18 horas.
- (E) 19 horas.

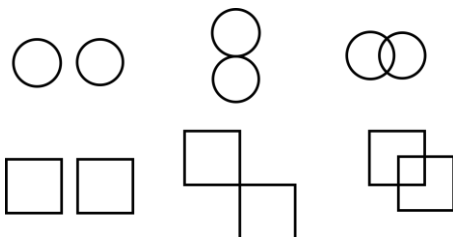
QUESTÃO 17

Um caminhão-cegonha é um caminhão utilizado para transportar outros carros de pequeno porte. Uma empresa de locação de carros precisa transportar 60 carros do Tipo A, 40 carros do tipo B e 100 carros do tipo C num caminhão-cegonha, que tem capacidade máxima de 10 carros por viagem. Em todas as viagens, o caminhão deve levar sempre x carros do tipo A, y carros do tipo B e z carros do tipo C. Qual deve ser o valor de z para que o caminhão dê o mínimo de viagens possível?


- (A) 1.
- (B) 2.
- (C) 3.
- (D) 4.
- (E) 5.

QUESTÃO 18

Observe as seguintes sequências figurais:



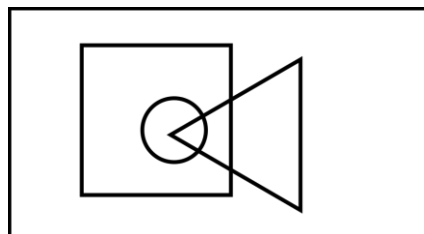
De acordo com as correspondências abaixo, indique as possíveis sequências que seguem a mesma lógica:



- (A) Somente I.
- (B) I e II.
- (C) I e III.
- (D) II e III.
- (E) I, II e III.

QUESTÃO 19

No diagrama lógico abaixo, o retângulo maior representa todos os profissionais. O quadrado representa todos os pedreiros, o círculo representa todos os encanadores e o triângulo representa todos os eletricitas:



Em seguida, observe as seguintes afirmativas:

- I - Há pedreiros que também são eletricitas;
- II – Todo encanador também é eletricitista;
- III - Todo encanador também é pedreiro;
- IV – Não há eletricitas que também são encanadores.

Com base no diagrama, as afirmativas corretas são:

- (A) Somente I.
- (B) I e II.
- (C) I e III.
- (D) II, III e IV.
- (E) III e IV.

QUESTÃO 20

Uma estudante escreve 4 folhas a cada dia que estuda. Ela usa cadernos de 98 folhas limpas, e termina de usar o caderno quando ele tem menos de 4 folhas disponíveis (limpas) para o seu uso. Sabendo que ela estuda somente em dias úteis, quantos cadernos ela precisará durante um ano, considerando que o ano tem 251 dias úteis.

- (A) 8.
- (B) 9.
- (C) 10.
- (D) 11.
- (E) 12.

**NOÇÕES DE INFORMÁTICA
QUESTÃO 21**

Em se tratando de MS-Windows 7, assinale a alternativa que apresenta o atalho para abrir o menu Iniciar:

- (A) Ctrl + R.
- (B) Ctrl + Esc.
- (C) Ctrl + V.
- (D) Ctrl + W.
- (E) Caps + U.

QUESTÃO 22

Sobre a função “responder” no MS-Outlook 2016, é possível afirmar:

- (A) O texto original do remetente não será mantido.
- (B) Ao clicar em "Responder", o Outlook abrirá uma nova janela de composição de e-mail com o endereço de e-mail do remetente já preenchido no campo "Para:".
- (C) O anexo será mantido na mensagem.
- (D) O campo “Assunto” não será preenchido automaticamente.
- (E) O campo “Para” deverá ser preenchido.

QUESTÃO 23

O Microsoft Outlook é principalmente uma ferramenta de comunicação e gerenciamento de informações pessoais, e muitas tarefas específicas exigem software dedicado para serem realizadas com eficiência. São funções do MS-Outlook 2016, EXCETO:

- (A) Enviar e Receber E-mails.
- (B) Desenvolvimento de Software.
- (C) Agendar Compromissos e Reuniões.
- (D) Gerenciar Contatos.
- (E) Arquivar E-mails e Organizar Pastas.

QUESTÃO 24

Roberto trabalha em um escritório de contabilidade, e precisa entregar uma Nota Fiscal que está em arquivo PDF para o seu cliente, para isso, ele deve:

- (A) Digitalizar o documento, que envolve a conversão de uma cópia física em um formato digital, geralmente um arquivo PDF, imagem ou texto.
- (B) Digitalizar o documento, que envolve a conversão de uma cópia digital em um formato físico.
- (C) Imprimir o documento, que envolve a criação de uma cópia física em papel ou outro meio impresso.
- (D) Imprimir o documento, que envolve a conversão de uma cópia física em um formato digital, geralmente um arquivo PDF, imagem ou texto.
- (E) Digitalizar o documento, que envolve a criação de uma cópia física em papel ou outro meio impresso.

QUESTÃO 25

Leia o trecho abaixo e assinale a alternativa que complete corretamente a lacuna:

O _____ é um serviço de armazenamento em nuvem que permite aos usuários armazenar, sincronizar e compartilhar arquivos e documentos online. Ele oferece a capacidade de acessar seus arquivos a partir de qualquer dispositivo com conexão à internet e facilita a colaboração em documentos compartilhados.

- (A) Microsoft OneDrive.
- (B) Microsoft Excel.
- (C) Microsoft OneNote.
- (D) Microsoft Outlook.
- (E) Microsoft Word.

**CONHECIMENTOS ESPECÍFICOS
QUESTÃO 26**

De acordo a Lei nº 8.080/1990 que dispõe sobre as condições para a promoção, proteção e recuperação da saúde, a organização e o funcionamento dos serviços correspondentes e dá outras providências. Complete a lacuna:

A saúde é um _____ do ser humano, devendo o Estado prover as condições indispensáveis ao seu pleno exercício.

- (A) direito suplementar
- (B) direito subordinado ao direito à educação
- (C) direito fundamental
- (D) direito voluntário
- (E) direito exclusivo dos profissionais de saúde

QUESTÃO 27

Assinale a alternativa que completa corretamente as lacunas.

_____ Trata-se de um tipo de demência, mas que provoca uma deterioração progressiva, global e irreversível de algumas funções cognitivas. A memória é a mais afetada, porém, os sintomas também surgem na dificuldade de lidar com a concentração, na falta de atenção, na dificuldade de articular o pensamento e usar a linguagem etc.

_____ é degenerativa e progressiva, afetando partes cerebrais. Ela altera principalmente os movimentos do corpo, provocando tremor, lentidão, desequilíbrio, falta de reflexo e até rigidez involuntária dos músculos.

_____ É uma espécie de derrame cerebral, e os sintomas incluem problemas para andar, falar ou até mesmo compreender coisas simples. Pode ocorrer paralisia ou dormência da face, da perna ou do braço — geralmente, em um lado do corpo. Quando acontece, provoca dificuldade de fala, de compreensão e de alimentação, por exemplo.

- (A) Parkinson - Alzheimer - Acidente Vascular Cerebral (AVC)
- (B) Parkinson - Acidente Vascular Cerebral (AVC) - Alzheimer
- (C) Alzheimer – Parkinson - Acidente Vascular Cerebral (AVC)
- (D) Acidente Vascular Cerebral (AVC) - Alzheimer - Parkinson
- (E) Acidente Vascular Cerebral (AVC) - Parkinson - Alzheimer

QUESTÃO 28

Analise os itens a seguir atribuindo (V) para Verdadeira e (F) para Falsa, em seguida assinale a alternativa com a sequência correta.

Há vários fatores que influenciam nos níveis de **pressão arterial**, entre eles:

- () Obesidade;
 - () Níveis altos de colesterol;
 - () Falta de atividade física.
- (A) V- F -V
(B) F- V- V
(C) V- V -F
(D) V -V -V
(E) F -F -V

QUESTÃO 29

Complete a lacuna e assinale a alternativa correta de acordo com a Lei Federal 8.142/1990.

O Conselho de Saúde, em _____ e deliberativo, órgão colegiado composto por representantes do governo, prestadores de serviço, profissionais de saúde e usuários, atua na formulação de estratégias e no controle da execução da política de saúde na instância correspondente, inclusive nos aspectos econômicos e financeiros, cujas decisões serão homologadas pelo chefe do poder legalmente constituído em cada esfera do governo.

- (A) caráter permanente
- (B) caráter temporário
- (C) caráter deliberativo
- (D) caráter normativo
- (E) caráter executivo

QUESTÃO 30

Analise os itens a seguir de acordo com o **Reanimação Cardiopulmonar** atribuindo (V) para Verdadeira e (F) para Falsa, em seguida assinale a alternativa com a sequência correta.

São procedimentos corretos para procedimento de reanimação:

- () Verificar os sinais de respiração por meio de sons ou movimentos do tórax. Se a pessoa não respira ou sofre para respirar, deite-a de barriga para baixo em uma superfície rígida;
 - () Ajoelhe-se ao lado da vítima, na altura dos ombros dela, e localize o centro do tórax, entre os mamilos;
 - () Posicione os braços estendidos com os dedos entrelaçados, colocando uma mão sobre a outra, apoiando-se no centro do peito;
- (A) V- F -F
(B) F- V- V
(C) V- F -V
(D) V -V -V
(E) F -V -F

QUESTÃO 31

Complete a lacuna de acordo com a Constituição da República Federativa do Brasil.

A seguridade social compreende um conjunto integrado de ações de iniciativa dos Poderes Públicos e da sociedade, destinadas a assegurar os _____ direitos _____ relativos _____.

- (A) à saúde, à previdência e à assistência social.
- (B) à educação, à saúde e à assistência social.
- (C) à previdência, livre iniciativa e à assistência social.
- (D) à assistência comunitária, à educação e o empreendedorismo.
- (E) à assistência médica, à educação e ao bem-estar social.

QUESTÃO 32

De acordo a Lei Federal 8.080. analise as afirmativas abaixo atribuindo (V) para Verdadeira e (F) para Falsa, em seguida assinale a alternativa com a sequência correta.

() O Conselho Nacional de Secretários de Saúde (Conass) e o Conselho Nacional de Secretarias Municipais de Saúde (Conasems) são reconhecidos como entidades representativas dos entes estaduais e municipais para tratar de matérias referentes à saúde e declarados de utilidade pública e de relevante função social, na forma do regulamento.

() O Conass e o Conasems receberão recursos do orçamento geral da União por meio do Fundo Nacional de Saúde, para auxiliar no custeio de suas despesas institucionais, podendo ainda celebrar convênios com a União.

() Os Conselhos de Secretarias Municipais de Saúde (Cosems) são reconhecidos como entidades que representam os entes municipais, no âmbito estadual, para tratar de matérias referentes à educação, desde que vinculados institucionalmente ao Conasems, na forma que dispuserem seus estatutos.

- (A) V- F -F
- (B) F- V- V
- (C) V- F -V
- (D) V -V -V
- (E) V -V -F

QUESTÃO 33

Analise os itens abaixo de acordo com a Lei e 8.142/1990.

Os recursos do Fundo Nacional de Saúde (FNS) serão alocados como:

I - despesas de custeio e de capital do Ministério da Saúde, seus órgãos e entidades, da administração direta apenas.

II - investimentos previstos no Plano anual do Ministério da Saúde.

III - cobertura das ações e serviços de saúde a serem implementados pelos Municípios, Estados e Distrito Federal.

IV - investimentos previstos em lei orçamentária, de iniciativa do Poder Legislativo e aprovados pelo Congresso Nacional.

Está(ão) incorreta(s) a(s) assertiva(s):

- (A) I, II e III apenas.
- (B) I e II apenas.
- (C) II e IV apenas.
- (D) II, III e IV apenas
- (E) I, II, III e IV.

QUESTÃO 34

Assinale a alternativa correta. A hipertensão arterial ou pressão alta é uma doença crônica caracterizada pelos níveis elevados da pressão sanguínea nas artérias. Ela acontece quando:

- (A) Pressão sanguínea abaixo de 90/60 mmHg.
- (B) Os valores das pressões máxima e mínima são iguais ou ultrapassam os 140/90 mmHg (ou 14 por 9).
- (C) Pressão sanguínea igual a 120/80 mmHg.
- (D) Os valores das pressões máxima e mínima ultrapassam os 100/30 mmHg (ou 1 por 3).
- (E) Níveis elevados de colesterol no sangue.

QUESTÃO 35

De acordo com a Lei e 8.142/1990. O Sistema Único de Saúde (SUS), de que trata a Lei nº 8.080, de 19 de setembro de 1990, contará, em cada esfera de governo, sem prejuízo das funções do Poder Legislativo, com as seguintes instâncias colegiadas. Quais das alternativas abaixo é uma dessas instâncias?

- (A) O Parlamento de Saúde.
- (B) O Conselho de Educação.
- (C) A Conferência de Saúde.
- (D) A Assembleia de Bem-Estar.
- (E) O Fórum de Cultura.

QUESTÃO 36

Para a investigação dos casos de intoxicação exógena, é importante levar em consideração categorias de classificação. Assinale a alternativa que apresenta a categoria “reação adversa”:

- (A) Indivíduo com antecedente comprovado de exposição a substância química, com manifestação clínica ou alteração laboratorial que evidenciem a intoxicação por substâncias químicas.
- (B) Indivíduo com história pregressa ou atual de exposição a substâncias químicas que não apresente sinal, sintoma clínico ou alterações laboratoriais.
- (C) Resposta nociva e não intencional a um medicamento relacionada a qualquer dose.
- (D) Quando o diagnóstico não está relacionado somente à exposição ou à contaminação.
- (E) Conjunto de sinais e de sintomas que ocorrem depois da diminuição ou da interrupção do uso de uma substância (medicamento, droga de abuso etc.).

QUESTÃO 37

Alguns parâmetros indicam gravidade em um episódio de sangramento digestivo, principalmente quando ocorrem associados à HDA, como descrito abaixo. Estes sinais de gravidade também indicam necessidade de avaliação de endoscopia de urgência, exceto:

- (A) Associação de melena ou hematoquezia.
- (B) Diminuição de 20 batimentos por minuto em relação à média para a faixa etária em questão.
- (C) Prolongamento do tempo de enchimento capilar (acima de três segundos).
- (D) Queda da hemoglobina acima de 2 g/dl.
- (E) Necessidade de transfusão de hemoderivados considerando Hg menor que 8 g/dl.

QUESTÃO 38

De acordo com a OMS, a doença diarreica pode ser classificada em três categorias. Assinale a alternativa correspondente à diarreia persistente:

- (A) Diarreia que pode durar até 14 dias e determina perda de grande volume de fluidos e pode causar desidratação.
- (B) Pode ser causada por bactérias e vírus, na maioria dos casos. A desnutrição eventualmente pode ocorrer se a alimentação não é fornecida de forma adequada e se episódios sucessivos acontecem.
- (C) É caracterizada pela presença de sangue nas fezes.
- (D) Representa lesão na mucosa intestinal. Pode associar-se com infecção sistêmica e outras complicações, incluindo desidratação.
- (E) Quando a diarreia aguda se estende por 14 dias ou mais. Pode provocar desnutrição e desidratação. Pacientes que evoluem para essa categoria constituem um grupo com alto risco de complicações e elevada letalidade.

QUESTÃO 39

Assinale a alternativa correspondente ao indicador que estima o risco de um feto nascer sem qualquer sinal de vida ou, nascendo vivo, morrer na primeira semana, e corresponde ao número de óbitos ocorridos no período perinatal por mil nascimentos totais, na população residente em determinado espaço geográfico, no ano considerado.

- (A) Indicador de nascidos vivos.
- (B) Indicador de mortalidade perinatal infantil.
- (C) Indicador de mortalidade infantil prematura.
- (D) Taxa de mortalidade pós-nascimento.
- (E) Taxa de mortalidade perinatal.

QUESTÃO 40

A Taxa de mortalidade neonatal corresponde ao:

- (A) Número de óbitos de residentes até 27 dias de idade por mil nascidos vivos de mães residentes.
- (B) Número de óbitos de residentes com menos de cinco anos de idade por mil nascidos vivos de mães residentes.
- (C) Soma do número de óbitos de residentes de 0 a 6 dias de idade e de óbitos fetais com 22 semanas ou mais de gestação pela soma de nascidos vivos e de óbitos fetais com 22 semanas ou mais de gestação.
- (D) Número de óbitos de residentes de 28 a 364 dias de idade por mil nascidos vivos de mães residentes.
- (E) Número de óbitos de residentes com menos de 1 ano de idade por mil nascidos vivos de mães residentes.

QUESTÃO 41

De acordo com a Sociedade Brasileira de Pediatria, assinale a alternativa incorreta:

- (A) O período da vida entre a gestação e os 2 anos de idade da criança (1.000 dias) é crítico para a promoção do crescimento e do desenvolvimento do indivíduo, devido à acentuada velocidade de divisão celular.
- (B) O leite de vaca não está indicado para o lactente, por seu excesso de proteína, sódio, potássio e cloro e pela falta de vitaminas, ferro e ácidos graxos poli-insaturados de cadeias longas (L-PUFAS, que são precursores do ômega 3 e 6). O alto índice de proteína está associado à maior carga de soluto renal, a alterações da microbiota intestinal e ao aumento da prevalência da obesidade.
- (C) Iniciar outros alimentos para crianças em aleitamento materno exclusivo somente após 6 meses de idade para recém-nascidos que nasceram a termo. Para os prematuros, a introdução pode ser postergada, de acordo com o monitoramento de seu crescimento e seu desenvolvimento.
- (D) A aquisição de hábitos alimentares saudáveis é determinante para a saúde do indivíduo. O sal, além de aumentar o risco de hipertensão arterial no futuro, modula a percepção das papilas gustativas, e, com isso, as crianças desenvolvem preferências alimentares por alimentos ricos nesse produto.
- (E) Aquelas crianças que manifestam dificuldades alimentares ou estejam sendo submetidas à dieta vegetariana ou de outros tipos restritivos, por preferências familiares, necessitam ser acompanhadas de modo ainda mais frequente, para sua segurança. Nesse contato, são promovidas as abordagens pertinentes e realizadas suplementações de vitaminas e minerais mais presentes em fontes animais (cálcio, ferro, zinco e vitaminas D, B1, B2, B6 e B12), os quais são necessários para assegurar crescimento e desenvolvimento adequados.

QUESTÃO 42

Assinale a alternativa que apresenta uma função correspondente à esfingomielina (membrana dos glóbulos de gordura), que compõe o leite materno:

- (A) Amadurecimento do trato gastrointestinal.
- (B) Promoção do desenvolvimento visual e neurocomportamental de recém-nascidos de baixo peso ao nascer.
- (C) Utilização de glicose periférica.
- (D) Principal fonte de cálcio e fósforo.
- (E) Efeitos antimicrobiano, imunomodulador, antitrombótico, anti-hipertensivo.

QUESTÃO 43

A estratificação de risco da criança como risco habitual, intermediário ou alto significa um maior conhecimento de sua situação de saúde e clareza sobre suas diferentes necessidades, possibilitando:

I - Planejar as ações de cuidado, definindo as atividades, a periodicidade, a responsabilidade e os recursos necessários de maneira coerente com as necessidades de cada estrato de risco.

II - Definir e dimensionar os serviços logísticos e de apoio necessários para o cuidado.

III - Evitar “a suboferta de cuidados necessários a pessoas de maior risco e/ou sobreoferta de cuidados desnecessários a pessoas de menor risco, produzindo, por consequência, uma atenção inefetiva e ineficiente”. Isso porque os serviços e profissionais especializados, por exemplo, podem se ocupar do cuidado de crianças de risco habitual, muitas vezes respondendo de “porta aberta” à demanda, o que restringe a capacidade operacional de atendimento às crianças de alto risco, gerando filas com tempos de espera muito longos.

Está correto o que se afirma em:

- (A) I, II e III.
- (B) I e II, apenas.
- (C) II e III, apenas.
- (D) III, apenas.
- (E) I e III, apenas.

QUESTÃO 44

A idade gestacional-IG ao nascer determina a base das subcategorias do recém-nascido prematuro. Assinale a alternativa correspondente ao recém-nascido prematuro “Muito pré-termo”:

- (A) <28 semanas.
- (B) 28 a <32 semanas.
- (C) 32 a <34 semanas.
- (D) 34 a <37 semanas.
- (E) >37 semanas.

QUESTÃO 45

Sobre o tratamento de crianças com diabetes mellitus tipo 1 (DMI), considere V para verdadeiro e F para falso, a seguir assinale a alternativa que apresenta a sequência correta dcima para baixo:

() Envolve grandes desafios peculiares à faixa etária, como irregularidades no padrão de alimentação, do sono, da atividade física, necessidade de doses menores de insulina, maior risco de hipoglicemia noturna e maior variabilidade glicêmica. Além disso, crianças menores, nem sempre conseguem referir adequadamente os sintomas para auxiliar o tratamento realizado por seus cuidadores.

() A terapia insulínica intensiva, especialmente aliada a avanços tecnológicos, é o objetivo comum de tratamento às pessoas com DM1, independentemente da idade.

() A terapia insulínica intensiva pode ser realizada através de múltiplas aplicações diárias de insulina, seja com diferentes tipos de insulina (basal/bolus), ou com sistemas de infusão contínua de insulina (SICI, bomba de insulina).

() Crianças pré-escolares são particularmente beneficiadas pela tecnologia no tratamento do DM1, como o SICI e os sensores de monitorização contínua de glicose.

- (A) V - V - V - F.
- (B) F - V - V - F.
- (C) V - F - V - V.
- (D) F - V - F - V.
- (E) V - V - V - V.

QUESTÃO 46

A insuficiência adrenal primária manifesta-se raramente na infância, podendo apresentar-se de forma insidiosa ou aguda, especialmente na vigência de um estresse desencadeante. Os sinais clínicos são inespecíficos e não incluem:

- (A) Hiperglicemia.
- (B) Inapetência.
- (C) Náuseas e vômitos.
- (D) Dor abdominal e diarreia.
- (E) Hipotensão.

QUESTÃO 47

De acordo com a 5ª edição do Guia de Vigilância em Saúde - Ms sobre o diagnóstico da infecção pelo HIV em crianças com idade menor ou igual a 18 meses, considere a alternativa incorreta:

- (A) A identificação precoce da criança infectada verticalmente é essencial para o início da TARV, para a profilaxia das infecções oportunistas e para o manejo das intercorrências infecciosas e dos distúrbios nutricionais.
- (B) A passagem transplacentária de anticorpos maternos do tipo IgE-HIV interfere no diagnóstico sorológico da infecção viral.
- (C) Os anticorpos maternos podem persistir até os 18 meses de idade, portanto métodos que realizam a detecção de anticorpos não são recomendados para o diagnóstico em crianças menores de 18 meses de idade, sendo necessária a realização de testes moleculares, como a quantificação do RNA viral (carga viral) e o teste para detecção do DNA pró-viral.
- (D) Para o diagnóstico da infecção pelo HIV, é importante compreender detalhadamente o tempo de curso da viremia e da soroconversão durante a infecção recente pelo vírus.
- (E) O primeiro teste a ser realizado deve ser o mais sensível, seguido por um segundo teste mais específico, a fim de eliminar resultados falso-reagentes.

QUESTÃO 48

Em crianças menores de 10 anos, a forma pulmonar da tuberculose costuma ser negativa ao exame bacteriológico, pelo reduzido número de bacilos nas lesões. Crianças, em geral, não são capazes de expectorar. O achado clínico que se destaca na maioria dos casos é a febre, habitualmente moderada, por ___ dias ou mais, e frequentemente vespertina. São comuns irritabilidade, tosse, inapetência, perda de peso e sudorese noturna, às vezes profusas. A hemoptise é rara. O exame físico pode ser inexpressivo. Há predomínio da localização pulmonar sobre as localizações extrapulmonares.

Assinale a alternativa que preenche, corretamente, a lacuna do texto:

- (A) Dois.
- (B) Três.
- (C) Cinco.
- (D) Dez.
- (E) Quinze.

QUESTÃO 49

O período de incubação do vírus da hepatite E (HEV), é:

- (A) 14 a 60 dias (média de 42 dias).
- (B) 30 a 180 dias (na superinfecção, esse período é menor).
- (C) 15 a 150 dias (média de 50 dias).
- (D) 30 a 150 dias (média de 60 a 90 dias).
- (E) 15 a 45 dias (média de 30 dias).

QUESTÃO 50

A hemorragia digestiva se associa a manifestações clínicas que têm importância diagnóstica e também podem servir de alerta para o local e a gravidade do volume da perda. Atenção especial aos alimentos em uso pela criança, ocorrência de dor com sua caracterização e forma de apresentação, aspecto das fezes, antecedentes pessoais e sinais clínicos de associação com outras doenças ou síndromes, são extremamente valiosos na suspeição do local e orientação propedêutica. Alguns testes e exames são importantes e decisivos na tomada de conduta frente ao paciente com hemorragia digestiva, pois definem causas e/ou origem do sangramento:

I - Apt-Downey *test* - colhe-se material eliminado pelo recém-nascido por vômito ou fezes e, tratando-o com hidróxido de sódio, identifica-se como de origem materna ou neonatal o sangue eliminado; quando o sobrenadante toma cor amarelada/acastanhada ou rosada respectivamente.

II - Exame do aspirado gástrico - colhe-se o aspirado por meio de sonda nasogástrica, passada na fase inicial para preparar o paciente para um possível procedimento endoscópico. Usando-se o Gastrocult, identifica-se a presença de vestígio de sangue no material aspirado.

III - Fezes com sangue oculto ou suspeito - a partir de material de fezes ou colhido por exame retal, acrescenta-se o Hemocult (teste do guáico), que, reagindo com o peróxido de hidrogênio, na presença do heme produz composto de coloração azulada e confirma a presença de sangue.

IV - Endoscopia - visualização por meio de aparelhos de fibra ótica ou vídeo, é realizada caso o paciente necessite transfusão de urgência, apresente instabilidade hemodinâmica, ou nas primeiras 24 horas, em caso de não urgência. A hemostasia de lesão sangrante no esôfago (variz esofágica) ou gástrica/duodenal (úlceras com vaso sangrante) pode ser essencial para estabilização do quadro.

Está correto o que se afirma em:

- (A) I, II, III e IV.
- (B) I, II e III, apenas.
- (C) II, III e IV, apenas.
- (D) I e II, apenas.
- (E) II e IV, apenas.

