



PREFEITURA MUNICIPAL DE TOMBOS – MG

PROCESSO SELETIVO PÚBLICO

CADERNO DE PROVA NÍVEL MÉDIO (MANHÃ)

Monitor de Educação Infantil

LEIA ATENTAMENTE AS SEGUINTE INSTRUÇÕES:

1. Este caderno de prova contém **30 (trinta) questões objetivas**, numeradas de 1 a 30 e distribuídas da seguinte forma:
 - a) de 1 a 10 – Língua Portuguesa;
 - b) de 11 a 20 – Raciocínio Lógico;
 - c) de 21 a 30 – Noções de Informática.
2. Confira se a quantidade e a ordem das questões deste caderno de prova estão de acordo com as instruções anteriores. Caso o caderno esteja incompleto, tenha defeito ou apresente qualquer divergência, comunique imediatamente ao fiscal de sala para que ele tome as providências cabíveis.
3. Para cada uma das questões objetivas, são apresentadas **4 (quatro)** opções de resposta. Apenas **1 (uma)** resposta responde corretamente à questão.
4. O tempo disponível para esta prova é de **3 (três) horas**.
5. Reserve tempo suficiente para marcar a sua folha de respostas.
6. Os rascunhos e as marcações assinaladas neste caderno **não** serão considerados na avaliação.
7. O candidato somente poderá se retirar do local da aplicação das provas após **90 (noventa)** minutos de seu início.
8. Quando terminar, chame o fiscal de sala, entregue este **caderno de prova** e a **folha de respostas**.
9. O candidato somente poderá retirar-se do local da aplicação levando consigo o caderno de provas a partir dos últimos **30 (trinta) minutos** para o término da prova.
10. **Boa prova!**

Língua Portuguesa



Leia atentamente o texto a seguir e responda às questões de 1 a 10.

Os países europeus que estão banindo celulares em sala de aula

5 Celulares, tablets e relógios inteligentes serão banidos das salas de aula da Holanda, segundo anunciou o governo do país na terça-feira (4). A medida, que tem o objetivo de afastar as distrações trazidas por esses aparelhos, deve entrar em vigor a partir de 2024.

Por enquanto, a proibição não tem efeitos legais coercitivos – ou seja, não traz punições diante da lei se não for cumprida. Entretanto, isso pode mudar no futuro.

10 A regra deverá ter algumas exceções, como para alunos com necessidades médicas ou deficiências que precisem desses aparelhos, ou em aulas focadas em habilidades digitais.

15 "Embora os celulares estejam praticamente interligados com nossas vidas, eles não encaixam na sala de aula", afirmou o ministro da Educação da Holanda, Robbert Dijkgraaf.

"Os alunos devem ser capazes de se concentrar ali e ter todas as oportunidades para aprender bem. Sabemos por pesquisas científicas que os celulares atrapalham isso."

20 Vários estudos já demonstraram que limitar o tempo de tela das crianças traz melhoras na cognição e na concentração.

O governo holandês disse que caberá às escolas alinhar regras detalhadas com professores, pais e alunos.

25 A decisão será revisada no final do ano letivo de 2024-2025, quando o funcionamento da medida será avaliado, assim como a necessidade de trazer efeitos legais para a proibição ou não.

30 O anúncio da Holanda vem depois de uma decisão semelhante anunciada pela Finlândia na semana passada.

O novo governo finlandês, formado por uma coalizão conservadora, pretende alterar a legislação para facilitar restrições a celulares nas escolas – mas isso ainda precisa ser aprovado pelo parlamento.

35 Em 2018, a França aprovou uma lei banindo o uso de celulares por estudantes com menos de 15 anos nas dependências das escolas, inclusive durante os recreios. Entretanto, a aplicação da lei tem enfrentado desafios, como a resistência dos alunos em entregar seus celulares.

(Kathryn Armstrong, BBC NEWS BRASIL.

<https://www1.folha.uol.com.br/educacao/2023/07/os-paises-europeus-que-estao-banindo-celulares-em-sala-de-aula.shtml>. 5.jul.2023)

Questão 1

Em relação à leitura do texto e suas corretas inferências, analise as afirmativas a seguir:

- I. Uma das preocupações para a medida anunciada no texto reside na comprovação de que a excessiva exposição a telas prejudica a cognição e a concentração.
- II. A medida na Holanda ainda depende das regras estabelecidas pelas escolas de como funcionará na prática a proibição dos chamados eletrônicos.
- III. Os países que até agora implementaram a lei na Europa seguem tendências conservadoras de seus governantes.

Assinale

- (A) se apenas as afirmativas I e II estiverem corretas.
- (B) se apenas as afirmativas I e III estiverem corretas.
- (C) se apenas as afirmativas II e III estiverem corretas.
- (D) se todas as afirmativas estiverem corretas.

Questão 2

O texto, com propósito jornalístico, se encaixa predominantemente na tipologia

- (A) descritiva.
- (B) narrativa.
- (C) dissertativo-expositiva.
- (D) dissertativo-argumentativa.

Questão 3

Por enquanto, a proibição não tem efeitos legais coercitivos – ou seja, não traz punições diante da lei se não for cumprida. (L.6-8)

O segmento sublinhado no período acima apresenta uma

- (A) explicação do sentido da última palavra do segmento anterior.
- (B) explicação do sentido da oração que inicia o período.
- (C) retificação em relação ao sentido do que se esperaria explícito no termo imediatamente anterior.
- (D) condição para a efetivação do anteriormente dito no período.

Questão 4

Na linha 8, "isso" desempenha papel

- (A) dêitico.
- (B) catafórico.
- (C) anafórico.
- (D) exofórico.

Questão 5

"Embora os celulares estejam praticamente interligados com nossas vidas, eles não encaixam na sala de aula", afirmou o ministro da Educação da Holanda, Robbert Dijkgraaf. (L.13-16)

Assinale a alternativa que não poderia substituir o termo grifado no período acima, sob pena de grave alteração de sentido.

- (A) Conquanto
- (B) Não obstante
- (C) Mesmo que
- (D) Porquanto

Questão 6

Assinale a alternativa em que a palavra indicada apresente, no texto, papel adjetivo.

- (A) objetivo (L.4)
- (B) esses (L.4)
- (C) cumprida (L.8)
- (D) aula (L.15)

Questão 7

O governo holandês disse que caberá às escolas alinhar regras detalhadas com professores, pais e alunos. (L.23-24)

O segmento sublinhado no período acima desempenha função sintática de

- (A) sujeito.
- (B) objeto direto.
- (C) objeto indireto.
- (D) adjunto adnominal.

Questão 8

O anúncio da Holanda vem depois de uma decisão semelhante anunciada pela Finlândia na semana passada. (L.29-30)

No período acima há

- (A) quatro artigos e quatro preposições.
- (B) quatro artigos e cinco preposições.
- (C) cinco artigos e quatro preposições.
- (D) cinco artigos e cinco preposições.

Questão 9

A decisão será revisada no final do ano letivo de 2024-2025, quando o funcionamento da medida será avaliado, assim como a necessidade de trazer efeitos legais para a proibição ou não. (L.25-28)

Considerando o período acima, levando em consideração sua estrutura tanto explícita quanto implícita, é correto afirmar que ele é composto por

- (A) duas orações.
- (B) três orações.
- (C) quatro orações.
- (D) cinco orações.

Questão 10

A palavra “coalizão” (L.32) foi grafada corretamente.

Assinale a alternativa em que isso **não** tenha acontecido.

- (A) quisesse
- (B) rescisão
- (C) através
- (D) paralizar

Raciocínio Lógico

Questão 11

A quantia de R\$ 1500,00 deverá ser dividida entre Arthur, Bruno e Carlos de forma diretamente proporcional a 2, 3 e 5, respectivamente. A quantia, em reais, que Carlos deve receber é igual a

- (A) R\$ 150,00.
- (B) R\$ 300,00.
- (C) R\$ 450,00.
- (D) R\$ 750,00.

Questão 12

Gisele fez desenho do mapa do Brasil; nesse desenho, 1 cm representa 50 km. Quantos quilômetros representam 12 centímetros desse mapa?

- (A) 72.
- (B) 120.
- (C) 500.
- (D) 600.

Questão 13

Uma empresa possui 8 impressoras que imprimem 16 banners em 8 minutos. Ela recebeu uma encomenda de 176 banners. Se todas as suas impressoras vão imprimir, quantos minutos serão necessários para terminar a encomenda?

- (A) 80.
- (B) 81.
- (C) 85.
- (D) 88.

Questão 14

Dona Maria vai toda quarta-feira ao mercado aproveitar as ofertas da feira. A seguir está a ilustração das ofertas desta semana.



Dona Maria esta semana comprou 1,5 kg de tomate, 2 kg de batata e 1 kg de maçã. A quantia, em reais, do total da compra de Dona Maria é igual a

- (A) R\$ 14,80.
- (B) R\$ 21,00.
- (C) R\$ 21,75.
- (D) R\$ 27,95.

Questão 15

Uma rede de relojarias resolveu fazer promoção de todos os relógios no pagamento com PIX.



André resolveu comprar um relógio que custa R\$ 300,00. Como ele vai pagar com PIX para aproveitar a promoção, o preço a ser pago por André será igual a

- (A) R\$ 275,00.
- (B) R\$ 250,00.
- (C) R\$ 225,00.
- (D) R\$ 200,00.

Questão 16

Com relação a três irmãs, sabe-se que uma é atriz, outra é jornalista e a outra é militar.

- Ana é mais alta que a jornalista;
- Beatriz é atriz;
- Carla não é a mais baixa das três;

Sendo verdadeiras as afirmações, é correto dizer que

- (A) Beatriz é a mais baixa das três.
 (B) Ana é mais baixa que Beatriz.
 (C) Carla é a militar.
 (D) Carla é o mais alta das três.

Questão 17

Na imagem a seguir temos a sequência das três primeiras figuras feitas apenas por círculos e que seguem um padrão.



Quantos círculos terá a figura representada no sexto termo?

- (A) 12.
 (B) 15.
 (C) 18.
 (D) 21.

Questão 18

Um comerciante possui 390 garrafas de suco. Vendeu ao primeiro freguês $\frac{2}{13}$ dessas garrafas. Do que sobrou, vendeu $\frac{1}{3}$ ao segundo freguês. O número de garrafas que sobrou é igual a

- (A) 110.
 (B) 220.
 (C) 300.
 (D) 330.

Questão 19

André, Bruno e Carlos possuem, cada um, um único animal de estimação. Um deles possui uma tartaruga, outro tem um coelho e o terceiro, um peixe.

Sabe-se que André não é o dono da tartaruga e que Carlos é o dono do Coelho.

Com base nas informações acima, é correto afirmar que

- (A) André não é o dono do peixe.
 (B) Bruno é o dono da tartaruga.
 (C) André é o dono da tartaruga.
 (D) Bruno é o dono do peixe.

Questão 20

TOMBOS está para SOBMOt assim como APROVADO está para

- (A) ODAVORPA.
 (B) DOVAROAP.
 (C) DOAVAROPA.
 (D) ODOVARPA.

Noções de Informática**Questão 21**

No ambiente Windows em português, quando se quer buscar um arquivo armazenado em algum dispositivo do computador, um aplicativo eficiente para tal é o

- (A) Bloco de Notas.
 (B) Microsoft Access.
 (C) Explorador de Arquivos.
 (D) OneNote.

Questão 22

Durante a pandemia, foi comum as pessoas se encontrarem profissionalmente em reuniões a distância. Vários aplicativos foram aprimorados para tal.

Assinale a alternativa em que **não** esteja listada uma plataforma de reuniões de pessoas remotamente.

- (A) Teams
 (B) Zoom
 (C) Google Meet
 (D) Spotify

Questão 23





No ambiente Windows, ao navegar pela Internet, pode-se usar um aplicativo para acessar os sites desejados. Muitas vezes, sem se saber qual endereço acessar, é necessário um programa de busca na rede.

Assinale a alternativa em que **não** esteja indicado corretamente um aplicativo de pesquisa na Internet.

- (A) Internet Explorer
 (B) Google Chrome
 (C) Edge
 (D) BreeZip

Questão 24

No Microsoft Word, caso se queira compor um texto com as marcas de formatação aparentes, deve-se clicar no seguinte ícone:

- (A) 
- (B) 
- (C) 
- (D) 

Questão 25

Para recortar um trecho de texto selecionado no Word, deve-se pressionar simultaneamente

- (A) Ctrl+Alt
 (B) Alt+Z
 (C) Ctrl+X
 (D) Crtl+Z

Questão 26

A fim de repetir a última ação executada no Word, basta pressionar

- (A) F3.
- (B) F4.
- (C) F5.
- (D) F6.

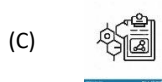
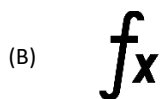
Questão 27

Caso se queira visualizar no Word a Régua lateral e superior na tela, a fim de melhor editar seus textos, deve-se realizar o seguinte caminho:

- (A) clicar em “Layout” e depois em “Orientação”.
- (B) clicar em “Exibir” e depois selecionar a opção “Régua”.
- (C) clicar em “Exibir” e depois selecionar a opção “Linhas de Grade”.
- (D) clicar em “Inserir” e depois em “Meus Suplementos”.

Questão 28

No Microsoft Excel, o ícone que indica “Soma” é



Questão 29

Caso se queira acessar a Internet de um celular que está fora da área da operadora, uma das saídas para o problema é

- (A) definir no celular essa opção: acessar a rede mesmo fora de área.
- (B) buscar no celular a opção de Bluetooth.
- (C) ativar no celular o Wi-Fi e buscar uma rede acessível.
- (D) ativar no celular o seu roteador.

Questão 30

No Microsoft Excel, não é possível

- (A) gerar gráficos.
- (B) gerar minigráficos.
- (C) escolher unidade monetária para os valores.
- (D) iniciar uma mala direta.

Instituto
ACCESS