



Concurso Público Edital n.001/2019 – Prefeitura Municipal de Rio Verde- GO

Caderno de questões - Enfermeiro Plantonista

DISCIPLINAS - Língua Portuguesa, Matemática, Conhecimentos Específicos.

INSTRUÇÕES

- * Não se comunique, em hipótese alguma, com outros candidatos.
- * Não é permitida a consulta a apontamentos, livros ou dicionários.
- * Solicite a presença do fiscal em caso de necessidade.
- * A prova consta de 56 questões, sendo 12 de Língua Portuguesa, 12 de Matemática e 32 de Conhecimentos Específicos, com 04 (quatro) proposições, A, B, C e D. O candidato deverá assinalar (X) na alternativa correta correspondente em cada questão, transportando depois o resultado para o Cartão-Resposta.
- * Para marcar no Cartão-Resposta, utilize caneta esferográfica de tinta azul ou preta.
- * Confira, no Cartão-Resposta, o número de sua inscrição, seu nome e assine no espaço adequado.
- * Em nenhuma hipótese será distribuída cópia do Cartão-Resposta, que é identificado eletronicamente.
- * Não serão consideradas as respostas que não forem transportadas para o Cartão-Resposta.
- * Verifique se o seu Caderno de Questões apresenta todas as folhas numeradas corretamente. Caso haja algum problema, comunique o fiscal de sala.

Cronograma (resumo) das principais datas referentes ao Concurso Público

Data	Ação/Evento
18/08/19	Divulgação dos Gabaritos Preliminares das Provas Objetivas.
23/08/19	Divulgação do Gabarito Oficial das Provas Objetivas.
30/08/19	Divulgação do Resultado Preliminar das Provas Objetivas.
13/09/19	Divulgação do Resultado Final das Provas Objetivas, após análise do(s) recurso(s).
16/09/19	Convocação dos candidatos aos cargos de nível superior classificados para apresentação dos documentos da Prova de Títulos.
30/09/19	Divulgação do Resultado Preliminar das Provas de Títulos (cargos de nível superior) e das Provas de Redação (cargos de nível médio/técnico).
09/10/19	Divulgação do Resultado Definitivo após a análise do(s) recurso(s) contra o resultado preliminar das Provas de Títulos (cargos de nível superior) e das Provas de Redação (cargos de nível médio/técnico).
10/10/19	Divulgação da Classificação Final do Concurso.

LÍNGUA PORTUGUESA

Leia o texto abaixo e responda às questões de 01 a 04.

Texto 1: Sermão de Santo Antônio aos peixes – Pe. Antônio Vieira

Vós, diz Cristo, Senhor nosso, falando com os pregadores, sois o sal da terra: e chama-lhes sal da terra, porque quer que façam na terra o que faz o sal. O efeito do sal é impedir a corrupção; mas quando a terra se vê tão corrupta como está a nossa, havendo tantos nela que têm ofício de sal, qual será, ou qual pode ser a causa desta corrupção? Ou é porque o sal não salga, ou porque a terra se não deixa salgar. Ou é porque o sal não salga, e os pregadores não pregam a verdadeira doutrina; ou porque a terra se não deixa salgar e os ouvintes, sendo verdadeira a doutrina que lhes dão, a não querem receber. Ou é porque o sal não salga, e os pregadores dizem uma cousa e fazem outra; ou porque a terra se não deixa salgar, e os ouvintes querem antes imitar o que eles fazem, que fazer o que dizem. Ou é porque o sal não salga, e os pregadores se pregam a si e não a Cristo; ou porque a terra se não deixa salgar, e os ouvintes, em vez de servir a Cristo, servem a seus apetites. Não é tudo isto verdade? Ainda mal!

Suposto, pois, que ou o sal não salgue ou a terra se não deixe salgar; que se há-de fazer a este sal e que se há-de fazer a esta terra? O que se há-de fazer ao sal que não salga, Cristo o disse logo: *Quod si sal evanuerit, in quo salietur? Ad nihilum valet ultra, nisi ut mittatur foras et conculcetur ab hominibus.* «Se o sal perder a substância e a virtude, e o pregador faltar à doutrina e ao exemplo, o que se lhe há-de fazer, é lançá-lo fora como inútil para que seja pisado de todos.» Quem se atrevera a dizer tal cousa, se o mesmo Cristo a não pronunciara? Assim como não há quem seja mais digno de reverência e de ser posto sobre a cabeça que o pregador que ensina e faz o que deve, assim é merecedor de todo o desprezo e de ser metido debaixo dos pés, o que com a palavra ou com a vida prega o contrário.

Disponível em:

<http://www.biblio.com.br/defaultz.asp?link=http://www.biblio.com.br/conteudo/padreantoniovieira/stoantonio.htm>

QUESTÃO 1

De acordo com o texto, assinale a alternativa correta:

- a) () Predomina a tipologia argumentativa, em que o autor expõe sua ideia de forma imparcial, prendendo-se ao caráter informativo do enunciado.
- b) () O autor faz uma série de analogias com a intenção de esclarecer o tema central: a importância do Evangelho.
- c) () Predomina a função poética da linguagem, uma vez que o autor dá maior realce à própria forma do texto do que ao conteúdo em si.
- d) () O autor inicia fazendo referência a um trecho do Evangelho construído em linguagem figurada (“sois o sal da terra”), para depois explicar o seu sentido aplicado à realidade local.

QUESTÃO 2

De acordo com texto, o autor defende a tese de que:

- a) () Se há corrupção em terra com tantos pregadores, deve haver algum problema com os pregadores ou com seus ouvintes.
- b) () O sal deve impedir a corrupção.
- c) () A corrupção dentro da Igreja afeta a população.
- d) () Os pregadores cumprem mal o seu papel porque não conseguem fazer com que seus fiéis corrijam seu comportamento.

QUESTÃO 3

De acordo com o texto, sobre os argumentos apresentados pelo autor, assinale a alternativa INCORRETA:

- a) () O autor levanta a hipótese de que os pregadores pregam uma doutrina falsa.

- b) () O autor levanta a hipótese de que pode haver dissonância entre o que dizem os pregadores e o que fazem.
- c) () O autor levanta a hipótese de que os ouvintes podem estar interessados na doutrina, mas não conseguem colocá-la em prática.
- d) () O autor levanta a hipótese de que a mensagem do Cristo pode não ser o verdadeiro foco nem de pregadores nem de ouvintes.

QUESTÃO 4

Sobre o segundo parágrafo do texto acima, assinale a alternativa INCORRETA:

- a) () Para reforçar sua posição, o autor lança mão de um argumento usado por Cristo.
- b) () Todo pregador que ensina e faz o seu dever merece ser respeitado.
- c) () O autor demonstra rejeição ao pregador cujo comportamento é contrário ao que prega.
- d) () Todo pregador equivale ao sal que não salga.

Leia o texto abaixo e responda às questões 05 e 06.

Texto 2

Eu tinha onze anos quando tio Baltazar chegou da primeira vez. Estava casado de novo, mas veio sozinho e com fama de muito rico. Relembrando aqueles tempos, meu pai me disse que depois de alguns dias aqui tio Baltazar pensou em desistir da Companhia e voltar. Agora eu pergunto de novo: se ele tivesse voltado naquela ocasião, será que ainda estaria vivo? E se ele não tivesse fundado a Companhia, será que teríamos passado por tudo o que passamos? Mas perguntar essas coisas agora é o mesmo que dizer que se o bezerro da vizinha não tivesse morrido ainda estaria vivo. Estou aqui para falar do que aconteceu, e não do que deixou de acontecer.

Tio Baltazar. Um nome, a fama, muitas fotografias — assim era que eu o conhecia. Parece que ele achava absolutamente necessário a pessoa tirar retrato todo mês, ou toda semana. Frequentemente mamãe recebia uma fotografia dele tirada em estúdio de retratista ou ao ar livre por algum amigo. Lembro-me especialmente de uma, tirada ao volante de um lustroso carro esporte que os entendidos aqui diziam ser de fabricação italiana e muito caro: tio Baltazar aparecia com o braço esquerdo descansando na porta do carro, o cabelo repartido no meio, camisa de gola aberta dobrada sobre o paletó xadrez igual aos que os artistas de cinema estavam usando, piteira com cigarro na boca, sorriso de rico no rosto simpático. Essa fotografia, com dedicatória para mamãe, fez o maior sucesso entre nossos amigos, além de vê-la muitos queriam mostrar a outros. Entre zelosa e vaidosa, mamãe emprestava; mas se a pessoa demorava a devolver, eu recebia a missão de ir buscá-la, um documento daquela importância não podia passar muito tempo em mãos profanas.

Se estou aqui para contar a verdade, não posso esconder o meu desapontamento quando vi tio Baltazar descendo do carro em nossa porta. No primeiro momento pensei que fosse outra pessoa, um amigo ou empregado. O cabelo era bem mais ralo e não estava mais repartido ao meio, acho que porque essa moda já tinha passado. E o rosto não era tão moço como o das fotografias. Mas o que me decepcionou mesmo, até me assustou, foi a falta de um braço. Onde estava o braço esquerdo que descansava na porta do carro na fotografia famosa? Vendo-o sair do carro ajudado pelo chofer, a manga vazia do paletó metida no bolso, a bela imagem de um tio campeão em muitos esportes virou fumaça ali mesmo. Eu já tinha visto pessoas sem perna, sem braço, sem mão, até um homem sem nariz eu vi de joelhos ao meu lado na igreja na Semana Santa: mas não eram meus tios. Fiquei tão decepcionado que fui me esconder no porão e nem apareci para o jantar. É difícil entender, mas pensando no meu procedimento naquele dia parece que eu acusava tio Baltazar de ter cortado o braço só para me humilhar diante de meus amigos.

(VEIGA, José J. **Sombras de reis barbudos**. Rio de Janeiro: Bertrand Brasil, 1989. p. 2-4).

QUESTÃO 5

Sobre o texto 2, assinale a alternativa correta:

- a) () O narrador é um adolescente que expressa seu ressentimento por ter sido humilhado pelo tio.
- b) () No início do trecho, o narrador tenta imaginar como teria sido aquela realidade caso decisões diferentes tivessem sido tomadas.
- c) () Inicialmente, o narrador não reconhece o tio quando o vê pessoalmente, confundido pela aparência mais envelhecida que o tio tinha nas fotografias.
- d) () O narrador já estava acostumado a ver pessoas sem partes do corpo, por isso não se impressionou quando viu o tio sem um braço.

QUESTÃO 6

Sobre o texto 2, assinale a alternativa INCORRETA:

- a) () As fotos enviadas pelo tio rico davam à mãe do narrador certa distinção na comunidade.
- b) () No trecho “tio Baltazar aparecia com o braço esquerdo descansando na porta do carro, o cabelo repartido no meio, camisa de gola aberta dobrada sobre o paletó xadrez igual aos que os artistas de cinema estavam usando, piteira com cigarro na boca, sorriso de rico no rosto simpático”, pode-se identificar tipologia textual descritiva, que predomina no texto como um todo.
- c) () O texto realça a distinção entre aparência e realidade, e como o contraponto entre as duas pode ser decepcionante.
- d) () Predomina no texto a função expressiva ou emotiva da linguagem.

Leia o texto abaixo e responda às questões 07 e 08.

Texto 3 - O homem trocado – Luís Fernando Veríssimo

O homem acorda da anestesia e olha em volta. Ainda está na sala de recuperação. Há uma enfermeira do seu lado. Ele pergunta se foi tudo bem.

- Tudo perfeito - diz a enfermeira, sorrindo.

- Eu estava com medo desta operação...

- Por quê? Não havia risco nenhum.

- Comigo, sempre há risco. Minha vida tem sido uma série de enganos...

Ele conta que os enganos começaram com seu nascimento. Houve uma troca de bebês no berçário e ele foi criado até os dez anos por um casal de orientais, que nunca entenderam o fato de terem um filho claro com olhos redondos. Descoberto o erro, ele fora viver com seus verdadeiros pais. Ou com sua verdadeira mãe, pois o pai abandonara a mulher depois que esta não soubera explicar o nascimento de um bebê chinês.

- E o meu nome? Outro engano.

- Seu nome não é Lírio?

- Era para ser Lauro. Se enganaram no cartório e...

Os enganos se sucediam. Na escola, vivia recebendo castigo pelo que não fazia. Fizera o vestibular com sucesso, mas não conseguira entrar na universidade. O computador se enganara, seu nome não apareceu na lista.

- Há anos que a minha conta do telefone vem com cifras incríveis. No mês passado tive que pagar mais de R\$ 3 mil.

- O senhor não faz chamadas interurbanas?

- Eu não tenho telefone!

Conhecera sua mulher por engano. Ela o confundira com outro. Não foram felizes.

- Por quê?

- Ela me enganava.

Fora preso por engano. Várias vezes. Recebia intimações para pagar dívidas que não fazia. Até tivera uma breve, louca alegria, quando ouvira o médico dizer:

- O senhor está desenganoado.

Mas também fora um engano do médico. Não era tão grave assim. Uma simples apendicite.

- Se você diz que a operação foi bem...

A enfermeira parou de sorrir.

- Apendicite? - perguntou, hesitante.

- É. A operação era para tirar o apêndice.

- Não era para trocar de sexo?

QUESTÃO 7

Considerando os mecanismos de coesão no texto 3, assinale a alternativa que apresenta correta correspondência entre o termo destacado e o respectivo elemento de referência.

- a) () “esta”, em “que esta não soubera explicar o nascimento de um bebê chinês”, refere-se a “mãe”.
- b) () “ela”, em “Ela o confundira com outro”, refere-se a “enfermeira”.
- c) () “que”, em “que não fazia”, refere-se a “intimações”.
- d) () “que”, em “que esta não soubera explicar o nascimento de um bebê chinês”, refere-se a “enfermeira”.

QUESTÃO 8

Em relação ao(s) tipo(s) de discurso, pode-se afirmar que o trecho abaixo está escrito em:

Fora preso por engano. Várias vezes. Recebia intimações para pagar dívidas que não fazia. Até tivera uma breve, louca alegria, quando ouvira o médico dizer:

- O senhor está desenganoado.

Mas também fora um engano do médico. Não era tão grave assim. Uma simples apendicite.

- Se você diz que a operação foi bem...

A enfermeira parou de sorrir.

- Apendicite? - perguntou, hesitante.

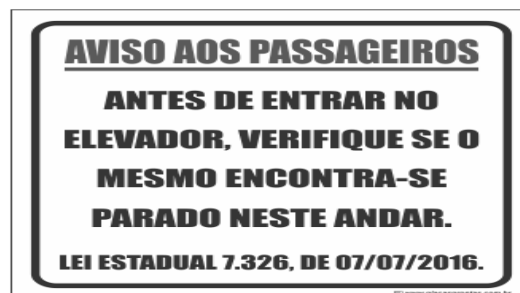
- É. A operação era para tirar o apêndice.

- Não era para trocar de sexo?

- a) () discurso direto.
- b) () discurso indireto.
- c) () discurso indireto livre.
- d) () discurso direto e indireto.

QUESTÃO 9

Leia a placa e assinale a alternativa correta:



- a) () Não se deve usar a palavra "mesmo" como pronome pessoal.
- b) () O vocábulo “mesmo” está corretamente utilizado (de acordo com a norma culta) como elemento substitutivo do substantivo “elevador”.

- c) () A palavra “mesmo” na placa desempenha a função de substantivo, cujo sentido se refere a “mesma coisa”.
- d) () O vocábulo “mesmo” se apresenta como advérbio (portanto, invariável), com o significado de “justamente, até, ainda, realmente”.

QUESTÃO 10

Assinale a alternativa correta em relação à concordância:

- a) () Houveram muitos protestos em relação à proposta de emenda constitucional.
- b) () A aquisição de novos equipamentos para o setor de produção trouxeram facilidades para os trabalhadores da indústria.
- c) () Depois de longas discussões entre os diplomatas, ainda prevalecia a desconfiança e o rancor.
- d) () Ela estava meia cansada após um longo dia de trabalho.

QUESTÃO 11

Em “Paulo se acusava pelo mau andamento dos negócios na empresa”, a voz do verbo é:

- a) () Passiva analítica.
- b) () Passiva sintética.
- c) () Reflexiva.
- d) () Ativa.

QUESTÃO 12

Leia a placa e assinale a alternativa correta:



Na placa, observa-se o emprego de uma regra de concordância nominal na construção “É proibido comer e beber nesta área”. Tal regra está sendo transgredida na seguinte opção:

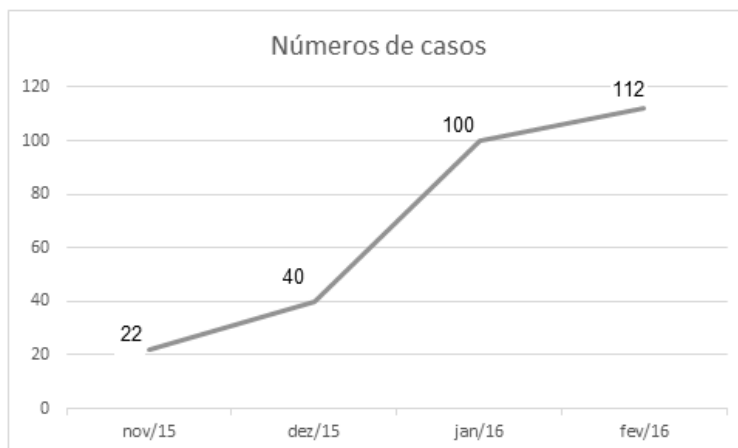
- a) () É proibida a entrada de menores.
- b) () É proibida alimentação de mamíferos.
- c) () É proibido circulação de pessoas.
- d) () É proibido uso de celulares.

MATEMÁTICA

QUESTÃO 13

O Zika Vírus (ZKV) é transmitido pelos mosquitos *Aedes aegypti* (o mesmo transmissor da dengue e da febre chikungunya) e o *Aedes albopictus*. O vírus Zika teve sua primeira aparição registrada em 1947, quando foi encontrado em macacos da Floresta Zika, em Uganda. Entretanto, somente em 1954, os primeiros casos em seres humanos foram relatados, na Nigéria. Esse vírus atingiu a Oceania em 2007 e a Polinésia Francesa no ano de 2013. O Brasil notificou os primeiros casos de Zika vírus em 2015, no Rio Grande do Norte e na Bahia. Atualmente, sua presença já está documentada em cerca de 70 países. A

seguir, tem-se a representação gráfica do aumento de casos no Brasil no período entre novembro de 2015 a fevereiro de 2016.



Pode-se afirmar que a porcentagem do aumento de casos de Zika Vírus no período de novembro/2015 a fevereiro/ 2016 é de aproximadamente:

- a) () 209,09%
- b) () 309,09%
- c) () 409,09%
- d) () 509,09%

QUESTÃO 14

Albert Einstein previu, no século passado, que se as abelhas desaparecessem da superfície da Terra, o homem teria apenas mais quatro anos de vida. A morte em grande escala desse animal, interpretada como apocalíptica na época, é hoje um alerta real. Desde o começo do século, casos de morte e sumiço de abelhas são registrados nos Estados Unidos e na Europa. No Brasil, estudiosos destacam episódios alarmantes a partir de 2005. Agora, o fenômeno parece chegar ao ápice. Nos últimos três meses, mais de 500 milhões de abelhas foram encontradas mortas por apicultores apenas em quatro estados brasileiros, segundo levantamento da Agência Pública e Repórter Brasil.

(Fonte: <https://envolverde.cartacapital.com.br/apicultores-brasileiros-encontram-meio-bilhao-de-abelhas-mortas-em-tres-meses/>).

Em 2018, pesquisas realizadas por Apicultores da Região Sul do Brasil constataram que, devido à grande presença de agrotóxicos neonicotinoides (principais inimigos das abelhas), a população P de determinada espécie de abelhas morre segundo a função $P(t) = 250 \cdot 2^t$, onde t está medido em minutos. O tempo necessário para que o agrotóxico elimine 2000 abelhas é de:

- a) () 3 minutos.
- b) () 4 minutos.
- c) () 5 minutos.
- d) () 6 minutos.

QUESTÃO 15

Segundo a ABRE - Associação Brasileira de Embalagens, a embalagem é o principal elemento de conexão e de comunicação entre o consumidor, o produto e a marca. É um dos principais fatores que impulsionam a venda do produto. Se a embalagem não for condizente com o produto, não chamar a atenção de quem o compra, a chance do consumidor não perceber o produto é maior.

(Fonte: <https://o3design.com.br/a-importancia-da-embalagem/>).

O Boticário é uma das grandes marcas brasileiras que mais investe em design de suas embalagens. Dentre os mais variados produtos de grande sucesso está o Lily Creme Acetinado Hidratante Desodorante Corporal, com manteiga de karité, que promove uma hidratação intensa de rápida absorção, deixando a pele macia e acetinada. Atualmente, a embalagem desse produto é uma caixa de vidro no formato de um cubo de lado 12 cm. Considerando essas dimensões, pode-se afirmar que o volume de creme hidratante dentro dessa caixa é de:

- a) () 24 ml.
- b) () 720 ml.
- c) () 1440 ml.
- d) () 1728 ml.

QUESTÃO 16

A Superintendência de Proteção aos Direitos do Consumidor (Procon Goiás) monitora periodicamente os preços de combustíveis em postos de todo o estado. A tabela a seguir foi construída com base na tomada de preços a cada 10 dias em um posto da capital do estado.

Gasolina	4,37	4,48	4,56	4,89	4,66	4,78
Álcool	2,88	2,78	2,67	2,67	2,88	2,99

(Fonte: <https://www.emaisgoias.com.br/procon-goias-e-mp-investigam-possivel-reajuste-abusivo-no-preco-do-combustivel/>).

O preço médio da gasolina e do álcool nesse período é de:

- a) () R\$ 4,54 e R\$ 2,06.
- b) () R\$ 4,62 e R\$ 2,81.
- c) () R\$ 4,71 e R\$ 2,70.
- d) () R\$ 4,48 e R\$ 2,66.

QUESTÃO 17

Alguns processos judiciais costumam levar meses ou anos para se resolverem. Nos casos em que a pessoa tem pressa para resolver a sua situação, os acordos judiciais podem ser de grande ajuda. Buscando agilizar a solução de casos com uma proposta adequada a ambas as partes, os acordos poupam as pessoas envolvidas dos longos prazos de recursos e periódicas análises a serem realizadas pelo juiz. Os advogados de um determinado sindicato, em uma audiência com o juiz de causas trabalhistas, apresentaram a seguinte proposta de acordo: uma indenização de R\$ 60.000,00 e multa de R\$ 2,00 (que dobraria a cada dia de atraso). Qual é o número de dias para que essa multa atinja a quantia de R\$ 1.000.000,00? (Considere $\log 2 = 0,30$).

- a) () 10 dias
- b) () 20 dias.
- c) () 30 dias.
- d) () 40 dias.

QUESTÃO 18

O vício em games é um tipo de vício comportamental em que a pessoa deixa de fazer suas atividades diárias para ficar jogando, o que compromete atividades básicas do cotidiano, como higiene pessoal, alimentação, trabalho e/ou estudos, vida social etc. Além disso, a pessoa chega ao ponto em que continua ou aumenta a frequência do jogar apesar da ocorrência de consequências negativas. Esse descontrole do ato de jogar deve ser recorrente por mais de 12 meses. Pessoas que conseguem se focar nas outras atividades e se desligar do jogo não entram nesta categoria.

(Fonte: <https://www.minhavidacom.br/saude/temas/vicio-em-games>).

Alguns jogos de games são tão envolventes que o jogador não se dá conta do tempo investido para encerrar todas as fases. Considera-se que o tempo para superar todas as fases de um game é dado pela função $T(t) = 6t^3 + 12t^2 - 12t + 8$, onde t é em horas por dia. Sabe-se que o jogador vencedor jogava durante 4 horas por dia. Nessas condições, foram necessários aproximadamente quantos dias para superar todas as fases?

- a) () 8
- b) () 18
- c) () 22
- d) () 32

QUESTÃO 19

Na empresa de cosméticos do Sr. Antônio Goulart, no setor de expedição, 10 carregadores, trabalhando em um mesmo ritmo, carregam 50 caixas em 1 hora. Em quanto tempo 8 carregadores, trabalhando nesse mesmo ritmo, carregam 40 caixas?

- a) () 1 hora.
- b) () 30 minutos.
- c) () 2 horas.
- d) () 2 horas e 30 minutos.

QUESTÃO 20

O atual sistema financeiro utiliza o regime de juros compostos, pois ele oferece uma maior rentabilidade se comparado ao regime de juros simples, em que o valor dos rendimentos torna-se fixo. O juro composto incide mês a mês de acordo com o somatório acumulativo do capital com o rendimento mensal, isto é, prática do juro sobre juro. As modalidades de investimentos e financiamentos são calculadas de acordo com esse modelo de investimento, pois ele oferece um maior rendimento e, conseqüentemente, mais lucro.

A expressão matemática que permite calcular o valor do montante (valor acumulado) no regime de capitalização composta é

$$M = C(1 + i)^t, \text{ onde:}$$

M = montante

C = capital

i = taxa

t = tempo

Determine o valor do montante produzido por um capital de R\$ 3.000,00, aplicado a juros compostos de 5% ao mês, durante um ano. Considere $1,05^{12} = 1,8$.

- a) () R\$ 3.800,00
- b) () R\$ 4.300,00
- c) () R\$ 4.950,00
- d) () R\$ 5.400,00

QUESTÃO 21

Os jogos de azar são jogos nos quais os que têm sorte são os que ganham com o azar dos outros jogadores, devido à diferença de probabilidades entre a sorte e o azar. Como as chances da sorte são escassas, são muitos mais os que têm azar, daí que tais jogos são sustentáveis através das perdas dos jogadores que financiam os que vão ter a sorte. A sorte de ganhar ou perder não depende da habilidade do jogador, mas exclusivamente de uma contingência natural baseada numa realidade produzida chamada de

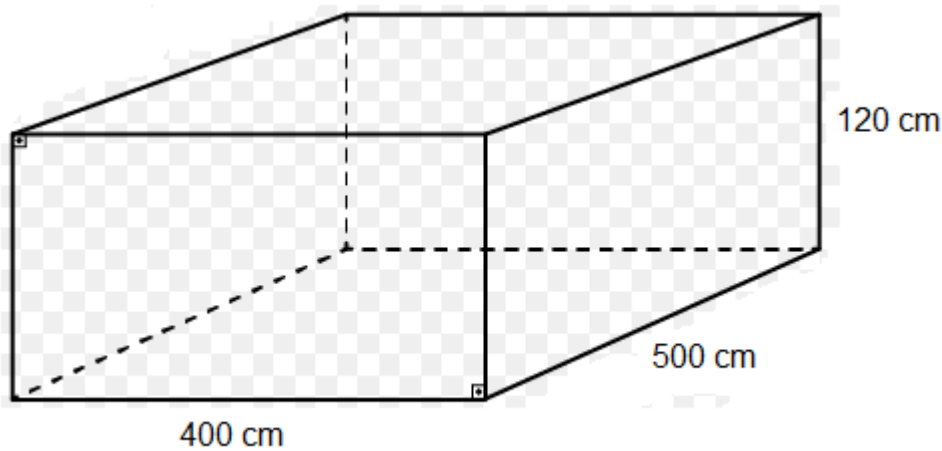
probabilidade matemática.

Lançando um dado duas vezes, qual é a probabilidade de se obter número ímpar no primeiro e no segundo lançamento?

- a) () 25%
- b) () 50%
- c) () 75%
- d) () 100%

QUESTÃO 22

Carlos e Ana Paula, casados há 10 anos, acabam de realizar o sonho de construir uma piscina no quintal de casa. As dimensões da piscina estão representadas na figura a seguir:



O valor do litro de água praticado pela Companhia de Abastecimento de Água da cidade de Carlos e Ana é de R\$ 0,05. Qual é o valor gasto para encher completamente a piscina com água fornecida por essa companhia?

- a) () R\$ 500,00
- b) () R\$ 600,00
- c) () R\$ 1.200,00
- d) () R\$ 1.800,00

QUESTÃO 23

A água é fonte da vida. Não importa quem somos, o que fazemos, onde vivemos, nós dependemos dela para viver. No entanto, por maior que seja a importância da água, as pessoas continuam poluindo os rios e destruindo as nascentes, esquecendo o quanto ela é essencial para nossas vidas.

A água é, provavelmente, o único recurso natural que tem a ver com todos os aspectos da civilização humana, desde o desenvolvimento agrícola e industrial aos valores culturais e religiosos arraigados na sociedade.

No Brasil, em lugares onde a quantidade de água é escassa, a população utiliza cisternas para captação e armazenamento da água da chuva.

No esvaziamento de uma determinada cisterna contendo água da chuva, a expressão

$$V(t) = -\frac{1}{450}t^2 + 2$$

representa o volume (em m³) de água presente no tanque no instante t (em minutos). Qual é o tempo necessário para que o tanque seja esvaziado?

- a) () 10 minutos.
- b) () 20 minutos.
- c) () 30 minutos.
- d) () 40 minutos.

QUESTÃO 24

Em uma determinada loja de roupas, o salário mensal de cada vendedor (a) é determinado da seguinte forma:

- Valor fixo de R\$ 940,00;
- Comissão de 3% sobre o total da venda .

Qual será o salário de uma vendedora que fechou o mês com um valor total de vendas de R\$ 34.000,00?

- a) () R\$ 1.540,00.
- b) () R\$ 1.630,00.
- c) () R\$ 1.870,00.
- d) () R\$ 1.960,00.

CONHECIMENTOS ESPECÍFICOS

QUESTÃO 25

José Antunes, 72 anos de idade, foi diagnosticado com hiperplasia prostática benigna e desde então faz uso de sondagem vesical de demora. É acompanhado pela unidade hospitalar há 3 meses. Ele apresentou infecção urinária no primeiro mês de uso da sonda e foi tratada no próprio domicílio. O paciente foi internado para realização de procedimento de prostatectomia radical e no segundo dia de pós-operatório apresentou turvação da urina e temperatura axilar em estado febril.

Os sinais flogísticos sugerem presença de infecção. Com os dados apresentados, marque a alternativa correta:

- a) () Os sinais apresentados sugerem uma infecção hospitalar, tendo em vista que a sintomatologia foi identificada nas primeiras 72 horas de internação relacionadas aos procedimentos realizados pós-admissão.
- b) () A infecção é do tipo cruzada pelo fato de o paciente ter apresentado outro diagnóstico de infecção antes da admissão hospitalar.
- c) () O paciente apresenta uma infecção comunitária dada a impossibilidade de relacioná-la ao procedimento cirúrgico realizado e por ele ter tido outra infecção tratada anteriormente em ambiente domiciliar.
- d) () A presente infecção é do tipo comunitária pelo fato de o paciente ter apresentado os sintomas anteriormente à internação.

QUESTÃO 26

O Programa Nacional de Segurança do Paciente foi instituído pela Portaria 529/2013 objetivando contribuir para a qualificação do cuidado em saúde dos ambientes de saúde. Sobre esse programa, analise as afirmações a seguir:

- I) A identificação do paciente deverá ser realizada em todos os pacientes por meio de pulseira em membro e deverão ser levados em consideração situações como edemas, dispositivos vasculares, entre outros.
- II) Em relação à lavagem das mãos, deve-se realizar em cinco momentos: antes de tocar o paciente; antes de realizar procedimentos; após situações que envolvam o risco de exposição a fluidos corporais do paciente; após tocar o paciente; e após tocar superfícies próximas a ele.

III) No protocolo de cirurgia segura, o enfermeiro quando condutor da lista de verificação, deverá constatar a realização da profilaxia antimicrobiana.

IV) Entre as medidas preventivas para fricção e cisalhamento, é indicado elevar a cabeceira da cama até no máximo 30° e evitar pressão direta nos trocanteres quando em posição lateral.

É correto o que se afirma em:

- a) () I, II e IV, apenas.
- b) () III, IV, apenas.
- c) () I, II e III, apenas.
- d) () Todas as alternativas estão corretas.

QUESTÃO 27

Paciente internado após cirurgia abdominal apresenta os seguintes resultados laboratoriais: pH = 7,20; PaO₂ = 90 mmHg; PaCO₂ = 29 mmHg; HCO₃ = 19 mEq/L; BE = -3 mEq/L; SaO₂ = 99%.

Qual distúrbio ácido-base o paciente apresenta?

- a) () Alcalose metabólica não compensada por alcalose respiratória.
- b) () Hipoxemia com alcalose respiratória compensada por acidose metabólica.
- c) () Acidose metabólica não compensada por alcalose respiratória.
- d) () Acidose metabólica compensada por alcalose respiratória.

QUESTÃO 28

A ventilação mecânica invasiva é um procedimento de alta prevalência nas unidades de alta complexidade e exige do enfermeiro conhecimento sobre o manuseio de casos que exigem a utilização desse procedimento. São considerados critérios a serem considerados para início do desmame da ventilação mecânica, EXCETO:

- a) () Fração inspirada de oxigênio (FIO₂) ≤ 0,4.
- b) () Oxigenação adequada com pressão arterial de oxigênio (PaO₂) ≥ 60 mmHg.
- c) () Pressão positiva ao final da expiração (PEEP) ≤ 5 a 8 cm H₂O.
- d) () Saturação ≤ 90% e uma pressão arterial de oxigênio (PaO₂) ≤ 60 mmHg.

QUESTÃO 29

Paciente deu entrada na Unidade de Pronto Atendimento (UPA) vítima de acidente automobilístico com traumatismo cranioencefálico leve, frequência respiratória de 98 respirações por minuto, lesão em face, pupilas isocóricas, valores pressóricos de 130x80 mmHg, temperatura axilar de 36,9 graus Celsius, cefaleia moderada (5/10) sem perda de consciência.

Diante do presente quadro clínico, assinale a opção com a conduta adequada que o enfermeiro deve tomar referente à classificação de risco de Manchester:

- a) () O paciente deverá ser classificado com o código amarelo e encaminhado a atendimento em aproximadamente 60 minutos.
- b) () O código de classificação será o azul e o atendimento deverá acontecer em até 10 minutos.
- c) () Deverá ser classificado com o código vermelho e ser atendido imediatamente.
- d) () O paciente será classificado com o código verde e deverá ser atendido em aproximadamente 240 minutos.

QUESTÃO 30

A Resolução COFEN 543/2017 estabelece os parâmetros para o dimensionamento do quadro de profissionais de enfermagem nos serviços em que são realizadas atividades de enfermagem que irão influenciar diretamente a eficácia, a eficiência e a qualidade da assistência. Para estabelecer o

dimensionamento do quadro de profissionais de enfermagem, o enfermeiro deve-se basear nas seguintes características, EXCETO:

- a) () Características do paciente de acordo com o grau de dependência em relação à equipe de enfermagem.
- b) () Para a prestação dos cuidados intensivos, a distribuição percentual de profissionais de enfermagem deverá ser de 33% de enfermeiros e os demais auxiliares e/ou técnicos de enfermagem.
- c) () Para efeito de cálculo da distribuição dos profissionais, deve ser considerada, além do sistema de classificação de paciente, a proporção profissional/paciente nos diferentes turnos de trabalho.
- d) () O índice de segurança do paciente é uma variável utilizada para o cálculo de dimensionamento da enfermagem.

QUESTÃO 31

Paciente do sexo feminino, 25 anos de idade, com quadro de dificuldade respiratória, com oxigenoterapia, apresenta frequência cardíaca de 78 bpm e SpO₂ de 98%. Analisando os dados apresentados, é correto afirmar que esse paciente está:

- a) () Com bradicardia.
- b) () Com saturação normal de oxigênio.
- c) () Com um quadro de hipóxia.
- d) () Com baixa saturação de oxigênio.

QUESTÃO 32

Em uma Unidade de Pronto Atendimento, paciente dá entrada ao serviço após acidente automobilístico. J.F.R, do sexo masculino, sofreu um trauma na região torácica ao nível de T2. Evoluiu com dores radiculares, paraplegia flácida, abolição dos reflexos profundos dos membros inferiores, hipotensão arterial, bradicardia e Sinal de Babinski e houve queda da pressão arterial média (PAM) em torno de 15%. Essa sintomatologia é sugestiva do seguinte tipo de choque:

- a) () Anafilático.
- b) () Cardiogênico.
- c) () Neurogênico.
- d) () Hipovolêmico.

QUESTÃO 33

A pneumonia é uma inflamação do parênquima pulmonar provocada por microrganismos, incluindo bactérias, microbactérias, fungos e vírus. São características da pneumonia, EXCETO:

- a) () A pneumonia adquirida na comunidade se inicia logo após a internação do paciente, resultando em um prognóstico ruim.
- b) () Pneumonia nosocomial é uma infecção do trato respiratório inferior que ocorre 48 horas ou mais após a intervenção hospitalar.
- c) () O paciente com pneumonia estreptocócica geralmente tem um início súbito de calafrios, febre rapidamente crescente e dor torácica pleurítica, agravada pela respiração profunda e tosse.
- d) () A pneumonia pode resultar de organismos na corrente sanguínea que penetram na circulação pulmonar e em seguida no leito capilar pulmonar.

QUESTÃO 34

O edema agudo de pulmão (EAP) é uma grave situação clínica que denota atenção imediata da equipe de enfermagem na prestação de cuidados no sentido de reverter o quadro hemodinâmico do paciente. Em

relação aos cuidados de enfermagem preconizados para pacientes apresentando sintomatologia de EAP, deve ser realizado, EXCETO:

- a) () Posicionar o paciente sentado, elevando a cabeceira em 60 ou 90 graus com intuito de reduzir o retorno venoso e propiciar máxima expansão pulmonar.
- b) () Realizar sondagem vesical para controle rígido do débito urinário.
- c) () Instalar máscara de oxigênio com reservatório.
- d) () Puncionar e manter acesso venoso calibroso periférico com gotejamento máximo, para contribuir na sobrecarga volêmica.

QUESTÃO 35

Mesmo com todos os esforços dos órgãos de saúde, a tuberculose permanece um problema de saúde pública preocupante no país. Em relação a essa temática, avalie as afirmações a seguir:

- I. Em adolescentes e adultos jovens, o principal sintoma é a tosse por três semanas ou mais, além de febre baixa vespertina, sudorese noturna, emagrecimento e fadiga.
- II. A ausculta pulmonar em pacientes com tuberculose pode apresentar diminuição do murmúrio vesicular, sopro anfórico ou mesmo ser normal.
- III. Os fármacos usados nos esquemas padronizados para a tuberculose sensível são a isoniazida (H), a rifampicina (R), a pirazinamida (Z) e o etambutol (E).
- IV. A tuberculose é uma doença de notificação compulsória.

Assinale a alternativa correta:

- a) () Apenas I, II e IV estão corretas.
- b) () Apenas I, II, e III estão corretas.
- c) () Apenas II, III e IV estão corretas.
- d) () Todas as alternativas estão corretas.

QUESTÃO 36

Em uma unidade pediátrica de pronto atendimento, uma criança de 02 anos de idade apresenta sintomatologia sugestível de desidratação por quadro diarreico. Foi prescrita a reposição hídrica e de eletrolíticos com volume total de 1500 ml, que deverá ser infundido em 4 horas. Para a administração da prescrição, será utilizado um equipo macrogotas e o cálculo de gotejamento é:

- a) () 125 macrogotas.
- b) () 83 macrogotas.
- c) () 110 microgotas.
- d) () Nenhum dos valores citados.

QUESTÃO 37

Paciente do sexo feminino, de 48 anos de idade, comparece ao pronto atendimento com quadro de dor abdominal. A dor iniciou há 4 dias em região periumbilical, de limites imprecisos, acompanhada por febre baixa. Ao realizar o exame físico, o enfermeiro constatou que, ao palpar o quadrante inferior esquerdo do abdômen do paciente, resultou no relato de dor no quadrante inferior direito. Diante disso, o enfermeiro identificou a possibilidade de apendicite pelo fato de o paciente ter sido positivo no sinal de:

- a) () Babinski, com possibilidade de o paciente evoluir para rigidez de nuca.
- b) () Blumberg, em virtude da compressão e a dor ter sido relatada no Ponto de McBurney.
- c) () Rovsing, em razão da palpação no cólon descendente ter deslocado os gases para o cólon ascendente, atingindo o apêndice inflamado hipersensível.
- d) () Dunphy, pelo relato de dor ao palpar a região hipogástrica à flexão.

QUESTÃO 38

A cardioversão é um procedimento realizado para reversão de arritmias e é indicado em casos de:

- a) () Fibrilação ventricular sem pulso.
- b) () Atividade elétrica sem pulso e assistolia.
- c) () Fibrilação atrial e flutter atrial.
- d) () Taquicardia ventricular sem pulso.

QUESTÃO 39

O Programa Nacional de Triagem Neonatal é uma agenda transversal às políticas do Ministério da Saúde. Tem como objetivo geral identificar distúrbios e doenças no recém-nascido em tempo oportuno para intervenção adequada. Sobre esse programa e as doenças que fazem parte do seu escopo de ação avalie as afirmações a seguir:

- I. Para o diagnóstico de fenilcetonúria, recomenda-se que a amostra para exame seja colhida ao nascer para detecção do aumento quantitativo da fenilalanina.
- II. A doença falciforme é diagnosticada pelo teste do pezinho e o ideal é que o tratamento seja iniciado antes dos quatro meses de vida.
- III. A análise dos níveis de tripsina imunorreativa (IRT) é realizada para identificar casos de fibrose cística e as amostras de exames devem ser colhidas até 30 dias de vida do recém-nascido.

Assinale a alternativa correta:

- a) () Apenas I e II estão corretas.
- b) () Apenas II e III estão corretas.
- c) () Apenas I e III estão corretas.
- d) () Todas as alternativas estão corretas.

QUESTÃO 40

A Política Nacional de Atenção Hospitalar (PNHOSP), instituída por meio da Portaria de Consolidação n.º 2, de 28 de setembro de 2017, em seu art. 6º, inciso IV, define e recomenda a criação do Núcleo Interno de Regulação (NIR) nos hospitais. Sobre as funções desse órgão administrativo, assinale a alternativa incorreta:

- a) () Subsidia discussões tanto internas como externas (na rede de atenção à saúde), que permitam o planejamento da ampliação e/ou readequação do perfil de leitos hospitalares ofertados.
- b) () Qualifica os fluxos de acesso aos serviços e às informações no ambiente hospitalar.
- c) () Promove o uso dinâmico dos leitos hospitalares, por meio do aumento de rotatividade e monitoramento das atividades de gestão da clínica desempenhadas pelas equipes assistenciais.
- d) () Realiza ações assistenciais de alta complexidade para otimizar a utilização dos leitos e aumentar a taxa de ocupação nos diversos setores do hospital.

QUESTÃO 41

Segundo o novo Código de Ética da Enfermagem (Resolução do Conselho Federal de Enfermagem-COFEN n.º 564/2017), são proibições ao profissional de enfermagem no exercício profissional, EXCETO:

- a) () Permitir que seu nome conste no quadro de pessoal, mesmo quando não exercer nenhuma atividade profissional em uma determinada instituição ou estabelecimento.
- b) () Prescrever medicamentos que estejam estabelecidos em programas de saúde pública e/ou em rotina aprovada em instituição de saúde.
- c) () Praticar ato cirúrgico, exceto nas situações de emergência ou naquelas expressamente autorizadas na legislação, desde que possua competência técnica/científica necessária.

- d) () Executar procedimentos ou participar da assistência à saúde sem o consentimento formal da pessoa ou de seu representante ou responsável legal, exceto em iminente risco de morte.

QUESTÃO 42

As penalidades previstas no Código de Ética da Enfermagem de acordo com o tipo de infração estão contidas na coluna I. Estabeleça a correta correspondência com os significados/características apresentados na coluna II.

1. Multa.
2. Censura.
3. Cassação.
4. Suspensão.

() Perda do direito ao exercício da Enfermagem por um período de até 30 anos e será divulgada nas publicações do Sistema COFEN/Conselhos Regionais de Enfermagem e em jornais de grande circulação.

() Obrigatoriedade de pagamento de 01 (um) a 10 (dez) vezes o valor da anuidade da categoria profissional à qual pertence o infrator, em vigor no ato do pagamento.

() Proibição do exercício profissional da Enfermagem por um período de até 90 (noventa) dias e será divulgada nas publicações oficiais do Sistema COFEN/Conselhos Regionais de Enfermagem, jornais de grande circulação e comunicada aos órgãos empregadores.

() Repreensão que será divulgada nas publicações oficiais do Sistema COFEN e Conselhos Regionais de Enfermagem e em jornais de grande circulação.

Assinale a alternativa correta:

- a) () 3, 1, 2, 4.
- b) () 3, 1, 4, 2.
- c) () 2, 1, 4, 3.
- d) () 2, 4, 1, 3.

QUESTÃO 43

De acordo com a Lei nº 7. 498/86, de 25 de junho de 1986, que regulamenta o exercício profissional da enfermagem, compete ao enfermeiro, EXCETO:

- a) () Como integrante da equipe de saúde, identificação das distocias obstétricas e tomada de providências até a chegada do médico.
- b) () Participação em projetos de construção ou reforma de unidades de internação junto a equipe de saúde.
- c) () Prescrição da assistência de enfermagem.
- d) () Observar, reconhecer e descrever sinais e sintomas.

QUESTÃO 44

Segundo a Lei Orgânica da Saúde (Lei 8.080/90), que dispõe sobre as condições para a promoção, proteção e recuperação da saúde, a organização e o funcionamento dos serviços correspondentes, são atribuições do Sistema Único de Saúde (SUS):

- I. A formulação da política de medicamentos, equipamentos, imunobiológicos e outros insumos de interesse para a saúde e a participação na sua produção.
- II. Fiscalização e inspeção de alimentos, água e bebidas para consumo humano.
- III. A vigilância nutricional e a orientação alimentar.
- IV. A participação na formulação da política e na execução de ações de saneamento básico.

Assinale a alternativa correta:

- a) () Somente as afirmativas I, III e IV estão corretas.
- b) () Somente as afirmativas I, II e III estão corretas.
- c) () Somente as afirmativas I e IV estão corretas.
- d) () Todas as afirmativas estão corretas.

QUESTÃO 45

Compete à direção municipal do Sistema Único de Saúde (SUS), EXCETO:

- a) () Planejar, organizar, controlar e avaliar as ações e os serviços de saúde e gerir e executar os serviços públicos de saúde.
- b) () Formar consórcios administrativos intermunicipais.
- c) () Promover a descentralização para os Municípios dos serviços e das ações de saúde.
- d) () Controlar e fiscalizar os procedimentos dos serviços privados de saúde.

QUESTÃO 46

O Controle Social da Saúde, exercido por meio dos Conselhos de Saúde, permite a participação da sociedade no planejamento das políticas públicas, fiscalizar as ações do governo e verificar o cumprimento das leis do Sistema Único de Saúde (SUS). Sobre os Conselhos de Saúde, é INCORRETO afirmar que:

- a) () Os Conselhos de Saúde são órgãos colegiados, compostos por pessoas que representam diferentes grupos da sociedade, sendo 50% delas representantes de usuários.
- b) () Para garantir a representatividade de todos os segmentos da sociedade, entidades e movimentos sociais indicam, por escrito, representantes para atuarem como conselheiros de saúde, de acordo com o número de vagas existentes em cada conselho.
- c) () Um conselheiro não poderá perder seu mandato por excesso de faltas às reuniões.
- d) () As decisões do Conselho de Saúde serão adotadas mediante quórum mínimo (metade mais um) dos seus integrantes, ressalvados os casos regimentais em que se exija quórum especial, ou maioria qualificada de votos.

QUESTÃO 47

A Resolução nº 588/2018 instituiu a Política Nacional de Vigilância em Saúde (PNVS), que é uma política pública de Estado e função essencial do Sistema Único de Saúde (SUS), com caráter universal, transversal e orientador do modelo de atenção nos territórios. Sobre a PNVS, analise as afirmativas abaixo:

- I. A PNVS incide sobre todos os níveis e formas de atenção à saúde, abrangendo todos os serviços de saúde públicos, exceto os serviços privados.
- II. A PNVS tem o objetivo de contribuir para a integralidade na atenção à saúde com inserção de ações de vigilância em saúde em todas as instâncias e pontos da Rede de Atenção à Saúde do SUS.
- III. A PNVS tem o objetivo de abranger ações voltadas à saúde pública, com intervenções individuais ou coletivas, prestadas por serviços de vigilância sanitária, epidemiológica, em saúde ambiental e em saúde do trabalhador, em todos os pontos de atenção.
- IV. A PNVS tem o objetivo de avaliar o impacto de novas tecnologias e serviços relacionados à saúde de forma a prevenir riscos e eventos adversos.

Assinale a alternativa correta:

- a) () Todas as afirmativas estão corretas.
- b) () Todas as afirmativas estão incorretas.

- c) () Somente as afirmativas II, III e IV estão corretas.
d) () Somente as afirmativas I e IV estão incorretas.

QUESTÃO 48

No gerenciamento e na assistência de enfermagem, o enfermeiro deverá elaborar documentos necessários para a organização e funcionamento do serviço de enfermagem. Sobre os documentos, analise a coluna I e faça a devida correspondência com a coluna II.

Coluna I

1. Procedimentos Operacionais Padrão (POP).
2. Regimento Interno.
3. Normas.
4. Rotina.

Coluna II

- () Descrição sistematizada dos passos a serem adotados para realização das ações componentes de uma atividade, na sequência da execução.
- () Ato normativo aprovado pela administração superior da organização de saúde, de caráter flexível e que contém diretrizes básicas para o funcionamento do serviço de enfermagem.
- () Conjunto de regras ou instruções para fixar procedimentos, métodos, organização. São leis que definem as ações de enfermagem.
- () Descrição detalhada e sequencial de como uma atividade deve ser realizada. É sinônimo de técnica.

Assinale a alternativa correta:

- a) () 4, 3, 2, 1.
b) () 4, 2, 3, 1.
c) () 4, 3, 1, 2.
d) () 3, 4, 2, 1.

QUESTÃO 49

A Resolução COFEN N° 358/2009 dispõe sobre a Sistematização da Assistência de Enfermagem (SAE) nas Instituições de Saúde Brasileiras. Todas as alternativas estão corretas, EXCETO:

- a) () Ao enfermeiro compete a implantação, o planejamento e a organização do processo de enfermagem. Estando inserido em uma equipe de enfermagem, o enfermeiro poderá delegar aos técnicos de enfermagem a responsabilidade pela sistematização, mantendo para si a responsabilidade de avaliação.
- b) () As etapas a serem registradas no prontuário do paciente são: histórico de enfermagem, exame físico, diagnóstico de enfermagem, prescrição da assistência de enfermagem, evolução da assistência de enfermagem e relatório de enfermagem.
- c) () A SAE utiliza método e estratégia de trabalho científico para identificação das situações de saúde/doença, subsidiando ações de assistência de enfermagem que possam contribuir para a promoção da saúde do indivíduo, família e comunidade.
- d) () Diagnóstico de enfermagem é uma etapa em que o enfermeiro, após ter analisado os dados colhidos no histórico e exame físico, identificará os problemas de enfermagem, as necessidades básicas afetadas e grau de dependência, fazendo julgamento clínico sobre as respostas do indivíduo, da família e da comunidade, aos problemas, processos de vida vigentes ou potenciais.

QUESTÃO 50

O cateterismo vesical é utilizado em situações específicas e consiste na introdução de um tubo flexível na bexiga para permitir a drenagem da urina. Pode ser um sistema intermitente (cateterismo vesical de alívio) ou residente (cateterismo vesical de demora). Sobre o cateterismo vesical de demora, é correto afirmar que:

- a) () Para coletar amostras de urina no sistema fechado, desconectar o sistema e coletar a urina que sairá da sonda vesical para evitar obstrução.
- b) () O risco de infecção urinária após o cateterismo é muito maior nos pacientes do sexo masculino do que no feminino.
- c) () O sistema de drenagem aberto é preferível ao sistema fechado por diminuir o risco de infecção.
- d) () Quando o paciente for deambular ou ser transportado de maca ou cadeira de rodas, deve-se clampar a extensão conectada à sonda para evitar o fluxo retrógrado de urina.

QUESTÃO 51

Para atender demandas crescentes de prevenção e controle das Infecções Relacionadas à Assistência à Saúde (IRAS), é fortemente recomendado realizar a vigilância epidemiológica das pneumonias relacionadas à assistência a saúde, em especial a pneumonia associada a ventilação mecânica (PAV). [Brasil. Agência Nacional de Vigilância Sanitária- Medidas de Prevenção de Infecção Relacionada à Assistência à Saúde. Brasília: ANVISA, 2017]. Analise as afirmativas e coloque (V) nas Verdadeiras e (F) nas Falsas acerca das medidas específicas para prevenção da PAV.

- () Uma medida básica recomendada, por ser simples, de fácil aplicabilidade, com baixo risco de complicação, é manter o paciente com cabeceira elevada em 30° a 45°. Contribui também com a melhoria dos parâmetros ventilatórios em comparação com a posição supina.
- () A troca do circuito respiratório deve ser realizada apenas se ele estiver visivelmente sujo ou com mau funcionamento.
- () Uma medida de efeito moderado é a utilização de clorexidina a 0,12% para higiene oral.
- () Os produtos de assistência respiratória classificados como críticos devem ser submetidos à esterilização após adequada limpeza.

Assinale a alternativa correta:

- a) () V – F – V – F.
- b) () V – V – F – V.
- c) () V – V – V – V.
- d) () V – F – V – V.

QUESTÃO 52

As Infecções do Sítio Cirúrgico (ISC) são as complicações mais comuns decorrentes do ato cirúrgico, que ocorrem no pós-operatório em cerca de 3 a 20% dos procedimentos realizados, tendo um impacto significativo na morbidade e mortalidade do paciente. [Brasil. Agência Nacional de Vigilância Sanitária - Medidas de Prevenção de Infecção Relacionada à Assistência à Saúde. Brasília: ANVISA, 2017]. Sobre as medidas de controle a serem empregadas na fase pré-operatória, assinale a afirmativa INCORRETA.

- a) () Em cirurgias eletivas, de médio e pequeno porte, o banho pré-operatório deve ser realizado antes do encaminhamento ao Centro Cirúrgico, utilizando-se sabonete neutro.
- b) () A tricotomia pré-operatória deve ser realizada de rotina, sendo indicado o uso de lâminas.
- c) () Nos casos em que houver previsão de intubação orotraqueal, fazer higiene oral com clorexidina 0,12%.
- d) () Em cirurgias de urgência, o banho pré-operatório fica a critério da avaliação da equipe cirúrgica.

QUESTÃO 53

De acordo com a Resolução da Diretoria Colegiada (RDC) nº 15/2012, que dispõe sobre requisitos de boas práticas para o processamento de produtos para a saúde, a Central de Material e Esterilização (CME) deve conter estrutura física adequada e trabalhadores com capacitação específica e periódica para realizar o processamento de artigos. Acerca do trabalho desenvolvido na CME, julgue os itens abaixo:

- I. Os trabalhadores da CME deverão utilizar vestimenta privativa, touca e calçado fechado em todas as áreas técnicas e restritas.
- II. A CME só pode realizar o processamento do artigo que está devidamente regularizado na Agência Nacional de Vigilância Sanitária (ANVISA).
- III. Artigos críticos são todos aqueles utilizados em procedimentos invasivos que entram em contato com pele não íntegra ou mucosa íntegra colonizada.
- IV. A CME classe I deve possuir, no mínimo, barreira técnica entre o setor sujo e os setores limpos.

Das afirmações acima, está(ão) correta(s):

- a) () I, apenas.
- b) () I e II, apenas.
- c) () I e III, apenas.
- d) () I, II e IV, apenas.

QUESTÃO 54

D. Rosa, 68 anos, foi internada na clínica médica de um hospital geral com quadro clínico de hipertensão arterial (PA= 165/95 mm Hg), artralgia, dispneia e edema generalizado há uma semana, além de dificuldade para deambular pela diminuição da força muscular. Durante a anamnese, ela referiu alteração do apetite devido às dores e à fraqueza generalizada. Foi puncionado imediatamente acesso venoso periférico para administração da medicação prescrita e foram selecionados pelo Enfermeiro da clínica médica dois problemas de enfermagem para a elaboração do Plano Assistencial: edema generalizado e dificuldade para deambular. Levando em consideração os problemas eleitos e de acordo com a NANDA 2015-2017, identifique, respectivamente, os diagnósticos de enfermagem correspondentes. Assinale a alternativa correta:

- a) () Disposição para eliminação urinária melhorada relacionada à ingestão de líquidos adequada às necessidades diárias e caracterizada por retenção urinária e risco de síndrome do desuso, relacionada à dor intensa nas articulações e à imobilização mecânica, caracterizado por capacidade prejudicada de mover-se da posição PRONA para a posição sentada com as pernas alongadas.
- b) () Volume de líquidos excessivo relacionado a mecanismos reguladores comprometidos caracterizado por anasarca, alterações na PA e dispneia. Deambulação prejudicada relacionada à artralgia, caracterizada por diminuição da força muscular e por capacidade prejudicada para percorrer as distâncias necessárias.
- c) () Risco de desequilíbrio do volume de líquidos relacionado à hipertensão arterial caracterizado por pressão venosa aumentada e mobilidade no leito prejudicada relacionada à força muscular insuficiente e a limitações ambientais, caracterizada pela capacidade prejudicada de reposicionar-se na cama.
- d) () Risco de desequilíbrio eletrolítico relacionado à disfunção endócrina e à disfunção renal, caracterizado por mecanismos reguladores prejudicados e mobilidade física prejudicada relacionada ao estilo de vida sedentário, caracterizada pela capacidade limitada para desempenhar as habilidades motoras finas e para deambular.

QUESTÃO 55

Em relação aos aspectos legais e éticos dentro das situações de emergência, há que se considerar atitudes que servem como agravantes a determinada conduta errônea tomada durante assistência ao paciente. Sendo assim, em uma situação de emergência médica em que um profissional da equipe, mesmo tendo conhecimento da maneira correta de proceder, tendo a capacidade teórica e prática de executar a assistência, procede de maneira errada, numa ação precipitada e sem cautela, (ou seja, ele age, de maneira equivocada), pode-se dizer que houve, portanto:

- a) () Negligência.
- b) () Imprudência.
- c) () Imperícia.
- d) () Omissão de socorro.

QUESTÃO 56

A Escala de Coma de Glasgow (ECG), publicada pela primeira vez em 1974, até hoje é usada como medida clínica objetiva da gravidade da lesão cerebral em pacientes, incluindo os politraumatizados. Em 2018, foram realizadas atualizações da ECG, incluindo mais um item a ser avaliado. Assinale a alternativa que descreve todos os parâmetros de avaliação da ECG:

- a) () Dimensionar a lesão cerebral utilizando-se os parâmetros: abertura ocular, reflexo fotomotor e resposta verbal.
- b) () Verificar hematoma intracraniano e analisar os parâmetros: midríase, resposta verbal e resposta motora.
- c) () Avaliar o nível de consciência por meio dos parâmetros: abertura ocular, resposta verbal, resposta motora e avaliação pupilar.
- d) () Diagnosticar trauma crânio-encefálico por meio dos parâmetros: midríase, otorragia e resposta motora.