



Concurso Público Edital n.001/2019 – Prefeitura Municipal de Rio Verde- GO

Caderno de questões - Médico Dermatologista

DISCIPLINAS - Língua Portuguesa, Matemática, Conhecimentos Específicos.

INSTRUÇÕES

- * Não se comunique, em hipótese alguma, com outros candidatos.
- * Não é permitida a consulta a apontamentos, livros ou dicionários.
- * Solicite a presença do fiscal em caso de necessidade.
- * A prova consta de 56 questões, sendo 12 de Língua Portuguesa, 12 de Matemática e 32 de Conhecimentos Específicos, com 04 (quatro) proposições, A, B, C e D. O candidato deverá assinalar (X) na alternativa correta correspondente em cada questão, transportando depois o resultado para o Cartão-Resposta.
- * Para marcar no Cartão-Resposta, utilize caneta esferográfica de tinta azul ou preta.
- * Confira, no Cartão-Resposta, o número de sua inscrição, seu nome e assine no espaço adequado.
- * Em nenhuma hipótese será distribuída cópia do Cartão-Resposta, que é identificado eletronicamente.
- * Não serão consideradas as respostas que não forem transportadas para o Cartão-Resposta.
- * Verifique se o seu Caderno de Questões apresenta todas as folhas numeradas corretamente. Caso haja algum problema, comunique o fiscal de sala.

Cronograma (resumo) das principais datas referentes ao Concurso Público

Data	Ação/Evento
18/08/19	Divulgação dos Gabaritos Preliminares das Provas Objetivas.
23/08/19	Divulgação do Gabarito Oficial das Provas Objetivas.
30/08/19	Divulgação do Resultado Preliminar das Provas Objetivas.
13/09/19	Divulgação do Resultado Final das Provas Objetivas, após análise do(s) recurso(s).
16/09/19	Convocação dos candidatos aos cargos de nível superior classificados para apresentação dos documentos da Prova de Títulos.
30/09/19	Divulgação do Resultado Preliminar das Provas de Títulos (cargos de nível superior) e das Provas de Redação (cargos de nível médio/técnico).
09/10/19	Divulgação do Resultado Definitivo após a análise do(s) recurso(s) contra o resultado preliminar das Provas de Títulos (cargos de nível superior) e das Provas de Redação (cargos de nível médio/técnico).
10/10/19	Divulgação da Classificação Final do Concurso.

LÍNGUA PORTUGUESA

Leia o texto abaixo e responda às questões de 01 a 04.

Texto 1: Sermão de Santo Antônio aos peixes – Pe. Antônio Vieira

Vós, diz Cristo, Senhor nosso, falando com os pregadores, sois o sal da terra: e chama-lhes sal da terra, porque quer que façam na terra o que faz o sal. O efeito do sal é impedir a corrupção; mas quando a terra se vê tão corrupta como está a nossa, havendo tantos nela que têm ofício de sal, qual será, ou qual pode ser a causa desta corrupção? Ou é porque o sal não salga, ou porque a terra se não deixa salgar. Ou é porque o sal não salga, e os pregadores não pregam a verdadeira doutrina; ou porque a terra se não deixa salgar e os ouvintes, sendo verdadeira a doutrina que lhes dão, a não querem receber. Ou é porque o sal não salga, e os pregadores dizem uma cousa e fazem outra; ou porque a terra se não deixa salgar, e os ouvintes querem antes imitar o que eles fazem, que fazer o que dizem. Ou é porque o sal não salga, e os pregadores se pregam a si e não a Cristo; ou porque a terra se não deixa salgar, e os ouvintes, em vez de servir a Cristo, servem a seus apetites. Não é tudo isto verdade? Ainda mal!

Suposto, pois, que ou o sal não salgue ou a terra se não deixe salgar; que se há-de fazer a este sal e que se há-de fazer a esta terra? O que se há-de fazer ao sal que não salga, Cristo o disse logo: *Quod si sal evanuerit, in quo salietur? Ad nihilum valet ultra, nisi ut mittatur foras et conculcetur ab hominibus.* «Se o sal perder a substância e a virtude, e o pregador faltar à doutrina e ao exemplo, o que se lhe há-de fazer, é lançá-lo fora como inútil para que seja pisado de todos.» Quem se atrevera a dizer tal cousa, se o mesmo Cristo a não pronunciara? Assim como não há quem seja mais digno de reverência e de ser posto sobre a cabeça que o pregador que ensina e faz o que deve, assim é merecedor de todo o desprezo e de ser metido debaixo dos pés, o que com a palavra ou com a vida prega o contrário.

Disponível em:

<http://www.biblio.com.br/defaultz.asp?link=http://www.biblio.com.br/conteudo/padreantoniovieira/stoantonio.htm>

QUESTÃO 1

De acordo com o texto, assinale a alternativa correta:

- a) () Predomina a tipologia argumentativa, em que o autor expõe sua ideia de forma imparcial, prendendo-se ao caráter informativo do enunciado.
- b) () O autor faz uma série de analogias com a intenção de esclarecer o tema central: a importância do Evangelho.
- c) () Predomina a função poética da linguagem, uma vez que o autor dá maior realce à própria forma do texto do que ao conteúdo em si.
- d) () O autor inicia fazendo referência a um trecho do Evangelho construído em linguagem figurada (“sois o sal da terra”), para depois explicar o seu sentido aplicado à realidade local.

QUESTÃO 2

De acordo com texto, o autor defende a tese de que:

- a) () Se há corrupção em terra com tantos pregadores, deve haver algum problema com os pregadores ou com seus ouvintes.
- b) () O sal deve impedir a corrupção.
- c) () A corrupção dentro da Igreja afeta a população.
- d) () Os pregadores cumprem mal o seu papel porque não conseguem fazer com que seus fiéis corrijam seu comportamento.

QUESTÃO 3

De acordo com o texto, sobre os argumentos apresentados pelo autor, assinale a alternativa INCORRETA:

- a) () O autor levanta a hipótese de que os pregadores pregam uma doutrina falsa.

- b) () O autor levanta a hipótese de que pode haver dissonância entre o que dizem os pregadores e o que fazem.
- c) () O autor levanta a hipótese de que os ouvintes podem estar interessados na doutrina, mas não conseguem colocá-la em prática.
- d) () O autor levanta a hipótese de que a mensagem do Cristo pode não ser o verdadeiro foco nem de pregadores nem de ouvintes.

QUESTÃO 4

Sobre o segundo parágrafo do texto acima, assinale a alternativa INCORRETA:

- a) () Para reforçar sua posição, o autor lança mão de um argumento usado por Cristo.
- b) () Todo pregador que ensina e faz o seu dever merece ser respeitado.
- c) () O autor demonstra rejeição ao pregador cujo comportamento é contrário ao que prega.
- d) () Todo pregador equivale ao sal que não salga.

Leia o texto abaixo e responda as questões 05 e 06.

Texto 2

Eu tinha onze anos quando tio Baltazar chegou da primeira vez. Estava casado de novo, mas veio sozinho e com fama de muito rico. Relembrando aqueles tempos, meu pai me disse que depois de alguns dias aqui tio Baltazar pensou em desistir da Companhia e voltar. Agora eu pergunto de novo: se ele tivesse voltado naquela ocasião, será que ainda estaria vivo? E se ele não tivesse fundado a Companhia, será que teríamos passado por tudo o que passamos? Mas perguntar essas coisas agora é o mesmo que dizer que se o bezerro da vizinha não tivesse morrido ainda estaria vivo. Estou aqui para falar do que aconteceu, e não do que deixou de acontecer.

Tio Baltazar. Um nome, a fama, muitas fotografias — assim era que eu o conhecia. Parece que ele achava absolutamente necessário a pessoa tirar retrato todo mês, ou toda semana. Frequentemente mamãe recebia uma fotografia dele tirada em estúdio de retratista ou ao ar livre por algum amigo. Lembro-me especialmente de uma, tirada ao volante de um lustroso carro esporte que os entendidos aqui diziam ser de fabricação italiana e muito caro: tio Baltazar aparecia com o braço esquerdo descansando na porta do carro, o cabelo repartido no meio, camisa de gola aberta dobrada sobre o paletó xadrez igual aos que os artistas de cinema estavam usando, piteira com cigarro na boca, sorriso de rico no rosto simpático. Essa fotografia, com dedicatória para mamãe, fez o maior sucesso entre nossos amigos, além de vê-la muitos queriam mostrar a outros. Entre zelosa e vaidosa, mamãe emprestava; mas se a pessoa demorava a devolver, eu recebia a missão de ir buscá-la, um documento daquela importância não podia passar muito tempo em mãos profanas.

Se estou aqui para contar a verdade, não posso esconder o meu desapontamento quando vi tio Baltazar descendo do carro em nossa porta. No primeiro momento pensei que fosse outra pessoa, um amigo ou empregado. O cabelo era bem mais ralo e não estava mais repartido ao meio, acho que porque essa moda já tinha passado. E o rosto não era tão moço como o das fotografias. Mas o que me decepcionou mesmo, até me assustou, foi a falta de um braço. Onde estava o braço esquerdo que descansava na porta do carro na fotografia famosa? Vendo-o sair do carro ajudado pelo chofer, a manga vazia do paletó metida no bolso, a bela imagem de um tio campeão em muitos esportes virou fumaça ali mesmo. Eu já tinha visto pessoas sem perna, sem braço, sem mão, até um homem sem nariz eu vi de joelhos ao meu lado na igreja na Semana Santa: mas não eram meus tios. Fiquei tão decepcionado que fui me esconder no porão e nem apareci para o jantar. É difícil entender, mas pensando no meu procedimento naquele dia parece que eu acusava tio Baltazar de ter cortado o braço só para me humilhar diante de meus amigos.

(VEIGA, José J. **Sombras de reis barbudos**. Rio de Janeiro: Bertrand Brasil, 1989. p. 2-4).

QUESTÃO 5

Sobre o texto 2, assinale a alternativa correta:

- a) () O narrador é um adolescente que expressa seu ressentimento por ter sido humilhado pelo tio.
- b) () No início do trecho, o narrador tenta imaginar como teria sido aquela realidade caso decisões diferentes tivessem sido tomadas.
- c) () Inicialmente, o narrador não reconhece o tio quando o vê pessoalmente, confundido pela aparência mais envelhecida que o tio tinha nas fotografias.
- d) () O narrador já estava acostumado a ver pessoas sem partes do corpo, por isso não se impressionou quando viu o tio sem um braço.

QUESTÃO 6

Sobre o texto 2, assinale a alternativa INCORRETA:

- a) () As fotos enviadas pelo tio rico davam à mãe do narrador certa distinção na comunidade.
- b) () No trecho “tio Baltazar aparecia com o braço esquerdo descansando na porta do carro, o cabelo repartido no meio, camisa de gola aberta dobrada sobre o paletó xadrez igual aos que os artistas de cinema estavam usando, piteira com cigarro na boca, sorriso de rico no rosto simpático”, pode-se identificar tipologia textual descritiva, que predomina no texto como um todo.
- c) () O texto realça a distinção entre aparência e realidade, e como o contraponto entre as duas pode ser decepcionante.
- d) () Predomina no texto a função expressiva ou emotiva da linguagem.

Leia o texto abaixo e responda às questões 07 e 08.

Texto 3 - O homem trocado – Luís Fernando Veríssimo

O homem acorda da anestesia e olha em volta. Ainda está na sala de recuperação. Há uma enfermeira do seu lado. Ele pergunta se foi tudo bem.

- Tudo perfeito - diz a enfermeira, sorrindo.

- Eu estava com medo desta operação...

- Por quê? Não havia risco nenhum.

- Comigo, sempre há risco. Minha vida tem sido uma série de enganos...

Ele conta que os enganos começaram com seu nascimento. Houve uma troca de bebês no berçário e ele foi criado até os dez anos por um casal de orientais, que nunca entenderam o fato de terem um filho claro com olhos redondos. Descoberto o erro, ele fora viver com seus verdadeiros pais. Ou com sua verdadeira mãe, pois o pai abandonara a mulher depois que esta não soubera explicar o nascimento de um bebê chinês.

- E o meu nome? Outro engano.

- Seu nome não é Lírio?

- Era para ser Lauro. Se enganaram no cartório e...

Os enganos se sucediam. Na escola, vivia recebendo castigo pelo que não fazia. Fizera o vestibular com sucesso, mas não conseguira entrar na universidade. O computador se enganara, seu nome não apareceu na lista.

- Há anos que a minha conta do telefone vem com cifras incríveis. No mês passado tive que pagar mais de R\$ 3 mil.

- O senhor não faz chamadas interurbanas?

- Eu não tenho telefone!

Conhecera sua mulher por engano. Ela o confundira com outro. Não foram felizes.

- Por quê?

- Ela me enganava.

Fora preso por engano. Várias vezes. Recebia intimações para pagar dívidas que não fazia. Até tivera uma breve, louca alegria, quando ouvira o médico dizer:

- O senhor está desenganoado.

Mas também fora um engano do médico. Não era tão grave assim. Uma simples apendicite.

- Se você diz que a operação foi bem...

A enfermeira parou de sorrir.

- Apendicite? - perguntou, hesitante.

- É. A operação era para tirar o apêndice.

- Não era para trocar de sexo?

QUESTÃO 7

Considerando os mecanismos de coesão no texto 3, assinale a alternativa que apresenta correta correspondência entre o termo destacado e o respectivo elemento de referência.

- a) () “esta”, em “que esta não soubera explicar o nascimento de um bebê chinês”, refere-se a “mãe”.
- b) () “ela”, em “Ela o confundira com outro”, refere-se a “enfermeira”.
- c) () “que”, em “que não fazia”, refere-se a “intimações”.
- d) () “que”, em “que esta não soubera explicar o nascimento de um bebê chinês”, refere-se a “enfermeira”.

QUESTÃO 8

Em relação ao(s) tipo(s) de discurso, pode-se afirmar que o trecho abaixo está escrito em:

Fora preso por engano. Várias vezes. Recebia intimações para pagar dívidas que não fazia. Até tivera uma breve, louca alegria, quando ouvira o médico dizer:

- O senhor está desenganoado.

Mas também fora um engano do médico. Não era tão grave assim. Uma simples apendicite.

- Se você diz que a operação foi bem...

A enfermeira parou de sorrir.

- Apendicite? - perguntou, hesitante.

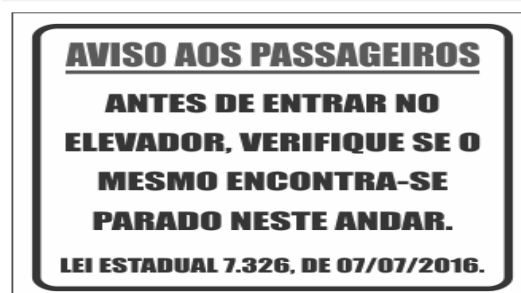
- É. A operação era para tirar o apêndice.

- Não era para trocar de sexo?

- a) () discurso direto.
- b) () discurso indireto.
- c) () discurso indireto livre.
- d) () discurso direto e indireto.

QUESTÃO 9

Leia a placa e assinale a alternativa correta:



- a) () Não se deve usar a palavra "mesmo" como pronome pessoal.
- b) () O vocábulo “mesmo” está corretamente utilizado (de acordo com a norma culta) como elemento substitutivo do substantivo “elevador”.

- c) () A palavra “mesmo” na placa desempenha a função de substantivo, cujo sentido se refere a “mesma coisa”.
- d) () O vocábulo “mesmo” se apresenta como advérbio (portanto, invariável), com o significado de “justamente, até, ainda, realmente”.

QUESTÃO 10

Assinale a alternativa correta em relação à concordância:

- a) () Houveram muitos protestos em relação à proposta de emenda constitucional.
- b) () A aquisição de novos equipamentos para o setor de produção trouxeram facilidades para os trabalhadores da indústria.
- c) () Depois de longas discussões entre os diplomatas, ainda prevalecia a desconfiança e o rancor.
- d) () Ela estava meia cansada após um longo dia de trabalho.

QUESTÃO 11

Em “Paulo se acusava pelo mau andamento dos negócios na empresa”, a voz do verbo é:

- a) () Passiva analítica.
- b) () Passiva sintética.
- c) () Reflexiva.
- d) () Ativa.

QUESTÃO 12

Leia a placa e assinale a alternativa correta:



Na placa, observa-se o emprego de uma regra de concordância nominal na construção “É proibido comer e beber nesta área”. Tal regra está sendo transgredida na seguinte opção:

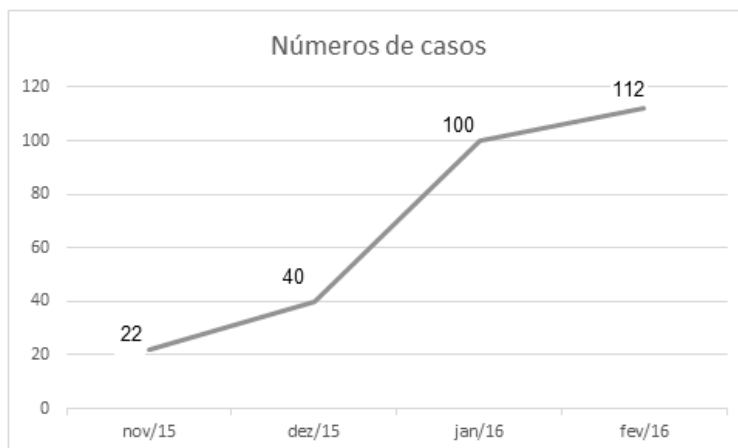
- a) () É proibida a entrada de menores.
- b) () É proibida alimentação de mamíferos.
- c) () É proibido circulação de pessoas.
- d) () É proibido uso de celulares.

MATEMÁTICA

QUESTÃO 13

O Zika Vírus (ZKV) é transmitido pelos mosquitos *Aedes aegypti* (o mesmo transmissor da dengue e da febre chikungunya) e o *Aedes albopictus*. O vírus Zika teve sua primeira aparição registrada em 1947, quando foi encontrado em macacos da Floresta Zika, em Uganda. Entretanto, somente em 1954, os primeiros casos em seres humanos foram relatados, na Nigéria. Esse vírus atingiu a Oceania em 2007 e a Polinésia Francesa no ano de 2013. O Brasil notificou os primeiros casos de Zika vírus em 2015, no Rio Grande do Norte e na Bahia. Atualmente, sua presença já está documentada em cerca de 70 países. A

seguir, tem-se a representação gráfica do aumento de casos no Brasil no período entre novembro de 2015 a fevereiro de 2016.



Pode-se afirmar que a porcentagem do aumento de casos de Zika Vírus no período de novembro/2015 a fevereiro/ 2016 é de aproximadamente:

- a) () 209,09%
- b) () 309,09%
- c) () 409,09%
- d) () 509,09%

QUESTÃO 14

Albert Einstein previu, no século passado, que se as abelhas desaparecessem da superfície da Terra, o homem teria apenas mais quatro anos de vida. A morte em grande escala desse animal, interpretada como apocalíptica na época, é hoje um alerta real. Desde o começo do século, casos de morte e sumiço de abelhas são registrados nos Estados Unidos e na Europa. No Brasil, estudiosos destacam episódios alarmantes a partir de 2005. Agora, o fenômeno parece chegar ao ápice. Nos últimos três meses, mais de 500 milhões de abelhas foram encontradas mortas por apicultores apenas em quatro estados brasileiros, segundo levantamento da Agência Pública e Repórter Brasil.

(Fonte: <https://envolverde.cartacapital.com.br/apicultores-brasileiros-encontram-meio-bilhao-de-abelhas-mortas-em-tres-meses/>).

Em 2018, pesquisas realizadas por Apicultores da Região Sul do Brasil constataram que, devido à grande presença de agrotóxicos neonicotinoides (principais inimigos das abelhas), a população P de determinada espécie de abelhas morre segundo a função $P(t) = 250 \cdot 2^t$, onde t está medido em minutos. O tempo necessário para que o agrotóxico elimine 2000 abelhas é de:

- a) () 3 minutos.
- b) () 4 minutos.
- c) () 5 minutos.
- d) () 6 minutos.

QUESTÃO 15

Segundo a ABRE - Associação Brasileira de Embalagens, a embalagem é o principal elemento de conexão e de comunicação entre o consumidor, o produto e a marca. É um dos principais fatores que impulsionam a venda do produto. Se a embalagem não for condizente com o produto, não chamar a atenção de quem o compra, a chance do consumidor não perceber o produto é maior.

(Fonte: <https://o3design.com.br/a-importancia-da-embalagem/>).

O Boticário é uma das grandes marcas brasileiras que mais investe em design de suas embalagens. Dentre os mais variados produtos de grande sucesso está o Lily Creme Acetinado Hidratante Desodorante Corporal, com manteiga de karité, que promove uma hidratação intensa de rápida absorção, deixando a pele macia e acetinada. Atualmente, a embalagem desse produto é uma caixa de vidro no formato de um cubo de lado 12 cm. Considerando essas dimensões, pode-se afirmar que o volume de creme hidratante dentro dessa caixa é de:

- a) () 24 ml.
- b) () 720 ml.
- c) () 1440 ml.
- d) () 1728 ml.

QUESTÃO 16

A Superintendência de Proteção aos Direitos do Consumidor (Procon Goiás) monitora periodicamente os preços de combustíveis em postos de todo o estado. A tabela a seguir foi construída com base na tomada de preços a cada 10 dias em um posto da capital do estado.

Gasolina	4,37	4,48	4,56	4,89	4,66	4,78
Álcool	2,88	2,78	2,67	2,67	2,88	2,99

(Fonte: <https://www.emaisgoias.com.br/procon-goias-e-mp-investigam-possivel-reajuste-abusivo-no-preco-do-combustivel/>).

O preço médio da gasolina e do álcool nesse período é de:

- a) () R\$ 4,54 e R\$ 2,06.
- b) () R\$ 4,62 e R\$ 2,81.
- c) () R\$ 4,71 e R\$ 2,70.
- d) () R\$ 4,48 e R\$ 2,66.

QUESTÃO 17

Alguns processos judiciais costumam levar meses ou anos para se resolverem. Nos casos em que a pessoa tem pressa para resolver a sua situação, os acordos judiciais podem ser de grande ajuda. Buscando agilizar a solução de casos com uma proposta adequada a ambas as partes, os acordos poupam as pessoas envolvidas dos longos prazos de recursos e periódicas análises a serem realizadas pelo juiz. Os advogados de um determinado sindicato, em uma audiência com o juiz de causas trabalhistas, apresentaram a seguinte proposta de acordo: uma indenização de R\$ 60.000,00 e multa de R\$ 2,00 (que dobraria a cada dia de atraso). Qual é o número de dias para que essa multa atinja a quantia de R\$ 1.000.000,00? (Considere $\log 2 = 0,30$).

- a) () 10 dias
- b) () 20 dias.
- c) () 30 dias.
- d) () 40 dias.

QUESTÃO 18

O vício em games é um tipo de vício comportamental em que a pessoa deixa de fazer suas atividades diárias para ficar jogando, o que compromete atividades básicas do cotidiano, como higiene pessoal, alimentação, trabalho e/ou estudos, vida social etc. Além disso, a pessoa chega ao ponto em que continua ou aumenta a frequência do jogar apesar da ocorrência de consequências negativas. Esse descontrole do ato de jogar deve ser recorrente por mais de 12 meses. Pessoas que conseguem se focar nas outras atividades e se desligar do jogo não entram nesta categoria.

(Fonte: <https://www.minhavidacom.br/saude/temas/vicio-em-games>).

Alguns jogos de games são tão envolventes que o jogador não se dá conta do tempo investido para encerrar todas as fases. Considera-se que o tempo para superar todas as fases de um game é dado pela função $T(t) = 6t^3 + 12t^2 - 12t + 8$, onde t é em horas por dia. Sabe-se que o jogador vencedor jogava durante 4 horas por dia. Nessas condições, foram necessários aproximadamente quantos dias para superar todas as fases?

- a) () 8
- b) () 18
- c) () 22
- d) () 32

QUESTÃO 19

Na empresa de cosméticos do Sr. Antônio Goulart, no setor de expedição, 10 carregadores, trabalhando em um mesmo ritmo, carregam 50 caixas em 1 hora. Em quanto tempo 8 carregadores, trabalhando nesse mesmo ritmo, carregam 40 caixas?

- a) () 1 hora.
- b) () 30 minutos.
- c) () 2 horas.
- d) () 2 horas e 30 minutos.

QUESTÃO 20

O atual sistema financeiro utiliza o regime de juros compostos, pois ele oferece uma maior rentabilidade se comparado ao regime de juros simples, em que o valor dos rendimentos torna-se fixo. O juro composto incide mês a mês de acordo com o somatório acumulativo do capital com o rendimento mensal, isto é, prática do juro sobre juro. As modalidades de investimentos e financiamentos são calculadas de acordo com esse modelo de investimento, pois ele oferece um maior rendimento e, conseqüentemente, mais lucro.

A expressão matemática que permite calcular o valor do montante (valor acumulado) no regime de capitalização composta é

$$M = C(1 + i)^t, \text{ onde:}$$

M = montante

C = capital

i = taxa

t = tempo

Determine o valor do montante produzido por um capital de R\$ 3.000,00, aplicado a juros compostos de 5% ao mês, durante um ano. Considere $1,05^{12} = 1,8$.

- a) () R\$ 3.800,00
- b) () R\$ 4.300,00
- c) () R\$ 4.950,00
- d) () R\$ 5.400,00

QUESTÃO 21

Os jogos de azar são jogos nos quais os que têm sorte são os que ganham com o azar dos outros jogadores, devido à diferença de probabilidades entre a sorte e o azar. Como as chances da sorte são escassas, são muitos mais os que têm azar, daí que tais jogos são sustentáveis através das perdas dos jogadores que financiam os que vão ter a sorte. A sorte de ganhar ou perder não depende da habilidade do jogador, mas exclusivamente de uma contingência natural baseada numa realidade produzida chamada de

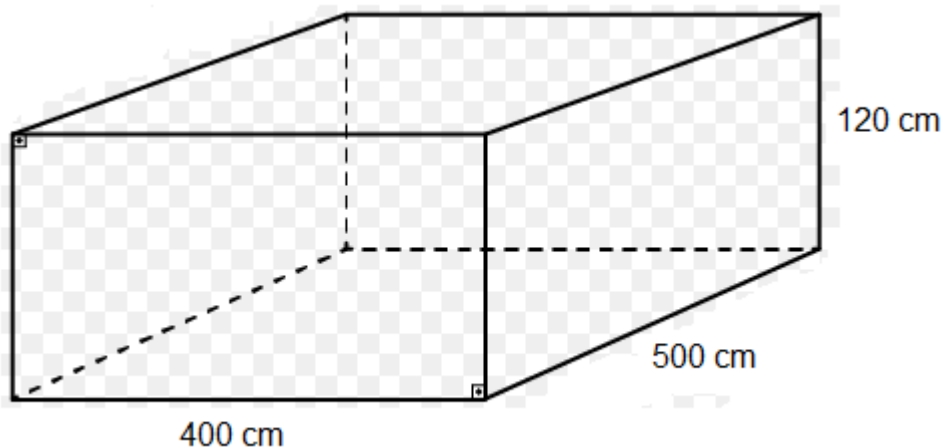
probabilidade matemática.

Lançando um dado duas vezes, qual é a probabilidade de se obter número ímpar no primeiro e no segundo lançamento?

- a) () 25%
- b) () 50%
- c) () 75%
- d) () 100%

QUESTÃO 22

Carlos e Ana Paula, casados há 10 anos, acabam de realizar o sonho de construir uma piscina no quintal de casa. As dimensões da piscina estão representadas na figura a seguir:



O valor do litro de água praticado pela Companhia de Abastecimento de Água da cidade de Carlos e Ana é de R\$ 0,05. Qual é o valor gasto para encher completamente a piscina com água fornecida por essa companhia?

- a) () R\$ 500,00
- b) () R\$ 600,00
- c) () R\$ 1.200,00
- d) () R\$ 1.800,00

QUESTÃO 23

A água é fonte da vida. Não importa quem somos, o que fazemos, onde vivemos, nós dependemos dela para viver. No entanto, por maior que seja a importância da água, as pessoas continuam poluindo os rios e destruindo as nascentes, esquecendo o quanto ela é essencial para nossas vidas.

A água é, provavelmente, o único recurso natural que tem a ver com todos os aspectos da civilização humana, desde o desenvolvimento agrícola e industrial aos valores culturais e religiosos arraigados na sociedade.

No Brasil, em lugares onde a quantidade de água é escassa, a população utiliza cisternas para captação e armazenamento da água da chuva.

No esvaziamento de uma determinada cisterna contendo água da chuva, a expressão

$$V(t) = -\frac{1}{450}t^2 + 2$$

representa o volume (em m³) de água presente no tanque no instante t (em minutos). Qual é o tempo necessário para que o tanque seja esvaziado?

- a) () 10 minutos.
- b) () 20 minutos.
- c) () 30 minutos.
- d) () 40 minutos.

QUESTÃO 24

Em uma determinada loja de roupas, o salário mensal de cada vendedor (a) é determinado da seguinte forma:

- Valor fixo de R\$ 940,00;
- Comissão de 3% sobre o total da venda .

Qual será o salário de uma vendedora que fechou o mês com um valor total de vendas de R\$ 34.000,00?

- a) () R\$ 1.540,00.
- b) () R\$ 1.630,00.
- c) () R\$ 1.870,00.
- d) () R\$ 1.960,00.

CONHECIMENTOS ESPECÍFICOS

QUESTÃO 25

Um paciente apresenta, há 9 meses, lesões infiltradas, de limites imprecisos, disseminadas pelo tegumento, associadas a infiltração dos pavilhões auriculares, obstrução nasal crônica e madarose superciliar. A pesquisa de sensibilidade nas lesões é duvidosa, pois o paciente às vezes percebe o teste térmico nas lesões. A avaliação com monofilamentos revela pontos de anestesia nos pés. A baciloscopia do raspado intradérmico é positiva. Diante destes achados, qual a melhor conduta?

- a) () Definir o diagnóstico clínico de hanseníase dimorfa e iniciar o tratamento com esquema PQT/PB, orientando sobre o risco de lesões traumáticas nos pés.
- b) () Fazer uma biópsia de pele e aguardar o laudo do exame histopatológico para poder definir a forma clínica e o tipo de tratamento.
- c) () Definir o diagnóstico clínico de hanseníase virchowiana e iniciar o tratamento com PQT/MB.
- d) () Realizar coleta de sangue para exame sorológico anti-PGL1 e aguardar o resultando antes de definir se o tratamento deve ser com esquema pauci ou multibacilar.

QUESTÃO 26

Mulher em pré-natal da segunda gravidez, ao ser indagada pelo novo médico sobre mancha no corpo, refere mácula hipocrômica na perna direita há anos, que vem gradativamente se tornando mais espessa e eritematosa, associada a descamação e alopecia no local. Como a lesão não coça, não dói e não arde e a paciente não imaginava que fosse um problema, nunca se queixou. Frente à anamnese sugestiva de hanseníase num país endêmico, a não discriminação do toque ao monofilamento vermelho (quente/frio) e a detecção de mais de 6 lesões semelhantes, qual a conduta a ser adotada?

- a) () Iniciar PQT-MB e coletar exames.
- b) () Iniciar PQT-MB se baciloscopia positiva.
- c) () Iniciar PQT-MB após confirmação histopatológica.
- d) () Iniciar PQT-MB após o parto se hemograma, funções hepática e renal, PPF e Urina tipo 1 inalterados.

QUESTÃO 27

Um paciente vai ao ambulatório de pequenas cirurgias para exérese de dermatofibroma na coxa direita, realizada sem intercorrências. No seu retorno, após 14 dias, traz o exame histopatológico, que revela infiltrado fibro-histiocítico superficial e profundo de padrão fusocelular. Na coloração de Faraco-Fite, foram encontrados incontáveis bacilos álcool-ácido resistentes em ramos nervosos e em todos os componentes da pele. Assinale a alternativa que apresenta o diagnóstico correto deste paciente.

- a) () Hanseníase de Lúcio.
- b) () Hanseníase dimorfa-virchowiana.
- c) () Hanseníase histoide.
- d) () Hanseníase virchowiana com eritema nodoso hansênico.

QUESTÃO 28

Mulher de 16 anos, na vigência de tratamento com PQT-MB para hanseníase com baciloscopia 6+, apresenta no sexto mês de tratamento quadro dermatológico compatível com Eritema Nodoso Necrotizante (ENN), associado a adenite, iridociclite e elevação de enzimas hepáticas, bilirrubinas e PCR. Hematúria e anemia complementam o quadro.

Além do cuidado das lesões ulceradas, colírio lubrificante e transfusão de sangue se hemoglobina inferior a seis, pesquisas de coinfeções e/ou comorbidades mais frequentes, introdução da prednisona 1mg/kg após prevenção de estrogiloidíase e osteoporose, o que mais deve ser realizado no seguimento desta paciente?

- a) () Suspender rifampicina até controle hepático.
- b) () Manter PQT-MB e introduzir talidomida 300mg/dia.
- c) () Suspender dapsona até controle da anemia.
- d) () Suspender PQT até controle do ENN e dos exames laboratoriais.

QUESTÃO 29

Paciente do sexo masculino, 25 anos, apresenta quadro de saliências lineares (sulcos), cujas extremidades apresentam vésico-pápulas, algumas recobertas por crostas, extremamente pruriginosas, localizadas nos espaços interdigitais das mãos, axilas, abdome inferior e pênis. O diagnóstico mais provável é:

- a) () Dermatite herpetiforme.
- b) () Escabiose.
- c) () Pediculose.
- d) () Miíase.

QUESTÃO 30

Paciente, sexo feminino, caucasiana, 40 anos de idade, previamente hígida, queixa-se de alopecia de supercílios há um ano, tendo sido tratada com infiltrações intralesionais de triancinolona, com repilação temporária. À dermatoscopia da área acometida, notam-se pontos amarelos e pontos pretos.

Considerando esse caso, avalie as assertivas abaixo em verdadeiro ou falso:

- () As principais hipóteses diagnósticas incluem: alopecia areata, tricotilomania e alopecia frontal fibrosante.
- () A ausência de pelos peládicos à dermatoscopia não exclui a possibilidade de alopecia areata.
- () O exame dermatoscópico da linha de implantação frontotemporal do couro cabeludo contribui para o diagnóstico de alopecia frontal fibrosante, ao demonstrar presença de pelos *velus*.
- () A repilação induzida pelo tratamento confirma o diagnóstico de alopecia areata.

Assinale a alternativa correta:

- a) () V V F V.
- b) () F V V V.
- c) () V F F V.
- d) () V V F F.

QUESTÃO 31

Em relação aos tumores cutâneos, analise as alternativas abaixo.

- I. São considerados tipos de ceratoacantoma: solitário, múltiplo, marginado e gigante.
- II. São considerados subtipos de ceratoacantoma: eruptivo, liquenoide, subungueal e confluyente.
- III. O ceratoacantoma integra as seguintes síndromes: Ferguson-Smith, Grzybowski, Gorlin e Zak.
- IV. O vemurafenibe, utilizado no tratamento do melanoma metastático, é capaz de desencadear ceratoacantoma em mais de 25% dos pacientes rapidamente (< 2 meses).

Assinale a alternativa correta.

- a) () I e II são verdadeiras.
- b) () II e III são falsas.
- c) () III e IV são verdadeiras.
- d) () I e IV são falsas.

QUESTÃO 32

Considere o caso clínico de um paciente masculino, com 39 anos de idade, que apresentava mácula hipercrômica assintomática, de bordas irregulares e mal definidas, com mais de 1,0 cm de diâmetro, na região escapular direita. O exame dermatoscópico revelou padrão de multicomponentes. O exame histopatológico da biópsia excisional com margens de 2 mm apresentou o seguinte resultado: melanoma extensivo superficial com espessura de Breslow de 0,82 mm, Clark II, com ulceração microscópica, 2 mitoses por mm² e margens cirúrgicas livres de comprometimento neoplásico.

A esse respeito, analise as assertivas a seguir:

- I. Não há a necessidade de ampliação cirúrgica, pois as margens da biópsia estão livres de comprometimento neoplásico.
- II. Ampliação das margens cirúrgicas.
- III. Não tem indicação para pesquisa do linfonodo sentinela.
- IV. A pesquisa do linfonodo sentinela deve ser indicada.

Sobre esse caso clínico, assinale a alternativa que contempla as condutas terapêuticas pertinentes a serem tomadas:

- a) () I e III.
- b) () II e III.
- c) () I e IV.
- d) () II e IV.

QUESTÃO 33

Eczema de contato ou dermatite de contato é uma dermatose de etiologia exógena. É causada por agentes externos que, em contato com a pele, desencadeiam uma reação inflamatória, clinicamente caracterizada por se apresentar como um eczema. É dermatose frequente na prática diária do dermatologista, devendo ser corretamente diagnosticada e tratada.

A respeito das dermatites de contato alérgicas (DCA) ou por irritante primário (DCI), assinale a opção correta:

- a) () O aparecimento das lesões cutâneas na DCA é imediato, uma vez que as vias aferente e eferente apresentam ativação completa em poucos minutos.
- b) () A dermatite de contato por irritante primário pode ser desencadeada por irritante absoluto — quando as lesões aparecerem no momento do contato com a substância — ou por irritante relativo — quando o contato repetido leva à formação das lesões cutâneas —, uma vez que o processo imunológico de sensibilização é gradual.
- c) () A dermatite de contato alérgica (DCA) resulta da sensibilização a uma substância que entra em contato com a pele, provocando uma reação imune mediada por imunocomplexos.
- d) () Na dermatite de contato por irritante primário, após o estímulo pelas células apresentadoras de antígeno, os linfócitos T liberam citocinas que induzem a inflamação.

QUESTÃO 34

No que concerne às erupções eritêmato-descamativas, assinale a opção correta:

- a) () A psoríase eritrodérmica é uma forma generalizada, manifestando-se com lesões eritêmato-escamosas e com pústulas que atingem grande extensão de pele.
- b) () A pitiríase rósea apresenta, na histopatologia, paraqueratose, desaparecimento da camada granulosa e presença de agrupamentos de neutrófilos, conhecidos como microabscessos de Munro.
- c) () As parapsoríases são afecções caracterizadas por lesões eritêmato-descamativas de curso crônico e podem ser divididas em dois tipos: parapsoríase clássica e parapsoríase invertida.
- d) () As lesões da dermatite seborreica localizam-se, principalmente, no couro cabeludo, face, regiões retroauriculares e região torácica anterior.

QUESTÃO 35

Um paciente do sexo masculino, com quatro anos de idade, foi levado ao atendimento médico apresentando áreas de eczema em fossas cubitais e poplíteas, escoriadas e liquenificadas. A mãe informou que, em sua infância, apresentou quadro clínico semelhante. Com base nesse caso clínico, assinale a opção correta:

- a) () Considerando-se que o diagnóstico mais provável para esse caso clínico seja o de dermatite atópica, o fato de a mãe do paciente ter apresentado quadro clínico semelhante na infância é irrelevante, haja vista que a ocorrência dessa dermatite não está relacionada a fatores familiares.
- b) () Para se evitar a disseminação das lesões, o tratamento que deve ser instituído é a corticoterapia sistêmica.
- c) () Cuidados gerais, como o uso de sabonetes bactericidas, banhos quentes e roupas de tecidos sintéticos devem ser estimulados como forma de prevenir novas crises.
- d) () É possível afirmar a existência de prurido local, uma vez que as lesões apresentam-se escoriadas e liquenificadas.

QUESTÃO 36

Paciente do sexo feminino, 39 anos, vem ao ambulatório de Dermatologia referindo história de vesículas nos QUIRODÁCTILOS há 20 anos, que evoluem em surtos e são intensamente pruriginosas. É profissional da saúde e faz uso diário de luvas de látex. Associa as crises com estresse emocional, sendo que já fez inúmeros tratamentos com corticoterapia tópica e sistêmica, além de emolientes, com melhora, mas recidiva.

Em relação à dermatose apresentada pela paciente, assinale a alternativa correta:

- a) () Essa forma de eczema inicia-se pelas regiões plantares e estende-se pelo tronco de forma ascendente, até atingir as regiões palmares.
- b) () Não é possível a coexistência de casos de eczema atópico e de eczema desidrótico.
- c) () Na histopatologia da fase aguda, identificam-se, principalmente, espongiase, vesículas e exocitose de linfócitos.
- d) () As causas desse tipo de eczema são múltiplas, mas a presença de infecção fúngica é um fator inerente à sua manifestação.

As questões 37 e 38 se relacionam ao seguinte caso clínico:

Paciente do sexo masculino, 42 anos, recém-chegado da Bahia, pedreiro, veio à consulta com queixa de ferida na perna direita há cerca de cinco meses, logo abaixo do joelho, a qual associava com picada de inseto. Informou que nos arredores da cidade onde morava havia áreas de desmatamento. Após o exame clínico e laboratorial, o médico constatou suas suspeitas clínicas, sendo que ainda observou adenopatia na região inguinal subjacente, pulsos presentes e preservação da sensibilidade no membro afetado. O exame dermatológico apresentava úlcera de bordas elevadas, em moldura, de fundo granuloso e eritematoso.

QUESTÃO 37

Assinale a alternativa correta no que se refere ao diagnóstico deste paciente:

- a) () A forma mucosa apresenta diagnóstico diferencial com paracoccidiodomicose, hanseníase virchowiana, sífilis terciária, rinoscleroma, granuloma médio facial e neoplasias.
- b) () O diagnóstico de leishmaniose é confirmado por métodos parasitológicos, como o esfregaço e a cultura, cuja positividade é diretamente proporcional ao tempo de doença.
- c) () A reação intradérmica de Montenegro é um método eficaz de controle pós-tratamento, pois tende a negativar após a cura.
- d) () A forma disseminada da leishmaniose tegumentar americana é rara, caracterizando-se pelo número elevado de lesões cutâneas e ausência de envolvimento mucoso.

QUESTÃO 38

Com relação ao tratamento deste paciente, assinale a opção correta:

- a) () Os pacientes coinfectados com leishmaniose e HIV devem primeiro tratar o HIV para posteriormente receberem o esquema terapêutico da leishmaniose.
- b) () Durante o tratamento, os pacientes devem ser acompanhados com eletrocardiograma, uma vez que o antimonial pentavalente pode ocasionar prolongamento do intervalo QT e inversão da onda T.
- c) () Caso seja diagnosticada falha terapêutica, os pacientes deverão ser tratados com miltefosine.
- d) () A dose de antimonial pentavalente para tratamento da forma mucosa de leishmaniose é de 20 mg SbV/kg/dia, até a cura clínica.

QUESTÃO 39

As tinas são lesões causadas por fungos dermatófitos e podem acometer pele, cabelos e unhas. Sobre elas, avalie as afirmativas abaixo em verdadeiro ou falso:

- () A tina do couro cabeludo pode apresentar dois padrões clínicos que remetem a agentes etiológicos diferentes, que são: microspórico e tricofítico.
- () Habitualmente as espécies zoofílicas e geofílicas originam formas clínicas mais inflamatórias do que as antropofílicas.
- () O uso de corticoide tópico inadvertido em lesões fúngicas não altera a característica da lesão, sendo ele ineficaz.
- () O diagnóstico é feito por biópsia para a confirmação do agente etiológico e posterior tratamento.

Assinale a alternativa correta:

- a) () F V F F.
- b) () V V F F.
- c) () F V F V.
- d) () V F F F.

QUESTÃO 40

Paciente de 6 anos com mancha hiperocrômica intensa, algo azulada, que atinge a pele da face na projeção do nervo trigêmeo e esclera. Qual é seu diagnóstico?

- a) () Mancha Mongólica.
- b) () Nevo de Ito.
- c) () Nevo de Becker.
- d) () Nevo de Ota.

QUESTÃO 41

Paciente com quadro de lesões eritemato-descamativas nos joelhos, cotovelos e região sacral, com antecedente de lesões há mais de 10 anos, sem prurido associado. Procurou médico da UBS para tratamento, que prescreveu prednisona 40 mg/dia por 7 dias. Ao interromper o tratamento, o paciente evoluiu com pústulas distribuídas difusamente pelo corpo. Qual é o diagnóstico mais provável nesse caso?

- a) () Foliculite eosinofílica.
- b) () Dermatite atópica.
- c) () Psoríase pustulosa generalizada de Von Zumbus.
- d) () Pustulose subcórnea de Sneddon Wilkinson.

QUESTÃO 42

A dermatite herpetiforme, também denominada dermatite de Duhring-Brocq, é doença caracterizada por erupção pruriginosa que evolui para vesículas e bolhas distribuídas principalmente no tronco, face extensora dos cotovelos e joelho, região sacral e nádegas. Os sintomas de prurido intenso, ardor ou sensação de queimadura frequentemente precedem o aparecimento das lesões cutâneas em 8 a 12 horas.

Sobre essa dermatite, avalie as afirmativas abaixo em verdadeiro ou falso:

- () A dermatite herpetiforme é desordem cutâneo-intestinal por hipersensibilidade ao glúten. A exposição ao glúten é o ponto de partida de uma cascata inflamatória capaz de formar autoanticorpos que são levados até a pele, onde se depositam, culminando com a formação das lesões cutâneas características.
- () Para o diagnóstico da dermatite herpetiforme, deve ser realizada biópsia de pele com análise

histopatológica e imunofluorescência direta, que revela depósito de imunoglobulina A em padrão granular no topo da papila dérmica na área da sublâmina densa na zona da membrana basal, presente tanto na pele lesada como em área de pele sã.

- () Anticorpos específicos como antiendomísio, antirrecolina, antigliadina e, recentemente identificado, o subtipo transglutaminase epidérmica e tecidual, assim como a produção aumentada da zonulina, são descritas tanto na dermatite herpetiforme como na enteropatia sensível ao glúten.
- () O tratamento de escolha para os pacientes com dermatite herpetiforme é a corticoterapia oral e tópica.

Assinale a alternativa correta:

- a) () V F F F.
- b) () V V F F.
- c) () V F V F.
- d) () V V V F.

QUESTÃO 43

Paciente do sexo feminino, 30 anos, há 20 dias iniciou bolhas grandes e tensas, distribuídas principalmente no tronco e região supraclavicular, seguidas de disfagia e lesões na cavidade oral há 5 dias. Há 6 meses havia procurado o clínico da UBS com queixa de queda de cabelo, artralgias e aftas, que se resolveram espontaneamente. Foi realizada biópsia, que evidenciou bolha subepidérmica com microabscessos de neutrófilos nas papilas dérmicas e infiltrado linfomononuclear perivascular. Realizada também imunofluorescência, com depósito de linear de IgG e IgA na zona da membrana basal. Qual é o diagnóstico mais provável desta paciente?

- a) () Epidermólise bolhosa adquirida.
- b) () Penfigoide bolhoso.
- c) () Lupus eritematoso sistêmico bolhoso.
- d) () Pênfigo vulgar.

QUESTÃO 44

Sobre o carcinoma basocelular (CBC), assinale a alternativa correta:

- a) () O carcinoma basocelular tem localização preferencial nos terços superiores da face.
- b) () O carcinoma basocelular superficial ou pagetoide é formado por lesão única, eritematoescamosa, discretamente infiltrada, emoldurada por bordas irregulares e ligeiramente elevadas.
- c) () O carcinoma verrucoso é uma variante do carcinoma basocelular e sua evolução geralmente é benigna.
- d) () O carcinoma basocelular é frequentemente precedido de lesões pré-malignas, como a ceratose actínica.

QUESTÃO 45

Paciente do sexo masculino, 36 anos, branco, revelou o aparecimento de lesões cutâneas assintomáticas há 12 anos, inicialmente na região cervical e após com disseminação para face e dorso. Negava antecedentes familiares de quadros semelhantes. Ao exame físico, apresentava fronte proeminente, raiz nasal alargada, hipertelorismo, mandíbula hipoplásica, cifose e *pectus excavatum*. Ao exame dermatológico, apresentava múltiplas lesões eritemato-pápulo-nodulares, algumas com ulceração central, de tamanho variável (0,3 a 1,8 cm), com bordas perláceas, além de telangiectasias na face, região cervical e dorso. Também apresentava múltiplas depressões palmo-plantares.

Qual é o diagnóstico mais provável deste paciente?

- a) () Síndrome de Gorlin – Goltz.
- b) () Síndrome de Cowden.
- c) () Síndrome de Bazex.
- d) () Síndrome de Muir-Torre.

QUESTÃO 46

Dentre os agentes etiológicos comumente relacionados à tinha do pé estão:

- I. *Trichophyton rubrum*
- II. *Trichophyton schonlein*
- III. *Trichophyton mentagrophytes*
- IV. *Microsporum canis*
- V. *Epidermophyton floccosum*

Assinale a alternativa correta:

- a) () I, II e III.
- b) () I, III e V.
- c) () I, II, IV e V.
- d) () Todas estão corretas.

QUESTÃO 47

A lesão que se apresenta como nódulo único de 1 a 2 cm de diâmetro, com tampão queratótico central normocrômico ou eritemato-acastanhado, que ocorre mais comumente no couro cabeludo, face e pescoço, mas podendo ocorrer em outras localizações, tais como mucosa oral (particularmente palato duro), denomina-se:

- a) () Disqueratoma verrucoso.
- b) () Queratocantoma.
- c) () Estucoqueratose.
- d) () Acantoma de grandes células.

QUESTÃO 48

São considerados critérios menores da dermatite atópica:

- a) () Xerose cutânea e ceratoderma palmo-plantar.
- b) () Dobra de Dennie-Morgan e acantose nigricante.
- c) () Ceratose pilar e molusco contagioso.
- d) () Pregas palmares hiperlineares e escurecimento infra-orbitário.

QUESTÃO 49

Paciente do sexo feminino, 26 anos, com aparecimento de lesões anulares, policíclicas, localizadas na face extensora dos membros superiores, acompanhadas de artralgia, febre e cefaleia há 4 semanas. O quadro desencadeou-se após exposição solar. O diagnóstico foi de lupus eritematoso subagudo. Espera-se encontrar no soro desta doente frequência maior de anticorpos reativos a:

- a) () Centrômero.
- b) () Scl-70.
- c) () RNA-Polimerase I.
- d) () Ro-SSA.

QUESTÃO 50

Sobre a pitiríase versicolor, assinale a alternativa correta:

- a) () É caracterizada por manchas disseminadas, irregulares, localizadas principalmente nas mãos e pés.
- b) () A transpiração abundante favorece o aparecimento da pitiríase versicolor.
- c) () O diagnóstico é feito principalmente pela cultura de raspado das lesões.
- d) () Raspando as lesões com a unha, nota-se ligeira descamação que constitui o sinal de Butesin.

QUESTÃO 51

A dermatomiosite na infância caracteriza-se por:

- a) () Apresentar maior ocorrência de calcificações.
- b) () Fotossensibilidade, eritema e edema periorbitário serem achados incomuns.
- c) () Frequentemente associação com neoplasias.
- d) () Maior ocorrência de pneumonite e artrite/ artralgia.

QUESTÃO 52

Paciente de 48 anos, sexo masculino, referia placa eritematosa de 6 cm, bordas infiltradas, única, localizada no dorso da mão direita, assintomática, há mais de seis meses. Esta lesão foi biopsiada e o laudo histológico descreveu na derme superficial e média granulomas de células epitelioides em paliçada periférica, com necrobiose central de fibras colágenas e depósito de mucina. A pesquisa BAAR resultou negativa. Com base nesses dados, o diagnóstico correto é:

- a) () Granuloma anular.
- b) () Sarcoidose.
- c) () Hanseníase tuberculoide.
- d) () Necrobiose lipoídica.

QUESTÃO 53

Homem, etilista, 30 anos, apresenta há 4 anos história recorrente de ardência e bolhas nas mãos e antebraços ao se expôr ao sol. A pele da face possui cicatrizes variceliformes, hiperpigmentação e hipertricose. O dorso das mãos mostra cicatrizes semelhantes e áreas de espessamento. O exame histopatológico demonstrou clivagem subepidérmica, papilas com projeção para o interior da bolha e dilatação da parede capilar PAS positivo. O diagnóstico deste paciente é:

- a) () Epidermólise bolhosa adquirida.
- b) () Porfíria cutânea tarda.
- c) () Pelagra.
- d) () Penfigoide bolhoso.

QUESTÃO 54

Considere as afirmativas abaixo sobre parapsoríase:

- I. A parapsoríase em grandes placas, quando acomete a região das mamas e nádegas, tem maior probabilidade de já tratar-se de micose fungoide ou evoluir para esta forma de linfoma cutâneo.
- II. A maioria dos casos de parapsoríase em pequenas placas tem curso crônico benigno.
- III. Células T clonais são encontradas no sangue periférico da maioria dos pacientes com parapsoríase em pequenas placas.

Qual (ais) das afirmativas acima está (ão) correta (s)?

- a) () I e II.
- b) () II.

- c) () II e III.
- d) () I e III.

QUESTÃO 55

Paciente do sexo feminino, 26 anos, apresentou, durante o outono, lesão inicial em medalhão eritemato-escamosa arredondada, de crescimento centrífugo, localizada no tronco. Após alguns dias subsequentes, surgiram lesões menores com as mesmas características e distribuição topográfica em árvore de natal; sua face foi poupada. Havia prurido discreto com ausência de sintomas sistêmicos. Mediante o quadro clínico, qual é a melhor conduta neste caso?

- a) () Iniciar corticoterapia oral na dose de 1 mg/Kg/dia por 10 dias.
- b) () Deve-se solicitar sorologia para doença de Lyme.
- c) () Orientar a paciente sobre o curso autolimitado da doença, cujo tempo de evolução é de quatro a oito semanas, com regressão total das lesões.
- d) () Não é importante indagar sobre uso de medicamentos e história sexual nos antecedentes pessoais desta paciente.

QUESTÃO 56

A queda dos cabelos relacionada ao eflúvio telógeno é uma queixa comum que atinge especialmente as mulheres. Sobre esta doença, pode-se afirmar que:

- a) () Medicamentos como a isotretinoína e acitretina podem desencadear este tipo de eflúvio.
- b) () Caracteriza-se por um prolongamento da fase catágena.
- c) () Encontra-se no grupo das alopecias cicatriciais.
- d) () Exames laboratoriais não são necessários para a investigação etiológica.