

S13 | Fiscal de Obras

Instruções



Confira o número que você obteve no ato da inscrição com o que está indicado no cartão-resposta.

* A duração da prova inclui o tempo para o preenchimento do cartão-resposta.

Para fazer a prova você usará:

- este **caderno de prova**.
- um **cartão-resposta** que contém o seu nome, número de inscrição e espaço para assinatura.

Verifique, no caderno de prova, se:

- faltam folhas e a sequência de questões está correta.
- há imperfeições gráficas que possam causar dúvidas.

Comunique imediatamente ao fiscal qualquer irregularidade!

Atenção!

- Não é permitido qualquer tipo de consulta durante a realização da prova.
- Para cada questão são apresentadas 5 alternativas diferentes de respostas (a, b, c, d, e). Apenas uma delas constitui a resposta correta em relação ao enunciado da questão.
- A interpretação das questões é parte integrante da prova, não sendo permitidas perguntas aos fiscais.
- Não destaque folhas da prova.

Ao terminar a prova, entregue ao fiscal o caderno de prova completo e o cartão-resposta devidamente preenchido e assinado.



5 de fevereiro



40 questões



8 às 12h



4h de duração*



Concurso Público



Língua Portuguesa

5 questões

Texto 1

Videira está entre os 20 municípios catarinenses com maior movimento econômico

A Secretaria de Estado da Fazenda (SEF/SC) divulgou os dados estimados do Índice de Participação dos Municípios (IPM) na arrecadação de Imposto Sobre Circulação de Mercadorias e Serviços (ICMS) para o próximo ano. Os números são baseados no valor adicionado (VA) de cada município em 2020, e Videira aparece entre os 20 municípios com maior participação no Estado.

Videira aparece na 19ª colocação entre os municípios com maior participação no IPM (0,93%), logo após São Bento do Sul (0,98%), e à frente de Balneário Camboriú (0,90%), voltando a figurar entre as maiores economias do estado, o que trará mais representatividade para o município e para região. Esses números reforçam a importância de Videira no cenário econômico estadual. Em relação à região Oeste, Videira aparece entre os cinco municípios com maior movimento econômico, resultado da força do trabalho videirense e do empenho da administração municipal e dos investimentos por parte da classe empresarial.

O IPM é calculado anualmente pela SEF/SC, que considera como principal critério o movimento econômico, também conhecido como valor adicionado (VA), para compartilhar com as cidades o ICMS recolhido pelo Estado. A lei regulamenta que o Governo do Estado deve repassar 25% da arrecadação de ICMS aos municípios, sendo que 15% desse total são divididos igualmente entre os 295 e 85% são distribuídos de acordo com o VA, que em 2020 foi de R\$ 258.228.517.190,34. [...]

Disponível em: <https://aciav.org.br/videira-esta-entre-os-20-municipios-catarinenses-com-maior-movimento-economico/>
Acesso em: 02 de dez. 2022. Publicado em 15 de dez. 2021.
Adaptado.

1. Sobre o texto 1, é **correto** o que se afirma em:

- a. Com base no valor adicionado (VA) em 2021, Videira apresentou um crescimento de 0,98% em relação ao ano anterior em comparação aos demais municípios de Santa Catarina.
- b. Na região oeste de Santa Catarina, a participação de Videira no Índice de participação dos Municípios (IPM) ficou maior do que a participação de Caçador.
- c. As explicações e os dados apresentados são suficientes para obter o valor do ICMS a ser repassado pela Estado de Santa Catarina ao município de Videira em 2022.
- d. O crescimento no valor adicionado, que é o principal critério para o cálculo do IPM, depende exclusivamente das atividades econômicas do município.
- e. De acordo com dados divulgados pela Secretaria de Estado da Fazenda (SEF/SC), a arrecadação de ICMS em Santa Catarina foi maior em 2021 do que em 2020.

2. O texto 1 caracteriza-se como tipologia:

- a. injuntiva (injunção): ensina ou instrui sobre algo com o objetivo de levar a uma ação.
- b. expositiva (exposição): apresenta um conceito, uma ideia, ou informa sobre algo.
- c. dissertativa (dissertação): defende uma ideia e expõe uma opinião através de argumentos.
- d. descritiva (descrição): descreve uma pessoa, um objeto, um local, um acontecimento.
- e. narrativa (narração): conta uma história, incluindo tempo, espaço e personagens envolvidos.

3. Assinale a frase em que ao menos dois casos de crase deixaram de ser indicados com acento grave.

- a. Não se furtou a dar adeus aqueles soldados que partiam rumo as frentes de batalha.
- b. Já está aqui a senhora a quem atenderemos daqui a instantes.
- c. A mando do chefe, buscavam um modo de organizar a sessão prevista para as 16 horas.
- d. Chegou a Amazônia brasileira a tempo de ainda ver as águas do rio invadindo as ruas de Manaus.
- e. Jamais aspirei a tais honrarias e, em minha vida profissional, nunca visei a aplausos e a aquisição de carros de luxo.

4. Assinale a frase **correta** quanto à concordância verbal e nominal.

- a. Para que ocorra menos problemas, é proibido a entrada de menores.
- b. Agora vamos tratar de assuntos que lhes interessa muito.
- c. Na feira deste ano, houveram menas pessoas que na feira anterior.
- d. Para conseguir escoar a água mais rapidamente, abriu-se com máquinas retroscavadeiras diversas valetas no trecho mais baixo da rodovia.
- e. Para a adubação de base, foram utilizados adubo curtido proveniente de aviário e esterco líquido de suínos.

5. Assinale a afirmativa **correta**.

- a. Em “Senhor diretor, vossa senhoria está equívocado”, o adjetivo equívocado concorda em gênero e número com o substantivo vossa senhoria.
- b. Na frase “O substrato que é a matéria-prima para o cultivo de cogumelos, é esterilizado, e o fungo é adicionado a ele”, as vírgulas foram corretamente empregas.
- c. No período “A radiação solar também é a maior fonte de energia para o processo de evapotranspiração, cujo valor diário incidente sobre as plantas varia com a localização do vinhedo e com a época do ano”, a segunda oração inicia por uma conjunção subordinativa adverbial consecutiva.
- d. Na frase “Eram extraordinários seu talento e suas competências”, ocorre um predicativo do sujeito composto.
- e. No período “As baratas são comumente atraídas por restos de alimento deixados sobre o fogão e a pia, além do acúmulo de louça suja e resquícios de gordura sobre as superfícies”, há três palavras acentuadas graficamente com base na mesma regra.

Informática

5 questões

6. Qual componente do MS Word do Microsoft 365 verifica sugestões de escrita, gramática e ortografia?

- a. Editor
- b. Revisor
- c. Gramador
- d. Corretor
- e. Motor






7. Analise as afirmativas abaixo sobre o correio eletrônico.

1. O campo Cco é geralmente usado para enviar cópias ocultas de email para um ou mais destinatários.
2. Um endereço de e-mail é sempre composto por um nome de usuário e um domínio, separados por @ ou por &
3. Um mesmo e-mail pode ser enviado para múltiplos destinatários ao mesmo tempo.

Assinale a alternativa que indica todas as afirmativas **corretas**.

- a. É correta apenas a afirmativa 3.
- b. São corretas apenas as afirmativas 1 e 2.
- c. São corretas apenas as afirmativas 1 e 3.
- d. São corretas apenas as afirmativas 2 e 3.
- e. São corretas as afirmativas 1, 2 e 3.

8. Assinale a alternativa que indica **corretamente** o atalho do navegador web google Chrome que reabre abas fechadas anteriormente.

- a. 
- b. 
- c. 
- d. 
- e. 

9. São formas válidas de formatação, conforme dispostas pelo menu top-down de formatação de células do MS Excel do Microsoft 365 em português, disponível a partir da guia Página Inicial do MS Excel:

1. Data Composta
2. Data Abreviada
3. Data Completa

Assinale a alternativa que indica todas as afirmativas **corretas**.

- a. É correta apenas a afirmativa 3.
- b. São corretas apenas as afirmativas 1 e 2.
- c. São corretas apenas as afirmativas 1 e 3.
- d. São corretas apenas as afirmativas 2 e 3.
- e. São corretas as afirmativas 1, 2 e 3.

S13 Fiscal de Obras

10. Analise as afirmativas abaixo sobre o trabalho com mala direta no MS Word do Microsoft 365 em português.

1. Ao digitar uma nova lista, o MS Word salva a lista como uma planilha do MS Excel, o que facilita a reutilização.
2. É possível salvar a lista de destinatários na nuvem e acessá-la através de um local HTTP, online.
3. Pode-se criar mala direta de cartas, envelopes e até e-mails personalizados.

Assinale a alternativa que indica todas as afirmativas corretas.

- a. É correta apenas a afirmativa 3.
- b. São corretas apenas as afirmativas 1 e 2.
- c. São corretas apenas as afirmativas 1 e 3.
- d. São corretas apenas as afirmativas 2 e 3.
- e. São corretas as afirmativas 1, 2 e 3.

Conhecimentos Gerais

5 questões

11. Analise as afirmativas abaixo sobre a situação da água no mundo.

1. Estima-se que 97,5% da água existente no mundo é salgada e não é adequada ao nosso consumo direto nem à irrigação da plantação.
2. Dos 2,5% de água doce, a maior parte (69%) é de difícil acesso, pois está concentrada nas geleiras, 30% são águas subterrâneas (armazenadas em aquíferos) e 1% encontra-se nos rios.
3. A água não está limitada às fronteiras políticas dos países, razão pela qual quase metade da superfície terrestre é conformada por bacias hidrográficas de rios compartilhados por dois ou mais países.
4. O Brasil compartilha cerca de 82 rios com os países vizinhos, incluindo importantes bacias como a do Amazonas e a do Prata, além de compartilhar os sistemas de aquíferos Guarani e Amazonas.

Assinale a alternativa que indica todas as afirmativas corretas.

- a. É correta apenas a afirmativa 4.
- b. São corretas apenas as afirmativas 1 e 3.
- c. São corretas apenas as afirmativas 2 e 4.
- d. São corretas apenas as afirmativas 2, 3 e 4.
- e. São corretas as afirmativas 1, 2, 3 e 4.

12. Qual é o gentílico da população de Videira?

- a. Nortista
- b. Veirenses
- c. Videirano
- d. Videirense
- e. Barriga Verde

13. Em dezembro de 2002, o município de Videira recebeu oficialmente da Assembléia Legislativa do Estado de Santa Catarina a denominação de Capital Catarinense:

- a. da Uva e Berço da Frigol.
- b. da Uva e Berço da Perdigão.
- c. da Ostra e Berço da Perdigão.
- d. das Flores e Berço da Perdigão.
- e. das Maças e Berço da Verdi.

14. O município de Videira faz parte da Microrregião de Joaçaba, junto com algumas outras cidades como:

- a. Água Doce • Fraiburgo • Caçador • São Miguel
- b. Arroio Trinta • Catanduvas • Joaçaba • Anitápolis
- c. Herval d'Oeste • Tangará • Pinheiro Preto • Vargem Bonita
- d. Calmon • Capinzal • Ibicaré • Rio Negrinho
- e. Iomerê • Jaborá • Luzerna • São Joaquim

15. Analise a frase abaixo:

“O encarecimento do preço dos alimentos, do petróleo e da energia elétrica é uma das consequências mais sentidas após o início da guerra na Europa. Esse fenômeno elevou a inflação no mundo todo e atingiu diversos países em 2022.”

A afirmativa refere-se ao conflito:

- a. Rússia × Brasil
- b. Rússia × Ucrânia
- c. Rússia × Crimeia
- d. Ucrânia × Crimeia
- e. Turquia × Ucrânia

Conhecimentos Específicos

25 questões

16. Assinale a alternativa **correta** nos termos da Lei Complementar nº 129, de 2012, que institui o Estatuto dos Servidores Públicos do Município de Videira (SC).

- a. Pela adoção de criança, a servidora efetiva terá direito à Licença Maternidade de 120 dias.
- b. A licença para o tratamento de assuntos particulares não será concedida a servidor que esteja respondendo a processo disciplinar.
- c. Pelo nascimento ou pela adoção de filho, o servidor efetivo terá direito à Licença Paternidade de 30 dias consecutivos.
- d. A cada quinquênio de serviço prestado no Município de Videira, o servidor terá direito à licença-prêmio remunerada de 02 meses.
- e. O servidor que ocupar cargo comissionado, na esfera municipal, estadual ou federal, deverá licenciar-se do seu cargo efetivo, cessando a contribuição ao INPREVID.

17. De acordo com a Lei Orgânica do Município de Videira, compete à Câmara Municipal de Vereadores (SC), privativamente, as seguintes atribuições:

1. Delimitar o perímetro urbano.
2. Autorizar a concessão de auxílios e subvenções.
3. Conceder licença ao Prefeito, ao Vice-Prefeito e aos Vereadores para afastamento do cargo.
4. Autorizar a concessão do direito real de uso de bens municipais.

Assinale a alternativa que indica todas as afirmativas **corretas**.

- a. É correta apenas a afirmativa 3.
- b. São corretas apenas as afirmativas 1 e 2.
- c. São corretas apenas as afirmativas 2 e 3.
- d. São corretas apenas as afirmativas 2, 3 e 4.
- e. São corretas as afirmativas 1, 2, 3 e 4.

18. Deve-se garantir a acessibilidade nos lugares de passagem dos empreendimentos, assegurando a autonomia e a segurança para o máximo possível de pessoas. No caso de uma pessoa utilizando cadeira de rodas, motorizada ou não, a área de manobra para uma rotação de 360° deve ser em função do diâmetro de um círculo.

Assinale a alternativa que apresenta o valor **correto** do diâmetro do círculo da área de manobra de uma cadeira de rodas sem deslocamento.

- a. 80 cm
- b. 100 cm
- c. 120 cm
- d. 150 cm
- e. 200 cm

19. O levantamento topográfico utiliza métodos para determinar as coordenadas topográficas de pontos, visando à sua representação planimétrica em escala predeterminada e sua representação altimétrica por intermédio de curvas de nível.

Assinale a alternativa que corresponde **corretamente** à denominação dada à distância entre a superfície física e a geoidal, observada na vertical do lugar.

- a. Toponímia
- b. Altitude normal
- c. Altitude geodésica
- d. Alinhamento normal
- e. Altitude ortométrica

20. As estruturas metálicas estão cada vez mais sendo utilizadas no mercado de construção, sendo composto por diferentes perfis, barras e outros elementos conectados. Os elementos de ligação são todos os componentes incluídos no conjunto para permitir ou facilitar a transmissão dos esforços entre os elementos.

Assinale a alternativa que indica **corretamente** o tipo de ligação constituído por duas placas ligadas por solda de filete na extremidade dos perfis a serem conectados, com as placas unidas entre si por parafusos.

- a. Ligação de solda
- b. Ligação uniplanar
- c. Ligação multiplanar
- d. Ligação flangeada
- e. Ligação de apoio

S13 Fiscal de Obras

21. Os chuveiros elétricos são normalmente utilizados em edificações com instalações elétricas de baixa tensão.

Assinale a alternativa que corresponde **corretamente** à potência nominal máxima dos chuveiros elétricos para aparelhos com tensão nominal inferior a 150V.

- a. 5500 W
- b. 6500W
- c. 7500W
- d. 8500W
- e. 9500W

22. Os componentes e as matérias empregados na execução do sistema predial de água fria e quente devem ser verificados e submetidos à inspeção antes de sua instalação.

Analisar os componentes apresentados na coluna 1 e correlacione com as descrições presentes na coluna 2.

Coluna 1 Componentes

- 1. Registro
- 2. Restritor de vazão
- 3. Torneira de boia
- 4. Ramal predial

Coluna 2 Descrição

- () Componente destinado a permitir a interrupção do fluxo de água.
- () Componente instalado a jusante do alimentador predial em sistema indireto, destinado a controlar a admissão de água e limitar o máximo nível operacional do reservatório predial.
- () Tubulação compreendida entre a rede pública de abastecimento de água e a extremidade a montante do alimentador predial
- () Componente instalado na peça de utilização com a finalidade de provocar perda de carga localizada.

Assinale a alternativa que indica a sequência **correta**, de cima para baixo.

- a. 1 • 2 • 3 • 4
- b. 1 • 3 • 4 • 2
- c. 2 • 3 • 4 • 1
- d. 3 • 4 • 1 • 2
- e. 3 • 4 • 2 • 1

23. A projeção axonométrica é o resultado da projeção cilíndrica em que as figuras são referendadas a um sistema ortogonal de três eixos. Amplamente usada nos projetos de engenharia, a perspectiva isométrica é uma perspectiva axonométrica, onde os eixos x, y e z têm a mesma inclinação em relação ao plano vertical.

Qual o valor do ângulo entre os eixos?

- a. 30°
- b. 60°
- c. 90°
- d. 120°
- e. 150°

24. De acordo com a Lei Complementar nº 250/2020, o conselho da cidade possui um caráter consultivo e deliberativo, com a finalidade de propor, avaliar e validar políticas, planos, programas e projetos para o desenvolvimento sustentável do município de Videira.

Assinale a alternativa que apresenta **corretamente** o número mínimo de membros que devem constituir o conselho da cidade.

- a. 5
- b. 8
- c. 10
- d. 12
- e. 15

25. A macrozona urbana é aquela que apresenta condições para um maior adensamento populacional de um município, melhorando as condições de infraestrutura, serviços básicos de saúde, educação, lazer e cultura, acessibilidade e transporte. No Município de Videira, a macrozona urbana foi subdividida em zonas e corredores, conforme apresentada na Lei Complementar nº 278/22.

Assinale a alternativa que apresenta **corretamente** a denominação dada à subdivisão que foi destinada predominantemente para edificações com usos mistos, comerciais e de prestação de serviços concomitante com o uso residencial multifamiliar e unifamiliar de adensamento controlado, com o objetivo de incentivar e diversificar a economia, sendo aplicado em vias como a rua Maria Célia Brandalise Braga e a rua Antônio Picolli.

- a. Zona Distrital
- b. Zona Especial de Interesse Social
- c. Zona de Desenvolvimento Econômico
- d. Corredor de Comércio e Serviços
- e. Corredor de Desenvolvimento

26. Os municípios devem definir quais são e de que forma devem ser desenvolvidas as funções sociais da cidade, sendo o plano diretor classificado como um instrumento básico da política de desenvolvimento e expansão urbana do município.

Analise os instrumentos da política municipal apresentados na coluna 1 e correlacione-os, de acordo com a Lei Complementar nº 250/2020, com as classificações apresentadas na coluna 2.

Coluna 1 Instrumentos

1. Plano plurianual
2. Tombamento
3. Incentivos e benefícios fiscais
4. Concessão de direito real de uso para fins de moradia

Coluna 2 Classificação

- () Instrumentos tributários e financeiros da política municipal
- () Instrumento do planejamento da política municipal
- () Instrumento de regularização fundiária da política municipal
- () Instrumento jurídico e urbanístico da política municipal

Assinale a alternativa que indica a sequência **correta**, de cima para baixo.

- a. 1 • 4 • 2 • 3
- b. 2 • 3 • 1 • 4
- c. 3 • 1 • 4 • 2
- d. 4 • 2 • 3 • 1
- e. 4 • 3 • 1 • 2

27. De acordo com a Lei Complementar nº 250/2020 do município de Videira, o plano diretor de desenvolvimento sustentável deve ser revisado e atualizado após um período.

Assinale a alternativa que apresenta **corretamente** o prazo máximo para revisão e atualização do plano diretor.

- a. 5 anos
- b. 8 anos
- c. 10 anos
- d. 12 anos
- e. 15 anos

28. As estradas municipais são bens públicos de uso comum do povo, devendo atender à legislação municipal.

Assinale a alternativa **correta** sobre as estradas municipais, com base na Lei Complementar nº 252/20.

- a. No alinhamento das estradas municipais são permitidas construções a uma distância de 2,5 m.
- b. Cercas de arame devem apresentar um recuo mínimo de 1,50 m de cada lado do alinhamento da estrada
- c. É de responsabilidade do proprietário rural a remoção de árvores nativas nas margens das estradas, próximas a sua propriedade, que estejam prejudicando o trânsito de veículos.
- d. Nas estradas municipais é permitida a arborização espessa a uma distância de 2,0 m do alinhamento da estrada.
- e. O proprietário rural deve manter desobstruídos os bueiros das estradas municipais no limite de sua propriedade.

29. De acordo com Código de Edificações do Município de Videira, uma chaminé, de qualquer natureza, de edificação deve ter altura suficiente para que a fumaça que possa expelir não incomode a vizinhança.

Considerando uma chaminé de churrasqueira, assinale a alternativa que apresenta o valor **correto** da distância mínima que a chaminé necessita ter de qualquer divisa com o lote vizinho.

- a. 1,20 m
- b. 1,50 m
- c. 1,80 m
- d. 2,00 m
- e. 2,40 m

30. De acordo com Lei Complementar nº 252/20, a instalação de toldos à frente de lojas é permitida desde que esses satisfaçam determinadas condições, como por exemplo, que não prejudiquem a arborização e a iluminação pública.

Assinale a alternativa que apresenta **corretamente** o valor máximo do balanço permitido para os toldos.

- a. 100 cm
- b. 120 cm
- c. 150 cm
- d. 180 cm
- e. 200 cm

S13 Fiscal de Obras

31. Os estabelecimentos de ensino devem possuir estruturas adequadas para garantir a saúde e segurança de todos os envolvidos nas atividades desenvolvidas. Todos os auditórios dos estabelecimentos de ensino devem ter uma área útil apropriada, tendo condições de ventilação adequada e perfeita visibilidade da mesa, quadros ou telas de projeção, para todos os espectadores.

De acordo com Código de Edificações do Município de Videira, assinale a alternativa que indica **corretamente** a área útil mínima, por pessoa, estabelecida para os auditórios dos estabelecimentos de ensino.

- a. 0,80 m²
- b. 0,90 m²
- c. 1,00 m²
- d. 1,10 m²
- e. 1,20 m²

32. De acordo com Código de Edificações do Município de Videira, para todos os edifícios com três ou mais pavimentos, qualquer que seja o afastamento, devem ser colocados tapumes em toda a testada do lote, sempre que se executarem obras de construção, reforma ou ampliação.

Assinale a alternativa que apresenta **corretamente** a altura mínima que os tapumes devem possuir de acordo com o código.

- a. 280 cm
- b. 290 cm
- c. 300 cm
- d. 310 cm
- e. 320 cm

33. A prefeitura do município de Videira deve fiscalizar as diversas obras requeridas, a fim de que as mesmas estejam de acordo com disposições presentes no Código de Edificações do município.

Considerando uma obra que tenha sido paralisada, assinale a alternativa que apresenta **corretamente** o prazo máximo para que ocorra o fechamento do terreno, no alinhamento do logradouro, dotado de portão de entrada.

Desconsidere as possíveis alterações do prazo devido ao deferimento de solicitações junto à prefeitura.

- a. 90 dias
- b. 120 dias
- c. 150 dias
- d. 180 dias
- e. 210 dias

34. O Código de Edificações do Município de Videira aborda a descrição de diferentes elementos de uma construção.

Assinale a alternativa que descreve **corretamente** a definição de uma cumeeira, conforme o código.

- a. Parte mais alta de uma edificação.
- b. Elevação das paredes externas de uma edificação.
- c. Distância entre os pontos de apoio de uma cobertura.
- d. Distância vertical entre o piso e o teto de um compartimento.
- e. Poço destinado a receber o efluente do tanque séptico.

35. A Lei Complementar nº 278/22 do Município de Videira aborda determinados parâmetros urbanísticos, como a taxa de ocupação máxima. Considere que uma construção com 2 pavimentos e um subsolo apresenta uma projeção horizontal máxima de construção permitida de 300 m².

Assinale a alternativa que apresenta **corretamente** a área do lote sobre o qual ascende a construção, sendo que a taxa de ocupação máxima é de 50%

- a. 450 m²
- b. 600 m²
- c. 900 m²
- d. 1200 m²
- e. 1500 m²

36. A solicitação para o desmembramento de um lote deve ser feita mediante requerimento do interessado ao município de Videira, devendo apresentar os requisitos descritos na Lei Complementar nº 277/22. Entre os documentos exigidos, devem constar plantas plotadas e um arquivo digital georreferenciado, em coordenadas UTM (Universal Transversal Mercator) e vinculadas a um sistema de referência.

Assinale a alternativa que apresenta **corretamente** o sistema de referência no qual as plantas e o arquivo digital devem estar vinculados.

- a. SAD 69
- b. NAD 83
- c. WGS 84
- d. SIRGAS 2000
- e. CÓRREGO ALEGRE

37. De acordo com Lei Complementar nº 277/22, o loteamento de interesse social é produzido para atender às famílias inscritas no cadastro social do município, e com renda mensal a ser definida pelo órgão responsável da administração municipal.

Assinale a alternativa que apresenta o valor **correto** da área do lote mínimo para os loteamentos de interesse social.

- a. 200 m²
- b. 240 m²
- c. 280 m²
- d. 300 m²
- e. 320 m²

38. De acordo com Lei Complementar nº 277/22, para a aprovação de um loteamento é necessária a execução de obras de infraestrutura básica e benfeitorias após a aprovação do respectivo projeto.

Assinale a alternativa que apresenta **corretamente** o prazo máximo para execução das obras do loteamento, desconsiderando a condição de prorrogação.

- a. 12 meses
- b. 18 meses
- c. 24 meses
- d. 36 meses
- e. 48 meses

39. No Município de Videira, a abertura de qualquer via ou logradouro público deve obedecer à Lei Complementar nº 277/22, com seus projetos e execuções atendendo a determinados requisitos.

Assinale a alternativa **correta** sobre os requisitos exigidos no projeto e na construção das vias de circulação.

- a. A declividade transversal mínima não poder ser inferior de 2%.
- b. A declividade longitudinal mínima não poder ser inferior a 5%.
- c. A declividade transversal máxima permitida é de 8%.
- d. A declividade transversal e longitudinal máxima permitida é 15%.
- e. A declividade longitudinal máxima permitida por trecho é de 25%.

40. Analise os itens apresentados na coluna 1, vinculando-os com as definições presentes na coluna 2, de acordo com o que a Lei Complementar nº 277/22 dispõe sobre normas relativas ao parcelamento do solo do município de Videira.

Coluna 1 Denominações

- 1. Faixa de Domínio
- 2. Gleba
- 3. Testada
- 4. Recuo

Coluna 2 Definições

- () Área de terras com localização e configuração definidas, que não foi objeto de parcelamento do solo para fins urbanos.
- () A linha divisória que separa o logradouro público do lote
- () Área do terreno destinada ao poder público para a implantação e proteção de obras, como rodovias e vias urbanas.
- () Menor distância entre a edificação e a divisa frontal do lote pertencente à propriedade particular e destinada à eventual ampliação futura do logradouro público.

Assinale a alternativa que indica a sequência **correta**, de cima para baixo.

- a. 1 • 2 • 4 • 3
- b. 2 • 1 • 3 • 4
- c. 2 • 3 • 1 • 4
- d. 3 • 2 • 4 • 1
- e. 4 • 3 • 2 • 1

Utilize a grade ao lado para anotar as suas respostas.

Não destaque esta folha. Ao entregar sua prova, o fiscal irá destacar e entregar esta grade de respostas que você poderá levar para posterior conferência.



GRADE DE RESPOSTAS

1		S13 Fiscal de Obras	21	
2			22	
3			23	
4			24	
5			25	
6			26	
7			27	
8			28	
9			29	
10			30	
11			31	
12			32	
13			33	
14			34	
15			35	
16			36	
17			37	
18			38	
19			39	
20			40	





FUNDAÇÃO DE ESTUDOS E PESQUISAS SOCIOECONÔMICOS

Campus Universitário • UFSC
88040-900 • Florianópolis • SC
Fone/Fax: (48) 3953-1000
<http://www.fepese.org.br>