

PREFEITURA MUNICIPAL DE MARACANAÚ
SECRETARIA MUNICIPAL DE RECURSOS E PATRIMONIAIS
CARGOS DE NÍVEL MÉDIO, TÉCNICO E SUPERIOR
CONCURSO PÚBLICO

CARGO: FISCAL SANITÁRIO – TIPO B

FRASE: “Supere seus limites, conquiste seus sonhos.”
(Transcrever a frase acima para a folha de resposta)



SUA PROVA

O candidato receberá do fiscal de sala:

- Este caderno de prova, contendo **60 (sessenta)** questões objetivas; e
- Uma **Folha de Respostas** destinada às respostas das questões objetivas.



TEMPO

- **04h (quatro horas)** é o tempo disponível para a realização da prova, já incluindo o tempo para a marcação na **Folha de Respostas** da prova objetiva.
- O candidato somente poderá se retirar da sala de prova após o decurso de **60min (sessenta minutos)** e só poderá se retirar do local de realização das provas após o decurso de **02h (duas horas)** do horário de início da prova e em hipótese alguma o candidato levará consigo o caderno de prova.



NÃO SERÁ PERMITIDO

- ausentar-se da sala ou do local de prova sem o acompanhamento de um fiscal;
- fazer uso de calculadora, relógio de qualquer espécie e/ou agenda eletrônica ou similar;
- portar, após o início das provas, qualquer equipamento eletrônico e/ou sonoro e/ou de comunicação ligados ou desligados;
- comunicar-se com outro candidato ou terceiros, verbalmente ou por escrito, bem como fazer uso de material não permitido para a realização da prova;
- lançar meios ilícitos para a realização da prova;
- deixar de devolver ao fiscal qualquer material de aplicação da prova, fornecido pelo **IDECAN**;
- usar sanitários após o término da prova, ao deixar a sala.



INFORMAÇÕES GERAIS

- Verifique se o **CARGO** deste caderno de prova coincide com o registrado no cabeçalho de cada página e com o cargo para o qual você está inscrito. Caso contrário, notifique imediatamente o fiscal da sala, para que sejam tomadas as devidas providências.
- Confira seus dados pessoais, cargo, número de inscrição e documento de identidade e leia atentamente as instruções para preencher a **Folha de Respostas**.
- Identifique na **Folha de Respostas** o **TIPO** de caderno de prova, a não identificação na **Folha de resposta**, pelo candidato, acarretará em nota final igual a **0,00 (zero)**.
- Assine seu nome, no espaço reservado, com caneta esferográfica em material transparente, de tinta cor azul ou preta.
- Em hipótese alguma haverá substituição da **Folha de Respostas** por erro do candidato.
- O candidato deverá transcrever as respostas da prova objetiva para a **Folha de Respostas**, sendo este o único documento válido para a correção da prova. O preenchimento da **Folha de Respostas** será de inteira responsabilidade do candidato, que deverá proceder em conformidade com as instruções específicas contidas no **Edital**, no **Caderno de Prova**, e na **Folha de Respostas**.
- O **IDECAN** realizará identificação datiloscópica de todos os candidatos. A identificação datiloscópica compreenderá a coleta das impressões digitais dos candidatos.
- Ao terminar a prova, o candidato deverá, **OBRIGATORIAMENTE**, devolver ao fiscal o **Caderno de Prova**, e a **Folha de Respostas** ambos devidamente assinados, apenas, nos locais indicados.
- Durante a realização da prova, o envelope de segurança com os equipamentos e materiais não permitidos, devidamente lacrado, deverá permanecer embaixo ou ao lado da carteira/cadeira utilizada pelo candidato, devendo permanecer lacrado durante toda a realização da prova e somente poderá ser aberto no ambiente externo do local de provas.
- Os **3 (três) últimos** candidatos de cada sala só poderão sair juntos.
- O gabarito oficial preliminar da prova objetiva serão divulgados na Internet, no endereço eletrônico www.idecan.org.br, juntamente com os Cadernos de Prova, conforme Edital.

PREENCHA MANUALMENTE:

INSCRIÇÃO

NOME COMPLETO



CONHECIMENTOS COMUNS

Língua Portuguesa

Texto para as questões de 1 a 10.

QUANDO O CORPO FALA

- 1 Nunca tinha escutado o nome de Louise L. Hay, que, pelo que eu soube, é uma psicóloga americana com vários livros publicados e traduzidos para diversos idiomas, inclusive para o português.
Ela diz que todas as doenças que temos são criadas por nós. Pô, Louise. Como assim, “criadas”? Fosse simples desse jeito, bastaria a força da mente para evitar que o vírus da gripe infectasse o ser humano.
- 5 Porém, se não levarmos tudo o que ela diz ao pé da letra, se abstrairmos certos exageros, vamos chegar a um senso comum: nós realmente facilitamos certas invasões ao nosso corpo. É o que se chama somatizar, ou seja, é quando uma dor psíquica pode se manifestar fisicamente. Muitas vezes acontece, sim.
Por que não tentar?
Louise L. Hay acredita tanto, mas tanto nisso, que chegou a fazer uma lista de doenças e suas prováveis causas.
- 10 Exemplo: apendicite vem do medo. Asma, de choro contido. Câncer, de mágoas mantidas por muito tempo. Derrame, da rejeição à vida. Dor de cabeça vem da autocrítica. Gastrite, de incertezas profundas. Hemorroidas vem do medo de prazos determinados e raiva do passado. A insônia vem da culpa. Os nódulos, do ego ferido. Sinusite é irritação com pessoa próxima.
Eu sei e os leitores também sabem que não é bem assim, que isso é uma generalização e que há vários outros fatores em jogo, mas não custa prestarmos atenção na interferência que nossos sentimentos têm sobre nosso corpo, assim
- 15 poderemos ajudar no tratamento sendo menos tensos e angustiados.
Para quem é 100% cético, tudo isso é balela. Já fui desse modo. Tempos atrás, não daria a mínima para as afirmações de Louise L. Hay. Hoje me considero 70% cética e ainda pretendo reduzir este índice, pois reconheço que os meus parcos 30% de crença no que não é cientificamente provado é que me salvam de uma úlcera.

Martha Medeiros, *Doidas e Santas*.

- | | |
|---|--|
| <p>1. A partir da intencionalidade discursiva do texto Quando o corpo fala, é verdadeiro afirmar que</p> <p>(A) a autora se mostra um tanto descrente sobre o estudo da psicóloga, mas lhe dá anuência.</p> <p>(B) a autora descredibiliza veementemente o estudo da psicóloga.</p> <p>(C) o estudo da psicóloga é referendado pela autora durante todo o texto.</p> <p>(D) a autora retifica o estudo da psicóloga, pois tem argumento de autoridade para fazê-lo.</p> <hr/> <p>2. A partir da definição de classe de palavra como sendo uma categorização que considera as funções morfológicas dos vocábulos, analise a correlação termo destacado/função entre colchetes para assinalar a alternativa correta.</p> <p>(A) “...traduzidos para diversos idiomas, inclusive para o português (linha 2). [conjunção].</p> <p>(B) “Gastrite, de incertezas profundas...” (linha 11) [adjetivo].</p> <p>(C) “...o vírus da gripe infectasse o ser humano.” (linha 4) [substantivo].</p> <p>(D) “...se não levarmos tudo o que ela diz ao pé da letra.” (linha 5) [pronome].</p> | <p>3. Partindo da definição de que orações subordinadas são aquelas que dependem de outras orações no período e que não têm sentido completo isoladas, aponte a alternativa em que há uma oração subordinada destacada cuja classificação se encontra correta entre parênteses.</p> <p>(A) “...mas não custa prestarmos atenção na interferência que nossos sentimentos têm sobre nosso corpo.” (linha 14) [subordinada substantiva completiva nominal].</p> <p>(B) “...os leitores também sabem que não é bem assim” (linha 13) [subordinada substantiva subjetiva].</p> <p>(C) “...pois reconheço que os meus parcos 30% de crença.” (linhas 17 e 18) [subordinada substantiva objetiva direta].</p> <p>(D) “Ela diz que todas as doenças que temos são criadas por nós.” (linha 3) [subordinada substantiva predicativa].</p> <hr/> <p>4. Em “Dor de cabeça vem da autocrítica.” (linha 11), A palavra destacada é formada por</p> <p>(A) derivação parassintética.</p> <p>(B) derivação prefixal.</p> <p>(C) composição justaposta.</p> <p>(D) composição aglutinada.</p> |
|---|--|

5. Analise a função do termo destacado, no trecho a seguir, para assinalar a alternativa correta.

“Hoje me considero 70% cética e ainda pretendo reduzir **este** índice...” (linha 17).

- (A) É um elemento catafórico e está de acordo com as regras de referenciação.
- (B) Infringe às regras de referenciação, pois deveria ser **esse**.
- (C) Infringe às regras de referenciação, pois deveria ser **aquele**.
- (D) É um elemento anafórico e está de acordo com as regras de referenciação.

6. Respeitando a hierarquia da sintaxe de colocação pronominal, o trecho “...não daria a mínima para as afirmações...” (linha 16) poderia ser reescrito consoante a alternativa

- (A) “Não daria-lhes a mínima”.
- (B) “Daria-lhes a mínima”.
- (C) “Dar-nos-ei a mínima”.
- (D) “Dar-lhes-ia a mínima”.

7. A regência verbal trata-se da relação que se estabelece entre os verbos e os termos que os complementam ou os circunstanciam. Tendo por base essa definição, assinale a alternativa que traz uma informação correta sobre essa relação.

- (A) “Hoje me considero 70% cética” (linha 17) [O verbo **considerar** é intransitivo; e o termo **70% cética** sua circunstância].
- (B) “não daria a mínima para as afirmações de Louise L. Hay.” (linhas 16 e 17) [O verbo **dar** é apenas transitivo indireto; e o termo **para as afirmações de Louise L. Hay**, seu objeto indireto].
- (C) “Louise L. Hay acredita tanto, mas tanto nisso ...” (linha 9) [O verbo **acreditar** é transitivo indireto; e o termo **nisso**, seu objeto indireto].
- (D) “...bastaria a força da mente” (linha 4) [O verbo **bastar** é transitivo direto; e o termo **a força da mente**, seu objeto direto].

8. Os tempos compostos do verbo são formados pelos verbos auxiliares **ter** e **haver**, e por um verbo principal no particípio, do qual resulta uma locução verbal. Assim sendo, na passagem “Nunca **tinha escutado** o nome de Louise L. Hay” (linha 1), a locução verbal destacada indica um tempo composto no

- (A) pretérito perfeito.
- (B) pretérito mais-que-perfeito
- (C) futuro do presente.
- (D) futuro do pretérito.

9. Em “Hoje me considero 70% **cética**...” (linha 17), a palavra destacada tem seu significado oposto no termo destacado em

- (A) “É o que se chama **somatizar**” (linha 6)
- (B) “...assim poderemos ajudar no tratamento sendo menos **tensos** e angustiados.” (linhas 14 e 15)
- (C) “...se **abstrairmos** certos exageros, vamos chegar a um senso comum.” (linhas 5 e 6)
- (D) “Louise L. Hay **acredita** tanto, mas tanto nisso...” (linha 9)

10. “...os meus parcos 30% de crença (...) é que me salvam de uma úlcera.” (linhas 17 e 18). De acordo com as regras de concordância verbal, o período em análise também atende à norma-padrão na alternativa

- (A) “...os meus parcos 30% de crença (...) é que me salva de uma úlcera.”
- (B) “...os meus parcos de crenças (...) é que me salva de uma úlcera.”
- (C) “...os meus parcos 30% de crenças (...) é que me salva de uma úlcera.”
- (D) “...os meus parcos 30% (...) é que me salva de uma úlcera.”

Texto para as questões de 11 a 20.**Brasil mais indígena**

1 Segundo o censo de 2022, os indígenas são quase 1,7 milhão dos 203,1 milhões de brasileiros, o que representa alta de 88,8% em relação ao recenseamento anterior, que registrou 896,9 mil em 2010.

Não se sabe o papel dos fatores demográficos (nascimentos e mortes), que ainda serão divulgados, para tamanho salto. Mas mudanças na metodologia do levantamento ajudam a entender os números.

5 Para a contagem, pesquisadores perguntam sobre raça ou cor, com as opções branca, preta, parda, amarela e indígena a assinalar

Em 2022, se o entrevistado estivesse em uma área indígena (terra, agrupamento ou outro tipo de localidade) e não se declarasse como tal, era submetido a uma questão específica sobre essa condição.

Em 2010, essa segunda questão só era feita em terra indígena oficialmente demarcada, o que pode ter prejudicado a contagem. De um censo para outro, aumentou expressivamente a parcela dos indígenas contados a partir da segunda pergunta, de 8,8% para 27,58%.

A abordagem também mudou. Houve participação de guias comunitários e intérpretes, além de reuniões com lideranças para facilitar o acesso e a comunicação.

As alterações implementadas pelo IBGE são bem-vindas, já que políticas públicas dependem de dados estatísticos confiáveis, e parte das comunidades indígenas, principalmente aquelas distantes dos centros urbanos, vive em situação de vulnerabilidade social.

Não mais de 37% (622,1 mil) dos indígenas habitam territórios com alguma delimitação formal; 51,2% (867,9 mil) estão na Amazônia Legal. De 573 áreas oficialmente demarcadas até o final de julho do ano passado, a mais populosa é a Terra Indígena Yanomami, que se espalha pelos estados do Amazonas e de Roraima.

20 No início deste ano, os mais de 27 mil indígenas que vivem no local passaram por uma crise humanitária, com surtos de malária e desnutrição. A região sofre com o garimpo ilegal, cujo alcance quase triplicou entre 2020 e 2022.

O enfraquecimento dos órgãos de fiscalização e o desmonte de programas ambientais e indigenistas sob o governo do ex-presidente agravaram a situação no território, que historicamente enfrenta graves problemas.

Espera-se que os dados do último censo sejam de fato mais precisos e contribuam para que o poder público atenda com maior eficácia essa parcela da sociedade brasileira.

11. No decorrer do texto, utilizam-se diversos sinais de pontuação, como vírgulas, parênteses, pontos-finais etc., que são muito importantes para a boa organização sintática dos períodos e, conseqüentemente, o adequado entendimento dos enunciados. Considerando isso, assinale o trecho em que há alguma falha de pontuação.

- (A) Com os corredores livres, o risco de acidentes cresceria consideravelmente; sem isso, entretanto, a agilidade das duas rodas, principalmente nos centros urbanos, seria afetada. Os obstáculos para fiscalizar eventuais infrações eram outro complicador.
- (B) A eficácia da iniciativa decerto exige mais observação, mas, já atrai o interesse de outras cidades do país. Políticas como essa devem obrigatoriamente vir acompanhadas de campanhas educativas, rígida fiscalização e, sobretudo, respeito às leis de trânsito —por motociclistas ou motoristas.
- (C) “Nos últimos 25 anos, houve expansão vertiginosa da frota no país — empurrada por fatores como baixo custo de aquisição, economia de combustível e, mais recentemente, popularização dos serviços de entrega. O total de mortos em acidentes envolvendo motos acompanhou essa alta: subiu quase nove vezes desde o CTB”.
- (D) “Espremer-se entre os carros, por óbvio, ficou ainda mais perigoso. Na cidade de São Paulo, esses óbitos bateram recorde em 2022: 405, ou 36,4% a mais na comparação com 2019, antes da pandemia.”

12. “Não se sabe o papel dos fatores demográficos (nascimentos e mortes)” (linha 3). Neste trecho, localizado no 2º parágrafo, faz-se o uso da próclise. A próclise, assim como a ênclise e a mesóclise, são colocações pronominais possíveis na língua portuguesa. Assinale a alternativa em que a mesóclise foi usada **incorretamente**.

- (A) Ver-nos-emos mais tarde na praça, conforme o combinado.
- (B) A turnê, disseram-me, iniciar-se-á em breve.
- (C) Os problemas resolver-se-iam com o tempo, apontou o relatório.
- (D) Ela informou que não entregar-se-ia para a polícia.

13. Os tipos de texto são classificações empregadas para discernir os principais propósitos comunicativos de um texto e o modo como as informações são arranjadas em sua composição. Nesse contexto, o texto apresentado é caracterizado predominantemente pelo tipo

- (A) expositivo-argumentativo.
- (B) descritivo-narrativo.
- (C) expositivo-descritivo.
- (D) descritivo-argumentativo.

14. “As alterações implementadas pelo IBGE são bem-vindas [...]” (linha 14). Neste trecho, localizado no 7º parágrafo, utiliza-se o hífen. Assinale a alternativa em que todas as palavras e/ou expressões estão grafadas corretamente, respeitando as regras de uso do hífen.

- (A) *check-in*, face a face, dia a dia, ex-vice-presidente, afro-brasileira.
- (B) anti-inflamatório, contraindicação, autoaprendizagem, coirmão, mal-sucedido.
- (C) ponta-pé, conta-gotas, pé de moleque, pé-de-meia, pimenta-do-reino.
- (D) afrodescendente, arco-e-flecha, auto-hipnose, antissocial, reedição.

15. “Espera-se que os dados do último censo **sejam** de fato mais precisos” (linha 24). Neste trecho, localizado no 11º parágrafo, conjuga-se um verbo irregular. Assinale a alternativa em que há um verbo irregular conjugado corretamente no mesmo modo e tempo que o verbo do trecho citado.

- (A) Os funcionários perfizeram o projeto dentro do prazo estabelecido, demonstrando sua dedicação e eficiência.
- (B) Espero que eles intermediem a negociação de forma justa e imparcial.
- (C) Os professores gostam que os alunos falem sobre seus projetos durante a apresentação.
- (D) Peço que te predisponhas a ouvir o que tenho a dizer, pois é importante para o nosso entendimento mútuo.

16. Considere os usos do “**que**” a seguir e assinale a alternativa correta acerca de sua análise.

“[...] **que** registrou 896,9 mil em 2010.” (1º parágrafo) [linha 2];

“[...] **que** ainda serão divulgados [...]” (2º parágrafo) [linha 3];

“[...] **que** se espalha pelos estados do Amazonas e de Roraima.” (8º parágrafo) [linha 19];

“[...] **que** vivem no local passaram por uma crise humanitária [...]” (9º parágrafo) [linha 20];

“[...] **que** historicamente enfrenta graves problemas.” (10º parágrafo) [linha 23].

- (A) Todos os “que” são conjunções integrantes e subordinam, à oração principal, uma oração substantiva subjetiva, menos um deles.
- (B) Todos os “que” são pronomes relativos e subordinam, à oração principal, uma oração adjetiva restritiva, menos um deles.
- (C) Todos os “que” são pronomes relativos e subordinam, à oração principal, uma oração adjetiva explicativa, menos um deles.
- (D) Todos os “que” são conjunções integrantes e subordinam, à oração principal, uma oração substantiva objetiva, menos um deles.

17. Assinale a alternativa que contém a oração cujo verbo destacado pode ser conjugado tanto no singular quanto no plural sem que ocorram problemas de concordância.

- (A) “Não se **sabe** o papel dos fatores demográficos (nascimentos e mortes) [...]” (2º parágrafo). (linha 3)
- (B) “[...] e parte das comunidades indígenas, principalmente aquelas distantes dos centros urbanos, **vive** em situação de vulnerabilidade social.” (7º parágrafo). [linhas 15 e 16]
- (C) “[...] **aumentou** expressivamente a parcela dos indígenas contados a partir da segunda pergunta, de 8,8% para 27,58%.” (5º parágrafo) [linhas 10 e 11].
- (D) “**Houve** participação de guias comunitários e intérpretes, além de reuniões com lideranças [...]” (6º parágrafo) [linha 12]

18. “O enfraquecimento dos órgãos de fiscalização e o desmonte de programas ambientais e **indigenistas** sob o governo do ex-presidente agravaram a situação no território, que historicamente enfrenta graves problemas” (linhas 22 e 23). Nesse trecho, localizado no 10º parágrafo do texto, utiliza-se a palavra “**indigenistas**”. Pode-se afirmar que esse termo é formado por

- (A) derivação a partir da palavra primitiva “índio”.
- (B) composição e contém um sufixo que indica ocupação ou ofício, assim como “jornalista”.
- (C) derivação e contém um sufixo que exprime noção de adepto, assim como “liberalista”.
- (D) composição a partir da aglutinação das palavras “índio” e “genista”.

19. “Espera-se que os dados do último censo sejam de fato mais precisos e contribuam para que o poder público atenda com maior eficácia essa parcela da sociedade brasileira” (linhas 24 e 25). Acerca desse período, localizado no 11º parágrafo do texto, assinale a alternativa que o analisa corretamente.

- (A) O primeiro “-se” é uma partícula apassivadora. O sujeito de “Espera-se” é uma oração. O primeiro “que” é uma conjunção integrante. “Precisos” é o núcleo de um predicado nominal. “Sejam” e “contribuam” têm o mesmo sujeito.
- (B) O primeiro “-se” é um índice de indeterminação do sujeito. O sujeito de “Espera-se” é vago/indeterminado. O primeiro “que” é uma conjunção coordenativa. “Precisos” é o núcleo de um predicado nominal. “Sejam” e “contribuam” têm o mesmo sujeito.
- (C) O primeiro “-se” é índice de indeterminação do sujeito. O sujeito de “Espera-se” é vago/indeterminado. O primeiro “que” é uma conjunção integrante. “Precisos” é o núcleo de um predicado verbo-nominal. “Sejam” e “contribuam” têm o mesmo sujeito.
- (D) O primeiro “-se” é uma partícula apassivadora. O sujeito de “Espera-se” é uma oração. O primeiro “que” é uma conjunção integrante. “Precisos” é o núcleo de um predicado verbal. “Sejam” e “contribuam” têm sujeitos diferentes.

20. “Em 2010, **essa segunda questão** só era feita em terra indígena oficialmente demarcada, o que pode ter prejudicado a contagem” (linhas 9 e 10). Nesse trecho, localizado no 5º parágrafo, a expressão destacada faz um movimento

- (A) endofórico e catafórico.
- (B) endofórico e anafórico.
- (C) exofórico a anafórico.
- (D) exofórico e catafórico.

Raciocínio Lógico

RASCUNHO

21. Em torno de uma mesa quadrada, encontram-se em reunião quatro servidores públicos. Miguel, o mais novo entre eles, é alagoano. Há também um maranhense, um paulista e um cearense. João está sentado à esquerda do alagoano. Pedro, à esquerda do maranhense. Por sua vez, José que não é paulista, encontra-se à frente de João. Assim, é correto afirmar que

- (A) José é cearense e João maranhense.
- (B) José é maranhense e Pedro é paulista.
- (C) José é maranhense e Pedro é cearense.
- (D) José é cearense e João é paulista.

22. Mariana, Raquel e Samuel estão envolvidos em processos na Vigilância Sanitária: inspeção de estabelecimento, infração de normas de higiene e denúncia de irregularidades, não necessariamente nessa ordem. Suas idades são 32, 37 e 45 anos, embora não tenhamos informações sobre quem está envolvido em qual caso ou qual é a idade de cada um deles. No entanto, sabemos que Mariana tem 32 anos, que Samuel está envolvido em um caso relacionado à inspeção de estabelecimento e que Raquel não tem 45 anos de idade e também não está envolvida em um caso relacionado à denúncia de irregularidades. Com base nesses fatos, é correto afirmar que

- (A) Raquel está envolvida em inspeção de estabelecimento e Samuel tem 45 anos.
- (B) Raquel tem 37 anos e Mariana está envolvida em denúncia de irregularidade.
- (C) Mariana está envolvida em infração de normas de higiene e Samuel tem 37 anos.
- (D) Samuel tem 37 anos e Mariana está envolvida em denúncia de irregularidades.

23. Os números 1, 2, 3, 4, 5, 6, 7, 8 e 9 deverão ser distribuídos entre os nove quadrados menores de um quadriculado 3 x 3, de modo que:

- cada um dos nove números seja escrito uma única vez;
- cada quadrado menor contenha exatamente um número;
- a soma dos três números de uma mesma linha, de uma mesma coluna e de uma mesma diagonal do quadriculado sejam todos iguais a um mesmo valor P.

Considere a distribuição iniciada na figura abaixo.

4		8
9	5	
	7	

Se as regras descritas forem todas obedecidas, o quadrado em cinza deverá ser preenchido pelo número:

- (A) 6
- (B) 1
- (C) 2
- (D) 3

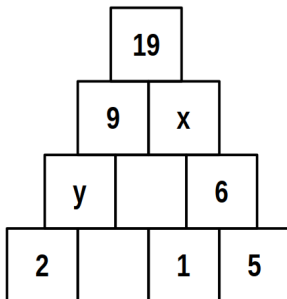
24. Jonas, Júnior, Jean e João são quatro irmãos. Eles possuem idades e alturas diferentes, a mãe deles os organizou em fila, seguindo do mais novo para o mais velho. Sabe-se que:

- João é mais alto que Jonas.
- Jonas está imediatamente a frente de Júnior, que é o mais baixo de todos.
- O mais velho não é o mais alto de todos.
- Jean é mais novo do que João, mas não é o mais novo de todos.

É correto concluir que:

- (A) O mais leve está em primeiro lugar na fila.
- (B) Jean é o primeiro da fila.
- (C) O mais alto está em terceiro lugar na fila.
- (D) Jean está em segundo lugar na fila.

25. As pirâmides matemáticas, também conhecidas como pirâmides numéricas ou pirâmides secretas, são um tipo de quebra-cabeça lógico amplamente utilizado como exercício de estimulação cognitiva matemática. A seguir, é exibida uma pirâmide numérica com uma sequência lógica em que alguns valores estão ausentes de alguns quadrados.



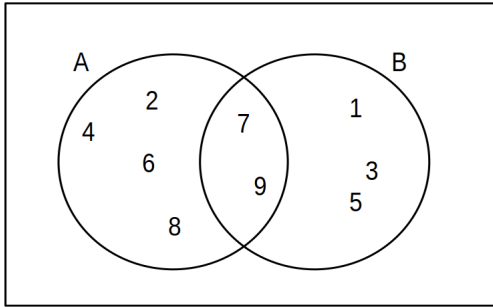
Analisando a pirâmide, o produto entre x e y é igual a

- (A) 100
- (B) 10
- (C) 25
- (D) 50

26. Um prêmio em dinheiro foi dividido entre 3 pessoas: a primeira recebeu $\frac{1}{5}$ do valor do prêmio, a segunda recebeu $\frac{1}{4}$ e a terceira ganhou R\$ 2.750,00. Então, em relação as partes e ao valor desse prêmio, é correto afirmar que

- (A) O valor do primeiro prêmio mais o segundo prêmio é igual a R\$ 5.000,00.
- (B) O valor total do prêmio é superior a R\$ 3.789,00.
- (C) O valor do primeiro prêmio é superior a R\$ 1.152,00.
- (D) O valor do segundo prêmio é inferior a R\$ 987,00.

27. Analisando o diagrama abaixo, pelo posicionamento dos elementos 7 e 9, é correto afirmar que eles formam o conjunto



- (A) intersecção de A com B.
- (B) produto de A com B.
- (C) diferença de A com B.
- (D) união de A com B.

28. Em uma equipe de vigilância sanitária de um órgão estadual, existem três principais categorias de funções para seus agentes de fiscalização: inspeção de estabelecimentos, consultoria técnica e investigação de infrações. Recentemente, foi conduzida uma pesquisa para avaliar a participação dos agentes nessas funções ao longo de um bimestre, e os resultados foram os seguintes:

Funções	Participações
Inspeção de estabelecimentos	45
Consultoria técnica	55
Investigação de infrações	50
Inspeção de estabelecimentos e consultoria técnica	30
Inspeção de estabelecimentos e investigação de infrações	20
Consultoria técnica e investigação de infrações	15
Inspeção de estabelecimentos, consultoria técnica e investigação de infrações	10

A quantidade de participações somente nas funções inspeção de estabelecimentos, consultoria técnica e investigação de infrações foi de

- (A) 75
- (B) 5
- (C) 20
- (D) 50

29. Carlos comprou um terreno que possui formato de um retângulo, com dimensões de 25 metros de comprimento e 9 metros de largura. Sua prima Helena comprou um terreno com a mesma área, entretanto, com formato quadrado. A medida do lado do terreno da Helena é de

- (A) 18 metros.
- (B) 15 metros.
- (C) 16 metros.
- (D) 17 metros.

30. Sendo b um número real, considere a matriz $A = \begin{pmatrix} 1 & 0 \\ b & -1 \end{pmatrix}$

Então A^{2023} é igual a

- (A) $\begin{pmatrix} 1 & 0 \\ b^{2023} & -1 \end{pmatrix}$
- (B) $\begin{pmatrix} 1 & 0 \\ 0 & 1 \end{pmatrix}$
- (C) $\begin{pmatrix} 1 & 0 \\ b & -1 \end{pmatrix}$
- (D) $\begin{pmatrix} 1 & 1 \\ 1 & 1 \end{pmatrix}$

RASCUNHO



Noções de Informática

31. No que se refere ao hardware dos computadores, observe a especificação abaixo de um notebook.

“Lenovo 82MG0009BR - Notebook ideapad Gaming 3i,
i5-11300H, 8GB, 512GB SSD Dedicada GTX 1650
4GB 15.6” FHD WVA W11, Preto”

As citações na especificação que fazem referência à memória principal RAM e à memória secundária de armazenamento são, respectivamente

- (A) 512 SSD e 4 GB
- (B) 4 GB e 8 GB
- (C) 512 SSD e 8 GB
- (D) 8 GB e 512 SSD

32. No uso dos recursos do Windows 11 BR, um fiscal sanitário acionou a janela do ambiente gráfico Explorador de Arquivos. Estando com essa janela ativa e aberta, ele selecionou a pasta CONTROLE no drive D:\ e executou o atalho de teclado  + , com um objetivo específico de

- (A) selecionar as pastas e os arquivos armazenados na pasta CONTROLE
- (B) classificar em ordem ascendente, as pastas e os arquivos armazenadas na pasta CONTROLE
- (C) excluir um arquivo gravado na pasta CONTROLE, transferindo-o para a Lixeira
- (D) mover as pastas e os arquivos da pasta CONTROLE para a pasta BACKUP

33. No que se relaciona às distribuições Linux, um diretório é simplesmente um arquivo, distribuído em forma de hierarquia. Existem diversas estruturas de diretórios, com o “root” como raiz, que usa o símbolo “/”. Entre os principais diretórios do Linux estão aqueles mais usados e mais úteis no dia a dia, como o que armazena várias bibliotecas de comandos que podem ser ativadas como atalhos. Comparando com o S. O. Windows 10 BR, esse diretório é muito parecido com o *System* ou *System32*.









O diretório em destaque é conhecido como

- (A) /bin
- (B) /lib
- (C) /etc
- (D) /sys











34. A figura mostra um texto digitado no editor *Word 2019 BR*, com formatação justificada. Durante a digitação, ao texto foi utilizado um recurso para dar destaque à letra **N** do parágrafo, conforme ilustrado e, para finalizar, o alinhamento à esquerda foi aplicado ao texto por meio da execução de um atalho de teclado.

Na sua rotina de promoção e proteção à saúde das pessoas, assim como de prevenção a doenças evitáveis, a Vigilância Sanitária atua (com poder de polícia) na regulação dos produtos, propagandas, ambientes, serviços, procedimentos, processos e tecnologias que envolvam risco à saúde.

Nessas condições, o recurso e o atalho de teclado são, respectivamente:

- (A) Destacar e  + 
- (B) Capitular e  + 
- (C) Capitular e  + 
- (D) Destacar e  + 

35. Um funcionário que atua na área da vigilância sanitária está usando os recursos do software de correio eletrônico *Thunderbird Mozilla* versão 102.15.0 (64-bit), em português. Em dado momento, ele executou um atalho de teclado que tem por significado “Responder a Todos”. Esse atalho de teclado é

- (A)  +  + 
- (B)  + 
- (C)  + 
- (D)  +  + 

36. A planilha da figura foi criada no **Calc** do pacote LibreOffice 7.3.2.2 (x64), em português, a partir da inserção da fórmula **=SE(C3-A2>5;"SAÚDE";SE(C3-A2<4;"VIGILÂNCIA";"SANITÁRIA"))** na célula C3. Deseja-se saber, primeiramente o conteúdo mostrado na célula C4 nas condições atuais sem alteração e, para finalizar, se o número 19 exibido em C3 for alterado para 18, qual seria a mudança no conteúdo da célula C4.

	A	B	C
1			
2	13		
3			19
4			?

Nesse contexto, o conteúdo em C4 nas condições atuais sem alteração e o novo conteúdo também em C4 mas com a alteração de 19 para 18 em C3, estão indicados, respectivamente, na seguinte opção

- (A) SANITÁRIA e VIGILÂNCIA
- (B) SAÚDE e VIGILÂNCIA
- (C) SAÚDE e SANITÁRIA
- (D) VIGILÂNCIA e SANITÁRIA

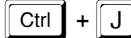
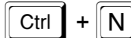
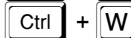
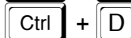
37. O *Microsoft Team* é uma plataforma unificada de comunicação e colaboração que combina bate-papo, videoconferências, armazenamento de arquivos e integração de aplicativos no local de trabalho. Nesse aspecto, representa uma forma de conexão com as pessoas e com as informações que um usuário precisa para colaborar com mais eficiência, de forma mais rápida e simples. Entre seus recursos, um é utilizado para chamar a atenção de um membro da equipe com o objetivo de ficar atualizado sobre os itens de ações ao filtrar o *feed* de atividades. Esse recurso é conhecido como

- (A) @chat
- (B) @menções
- (C) @exchange
- (D) @meet

38. De acordo com a Microsoft, o termo nuvem é utilizado para descrever uma rede global de servidores, cada um com uma função única. Nesse sentido, a computação em nuvem elimina a necessidade de as empresas adquirirem, configurarem ou gerenciarem a infraestrutura porque elas pagam apenas pelo que usam. Os principais tipos de modelos de serviços de computação com base no nível de controle, de flexibilidade e de gerenciamento, oferecem acesso a serviços de infraestrutura de TI, incluindo computação, armazenamento, rede e virtualização. Esse serviço de computação em nuvem é conhecido por

- (A) IaaS – Infraestrutura como Serviço
- (B) SaaS – Software como Serviço
- (C) HaaS – Hardware como Serviço
- (D) PaaS – Plataforma como Serviço

39. Ao navegar em sites da internet por meio do browser Firefox Mozilla, um internauta realizou diversos *downloads* em um *notebook*. Esse usuário para realizar uma avaliação sobre o andamento dos downloads realizados, executa o atalho de teclado descrito em

- (A) 
- (B) 
- (C) 
- (D) 

40. No contexto da segurança da informação, a inundação de SYN TCP é um tipo de praga cibernética, um tipo de ataque de negação de serviço (DoS) ou de negação de serviço distribuído (DDoS) que envia um grande número de solicitações SYN a um servidor para sobrecarregá-lo com conexões abertas. É um ataque de camada de rede que bombardeia um servidor com solicitações de conexão sem responder às confirmações correspondentes. O grande número de conexões TCP abertas consomem os recursos do servidor para essencialmente bloquear o tráfego legítimo, tornando impossível abrir novas conexões legítimas, dificultando o servidor de funcionar corretamente para usuários autorizados que já estão conectados. Esse tipo de ataque é conhecido por SYN

- (A) Stockading
- (B) Spooling
- (C) Blockading
- (D) Flooding

CONHECIMENTOS ESPECÍFICOS

41. Segundo a Norma Regulamentadora (NR) n.º 32, os equipamentos de proteção individual (EPI), descartáveis ou não, deverão estar à disposição, em número suficiente, nos postos de trabalho, de modo que seja garantido seu imediato fornecimento ou sua reposição. Nesse contexto, o empregador deverá

- (A) comunicar imediatamente às instâncias superiores todo acidente ou incidente, com possível exposição a agentes biológicos.
- (B) ser o responsável pelo descarte dos objetos perfurocortantes.
- (C) comunicar o extravio ou qualquer dano causado no EPI.
- (D) garantir a conservação e a higienização dos materiais e instrumentos de trabalho.

42. A responsabilidade legal pela segurança em ambientes de trabalho é dos administradores, no entanto os funcionários devem incorporar em sua rotina de trabalho as boas técnicas microbiológicas e as normas de biossegurança (NR 32 MTE). Sendo assim, deve-se designar uma pessoa ou uma comissão de biossegurança que vise a

- (A) estabelecer programas de treinamento para prevenção de infecções e monitorar a incidência de sepse.
- (B) implementar as normas preconizadas em biossegurança, a fim de prevenir riscos para funcionários, alunos e pacientes e para o meio ambiente.
- (C) padronizar e normatizar procedimentos que regulamentem as avaliações clínicas.
- (D) identificar e classificar áreas de intervenção cirúrgica.

43. As comissões intersetoriais de âmbito nacional, criadas com a finalidade de articular políticas e programas de interesse para a saúde e subordinadas ao Conselho Nacional de Saúde, abrangerão, entre outras, as seguintes atividades:

- (A) saneamento e meio ambiente; alimentação e nutrição; ciência; e tecnologia leves, leves-duras e duras.
- (B) saneamento e meio ambiente; recursos humanos; ciência e tecnologia; e saúde do trabalhador.
- (C) alimentação e nutrição; vigilância sanitária; administração de medicamentos pelo SUS; e saneamento e meio ambiente.
- (D) alimentação e nutrição; saneamento e meio ambiente; e saúde do trabalhador da área da saúde.

44. A lei orgânica do Sistema Único de Saúde (SUS) descreve que as ações e os serviços públicos de saúde e os serviços privados contratados ou conveniados que integram o SUS são desenvolvidos de acordo com as diretrizes previstas na Constituição Federal de 1988, obedecendo a alguns princípios. Acerca dos princípios e das diretrizes do SUS, julgue os itens a seguir.

- I. A preservação da autonomia das pessoas, na defesa de sua integridade física e moral, é um dos princípios do SUS.
- II. A descentralização político-administrativa, com direção única em cada esfera de governo, é um dos princípios do SUS.
- III. A organização dos serviços públicos e privados, de modo a evitar a duplicidade de meios para fins idênticos, é um dos princípios do SUS.
- IV. A conjugação dos recursos financeiros, tecnológicos, materiais e humanos da União, dos estados, do Distrito Federal e dos municípios, na prestação de serviços de assistência à saúde da população, é um dos princípios do SUS.

Assinale a opção correta.

- (A) Apenas os itens I, II e IV estão certos.
- (B) Apenas os itens I e II estão certos.
- (C) Apenas os itens II e III estão certos.
- (D) Apenas os itens III e IV estão certos.

45. A criação do SUS foi resultado de um processo social marcado por uma luta política, e seus princípios coincidem com as bandeiras levantadas pelo movimento de redemocratização do país. Assim, não é por acaso que sua implantação reflète fortemente o processo de descentralização política e a abertura de espaços de participação democrática após 1988. Considerando essas informações, julgue os itens que se seguem.

- I. Constituem-se como bases legais do SUS os artigos de 196 a 200 da Constituição Federal de 1988 – Seção da Saúde.
- II. Constitui-se como base legal do SUS a Lei n.º 8.080/1990.
- III. Constitui-se como base legal do SUS a Lei n.º 8.142/1990.
- IV. Constitui-se como base legal do SUS a Emenda Constitucional n.º 120/2022.

Assinale a opção correta.

- (A) Todos os itens estão certos.
- (B) Apenas os itens I e II estão certos.
- (C) Apenas os itens I, II e III estão certos.
- (D) Apenas os itens II, III e IV estão certos.

46. Assinale a opção que apresenta o processo, contínuo e sistemático, de coleta, consolidação e análise de dados e de disseminação de informações sobre eventos relacionados à saúde, visando ao planejamento e à implementação de medidas de saúde pública, incluindo a regulação, a intervenção e a atuação em condicionantes e determinantes da saúde, para a proteção e a promoção da saúde da população e para a prevenção e o controle de riscos, agravos e doenças.

- (A) análise de situação de saúde
- (B) vigilância sanitária
- (C) modelo de atenção à saúde
- (D) vigilância em saúde

47. Em 12 de junho de 2018, foi instituída a Política Nacional de Vigilância em Saúde (PNVS), por meio da Resolução n.º 588/2018, do Conselho Nacional de Saúde (CNS). A PNVS é um documento norteador do planejamento das ações de vigilância em saúde, nas três esferas de gestão do SUS. A respeito da PNVS e das estratégias para a organização da vigilância em saúde que ela deve contemplar, assinale a opção correta.

- (A) A PNVS deve contemplar a gestão do trabalho e o desenvolvimento e a educação permanentes, o que pressupõe estar em consonância com as necessidades nacionais, de modo a qualificar os profissionais de saúde de todos os níveis de atenção.
- (B) A PNVS deve contemplar a articulação entre as vigilâncias, que pressupõe a proposição e a produção de indicadores conjuntos para o monitoramento e a avaliação da situação de saúde.
- (C) A PNVS deve contemplar os processos de trabalho integrados com a atenção à saúde, que devem ser pautados pelo conhecimento clínico-tecnológico, médico, sanitário, social, demográfico, agroambiental, econômico, cultural, político, de produção e do trabalho.
- (D) A PNVS deve contemplar a regionalização das ações e dos serviços de vigilância ambiental, articulada com a atenção público/privada em saúde, no âmbito da região de saúde.

48. Segundo o documento de 2009, Subsídios para a Construção da Política Nacional de Saúde Ambiental (PNSA), pode ser considerada como propósito da PNSA a promoção da saúde humana e de ambientes saudáveis, por meio da integração de políticas públicas,

- (A) fomentando e buscando bases em pesquisas de campo para atuar junto à gestão.
- (B) fomentando ações em nível nacional, regional, estadual e municipal.
- (C) cooperando técnico-administrativamente com outros atores.
- (D) agregando e apoiando atores, soluções e interesses.

49. O Sistema de Informações sobre Nascidos Vivos (SINASC) foi implantado, oficialmente, a partir de 1990, com o objetivo de coletar dados sobre os nascimentos ocorridos em todo o território nacional e de fornecer informações sobre natalidade para todos os níveis do sistema de saúde. No que se refere à coleta dos dados que alimentam o SINASC, julgue os itens subsequentes.

- I. O documento-padrão, de uso obrigatório em todo o território nacional e essencial à coleta de dados de nascidos vivos no Brasil, é a declaração de nascidos vivos (DN).
- II. A DN é considerada como o documento hábil para a lavratura da certidão de nascimento pelo Cartório de Registro Civil.
- III. A DN é impressa e preenchida em duas vias, pré-numeradas sequencialmente. Sua emissão e sua distribuição são de competência exclusiva das secretarias de saúde estaduais.
- IV. É vedada a distribuição de formulários para profissionais de saúde e parteiras tradicionais, uma vez que as famílias devem ser encaminhadas para a secretaria de saúde do município.

Assinale a opção correta.

- (A) Apenas os itens I, II e IV estão certos.
- (B) Apenas os itens I e II estão certos.
- (C) Apenas os itens II e III estão certos.
- (D) Apenas os itens III e IV estão certos.

50. O sistema e-SUS Notifica foi lançado, em 27 de março de 2020, para receber notificações de síndrome gripal (SG) suspeita e confirmada de covid-19 no Brasil. Nesse sistema, o módulo Notificação Covid-19 foi implementado para auxiliar a vigilância epidemiológica na identificação e no monitoramento dos casos no território. Acerca do módulo Notificação Covid-19, assinale a opção **incorreta**.

- (A) Todos os profissionais e todos os estabelecimentos de saúde podem realizar a notificação a que se destina o módulo, após cadastro prévio.
- (B) Todos os casos leves de SG suspeita ou confirmada de covid-19 devem ser registrados.
- (C) Deve ser realizado o registro de resultados coletivos de todos os testes anatomopatológicos com resultado positivo para covid-19.
- (D) Os gestores municipais e estaduais podem visualizar os registros digitados por usuários notificados e residentes, em sua área de abrangência.

51. Os indicadores de saúde são medidas que contêm informações relevantes sobre o desempenho do sistema de saúde e que devem refletir a situação sanitária de uma população, servindo para a vigilância das condições de saúde. A taxa de mortalidade infantil é um indicador de saúde muito importante, pois estima o risco de as crianças nascidas vivas morrerem antes de completarem um ano de vida. Para calcular esse indicador, é necessário o

- (A) o número de óbitos em menores de cinco anos de idade (por 1.000), dividido pelo número de internações no ano considerado.
- (B) total de óbitos na população infantil (incluindo causas e taxas de internação).
- (C) o número de óbitos em menores de um ano de idade (por 1.000), dividido pelo número total de habitantes.
- (D) número de óbitos em menores de um ano de idade (por 1.000), dividido pelo número de nascidos vivos da população no ano considerado.

52. Um ponto importante do Código Sanitário é o conflito de interesse. Essa expressão se traduz como sendo uma contradição de propostas e princípios, em uma situação ou ação da qual participem indivíduos ou grupos, resultando em algum vínculo para com eles. Com relação ao conflito de interesse, julgue os próximos itens.

- I. Configura conflito de interesse receber presente de quem tenha interesse em decisão do agente público ou de colegiado do qual este participe, fora dos limites e das condições estabelecidos em regulamento.
- II. Configura conflito de interesse prestar serviços, ainda que eventuais, para empresa cuja atividade seja controlada, fiscalizada ou regulada pelo ente ao qual o agente público esteja vinculado.
- III. Configura conflito de interesse divulgar ou fazer uso de informação privilegiada, obtida em razão das atividades exercidas, em proveito próprio ou de terceiros.
- IV. Configura conflito de interesse atuar, formalmente, como procurador, consultor, assessor ou intermediário de interesses privados nos órgãos ou nas entidades da administração pública indireta de qualquer dos estados ou dos municípios.

Assinale a opção correta.

- (A) Todos os itens estão certos.
- (B) Apenas os itens I e II estão certos.
- (C) Apenas os itens I, II e III estão certos.
- (D) Apenas os itens II, III e IV estão certos.

53. Um importante indicador dos serviços de saúde, que é mensurado pelo número de partos cesáreos dividido pelo total de nascimentos na população, no ano considerado, é a

- (A) taxa de nascimento, relacionada ao tipo de parto.
- (B) proporção de partos cesáreos.
- (C) taxa de nascidos vivos por parto cesáreo.
- (D) taxa de nascidos vivos em ambiente hospitalar.

54. O *locus* principal de atuação da vigilância sanitária é o âmbito das relações sociais de produção/consumo, onde se constitui como espaço de intervenção, em prol dos interesses da saúde, com vistas ao controle de risco e ao exercício do poder de polícia, que, uma vez acionado, impulsiona um conjunto de tecnologias de intervenção ou de instrumentos de ação. Considerando essa informação, assinale a opção correta acerca da inspeção, como ação sanitária.

- (A) É um conjunto de procedimentos técnicos e administrativos que visa à proteção da saúde individual e coletiva, por meio da verificação, *in loco*, do cumprimento dos marcos legais e regulatórios sanitários, relacionados às atividades desenvolvidas e às condições sanitárias de estabelecimentos, processos e produtos.
- (B) Integra a estrutura da vigilância sanitária e é um instrumento que produz informação relevante, que permite analisar o produto em si e os efeitos do seu uso na saúde de indivíduos e grupos da população.
- (C) Abrange normas de proteção da saúde coletiva e individual e é imprescindível, devido à natureza interventora das ações e à necessidade de observância do princípio da legalidade na atuação do Estado.
- (D) Avalia e controla situações de risco, processos, a qualidade de produtos, entre outros, e identifica riscos iminentes ou virtuais de agravos à saúde, além dos resultados das ações de controle.

55. Desde a criação do SUS, o Brasil obteve importantes avanços no âmbito do saneamento básico, porém ainda existem desigualdades de distribuição dos serviços de saneamento. A Lei n.º 11.445/2007 estabelece diretrizes nacionais para o saneamento básico, e **não** é uma delas a de

- (A) disponibilidade, em todas as áreas urbanas e rurais, de serviços de drenagem e pavimentação, com manejo das águas fluviais adequado à saúde pública e à segurança da vida e do patrimônio, público e privado.
- (B) articulação com as políticas de desenvolvimento urbano e regional, de habitação, de combate à pobreza e de sua erradicação, de proteção ambiental e de promoção da saúde.
- (C) utilização de tecnologias apropriadas, considerando a capacidade de pagamento dos usuários e a adoção de soluções graduais e progressivas.
- (D) abastecimento de água, esgotamento sanitário, limpeza urbana e manejo dos resíduos sólidos, realizados de formas adequadas à saúde pública e à proteção do meio ambiente.

56. Constitui ato de improbidade administrativa que causa lesão ao erário qualquer ação ou omissão dolosa que enseje, efetiva e comprovadamente, perda patrimonial, desvio, apropriação, malbaratamento ou dilapidação dos bens ou haveres das entidades. Conforme a Lei n.º 8.429/1992, assinale a opção que **não** apresenta atividade considerada como ato de improbidade administrativa.

- (A) usar, em proveito próprio, bens, rendas, verbas ou valores integrantes do acervo patrimonial das entidades
- (B) perceber vantagem econômica, direta ou indireta, para facilitar a alienação, a permuta ou a locação de bem público ou o fornecimento de serviço, por ente estatal, por preço inferior ao valor de mercado
- (C) utilizar, em obra ou serviço para bem coletivo, qualquer bem móvel, de propriedade ou à disposição de qualquer das entidades, bem como o trabalho de servidores, de empregados ou de terceiros contratados por essas entidades
- (D) incorporar, por qualquer forma, ao seu patrimônio bens, rendas, verbas ou valores integrantes do acervo patrimonial das entidades

57. Com base na Portaria n.º 1.428/1993, que estabelece as diretrizes para o estabelecimento de boas práticas de produção e de prestação de serviços na área de alimentos, julgue os itens a seguir.

- I. A informação aos órgãos de vigilância sanitária, quanto às práticas adotadas pelos estabelecimentos produtores e(ou) prestadores de serviços na área de alimentos, é uma das diretrizes.
- II. A avaliação das informações ao consumidor, apresentadas pelos estabelecimentos produtores e(ou) prestadores de serviços, em relação aos aspectos da qualidade dos alimentos, incluindo o controle do teor nutricional, e da qualidade dos serviços, quanto à proteção da sua saúde, é uma das diretrizes.
- III. A avaliação dos controles de situações de risco à saúde do trabalhador é uma das diretrizes.
- IV. A avaliação dos controles de situações de risco para a saúde humana, decorrentes do ambiente, é uma das diretrizes.

Assinale a opção correta.

- (A) Todos os itens estão certos.
- (B) Apenas os itens I e II estão certos.
- (C) Apenas os itens I, II e III estão certos.
- (D) Apenas os itens II, III e IV estão certos.

58. As áreas de competência jurídica não são delimitadas enquanto áreas específicas de atuação profissional em vigilância sanitária. Elas são genéricas, provêm de uma visão de conjunto. Considerando essas informações, assinale a opção que **não** apresenta uma das áreas de competência jurídica.

- (A) sociopolítica – reflexão sobre a esfera do mundo do trabalho, consciência da qualidade e das implicações éticas do trabalho, autonomia de ação, compromisso social e desenvolvimento do exercício da cidadania
- (B) técnica – domínio dos conteúdos das ações, das regras e dos procedimentos da área de trabalho, compreensão dos processos e do manejo de equipamentos e compreensão dos sistemas e das redes de relações e das formas de se obter e de se usar as informações
- (C) organizacional – planejamento de ações coletivas e de organização do trabalho, estabelecimento de métodos guiados, gerenciamento do tempo e desenvolvimento da flexibilidade e da criatividade no espaço de trabalho
- (D) comunicativa – expressão e comunicação com o grupo, com os superiores hierárquicos, com os subordinados e com os usuários, cooperação, trabalho em equipe, prática do diálogo, exercício da negociação e comunicação interpessoal

59. Segundo a Portaria n.º 1.428/1993, boas práticas são normas e procedimentos para se atingir um determinado padrão de identidade e qualidade em um produto e(ou) em um serviço na área de alimentos, cuja eficácia e cuja efetividade devem ser avaliadas por meio da inspeção e(ou) da investigação. Incluem-se aqui produtos como

- (A) aditivos, produtos farmacêuticos, embalagens e materiais em contato com alimentos.
- (B) bebidas, medicamentos, embalagens, utensílios e materiais em contato com alimentos.
- (C) fármacos, dermocosméticos, utensílios e materiais em contato com alimentos.
- (D) bebidas, aditivos, embalagens, utensílios e materiais em contato com alimentos.

60. A inspeção sanitária consiste na verificação *in loco* da fonte de água, das instalações e dos equipamentos de um sistema de abastecimento e das condições e dos procedimentos de operação e manutenção, visando avaliar a suficiência de todos esses componentes para produzir e fornecer, sob condições seguras, água para consumo humano. Uma inspeção sanitária nas formas de abastecimento de água para consumo humano é composta, de forma simplificada, por algumas etapas. **Não** é uma delas o(a)

- (A) determinação das ações curativas e das medidas de promoção da saúde, a serem disponibilizadas aos profissionais, a fim de minimizar e de prevenir riscos à comunidade.
- (B) planejamento das atividades.
- (C) elaboração do relatório da inspeção.
- (D) visita *in loco* para avaliação das unidades/etapas do processo de produção, fornecimento e consumo de água.