

CÂMARA MUNICIPAL DE POÇOS DE CALDAS/MG

CONCURSO PÚBLICO EDITAL Nº 1/2024



ANALISTA LEGISLATIVO CONSULTOR – ENGENHARIA/ARQUITETURA E URBANISMO

Tarde

Tipo 1 - BRANCA

Organizadora:



INSTITUTO
CONSULPLAN

CONHECIMENTOS GERAIS

LÍNGUA PORTUGUESA

Almanaque

É doce aprender coisas simples; depois de uma certa idade, em que a nossa ignorância está sobrecarregada de mil noções úteis e inúteis, certas ou erradas, acho um encanto especial em descobrir que a esmeralda não é um cristal feito com os olhos lindos das virgens de olhos verdes que morreram de amor, mas um silicato de alumínio e glúcinio, é irmã gêmea da água-marinha e do berilo, ao passo que a ametista é apenas um quartzo com seus 15 por cento de óxido de manganês.

Encho meus domingos com uma longa e vária cultura de almanaque: é uma sabença que não nos oprime, toda cômoda e folgada como um pijama velho. Direis que não vale nada. É que não sois capaz de sentir a pequena e pura emoção intelectual que há em saber que no estado do Espírito Santo acontecem por ano em média 30 suicídios, ou que os cocóis são cabeços de madeira pregados nos alcatrates, e que servem de reforço às aberturas das falcas. Isso talvez não vos seja muito útil, oh leitor ignorante, pois não fazeis ideia muito precisa do que são alcatrates e falcas. Eu também não; mas a verdade é que nos momentos de crise íntima eu me sinto um tanto reconfortado e um pouco mais tranquilo sabendo que os cocóis, pregados nos alcatrates, reforçam bastante as aberturas das falcas. Um dia, quando estiver mais folgado de dinheiro, hei de comprar um bom par de cocóis: meu velho sonho era ter um barco; isso nunca pode ser; mas começemos pelos cocóis.

Estou abusando um pouco do ponto e vírgula, o que talvez seja sinal de raciocínio cansado, que anda um pouco, para um pouco. Não importa, visto que meu espírito se aprimora, e sinto que sou provavelmente, em todo o quarteirão, a única pessoa conhecedora do verdadeiro nome dos tucanos, que é *ramphastos*. Há muita qualidade de *ramphastos*, mas pela beleza do nome eu tenho uma indisfarçável preferência pelo *ramphasto* ariel, que as pessoas vulgares chamam de tucano do bico preto.

Dessas puras noções encho meu dia; é melhor que ler os suplementos; e à noite, quando me recolho ao duro leito, tenho a consciência tranquila de quem fez algo de útil, e sonho que sou Fernão Dias Paes Leme, o caçador de silicatos de alumínio e glúcinio, e vejo um belo *ramphastos* bicando a cabeça do torvo Caliban, que me pretende separar da linda Miranda, filha de Próspero, o verdadeiro duque de Milão. Estou munido de excelentes alcatrates. A filha do senhor duque de Milão tem os cabelos dourados como um bife à milanesa, e... não, não devo contar meus sonhos. Fazei como eu, isto é, fazei cultura.

(BRAGA, Rubem. *Almanaque. Correio da Manhã, Rio de Janeiro-RJ, 17 nov. 1954.*)

Questão 01

Considere a oração subordinada reduzida de infinitivo no trecho “É doce aprender coisas simples; [...]” (1º§). Ela pode ser corretamente classificada como:

- A) Adjetiva restritiva.
- B) Substantiva subjetiva.
- C) Substantiva objetiva direta.
- D) Substantiva objetiva indireta.

Questão 02

É correto afirmar que os termos sublinhados na reprodução do trecho “Direis que não vale nada. É que não sois capaz de sentir a pequena e pura emoção intelectual [...]” (2º§) são exemplos de verbos conjugados na:

- A) 3ª pessoa do plural.
- B) 2ª pessoa do plural.
- C) 3ª pessoa do singular.
- D) 2ª pessoa do singular.

Questão 03

Um dos aspectos fundamentais no reconhecimento da forma como se dá o sentido de um texto, seja denotativo ou conotativo, consiste na identificação da função da linguagem que o pauta. A função metalinguística, por exemplo, se demonstra quando a mensagem fala de si por meio do seu próprio código. Um exemplo de uso da função metalinguística da linguagem se dá no texto em:

- A) “Um dia, quando estiver mais folgado de dinheiro, hei de comprar um bom par de cocóis: [...]” (2º§)
- B) “A filha do senhor duque de Milão tem os cabelos dourados como um bife à milanesa, e... não, não devo contar meus sonhos.” (4º§)
- C) “Estou abusando um pouco do ponto e vírgula, o que talvez seja sinal de raciocínio cansado, que anda um pouco, para um pouco.” (3º§)
- D) “[...] tenho a consciência tranquila de quem fez algo de útil, e sonho que sou Fernão Dias Paes Leme, o caçador de silicatos de alumínio e glúcinio, [...]” (4º§)

Questão 04

Considere o trecho “[...] talvez seja sinal de raciocínio cansado, que anda um pouco, para um pouco.” (3º§). Nele, há um exemplo de ocorrência da figura de linguagem conhecida como:

- A) Perífrase.
- B) Anacoluto.
- C) Metonímia.
- D) Prosopopeia.

Questão 05

Considere a disposição de vírgulas no trecho “[...] e sonho que sou Fernão Dias Paes Leme, o caçador de silicatos de alumínio e glúcinio, e vejo um belo ramphastos bicando [...]” (4º§). As vírgulas se deram de modo a demarcar a ocorrência de um(a):

- A) Aposto.
- B) Vocativo.
- C) Oração subordinada adjetiva explicativa.
- D) Separação entre orações justapostas assindéticas.

Questão 06

No trecho “*Estou abusando um pouco do ponto e vírgula, [...]*” (3º§), o autor pondera sobre seu uso de determinado sinal de pontuação. É correto afirmar que esse sinal de pontuação, denominado ponto e vírgula, pode ter seu uso corretamente empregado para quaisquer das funções descritas nas alternativas a seguir, EXCETO separar:

- A) Itens de artigo de lei ou regulamento.
- B) Orações coordenadas de certa extensão.
- C) Considerandos de decreto, sentença, petição etc.
- D) Expressões ou frases explicativas, quando intercaladas.

Questão 07

Considere os termos sublinhados na reprodução do trecho “[...] depois de uma certa idade, em que a nossa ignorância está sobrecarregada de mil noções úteis e inúteis, certas ou erradas, acho um encanto especial em descobrir que a esmeralda não é um cristal feito com os olhos lindos das virgens de olhos verdes que morreram de amor, [...]” (1º§). Essa aproximação de termos de sentido oposto constitui exemplo de uma figura de linguagem denominada:

- A) Ironia.
- B) Antítese.
- C) Hipérbole.
- D) Eufemismo.

Questão 08

A partir da definição de cocóis disposta no texto, bem como o contexto em que se insere, pode-se inferir que os termos “*alcatrates*” e “*falcas*” têm seus significados relacionados a:

- A) Livros.
- B) Embarcações.
- C) Cidades do Espírito Santo.
- D) Partes do corpo de um tucano.

Questão 09

Considere o uso dos dois-pontos em “*Encho meus domingos com uma longa e vária cultura de almanaque: é uma sabença que não nos oprime, toda cômoda e folgada como um pijama velho.*” (2º§). Sua disposição se deu de modo a demarcar um(a):

- A) Início de uma citação.
- B) Abreviatura de um termo.
- C) Anúncio da fala de um personagem.
- D) Esclarecimento, resultado ou resumo do que se disse.

Questão 10

Considere o trecho “[...] *hei de comprar um bom par de cocóis: [...]*” (2º§). Nele, o verbo “*haver*” é empregado em seu sentido

- A) pessoal, como sinônimo de “*ter*”.
- B) pessoal, como auxiliar de verbo também pessoal.
- C) impessoal, com substituição possível pelo verbo “*fazer*”.
- D) impessoal, com significado equivalente ao do verbo “*existir*”.

Questão 11

Têm-se, nas alternativas a seguir, sublinhados termos de mesma classificação morfológica quanto à classe de palavras a que pertencem, EXCETO:

- A) “Encho meus domingos com uma longa e vária cultura de almanaque: [...]” (2º§)
- B) “[...] é uma sabença que não nos oprime, toda cômoda e folgada como um pijama velho.” (2º§)
- C) “[...] depois de uma certa idade, em que a nossa ignorância está sobrecarregada de mil noções úteis e inúteis, certas ou erradas, [...]” (1º§)
- D) “É que não sois capaz de sentir a pequena e pura emoção intelectual que há em saber que no estado do Espírito Santo acontecem por ano em média 30 suicídios, [...]” (2º§)

Questão 12

Considere a oração “Há muita qualidade de ramphastos, [...]” (3º§). Seu sujeito pode ser corretamente identificado como:

- A) Simples.
- B) Inexistente.
- C) Desinencial.
- D) Indeterminado.

Questão 13

Considere os termos sublinhados no trecho “[...] não devo contar meus sonhos.” (4º§). Em análise quanto à sintaxe da oração, eles coletivamente exercem a função de:

- A) Verbo.
- B) Sujeito.
- C) Objeto direto.
- D) Objeto indireto.

Questão 14

Considere o termo sublinhado em “Encho meus domingos com uma longa e vária cultura de almanaque: [...]” (2º§). A seguir, dispõem-se possíveis sinônimos para ele, EXCETO:

- A) Veraz.
- B) Diversa.
- C) Variada.
- D) Variegada.

Questão 15

Uma tática de escrita comum é a inclusão do leitor no texto por meio de artifícios que fazem com que se fale diretamente com ele. Dessa forma, o autor torna seu texto mais compreensível e persuasivo. Constam, nas afirmativas a seguir, exemplos de excertos do texto em que o autor se vale dessa técnica, EXCETO:

- A) “Fazei como eu, isto é, fazei cultura.” (4º§)
- B) “[...] e... não, não devo contar meus sonhos.” (4º§)
- C) “[...] é uma sabença que não nos oprime, [...]” (2º§)
- D) “[...] isso nunca pode ser; mas começemos pelos cocóis.” (2º§)

MATEMÁTICA

Questão 16

Em um determinado bairro, moram 384 pessoas que são acompanhadas pelos profissionais de um posto de saúde. Ao montar o perfil epidemiológico dos moradores desse bairro com respeito à vacinação contra a dengue, os profissionais do posto de saúde concluíram que:

- O número de moradores com 30 anos ou menos é o triplo do número de moradores com 50 anos ou mais;
- O número de moradores que se vacinaram contra a dengue representa $\frac{7}{12}$ do total de moradores;
- Metade dos moradores que não se vacinaram contra a dengue e $\frac{6}{7}$ dos moradores que se vacinaram contra a dengue possuem idade entre 30 e 50 anos.

De acordo com essa situação hipotética, quantos moradores desse bairro possuem mais de 30 anos?

- A) 84.
- B) 112.
- C) 208.
- D) 300.

Questão 17

Juliana pretende ser uma servidora pública e, diariamente, ela estuda diversos conteúdos diferentes. Para o conteúdo de raciocínio lógico, ela possui um livro com 3.200 questões. Juliana estabeleceu que de segunda-feira a sexta-feira ela fará 20 questões em cada dia e, aos sábados e domingos, serão feitas 10 questões a cada dia. Se Juliana começou a resolver as questões desse livro em uma segunda-feira, em qual dia todas as questões do livro estarão resolvidas?

- A) Sábado.
- B) Terça-feira.
- C) Sexta-feira.
- D) Quinta-feira.

Questão 18

Adelmo administra uma indústria de peças automotivas e decidiu testar a sua produção ao longo de 4 horas de trabalho. Na primeira hora de trabalho, foram produzidas P peças automotivas. Na segunda, foram 500 peças automotivas produzidas a mais que na primeira hora. Já na terceira, a quantidade de peças automotivas produzidas foi o dobro da quantidade produzida na hora passada. Por fim, na quarta hora de produção, a quantidade de peças automotivas produzidas foi equivalente à soma das quantidades produzidas nas três horas anteriores. Se foram produzidas, no total, 13.000 peças automotivas nessas 4 horas de trabalho, qual o valor de P?

- A) 1.000.
- B) 1.250.
- C) 1.500.
- D) 1.750.

Questão 19

Rute e Silvana são primas e participam de competições envolvendo jogos de xadrez. Em um dia de treinamento, as duas primas decidiram jogar diversas partidas entre elas, apostando um valor de R\$ 20,00 em cada partida. Após a última partida do dia, elas contabilizaram que Silvana ganhou 4 partidas e Rute terminou com um saldo de R\$ 60,00 com as apostas. De acordo com o exposto, quantas partidas elas jogaram?

- A) 7.
- B) 11.
- C) 15.
- D) 18.

Questão 20

Adriano é o coordenador do setor de recursos humanos de uma repartição pública. Nesse setor, ele coordena Bianca e Celso, cujos tempos de trabalho na repartição têm 1 ano de diferença. Na data de hoje, o tempo de trabalho de Adriano é o triplo da soma dos tempos de Bianca e Celso. Daqui a 22 anos ininterruptos de trabalho, o tempo de Adriano será igual à soma dos tempos de Bianca e Celso. Com base nessas informações, qual o tempo de trabalho de Adriano na repartição na data de hoje?

- A) 33 anos.
- B) 35 anos.
- C) 37 anos.
- D) 39 anos.

Questão 21

A nutricionista Pâmela fez uma enquete em suas redes sociais, questionando seus seguidores sobre a alteração nos hábitos nutricionais durante o período da pandemia do Coronavírus. Após a primeira hora em que a enquete foi publicada, ela obteve os seguintes resultados preliminares:

- 320 pessoas não tiveram alteração no consumo de bebidas alcoólicas;
- 380 pessoas ou tiveram alteração no consumo de doces ou tiveram alteração no consumo de bebidas alcoólicas;
- 332 pessoas não tiveram alteração no consumo de doces;
- Todas as pessoas que tiveram alteração no consumo de bebidas alcoólicas não tiveram alteração no consumo de doces.

Nesta primeira hora, quantas pessoas responderam à enquete de Pâmela?

- A) 516.
- B) 524.
- C) 532.
- D) 540.

Questão 22

Giovana administra uma fábrica de produtos de beleza que atende diversas cidades do estado. Após uma eficaz campanha de *marketing*, ela recebeu uma grande demanda que deve ser entregue em 26 dias. Considere que todos os funcionários trabalham com igual ritmo de produção. Em um período de 10 dias, 10 funcionários conseguiram produzir $\frac{1}{3}$ da demanda trabalhando 8 horas por dia. Preocupada com o prazo estabelecido, Giovana acrescentou 10 funcionários na produção da parte restante do serviço. Qual deve ser a nova carga horária diária de trabalho para que a demanda seja finalizada na data correta?

- A) 4 horas/dia.
- B) 5 horas/dia.
- C) 6 horas/dia.
- D) 7 horas/dia.

Questão 23

Na pós-graduação do departamento de matemática de uma universidade mineira, estudam 60 alunos de mestrado e 45 alunos de doutorado. Considere que um aluno desse departamento faz somente uma modalidade de pós-graduação (mestrado ou doutorado). Sabe-se que 60% dos alunos de doutorado são provenientes da capital do estado e que 25% dos estudantes de mestrado não são provenientes da capital do estado. Assim, o número de alunos de pós-graduação desse departamento que fazem doutorado ou são provenientes da capital do estado é:

- A) 64.
- B) 75.
- C) 90.
- D) 117.

Questão 24

No último natal, Dona Maria distribuiu a quantia de R\$ 500,00 entre seus três netos: Diogo, Eduardo e Fábio. A divisão foi feita de forma diretamente proporcional à idade de cada um deles. Na divisão, sabe-se que Diogo possui 5 anos e recebeu R\$ 100,00. Se Eduardo possui 7 anos, qual a idade de Fábio?

- A) 10.
- B) 11.
- C) 12.
- D) 13.

Questão 25

Quando Luciana vai à *pizzaria*, ela come somente uma *pizza* salgada, com probabilidade de $\frac{1}{3}$. Já a probabilidade de Luciana comer somente uma *pizza* doce é de $\frac{1}{2}$. Por fim, a probabilidade de Luciana comer uma *pizza* salgada e uma *pizza* doce é $\frac{1}{6}$. Na próxima ida à *pizzaria*, qual a probabilidade de Luciana comer uma *pizza* doce?

- A) $\frac{1}{2}$.
- B) $\frac{2}{3}$.
- C) $\frac{3}{4}$.
- D) $\frac{5}{6}$.

RACIOCÍNIO LÓGICO

Questão 26

Determinada universidade possui, na modalidade presencial, 27 cursos diferentes de graduação. Com respeito ao nível socioeconômico dos estudantes dessa instituição, eles são classificados em nível A ou B. Considere que o diretório acadêmico é frequentado somente por estudantes da universidade. Qual é o número mínimo necessário de estudantes dessa instituição para garantir que tenha, no diretório acadêmico, pelo menos dois alunos do mesmo curso de graduação e do mesmo nível socioeconômico?

- A) 28.
- B) 29.
- C) 55.
- D) 56.

Questão 27

Ademar, Bento, Cristiano, Douglas e Evandro são os servidores mais antigos que trabalham em um banco. Sobre esses cinco servidores, sabe-se que:

- Os tempos de trabalho dos servidores no banco, em anos completos, são distintos e estão entre 35 e 39 anos, incluindo os extremos.
- Ademar e o servidor que trabalha no banco há 35 anos são irmãos.
- Ademar não trabalha no banco há 36 anos e nem há 37 anos.
- Evandro trabalha no banco há 38 anos.
- Assim como Cristiano, que não trabalha no banco há 35 anos, o servidor que trabalha no banco há 36 anos também joga vôlei.
- Douglas não trabalha no banco há 36 anos.

De acordo com essas informações, qual o tempo de trabalho, em anos completos, de Douglas no banco?

- A) 35.
- B) 37.
- C) 38.
- D) 39.

Questão 28

As estudantes Franciele, Giovana e Hilda fazem graduação na mesma universidade em jornalismo, farmácia e medicina, mas não necessariamente nessa ordem. As três estudantes participam da equipe de atletas dos seus respectivos cursos e praticam, de forma distinta, um dos seguintes esportes: vôlei, futebol e natação. Sobre essa situação hipotética, são fornecidas as seguintes informações:

- Hilda pratica vôlei e Franciele faz graduação em medicina.
- A estudante que faz graduação em jornalismo pratica futebol.

Se as estudantes fazem, cada uma, um único curso de graduação, é correto afirmar que:

- A) Giovana pratica futebol.
- B) Franciele não pratica natação.
- C) Hilda faz graduação em jornalismo.
- D) A estudante que faz graduação em farmácia pratica natação.

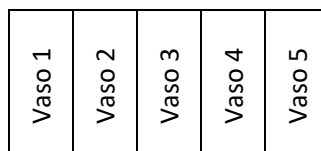
Questão 29

Após passar vários dias se sentindo indisposta, Nancy decidiu consultar um médico. De acordo com as informações fornecidas por Nancy e seus exames apresentados, seu médico orientou que ela tomasse um suplemento vitamínico. Conforme o médico, o suplemento deve ser tomado em cápsulas, sendo uma cápsula três vezes ao dia: pela manhã, à tarde e à noite. Após a consulta, que ocorreu em uma segunda-feira, Nancy comprou o suplemento em um frasco com 150 cápsulas e decidiu começar o tratamento na manhã do dia seguinte. Se Nancy seguiu a orientação do médico até o fim do frasco que comprou, ela terminou o tratamento em qual dia da semana?

- A) Segunda-feira.
- B) Terça-feira.
- C) Quarta-feira.
- D) Quinta-feira.

Questão 30

Patrícia foi até uma floricultura e comprou 5 plantas ornamentais: samambaia, espada de São Jorge, orquídea, jasmim e helicônia. Ao chegar em sua casa, ela decidiu colocar cada tipo de planta em um vaso diferente. Os vasos onde serão colocadas as plantas estão dispostos lado a lado conforme a figura a seguir:



Sabe-se que:

- A samambaia será colocada no vaso ao lado da espada de São Jorge;
- A orquídea, que será colocada no vaso 2, não está posicionada ao lado da samambaia e nem ao lado da espada de São Jorge;
- A helicônia será colocada no vaso ao lado da orquídea, mas não ao lado da samambaia e nem ao lado da espada de São Jorge.

Em qual vaso será colocada a planta jasmim?

- A) 1.
- B) 3.
- C) 4.
- D) 5.

CONHECIMENTOS DE DIREITO**Questão 31**

A Lei nº 13.709, de 14 de agosto de 2018, dispõe acerca da Lei Geral de Proteção de Dados – LGPD. Considerando o exposto, analise as afirmativas a seguir.

- I. A disciplina da proteção de dados pessoais tem como fundamentos, dentre outros, o desenvolvimento econômico e tecnológico e a inovação; a livre iniciativa; a livre concorrência; e, a defesa do consumidor.
- II. A LGPD não se aplica, dentre outros, ao tratamento de dados pessoais realizado para fins exclusivos de segurança pública, bem como atividades de investigação e repressão de infrações penais, vedado esse tipo de tratamento, em regra, à pessoa de direito privado, exceto em procedimentos sob tutela de pessoa jurídica de direito público.
- III. Para os fins da LGPD, considera-se tratamento: toda operação realizada com dados pessoais, como as que se referem a coleta, produção, recepção, classificação, utilização, acesso, reprodução, transmissão, distribuição, processamento, arquivamento, armazenamento, eliminação, avaliação ou controle da informação, modificação, comunicação, transferência, difusão ou extração.
- IV. A Autoridade Nacional de Proteção de Dados (ANPD) poderá aplicar as suas receitas em mercado financeiro.

Está correto o que se afirma em

- A) I, II, III e IV.
- B) I e II, apenas.
- C) II e III, apenas.
- D) II, III e IV, apenas.

Questão 32

Considerando que as sociedades de economia mista fazem parte da organização administrativa indireta, marque **V** para as afirmativas verdadeiras e **F** para as falsas.

- () É dotada de personalidade jurídica de direito privado, com criação autorizada por lei, sob a forma de sociedade anônima.
- () As ações com direito a voto, constantes de seu capital social, devem pertencer em sua maioria à União, aos Estados, ao Distrito Federal, aos Municípios ou a entidade da administração indireta.
- () A pessoa jurídica que controla a sociedade de economia mista tem os deveres e as responsabilidades do acionista controlador, estabelecidos na Lei das S.A. (Lei nº 6.404/1976), e deverá exercer o poder de controle no interesse da companhia, respeitado o interesse público que justificou sua criação.
- () Seu estatuto e de suas subsidiárias deverá observar regras de governança corporativa, de transparência e de estruturas, práticas de gestão de riscos e de controle interno, composição da administração e, havendo acionistas, mecanismos para sua proteção, constantes em sua Lei.

De acordo com a Lei nº 13.303/2016, a sequência está correta em

- A) F, V, F, V.
- B) F, V, V, F.
- C) V, F, F, V.
- D) V, V, V, V.

Questão 33

Tendo em vista que o processo administrativo no âmbito da Administração Pública Federal é regulado pela Lei nº 9.784, de 29 de janeiro de 1999, analise as afirmativas a seguir.

- I. As decisões administrativas que exijam a participação de três ou mais setores, órgãos ou entidades, inclusive autoridades de poderes distintos, poderão ser tomadas mediante decisão coordenada no âmbito da Administração Pública Federal.
- II. Eventual dissenso na solução do objeto da decisão coordenada deverá ser manifestado durante as reuniões, de forma fundamentada, acompanhado das propostas de solução e de alteração necessárias para a resolução da questão.
- III. A conclusão dos trabalhos da decisão coordenada será consolidada em ata, que conterá relato sobre os itens da pauta; síntese dos fundamentos aduzidos; síntese das teses pertinentes ao objeto da convocação; registro das orientações, das diretrizes, das soluções ou das propostas de atos governamentais relativos ao objeto da convocação; posicionamento dos participantes para subsidiar futura atuação governamental em matéria idêntica ou similar; e, decisão de cada órgão ou entidade relativa à matéria sujeita à sua competência.
- IV. Não se aplica a decisão coordenada aos processos administrativos de licitação.

Está correto o que se afirma em

- A) I, II, III e IV.
- B) I e II, apenas.
- C) II e III, apenas.
- D) II, III e IV, apenas.

Questão 34

Considerando que a Lei de Licitações e Contratos Administrativos é tratada atualmente na Lei nº 14.133, de 1º de abril de 2021, analise as afirmativas a seguir.

- I. A critério da autoridade competente, em cada caso, poderá ser exigida, mesmo que não prevista no edital, prestação de garantia nas contratações de obras, serviços e fornecimentos, cabendo ao contratado optar entre caução em dinheiro ou em títulos da dívida pública; seguro-garantia; fiança bancária; e, título de capitalização.
- II. A garantia prestada pelo contratado será liberada ou restituída após a fiel execução do contrato ou após a sua extinção por culpa exclusiva da administração e, quando em dinheiro, atualizada monetariamente.
- III. Na contratação de obras e serviços de engenharia, o edital poderá exigir a prestação da garantia na modalidade seguro-garantia e prever a obrigação de a seguradora, em caso de inadimplemento pelo contratado, assumir a execução e concluir o objeto do contrato.
- IV. Nas contratações de obras, serviços e fornecimentos, a garantia poderá ser de até cinco por cento do valor inicial do contrato, autorizada a majoração desse percentual para até dez por cento, por ato discricionário do responsável pelo contrato, independente de análise da complexidade técnica e dos riscos envolvidos.

Sobre as garantias prestadas pelos contratados, estão de acordo com a Lei nº 14.133/2021, está correto o que se afirma em

- A) I, II, III e IV.
- B) I e II, apenas.
- C) II e III, apenas.
- D) II, III e IV, apenas.

Questão 35

Sobre o agente de contratação de procedimentos licitatórios, segundo a Lei de Licitações e Contratos Administrativos, que é tratada atualmente na Lei nº 14.133, de 1º de abril de 2021, analise as afirmativas a seguir.

- I. A ele caberá conduzir, tomar decisões, acompanhar o trâmite da licitação, dar impulso ao procedimento licitatório.
- II. Será uma pessoa designada pela autoridade competente, entre servidores efetivos, temporários ou empregados públicos dos quadros da Administração Pública.
- III. Cabe-lhe executar quaisquer outras atividades necessárias ao bom andamento do certame até a homologação.
- IV. Será auxiliado por equipe de apoio, respondendo individualmente pelos atos que praticar, salvo quando induzido a erro pela atuação da equipe.

De acordo com a Lei 14.133/2021, está correto o que se afirma em

- A) I, II, III e IV.
- B) I e II, apenas.
- C) II e III, apenas.
- D) I, III e IV, apenas.

Questão 36

Tendo em vista que a Lei nº 8.429, de 2 de junho de 1992, dispõe sobre as sanções aplicáveis em virtude da prática de atos de improbidade administrativa e dá outras providências:

- I. Consideram-se atos de improbidade administrativa as condutas dolosas e culposas tipificadas na Lei nº 8.429, de 2 de junho de 1992, ressalvados tipos previstos em leis especiais.
- II. Não estão sujeitos às sanções previstas na Lei nº 8.429/1992, não sendo considerados atos de improbidade os praticados contra o patrimônio de entidade privada que receba subvenção, benefício ou incentivo, fiscal ou creditício, de entes públicos ou governamentais.
- III. Os sócios, os cotistas, os diretores e os colaboradores de pessoa jurídica de direito privado não respondem pelo ato de improbidade que venha a ser imputado à pessoa jurídica, salvo se, comprovadamente, houver participação e benefícios diretos, caso em que responderão nos limites da sua participação.
- IV. Nas hipóteses de fusão e de incorporação, a responsabilidade da sucessora será restrita à obrigação de reparação integral do dano causado, até o limite do patrimônio transferido, não lhe sendo aplicáveis as demais sanções previstas na Lei nº 8.429/1992 decorrentes de atos e de fatos ocorridos antes da data da fusão ou da incorporação, exceto no caso de simulação ou de evidente intuito de fraude, devidamente comprovados.

De acordo com a Lei nº 8.429/1992, está correto o que se afirma em

- A) I, II, III e IV.
- B) I e II, apenas.
- C) III e IV, apenas.
- D) I, II e III, apenas.

Questão 37

A Lei nº 12.527, de 8 de novembro de 2011, regula o acesso a informações e dá outras providências. João, eleitor domiciliado no município de Guaxupé, interessado em informações sob poder da Câmara Municipal de Poços de Caldas, a ela dirige pedido escrito, com a identificação do requerente e a especificação da informação requerida, protocolizado na Secretaria da Câmara, solicitou acesso às informações de que necessitava. Seu pedido foi indeferido, bem como acesso às razões da própria negativa, cabendo a ele:

- A) Não poderá reclamar da decisão, pois não possui legitimidade ativa para a proposição de pedido de acesso a informações junto à Câmara Municipal de Poços de Caldas, eis que cidadão de Guaxupé.
- B) Ingressar com recurso no prazo de dez dias, a contar da decisão, que será dirigido à autoridade hierarquicamente superior à que exarou a decisão impugnada, que deverá se manifestar no prazo de quinze dias.
- C) Ingressar com recurso no prazo de dez dias, a contar da sua ciência, que será dirigido à autoridade hierarquicamente superior à que exarou a decisão impugnada, que deverá se manifestar no prazo de cinco dias.
- D) Ingressar com pedido de reconsideração no prazo de quinze dias, a contar da decisão, que será dirigido à autoridade hierarquicamente superior à que exarou a decisão impugnada, que deverá se manifestar no prazo de dez dias.

Questão 38

As empresas públicas fazem parte da organização administrativa descentralizada. Considerando o contexto, acerca de empresas públicas, marque **V** para as afirmativas verdadeiras e **F** para as falsas.

- () É dotada de personalidade jurídica de direito privado, com criação autorizada por lei e com patrimônio próprio.
- () Seu capital social é integralmente detido pela União, pelos Estados, pelo Distrito Federal ou pelos Municípios, sendo admitida, a participação de outras pessoas jurídicas de direito público interno, bem como de entidades da administração indireta da União, dos Estados, do Distrito Federal e dos Municípios, desde que a maioria do capital votante permaneça em propriedade da União, do Estado, do Distrito Federal ou do Município.
- () Dentre outros requisitos de transparência, deverão observar a elaboração de carta anual, subscrita pelos membros do conselho de administração, com a explicitação dos compromissos de consecução de objetivos de políticas públicas em atendimento ao interesse coletivo ou ao imperativo de segurança nacional que justificou a autorização para suas respectivas criações, com definição clara dos recursos a serem empregados para esse fim, bem como dos impactos econômico-financeiros da consecução desses objetivos, mensuráveis por meio de indicadores objetivos.
- () Não poderá lançar debêntures ou outros títulos ou valores mobiliários, conversíveis em ações ou emitir partes beneficiárias.

De acordo com a Lei nº 13.303/2016, a sequência está correta em

- A) V, F, F, V.
- B) F, V, V, F.
- C) F, V, F, V.
- D) V, V, V, V.

Questão 39

Considerando que a Constituição da República Federativa do Brasil (CRFB) dispõe sobre a Organização dos Poderes, analise as afirmativas a seguir.

- I. O CNJ – Conselho Nacional de Justiça – é órgão do poder Judiciário composto de quinze membros – dentre os quais o Presidente do Supremo Tribunal Federal, também presidente do CNJ, e um Ministro do Superior Tribunal de Justiça, indicado pelo respectivo tribunal, que exercerá a função de Ministro-Corregedor e ficará excluído da distribuição de processos no Tribunal – com mandato de dois anos, admitida uma recondução.
- II. As comissões parlamentares de inquérito, que terão poderes de investigação próprios das autoridades judiciais, além de outros previstos nos regimentos das respectivas Casas, serão criadas pela Câmara dos Deputados e pelo Senado Federal, em conjunto ou separadamente, mediante requerimento de um terço de seus membros, para a apuração de fato determinado e por prazo certo, sendo suas conclusões, se for o caso, encaminhadas ao Ministério Público, para que promova a responsabilidade civil ou criminal dos infratores.
- III. O Senado Federal compõe-se de representantes dos Estados e do Distrito Federal, eleitos segundo o princípio proporcional. Cada Estado e o Distrito Federal elegerão três Senadores, com dois suplentes cada, com mandato de oito anos, sendo renovada a representação, de quatro em quatro anos, alternadamente, por um e dois terços.
- IV. A eleição do Presidente da República – que exerce o Poder Executivo, auxiliado pelos Ministros de Estado (escolhidos dentre brasileiros maiores de trinta e cinco anos e no exercício dos direitos políticos) – importará a do Vice-Presidente com ele registrado.

Está correto o que se afirma em

- A) I, II, III e IV.
- B) I e II, apenas.
- C) II e III, apenas.
- D) II, III e IV, apenas.

Questão 40

Considerando que a Constituição da República Federativa do Brasil (CRFB) dispõe acerca da Organização do Poder Executivo, disciplinando a substituição do Presidente da República em caso de impedimento ou de vacância, analise as afirmativas a seguir.

- I. Substituirá o Presidente, no caso de impedimento, e suceder-lhe-á, no de vaga, o Vice-Presidente que além de outras atribuições que lhe forem conferidas por lei complementar, auxiliará o Presidente, sempre que por ele convocado para missões especiais.
- II. Em caso de impedimento do Presidente e do Vice-Presidente, ou vacância dos respectivos cargos, serão sucessivamente chamados ao exercício da Presidência, o Presidente do Senado Federal, da Câmara dos Deputados e do Supremo Tribunal Federal.
- III. Vagando os cargos de Presidente e Vice-Presidente da República, far-se-á eleição sessenta dias depois de aberta a última vaga. Ocorrendo a vacância no último ano do período presidencial, a eleição para ambos os cargos será feita pelo Congresso Nacional, na forma da lei, trinta dias depois da última vaga.
- IV. Os eleitos, em caso de vacância dos cargos de Presidente e Vice-Presidente da República, deverão completar o período de seus antecessores.

Está correto o que se afirma em

- A) I, II, III e IV.
- B) I e IV, apenas.
- C) II e III, apenas.
- D) III e IV, apenas.

LEGISLAÇÃO

Questão 41

Considerando as disposições da Resolução nº 854/2020, sobre a iniciativa popular e as moções, analise as afirmativas a seguir.

- I. Salvo nas hipóteses de iniciativa privativa e de matéria indelegável, a iniciativa popular pode ser exercida pela apresentação à Câmara de Projeto de Lei subscrito por, no mínimo, cinco por cento do eleitorado do Município, conforme o interesse ou abrangência da proposta, em lista organizada por entidade associativa legalmente constituída, que se responsabilizará pela idoneidade das assinaturas. Na discussão do projeto de iniciativa popular, é assegurada a sua defesa, em comissão e em Plenário, por um dos signatários.
- II. Moção é a proposição na qual o Vereador sugere medidas de interesse público aos Poderes competentes. As moções serão encaminhadas por qualquer um dos membros da Mesa Diretora, a quem de direito, independentemente de deliberação do Plenário, salvo quando indeferidas pelo Presidente.

Assinale a alternativa correta.

- A) Ambas as afirmativas estão corretas.
- B) Ambas as afirmativas estão incorretas.
- C) A afirmativa I está correta; a II está incorreta.
- D) A afirmativa II está correta; a I está incorreta.

Questão 42

Tício, Mévio e Caio são Vereadores do Município de Poços de Caldas, eleitos pelo voto direto nas últimas eleições municipais. Em discussão a respeito das deliberações da Câmara Municipal, foram proferidas as seguintes afirmações:

- **Tício:** sem prejuízo do disposto na Lei Orgânica do Município e legislação específica, será observado o quórum de maioria qualificada para os projetos que versem sobre rejeição do Parecer Prévio do Tribunal de Contas do Estado sobre as contas anuais do Prefeito.
- **Mévio:** sem prejuízo do disposto na Lei Orgânica do Município e legislação específica, será observado o quórum de maioria absoluta para as matérias que versem sobre a convocação dos secretários municipais, dirigentes de entidades da administração indireta e outras autoridades municipais.
- **Caio:** as deliberações, excetuados os casos previstos nas Constituições Federal e Estadual e, ainda, na Lei Orgânica do Município, serão tomadas por maioria simples de votos desde que haja quórum regimental.

Tendo em vista as disposições do Regimento Interno da Câmara Municipal de Poços de Caldas, são afirmações corretas as emitidas por:

- A) Tício, Mévio e Caio.
- B) Tício e Caio, apenas.
- C) Tício e Mévio, apenas.
- D) Mévio e Caio, apenas.

Questão 43

Martina, servidora efetiva da Câmara Municipal de Poços de Caldas, enquanto estudava a Lei Orgânica do Município a respeito da autonomia do Município, concluiu corretamente que esta se configura, especialmente, pela:

- A) Elaboração e promulgação da Lei Orgânica.
- B) Participação, desde que autorizado por lei municipal, da criação de entidade intermunicipal.
- C) Manutenção das relações com a União, os Estados Federados, o Distrito Federal e os demais Municípios.
- D) Prestação, com a cooperação técnica e financeira da União e do Estado, de serviços de atendimento à saúde da população.

Questão 44

É de notório conhecimento que as Comissões são órgãos técnicos destinados, em caráter permanente ou transitório, para efetuar estudos, emitir pareceres especializados, realizar investigações e representar o Legislativo. Tendo em vista o Regimento Interno da Câmara Municipal de Poços de Caldas são consideradas Comissões Permanentes, EXCETO:

- A) Comissão Processante.
- B) Comissão de Direitos da Mulher.
- C) Comissão de Constituição e Justiça.
- D) Comissão de Concessão de Homenagens pelo Legislativo.

Questão 45

Certo servidor público efetivo, lotado na Câmara Municipal de Poços de Caldas, cometeu uma infração de insubordinação grave em serviço. Tal infração está sujeita à pena de demissão. De acordo com o Regime Jurídico e o Estatuto dos Servidores Públicos do Município de Poços de Caldas, em caso de silêncio da Administração Pública em relação à Ação Disciplinar, essa ação prescreverá em:

- A) Dois anos.
- B) Cinco anos.
- C) Trinta e seis meses.
- D) Quarenta e oito meses.

CONHECIMENTOS DO CARGO

Questão 46

A produtividade de uma equipe possui relação direta entre a duração de uma atividade e a quantidade de recursos disponibilizados. O responsável pela elaboração de um orçamento de obra, visando maximizar o lucro de cada serviço, deverá selecionar uma equipe para executar em alvenaria as paredes de um galpão de 5,40 m largura x 8,70 m comprimento e altura de 2,90 m. Considerando que a produtividade por equipe já foi verificada, a equipe com maior produtividade por pedreiro é a que executa

- A) 127 m², em 90 horas, composta por sete pedreiros.
- B) 212 m², em 130 horas, composta por três pedreiros.
- C) 248 m², em 124 horas, composta por nove pedreiros.
- D) 184 m², em 115 horas, composta por cinco pedreiros.

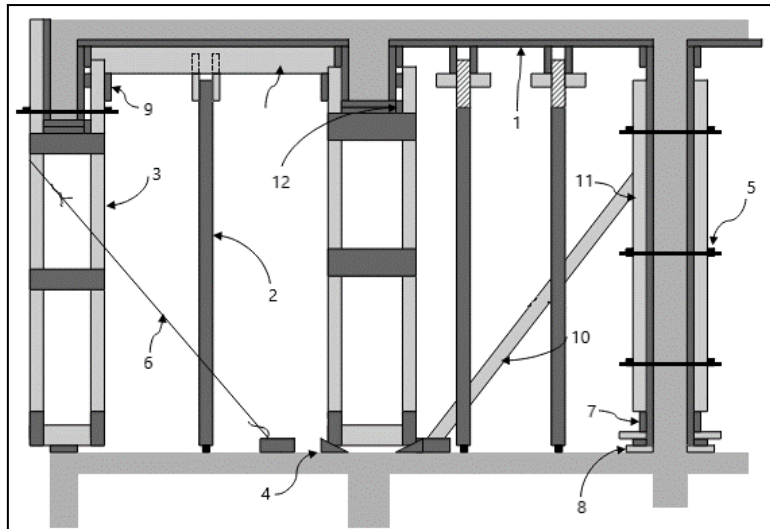
Questão 47

Quando um solo não apresenta as condições requisitadas para execução de determinada obra, uma das possibilidades é tentar melhorar as propriedades de engenharia do solo local. A compactação dos solos tem uma grande importância para as obras geotécnicas e é empregada em diversas situações, como construção de barragens de terra, aterros para diversas utilidades, camadas constitutivas dos pavimentos, dentre outros. Com base neste tema, assinale, a seguir, a diferença entre adensamento e compactação do solo, respectivamente.

- A) O processo de compactação é deferido no tempo, enquanto o processo de adensamento é, geralmente, de natureza dinâmica.
- B) Em ambos os processos o efeito conseguido pelas cargas aplicadas é imediato; o processo de compactação se difere por ser realizado com aplicação de cargas de natureza estática.
- C) No processo de adensamento, ocorre a expulsão de água dos interstícios do solo, enquanto no processo de compactação ocorre a diminuição dos vazios do solo por expulsão do ar contido nos seus vazios.
- D) Pelo processo de adensamento, a diminuição dos vazios do solo se dá por expulsão do ar contido nos seus vazios, de forma diferente do processo de compactação, onde ocorre a expulsão de água dos interstícios do solo, geralmente de natureza dinâmica.

Questão 48

Considerando um sistema de escoramento de madeira, analise a imagem a seguir:



“A referência numérica _____ se refere ao elemento _____.” Assinale a alternativa que completa corretamente e sequencialmente a afirmativa anterior.

- A) 3 / escora
- B) 4 / gastalho
- C) 11 / gravata
- D) 12 / longarina

Questão 49

A relação entre o índice de plasticidade de um solo e a percentagem da fração argilosa é denominada:

- A) Atividade coloidal.
- B) Sanidade dinâmica.
- C) Índice de consistência.
- D) Curva de compactação.

Questão 50

As instalações elétricas em canteiros de obras, tanto as definitivas quanto as temporárias, devem obedecer às normas que priorizam a segurança e a proteção contra choques elétricos. Neste sentido, são medidas de proteção supletiva que não podem ser utilizadas em canteiros de obras, EXCETO:

- A) Locais não condutivos.
- B) Ligação equipotencial não conectada à terra.
- C) Uso de obstáculos e colocação fora de alcance.
- D) Separação elétrica para a alimentação de mais de um equipamento de utilização.

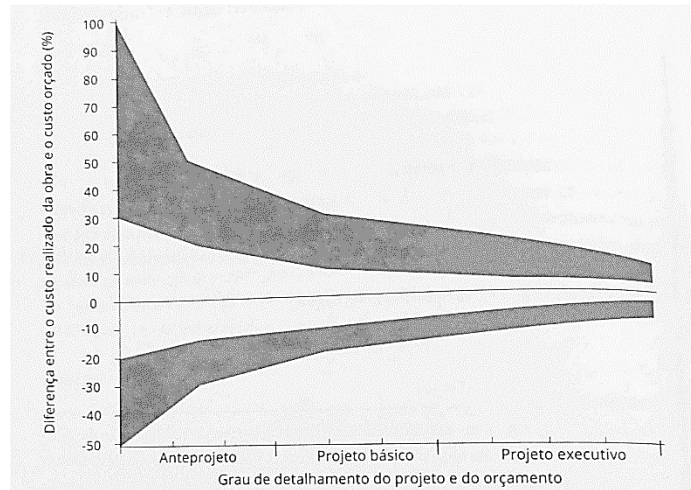
Questão 51

Para elaboração de orçamentos dos projetos de obras de engenharia contratados com recursos dos orçamentos da União, o mandatário poderá utilizar a análise paramétrica do orçamento para aferição do valor do empreendimento. Com o conhecimento de que a análise paramétrica será elaborada com base em parâmetros obtidos em banco de dados de obras similares, caso um serviço materialmente relevante da obra não seja semelhante àqueles que geraram os índices e os indicadores adotados, a análise paramétrica do orçamento:

- A) Será complementada pela análise dos custos unitários.
- B) Poderá ser calculada e justificada com base na complexidade da aquisição.
- C) Deverá apresentar incidência de taxa de BDI reduzida em relação à taxa aplicável aos demais itens.
- D) Considerará percentuais de tributos incidentes sobre o preço do serviço, excluídos aqueles de natureza direta e pessoalística que oneram o contratado.

Questão 52

O gráfico a seguir mostra a relação entre a estimativa de custos e o orçamento de uma obra:



Sabendo que a linha horizontal central mostra o valor orçado, é possível afirmar que:

- A) Quanto menos detalhado é o projeto, menos precisa é a estimativa.
- B) O custo realizado da obra, frequentemente, é similar à estimativa calculada.
- C) A precisão da estimativa de custos reduz à medida que o grau de detalhamento do projeto aumenta.
- D) A estimativa de custos é feita a partir de indicadores genéricos e, por isso, o custo realizado da obra é mais alto.

Questão 53

Quando houver trabalhador alojado, é necessário alojamento, contemplado no projeto da área de vivência. Esse tipo de hospedagem temporária de trabalhadores é de responsabilidade do empregador e deve seguir instruções técnicas elaboradas prezando pelo conforto, higiene e segurança dos alojados. Diante do exposto, assinale a afirmativa INCORRETA.

- A) Deve ser prevista uma tomada elétrica por cama.
- B) É proibido o uso de três ou mais camas na mesma vertical.
- C) Devem estar alojados, no máximo, quatro trabalhadores por quarto.
- D) A distância mínima entre camas, para circulação, deve ser de 0,80 m.

Questão 54

As obras de engenharia e arquitetura que serão executadas com recursos dos orçamentos da União, visando à padronização e controle, deverão seguir critérios e regras para elaboração do orçamento de referência. Tendo em vista o exposto e, ainda, considerando legislação federal, assinale a afirmativa correta.

- A) O preço global de referência deverá evidenciar em sua composição, dentre outros, percentuais de tributos de natureza direta e personalística que oneram o contratado.
- B) A anotação de responsabilidade técnica pelas planilhas orçamentárias deverá constar do projeto que integrar o edital de licitação, inclusive de suas eventuais alterações.
- C) O critério de aceitabilidade de preço deverá considerar cronograma físico-financeiro com a especificação física completa das etapas necessárias à medição, ao monitoramento e ao controle das obras.
- D) Comprovada a inviabilidade técnico-econômica de parcelamento do objeto da licitação, os itens de fornecimento de materiais de natureza específica que possam ser fornecidos por empresas com especialidades próprias, o BDI poderá ser calculado e justificado com base na complexidade da aquisição.

Questão 55

O fato de a sapata não poder penetrar no terreno vizinho, dá lugar ao que se denomina uma fundação excêntrica, sujeita a um momento que tende a romper a coluna. Se a carga do pilar for pequena como, por exemplo, um pilar de residência, pode-se executar uma:

- A) Sapata de divisa.
- B) Abertura de cavas.
- C) Coroamento de fundação.
- D) Radier em concreto armado.

Questão 56

Sabendo que o custo total de uma construção foi de R\$ 2.604.960,00 para um edifício residencial de cinco pavimentos, com 432 m² de área por pavimento, o cálculo do valor do custo básico da construção civil (CUB) nessa obra será de:

- A) R\$ 1.072,00.
- B) R\$ 1.206,00.
- C) R\$ 1.245,00.
- D) R\$ 2.315,50.

Questão 57

Sabe-se que em um serviço de terraplanagem o volume solto transportado foi de 1.795 m³ e o volume após compactação no aterro foi de 925 m³. Considerando o fator de empolamento em 33%, o valor do cálculo do volume de material no corte será de:

- A) 1.157 m³.
- B) 1.230 m³.
- C) 1.349 m³.
- D) 1.383 m³.

Questão 58

A estrutura do solo é definida como o modo em que as partículas se agrupam. Considerando os tipos tradicionais de estrutura do solo, assinale a afirmativa que apresenta a correta definição para estrutura granular simples.

- A) São aquelas quando as partículas floculentas, juntas na sedimentação, atraem-se entre si, dando a estas estruturas a forma de esqueleto.
- B) As partículas são agrupadas dependendo da gravidade, isto é, apoiam-se diretamente umas sobre as outras. As areias e os pedregulhos caracterizam esse tipo de estrutura.
- C) São aquelas quando sedimentam, agrupam-se em forma de flores devido à força de atração das partículas. Os flocos são dispostos em arcos ao completarem a sedimentação.
- D) São aquelas que, ao sedimentarem, observamos formação de alvéolos ou favos de mel. Tal fenômeno ocorre devido às forças de atração entre si, das partículas serem menor do que as forças de atração da gravidade

Questão 59

Para o concreto da classe C15, com consumo de cimento de, no mínimo, 300 kg/m³, o traço de concreto:

- A) Pode ser estabelecido empiricamente.
- B) Deve ser definido em dosagem racional.
- C) Deve ser ajustado racionalmente para as necessidades de cada projeto.
- D) Pode ser definido em dosagem experimental, com a devida antecedência em relação ao início da concretagem da obra.

Questão 60

As escadas das edificações podem ser curvas ou retas e a execução de suas respectivas fôrmas é realizada conforme sua singularidade. Considerando a execução em concreto armado, assinale a afirmativa correta no que diz respeito à tratativa adequada de acordo com o tipo de escada.

- A) As tábuas para piso dos degraus das escadas retas, independente do tipo de concreto utilizado, são indispensáveis, a fim de evitar deformações e abaulamento.
- B) Para execução das fôrmas de uma escada curva, é necessário traçar, previamente, as curvas correspondentes aos desenvolvimentos das bordas da superfície helicoidal.
- C) As fôrmas para as escadas retas e curvas são executadas de maneira idêntica as das lajes de concreto e o emprego de fôrma pode ser dispensado mediante emprego de degraus pré-moldados.
- D) Os lances das escadas retas são formados por painéis inclinados, de tábuas colocadas no sentido transversal da escada, limitados lateralmente por tábuas pregadas, que formam os espelhos.

ATENÇÃO



NÃO É PERMITIDA a anotação das respostas da prova em NENHUM MEIO. O candidato flagrado nesta conduta poderá ser ELIMINADO do processo.

PROVA DISCURSIVA

ORIENTAÇÕES GERAIS

- A Prova Discursiva terá caráter eliminatório e classificatório; é constituída de 1 (uma) dissertação sobre o tema específico da área respectiva do cargo. Será avaliada em 25 (vinte e cinco) pontos.
- A resposta deverá ser manuscrita em letra legível, com caneta esferográfica de corpo transparente e de tinta azul ou preta, não sendo permitida a interferência e/ou a participação de outras pessoas. A Prova Discursiva terá extensão mínima de 20 (vinte) linhas e máxima de 30 (trinta) linhas para a dissertação. Será atribuída nota 0 (zero) ao texto que contiver número de linhas inferior aos limites mínimos estabelecidos nos no subitem 5.2.13.
- O candidato receberá nota zero na Prova Discursiva em casos de não atendimento ao conteúdo avaliado, de não haver texto, de manuscruver em letra ilegível ou de grafar por outro meio que não o determinado em edital, bem como no caso de identificação em local indevido, sendo vedado qualquer tipo de rasura e/ou adulteração na identificação das páginas, sob pena de eliminação.
- Serão considerados os seguintes elementos de avaliação:

CRITÉRIOS	PONTUAÇÃO
(A) ASPECTOS MACROESTRUTURAIS	15 pontos
ABORDAGEM DO TEMA E DESENVOLVIMENTO DO CONTEÚDO	
Neste critério serão avaliados: Pertinência de exposição relativa ao problema, à ordem de desenvolvimento proposto e ao padrão de resposta, conforme detalhamento a ser oportunamente publicado.	
(B) ASPECTOS MICROESTRUTURAIS	10 pontos
Indicação de um erro para cada ocorrência dos tipos a seguir:	
1. Conectores (sequenciação do texto). 2. Correlação entre tempos verbais. 3. Precisão vocabular. 4. Pontuação. 5. Concordância nominal e verbal. 6. Regência nominal e verbal. 7. Colocação pronominal. 8. Vocabulário adequado ao texto escrito. 9. Ortografia. 10. Acentuação.	
OBSERVAÇÕES QUANTO AOS CRITÉRIOS DE CORREÇÃO:	
1. A cada erro textual referente aos aspectos microestruturais ocorrerá o decréscimo de 0,5 ponto, até o limite de 10 pontos. 2. Por linha efetivamente escrita, entende-se a linha com no mínimo duas palavras completas, excetuando-se preposições, conjunções e artigos. 3. O padrão de resposta será divulgado com o resultado preliminar da Prova Discursiva.	

Texto I

O que o resgate do cavalo Caramelo revela sobre o Brasil

Nós negligenciamos todos os alertas feitos pela ciência nos últimos anos. Negligenciamos nossos próprios climatologistas, como o brilhante Carlos Nobre, que fez o Cemaden, Centro Nacional de Monitoramento e Alertas de Desastres Naturais, órgão que salva vidas Brasil afora.

Caramelo não deve ter entendido nada quando foi sedado antes de ser colocado naquele bote. Segundos antes de apagar, devia estar com muito medo. E com a certeza de que não acordaria mais porque nós, seres humanos, temos feito muito mal à natureza, aos biomas e aos animais. Cavalos não podem ficar deitados muito tempo.

Aliás, a explicação para o equino deve passar pela forma como a sociedade brasileira tem também a cultura de ser apenas reativa.

Era preciso mesmo que o Brasil visse o horror que acontece no Rio Grande do Sul para poder finalmente compreender que estamos passando por uma crise climática gravíssima e sem precedentes? E que todos os biomas, superinterligados, incluindo o da Amazônia, têm sido desmatados de forma covarde por décadas?

Não, não era.

(Disponível em: <https://veja.abril.com.br/coluna/matheus-leitao/> Por Matheus Leitão, Atualizado em: 14 de maio de 2024. Fragmento.)

Texto II

Onda de calor no México tem 10 cidades com recordes de temperatura

Na fronteira norte do país, em frente ao Texas, nos Estados Unidos, a temperatura atingiu 47,4°C, quebrando o recorde anterior estabelecido em 1998. O calor intenso causou apagões de várias horas em algumas áreas do México nesta semana.

Dez cidades do México registraram altas de temperaturas recordes, incluindo a capital, informaram as autoridades na sexta-feira (10), em meio a uma onda de calor escaldante que levou a rede elétrica ao limite e provocou apagões em todo o país.

Na capital, Cidade do México, maior metrópole da América do Norte, normalmente temperada e de alta altitude, os termômetros atingiram 34,3°C na quinta-feira (9), um décimo de grau a mais do que o recorde atingido apenas um mês antes.

(Disponível em: <https://g1.globo.com/mundo/noticia/> Acesso em: maio de 2024.)

Texto III



(Disponível em: <http://www.diaadiaeducacao.pr.gov.br/portals/>)

Com base nos textos motivadores, redija uma dissertação acerca do tema:

“Crise climática: responsabilidades e enfrentamentos para uma mudança de paradigmas”.

PROVA DISCURSIVA

01	
02	
03	
04	
05	
06	
07	
08	
09	
10	
11	
12	
13	
14	
15	
16	
17	
18	
19	
20	
21	
22	
23	
24	
25	
26	
27	
28	
29	
30	

RASCUNHO



INSTRUÇÕES

1. Somente será permitida a utilização de caneta esferográfica de tinta azul ou preta, feita de material transparente e de ponta grossa.
2. É proibida, durante a realização das provas, a comunicação entre os candidatos e a utilização de máquinas calculadoras e/ou similares, livros, anotações, impressos ou qualquer outro material de consulta, protetor auricular, lápis, borracha ou corretivo. Especificamente, não será permitido ao candidato ingressar na sala de provas sem o devido recolhimento, com respectiva identificação, dos seguintes equipamentos: *bip*, telefone celular, *walkman*, agenda eletrônica, *notebook*, *palmtop*, *ipod*, *ipad*, *tablet*, *smartphone*, mp3, mp4, receptor, gravador, máquina de calcular, máquina fotográfica, controle de alarme de veículo, relógio de qualquer modelo, pulseiras magnéticas e similares etc., o que não acarreta em qualquer responsabilidade do Instituto Consulplan sobre tais equipamentos.
3. Com vistas à garantia da segurança e da integridade do certame, no dia da realização das provas escritas, os candidatos serão submetidos ao sistema de detecção de metais na entrada e na saída dos sanitários. Excepcionalmente, poderão ser realizados, a qualquer tempo durante a realização das provas, outros procedimentos de vistoria além do descrito.
4. O caderno de provas consta de 60 (sessenta) questões de múltipla escolha e 1 (uma) dissertação para todos os cargos, exceto, para o cargo de Analista Legislativo Advogado que terá 1 (um) parecer jurídico.
5. Ao receber o material de realização das provas, o candidato deverá conferir atentamente se o caderno de provas contém o número de questões previsto, se corresponde ao cargo a que está concorrendo, bem como se os dados constantes no Cartão de Respostas (Gabarito) e na Folha de Textos Definitivos (Prova Dissertativa) estão corretos. Caso os dados estejam incorretos, ou o material esteja incompleto ou, ainda, detenha qualquer imperfeição, o candidato deverá informar tal ocorrência ao Fiscal de Aplicação, não cabendo reclamações posteriores neste sentido.
6. A prova terá duração de 4 (quatro) horas e 30 (trinta) minutos para todos os cargos, exceto para o cargo de Analista Legislativo Advogado que terá duração de 5 (cinco) horas. Esse período abrange a assinatura, assim como a transcrição das respostas para o Cartão de Respostas (Gabarito) e a Folha de Textos Definitivos (Prova Dissertativa).
7. As questões das provas objetivas são do tipo múltipla escolha, com 4 (quatro) opções (A a D) e uma única resposta correta. Ao terminar a prova, o candidato, obrigatoriamente, deverá devolver ao Fiscal de Aplicação o Cartão de Respostas (Gabarito) e a Folha de Textos Definitivos (Prova Dissertativa) devidamente assinados em local indicado.
8. Os Fiscais de Aplicação não estão autorizados a emitir opinião nem prestar esclarecimentos sobre o conteúdo das provas. Cabe única e exclusivamente ao candidato interpretar e decidir.
9. Não é permitida a anotação de informações relativas às suas respostas (cópia de gabarito) no comprovante de inscrição ou em nenhum outro meio.
10. O candidato somente poderá se retirar do local de realização das provas escritas levando o caderno de provas no decurso dos últimos 60 (sessenta) minutos anteriores ao horário previsto para o seu término. O candidato poderá se retirar do local de realização das provas somente a partir dos 90 (noventa) minutos após o início de sua realização; contudo, não poderá levar o seu caderno de provas.
11. Os 3 (três) últimos candidatos de cada sala só poderão sair juntos. Caso algum candidato insista em sair do local de aplicação antes de autorizado pelo Fiscal de Aplicação, será lavrado Termo de Ocorrência, assinado pelo candidato e testemunhado pelos 2 (dois) outros candidatos, pelo Fiscal de Aplicação da sala e pelo Coordenador da Unidade de Provas, para posterior análise pela Comissão de Acompanhamento do Concurso Público.

RESULTADOS E RECURSOS

- Os gabaritos oficiais preliminares das provas objetivas serão divulgados na *Internet*, no endereço eletrônico www.institutoconsulplan.org.br, a partir das 16h00min da segunda-feira subsequente à realização das provas escritas objetivas de múltipla escolha.
- O candidato que desejar interpor recursos contra os gabaritos oficiais preliminares das provas objetivas disporá de 3 (três) dias úteis, a partir do dia subsequente ao da divulgação (terça-feira), em requerimento próprio disponibilizado no *link* correlato ao Concurso Público no endereço eletrônico www.institutoconsulplan.org.br.
- A interposição de recursos poderá ser feita via *Internet*, através do Sistema Eletrônico de Interposição de Recursos, com acesso pelo candidato ao fornecer dados referentes à sua inscrição apenas no prazo recursal, ao Instituto Consulplan, conforme disposições contidas no endereço eletrônico www.institutoconsulplan.org.br, no *link* correspondente ao Concurso Público. Será disponibilizado, ainda, um ponto de acesso à *Internet* para o candidato no endereço indicado no item 1.12 do Edital.