

## CADERNO DE PROVA

### **CARGO: AGENTE DE DESENVOLVIMENTO INFANTIL – ADI**

#### **Instruções gerais:**

1. Este caderno de prova contém 35 (trinta e cinco) questões objetivas. É de sua inteira responsabilidade conferir se o caderno de provas recebido está completo e se corresponde ao seu cargo. Caso esteja incompleto ou apresente qualquer defeito, comunique imediatamente ao fiscal de sala para que seja tomada a providência necessária para sanar o problema;
2. **ATENÇÃO:** para cada questão objetiva são apresentadas as opções A, B, C, D e apenas uma delas corresponde à alternativa correta;
3. O tempo estipulado para a realização da prova é de até **03 (três) horas**, está incluído nesse tempo o preenchimento do cartão-resposta, entrega do material e identificação do candidato;
4. Na carteira somente poderá ficar o documento de identidade e a caneta esferográfica de tinta preta, fabricada em material transparente, fica a critério do candidato a utilização de caneta azul ou outra cor, porém, caso haja falha na leitura ótica do cartão-resposta, os pontos correspondentes às questões não lidas, não serão computados;
5. Ao receber o CARTÃO-RESPOSTA verifique se contém a mesma quantidade de questões do Caderno de Prova, caso perceba algum problema com seu cartão-resposta, comunique imediatamente o fiscal de sala para que seja adotada a medida necessária;
6. No CARTÃO-RESPOSTA você *deverá assinalar somente a alternativa que julgar correta e sem rasuras.*
7. O preenchimento do cartão-resposta é de sua inteira responsabilidade, para o correto preenchimento siga às instruções contidas na parte superior do cartão, observe atentamente o número da questão antes de marcar, pois não haverá substituição do cartão-resposta que é personalizado e único.
8. Quando terminar a prova sinalize para o fiscal e aguarde ser chamado para entregar a prova, o cartão-resposta e assinar a lista de presença, caso não tenha assinado na entrada;
9. Somente depois de decorridos 1 (uma) hora do início da prova você poderá sair da sala sem levar consigo o caderno de provas;
10. Você poderá levar esse caderno de provas quando estiver faltando 30 (trinta) minutos para o encerramento da prova;
11. É proibido levantar ou comunicar com outros candidatos durante a prova;
12. É proibido anotar informações relacionadas às suas respostas da prova objetiva em qualquer outro lugar que não seja o caderno de provas;
13. Os 3 (três) últimos candidatos de cada sala só poderão ser liberados juntos;
14. O gabarito da prova objetiva será divulgado no segundo dia útil subsequente a aplicação da prova e será fixado no placar da Prefeitura e nos sites [www.itame.com.br](http://www.itame.com.br) e [www.acreuna.go.gov.br](http://www.acreuna.go.gov.br);

#### **Informações importantes:**

- ✓ **Não serão aceitos recursos em desacordo com o item 16 e seguintes do edital regulamento;**
  - ✓ **Somente é permitida a reprodução da prova para fins didáticos, devendo ser citada a fonte.**
- Boa sorte!**

**Leia o texto:**

Onde queres família, sou maluco  
E onde queres romântico, burguês  
Onde queres Leblon, sou Pernambuco  
E onde queres eunuco, garanhão  
Onde queres o sim e o não, talvez  
E onde vês, eu não vislumbro razão  
Onde queres o lobo, eu sou o irmão  
E onde queres cowboy, eu sou chinês  
*[Trecho da letra de O queres, Caetano Veloso]*

1. Assinale a alternativa correta quanto à identificação da classe gramatical.

- (A) “Onde queres o **sim** e o **não**, talvez” – substantivos.
- (B) “E onde vês, eu não vislumbro razão” – verbo.
- (C) “Onde queres o lobo, eu sou o irmão” – advérbio.
- (D) “E onde queres cowboy, eu sou chinês” – substantivo.

2. Assinale a alternativa em que todas as palavras estão acentuadas corretamente.

- (A) Ninguém pôde entender exatamente as causas da última enchente no Rio Grande do Sul. Mas o governo pode evitar esse tipo de tragédia com estratégias de gestão responsável.
- (B) Todos tem um quê de preocupação ao ouvir notícias tristes.
- (C) Ajuda humanitária é sempre bem-vinda, não importa de onde vem as doações.
- (D) Com os vôos cancelados nos momentos de chuvas mais fortes, ficou mais difícil fazer chegar a tempo a ajuda necessária às vítimas das enchentes.

3. Assinale a alternativa que justifica corretamente o uso de vírgulas no seguinte parágrafo:

“A fumaça dos incêndios no Pantanal pode ter prejudicado um avião de pequeno porte em Corumbá. O pouso forçado da aeronave, que levava quatro pessoas, ocorreu em uma estrada da região do Paiaguás e pode ter sido causado pela fumaça e falta de visibilidade, informa o Correio do Estado”.

*Disponível em: <https://climainfo.org.br/2023/11/17/>. Acesso em: 09 jul. 2024.*

- (A) Substitui o uso de travessões.
- (B) Separa oração intercalada subordinada adverbial.
- (C) Separa oração subordinada adjetiva explicativa.
- (D) Substitui o uso de parênteses.

4. Nestes versos do poema de Vinicius de Moraes: “Ó minha amada/ Que olhos os teus/ São cais noturnos Cheios de adeus”, temos a seguinte figura de linguagem:

- (A) Personificação.
- (B) Catacrese.
- (C) Antítese.

(D) Metáfora.

5. As palavras alguém, também e está são acentuadas para atender à seguinte regra:

- (A) Acentuam-se as paroxítonas terminadas em ditongo crescente.
- (B) Acentuam-se as oxítonas terminadas em a/as, e/es, o/os, em/ens.
- (C) Acentuam-se monossílabos tônicos terminados em a/as, e/es, o/os.
- (D) Acentuam-se as paroxítonas terminadas em consoantes.

6. A oração destacada no período a seguir é classificada como:

Se o dia amanhece nublado, já esperamos que chova em algum momento da manhã.

- (A) Oração subordinada adjetiva restritiva.
- (B) Oração principal.
- (C) Oração subordinada substantiva objetiva direta.
- (D) Oração subordinada substantiva apositiva.

7. Leia o texto:

O surgimento dos primeiros pelos, o desenvolvimento de mamas e as mudanças no corpo e nas características físicas são sinais do início da transição entre a infância e a adolescência. Geralmente, é esperado que a puberdade aconteça entre 8 e 13 anos em meninas, e dos 9 aos 14 nos meninos. Quando esses sinais são evidentes, e ocorrem antes dessa faixa etária, eles evidenciam a chamada puberdade precoce.

[...]

Disponível em: <https://www.endocrino.org.br/noticias/pesquisas-e-analises-sobre-puberdade-precoce-estao-no-ebep-2024/>. Acesso em: 22 maio 2024. (Texto adaptado)

Julgue os itens com relação à classificação dos termos da oração.

- I.** O primeiro termo destacado – nas três primeiras linhas do texto – exerce a função de sujeito da oração.
- II.** “antes dessa faixa etária” é expressão adverbial que indica causa.
- III.** “esses sinais” é o sujeito da forma verbal ocorrem.

- (A) Está correto apenas II.
- (B) Está correto apenas III.
- (C) Estão corretos apenas I e II.
- (D) Estão corretos apenas I e III.

8. A característica predominante da linguagem utilizada neste texto é:

Preciso contar uma coisa pra vocês: a Nini é super organizada com as coisas dela e ela pegou uma mania do Antonio de limpeza hahaha. Vê se pode! Desde

bebezinha, com 2 aninhos, ela já limpava os brinquedos dela, pegava lenço umedecido pra limpar, até aspirador ela tentava passar, mesmo sendo pesado e maior que ela rs. [...]

Disponível em: <https://www.blogdamariah.com.br/category/beleza/>. Acesso em: 22 maio 2024. (Texto adaptado)

- (A) Formal, com vocabulário rebuscado e uso de palavras pouco comuns.
- (B) Coloquial, próxima da linguagem da fala cotidiana.
- (C) Acadêmica, com uma abordagem que demonstra profundo conhecimento numa área específica de conhecimento.
- (D) Informal, com um vocabulário marcado por regionalismos e usos de gírias.

9. Assinale a alternativa que preenche corretamente as lacunas do pequeno texto a seguir.

Em pequenas cidades do interior as pessoas vão \_\_\_ feira sempre no mesmo dia da semana; \_\_\_ vezes, \_\_\_ partir de determinado horário, as ruas centrais ficam intransitáveis. Atravessa-se a praça principal de um lado \_\_\_ outro \_\_\_ passos curtos, cumprimentando os conhecidos. Há pessoas de todas \_\_\_ idades a circular nessa espécie de procissão semanal.

- (A) à – às – a – a – a – as.
- (B) a – as – à – a – à – as.
- (C) à – as – a – à – a – às.
- (D) a – as – a – à – a – às.

10. O texto a seguir é parte da letra da música *Qui nem jiló*, cuja linguagem está marcada pela seguinte variação linguística:

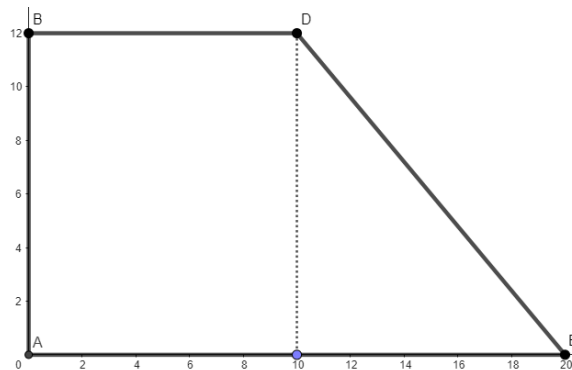
Se a gente lembra só por lembrar  
O amor que a gente um dia perdeu  
Saudade inté que assim é bom  
Pro cabra se convencer  
Que é feliz sem saber  
Pois não sofreu

Porém se a gente vive a sonhar  
Com alguém que se deseja rever  
Saudade, entonce, aí é ruim  
Eu tiro isso por mim  
Que vivo doido a sofrer.

Compositores: Humberto Teixeira / Luis Gonzaga

- (A) variação histórica ou diacrônica.
- (B) variação geográfica ou diatópica.
- (C) variação situacional.
- (D) variação social.

11. Num condomínio, as vendas de terreno são anunciadas de acordo com o tamanho de cada um deles, que são diferentes em cada área. Para cada  $m^2$  é cobrado um valor de R\$400,00. Ao escolher um terreno numa esquina, recebe a imagem da representação do terreno:



De acordo com as medidas do terreno ABDE, descritas na imagem em metros, o valor pago por ele será de:

- (A) R\$ 72.000,00.
- (B) R\$ 70.000,00.
- (C) R\$ 78.000,00.
- (D) R\$ 80.000,00.

12. Na tabela abaixo são apresentados dados de uma pesquisa de idade dos alunos matriculados num curso preparatório:

Idade	Frequência
24	5
25	8
26	7
27	5
28	4
29	11
30	10

A moda e mediana, são dadas respectivamente por:

- (A) 29 e 27.
- (B) 30 e 27.
- (C) 29 e 28.
- (D) 29 e 27,5.

13. A construção do calçamento de uma rua está prevista para ser finalizada em 15 dias, com seis funcionários trabalhando nesta construção. A fim de acelerar a finalização da obra, são contratados mais três funcionários. Considerando que o ritmo do trabalho seja mantido, com o aumento de funcionários, a quantidade de dias em que a obra será finalizada será de:

- (A) 9.
- (B) 10.
- (C) 11.
- (D) 12.

14. Um determinado investimento apresenta uma taxa de juros compostos de 3% ao mês. Considerando um investimento de R\$8.000,00 renderá após 2 anos um montante de aproximadamente:

(Dado:  $(1,03)^{24} \cong 2,0327$ )

- (A) R\$ 16.300,00.
- (B) R\$15.970,00.
- (C) R\$ 16.262,00.
- (D) R\$ 16.120,00.

15. Analisando a dízima periódica a seguir:

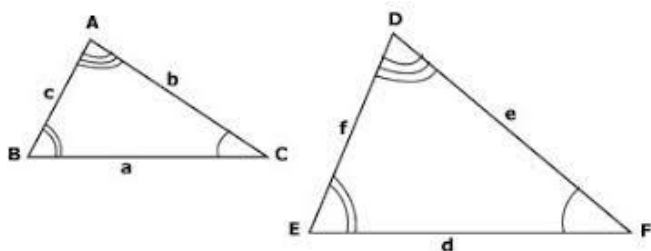
**3,21212121...**

Pode-se afirmar que a fração geratriz desta dízima periódica é dada por:

- (A)  $\frac{317}{99}$
- (B)  $\frac{317}{90}$
- (C)  $\frac{318}{99}$
- (D)  $\frac{215}{33}$

16. Dois triângulos ABC e DEF são semelhantes.

$\overline{AB} = 1,8$  e  $\overline{DF} = 8,4$



Sendo a razão de semelhança entre ABC e DEF é 3,5; as medidas de  $\overline{DE}$  e  $\overline{AC}$ , serão dadas respectivamente por:

- DE E AC
- (A) 6,3 e 2,4.
- (B) 5,6 e 3,2.
- (C) 7,1 e 5.
- (D) 6,2 e 2,5.

17. Num sorteio, Paulo adquire uma quantidade de bilhetes que lhe dá uma possibilidade de ganho de 15%. Sérgio adquire 3 bilhetes a menos que Paulo, que lhe propicia uma probabilidade de ganho de 10%. Assim, pode-se afirmar que a quantidade total de bilhetes a serem sorteados é de:

- (A) 90.
- (B) 120.
- (C) 40.
- (D) 60.

18. Durante a divulgação de um novo plano de serviços, uma empresa registrou os dados da adesão por dia na sequência abaixo:

$$A = \{15, 45, 135, 405 \dots\}$$

Considerando que este padrão de adesão se mantenha por uma semana, quantos planos serão vendidos neste período.

- (A) 15.325.
- (B) 16.395.
- (C) 16.425.
- (D) 17. 115.

19. Na construção de um viaduto, um engenheiro montou uma função que representa a lei de formação da parábola formada pelo viaduto, para analisar os impactos de sua construção:

$$f(x) = -2x^2 + 9x - 7$$

Sendo a altura do viaduto determinada pelo valor do seu ponto máximo, determine a altura aproximada deste viaduto.

- (A) 2,8.
- (B) 2,9.
- (C) 3,0.
- (D) 3,1.

20. Numa fábrica, cinco caminhões em operação levam seus produtos até uma determinada distribuidora. Em 3 dias são realizadas 18 entregas. Com o aumento de produção, a fábrica adquire mais dois caminhões para transportar suas mercadorias, assim sendo, a quantidade de entregas realizadas em uma semana, é de:

- (A) 58.
- (B) 61.
- (C) 60.
- (D) 62.

21. Existe uma prática de saúde, cuja abreviatura é PCI. Esta prática possui como fito promover protocolos de limpeza e desinfecção de ambientes e superfícies, incluindo os momentos em que há exposição à fluidos corporais potencialmente contaminantes, como sangue (Unicef, 2021). Aplicada ao ambiente escolar, as medidas de PCI voltam-se para prevenção, que incluem práticas diárias, a exemplo da higiene das mãos e da limpeza dos ambientes. Medidas inadequadas de PCI podem levar a transmissões de agentes patogênicos entre os discentes, docentes e demais agentes que integram a comunidade escolar. Qual a denominação correta desta prática?

- (A) Política de Cuidado Institucional (PCI).
- (B) Prevenção e Controle de Infecção (PCI).
- (C) Paciência e Carinho na Infância (PCI).
- (D) Proteção e Correlação Interseccional (PCI).

22. A Lei de Diretrizes e Bases da Educação Nacional (LDB), Lei nº 9.394/1996, determina que a definição dos

conteúdos do ensino religioso deve seguir a seguinte regra:

(A) Os sistemas de ensino ouvirão entidade civil, constituída pelas diferentes denominações religiosas, para a definição dos conteúdos do ensino religioso.

(B) Os sistemas de ensino ouvirão estritamente os educadores e as família para deliberar, em assembleia, os conteúdos do ensino religioso que integrarão o currículo da educação básica.

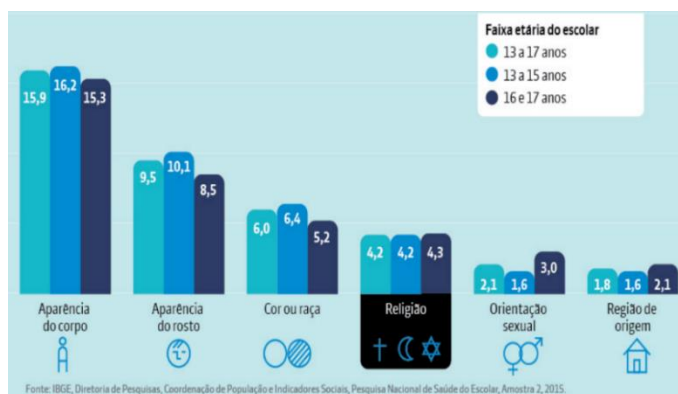
(C) Os sistemas de ensino superior ouvirão seus corpos docentes para decidir o que deverá ser ensinado sobre a educação religiosa no país, sem interferência da comunidade.

(D) Os sistemas de ensino públicos e privados obedecerão à ordem de uma determinada autoridade clerical e eclesiástica conservadora dominante na respectiva Região geográfica do país, sobre os conteúdos do ensino religioso a serem selecionados. A base nacional comum garante que este ensino deverá ser cristão em detrimento de outras crenças.

Examine o gráfico a seguir, que foi elaborado pelo Instituto Unibanco, para responder às questões 23 e 24.

### O QUE MOTIVAM AS AGRESSÕES ENTRE ESTUDANTES NA ESCOLA

Percentual de escolares com idade de 13 a 17 anos que se sentiram humilhados por provações de colegas da escola nos 30 dias anteriores à pesquisa por motivo/causa de humilhação



Fonte: IBGE, Diretoria de Pesquisas, Coordenação de População e Indicadores Sociais, Pesquisa Nacional de Saúde do Escolar, Amostra 2, 2015.  
Disponível em: <https://www.institutounibanco.org.br/aprendizagem-em-foco/33/#:~:text=Informa%C3%A7%C3%A3o%20de%20di%C3%A1logo%20s%C3%A3o%20ferramentas,e%20construir%20a%20pr%C3%B3pria%20identidade.> Acesso em 10/5/2024. [Adaptado]

23. No que diz respeito à Religião, discentes e, também, os trabalhadores da educação pretos e pardos sofrem consequências devastadoras das práticas vilipendiosas perpetradas contra eles. Segundo o Instituto Unibanco (2017, s/p, Adaptado) tais práticas se manifestam desde a “cooperação para fazer orações cristãs e retirar adereços relacionados às religiões afro-brasileiras até agressões verbais e físicas contra estudantes (com xingamentos, socos, pontapés e mesmo apedrejamento). Também há registros de demissão ou afastamento de

professores adeptos de religiões afro-brasileiras ou que abordaram conteúdos dessas religiões em classe, proibição de uso de livros que tratam do tema e omissão diante de atos discriminatórios ou abusivos por parte de educadores e diretores, entre outras ações denunciadas e/ou divulgadas pela imprensa”. Em geral, a matriz teórica, política e ideológica que origina e orienta tais práticas violentas de discriminação e ódio é:

- (A) o racismo religioso.
- (B) o pensamento ecumênico.
- (C) a política antiapartheid.
- (D) o anti-racismo e a contrarrevolução imperialista.

24. Segundo o gráfico, a aparência do corpo demonstrou ser o principal motivo das agressões apontado pelos discentes. Estes ataques costumam afetar a autoestima e podem desencadear nas vítimas um tipo de transtorno mental caracterizado pela agressão ao próprio corpo. Segundo o portal [novaescola.org.br](http://novaescola.org.br) (2016) esse adoecimento é definido “uma agressão ao próprio corpo sem intenção consciente de suicídio” e manifesta-se de diferentes formas, sendo a mais recorrente “fazer pequenos cortes na pele, mas a pessoa também pode se bater, se queimar com cigarro, arrancar os cabelos, se furar com agulhas” entre outros. Trata-se

- (A) da indisciplina.
- (B) da automutilação.
- (C) do Transtorno do Espectro Autista (TEA).
- (D) da hiperatividade.

25. Quando o assunto é a história da difusão do pensamento piagetiano no Brasil destaca-se a atuação de um intelectual que, desde a década de 1960 se voltou para os estudos do biólogo suíço e passou a dominar a visão pedagógica e didática de método psicogenético, tornando-se um dos principais divulgadores de Piaget nas escolas brasileiras. Pelas características fornecidas é possível concluir que se trata de

- (A) Lauro de Oliveira Lima.
- (B) Anísio Teixeira.
- (C) Francisco Campos.
- (D) Guadêncio Frigotto.

26. Desde a década de 1990, a partir da difusão das ideias do relatório da UNESCO, intitulado: *Educação: um tesouro a descobrir*, os quatro pilares da educação integram o repertório dos fundamentos que orientam a atuação de inúmeros educadores e educadoras no Brasil. Estes quatro pilares são:

- (A) aprender a conquistar, aprender a empreender, aprender ideologia de gênero, aprender competências e habilidades.

- (B) aprender a ser capitalista, aprender o ateísmo, aprender a hierarquia, aprender a disciplina.
- (C) aprender a amar, aprender o afeto, aprender a ética e aprender a ser feliz.
- (D) aprender a conhecer, aprender a fazer, aprender a conviver e aprender a ser.

27. Nos termos do artigo 83 da Lei Orgânica Municipal “nomear e exonerar os Secretários Municipais, dirigentes de autarquias, de fundações ou empresas públicas do Município, bem assim os titulares de cargos ou funções de confiança ou comissão” é competência:

- (A) do(a) Prefeito(a)
- (B) do(a) Secretário(a) de Administração
- (C) do(a) Vice-Prefeito(a)
- (D) do(a) Presidente da Câmara Municipal

28. Com base nos artigos 85 e 86 da Lei Orgânica Municipal, analise as afirmativas abaixo e marque a alternativa correta:

**I.** O Prefeito Municipal pode licenciar-se por motivo de doença devidamente comprovada e para tratar de interesse particular, desde que o período não seja superior a trinta dias.

**II.** No caso de ausência em missão oficial, o Prefeito licenciado não terá direito à sua remuneração integral.

**III.** O Vice-Prefeito pode assumir cargos de Ministro de Estado, Secretário Estadual ou Municipal sem necessidade de licenciamento de suas funções, desde que autorizado pelo Prefeito Municipal.

**IV.** O Prefeito Municipal pode reassumir o cargo antes de escoar o prazo de sua licença por motivo de doença devidamente comprovada.

- (A) Apenas as afirmativas I e IV estão corretas.
- (B) Apenas a afirmativa II está correta.
- (C) Apenas as afirmativas I, II e III estão corretas.
- (D) Apenas as afirmativas I, II e IV estão corretas.

29. De acordo com o Art. 26 da lei 1.546/2010 que institui a reorganização do Estatuto dos Servidores Públicos do Município de Acreúna, analise as afirmativas a seguir e marque a alternativa correta:

**I.** A jornada normal de trabalho do servidor público municipal é de 44 horas semanais, salvo os casos previstos em lei.

**II.** O exercício de cargo em comissão ou função de confiança exige do ocupante dedicação integral ao serviço, podendo ser convocado a qualquer momento conforme o interesse da administração.

**III.** A jornada normal de trabalho do servidor público municipal é de 40 horas semanais.

**IV.** A dedicação integral ao serviço para ocupantes de cargo em comissão ou função de confiança não permite convocação fora do horário normal de trabalho.

- (A) Apenas as afirmativas I e IV estão corretas.
- (B) Apenas as afirmativas I e II estão corretas.
- (C) Apenas as afirmativas II e III estão corretas.
- (D) Apenas a afirmativa I está correta.

30. Com base no Art. 8º da lei 1.546/2010 que institui a reorganização do Estatuto dos Servidores Públicos do Município de Acreúna, assinale a alternativa correta:

- (A) Para ingressar no serviço público do Município, é necessário ter a nacionalidade brasileira e a idade mínima de vinte e um anos.
- (B) A quitação com as obrigações militares e eleitorais não é um requisito para o ingresso no serviço público do Município.
- (C) A aptidão física e mental é um dos requisitos básicos para ingresso no serviço público do Município.
- (D) Estar incompatibilizado para o serviço público não impede o ingresso no serviço público do Município.

31. Qual comando permite ao usuário copiar o formato de um trecho de texto no Microsoft Word e aplicá-lo em outro lugar no documento?

- (A) Copiar e Colar
- (B) Formatar Pincel
- (C) Formatar Texto
- (D) Copiar Estilo

32. Para fechar um programa no sistema operacional Windows, qual combinação de teclas é utilizada?

- (A) Windows + F
- (B) Alt + F4
- (C) Ctrl + Esc
- (D) Windows + R

33. “[...] foi um poeta, contista e cronista do século XX, sendo considerado um dos principais poetas da segunda geração do Modernismo brasileiro.

Sua poesia falava sobre o questionamento em torno da existência, das aflições sociais, filosóficas, religiosas e do amor. Seu estilo poético possui traços de ironia, de humor, pessimismo em relação a vida e observações do cotidiano. [...] Em 1928, publicou um de seus principais e mais famosos poemas “No Meio do Caminho” na Revista de Antropofagia de São Paulo. Em 1930, lançou seu primeiro livro “Alguma Poesia” que reunia poesias de sua autoria.”

(Fonte: <https://www.abramus.org.br/atores/>)

O texto acima faz uma breve biografia de um dos principais escritores e poetas brasileiros, que teve muitas

obras consagradas como “Sentimento do Mundo” (1940) e “A Rosa do povo” (1945). A quem o trecho se refere?

- (A) Machado de Assis.
- (B) Paulo Coelho.
- (C) Carlos Drummond de Andrade.
- (D) Jorge Amado.

34. A hierarquia urbana refere-se à forma como as cidades se organizam em uma escala de subordinação e influência. Através dela, é possível entender a importância de uma cidade e sua relação de subordinação ou influência sobre outras cidades ao seu redor.

- (A) Centro Regional.
- (B) Centro Local.
- (C) Metrópole Regional.
- (D) Vila.

35. Qual das seguintes alternativas corretamente descreve a função e composição do Congresso Nacional no Brasil?

- (A) O Congresso Nacional é composto exclusivamente pelo Senado Federal e tem a função de fiscalizar as ações judiciais executadas pelo Supremo Tribunal Federal e seus órgãos adjacentes.
- (B) O Congresso Nacional é composto pela Câmara dos Deputados e pelo Senado Federal, e sua principal função é exercer atribuições legislativas e de fiscalização e controle.
- (C) O Congresso Nacional é responsável por eleger os representantes do poder Executivo e é composto pela Câmara dos Deputados.
- (D) O Congresso Nacional é composto por um parlamento unicameral que representa os estados e municípios brasileiros.