

CADERNO DE PROVA

CARGO: ANALISTA EM SAÚDE - FISIOTERAPEUTA

Instruções gerais:

1. Este caderno de prova contém 40 (quarenta) questões objetivas. É de sua inteira responsabilidade conferir se o caderno de provas recebido está completo e se corresponde ao seu cargo. Caso esteja incompleto ou apresente qualquer defeito, comunique imediatamente ao fiscal de sala para que seja tomada a providência necessária para sanar o problema;
2. **ATENÇÃO:** para cada questão objetiva são apresentadas as opções A, B, C, D e apenas uma delas corresponde à alternativa correta;
3. O tempo estipulado para a realização da prova é de até **03 (três) horas**, está incluído nesse tempo o preenchimento do cartão-resposta, entrega do material e identificação do candidato;
4. Na carteira somente poderá ficar o documento de identidade e a caneta esferográfica de tinta preta, fabricada em material transparente, fica a critério do candidato a utilização de caneta azul ou outra cor, porém, caso haja falha na leitura ótica do cartão-resposta, os pontos correspondentes às questões não lidas, não serão computados;
5. Ao receber o CARTÃO-RESPOSTA verifique se contém a mesma quantidade de questões do Caderno de Prova, caso perceba algum problema com seu cartão-resposta, comunique imediatamente o fiscal de sala para que seja adotada a medida necessária;
6. No CARTÃO-RESPOSTA você *deverá assinalar somente a alternativa que julgar correta e sem rasuras.*
7. O preenchimento do cartão-resposta é de sua inteira responsabilidade, para o correto preenchimento siga às instruções contidas na parte superior do cartão, observe atentamente o número da questão antes de marcar, pois não haverá substituição do cartão-resposta que é personalizado e único.
8. Quando terminar a prova sinalize para o fiscal e aguarde ser chamado para entregar a prova, o cartão-resposta e assinar a lista de presença, caso não tenha assinado na entrada;
9. Somente depois de decorridos 1 (uma) hora do início da prova você poderá sair da sala sem levar consigo o caderno de provas;
10. Você poderá levar esse caderno de provas quando estiver faltando 30 (trinta) minutos para o encerramento da prova;
11. É proibido levantar ou comunicar com outros candidatos durante a prova;
12. É proibido anotar informações relacionadas às suas respostas da prova objetiva em qualquer outro lugar que não seja o caderno de provas;
13. Os 3 (três) últimos candidatos de cada sala só poderão ser liberados juntos;
14. O gabarito da prova objetiva será divulgado no segundo dia útil subsequente a aplicação da prova e será fixado no placar da Prefeitura e nos sites www.itame.com.br e www.acreuna.go.gov.br;

Informações importantes:

- ✓ Não serão aceitos recursos em desacordo com o item 16 e seguintes do edital regulamento;
 - ✓ Somente é permitida a reprodução da prova para fins didáticos, devendo ser citada a fonte.
- Boa sorte!**

1. Assinale a alternativa correta com relação ao uso de vírgulas no fragmento de texto a seguir.

Em maio de 2023, a Netflix anunciou o fim do sistema de compartilhamento de senhas e começou a cobrar por cada usuário que utiliza a mesma conta. No entanto, abriu-se uma exceção para que moram na mesma casa, com a promessa de identificar a localização dos dispositivos conectados. [...]

Disponível em: <https://veja.abril.com.br/columa/virus-viral-por-que-clientes-estao-acionando-a-justica-contra-a-netflix/>. Acesso em: 10 jul. 2024.

I. No primeiro período a vírgula separa uma expressão adverbial de tempo deslocada.

II. As três vírgulas separam expressões deslocadas dentro de períodos compostos por orações adversativas.

III. A primeira vírgula do segundo período separa uma locução de valor adversativo que inicia a oração.

- (A) Apenas a I está correta
- (B) Apenas a III está correta
- (C) Apenas I e III estão corretas.
- (D) Apenas II e III estão corretas.

2. Na frase: “O analfabetismo funcional tem crescido no país, fato que revela uma população cada vez mais distante da leitura e exige medidas urgentes de combate ao problema”, o termo em destaque exerce a função sintática de:

- (A) complemento nominal
- (B) objeto direto
- (C) objeto indireto
- (D) predicativo

3. Segundo o texto, a relação dos idosos com as tecnologias de informação e comunicação demonstram que:

“Envelhecer hoje em dia para aqueles idosos que mal tiveram oportunidade de frequentar os bancos escolares pode significar exclusão digital e isolamento social. A revolução da informática transformou drasticamente os modos de produção do saber e as formas de comunicação. E muitos idosos ficaram à margem desta inovação”.

[...]

(Texto adaptado). Disponível em: <https://saudedapessoaidosa.fiocruz.br/pratica/inclus%C3%A3o-digital-para-idosos-integrando-gera%C3%A7%C3%B5es-na-descoberta-de-novos-horizontes>. Acesso em: 22 maio 2024.

- (A) Os idosos ficaram à margem da sociedade a partir da revolução da informática que é responsável pela exclusão digital dessa parcela da população.
- (B) A exclusão digital e o isolamento social são problemas enfrentados por idosos com algum tipo de demência ou dificuldade de mobilidade.

(C) A revolução da informática não foi inclusiva para os idosos, especialmente para aqueles com nível de escolaridade mais baixo.

(D) Embora existam programas, de fácil acesso, de inclusão digital para idosos, as dificuldades próprias da idade impedem novas aprendizagens e o gosto por tecnologias.

4. Que função da linguagem é predominante no texto a seguir?

ex.ten.são *subst. fem.* 1. Efeito de estender(-se); ampliação. 2. Dimensão (1): a extensão de um terreno. 3. Veja duração (1): a extensão de uma aula. 4. Importância, alcance. 5. Desenvolvimento: Lutou pela extensão de seu poder. 6. Aplicação extensiva do sentido de palavra ou frase. 7. Instalação telefônica ligada à mesma linha que outro(s) aparelho(s), em local diverso.

Disponível em: https://www.researchgate.net/figure/Figura-3-Verbetes-extensao-do-dicionario-escolar-Aurelio-Junior_fig2_343398848. Acesso em: 22 maio 2024.

- (A) Referencial.
- (B) Metalinguística.
- (C) Conativa.
- (D) Fática.

Leia o texto:

Por meio de seu livro "Brasil, país do futuro" – publicado no último século – o escritor austríaco Stefan Zweig expressou a sua confiança de que a nação crescerá e se desenvolverá exponencialmente. Para além disso, nos dias atuais, a sociedade brasileira vivencia uma situação inversa, uma vez que a constante invisibilidade feminina relacionada ao trabalho de cuidado e seus impactos negativos na contemporaneidade não são características de um "país do futuro". Desse modo, algumas negligências governamentais impulsionam a desvalorização trabalhista de cuidado desempenhado pela mulher brasileira e promovem o desenvolvimento de diversas desigualdades econômicas. Logo, tanto a inefetividade das leis direcionadas ao público feminino quanto a escassez de investimentos na educação capacitativa são suscitadores da problemática.

[...] Matheus Almeida Barros, de Paraíso (TO).

Disponível em: <https://g1.globo.com/educacao/noticia/2024/03/19/redacoes-nota-mil-do-enem-2023.ghtml> (texto com adaptações). Acesso em: 22 maio 2024.

5. Julgue os itens a seguir quanto à classificação dos termos e oração retirados deste texto:

I. “...o escritor austríaco Stefan Zweig expressou a sua confiança de que a nação crescerá e se desenvolverá exponencialmente” – [oração completiva nominal];

II. “...a desvalorização trabalhista de cuidado desempenhado pela mulher brasileira.” [complemento nominal];

III. "...a escassez de investimentos na educação capacitiva." [complemento nominal]

- (A) Estão corretos I e III.
- (B) Estão corretos I e II.
- (C) Estão corretos apenas II e III.
- (D) Apenas o III está correto.

6. As palavras exponencialmente e negligências, retiradas do texto anterior, de Matheus Almeida Barros, significam no contexto, respectivamente:

- (A) extraordinariamente e cuidados.
- (B) desproporcionalmente e critérios.
- (C) concepções e descuidos.
- (D) excepcionalmente e descasos.

7. Nesta oração destacada do texto anterior "... e promovem o desenvolvimento de diversas desigualdades econômicas", o verbo:

- (A) está flexionado na 3ª pessoa do plural para concordar com o sujeito posposto "diversas desigualdades econômicas".
- (B) está flexionado na 3ª pessoa do plural para concordar com o sujeito composto.
- (C) está flexionado na 3ª pessoa do plural para concordar com o sujeito anteposto "algumas negligências governamentais".
- (D) está flexionado na 3ª pessoa do plural para concordar com "leis direcionadas ao público feminino".

8. No parágrafo a seguir, os termos destacados são o predicados de diferentes orações. Marque a classificação correta desses predicados.

Ontem choveu durante toda a madrugada, por isso pela manhã as ruas estavam vazias e alagadas.

- (A) O predicado é verbal na 1ª oração e verbo-nominal na 2ª.
- (B) O predicado é verbal na 1ª oração e nominal na 2ª.
- (C) O predicado é verbo-nominal em ambas as orações.
- (D) O predicado é verbal em ambas as orações.

9. Marque a alternativa que apresenta o correto processo de formação da palavra destacada no período a seguir:

A expectativa de vida vem aumentando ao longo dos anos, mas envelhecer não é um processo fácil, especialmente para as mulheres.

- (A) derivação por justaposição.
- (B) derivação por aglutinação.
- (C) derivação prefixal.
- (D) derivação parassintética.

10. Assinale a alternativa em que a classificação da regência do verbo destacado está correta.

"Alimentos ultraprocessados não são propriamente alimentos, mas sim formulações de substâncias derivadas de alimentos, frequentemente modificadas quimicamente e de uso exclusivamente industrial, contendo pouco ou nenhum alimento inteiro e tipicamente adicionadas de corantes, aromatizantes, emulsificantes e outros aditivos cosméticos, para que se tornem palatáveis ou hiperpalatáveis", afirmou Carlos Augusto Monteiro, coordenador do Núcleo de Pesquisas Epidemiológicas em Nutrição e Saúde da Universidade de São Paulo (Nupens/USP) em entrevista ao Portal Drauzio.

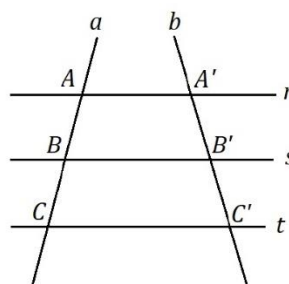
Disponível em: <https://www.uol.com.br/vivabem/colunas/mariana-varella/2024/05/22/criancas-brasileiras-e-o-perigo-do-alto-consumo-de-ultraprocessados.htm?mpid=copiaecola>. Acesso em: 22 maio 2024.

- (A) "Alimentos ultraprocessados não são propriamente alimentos". – Verbo intransitivo.
- (B) Carlos Augusto Monteiro confirmou as informações divulgadas." – Verbo transitivo direto.
- (C) A indústria altera o sabor dos alimentos. – Verbo transitivo indireto.
- (D) Alimentos industrializados contêm substâncias nocivas. – Verbo intransitivo.

11. A média ponderada de uma sequência de n números é 16, ao adicionar o número 12 a esta sequência a média passa a ser 15,5. Pode-se afirmar que o valor de n é:

- (A) 6.
- (B) 7.
- (C) 8.
- (D) 9.

12. Dadas três retas paralelas $r // s // t$, são cortadas por duas retas transversais a e b , conforme a figura abaixo:



$$\overline{AB} = 2,8x + 1; \quad \overline{A'B'} = 6;$$
$$\overline{BC} = 3x \quad \text{e} \quad \overline{B'C'} = 5$$

Determine as medidas de \overline{AB} e \overline{BC} respectivamente.

- (A) 4,5 e 3,75.
- (B) 4,8 e 4,0.
- (C) 4,26 e 3,55.
- (D) 3,8 e 3,2.

13. Num armazém de trigo, deseja-se construir cilindros para armazenagem na produção. Pelo espaço do local, foi definido que serão construídos 12 cilindros com raio de 0,5m e 2m de altura. O volume total de trigo que poderá ser armazenado nestes cilindros é de:

Dado: $\pi = 3,14$

- (A) 18,24.
- (B) 18,84.
- (C) 19.
- (D) 19,34.

14. A partir da análise da lei de formação de uma função pode-se observar alguns elementos:

$$f(x) = 3x^2 + 2x - 1$$

Sobre a função descrita acima, pode-se afirmar:

- (A) A parábola forma uma concavidade voltada para baixo, com duas raízes positivas.
- (B) A parábola forma uma concavidade voltada para baixo, com duas raízes.
- (C) A parábola forma uma concavidade voltada para cima, com duas raízes $x' = -1$ e $x'' = \frac{2}{6}$.
- (D) A parábola forma uma concavidade voltada para cima com duas raízes $x' = -1$ e $x'' = \frac{2}{3}$.

15. Um investimento apresenta-se com um regime de capitalização composto, onde é dada uma rentabilidade de 7,2% ano. Um investidor decide aplicar a quantia de R\$9.000,00 para resgatar em 5 anos, apenas o valor dos juros e reinvestir o capital. Espera-se que daqui a 5 anos este investidor, resgate aproximadamente:

(Dado: $\log_{1,072} 1,4157 = 5$)

- (A) R\$ 12.741,00.
- (B) R\$ 8.641,00.
- (C) R\$ 6.641,00.
- (D) R\$ 3.741,00.

16. Os exercícios respiratórios desempenham um papel importante na reabilitação de pacientes com insuficiência cardíaca, ajudando a melhorar a força e a resistência dos músculos respiratórios, aumentar a capacidade vital, melhorar a troca gasosa e reduzir a dispnéia. Técnicas como treinamento muscular inspiratório, exercícios de respiração diafragmática e respiração com lábios franzidos são frequentemente utilizadas. Escolha a opção que traz as letras que correspondem, respectivamente, a capacidade vital e volume residual.

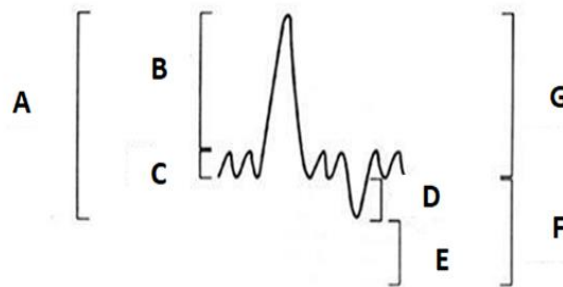


Fig. 1 - Representação de volumes e capacidades pulmonares na espirometria.

- (A) B e D
- (B) C e F
- (C) A e E
- (D) D e G

17. Distúrbios respiratórios do sono (DRS) referem-se a padrões de respiração anormal ou redução anormal da troca gasosa que ocorrem durante o sono. Os DRS incluem a apnéia obstrutiva do sono, a hipoventilação e a apnéia central do sono. Quando não diagnosticados e não tratados, os DRS são um grave problema de saúde pública, dada a sua alta prevalência e suas graves consequências para a saúde, pois estão relacionados ao desenvolvimento ou agravamento de uma série de doenças sistêmicas. Constitui o padrão ouro para tratamento da apnéia do sono o uso de:

- (A) Oxímetro
- (B) CPAP
- (C) Threshold
- (D) Inalador polissônico

18. Hodiernamente, sabe-se que a ortopedia é uma especialidade ímpar quando falamos em proporcionar saúde e qualidade de vida à população. Do grego Orthos significa reto e Paidion significa pai, lembrando as origens da especialidade como cuidadora das deformidades ósseas infantis. Hoje se ampliou e atende todas as idades seguindo primeiro com uma escuta qualificada e a produção de uma anamnese com história detalhada seguida por inspeção, palpação, movimentação e os testes especiais. Leia a descrição de dois testes ortopédicos e identifique a opção que, respectivamente, os representa:

I. Elevação passiva do membro superior, no plano da escápula e com o ombro em rotação neutra. Por meio dessa manobra avaliamos a presença de dor que indica teste positivo, pois houve impacto do tubérculo maior contra o acrômio afetando o supraespinhal e, assim, o manguito rotador.

II. Paciente em decúbito ventral realizamos flexão do joelho e rotação interna e externa segurando pelo pé. A dor medial ou lateral na articulação do joelho indica lesão do lado oposto.

- (A) Lanchman e Gerber
- (B) Patte e Pivo Shift
- (C) Laségue e Fabere
- (D) Neer e Apley

19. De acordo com Candeloro (2002), a hidroterapia é um dos recursos mais antigos da fisioterapia, sendo definida como o uso externo da água com propósitos terapêuticos. A hidrostática, hidrodinâmica e termodinâmica são áreas da física que fundamentam a hidroterapia. As forças físicas da água que agem sobre um organismo imerso, provocam alterações fisiológicas extensas, afetando quase todos os sistemas do organismo. Os efeitos fisiológicos podem somar-se aos desencadeados pela prática de exercício físico na água, tornando as respostas mais complexas (MORRIS et al, 2000). A relação do corpo com a água traz rotações. Essas rotações ocorrem devido ao chamado "efeito metacêntrico", isto é, a relação entre as forças gravitacionais e _____.

Escolha a opção que completa corretamente o espaço:

- (A) Empuxo
- (B) Tensão superficial
- (C) Densidade
- (D) Pressão hidrostática

20. Em relação ao tipo de exercício, podemos caracterizar dois tipos principais: exercícios dinâmicos ou isotônicos (há contração muscular, seguida de movimento articular) e estáticos ou isométricos (há contração muscular, sem movimento articular), sendo que cada um desses exercícios implica em respostas cardiovasculares distintas (FORJAZ & TINUCCI, 2000). Nos exercícios estáticos observa-se aumento da frequência cardíaca, com manutenção ou até redução do volume sistólico e pequeno acréscimo do débito cardíaco. Em compensação, observa-se aumento da resistência vascular periférica, que resulta na elevação exacerbada da pressão arterial. Esses efeitos ocorrem porque a contração muscular mantida durante a contração isométrica promove obstrução mecânica do fluxo sanguíneo muscular, o que faz com que os metabólitos produzidos durante a contração se acumulem, ativando quimiorreceptores musculares, que promovem aumento expressivo da atividade nervosa simpática. O ajuste do débito cardíaco está relacionado diretamente as seguintes variáveis:

- (A) Resistência periférica e Frank Starling.
- (B) Pré carga e Retorno Venoso.
- (C) Frequência cardíaca e Volume sistólico.
- (D) Pós carga e Resistência Periférica.

21. O avanço da expectativa de vida ocorreu originalmente em países desenvolvidos, porém, é nos países em desenvolvimento que tal processo tem ocorrido de forma mais maciça (COSTA; VERAS, 2003). O Brasil mesmo tendo iniciado seu processo de envelhecimento somente na década de 60, acompanha essa tendência mundial, com um envelhecimento rápido e intenso (CHAIMOWICZ, 1997). o papel do profissional de Fisioterapia no Envelhecimento Ativo é fundamental por contribuir não só para a prevenção de doenças, mas também para a promoção da independência e qualidade de vida dos idosos. Escolha a opção correta sobre as teorias do envelhecimento:

- (A) A Teoria Genética defende a ideia de que o envelhecimento é resultado de alterações bioquímicas programadas pelo próprio telômero.
- (B) Segundo a Teoria do Acúmulo de Danos ou também denominada Erro Catástrofe, a principal causa do envelhecimento seria o acúmulo de moléculas defeituosas provenientes de falhas no reparo.
- (C) A Teoria do Uso e Desgaste baseia-se na ideia de que o envelhecimento seja o resultado do acúmulo de agressões genotípicas do dia a dia, as quais ocasionariam a diminuição da capacidade do organismo em recuperar-se totalmente.
- (D) A Teoria dos RLs propunha que o envelhecimento normal seria resultado de danos intracelulares previstos e sistemáticos provocados pelos RLs, moléculas instáveis e reativas, que atacariam as diferentes biomoléculas do organismo em busca de estabilidade.

22. A ataxia se caracteriza como uma dificuldade ou incapacidade de manter a coordenação motora, sintoma presente em diversos quadros neurológicos. Quando do tipo cerebelar, a condição é causada por disfunções do cerebelo. Essa região do cérebro tem como funções o equilíbrio corporal e o controle de movimentos voluntários, além de manter o tônus muscular e a aprendizagem motora. A ataxia espinocerebelar e a ataxia de FriedReich são classificados como:

- (A) Idiopática.
- (B) Hereditária.
- (C) Adquirida.
- (D) Aguda.

23. A acidose metabólica altera o funcionamento de todo o organismo, manifestando-se de várias maneiras conforme a doença desencadeante. Sinais de hiperventilação, efeitos hemodinâmicos e gastrintestinais são as principais alterações observadas no exame físico. O quadro clínico inclui:

- (A) Taquipnéia e redução da complacência pulmonar
- (B) Bradipneia e aumento do clearance plasmático

- (C) Taquipneia e diminuição do clearance plasmático
- (D) Bradipneia e aumento da complacência pulmonar

24. Existe, porém, uma enorme gama de doenças que afetam a harmonia funcional do sistema respiratório. Neste contexto, a fisioterapia atua com o objetivo de reabilitar o paciente e minimizar sequelas, recuperando com o máximo empenho o tecido pulmonar. No que se refere à terapia desobstrutiva, escolha a opção que mais está ligada a Técnica de Expiração Forçada (Huffing).

- (A) Utilização de posições específicas para facilitar a drenagem de secreções dos pulmões
- (B) Ensinar técnicas e exercícios que permitam ao paciente gerir melhor sua condição respiratória de forma independente
- (C) Reeducar os padrões respiratórios, promovendo uma respiração mais eficiente e funcional.
- (D) Método para ajudar na remoção de secreções sem causar colapso das vias aéreas.

25. As lesões traumáticas do plexo braquial geralmente ocorrem após acidentes com veículos automotivos, principalmente motocicletas. Em alguns casos pode haver recuperação espontânea do movimento, mas muitas vezes a cirurgia é indicada. Neste caso, para a obtenção dos melhores resultados possíveis é necessário que o tratamento seja realizado dentro dos prazos apropriados. Por isso, uma vez realizado o diagnóstico, o paciente deve ser encaminhado para avaliação especializada o mais precocemente possível. Qual nervo que não está relacionado ao plexo braquial:

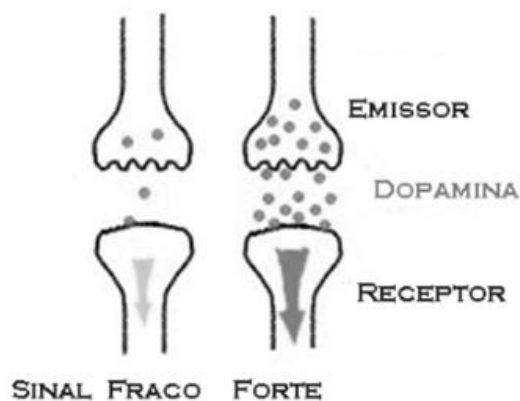
- (A) Axilar.
- (B) Obturatório.
- (C) Musculocutâneo.
- (D) Ulnar.

26. O treinamento de flexibilidade desempenha um papel importante na prevenção de lesões desportivas, pois ajuda a manter ou melhorar a amplitude de movimento das articulações, a elasticidade muscular e a coordenação neuromuscular. Na fisioterapia desportiva outras técnicas e recursos podem ser implementados para potencializar os resultados. Observe a imagem da questão e escolha a afirmação que mais se correlaciona com o seu nome e uso.



- (A) Alongamento dinâmico e estático para melhorar a coordenação e o equilíbrio, reduzindo a probabilidade de quedas.
- (B) Alongamentos regulares para diminuir a tensão muscular e prevenir espasmos que podem levar a lesões.
- (C) Aquecimento geral antes dos exercícios de alongamento para aumentar a temperatura corporal e a elasticidade dos tecidos.
- (D) Alongamento para aumentar o fluxo sanguíneo para os músculos e articulações.

27. As doenças degenerativas do sistema nervoso representam casos comumente abordados na prática da reabilitação fisioterapêutica. A imagem que segue ilustra uma delas a partir da sua principal causa engatilhadora de sintomas. Neste caso, a partir da sua definição implícita, pode-se dizer que o único sintoma que não faz parte de quadro é:



- (A) Tremor
- (B) Bradicinesia
- (C) Rigidez
- (D) Amnésia

28. A fisioterapia pode ser extremamente benéfica para pacientes com LES, mas deve ser personalizada e ajustada de acordo com a atividade da doença e as manifestações específicas de cada paciente. Uma avaliação cuidadosa e contínua é essencial para garantir a segurança e a eficácia do tratamento fisioterapêutico. Sobre precauções e contraindicações da fisioterapia para pacientes com lúpus eritematoso sistêmico avalie as afirmações e escolha a opção correta:

- I.** Pacientes com LES muitas vezes são fotossensíveis e devem evitar absolutamente exercícios ao ar livre;
- II.** Pacientes com nefrite lúpica grave devem ter cuidado com atividades que possam aumentar a pressão oncótica e causar mais danos aos rins.
- III.** O exercício vigoroso pode exacerbar os sintomas e a inflamação

- (A) Opção I é verdadeira.
- (B) Opção II é verdadeira.

- (C) Opção III é verdadeira.
(D) Opção I e II são verdadeiras.

29. A Reabilitação Neurofuncional é a junção de estratégias usadas no tratamento de doenças e disfunções que atingem o Sistema Nervoso. A especialidade trata o paciente de forma multidisciplinar, permitindo a recuperação de desordens neurológicas, cognitivas e motoras. Ou seja, é por meio desta reabilitação que o indivíduo pode retornar à capacidade de falar, andar, correr, se vestir, bem como outras atividades diárias, que podem ser reduzidas ou perdidas em razão de lesões na coluna ou por outros motivos. Analise as afirmações acerca de abordagens nessa área e escolha a opção que as identifica respectivamente.

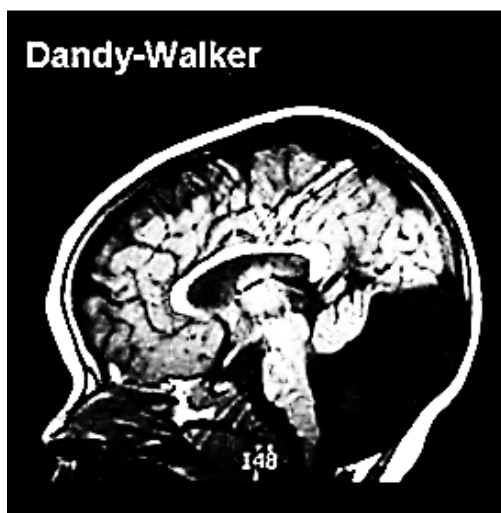
I. Utiliza padrões de movimento diagonais e espirais para estimular a resposta neuromuscular.

II. Foca em facilitar o controle motor e a postura através de movimentos e posições que promovem o uso funcional das extremidades afetadas.

III. Integra estímulos sensoriais específicos e sequências de movimento para normalizar o tônus muscular e melhorar as habilidades motoras.

- (A) Rood, PNF, Bobath
(B) PNF, Rood e Bobath
(C) Kabat, Bobath e Rood
(D) Bobath, Kabath e Rood

30. A síndrome de Dandy-Walker às vezes está associada a distúrbios de outras áreas do sistema nervoso central, incluindo a ausência da área composta por fibras nervosas que conectam os dois hemisférios cerebrais (corpo caloso) e malformações do coração, face, membros, dedos das mãos e dos pés. Tem incidência de 1 para cada 25 a 30 mil nascidos vivos e não tem causa definida. A partir da imagem escolha a opção que traz uma estrutura do sistema nervoso não formada e uma possível seqüela correlacionada a síndrome.



- (A) Vermis e Incoordenação motora
(B) Putâmen e distonia
(C) Núcleo caudado e Hipotonia
(D) Globo pálido e Hipertonía

31. A estimulação psicomotora precoce tem como principal objetivo promover o desenvolvimento integral de crianças desde os primeiros meses de vida. Uma estratégia comumente utilizada na estimulação psicomotora precoce para promover a coordenação motora fina poderia ser:

- (A) Ler livros avançados
(B) Brincadeiras de encaixar peças
(C) Correr e pular
(D) Contar história

32. Com base nos artigos 89 e 90 da Lei Orgânica do Município, assinale a alternativa correta sobre a responsabilidade dos auxiliares diretos do Prefeito Municipal.

(A) Os auxiliares diretos do Prefeito Municipal são individualmente responsáveis pelos atos que assinarem, ordenarem ou praticarem, não havendo qualquer responsabilidade solidária com o Prefeito.

(B) Os auxiliares diretos do Prefeito Municipal são solidariamente responsáveis junto com este apenas pelos atos administrativos que praticarem, excluindo-se os atos de assinatura e ordem.

(C) Os auxiliares diretos do Prefeito Municipal são solidariamente responsáveis junto com este pelos atos que assinarem, ordenarem ou praticarem.

(D) A responsabilidade dos auxiliares diretos do Prefeito Municipal é exclusiva do Prefeito, sendo que eles não possuem qualquer tipo de responsabilidade solidária pelos atos praticados no exercício de suas funções.

33. Em relação à política funcional dos servidores públicos de Acreúna, conforme previsto na Lei Orgânica Municipal, analise as afirmativas abaixo:

I. O Município instituirá, no âmbito de sua competência conselho de política de administração e remuneração de pessoal, para os servidores da administração pública direta, autárquica e fundacional, através de Lei Complementar que disporá sobre direitos, deveres e regime disciplinar assegurado adquiridos. (art.103)

II. A fixação dos padrões de vencimentos e dos componentes do sistema remuneratório observará a natureza, o grau de responsabilidade e a complexidade dos cargos de cada carreira, os requisitos para investidura e as peculiaridades dos cargos. (art.103, § 1º, I, II e III)

III. São direitos dos servidores públicos civis do Município, conforme aplicável, as disposições previstas

no artigo 95 e seus parágrafos da Constituição do Estado, no § 3º do artigo 39 da Constituição Federal, além de outros direitos que visem à melhoria de sua condição social, é assegurando ainda ao servidor, optar pelo turno único de trabalho de oito horas ininterruptas. (art. 108)

- (A) apenas I e III estão corretas.
- (B) apenas II está correta.
- (C) apenas I e II estão corretas.
- (D) I, II e III estão corretas.

34. Com base nos artigos 1º a 4º da Lei que institui a reorganização do Estatuto dos Servidores Públicos do Município de Acreúna, analise as afirmativas abaixo e assinale V (verdadeiro) ou F (falso):

1. () A Lei reorganiza o Estatuto dos Servidores Públicos do Município de Acreúna, incluindo suas autarquias e fundações públicas.
2. () O regime jurídico dos servidores é instituído pela Lei nº 657/90, de 10 de maio de 1990.
3. () Servidor público, para efeito desta Lei, é a pessoa que ocupa qualquer função pública, mesmo que sem investidura legal.
4. () Cargo público, conforme a Lei, é o conjunto de atribuições e responsabilidades confiadas a servidor público, criado por lei, com número certo, denominação própria e remuneração pelo Município.
5. () Os cargos públicos são acessíveis apenas aos brasileiros natos que preencham os requisitos estabelecidos em lei.
6. () Os cargos de provimento efetivo da administração pública municipal direta, das autarquias e das fundações públicas, serão organizados em carreiras.

Assinale a sequência correta:

- (A) 1V; 2V; 3F; 4V; 5F; 6V
- (B) 1F; 2V; 3V; 4V; 5F; 6V
- (C) 1V; 2F; 3F; 4F; 5V; 6F
- (D) 1F; 2F; 3V; 4F; 5V; 6V

35. A posse no serviço público é o ato formal pelo qual uma pessoa, aprovada em concurso público ou nomeada para um cargo comissionado, assume oficialmente um cargo ou função pública. De acordo com o § 1º, artigo 18 da Lei que institui a reorganização do Estatuto dos Servidores Públicos do Município de Acreúna, o prazo para ocorrer a posse é de:

- (A) trinta dias, contados da publicação do ato de provimento.
- (B) trinta dias, contados da homologação do concurso.

(C) trinta dias, contados do recebimento do A.R pelo servidor.

(D) trinta dias, contados da convocação do servidor no Diário Oficial.

36. Qual função do Microsoft Excel permite combinar múltiplos caracteres de texto em uma única sequência de texto?

- (A) ARRUMAR
- (B) EXT.TEXTO
- (C) MÁXIMO
- (D) CONCATENAR

37. Qual a alternativa corresponde a transferência de arquivos ou dados de um computador local para um servidor remoto através da Internet?

- (A) UPLOAD
- (B) DOWNLOAD
- (C) ATUALIZAÇÃO
- (D) COMPARTILHAMENTO

38. "A Comissão de Educação e Cultura (CE) aprovou nesta terça-feira (21) o projeto [...] para organizar as regras das políticas de financiamento do setor na União, estados e municípios. O texto cria um regime jurídico próprio para o fomento cultural, fora da Lei de Licitações. Da Câmara dos Deputados, a matéria segue agora para análise do Plenário.

Ao retirar a cultura da Nova Lei de Licitações, o texto permite que a União execute as políticas públicas de fomento cultural por meio de regimes próprios e outros estabelecidos em legislação específica, permitindo que estados e municípios também possam implementar suas políticas de forma autônoma."

(Fonte: Agência Senado)

O trecho noticiário apresentado diz respeito a:

- (A) Regulamentação do Direito Cultural.
- (B) Leis Culturas Vivas
- (C) Pacote de Novas Leis de Licitações
- (D) Marco Regulatório do Fomento à Cultura.

39. Observe:



(NOVAES. Carlos E. & LOBO. César. História do Brasil para Principiantes: 500 anos de idas e vindas, p.221, 2002)

A charge apresentada anteriormente faz alusão a três ex-presidentes brasileiros e aos respectivos acontecimentos que mais marcaram suas trajetórias políticas. A partir disso, assinale a alternativa que apresente sequencialmente suas identificações:

- (A) Ranieri Mazzilli, Getúlio Vargas e Fernando Collor.
- (B) Jânio Quadros, Getúlio Vargas e Fernando Collor.
- (C) João Goulart, Getúlio Vargas e Fernando Henrique Cardoso.
- (D) Jânio Quadros, Tancredo Neves e Fernando Collor.

40. Sobre os aspectos geográficos e territoriais do município de Acreúna, assinale a alternativa que apresente a região imediata (I), mesorregião (II) e microrregião (III) onde está situado:

- (A) I. Palmeiras de Goiás; II. Sul Goiano; III. Vale do Rio dos Bois.
- (B) I. Palmeiras de Goiás; II. Leste Goiano; III. Meia Ponte.
- (C) I. Paraúna; II. Sul Goiano; III. Meia Ponte.
- (D) I. Paraúna; II. Leste Goiano; III. Sudoeste de Goiás.