



CONCURSO PÚBLICO PARA PROVIMENTO DE CARGOS EFETIVOS DA PREFEITURA MUNICIPAL DE SANTA CRUZ DO ESCALVADO

CARGOS DE NÍVEL ALFABETIZADO - PROVA TIPO 1

Coveiro; Oficial de Obras; Operário.

INSTRUÇÕES GERAIS

1. A prova terá, no máximo, **4 (quatro)** horas de duração, incluído o tempo destinado à transcrição do gabarito na Folha de Respostas, único documento válido para correção.
2. O candidato deverá conferir os seus dados pessoais na Folha de Respostas, em especial seu nome e o número do documento de identidade.
3. Não haverá substituição da Folha de Respostas por erro do candidato ou por qualquer outro dano.
4. O candidato só poderá se retirar do recinto após **60 (sessenta) minutos**, contados a partir do efetivo início da prova.
5. Este caderno contém 30 questões de múltipla escolha, assim distribuídas:
 - Língua Portuguesa: 10 questões (numeradas de 01 a 10);
 - Matemática: 10 questões (numeradas de 11 a 20);
 - Conhecimentos Gerais e Atualidades: 5 questões (numeradas de 21 a 25);
 - Conhecimentos sobre Santa Cruz do Escalvado: 5 questões (numeradas de 26 a 30).
6. Cada questão apresenta 4 alternativas, de (a) a (d). O candidato deverá lê-las, atentamente, antes de responder a elas.
7. Caso o Caderno não corresponda à função de inscrição, esteja incompleto ou com defeito, o candidato deverá solicitar ao aplicador, durante os primeiros **20 minutos**, as providências cabíveis.
8. O candidato deverá entregar ao aplicador este Caderno de Provas e a Folha de Respostas.
9. O candidato passará o Gabarito para a Folha de Respostas, utilizando caneta esferográfica azul ou preta.

ATENÇÃO: FOLHA DE RESPOSTAS SEM ASSINATURA NÃO TEM VALIDADE

A folha de respostas não deve ser dobrada, amassada ou rasurada

Nome do candidato

Por favor, abra somente quando autorizado.

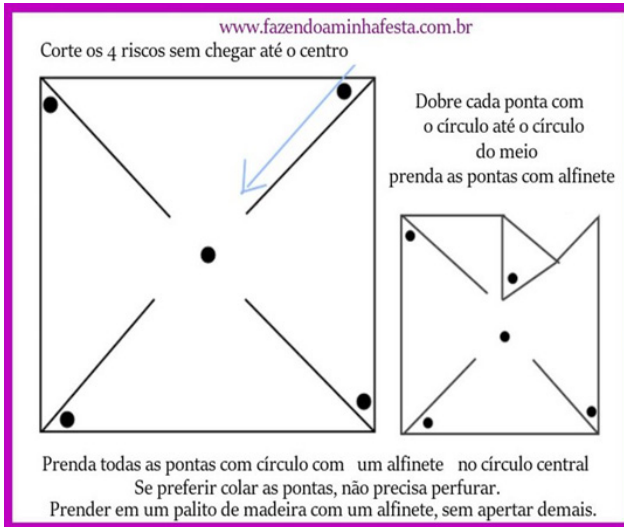


O GABARITO E O CADERNO DE PROVAS SERÃO DIVULGADOS NO ENDEREÇO ELETRÔNICO:
concurso.fundacaocefetminas.org.br

LÍNGUA PORTUGUESA

QUESTÃO 01

Leia o texto a seguir.



<https://www.artesanatopassoapassoja.com.br/catavento-de-eva-fotos/>

A principal finalidade deste texto é

- a) contar uma história curta.
- b) orientar sobre uma pesquisa.
- c) ensinar a fazer um brinquedo.
- d) fornecer uma informação simples.

QUESTÃO 02

Comp 999	Banco 999	Agência 9999	C1 9	Número da Conta 99999-9	C2 9	Número do Cheque 999999	C3 9	R\$ 82,00
Pague por este cheque a quantia de: <u>oitenta e dois reais</u>								
a <u>Fulano do Porto</u>								
Porto Alegre 05 de Novembro de 2015								
Banco			Fulano da Silva			Cliente desde		
Endereço			CPF 999.999.999-99			01/2001		
Comarca - UF								

Disponível em: <<https://jurosbaixos.com.br/conteudo/veja-como-preencher-seu-cheque-sem-erros/>>.

É correto afirmar que a data do cheque é

- a) muito recente.
- b) dos dias atuais.
- c) bastante antiga.
- d) de poucos anos.

QUESTÃO 03

Observe a charge a seguir.



Estado de Minas, Opinião, 02 abr. 2022, p. 6.

A visitante que retornou à casa é, principalmente, alguém

- a) imaginosa.
- b) indesejada.
- c) inspiradora.
- d) impatriótica.

QUESTÃO 04



Folha de São Paulo, Ilustrada, 22 mar. 2022, p. C 6.

Na tira, as palavras “aqui”, “ali” e “acolá” dão ideia de

- a) lugar.
- b) causa.
- c) modo.
- d) tempo.

QUESTÃO 05




Disponível em: <<https://twitter.com/gazetadopovo/status/611882992663953408>>.

A divisão silábica de algumas palavras do texto está correta em

- a) Jo-ã-o.
- b) Mar-ia.
- c) o-dei-o.
- d) tam-bé-m.

QUESTÃO 06



Disponível em: <<https://www.amazon.com.br/Protejam-Animais-Elizabeth-Den-Julio/dp/8527406888>>.

O título do livro contém, fundamentalmente, uma frase

- a) imperativa, porque expressa um pedido.
- b) declarativa, pois informa sobre um fato.
- c) exclamativa, porque expõe uma emoção.
- d) interrogativa, pois traz um questionamento.

QUESTÃO 07

co.ra.gem
 sf. **1** Força ou energia moral diante do perigo. **2** Segurança para enfrentar as adversidades. **3** Agir com o coração.

Disponível em: <<https://www.lojapequenascausas.com.br/produtos/ade-sivo-verbete-coragem/>>.

O texto é um verbete de dicionário e seu principal objetivo é o de informar o leitor sobre

- a) os significados de uma palavra.
- b) a forma de escrever um vocábulo.
- c) a acentuação ou não de um termo.
- d) as origens de um determinado item.

QUESTÃO 08

– Chefe, quero um aumento.
 Saiba o senhor que tem três empresas atrás de mim.
 – Quais?
 – A de água, a de luz e a de telefone.

Disponível em: <<https://www.maioresemelhores.com/piadas-muito-en-gracadas/>>.

No texto da anedota os travessões foram empregados para

- a) isolar certas palavras e expressões.
- b) indicar o final de uma conversação.
- c) determinar uma pausa leve na leitura.
- d) marcar o diálogo entre os personagens.

QUESTÃO 09

COMUNICADO

Mediante ao aumento de casos e notificações de dengue no bairro TERRAS DE SANTA MARIA, será intensificado as vistorias pelos agentes. Solicitamos a cooperação de todos os moradores para que permita os agentes entrarem em suas residências.

ATENÇÃO
 Todos os agentes de combate a endemias estão munidos de CRACHÁS e CAMISETAS do município.

26/mar sábado das 13h às 18h

28/mar a 01/abr das 8h às 20h

02/abr sábado das 13h às 18h

04/abr a 08/abr das 8h às 20h

TIETÊ

Disponível em: <<http://www.tiete.sp.gov.br/6818-comunicado-dengue.php>>.

No texto do cartaz a palavra “crachás” foi acentuada pelo mesmo motivo que

- a) Tietê.
- b) sábado.
- c) município.
- d) residências.

QUESTÃO 10

Disponível em: <<https://www.todoestudo.com.br/portugues/paradoxo>>.

Na tira, as palavras “relativa” e “absoluta” exprimem ideias

- a) vazias.
- b) opostas.
- c) confusas.
- d) semelhantes.

MATEMÁTICA

QUESTÃO 11

Considere que cada um dos símbolos, ♠ e ♥, representa um dos algarismos de 1 a 9, de modo que a soma ilustrada a seguir, dos números formados por ♠♥♥e ♠♥, seja verdadeira.


$$\begin{array}{r}
 \spadesuit \quad \heartsuit \quad \heartsuit \\
 + \quad \quad \spadesuit \quad \heartsuit \\
 \hline
 6 \quad 4 \quad 6
 \end{array}$$

Assim, é correto afirmar que ♥ representa o algarismo


- a) 3.
- b) 5.
- c) 6.
- d) 8.

QUESTÃO 12

João mediu o comprimento de um lote utilizando um bastão, como na figura a seguir, que acreditava ter um metro e meio. Assim, ao medir o terreno usando esse bastão, João concluiu que o terreno tinha 30 metros de comprimento.



Ocorre que, mais tarde, João percebeu que o bastão não tinha um metro e meio, mas apenas um metro e vinte centímetros, como mostrado na figura a seguir.



Dessa forma, o comprimento real do terreno é, em metros, igual a

- a) 20.
- b) 24.
- c) 26.
- d) 28.

QUESTÃO 13

Uma pessoa estava verificando o consumo de gasolina do seu veículo e descobriu que, com exatos 38 litros, consegue percorrer 456 quilômetros. O consumo deste veículo, em Km/l, está corretamente indicado em

- a) 10.
- b) 11.
- c) 12.
- d) 13.


QUESTÃO 14

Uma receita caseira de pão de queijo, que serve 4 adultos, indica a utilização de 440g de queijo meia cura. Uma pessoa adaptou, proporcionalmente, essa receita para 12 adultos. Nessa adaptação, a quantidade indicada de queijo meia cura, em gramas, é de

- a) 1 030.
- b) 1 180.
- c) 1 320.
- d) 1 440.

QUESTÃO 15

No piso do corredor de uma casa existem 32 azulejos dos quais 8, destacados em preto na ilustração, apresentam algum tipo de defeito e serão substituídos.



A fração que representa a quantidade que será substituída está corretamente indicada em

- a) 3/16.
- b) 1/4.
- c) 5/16.
- d) 3/4.

QUESTÃO 16

Uma avó comprou um pacote de balas e as distribuiu para seus 5 netos de maneira que cada um deles recebeu o mesmo número de balas. Cada neto recebeu 12 balas e ainda sobraram 4 no pacote. Quantas balas havia no pacote?

- a) 60.
- b) 62.
- c) 64.
- d) 65.

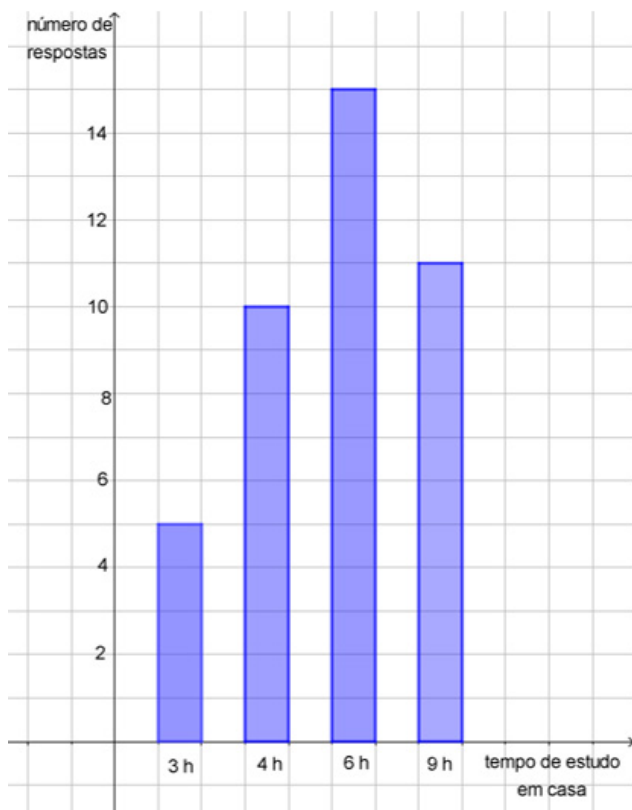
QUESTÃO 17

José entrou em um banco com dezoito notas de R\$ 5,00, três notas de R\$ 10,00 e nove notas de R\$ 20,00 e trocou toda a quantia que possuía por notas de R\$ 50,00. Assim, a quantidade de notas de R\$ 50,00 que José obteve nessa troca é igual a

- a) 4.
- b) 5.
- c) 6.
- d) 7.

QUESTÃO 18

A professora de Matemática perguntou a seus alunos o número de horas semanais que dedicavam aos estudos. Todos responderam e, com as respostas obtidas, a professora construiu o gráfico a seguir.



Qual o número de alunos que a professora tem?

- a) 41.
- b) 33.
- c) 22.
- d) 15.

QUESTÃO 19

Antônio foi ao açougue e comprou meio quilo de alcatra e meio quilo de músculo. Nesse açougue, o quilo de alcatra custa R\$ 48,00 e o quilo de músculo custa R\$ 36,00. Assim, Antônio pagou pela sua compra

- a) R\$ 32,00.
- b) R\$ 38,00.
- c) R\$ 40,00.
- d) R\$ 42,00.

QUESTÃO 20

Considere as afirmações a seguir e classifique-as como verdadeiras (V) ou falsas (F).

- () Multiplicar um número por 0,4 é o mesmo que multiplicar esse número por 4 e dividir por 10.
- () Multiplicar um número por 0,01 é o mesmo que dividir esse número por 10.
- () 10% de 1 000 é igual a 10.
- () $\frac{3}{4}$ de 100 é igual a 75.

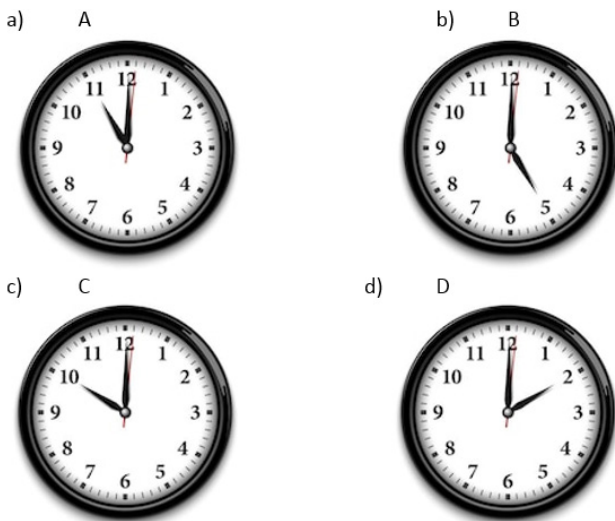
A sequência correta para as respostas está indicada em

- a) V, F, F, V.
- b) F, F, V, V.
- c) V, F, V, F.
- d) V, V, F, F.

CONHECIMENTOS GERAIS E ATUALIDADES

QUESTÃO 21

Observe os relógios .



O relógio que marca 11h00min é o da letra

- a) A.
- b) B.
- c) C.
- d) D.

QUESTÃO 22

Carlos foi até a feira com setenta reais. A compra que ele fez ficou em R\$ 52,00.



Quantos reais Carlos vai receber de troco?

- a) 8.
- b) 13.
- c) 18.
- d) 23.

QUESTÃO 23


Para fazer funcionar um forno elétrico é preciso



- a) colocar lenha.
- b) usar álcool de cozinha.
- c) ligar o forno na tomada.
- d) conectar a mangueira do gás.

QUESTÃO 24

Observe a imagem a seguir.



De acordo com as informações, o produto

- a) venceu neste ano.
- b) vai vencer neste ano.
- c) venceu no ano passado.
- d) vai vencer no ano que vem.

QUESTÃO 25

Observe a imagem a seguir.



A placa indica que as pessoas que chegam perto estão correndo o risco de

- a) serem mordidas por um cachorro.
- b) sofrerem um choque elétrico.
- c) serem atropeladas.
- d) escorregarem.

CONHECIMENTOS SOBRE SANTA CRUZ DO ESCALVADO

QUESTÃO 26

Santa Cruz do Escalvado se situa na Zona da Mata mineira. Desde o início do povoamento da região, até os dias atuais, o setor da economia de maior destaque no município tem sido aquele que inclui a

- a) agricultura e a pecuária.
- b) indústria e a informática.
- c) engenharia e o comércio.
- d) siderurgia e a educação.

QUESTÃO 27

Preencha corretamente as lacunas do texto sobre as características do município de Santa Cruz do Escalvado.

Originalmente a vegetação que cobria a região era a _____, que foi sofrendo derrubadas para a criação de cafezais, de pastagens, de canaviais e de outras lavouras. Pertencente à _____, contando com morros e colinas, o município tem como seu ponto mais conhecido a _____.

A sequência que preenche corretamente as lacunas do texto é

- a) Amazônia / Bacia do Rio Grande / estátua do Cristo
- b) Mata Atlântica / Bacia do Rio Doce / pedra do Escalvado
- c) caatinga / Bacia do Rio São Francisco / rocha do Cruzeiro
- d) pantaneira / Bacia do Rio das Velhas / cachoeira do Tucano

QUESTÃO 28

Entre as muitas riquezas do patrimônio arquitetônico e cultural de Santa Cruz do Escalvado, encontram-se a

- a) Capela de Santa Clara e a Banda do Divino.
- b) Matriz de São Miguel e a Festa do Congado.
- c) Matriz de Santa Rita e a Cavalgada do Merengo.
- d) Capela de Santo Antônio e a Filarmônica Santa Cruz do Escalvado.

QUESTÃO 29

Informe se são verdadeiras (V) ou falsas (F) as descrições dos requisitos básicos para provimento do cargo público, conforme Lei Complementar nº 013/2019 do Município de Santa Cruz do Escalvado – MG.

- () Nacionalidade brasileira.
- () Idade mínima de 18 (dezoito) anos.
- () Nível de escolaridade exigido para o desempenho do cargo.
- () Condições de saúde física e mental adequadas ao exercício do cargo.

De acordo com as afirmações, a sequência correta é

- a) F, F, F, V.
- b) V, V, V, V.
- c) F, V, V, F.
- d) F, F, F, F.

QUESTÃO 30

Conforme a Lei Complementar nº 013/2019 do Município de Santa Cruz do Escalvado – MG, a capacitação dos servidores municipais tem como um de seus objetivos

- a) desorientar o servidor.
- b) prejudicar a vida pessoal do servidor.
- c) impedir o desenvolvimento do trabalho.
- d) desenvolver hábitos adequados ao exercício da função pública.

CONCURSO PÚBLICO PARA PROVIMENTO DE CARGOS EFETIVOS DA PREFEITURA MUNICIPAL DE SANTA CRUZ DO ESCALVADO

GABARITO (RASCUNHO)

LÍNGUA PORTUGUESA

01 A B C D

02 A B C D

03 A B C D

04 A B C D

05 A B C D

06 A B C D

07 A B C D

08 A B C D

09 A B C D

10 A B C D

MATEMÁTICA

11 A B C D

12 A B C D

13 A B C D

14 A B C D

15 A B C D

16 A B C D

17 A B C D

18 A B C D

19 A B C D

20 A B C D

CONHECIMENTOS GERAIS E ATUALIDADES

21 A B C D

22 A B C D

23 A B C D

24 A B C D

25 A B C D

CONHECIMENTOS SOBRE SANTA CRUZ DO ESCALVADO

26 A B C D

27 A B C D

28 A B C D

29 A B C D

30 A B C D

ATENÇÃO:
AGUARDE AUTORIZAÇÃO
PARA VIRAR O CADERNO DE PROVA.