



CONCURSO PÚBLICO PARA PROVIMENTO DE CARGOS EFETIVOS DA PREFEITURA MUNICIPAL DE SANTA CRUZ DO ESCALVADO

CARGOS DE NÍVEL ALFABETIZADO - PROVA TIPO 2

Auxiliar de Serviços Gerais; Lavador e Lubrificador de Veículos; Mecânico; Motorista;
Operador de Máquinas e Servente Escolar.

INSTRUÇÕES GERAIS

1. A prova terá, no máximo, **4 (quatro)** horas de duração, incluído o tempo destinado à transcrição do gabarito na Folha de Respostas, único documento válido para correção.
2. O candidato deverá conferir os seus dados pessoais na Folha de Respostas, em especial seu nome e o número do documento de identidade.
3. Não haverá substituição da Folha de Respostas por erro do candidato ou por qualquer outro dano.
4. O candidato só poderá se retirar do recinto após **60 (sessenta) minutos**, contados a partir do efetivo início da prova.
5. Este caderno contém 30 questões de múltipla escolha, assim distribuídas:
 - Língua Portuguesa: 10 questões (numeradas de 01 a 10);
 - Matemática: 10 questões (numeradas de 11 a 20);
 - Conhecimentos Gerais e Atualidades: 5 questões (numeradas de 21 a 25);
 - Conhecimentos sobre Santa Cruz do Escalvado: 5 questões (numeradas de 26 a 30).
6. Cada questão apresenta 4 alternativas, de (a) a (d). O candidato deverá lê-las, atentamente, antes de responder a elas.
7. Caso o Caderno não corresponda à função de inscrição, esteja incompleto ou com defeito, o candidato deverá solicitar ao aplicador, durante os primeiros **20 minutos**, as providências cabíveis.
8. O candidato deverá entregar ao aplicador este Caderno de Provas e a Folha de Respostas.
9. O candidato passará o Gabarito para a Folha de Respostas, utilizando caneta esferográfica azul ou preta.

ATENÇÃO: FOLHA DE RESPOSTAS SEM ASSINATURA NÃO TEM VALIDADE

A folha de respostas não deve ser dobrada, amassada ou rasurada

Nome do candidato


Por favor, abra somente quando autorizado.



O GABARITO E O CADERNO DE PROVAS SERÃO DIVULGADOS NO ENDEREÇO ELETRÔNICO:
concurso.fundacaocefetminas.org.br

LÍNGUA PORTUGUESA

LEIA O TEXTO SEGUINTE PARA RESPONDER ÀS QUESTÕES DE 01 A 06.



A marmota entrou apressada na toca, fatigada, fugida. Quando contou a piada das orelhudas no boteco do beco, na reunião anual de verão, não imaginou que o leão estava namorando justamente a coelha. No próximo ano, nada de Dia da Marmota. Só sairia no final da primavera. : vivipereira

Disponível em: <<http://vimvievivi.com/index.php/2020/10/09/marmota/>>.

QUESTÃO 01

É correto dizer que o texto é

- a) uma carta.
- b) um poema.
- c) uma anedota.
- d) um miniconto.

QUESTÃO 02

De acordo com o texto, a marmota entrou cansada

- a) na toca.
- b) no beco.
- c) no boteco.
- d) na reunião.

QUESTÃO 03

TEXTO I

“Quando contou a piada das orelhudas [...] na reunião anual de verão, não imaginou que o leão estava namorando justamente a coelha.”

TEXTO II



“As marmotas são roedores mamíferos, parentes próximos, portanto, dos esquilos. Robustas e roliças, medem até 75 cm de comprimento, fora a cauda, que pode ter mais de 15 cm. Herbívoras, alimentam-se principalmente de raízes. É raro beberem água. Emitem sons para se comunicarem, sobretudo quando se sentem ameaçadas.”

Disponível em: <<https://www.infoescola.com/mamiferos/marmota/>>. Adaptado.

A afirmação **INCORRETA** sobre um dos dois textos está indicada em

- a) O Texto II conta a conversa entre a marmota e os esquilos.
- b) O Texto I diz o que fez a marmota na reunião anual de verão.
- c) O Texto I mostra o lugar e o momento em que o fato aconteceu.
- d) O Texto II descreve com detalhes que tipo de animal é a marmota.

QUESTÃO 04

No trecho “...entrou apressada na toca, fatigada, **fugida**.”, a palavra em destaque indica que a marmota saiu do lugar de onde estava

- a) calmamente.
- b) ocultamente.
- c) relaxadamente.
- d) vitoriosamente.

QUESTÃO 05

A atitude da marmota, no final da história, demonstra que ela vai

- a) encontrar-se com as orelhudas nos próximos meses.
- b) fazer uma surpresa para as coelhas no ano seguinte.
- c) mudar de ideia sobre comemorar o Dia da Marmota.
- d) dar um grande susto na coelha e no leão na primavera.

QUESTÃO 06

No trecho “só sairia no final da primavera.”, a expressão sublinhada dá ideia de

- a) lugar.
- b) causa.
- c) modo.
- d) tempo.

QUESTÃO 07

Leia o texto a seguir.



Disponível em: <<https://www.universodosleitores.com/2017/08/10-tirinhas-de-armandinho-sobre-o.html>>

Observe as palavras retiradas da tirinha.

PORQUE – PORQUINHOS – PÃO – PRESUNTO

As palavras estão na ordem alfabética correta em

- a) pão / porque / porquinhos / presunto.
- b) porque / pão / presunto / porquinhos.
- c) pão / porque / presunto / porquinhos.
- d) porque / pão / porquinhos / presunto.

QUESTÃO 08

UMA SENHORA ESTÁ EM SUA VARANDA COM SEU GATO.

UM HOMEM SE APROXIMA E PERGUNTA: ARRANHA?

ELA RESPONDE: NÃO, GATO.

Disponível em: <<https://www.maioresemelhores.com/melhores-piadas-para-criancas/>>.

A separação das sílabas está correta em

- a) per-gun-ta / ga-to / ela.
- b) u-ma / ho-mem / va-ran-da.
- c) apro-xi-ma / ar-ra-nha / com.
- d) se-nho-ra / res-pon-de / se-u.

QUESTÃO 09

A raposa que perdeu a cauda

Uma Raposa foi apanhada numa armadilha. Conseguiu escapar, mas ficou sem a cauda porque a armadilha a cortou.

Sentindo-se envergonhada e ridícula, pensou convencer as outras raposas a cortarem também as suas.

Reuniu um bom número de amigas e explicou-lhes que, sem cauda, não só ficariam muito mais bonitas, mas também se livrariam de um peso inútil.

Ouvindo isto, uma das raposas interrompeu-a e perguntou-lhe:

- Se não tivesses perdido a tua cauda, também nos aconselharias a cortar as nossas?

Moral da história:

Tem cuidado com quem te dá conselhos tendo em vista os seus próprios interesses.

Disponível em: <<https://br.pinterest.com/pin/631559547714927308/>>. Adaptado.

Em qual frase as palavras foram empregadas no sentido figurado?

- a) “...ouvindo isto...”
- b) “...um peso inútil...”
- c) “...ficou sem a cauda...”
- d) “...muito mais bonitas...”

QUESTÃO 10



Disponível em: <<https://rafaelmatematico.blogspot.com/2017/10/charges-matematicas-17.html>>.

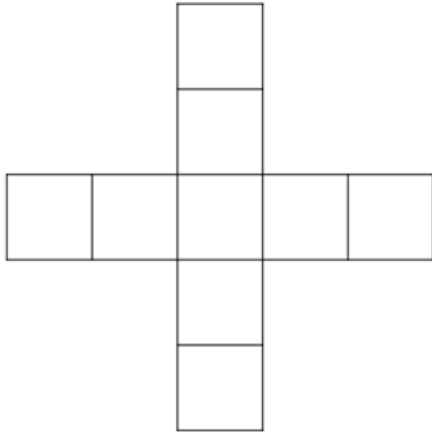
O substantivo feminino singular que aparece no texto da charge é

- a) exame.
- b) colesterol.
- c) obesidade.
- d) videogame.

MATEMÁTICA

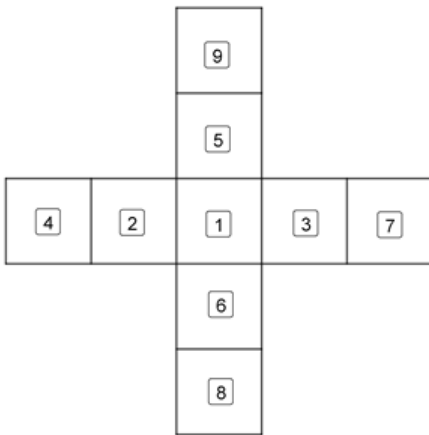
QUESTÃO 11

Considere a cruz apresentada na figura a seguir e os números de 1 a 9. Cada quadrado será preenchido por um número de modo que em quadrados vizinhos os números não sejam consecutivos.

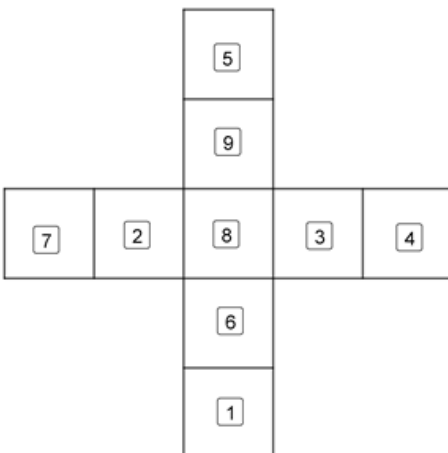


Obedecendo ao que se pede, indique a resposta que satisfaz às condições apresentadas, ou seja, que não haja números consecutivos em quadrados vizinhos.

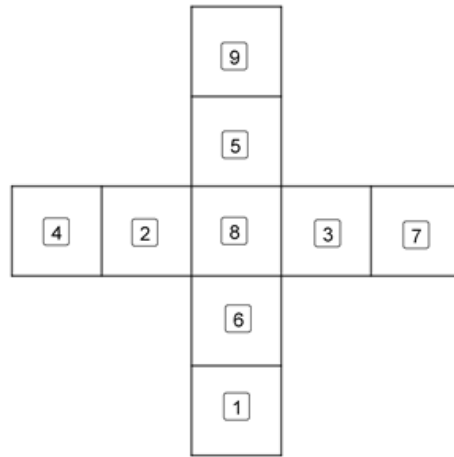
a)



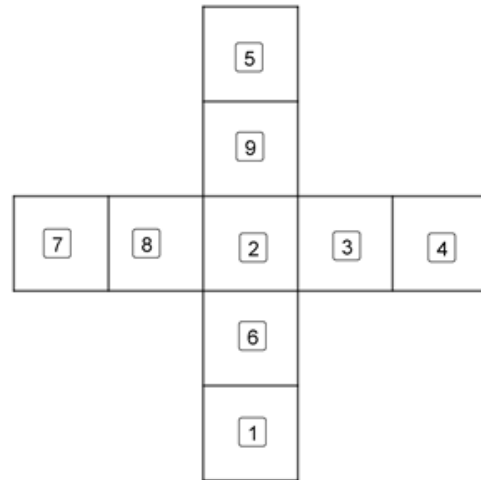
b)



c)

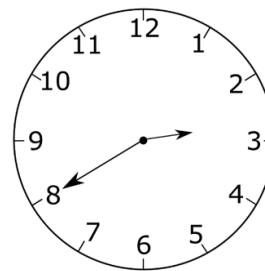


d)

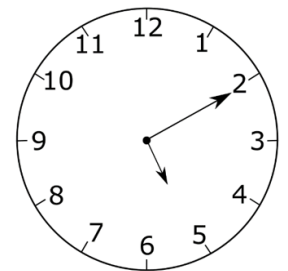


QUESTÃO 12

César trabalha apenas no período da tarde. Em um determinado dia, os horários de entrada e saída foram registrados de acordo com as figuras a seguir.



Horário de entrada



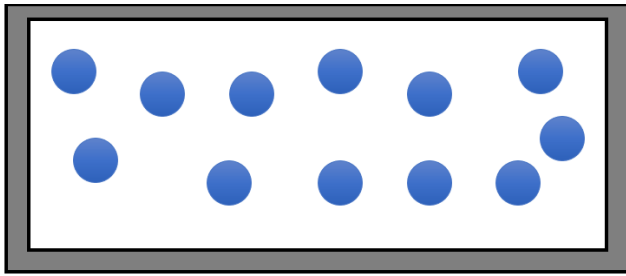
Horário de saída

Nesse dia, César trabalhou durante

- a) 1 hora e 50 minutos.
- b) 2 horas e 30 minutos.
- c) 3 horas e 10 minutos.
- d) 4 horas e 20 minutos.

QUESTÃO 13

Todas as bolas que estão nesta caixa serão distribuídas igualmente para 3 crianças.




Quantas bolas cada criança receberá?

- a) 2.
- b) 4.
- c) 6.
- d) 8.

QUESTÃO 14

O copo representado na figura a seguir está dividido em três partes iguais e possui 280mL de água, representados pelas duas partes cinzentas.

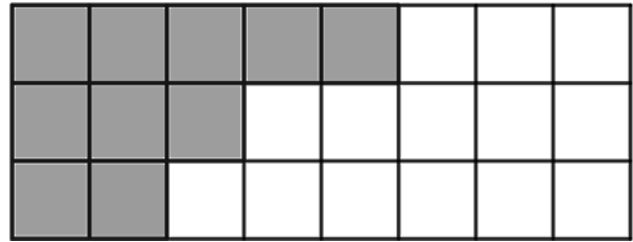


Assim, a quantidade de água necessária para encher o restante do copo é, em mL, igual a

- a) 120.
- b) 140.
- c) 160.
- d) 180.

QUESTÃO 15

Na figura a seguir, o retângulo foi dividido em quadradinhos cujos lados são todos iguais.

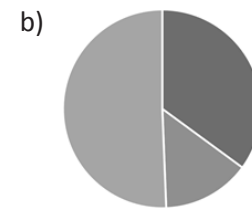
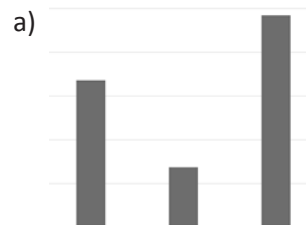


Que fração corresponde à parte pintada na figura?

- a) $\frac{1}{24}$.
- b) $\frac{5}{24}$.
- c) $\frac{5}{12}$.
- d) $\frac{7}{12}$.


QUESTÃO 16

Qual dos gráficos a seguir é um gráfico de colunas?

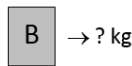
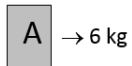


QUESTÃO 17


A figura a seguir representa uma balança de dois pratos.



Considere dois tipos de objetos A e B, sendo que um objeto do tipo A pesa 6kg.



Sabe-se que dois objetos do tipo A se equilibram com três objetos do tipo B, como mostra a figura.



O peso de um objeto do tipo B é de quantos kg?

- a) 2.
- b) 3.
- c) 4.
- d) 5.

QUESTÃO 18

Haroldo chegou ao ponto de ônibus às 08 horas e 54 minutos da manhã e verificou o quadro de horários, conforme a figura a seguir.

Horário de partidas do ônibus no período da manhã

05:12	05:46	06:24	06:58	07:14	07:43
08:17	08:33	08:51	09:13	09:29	09:45
10:00	10:31	10:54	11:05	11:38	11:52

De acordo com o quadro de horários, Haroldo terá que esperar quantos minutos pela partida do próximo ônibus?

- a) 12.
- b) 14.
- c) 17.
- d) 19.

QUESTÃO 19

Luiz fez uma aposta em um jogo de loteria que consiste no sorteio de 10 números de 1 a 40. Nesse jogo, o apostador preenche um cartão marcando 12 desses números e ganha, se acertar, exatamente 6 números. Os números que Luiz apostou estão marcados de preto no cartão a seguir.

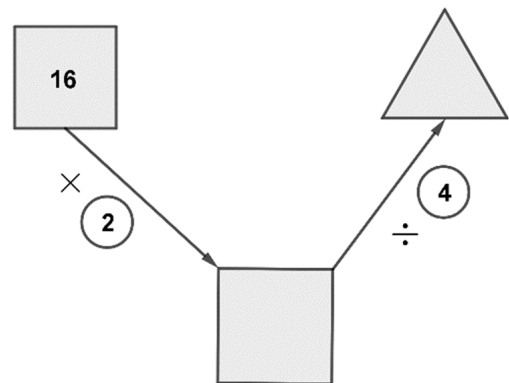
01	02	03	04	05	06	07	08	09	10
11	12	13	14	15	16	17	18	19	20
21	22	23	24	25	26	27	28	29	30
31	32	33	34	35	36	37	38	39	40

Se os números sorteados foram 01, 02, 07, 11, 13, 18, 20, 25, 27 e 35, então Luiz acertou quantos números?

- a) 2.
- b) 3.
- c) 4.
- d) 5.

QUESTÃO 20

Observando o sentido das setas e realizando as operações indicadas, o número que preenche corretamente o triângulo é



- a) 4.
- b) 6.
- c) 8.
- d) 10.

CONHECIMENTOS GERAIS E ATUALIDADES

QUESTÃO 21

Analise a conta de água da imagem a seguir.

SEU CONSUMO/CUSTO DIÁRIO		DESCRIÇÃO DOS SERVIÇOS / LANÇAMENTOS	
6.433 Litros de Água		ÁGUA: CAPTAÇÃO, TRATAMENTO, CONTROLE DE QUALIDADE, MANUTENÇÃO, DISTRIBUIÇÃO E DISPONIBILIDADE.	461,12
Esgoto		ESGOTO: COLETA, TRATAMENTO, CONTROLE DO EFLUENTE, MANUTENÇÃO E DISTRIBUIÇÃO FINAL.	366,80
R\$ 16,00	R\$ 12,02	MULTA POR ATRASAMENTO EM 09/2011 FAT: 00111443039498	16,98
		JUNTOS DE ÁGUA	28,37
		ATUAL MONETÁRIA	1,86
		COBRANÇA PELO USO DE RECURSOS HÍDRICOS - ÁGUA	3,41
		COBRANÇA PELO USO DE RECURSOS HÍDRICOS - ESGOTO	2,41

ATENDIMENTO TELEFÔNICO	VENCIMENTO	TOTAL A PAGAR
115 - 24 HORAS	21/12/2011	*****R\$894,95

AGÊNCIA MAIS PRÓXIMA

AV CRISTIANO MACHADO 1465
CIDADE NOVA - 35090-011

POUPE TEMPO. DEBITO AUTOMÁTICO.
MELHOR PARA VOCE. CONSULTE SEU BANCO.


INFORMAÇÕES REFERENTES À FATURA		INFORMAÇÕES GERAIS	
INFORMAÇÕES SOBRE A QUALIDADE DA ÁGUA (Port. N° 518 - Min. da Saúde - Dec. N° 5440)		OLVIDORIA GERAL ESTADO DE MINAS GERAIS 0800 283 9191 VALE DA ELETRÔNICA: 25 ANOS PRODUZINDO TECNOLOGIA.	

Período: 09/2011	Número de Amostras					
	Cloro	Coliformes Totais	Cor	Escherichia Coli	Fluoreto	Turbidez
Mínimo	619	619	143	0	72	143
Analisadas	696	695	180	4	104	180
Fora Padrões	2	4	1	1	18	1
Dentro Padrões	694	691	179	3	86	179

Observações: (Autenticar no verso)

EM CASO DE ORDEM DE PAGAMENTO, MENCIONAR O NÚMERO DESSA FATURA.				
COPASA	MATRÍCULA	NÚMERO DA FATURA	MÊS / REF.	VENCIMENTO
	00023143436	001.11.54443661-1	11/2011	21/12/2011
				TOTAL A PAGAR *****R\$894,95

82680000008-3 94950019100-0 11154443661-6 13106200582-5



O valor total a ser pago nessa conta de água é de

- a) R\$ 115,24.
- b) R\$ 180,50.
- c) R\$ 894,95.
- d) R\$ 900,60.

QUESTÃO 22

A população de Santa Cruz do Escalvado é de aproximadamente quantos habitantes?

- a) 4.700.
- b) 6.700.
- c) 8.700.
- d) 10.700.

QUESTÃO 23

Nas eleições de outubro deste ano os eleitores e eleitoras brasileiros **NÃO** vão eleger

- a) governadores.
- b) deputados estaduais.
- c) vereadores.
- d) senadores.

QUESTÃO 24

Qual o aparelho utilizado para fazer contas de matemática?

- a) Bússola.
- b) Calculadora.
- c) Estetoscópio.
- d) Termômetro.

QUESTÃO 25

A seleção brasileira de futebol masculino vai tentar conquistar o seu sexto título neste ano. A Copa do Mundo Fifa será realizada em qual país?

- a) Catar.
- b) Iraque.
- c) Bahrein.
- d) Kuwait.

CONHECIMENTOS SOBRE SANTA CRUZ DO ESCALVADO

QUESTÃO 26

A imagem a seguir representa uma cachaça produzida em Santa Cruz do Escalvado.



Fonte: ASSIS, Angelo Adriano Faria de; FARIA, André Luiz Lopes de & REIS, Marcus Vinícius Reis. **História de Santa Cruz do Escalvado**. Viçosa, MG: Geographica, 2009, p. 18.

Qual lavoura se destaca no município de Santa Cruz do Escalvado?

- a) Soja.
- b) Trigo.
- c) Fumo.
- d) Cana-de-açúcar.

QUESTÃO 27

Observe o mapa a seguir sobre as regiões de Minas Gerais.



Fonte: ASSIS, Angelo Adriano Faria de; FÁRIA, André Luiz Lopes de & REIS, Marcus Vinícius Reis. *História de Santa Cruz do Escalvado*. Viçosa, MG: Geographica, 2009, p. 7. Adaptado.

O município de Santa Cruz do Escalvado está situado em qual região?

- a) Zona Central.
- b) Zona da Mata.
- c) Norte de Minas.
- d) Triângulo Mineiro.

QUESTÃO 28

Na fotografia a seguir está escrito: “Vista de Santa Cruz do Escalvado. Distrito de Ponte Nova (Minas). Agosto de 1921.”



Fonte: ASSIS, Angelo Adriano Faria de; FARIA, André Luiz Lopes de & REIS, Marcus Vinícius Reis. **História de Santa Cruz do Escalvado**. Viçosa, MG: Geographica, 2009, p. 34.

No ano de 1948 foi criado o Município de Santa Cruz do Escalvado, que deixou de ser distrito de qual outro município?

- a) Rio Doce.
- b) Urucânia.
- c) Sem Peixe.
- d) Ponte Nova.

QUESTÃO 29

Fotografia da Igreja Matriz de Santa Cruz do Escalvado.



Fonte: ASSIS, Angelo Adriano Faria de; FARIA, André Luiz Lopes de & REIS, Marcus Vinícius Reis. *História de Santa Cruz do Escalvado*. Viçosa, MG: Geographica, 2009, p. 49. Adaptado.

A imagem indica como é importante para a cidade

- a) o clube.
- b) a religião.
- c) a música.
- d) o esporte.

QUESTÃO 30

Vista aérea da região da usina hidrelétrica Risoleta Neves, também conhecida como Represa da Candonga, em Santa Cruz do Escalvado. Foto de 2016.



Fonte: G1 MINAS GERAIS. Disponível em <https://g1.globo.com/mg/minas-gerais/noticia/2020/10/09/tragedia-de-mariana-em-5-anos-apenas-10percent-dos-rejeitos-retidos-na-usina-de-candonga-sao-retirados.ghtml> Acesso em 14 abr. 2022.

No ano de 2015 Santa Cruz do Escalvado e outros municípios da região foram vítimas do desastre ambiental da mineradora Samarco. A represa da Candonga foi atingida por uma inundação de

- a) lama.
- b) vida.
- c) chuva.
- d) alimento.

CONCURSO PÚBLICO PARA PROVIMENTO DE CARGOS EFETIVOS DA PREFEITURA MUNICIPAL DE SANTA CRUZ DO ESCALVADO

GABARITO (RASCUNHO)

LÍNGUA PORTUGUESA

01 A B C D

02 A B C D

03 A B C D

04 A B C D

05 A B C D

06 A B C D

07 A B C D

08 A B C D

09 A B C D

10 A B C D

MATEMÁTICA

11 A B C D

12 A B C D

13 A B C D

14 A B C D

15 A B C D

16 A B C D

17 A B C D

18 A B C D

19 A B C D

20 A B C D

CONHECIMENTOS GERAIS E ATUALIDADES

21 A B C D

22 A B C D

23 A B C D

24 A B C D

25 A B C D

CONHECIMENTOS SOBRE SANTA CRUZ DO ESCALVADO

26 A B C D

27 A B C D

28 A B C D

29 A B C D

30 A B C D

ATENÇÃO:
AGUARDE AUTORIZAÇÃO
PARA VIRAR O CADERNO DE PROVA.