



CÂMARA MUNICIPAL DE CAMPINAS

ESTADO DE SÃO PAULO

CONCURSO PÚBLICO

004. PROVA OBJETIVA

ANALISTA LEGISLATIVO – CONTADOR

- ◆ Você recebeu sua folha de respostas e este caderno contendo 50 questões objetivas.
- ◆ Confira seus dados impressos na capa deste caderno e na folha de respostas.
- ◆ Quando for permitido abrir o caderno, verifique se está completo ou se apresenta imperfeições. Caso haja algum problema, informe ao fiscal da sala para a devida substituição deste caderno.
- ◆ Leia cuidadosamente todas as questões e escolha a resposta que você considera correta.
- ◆ Marque, na folha de respostas, com caneta de tinta preta, a letra correspondente à alternativa que você escolheu.
- ◆ A duração da prova é de 3 horas, já incluído o tempo para o preenchimento da folha de respostas.
- ◆ Só será permitida a saída definitiva da sala e do prédio após transcorridas 2 horas e 30 minutos do início da prova.
- ◆ Deverão permanecer em cada uma das salas de prova os 3 últimos candidatos, até que o último deles entregue sua prova e assine o termo respectivo.
- ◆ Ao sair, você entregará ao fiscal a folha de respostas e este caderno.
- ◆ Até que você saia do prédio, todas as proibições e orientações continuam válidas.

AGUARDE A ORDEM DO FISCAL PARA ABRIR ESTE CADERNO.

Nome do candidato _____

RG _____

Inscrição _____

Prédio _____

Sala _____

Carteira _____

CONHECIMENTOS GERAIS

LÍNGUA PORTUGUESA

Leia o texto de João Pereira Coutinho para responder às questões de números **01** a **06**.

Um filme revolucionário

Para muitos, a época do Natal é o momento da suprema hipocrisia. Durante 24 horas, ou talvez 48, os sorrisos são forçados, os sentimentos são de plástico e a gentileza, se merece o nome, não consegue esconder completamente a profundidade do ressentimento contra amigos ou familiares.

Mas será que os mortais ainda se lembram do sorriso franco, dos sentimentos limpos e de uma gentileza genuína? Será que sentem saudades?

Para esses nostálgicos, aconselho o filme “A Menina Silenciosa”, de Colm Bairéad, inspirado no livro “Foster”, de Claire Keegan. É o meu filme do ano, para usar a linguagem gasta dos balanços jornalísticos.

A história é simples, ou parece simples: Cáit (espantosa Catherine Clinch) é uma criança de nove anos que sobrevive (é o termo) numa família que a ignora e despreza. O seu método de sobrevivência é o silêncio, a quietude e a observação. Para usar uma palavra clássica, Cáit é uma “enjeitada”. A mãe é uma figura exausta e ausente. O pai alcoólatra tem a delicadeza própria das bestas. E as irmãs mais velhas são espectros sem rosto e sem voz.

Mas então os pais, que esperam uma nova criança e não têm tempo para Cáit, decidem enviá-la para a casa de Eibhlín e Seán, familiares distantes, só para passar o verão, e a garota é assim levada para um ambiente estranho. Decisão milagrosa, pois eles acolhem-na e, logo nos primeiros momentos, entendemos que algo mudou. Uma diferença nos gestos, digamos assim. Gestos de quem cuida.

Naquele verão, Cáit conhece essa coisa extraordinária: uma família, partilhando com ela as suas alegrias e tristezas, as suas rotinas, as suas conversas. Lentamente, a “menina silenciosa” vai saindo do seu casulo. “A Menina Silenciosa” é um filme revolucionário por tratar do mais revolucionário dos temas: a bondade humana.

Não é uma daquelas virtudes mentirosas para ser exibida nas redes sociais e que apenas serve para alimentar a vaidade do suposto virtuoso. Também não é uma mera proclamação ideológica, abstrata, ideal, própria de quem ama a humanidade, mas despreza o ser humano comum.

Como lembrava Emmanuel Levinas*, a bondade é uma virtude interpessoal. Ela só acontece face a face. A bondade nada exige, nada espera, nada impõe. É pura hospitalidade. É abertura e reconhecimento.

E, como no filme, talvez seja um dia reciprocidade.

(João Pereira Coutinho. ‘A Menina Silenciosa’ é um filme revolucionário ao tratar da bondade humana. www.folha.uol.com.br/colunas, 22.12.2023. Adaptado)

*Emmanuel Levinas: filósofo francês (1906-1995)

01. Com base nas informações do texto, é correto afirmar que

- (A) a recordação contínua de momentos que ficaram marcados por sentimentos puros e gentileza desinteressada é comportamento inerente aos seres humanos.
- (B) os textos jornalísticos têm, para Pereira Coutinho, o mérito de pôr os leitores em contato com uma linguagem permanentemente inovadora e destituída de clichês.
- (C) Eibhlín e Seán, que conheciam de antemão a situação humilhante vivida por Cáit, redobram a atenção e o carinho dedicados à menina.
- (D) indivíduos, movidos pelo narcisismo, usam a internet para ostentar as supostas virtudes, outros são hipócritas quando dizem gostar da humanidade.
- (E) Cáit se sente temerosa quando os pais, inicialmente avessos à ideia, permitem que ela passe o verão na casa dos parentes Eibhlín e Seán.

02. Segundo a descrição que o autor faz das personagens,

- (A) o pai é uma pessoa doente; Eibhlín e Seán vivem reclusos.
- (B) a mãe é negligente com os filhos; as irmãs agridem fisicamente a caçula.
- (C) o pai age com agressividade; as irmãs não interagem com Cáit.
- (D) a mãe é uma mulher pretensiosa; o pai é um homem ignorante.
- (E) a mãe é uma mulher obstinada; Eibhlín e Seán são pessoas solícitas.

03. Assinale a alternativa que apresenta uma afirmação correta a respeito das passagens do texto.

- (A) Durante 24 horas, ou talvez 48, os sorrisos são forçados, os sentimentos são **de plástico**... (1º parágrafo): a expressão destacada está em sentido figurado, equivalendo a *dissimulados*.
- (B) Para esses **nostálgicos**, aconselho o filme “A Menina Silenciosa”... (3º parágrafo): o termo destacado está em sentido próprio, equivalendo a *incompreendidos*.
- (C) Mas será que os **mortais** ainda se lembram do sorriso franco... (2º parágrafo): o termo destacado está em sentido figurado, equivalendo a *seres humanos*.
- (D) ... e a garota é assim levada para um ambiente **estranho**. (5º parágrafo): o termo destacado está em sentido próprio, equivalendo a *hostil*.
- (E) Lentamente, a “menina silenciosa” **vai saindo do seu casulo**. (6º parágrafo): a expressão destacada está em sentido figurado, equivalendo a *torna-se voluntariosa*.

04. Os parênteses empregados no quarto parágrafo sinalizam observações do autor que são

- (A) jocosas e relativas, respectivamente, ao evidente talento da atriz e ao fato de a personagem ter sido adotada por uma nova família.
- (B) contundentes e relativas, respectivamente, ao grande sucesso do filme e ao fato de a personagem ter sido resiliente perante o desamor da família.
- (C) adicionais e relativas, respectivamente, à ótima atuação da atriz e ao fato de a personagem ter de resistir à exclusão a que é submetida.
- (D) irônicas e relativas, respectivamente, à juventude da atriz e ao fato de a personagem sentir-se feliz, ainda que faça parte de uma família desestruturada.
- (E) imprescindíveis e relativas, respectivamente, ao sucesso imediato da atriz e ao fato de a personagem reagir acintosamente ao descaso da própria família.

05. Assinale a alternativa em que a frase está em conformidade com a norma-padrão de concordância verbal.

- (A) No enfrentamento da realidade, são a quietude e a observação que permite à Cáit sobreviver às agruras impostas pela própria família.
- (B) No contato familiar, faltam à menina silenciosa os gestos de zelo e carinho que sempre devem unir pais e filhos.
- (C) No texto, que expõe opiniões do autor acerca da generosidade, sugerem-se que os leitores assistam ao filme inspirado no livro de Claire Keegan.
- (D) Quando há bondade autêntica entre as pessoas, não pode existir exigências, cobranças ou imposições.
- (E) O autor, ao comentar sobre bondade, hospitalidade e reciprocidade, explica que se tratam de temas revolucionários.

06. A passagem destacada em – Naquele verão, Cáit conhece essa coisa extraordinária: **uma família, partilhando com ela as suas alegrias e tristezas...** (6º parágrafo) está reescrita de acordo com a norma-padrão na alternativa:

- (A) ... uma família aonde desgostos e alegrias são compartilhadas com ela.
- (B) ... uma família cujos os desgostos e as alegrias são compartilhados com ela.
- (C) ... uma família à qual ela tem os desgostos e as alegrias compartilhados.
- (D) ... uma família com a qual ela tem alegrias e desgostos compartilhadas.
- (E) ... uma família cujas alegrias e desgostos são compartilhados com ela.

Leia um trecho do romance “A gorda”, da escritora portuguesa Isabela Figueiredo, para responder às questões de números 07 a 10.

Já estamos habituados a cães abandonados que vêm parar à nossa rua. O Bobi também viveu quase duas décadas no pátio das traseiras do prédio. Do alto do sexto andar víamo-lo acoitar-se debaixo dos carros, fugindo à chuva. A certa altura, o papá comprou-lhe uma casota de cimento, que a loja veio entregar. O Bobi era quase como se fosse nosso, mas vivia na rua. Alguma vizinhança assomou à janela e apreciou o feito do papá. Mas estamos no mundo e, como de costume, outros censuraram. Eu e o papá temos fama de proteger os animais. E é má. Reclamam que ladram, que podem morder e transmitem doenças. Que somos os culpados de não se irem embora porque os alimentamos. Nas nossas costas há sempre alguém a enxotá-los ou a magoá-los. Pessoas que se cruzam conosco fingindo ser do bem, mas nos impugnam pelas costas. Denunciam a presença do cão vadio à câmara e a carroça costuma aparecer de madrugada, com homens súbitos que procuram caçá-lo com redes. Quando não consegue escapar, o Bobi é levado para o canil municipal. Na manhã seguinte, eu e o papá deslocamos ao canil e confirmamos a sua presença atrás das grades. Seguimos para a Câmara, pagamos a multa e voltamos para o resgatar. Fazemos o caminho a pé para casa, calmamente; ele ao nosso lado. O Bobi não entra em carros. Eu e o papá vamos-lhe pedindo que tenha cuidado com as doenças que as pessoas podem transmitir-lhe. Explicamos que a picada ou mordedura dos humanos é mortal. Embora nos ríamos da conversa que entabulamos, eu e o papá estamos fartos de gente.

(Isabela Figueiredo. “A gorda”. Editora Todavia, 2021. Adaptado)

07. De acordo com o texto, pode-se concluir corretamente que

- (A) certos moradores costumam recorrer à prefeitura que, imediatamente, envia os funcionários para aprisionar Bobi e levá-lo ao canil.
- (B) os vizinhos, embora aprovassem a compra da casinha, não queriam Bobi no condomínio, pois o animal se confirmou uma real ameaça para os moradores.
- (C) a família da narradora, habituada a cães, quis acolher Bobi no apartamento, mas o cão, receoso, preferiu continuar vivendo no pátio do condomínio.
- (D) a narradora concebe a sociedade como um espaço em que existem seres humanos falsos e insensíveis, por esse motivo não a idealiza.
- (E) pai e filha, no trajeto de volta do canil, riem dos comentários que fazem acerca dos conhecidos, já que são mentiras que usam para distrair Bobi.

08. Assinale a alternativa em que as frases apresentadas estão em conformidade com o sentido do texto.

- (A) Visto que alimentamos os cães, a princípio as pessoas nos culpam de eles não se irem embora. / Enquanto não consegue escapar, Bobi é levado para o canil, não obstante, na manhã seguinte, saímos para resgatá-lo.
- (B) Ainda que alimentemos os cães, por isso as pessoas nos culpam de eles não se irem embora. / Se não consegue escapar, Bobi é levado para o canil, ou, na manhã seguinte, saímos para resgatá-lo.
- (C) Sem que alimentemos os cães, ainda assim as pessoas nos culpam de eles não se irem embora. / À medida que não consegue escapar, Bobi é levado para o canil, assim sendo, na manhã seguinte, saímos para resgatá-lo.
- (D) Como alimentamos os cães, conseqüentemente as pessoas nos culpam de eles não se irem embora. / Caso não consiga escapar, Bobi é levado para o canil, todavia, na manhã seguinte, saímos para resgatá-lo.
- (E) Uma vez que alimentamos os cães, com efeito as pessoas nos culpam de eles não se irem embora. / Mesmo que não consiga escapar, Bobi é levado para o canil, salvo se, na manhã seguinte, saímos para resgatá-lo.

09. Considere as frases.

- Meu pai escolhera uma casa feita de cimento para Bobi, e a loja _____ ao condomínio.
- Sabendo de sua captura, vamos ao canil onde _____ que Bobi está atrás das grades.
- No retorno para casa, converso com o cão e _____ de que as pessoas podem ser perigosas.

Atendendo à norma-padrão de emprego e de colocação dos pronomes, as lacunas das frases devem ser preenchidas, respectivamente, por:

- (A) a havia levado; se confirma; previno-o
- (B) havia levado-a; se confirma; lhe previno
- (C) havia levado-a; confirma-se; previno-o
- (D) a havia levado; confirma-se; lhe previno
- (E) havia-a levado; se confirma; previno-lhe

10. A frase que segue a norma-padrão de regência e de emprego do sinal indicativo de crase se encontra em:

- (A) Algumas pessoas se mostram receptivas, outras nem tanto, à atenção dada aos cães de rua.
- (B) Meu pai e eu estamos acostumados à conviver com animais abandonados.
- (C) Quando chove, Bobi procura se refugiar à locais cobertos, como embaixo dos carros.
- (D) Há vizinhos que atribuem à qualquer atitude de pai e filha a culpa pela presença dos cães.
- (E) Para reaver animais capturados pelo serviço público, é necessário quitar à uma multa.

11. Considere a seguinte informação publicada em uma agência estadual de notícias:

A Companhia de Saneamento do Paraná (Sanepar) investiu R\$ 880,3 milhões, no primeiro semestre de 2023, na melhoria do saneamento básico. Esse montante é 15,3% maior do que o montante investido na melhoria do saneamento básico, no mesmo período do ano anterior.

(<https://www.aen.pr.gov.br/Noticia/Sanepar-amplia-em-15-investimento-no-1o-semester-para-aumentar-o-saneamento>. Adaptado)

Com base nas informações apresentadas, é correto afirmar que o montante investido na melhoria do saneamento básico, pela Sanepar, no primeiro semestre de 2022, ficou entre

- (A) R\$ 770 milhões e R\$ 780 milhões.
- (B) R\$ 780 milhões e R\$ 790 milhões.
- (C) R\$ 760 milhões e R\$ 770 milhões.
- (D) R\$ 740 milhões e R\$ 750 milhões.
- (E) R\$ 750 milhões e R\$ 760 milhões.

12. Carina leu um livro em 3 dias. Na segunda-feira ela leu a terça parte do total de páginas do livro, na quarta-feira leu três quartos do número de páginas não lidas na segunda-feira, e, na sexta-feira, leu as 60 páginas que faltavam. O número de páginas lidas por Carina na quarta-feira foi igual a

- (A) 160.
- (B) 180.
- (C) 170.
- (D) 140.
- (E) 150.

13. Um grupo com 60 novos analistas legislativos com especialidade A e 150 novos analistas legislativos com especialidade B precisa ser dividido em grupos menores, contendo, cada um, x analistas com especialidade A e y analistas com especialidade B. Para tanto, não pode haver analista fora de um grupo, e o número de grupos tem que ser o maior possível. Nesse caso o valor de $y - x$ deve ser igual a

- (A) 1.
- (B) 2.
- (C) 4.
- (D) 5.
- (E) 3.

14. Após a primeira fase de determinado concurso, considerando apenas os candidatos aprovados nessa fase, a razão entre o número de candidatos que concorrem ao cargo A e o número de candidatos que concorrem ao cargo B foi igual a $\frac{10}{9}$. Após a segunda fase, considerando os

candidatos que foram aprovados na fase anterior, a quinta parte dos que concorrem ao cargo A e a sexta parte dos que concorrem ao cargo B foram aprovadas, totalizando 140 candidatos. Após a segunda fase, o número de candidatos aprovados para o cargo B foi igual a

- (A) 70.
(B) 75.
(C) 80.
(D) 65.
(E) 60.
15. A tabela apresenta o número total de unidades de certo produto, produzidas por uma empresa, e o número total de unidades reprovadas no controle de qualidade, nos três quadrimestres do ano anterior:

Resumo da produção (ano anterior)		
Quadrimestre	Número total de unidades produzidas	Número total de unidades reprovadas
Primeiro	1820	8
Segundo	1945	13
Terceiro	2082	6

Com base nas informações apresentadas, pode-se corretamente afirmar que, no ano anterior, a média mensal de unidades produzidas e não reprovadas do referido produto pela empresa, foi de

- (A) 1940 unidades.
(B) 162 unidades.
(C) 646 unidades.
(D) 485 unidades.
(E) 1455 unidades.
16. Uma empresa vende determinado produto em três tipos de embalagens: de 4 unidades, de 6 unidades ou de 8 unidades. Atualmente, a empresa tem 1251 unidades desse produto para embalar. Seja N o menor número natural tal que, acrescentando-se N unidades do produto às 1251 unidades já disponíveis, seja possível escolher qualquer um dos três tipos de embalagens e, usando apenas o tipo de embalagem escolhida, distribuir a nova quantidade, de acordo com a capacidade da embalagem e sem sobrar produto fora de embalagem. O número N está entre
- (A) 11 e 15.
(B) 19 e 23.
(C) 3 e 7.
(D) 7 e 11.
(E) 15 e 19.

17. Em um terreno retangular, com lados medindo 22 m e 31 m, será construído um pequeno galpão, também retangular, em que um lado tem 2 m a mais do que o outro, conforme representado na figura a seguir:

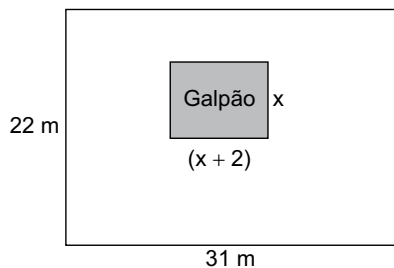


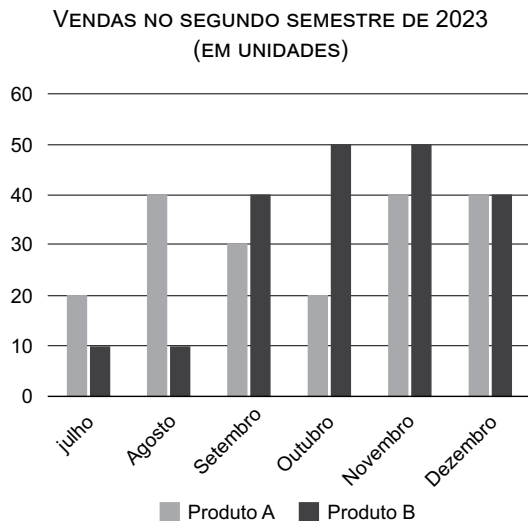
Figura fora de escala

Sabendo-se que, após a construção do galpão, o terreno deverá ter 619 m^2 de área livre, ou seja, sem considerar a área ocupada pelo galpão, o perímetro do galpão deverá ser de

- (A) 32 m.
(B) 26 m.
(C) 28 m.
(D) 30 m.
(E) 34 m.
18. Em uma casa comercial são vendidos o tipo I e o tipo II de certo produto. Independentemente do tipo, se o número total de unidades compradas desses produtos for maior ou igual a 200, o preço unitário do produto tipo I tem R\$ 1,00 de desconto e o preço unitário do produto tipo II tem R\$ 2,00 de desconto. Um cliente comprou 80 unidades do tipo I e 30 unidades do tipo II, do referido produto, pagando o total de R\$ 3.020,00, enquanto que outro cliente comprou 120 unidades do tipo I e 82 unidades do tipo II do produto, pagando o total de R\$ 5.504,00. O preço unitário do tipo II desse produto, sem o desconto, é igual a

- (A) R\$ 40,00.
(B) R\$ 36,00.
(C) R\$ 34,00.
(D) R\$ 32,00.
(E) R\$ 42,00.

19. O gráfico apresenta as quantidades de unidades de um produto A e de um produto B, que foram vendidas em um comércio, no segundo semestre de 2023:



Em determinado mês, o acumulado de unidades vendidas do produto A, naquele semestre, igualou-se ao acumulado de unidades vendidas do produto B. O acumulado de unidades do produto B vendidas até o referido mês, correspondeu, do total de unidades vendidas do produto B no semestre, a

- (A) 65%
- (B) 60%
- (C) 55%
- (D) 50%
- (E) 45%
20. Considere a seguinte sequência de comandos que foi dada a uma pessoa que está localizada em um ponto A:

- I. Do ponto em que está, caminhe 2 metros, em linha reta, e pare.
- II. No ponto em que parou, gire 45° para esquerda.
- III. Repita os comandos I e II até retornar ao ponto inicial A.

Ao concluir a sequência de comandos anterior, a forma geométrica do trajeto feito pela pessoa corresponderá a um

- (A) hexágono (forma com 6 lados).
- (B) heptágono (forma com 7 lados).
- (C) quadrilátero (forma com 4 lados).
- (D) octógono (forma com 8 lados).
- (E) pentágono (forma com 5 lados).

NOÇÕES DE INFORMÁTICA

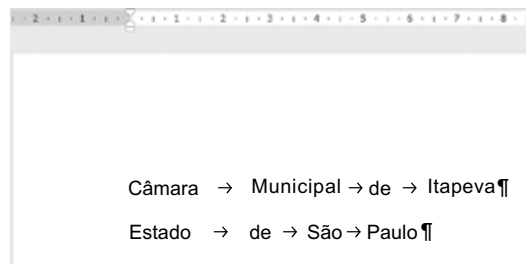
21. Tem-se a seguinte estrutura de pastas do Microsoft Windows 10, exibida no Explorador de Arquivos, ambos em sua configuração padrão, em dois momentos, ANTES e DEPOIS.

ANTES	DEPOIS
<ul style="list-style-type: none"> ∨ Temp ∨ 2024_01 <ul style="list-style-type: none"> Eventos 	<ul style="list-style-type: none"> ∨ Temp ∨ Eventos <ul style="list-style-type: none"> 2024_01

Assinale a alternativa que indica o(s) passo(s) que deve(m) ser executado(s) para transformar a estrutura do momento ANTES para o momento DEPOIS.

- (A) Mover a pasta Eventos para dentro da pasta 2024_01, apenas.
- (B) Mover a pasta Eventos para dentro da pasta Temp e depois mover a pasta 2024_01 para dentro da pasta Eventos.
- (C) Mover a pasta 2024_01 para dentro da pasta Eventos, apenas.
- (D) Mover a pasta Eventos para dentro da pasta Temp, apenas.
- (E) Mover a pasta 2024_01 para dentro da pasta Temp e depois mover a pasta Eventos para dentro da 2024_01.

22. Tem-se o seguinte texto, editado no Microsoft Word 2016, em sua configuração original, com as marcas de parágrafo ativadas.



Um usuário abriu a janela Localizar e substituir e digitou um caractere de espaço em branco (" ") no campo "Localizar:" e depois digitou dois pontos (":") no campo "Substituir por:", e finalmente clicou em Substituir Tudo.

Assinale a alternativa com o resultado da operação, sem as marcas de parágrafo ativadas.

- (A) Câmara:Municipal:de:Itapeva:Estado:de:São:Paulo
- (B) Câmara:Municipal:de:Itapeva Estado:de:São:Paulo
- (C) Câmara:Municipal:de:Itapeva Estado de São Paulo
- (D) Câmara:Municipal:de:Itapeva Estado:de:São:Paulo
- (E) Câmara Municipal de Itapeva Estado de São Paulo

23. Tem-se a seguinte planilha criada no Microsoft Excel 2016, em sua configuração original.

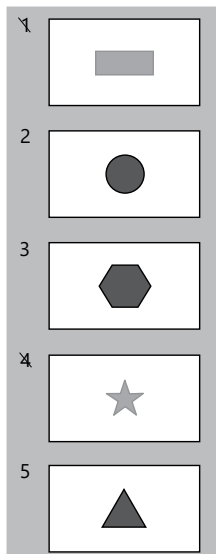
	A	B	C
1	1	0	
2	0	1	
3	1	1	
4	0	0	
5	0	-1	

Um usuário inseriu na célula C1 a função =SEERRO(A1/B1;1), e depois clicou com o botão principal do mouse na alça de preenchimento da célula C1 e, sem soltar o botão do mouse, arrastou até a célula C5, quando, finalmente, soltou o botão principal do mouse.

Assinale a alternativa com o conteúdo, respectivamente, das células C1, C2, C3, C4 e C5.

- (A) 1, 0, 1, 1, 0
- (B) 1, 1, 1, 1, -1
- (C) 0, 1, 0, 0, 1
- (D) 0, 0, 1, 1, 0
- (E) 1, 1, 0, 0, 1

24. Tem-se a seguinte imagem com as miniaturas de slides de uma apresentação criada no Microsoft PowerPoint 2016, em sua configuração padrão.



Ao iniciar o Modo de Apresentação pressionando F5, e depois pressionando ENTER para avançar até o final da apresentação, assinale a alternativa que indica quais slides serão exibidos.

- (A) 5, apenas.
(B) 1, 2, 3, 4, 5.
(C) 2, 3, 5, apenas.
(D) 2, 3, 4, 5, apenas.
(E) 1, 2, 3, apenas.
25. Marcelo preparou uma mensagem de correio eletrônico, inserindo Julia no campo Para, Angela no campo Cc e Pedro no campo Cco. Considerando que todos os usuários utilizam o Microsoft Outlook 2016, em sua configuração padrão, e que a mensagem foi enviada e recebida com sucesso, quando _____ clicar no botão Responder a todos, o Outlook irá preparar uma mensagem automática contendo _____ nos campos de destinatários.
- (A) Pedro ... Angela e Julia, apenas.
(B) Angela ... Marcelo e Julia, apenas.
(C) Angela ... Marcelo, Julia e Pedro.
(D) Pedro ... Marcelo, apenas.
(E) Julia ... Marcelo, Angela e Pedro.

CONHECIMENTOS ESPECÍFICOS

26. De acordo com a Lei nº 6.404/76 e atualizações, a reserva legal não poderá ultrapassar o capital social em:

- (A) 10%
(B) 25%
(C) 20%
(D) 5%
(E) 15%

27. Em 31 de dezembro de 2022, verificou-se que a empresa Alpha mantinha em seu ativo um investimento relevante de 90% no capital da empresa Beta, cujo valor do patrimônio líquido naquela data era de R\$ 2.129.625,00, distribuídos da seguinte forma:

- Capital: R\$ 750.000
- Reservas de capital: R\$ 1.125.000
- Reserva de lucro a distribuir: R\$ 491.250

Em 31 de dezembro de 2023, a Empresa Beta apresentou um lucro líquido, após todas as participações de R\$ 900.000. Com isso, realizou um pagamento de dividendos ainda no exercício de 2023, na ordem de 25% sobre lucro líquido apresentado.

Com base nessas informações, assinale a alternativa com o valor, em Reais, do investimento da Empresa Alpha na Empresa Beta, em 31 de dezembro de 2023.

- (A) 2.129.625
(B) 2.534.625
(C) 2.029.520
(D) 2.737.125
(E) 2.939.625

28. Se um ativo intangível adquirido em uma combinação de negócios for separável ou resultar de direitos contratuais ou outros direitos legais, considera-se que o seu _____ pode ser mensurado com confiabilidade.

Assinale a alternativa cuja palavra/expressão completa a lacuna do texto.

- (A) valor justo
(B) valor em uso
(C) preço de mercado
(D) custo
(E) valor corrente

29. Assinale a alternativa que indica o valor do lucro antes do imposto de renda e da contribuição social sobre o lucro líquido, da empresa, Cálculo Certo Ltda, utilizando as informações a seguir:

- Data base do balanço: 31/12/2023
- Total das vendas líquidas do ano: R\$ 33.750.000
- Impostos sobre vendas foram de: 17% sobre as vendas brutas
- Margem Bruta apresentada no exercício: 55%
- Despesas comerciais: R\$ 3.802.500
- Despesas Administrativas: R\$ 4.320.000
- Receitas financeiras: R\$ 405.000
- Despesas financeiras: R\$ 1.012.500
- Outras despesas operacionais: R\$ 108.000
- A taxa efetiva do IR e CSLL foi de 34%

- (A) 6.418.170
- (B) 8.546.250
- (C) 7.749.500
- (D) 9.125.360
- (E) 9.724.500

Utilize as informações a seguir para responder às questões de números **30** e **31**.

Uma indústria enquadrada no Lucro Real necessita calcular o imposto de renda e a contribuição social, hipoteticamente, para o primeiro trimestre de 2024. Para tanto, foram disponibilizadas as seguintes informações extraídas da contabilidade:

- Lucro antes do IR e CSL no trimestre:
 - o Janeiro – R\$ 400.000
 - o Fevereiro – R\$ 600.000
 - o Março – R\$ 850.000
- Foi apresentado o lado B do LALUR com as seguintes informações adicionais:
 - o Adições temporárias: R\$ 268.000
 - o Adições permanentes: R\$ 70.000
 - o Exclusões permanentes – R\$ 120.000
 - o Exclusões temporárias – R\$ 56.000

A empresa apresenta prejuízos fiscais e bases negativas de contribuição social de exercícios anteriores, que não possuem prazo prescricional e cuja compensação está limitada a 30% dos lucros anuais tributáveis. O valor base dos prejuízos fiscais acumulados, bem como a base negativa da contribuição social é de R\$ 900.000.

30. Assinale a alternativa que indica o valor do imposto de renda e do adicional do imposto de renda, em Reais.

- (A) 352.100
- (B) 346.100
- (C) 211.260
- (D) 462.500
- (E) 503.000

Utilize as informações a seguir para responder às questões de números **30** e **31**.

Uma indústria enquadrada no Lucro Real necessita calcular o imposto de renda e a contribuição social, hipoteticamente, para o primeiro trimestre de 2024. Para tanto, foram disponibilizadas as seguintes informações extraídas da contabilidade:

- Lucro antes do IR e CSL no trimestre:
 - o Janeiro – R\$ 400.000
 - o Fevereiro – R\$ 600.000
 - o Março – R\$ 850.000
- Foi apresentado o lado B do LALUR com as seguintes informações adicionais:
 - o Adições temporárias: R\$ 268.000
 - o Adições permanentes: R\$ 70.000
 - o Exclusões permanentes – R\$ 120.000
 - o Exclusões temporárias – R\$ 56.000

A empresa apresenta prejuízos fiscais e bases negativas de contribuição social de exercícios anteriores, que não possuem prazo prescricional e cuja compensação está limitada a 30% dos lucros anuais tributáveis. O valor base dos prejuízos fiscais acumulados, bem como a base negativa da contribuição social é de R\$ 900.000.

31. O valor da contribuição social sobre o lucro líquido, em Reais, é de:

- (A) 181.080
- (B) 166.500
- (C) 197.060
- (D) 126.756
- (E) 194.600

32. Tendo em vista uma empresa que está enquadrada no sistema não cumulativo, que faturou no mês de dezembro de 2023 um montante de R\$ 1.850.000,00 e teve insumos adquiridos da ordem de R\$ 400.000,00, qual o valor, em Reais, hipotético, do PIS e CONFIS a recolher, referente ao mês de dezembro.

- (A) 178.125
- (B) 94.355
- (C) 134.125
- (D) 171.125
- (E) 48.956

33. Assinale a alternativa que contenha o valor do ponto de equilíbrio contábil de um determinado produto:

Sabe-se desse produto que:

- o preço líquido unitário de venda é de R\$ 950,00
- os custos e despesas variáveis somam R\$ 750,00
- os custos e despesas fixas somam R\$ 250.000,00

Assinale a alternativa que indica corretamente a quantidade desse produto que a empresa deverá produzir para se obter o seu ponto de equilíbrio.

- (A) 1250
(B) 1500
(C) 1630
(D) 1150
(E) 1350

34. Com base nas informações fornecidas pela empresa Margem Bruta Ltda, calcule o valor do Custo dos Produtos Vendidos (CPV), em reais, tendo em vista que a empresa utilizou o método de custeio por absorção para valorização de seus estoques de produtos acabados, considerando o período hipotético de 12 meses, finalizado em 31/12/2023.

Operações ocorridas	2023 Em reais
Receita Líquida de Vendas	640.000,00
Aquisição de Matérias Primas	132.000,00
Frete sobre Aquisição de Matéria Prima	960,00
Gastos Incorridos com Mão de Obra Direta	100.000,00
Gastos Incorridos com Mão de Obra Indireta	52.000,00
Depreciação de Equipamentos Produtivos	42.400,00
Gastos Gerais de Fabricação (GGF)	40.080,00
Despesas com:	
Comercial - Salários	56.000,00
Comercial - Fretes sobre Vendas	3.800,00
Comercial - Diversos	23.000,00
Administrativo - Salários	17.400,00
Administrativo Diversos	50.000,00

Tendo em vista que a empresa deverá calcular o custo dos produtos vendidos, as seguintes informações adicionais foram prestadas:

Saldos dos estoques	01/01/2023 Em reais	31/12/2023 Em reais
Estoques de Matérias Primas (MP)	82.400,00	109.200,00
Produtos em Processo (PP)	67.200,00	57.600,00
Produtos Acabados (PA)	182.400,00	167.200,00

O valor do CPV em 31/12/2023, em reais, foi de:

- (A) 234.480,00
(B) 106.160,00
(C) 350.240,00
(D) 360.230,00
(E) 365.440,00

35. Considere as informações prestadas pela área de custos de uma empresa de varejo, relativos ao período hipotético encerrado em 31/12/2023:

Movimentação no período	Reais
Compra de Mercadorias para Revenda	1.350.000,00
Custo de Mercadorias Vendidas	1.218.000,00
Devolução de Compras	180.000,00
Duplicatas Descontadas	180.000,00
Fornecedores no Período	238.000,00
Estoque Inicial	987.000,00
Fretes sobre Compras	52.000,00
Impostos sobre Vendas	100.000,00
Venda de Mercadorias	3.800.000,00
Caixa e Equivalentes de Caixa	175.000,00
Despesas de Vendas	365.000,00
Impostos a Recuperar sobre Compras	15% sobre as compras

Com base nessas informações, calcule o valor dos estoques de revenda e assinale a alternativa que contenha o valor, em reais, dos estoques finais em 31/12/2023.

- (A) 887.800,00
(B) 893.700,00
(C) 788.500,00
(D) 647.300,00
(E) 789.300,00

Com base nas informações a seguir, responda às questões de números 36 e 37.

Uma empresa que fabrica determinada e única peça para manutenção automotiva mantém a seguinte estrutura de custos fixos para a fabricação da peça:

Novembro	
Mão de Obra Direta	650.000,00
Materiais Diretos	600.000,00
Aluguel da Fábrica	128.500,00
Demais Custos Fixos	150.000,00

36. Sabendo-se que, no mês de novembro de 2023, foram produzidas 780 unidades das peças, assinale a alternativa que indica, corretamente, o custo unitário variável para a produção da referida peça nesse mês.

- (A) R\$ 1.695,00
(B) R\$ 1.602,56
(C) R\$ 1.555,20
(D) R\$ 1.725,35
(E) R\$ 1.875,70

37. Assinale a alternativa que contenha o valor unitário das peças, no mês de dezembro de 2023, tendo em vista que a empresa produziu 980 peças e considerando que houve um aumento de 10% no aluguel da fábrica.
- (A) R\$ 1.355,13
 - (B) R\$ 804,50
 - (C) R\$ 955,35
 - (D) R\$ 1.104,80
 - (E) R\$ 1.265,30
38. Dentro dos conceitos sobre custos, a diferença entre o preço praticado por uma empresa para um determinado produto e o custo variável incorrido é denominado de:
- (A) Margem de Contribuição.
 - (B) Contribuição Marginal.
 - (C) Relação Custo x Volume x Lucro.
 - (D) Margem Líquida.
 - (E) Lucro Bruto.
39. Procedimento analítico significa avaliações de informações contábeis por meio de análise das relações plausíveis entre dados financeiros e não financeiros.
- Assinale a alternativa que apresenta um exemplo de procedimento analítico de auditoria.
- (A) Análise das composições e conciliações de contas contábeis.
 - (B) Acompanhamento das contagens físicas de estoques para confirmação da posição física do ativo.
 - (C) Análise de documentação suporte e hábil para as transações relacionadas ao resultado do exercício (testes de *voucher*).
 - (D) Análise de resultados previstos pela entidade, tais como orçamentos ou previsões, ou expectativas do auditor, como uma estimativa de depreciação.
 - (E) Pedido de confirmações externas independentes (circularização).
40. A documentação de auditoria é a evidência da base do auditor para uma conclusão quanto ao cumprimento do objetivo global do auditor, bem como de que a auditoria foi planejada e executada em conformidade com as normas de auditoria e exigências legais e regulamentares aplicáveis. Portanto, sua guarda é um processo fundamental para a documentação de auditoria. Nesse caso, de acordo com as normas da profissão, o período de retenção dos papéis de trabalho, a contar da data do relatório do auditor, geralmente,
- (A) necessariamente será por período superior a dez anos.
 - (B) será de dez anos.
 - (C) seguirá a legislação fiscal.
 - (D) será superior a seis anos, porém limitado a dez anos.
 - (E) não será inferior a cinco anos.
41. No que tange à amostragem estatística, o conjunto completo de dados sobre o qual a amostra é selecionada e sobre o qual o auditor deseja concluir, é denominado:
- (A) base amostral.
 - (B) população.
 - (C) unidade da amostragem.
 - (D) base de extratificação.
 - (E) massa.
42. Um auditor identificou um problema contábil que, na avaliação do sócio do trabalho, não foi possível obter evidência de auditoria apropriada e suficiente nas circunstâncias, ao mesmo tempo que foi considerado relevante, mas não generalizado. Diante dessa situação, o sócio concluiu que emitira um relatório com
- (A) opinião adversa.
 - (B) menção ao ponto, mas com concordância dos responsáveis pela governança.
 - (C) parágrafo de ênfase.
 - (D) ressalva.
 - (E) abstenção de opinião.
43. Confrontar ou conciliar as informações nas demonstrações contábeis com os registros contábeis que as suportam, incluindo confrontar ou conciliar as informações nas divulgações, independentemente de essas informações terem sido obtidas dentro ou fora do razão geral e dos razões auxiliares, trata-se de
- (A) procedimento substantivo de auditoria.
 - (B) finalização dos procedimentos de fechamento dos trabalhos.
 - (C) análise preliminar do planejamento de auditoria.
 - (D) revisão mais abrangente em termos de procedimentos analíticos.
 - (E) procedimento de eventos subsequentes.
44. Em consonância com as normas brasileiras de contabilidade aplicadas à auditoria, o trabalho no qual o auditor independente visa obter evidências apropriadas e suficientes para expressar sua conclusão, de forma a aumentar o grau de confiança dos usuários previstos sobre o resultado da mensuração ou avaliação do objeto, de acordo com os critérios que sejam aplicáveis, é denominado:
- (A) assegução.
 - (B) procedimentos previamente acordados.
 - (C) revisão limitada.
 - (D) revisão de controles internos.
 - (E) exame do balanço.

45. A receita corrente líquida mínima que um município precisa obter para que o Poder Executivo municipal tenha despesa de pessoal no valor de R\$ 5.000.000,00 é, em R\$, de aproximadamente:

- (A) 8.333.333,34
- (B) 138.888.889,00
- (C) 15.432.098,80
- (D) 18.518.518,50
- (E) 13.888.888,90

46. O ato que provoca aumento da despesa com pessoal deve observar, segundo a Lei de Responsabilidade Fiscal:

- (A) a existência de Portaria aprovando alteração, reajuste e reestruturação de carreiras do setor público, ou a edição de ato, por esses agentes, para nomeação de aprovados em edital de chamamento interno do órgão.
- (B) a estimativa do impacto orçamentário-financeiro no exercício em que deva entrar em vigor e nos dois subsequentes.
- (C) a obrigatoriedade de existirem parcelas a serem implementadas em períodos posteriores ao final do mandato do titular do Poder ou do órgão.
- (D) o limite legal de comprometimento aplicado às despesas com pessoal inativo e terceirizado.
- (E) o prazo limite de 360 dias do mandato do titular do Poder ou do órgão que deseja aumentar a despesa.

47. Segundo a Lei nº 14.133 de 2021, o processo licitatório tem por objetivos, entre outros:

- (A) evitar contratações com sobrepreço ou com preços manifestamente inexequíveis e subfaturamento na execução dos contratos.
- (B) assegurar tratamento diferenciado entre os licitantes mais bem preparados para atender as demandas da Administração Pública e, conseqüentemente, a justa competição.
- (C) incentivar a inovação e o desenvolvimento nacional do trabalho, emprego e renda.
- (D) assegurar a seleção da proposta apta a gerar o resultado de contratação mais vantajoso para a Administração Pública, inclusive no que se refere ao ciclo de vida do objeto.
- (E) garantir a participação de microempreendedores e empresas individuais, de forma melhorar a distribuição de renda no país.

48. A classificação por natureza de receita possui o seguinte código: a.b.c.d.ee.f.g. Pode-se afirmar que a letra "b" do código indica:

- (A) espécie.
- (B) desdobramentos gerenciais do orçamento.
- (C) origem.
- (D) variação patrimonial aumentativa.
- (E) categoria econômica.

49. Leia o texto a seguir.

O _____ consolidado do setor público proporciona uma indicação da proporção com que o governo vem financiando suas atividades correntes por meio da tributação e outras cobranças.

Adicionalmente, também auxilia ao demonstrar a condição da entidade de manter sua capacidade operacional, amortizar empréstimos, pagar dividendos ou distribuições similares e fazer novos investimentos sem recorrer a fontes externas de financiamento.

Assinale a alternativa que completa corretamente a lacuna do texto.

- (A) montante dos fluxos de caixa de investimento
- (B) montante das receitas correntes
- (C) montante dos fluxos de caixa de financiamento
- (D) montante da arrecadação orçamentária
- (E) montante dos fluxos de caixa operacionais

50. Um ente municipal hipotético apresentou as seguintes informações, retiradas da sua demonstração de variações patrimoniais, e seus respectivos saldos em 31/12/2023:

Conta	Saldo (em milhares de R\$)
Custos dos Serviços Prestados	2.500.000,00
Desvalorização e Perdas de Ativos	7.000,00
Exploração e Venda de Bens, Serviços e Direitos	89.000,00
Impostos, Taxas e Contribuições de Melhoria	8.000.000,00
Pessoal e Encargos	2.800.000,00
Transferências Concedidas	10.000,00
Transferências Recebidas	90.000,00
Variações Patrimoniais Aumentativas Financeiras	134.000,00
Variações Patrimoniais Diminutivas Financeiras	67.000,00
Variações Patrimoniais Diminutivas	1.200.000,00

Considerando as informações apresentadas, é correto afirmar que o Resultado Patrimonial do Período, em R\$, totalizou:

- (A) 8.313.000,00
- (B) 6.584.000,00
- (C) 14.897.000,00
- (D) 1.729.000,00
- (E) 1.640.000,00

