



CONCURSO PARA PROVIMENTO DE CARGOS DA PREFEITURA MUNICIPAL DE CARLOS CHAGAS

NÍVEL MÉDIO

Códigos: 200 a 205

ABRA APENAS QUANDO AUTORIZADO.

Leia com atenção as seguintes instruções:

- Este caderno contém as **35 questões** da Prova Objetiva, composta por: 10 questões de Língua Portuguesa, 8 questões de Matemática, 10 questões de Conhecimentos Gerais e 7 questões de Informática.
Caso haja algum problema em seu caderno de provas, informe ao aplicador.
- As informações / instruções dadas no dia da prova complementam o edital.
- Durante as provas, não é permitido o uso de dispositivos eletrônicos de qualquer tipo e celulares, assim como relógios e materiais de consulta.
- Será permitido ao candidato levar o rascunho contendo somente as marcações das respostas da Prova Objetiva. Use a Folha de Respostas (rascunho – versão do candidato) reproduzida no final do Caderno de Provas apenas para marcar seu Gabarito. Esse rascunho deverá ser destacado pelo aplicador.
- Na Folha de Respostas:**
 - Confira seu nome, número de inscrição e cargo.
 - Assine, A TINTA, no espaço próprio indicado.
 - Transcreva a seguinte frase, com sua caligrafia usual, mantendo as letras maiúsculas e minúsculas, desconsiderando aspas e autoria:

“Escolher o seu tempo é ganhar tempo.”

Francis Bacon
- A Folha de Respostas deve ser assinada e não deve ser dobrada, amassada ou rasurada.
- Sua resposta **NÃO** será computada se houver marcação de mais de uma alternativa, questões não assinaladas ou rasuradas.
- Ao transferir as respostas para a Folha de Respostas:
 - Use somente caneta AZUL ou PRETA, preenchendo toda a área reservada à letra correspondente à resposta solicitada em cada questão, conforme o modelo:

01 A B C D
 - Assinale somente uma alternativa em cada questão e não deixe nenhuma questão sem resposta.
- Sua prova e Folha de Respostas poderão ser entregues somente após o término do período de sigilo: 2 horas.
- Não é permitido levar o caderno de prova. Ao entregar sua prova, recolha seus objetos, deixe a sala de provas e, em seguida, o prédio. Até deixar as dependências do local de prova, continuam válidas as proibições do uso de aparelhos eletrônicos e celulares, bem como não lhe é mais permitido o uso dos sanitários.
- Os três últimos candidatos deverão permanecer na sala até que o último candidato termine sua Prova, devendo todos assinar a Ata de Sala, atestando a idoneidade da fiscalização das provas, retirando-se da sala de prova de uma só vez. Nas salas que por atendimento a condição especial para realização das provas tiver apenas um candidato, ao término da prova a Ata de sala será assinada pelo candidato, pelo aplicador e por um fiscal para atestar a idoneidade da fiscalização.
- O Caderno de Questões e o gabarito da Prova Objetiva serão divulgados no endereço eletrônico www.gestaodeconcursos.com.br, no 1º (primeiro) dia útil subsequente à data de realização da Prova.

DURAÇÃO TOTAL DAS PROVAS, INCLUINDO TRANSCRIÇÃO DAS RESPOSTAS PARA A FOLHA DE RESPOSTAS E A ASSINATURA:

TRÊS HORAS

Escreva seu nome completo de forma legível.

NOME: _____

INSTRUÇÃO: Leia o texto I para responder às questões de 1 a 10.

TEXTO I

A roda da escravidão da felicidade virtual



Na era digital, as redes sociais tornaram-se o palco onde muitos de nós encenam nossas vidas, dançando ao ritmo das curtidas e validações virtuais. Contudo, por trás da fachada de felicidade e sucesso, a roda da escravidão moderna está em pleno movimento, aprisionando muitos em uma busca incessante por uma validação que muitas vezes é ilusória.

Ao explorar as vidas aparentemente perfeitas que permeiam nossos feeds, é fácil cair na armadilha da comparação. A tirania dos valores “exibidos” nas redes sociais impõe padrões inatingíveis, criando uma ilusão de felicidade que obscurece a realidade complexa e multifacetada da experiência humana.

A busca incessante pela validação virtual cria uma dinâmica paradoxal. A roda da escravidão digital gira, e indivíduos se encontram cada vez mais distantes de suas próprias verdades, submersos na ilusão de que a aceitação on-line equivale à validação pessoal. O preço pago por essa busca desenfreada é a perda da percepção de individualidade; à medida que nos moldamos para atender a padrões externos, muitas vezes em detrimento de nossa autenticidade, perdemos nossa verdadeira essência.

A sociedade contemporânea – marcada pela constante exposição nas redes sociais – propaga essa narrativa de sucesso e felicidade que muitas vezes é desconectada da realidade. A pressão para “parecer feliz, parecer bem-sucedido” alimenta essa roda da ilusão, levando à exaustão emocional e à deterioração da saúde mental.

A reinvenção necessária não reside na perpetuação dessa farsa digital, mas na redescoberta da verdadeira autenticidade. É hora de desconectar-se da tirania da validação virtual e reconectar-se consigo mesmo. Ao invés de se perder nas imagens retocadas e narrativas cuidadosamente construídas, busque a essência de sua própria jornada.

Reverter esse ciclo demanda consciência, aceitação, ações conscientes para cultivar uma presença digital que reflita a verdadeira complexidade e autenticidade da experiência humana, promovendo a valorização do indivíduo para além das métricas virtuais.

Para se libertar, é necessário buscar o autoconhecimento. Ao explorar as dinâmicas familiares, sociais e culturais que moldam nossas crenças e comportamentos, é possível desatar as correntes invisíveis desta roda da escravidão digital. Através do autodesenvolvimento, é possível reconectar-se consigo mesmo.

Nas palavras de Carl Jung, “quem olha para fora sonha, quem olha para dentro acorda”. A jornada interior nos desperta para a verdadeira essência, permitindo-nos desafiar padrões prejudiciais e construir uma narrativa pessoal mais autêntica, tornando-nos livres e felizes.

ARAGÃO, Alessandra. A roda da escravidão da felicidade virtual. **Estado de Minas**, 21 dez. 2023 (adaptado).

QUESTÃO 1

Sobre o texto I, analise as afirmativas a seguir.

- I. Os elementos verbais tornam possível o que se deseja comunicar; caso a imagem que encabeça o texto fosse dispensada, seu sentido e objetivo não seriam prejudicados.
- II. A intertextualidade explícita se faz presente no último parágrafo pela reprodução parcial do texto fonte, com a transcrição exata do que foi dito, seguida de identificação.
- III. O termo destacado em “A busca incessante pela validação virtual cria uma dinâmica **paradoxal**”, considerando o contexto apresentado, sugere uma situação contraditória.

Está(ão) correta(s) a(s) afirmativa(s)

- A) I, apenas.
- B) II, apenas.
- C) I e III, apenas.
- D) II e III, apenas.

QUESTÃO 2

Em relação ao gênero, o texto I, “A roda da escravidão da felicidade virtual”, é um artigo de opinião porque

- A) utiliza expressões pessoais e subjetivas de caráter humorístico, com marcação espaço-temporal e emprego de argumentos lógicos, objetivos.
- B) exemplifica um registro de conteúdo educativo em linguagem descontraída e clara, cujos diálogos se assemelham a conversas espontâneas.
- C) possui caráter argumentativo, seu principal recurso retórico, cuja função é comunicar um fato socialmente relevante em forma de crítica analítica.
- D) constitui uma narrativa de caráter descritivo, escrita em linguagem coloquial, centrada em conflitos cotidianos, com ausência de posicionamento da autora.

QUESTÃO 3

Na Língua Portuguesa, as palavras podem apresentar significados diferentes, dependendo de como estão dispostas dentro da frase e do contexto. Na frase do texto I “[...] perdemos nossa verdadeira **essência**”, a palavra em destaque refere-se à própria existência, a tudo que constitui a natureza de um ser. No entanto, em outros contextos, por exemplo, pode ser empregada no sentido de “perfume”, “cheiro”, “fragrância”.

A esse fato linguístico dá-se o nome de

- A) sinonímia.
- B) antonímia.
- C) denotação.
- D) polissemia.

QUESTÃO 4

As setas presentes na figura ilustrativa do texto I correspondem a qual expressão?

- A) “imagens retocadas”.
- B) “reinvenção necessária”.
- C) “roda da escravidão digital”.
- D) “crenças e comportamentos”.

QUESTÃO 5

Releia o trecho do texto I a seguir.

“A sociedade contemporânea – marcada pela constante exposição nas redes sociais – propaga essa narrativa de sucesso e felicidade que, muitas vezes, é desconectada da realidade. A pressão para “parecer feliz, parecer bem-sucedido” alimenta essa roda da ilusão, levando à exaustão emocional e à deterioração da saúde mental.”

Acerca dos sinais de pontuação nesse trecho, analise as afirmativas a seguir.

- I. Os travessões, se substituídos por vírgulas, prejudicam o sentido pretendido.
- II. As aspas em “parecer feliz, parecer bem-sucedido” sugerem breve hesitação.
- III. As vírgulas em “muitas vezes”, caso retiradas, mantêm a continuidade da frase.

Está(ão) correta(s) a(s) afirmativa(s)

- A) II, apenas.
- B) III, apenas.
- C) I e II, apenas.
- D) I e III, apenas.

QUESTÃO 6

Sobre os aspectos gramaticais presentes no texto I, assinale com V as afirmativas verdadeiras e com F as falsas.

- () Em “Ao explorar as dinâmicas familiares, sociais e culturais [...]”, as convenções da norma-padrão da língua portuguesa exigem o emprego da crase em “às dinâmicas”.
- () No trecho “Para se libertar, é necessário buscar o autoconhecimento.”, é indiferente, ou seja, facultativa a colocação do pronome antes ou depois do verbo.
- () Na frase “[...] perpetuação **dessa farsa digital** [...]”, a expressão destacada complementa o sentido do substantivo a que se refere, indicando uma relação de regência nominal.

Assinale a sequência correta.

- A) V F F
- B) F F V
- C) V V F
- D) F V V

QUESTÃO 7

INSTRUÇÃO: Releia, a seguir, o trecho do texto I e o texto II para responder à questão 7.

TRECHO DO TEXTO I

“Ao invés de se perder nas imagens retocadas e narrativas cuidadosamente construídas, busque a essência de sua própria jornada.”

TEXTO II



Disponível em: <https://digofreitas.com/hq/outros-63-voce/>. Acesso em: 25 jan. 2024.

Tanto no trecho do texto I quanto no texto II, identifica-se a função conativa ou apelativa da linguagem, especificamente pelo(a)

- A) poder evocativo e carga semântica denotativa.
- B) emprego de certos verbos no modo imperativo.
- C) abordagem de acontecimentos fictícios aleatórios.
- D) exposição de subjetividades por meio de opiniões.

QUESTÃO 8

Releia o trecho do texto I a seguir.

“[...] para cultivar uma presença digital que reflita a verdadeira complexidade e autenticidade da experiência humana, promovendo a valorização do indivíduo para além das métricas virtuais.”

Sobre os aspectos fonéticos e ortográficos, analise as afirmativas a seguir.

- I. As palavras “indivíduo” e “métricas” são proparoxítonas, com acentuação tônica na antepenúltima sílaba.
- II. Os termos “uma”, “do” e “que” são monossílabos átonos proferidos de forma fraca e nunca são acentuados.
- III. Os substantivos “autenticidade” e “complexidade” foram escritos incorretamente devido a erros de digitação.

Está(ão) correta(s) a(s) afirmativa(s)

- A) I, apenas.
- B) III, apenas.
- C) I e II, apenas.
- D) II e III, apenas.

QUESTÃO 9

INSTRUÇÃO: Releia, a seguir, o trecho do texto I e o texto III para responder à questão 9.

TRECHO DO TEXTO I

“Ao explorar as vidas aparentemente perfeitas **que** permeiam nossos feeds, é fácil cair na armadilha da comparação. A tirania dos valores “exibidos” nas redes sociais impõe padrões inatingíveis, criando uma ilusão de felicidade **que** obscurece a realidade complexa e multifacetada da experiência humana.”

TEXTO III



Disponível em: <https://www.facebook.com/oficialbellafalconi/photos/a.327611534043057/1403343673136499/?type=3>. Acesso em: 25 jan. 2024.

Sobre os aspectos gramaticais e linguísticos, assinale com V as afirmativas verdadeiras e com F as falsas.

- () Considerando as variações linguísticas, a denominada variação situacional se faz presente no texto III e constitui um recurso de persuasão empregado cujo objetivo é aproximar o emissor do receptor.
- () Considerando sua classificação morfológica, o termo “perfeitas”, no contexto apresentado em cada um dos dois textos, indica uma característica do substantivo a que esse termo se refere, respectivamente.
- () Considerando a classe gramatical, os conectores destacados no trecho do texto I são conjunções, assim como em “**que** eu construí pra mim”, no texto III.

Assinale a sequência correta.

- A) V F F
- B) F V V
- C) V V F
- D) F F V

QUESTÃO 10

Releia o trecho do texto I a seguir.

“O preço pago por essa busca desenfreada é a perda da percepção de individualidade; à medida que nos moldamos para atender a padrões externos, muitas vezes, em detrimento de nossa autenticidade, perdemos nossa verdadeira essência.”

Com base na passagem transcrita do texto I, complete as lacunas sobre a análise sintática a seguir.

O período é composto por _____. A oração “muitas vezes em detrimento de nossa autenticidade, perdemos nossa verdadeira essência.” possui sujeito _____ e predicado _____. Em “para atender **a padrões externos**”, o termo destacado exerce a função de _____.

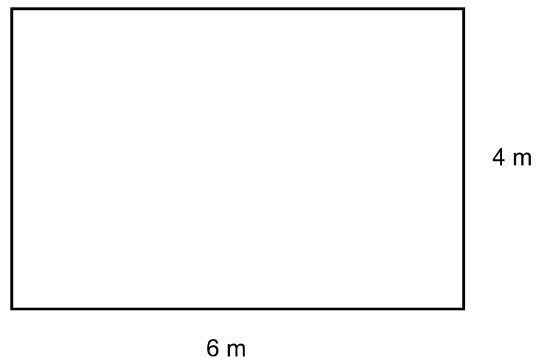
Assinale a sequência que preenche correta e respectivamente as lacunas do trecho.

- A) subordinação / desinencial / verbal / objeto indireto
- B) subordinação / oculto / verbo-nominal / adjunto adverbial
- C) coordenação / subentendido / nominal / complemento nominal
- D) coordenação e subordinação / indeterminado / verbal / predicativo

MATEMÁTICA

QUESTÃO 11

Carlos comprou um pequeno terreno e precisa cercá-lo. Para isso, ele utilizará uma cerca cujo custo é de R\$ 5,00 por metro. A figura a seguir apresenta a forma do terreno:



Quanto Carlos gastará para cercar seu terreno?

- A) R\$ 20,00.
- B) R\$ 50,00.
- C) R\$ 100,00.
- D) R\$ 120,00.

QUESTÃO 12

Uma universidade faz uso da política de ações afirmativas, reservando anualmente 20% de suas vagas para ingressantes autodeclarados pretos e pardos que optem pelo sistema de cotas. No último ano, o processo seletivo contava, ao todo, com 3 300 vagas para ingressantes.

Quantos candidatos autodeclarados pretos e pardos ingressaram na universidade por meio do sistema de cotas nesse ano, considerando o percentual de 20%?

- A) 200 candidatos.
- B) 660 candidatos.
- C) 1 500 candidatos
- D) 3 280 candidatos

QUESTÃO 13

Uma pessoa decide pintar uma das paredes de sua sala de estar de amarelo, a fim de trazer mais cor para o ambiente. A parede que será pintada é retangular, com dimensões de 2,5 m × 3,0 m, e, como a tinta é de uma cor forte, ela passará uma única demão.

Sendo assim, essa pessoa deverá pintar uma área de

- A) 1,5 m².
- B) 5,5 m².
- C) 7,5 m².
- D) 11,0 m².

QUESTÃO 14

A fim de padronizar o número de estudantes por sala nas escolas públicas de seu estado, um deputado elaborou um projeto de lei que previa que a área das salas de aula correspondesse a, no mínimo, 1,50 m² (um e meio metro quadrado) por aluno. Além disso, o projeto propunha que para as salas de aula do Ensino Médio o número máximo de alunos fosse de 35 estudantes por sala.

ALESP. Projeto de Lei nº 1037 /2003. Disponível em: <https://www.al.sp.gov.br/propositura/?id=201086>. Acesso em: 11 fev. 2024 (adaptado).

Nas condições propostas pelo projeto, as salas de Ensino Médio do estado deveriam ter uma área correspondente a, no mínimo,

- A) 23,3 m².
- B) 35,0 m².
- C) 43,8 m².
- D) 52,5 m².

QUESTÃO 15

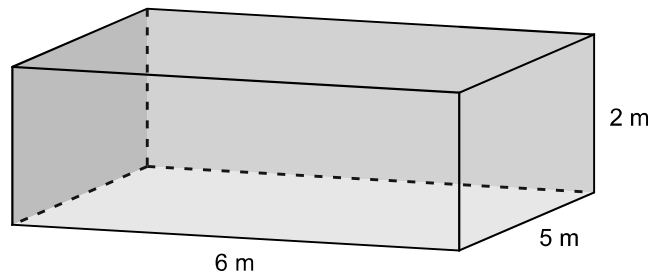
Ana queria trocar sua geladeira e, para isso, escolheu o modelo que desejava e passou a acompanhar a tendência dos preços, até que estivesse pronta para efetuar a compra. Em setembro do último ano, essa geladeira custava R\$ 5 400. No fim novembro, esse modelo entrou em oferta, apresentando um desconto de 10% em relação aos preços registrados em setembro.

Com o desconto, no fim de novembro, o preço dessa geladeira passou a ser de

- A) R\$ 4 860.
- B) R\$ 4 900.
- C) R\$ 5 346.
- D) R\$ 5 390.

QUESTÃO 16

Um fazendeiro armazena os grãos de suas plantações em containers. Cada container tem forma de bloco retangular, com dimensões 6 m × 5 m × 2 m.



Assim, a capacidade de cada container é de

- A) 13 m³.
- B) 26 m³.
- C) 30 m³.
- D) 60 m³.

QUESTÃO 17

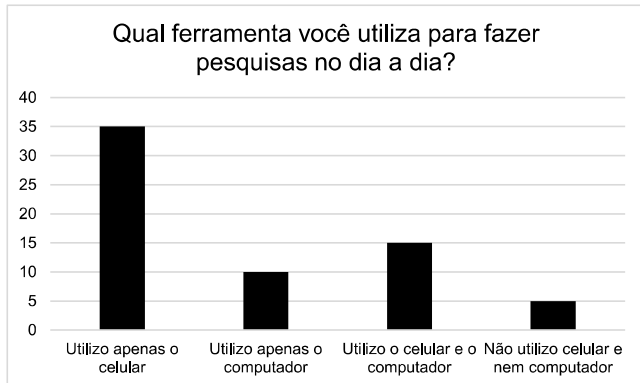
José tem o número 3 como seu número da sorte. Por essa razão, ao criar as senhas de atendimento da sua padaria, utilizou, sequencialmente, apenas números terminados em 3. Dessa forma, a primeira senha chamada é a de número 3, a segunda é a de número 13, a terceira é a de número 23, e assim por diante, até que se finde o dia e as senhas sejam renovadas. Camila, uma cliente da padaria, aguarda o atendimento na fila, e sua senha é a de número 153.

Nesse dia, quantas pessoas serão atendidas antes de Camila?

- A) 15.
- B) 16.
- C) 152.
- D) 153.

QUESTÃO 18

Uma pesquisa foi feita com 65 pessoas de diferentes idades, a fim de determinar qual ferramenta os entrevistados utilizavam para realizar pesquisas no dia a dia. As opções eram: celular, computador ou nenhum desses dois aparelhos. O gráfico a seguir apresenta as respostas obtidas.



Quantos entrevistados utilizam o celular como uma ferramenta de pesquisa?

- A) 15.
- B) 35.
- C) 50.
- D) 60.

CONHECIMENTOS GERAIS

QUESTÃO 19

O acesso a informações públicas é direito fundamental de todo cidadão, estabelecido pela Lei Federal 12.527, sancionada em 18 de novembro de 2011. Com a Lei, ficou instituído que, desde o dia 16 de maio de 2012, qualquer cidadão pode solicitar informações às administrações e empresas, órgãos e entidades do Governo. Para possibilitar à Prefeitura Municipal cumprir o que determina a legislação e viabilizar o acesso dos cidadãos às informações, dando mais transparência aos trâmites da administração pública, foi implantado o módulo e-SIC – Sistema Eletrônico de Serviço de Informações ao Cidadão – no site da administração.

Disponível em: <https://www.carloschagas.mg.gov.br/servico-de-informacao-ao-cidadao>. Acesso em: 02 jan. 2024.

O e-SIC é um sistema eletrônico que

- A) estimula a participação ativa dos cidadãos na administração municipal, indicando obras necessárias.
- B) favorece aos portadores de computadores o acesso a informações sigilosas do município.
- C) obriga a Prefeitura Municipal a divulgar com regularidade todos os seus gastos e despesas.
- D) permite a qualquer pessoa solicitar informações e acompanhar a tramitação do seu pedido.

QUESTÃO 20

O Rio Mucuri resulta da junção dos rios Mucuri do Norte e Mucuri do Sul, que têm suas nascentes, respectivamente, nas cidades

- A) Águas Formosas e Padre Paraíso.
- B) Itambacuri e Teófilo Otoni.
- C) Ladainha e Malacacheta.
- D) Mucuri e Nova Viçosa.

QUESTÃO 21

Em Carlos Chagas, os munícipes podem relatar as necessidades da cidade, fazer reclamação, solicitar informações, dar opiniões e fazer sugestões sobre qualquer assunto relacionado à cidade por meio do(a)

- A) Ouvidoria Municipal.
- B) Portal da Transparência.
- C) Procuradoria-Geral do Município.
- D) Secretaria de Governo.

QUESTÃO 22

A Câmara Municipal de Carlos Chagas reconheceu, pela Lei nº 2.132/2022, a cidade como a Capital do boi, do cavalo e do cooperativismo.

Esse reconhecimento indica que

- A) a produção artesanal com couro de boi, principalmente a selaria, garante a união da pecuária ao artesanato.
- B) o município possui o maior rebanho bovino, tanto para corte quanto para leite, de Minas Gerais.
- C) os criadores de gado do município são os maiores exportadores mineiros de sêmen bovino.
- D) uma das principais atividades econômicas da cidade é a bovinocultura e a pecuária de corte e leite.

QUESTÃO 23

Se algum de nós procurasse informações sobre a dengue nos livros ou na internet, muito provavelmente a encontraríamos classificada dentro do grupo conhecido como doenças tropicais e subtropicais. [...] Teríamos encontrado também recentemente notícias sobre a doença fora da América Latina: registros de novos casos autóctones (não importados) nos Estados Unidos, Itália ou França, assim como o surgimento dos primeiros [casos] durante anos na Espanha: nas regiões da Catalunha, Ibiza etc.

Disponível em: <https://www.bbc.com/portuguese/articles/crgj2de70r5o#:~:text=Mudan%C3%A7as%20o%20globaliza%C3%A7%C3%A3o,a%20prolifera%C3%A7%C3%A3o%20do%20Aedes%20aegypti>. Acesso em: 26 dez. 2023.

A ocorrência de casos de dengue em regiões da Europa e dos Estados Unidos da América encontram justificativas

- A) na mudança climática.
- B) nas migrações humanas.
- C) no empobrecimento dessas regiões.
- D) nos desmatamentos de florestas tropicais.

QUESTÃO 24

A Fanfarra Municipal Roque Augusto de Medeiros é patrimônio cultural do município de Carlos Chagas, e os músicos integrantes são

- A) funcionários da administração municipal.
- B) pagos com recursos privados deduzidos do imposto de renda de doadores.
- C) remunerados conforme leis de incentivo à cultura.
- D) voluntários e, por isso, não recebem pagamentos.

QUESTÃO 25

“Temos (como desafio nas eleições de 2024) as fake news. Estamos desenvolvendo ferramentas para que haja um processo eleitoral transparente, rigoroso, legítimo e fortalecido” [...]. “Os deputados e candidatos sabem, o rigor é o rigor da lei. Se não cumpre a legislação, tem as penalidades, a gente apura e julga. É só cumprir a legislação, fazer a coisa corretamente, cumprir os requisitos legais e nós não teremos nenhum tipo de desgaste com ninguém”, avisou o desembargador.

Disponível em: <https://www.em.com.br/politica/2024/01/6794665-presidente-do-tre-mg-afirma-que-justica-eleitoral-esta-atenta-as-fake-news.html>. Acesso em: 30 jan. 2024.

O rigor da lei que será aplicado ao processo eleitoral de 2024 indica que as fake news têm o poder de

- A) ameaçar a manutenção de sistemas democráticos.
- B) desafiar a existência de eleições municipais em 2024.
- C) formatar um processo eleitoral transparente e fortalecido.
- D) fraudar a apuração das eleições realizadas eletronicamente.

QUESTÃO 26

O número de novos registros de armas de fogo para defesa pessoal em 2023 foi o menor desde 2004, segundo a Polícia Federal. O Sistema Nacional de Armas contabilizou 20.822 novos cadastros, 82% a menos que em 2022 (114.044). [...] Em 21 de julho do ano passado, [...] um decreto [...] reduziu a quantidade de armas e munições que poderiam ser acessadas por civis para defesa pessoal. Até a edição do dispositivo, um civil podia comprar até quatro armas sem comprovar efetiva necessidade, além de 200 munições por arma a cada ano. O decreto reduziu a permissão para até duas armas, mediante a comprovação de efetiva necessidade, e 50 munições.

Disponível em: https://www.cartacapital.com.br/cartaexpressa/no-1o-ano-de-lula-registro-de-novas-armas-para-defesa-pessoal-e-o-menor-desde-2004/?utm_campaign=news_diaria_-_cartacapital_-_clean_-_0301&utm_medium=email&utm_source=RD+Station. Acesso em: 03 jan. 2024.

De acordo com o texto, o Sistema Nacional de Armas identificou

- A) a perda de importância da defesa pessoal durante o período registrado.
- B) a proibição aos civis de acessar armas de fogo, bem como munições.
- C) a insuficiência da quantidade de armas autorizadas para compra para defesa pessoal.
- D) a redução nos cadastros de armas de fogo resultante de uma ação de governo.

QUESTÃO 27

Os casos confirmados de dengue saíram de 11.490 no dia 22 para 23.389 ontem (29), e os prováveis, de 32.316 para 64.724. Embora essa enfermidade esteja na dianteira da escalada, a chikungunya segue também em ritmo acelerado, passando de 4.353 casos prováveis para 8.682, entre os boletins, enquanto os confirmados subiram de 3.067 para 6.206.

Disponível em: <https://encr.pw/B6vtu>. Acesso em: 30 jan. 2024.

Os números apresentados no trecho da reportagem do Jornal Estado de Minas sobre os casos de dengue e chikungunya em Minas Gerais indicam que

- A) a dengue atingiu o pico de casos, sugerindo estabilidade até o final do verão.
- B) em números absolutos, o crescimento das duas enfermidades é semelhante.
- C) existe risco do estado de Minas Gerais enfrentar uma pandemia de arboviroses.
- D) houve um crescimento das duas enfermidades em aproximadamente 100% em menos de 10 dias.

QUESTÃO 28

Em discurso [...], uma ministra do Supremo Tribunal Federal (STF) afirmou que o modelo eleitoral brasileiro é um exemplo para o mundo e que mais de 100 países já buscaram as instituições brasileiras para entender melhor como é o processo e a eficiência do modelo.

Disponível em: <https://encurtador.com.br/kEI07>. Acesso em: 30 jan. 2024 (adaptado).

Entre os elementos que causam interesse de outros países, apontados pela ministra, está a agilidade na apuração dos resultados, proporcionada pelo(a)

- A) existência de tribunais eleitorais.
- B) obrigatoriedade de identificação biométrica de eleitores.
- C) periodicidade bianual das eleições.
- D) sistema de urnas eletrônicas.

INFORMÁTICA

QUESTÃO 29

Em um escritório, um funcionário está usando o Microsoft Excel para Office 365 para calcular os custos de produção de uma empresa.

Qual das práticas a seguir é uma maneira eficaz de usar fórmulas no Excel para automatizar os cálculos?

- A) Digitar manualmente os resultados dos cálculos em cada célula, para depois atribuir a fórmula média.
- B) Usar a função SOMA para adicionar manualmente os valores de diferentes células.
- C) Aplicar a função MÉDIA para calcular automaticamente a média de uma série de números.
- D) Copiar e colar os resultados de uma planilha para outra, e a partir disso usar a fórmula.

QUESTÃO 30

Ao criar e formatar documentos no Microsoft Word para Office 365, é fundamental compreender as opções disponíveis para garantir uma apresentação adequada e uma impressão eficiente.

Nesse contexto, analise as afirmativas a seguir sobre formatação e impressão de documentos no Word.

- I. O recurso de “Espaçamento entre Linhas” no Word permite ajustar a distância horizontal entre linhas de texto, proporcionando maior legibilidade ou otimizando o espaço no documento.
- II. A utilização de estilos de parágrafo no Word oferece uma maneira eficaz de padronizar a formatação, facilitando a consistência visual em todo o documento.
- III. A opção “Imprimir em Frente e Verso” no Word possibilita a impressão de documentos em ambos os lados da folha; a impressão pode ser pela margem mais curta ou pela margem mais longa, contribuindo para a economia de papel.

Estão corretas as afirmativas

- A) I e II, apenas.
- B) I e III, apenas.
- C) II e III, apenas.
- D) I, II e III.

QUESTÃO 31

Ao realizar operações de manipulação de pastas e arquivos no Windows 10, é essencial compreender as funcionalidades disponíveis para uma organização eficiente do conteúdo.

Nesse contexto, analise as afirmativas a seguir.

- I. Utilizando a opção “Compactar”, no Windows 10, é possível reduzir o tamanho de um arquivo, economizando espaço de armazenamento, especialmente útil ao lidar com grandes conjuntos de dados.
- II. A funcionalidade “Mover para”, no Windows 10, permite transferir um arquivo ou pasta para outra localização, mantendo uma cópia no local original.
- III. A criação de atalhos (*shortcuts*), no Windows 10, proporciona uma maneira eficaz de acessar rapidamente arquivos e pastas, sem a necessidade de navegar até a localização original.

Estão corretas as afirmativas

- A) I e II, apenas.
- B) I e III, apenas.
- C) II e III, apenas.
- D) I, II e III.

QUESTÃO 32

Um funcionário está preparando uma apresentação de um projeto para o seu chefe usando o Microsoft PowerPoint 2016.

Qual das práticas a seguir é uma maneira eficaz de organizar o conteúdo dessa apresentação?

- A) Inserir *slides* com diferentes temas e *layouts* para criar diversidade visual.
- B) Utilizar uma única fonte e tamanho de texto em todos os *slides* para manter a consistência.
- C) Ignorar a inserção de imagens e gráficos para evitar o excesso de elementos visuais.
- D) Organizar os *slides* em uma sequência lógica que siga a estrutura do conteúdo a ser apresentado.

QUESTÃO 33

Com relação à elaboração de formulários no Google Forms, assinale a alternativa incorreta.

- A) Os resultados de um formulário do Google são disponibilizados apenas após o fechamento do formulário e podem ser visualizados por meio de resumo gráfico, facilitando a análise das respostas.
- B) É possível personalizar o tema e o *design* de um formulário no Google Forms incluindo a adição de imagens de cabeçalho e a escolha de esquemas de cores.
- C) O Google Forms oferece a opção de compartilhar o formulário diretamente por meio de um *link*.
- D) O Google Forms permite a inserção de vários tipos de perguntas, como escolha múltipla, resposta curta e parágrafo.

QUESTÃO 34

Quando se envia um e-mail, qual parte do endereço de e-mail indica o destinatário específico para quem a mensagem está sendo enviada?

- A) Servidor de E-mail.
- B) Nome de Usuário.
- C) Nome do Provedor.
- D) Extensão do Endereço.

QUESTÃO 35

Qual é a principal característica de um vírus de computador?

- A) Ele se propaga rapidamente por meio de redes de computadores.
- B) Ele se disfarça como um programa legítimo para enganar os usuários.
- C) Ele é projetado para roubar informações confidenciais dos usuários.
- D) Ele se replica e anexa a arquivos ou programas existentes, espalhando-se quando esses arquivos ou programas são executados.

FOLHA DE RESPOSTAS

(RASCUNHO – VERSÃO DO CANDIDATO)

01	<input type="radio"/>	<input type="radio"/>	<input type="radio"/>	<input type="radio"/>
02	<input type="radio"/>	<input type="radio"/>	<input type="radio"/>	<input type="radio"/>
03	<input type="radio"/>	<input type="radio"/>	<input type="radio"/>	<input type="radio"/>
04	<input type="radio"/>	<input type="radio"/>	<input type="radio"/>	<input type="radio"/>
05	<input type="radio"/>	<input type="radio"/>	<input type="radio"/>	<input type="radio"/>
06	<input type="radio"/>	<input type="radio"/>	<input type="radio"/>	<input type="radio"/>
07	<input type="radio"/>	<input type="radio"/>	<input type="radio"/>	<input type="radio"/>
08	<input type="radio"/>	<input type="radio"/>	<input type="radio"/>	<input type="radio"/>
09	<input type="radio"/>	<input type="radio"/>	<input type="radio"/>	<input type="radio"/>
10	<input type="radio"/>	<input type="radio"/>	<input type="radio"/>	<input type="radio"/>
11	<input type="radio"/>	<input type="radio"/>	<input type="radio"/>	<input type="radio"/>
12	<input type="radio"/>	<input type="radio"/>	<input type="radio"/>	<input type="radio"/>
13	<input type="radio"/>	<input type="radio"/>	<input type="radio"/>	<input type="radio"/>
14	<input type="radio"/>	<input type="radio"/>	<input type="radio"/>	<input type="radio"/>
15	<input type="radio"/>	<input type="radio"/>	<input type="radio"/>	<input type="radio"/>
16	<input type="radio"/>	<input type="radio"/>	<input type="radio"/>	<input type="radio"/>
17	<input type="radio"/>	<input type="radio"/>	<input type="radio"/>	<input type="radio"/>
18	<input type="radio"/>	<input type="radio"/>	<input type="radio"/>	<input type="radio"/>

19	<input type="radio"/>	<input type="radio"/>	<input type="radio"/>	<input type="radio"/>
20	<input type="radio"/>	<input type="radio"/>	<input type="radio"/>	<input type="radio"/>
21	<input type="radio"/>	<input type="radio"/>	<input type="radio"/>	<input type="radio"/>
22	<input type="radio"/>	<input type="radio"/>	<input type="radio"/>	<input type="radio"/>
23	<input type="radio"/>	<input type="radio"/>	<input type="radio"/>	<input type="radio"/>
24	<input type="radio"/>	<input type="radio"/>	<input type="radio"/>	<input type="radio"/>
25	<input type="radio"/>	<input type="radio"/>	<input type="radio"/>	<input type="radio"/>
26	<input type="radio"/>	<input type="radio"/>	<input type="radio"/>	<input type="radio"/>
27	<input type="radio"/>	<input type="radio"/>	<input type="radio"/>	<input type="radio"/>
28	<input type="radio"/>	<input type="radio"/>	<input type="radio"/>	<input type="radio"/>
29	<input type="radio"/>	<input type="radio"/>	<input type="radio"/>	<input type="radio"/>
30	<input type="radio"/>	<input type="radio"/>	<input type="radio"/>	<input type="radio"/>
31	<input type="radio"/>	<input type="radio"/>	<input type="radio"/>	<input type="radio"/>
32	<input type="radio"/>	<input type="radio"/>	<input type="radio"/>	<input type="radio"/>
33	<input type="radio"/>	<input type="radio"/>	<input type="radio"/>	<input type="radio"/>
34	<input type="radio"/>	<input type="radio"/>	<input type="radio"/>	<input type="radio"/>
35	<input type="radio"/>	<input type="radio"/>	<input type="radio"/>	<input type="radio"/>

Ao transferir essas marcações para a folha de respostas, observe as instruções específicas dadas na capa da prova.

Use caneta esferográfica azul ou preta.



Segundo a Lei nº 9.610/1998, reproduções de natureza não pedagógicas das questões desta prova estão proibidas.