



## CONCURSO PÚBLICO - PROVA OBJETIVA

ASSINATURA DO(A) CANDIDATO(A)

Nº DE INSCRIÇÃO

### CARGO: AUXILIAR DE PEDREIRO

#### INSTRUÇÕES:

#### VERIFIQUE SE ESTE CADERNO:

- ✓ Corresponde a sua opção de cargo.
- ✓ Contém 40 (quarenta) questões, numeradas de 01 a 40, caso contrário reclame ao fiscal da sala outro caderno. NÃO serão aceitas reclamações posteriores.
- ✓ Para cada questão existe apenas UMA resposta certa.
- ✓ Você deve ler cuidadosamente cada uma das questões e escolher a resposta certa.
- ✓ A alternativa escolhida deve ser marcada na FOLHA
- ✓ DE RESPOSTAS que você recebeu.

#### VOCÊ DEVE:

- ✓ Procurar na FOLHA DE RESPOSTAS, o número da questão que você está respondendo.
- ✓ Verificar no caderno de prova qual a letra (A, B, C, D, E) da resposta que você escolheu.
- ✓ Marcar essa letra na FOLHA DE RESPOSTAS, conforme o exemplo: [■].

#### ATENÇÃO:

- ✓ Marque as respostas com caneta esferográfica azul ou preta.
- ✓ Marque apenas uma letra para cada questão, mais de uma letra assinalada implicará nota zero à questão.
- ✓ Não será permitida qualquer espécie de consulta, nem o uso de máquina calculadora.
- ✓ Você terá 3 (três) horas para responder a todas as questões e preencher a folha de respostas.
- ✓ Devolva esse caderno de prova ao aplicador, juntamente com a sua folha de respostas.
- ✓ Proibida a divulgação ou impressão parcial ou total da presente prova. **Direitos Reservados.**

**RASCUNHO**

**LINGUA PORTUGUESA - QUESTÕES 1 A 12**  
**(02 PONTOS)****Memórias da Casa Velha**

Vou subindo a ladeira calçada de pedras velhas irregulares e escorregadias, ladeada de casas velhas, de paredes desbotadas. Tudo é silêncio e, não fosse aquela mulher, também velha e desbotada, que me espia triste do alto de uma janela, diria que ninguém mora mais aqui, que todos se foram, que muitos morreram e que outros se mudaram.

Quando chego à última curva, a respiração se faz difícil pelo esforço da subida, mas sinto-me recompensado ao avistar o grande portão aberto em arco. Reconheço-o facilmente, embora suas grades estejam enferrujadas e não brancas, como antigamente.

Até há pouco chovia. Agora um sol alegre ilumina a copa das árvores, vence a folhagem e espeta seus raios na relva. Mesmo assim, quando entro, sinto a terra úmida debaixo dos meus sapatos.

Há quantos anos entrei por esta mesma alameda? Vinte, vinte e cinco? Talvez. Lembro-me que ficara impressionado com a majestade do jardim. Seria ele mais belo então? Mais tratado era, por certo. Agora, abandonado, tudo aquilo que perdeu em simetria, em colorido, ganhou em placidez, em santidade. Sim, penso que estou a entrar numa catedral vazia, enquanto caminho devagar, olhando em torno.

Antes havia marrecos neste laguinho: agora, folhas mortas boiam, sem pressa de chegar à outra margem. Aliás, não eram somente marrecos. Lembro-me de dois cisnes a me olharem espantados, sem compreenderem que aquele menino também os via pela primeira vez.

“Um dia um cisne morrerá, por certo” quando li o soneto de Salusse, numa antologia de parnasianos, lembrei-me imediatamente do casal de cisnes que vivia neste lago.

Se o cisne vivo nunca mais nadou, não sei. Sei que os bichos se foram todos. Apenas os pássaros continuam a usufruir deste jardim. Ouço o chilrear de centenas deles sobre a minha cabeça e, sem me importar com isso, vou subindo na direção da casa.

Foi o vento na minha nuca ou foi de pura saudade que me veio este tremor? Lá está a varanda grande, cingida de trepadeiras. Minha mãe me segurava pela mão e falava, mas o alvoroço das moças era mais alto que a sua voz. Uma delas (quem seria?) apaixonou-se por meus cabelos louros e, naquela tarde em que aqui estive, penteou-me tantas vezes!

Quando minha mãe abaixou-se para me beijar e partir, quase chorei na frente das moças. Depois esqueci. Elas brincaram comigo, me deram lanche, me deixaram correr no gramado.

Olho a casa e penso que a gente que mora lá embaixo, na ladeira, deve andar a inventar coisas, a dizer que ela é mal-assombrada. Triste, coitada. Triste é o que ela é.

Sei que ninguém mais vem cá e esta roseira deve saber também, mas, sem qualquer vaidade, continua a expor as suas rosas. Quanto àquele canteiro, que as rolinhas estão ciscando, era de crisântemos, mas não se usa mais essa flor.

O casarão está em ruínas. Nada mais dá ideia de abandono do que esta janela de vidros quebrados ou aquela fonte sem repuxo. Já não há os crisântemos de outrora, a fonte, as moças na varanda, seu riso.

Tudo é silêncio, tudo é quietude. Somente os pássaros. Os pássaros e as lembranças.

Pela tarde, à hora do crepúsculo (hoje todos os crepúsculos terminam aqui) minha mãe veio me buscar. Quase a vejo caminhando, a sorrir para mim. Tão moça e tão linda (conta-se que, no seu tempo, foi a mais bonita aluna do Colégio Sion), ela me acenava com um embrulho na mão; o presente que prometera, caso me comportasse bem.

A alegria que senti ao revê-la! Lembro-me que corri em sua direção e tão afoito, que caí de peito na relva, como um mergulho. O pão com geleia que uma das moças me dera caiu também e lá ficou esquecido.

Não chorei. Contive as lágrimas como contenho agora, enquanto vou descendo pelo mesmo caminho. Vou devagar, porém. Já não há nem a pressa, nem a alegria de então.

*Sérgio Porto, in Antologia Escolar de Crônicas*

01. Pela história contada no texto, percebe-se que o narrador demonstra um sentimento de:

- a) revolta
- b) nostalgia
- c) indiferença
- d) apatia
- e) raiva

02. O narrador deixa transparecer que já estivera no local há muitos anos como se confirma na passagem “*Há quantos anos entrei por esta mesma alameda? Vinte, vinte e cinco?*” (4º parágrafo). Assinale a alternativa que apresenta um fragmento do texto que reforça essa afirmativa:

- a) “Vou subindo a ladeira calçada de pedras velhas irregulares e escorregadias, (...)” (1º parágrafo)
- b) “(...) diria que ninguém mora mais aqui, que todos se foram, que muitos morreram e que outros se mudaram.” (1º parágrafo)
- c) “Quando chego à última curva, a respiração se faz difícil pelo esforço da subida, (...)” (2º parágrafo)
- d) “Até há pouco chovia.” (3º parágrafo)
- e) “Antes havia marrecos neste laguinho: agora, folhas mortas boiam, sem pressa de chegar à outra margem.” (5º parágrafo)

03. Pode-se deduzir do texto que o narrador ficou na casa velha, no passado, durante:

- a) um dia
- b) uma semana
- c) uma tarde
- d) uma hora
- e) uma manhã

04. Em relação à linguagem do texto, pode-se afirmar que foi empregada, principalmente, a variedade:

- a) regional
- b) formal
- c) informal
- d) técnica
- e) popular

05. A figura de linguagem que sobressai na passagem “*Agora um sol alegre ilumina a copa das árvores, vence a folhagem e espeta seus raios na relva.*” (3º parágrafo) está apontada na opção:

- a) personificação
- b) sinestesia
- c) metonímia
- d) antítese
- e) gradação

06. Quanto aos tipos de sujeito, assinale a alternativa que apresenta **correta** classificação do verbo em destaque no fragmento “*Há quantos anos entrei por esta mesma alameda?*” (4º parágrafo)

- a) simples
- b) desinencial
- c) indeterminado
- d) inexistente
- e) composto

07. Quanto à separação silábica, marque a opção **correta**:

- a) i-rre-gu-la-res
- b) es-cor-re-ga-dia
- c) bo-i-am
- d) u-su-fru-ir
- e) chil-rear

08. As aspas empregadas na passagem “*Um dia um cisne morrerá, por certo*” (6º parágrafo) justificam-se, pois:

- a) trata-se de uma citação
- b) trata-se de fala de personagem
- c) trata-se de um comentário do narrador
- d) trata-se de uma informação adicional
- e) trata-se de uma escolha pessoal do autor

09. Assinale a alternativa em o vocábulo é proparoxítono:

- a) “ninguém”
- b) “última”
- c) “difícil”
- d) “Até”
- e) “morrerá”

10. Assinale a alternativa em que o vocábulo apresenta o mesmo som do /x/ que na palavra “**expor**”:

- a) inexistente
- b) inexorável
- c) sintaxe
- d) exuberante
- e) êxodo

11. Assinale a opção em que há vocábulo **corretamente** grafado:

- a) pretencioso
- b) sisudez
- c) altesa
- d) catequizar
- e) pesquisar

12. Das opções abaixo, assinale aquela que apresenta termo destacado classificado **INCORRETAMENTE**:

- a) “Quando chego à **última** curva, a respiração se faz difícil pelo esforço da subida, (...)” (2º parágrafo) - numeral  
 b) “(...) embora suas grades estejam **enferrujadas** e não brancas, como antigamente.” (2º parágrafo) - adjetivo  
 c) “Mesmo assim, quando entro, sinto a terra úmida debaixo dos **meus** sapatos.” (3º parágrafo) – pronome  
 d) “Sim, penso que estou a entrar numa catedral vazia, enquanto **caminho** devagar, olhando em torno.” (4º parágrafo) - substantivo  
 e) “(...) lembrei-**me** imediatamente do casal de cisnes que vivia neste lago.” (6º parágrafo) - pronome

**RACIOCÍNIO LÓGICO**  
**QUESTÕES 13 A 16 (02 PONTOS)**

13. Qual dos seguintes números é menos similar?


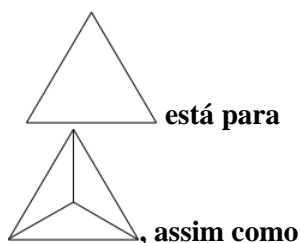
**2 – 5 – 10 – 13 – 17**

- a) 2  
 b) 5  
 c) 10  
 d) 13  
 e) 17






14. Maria tinha uma quantidade de bombons. Comeu um e deu metade do que sobrou para Ana. Comeu mais um e deu metade do que restou para João. Maria ficou ainda com quatro bombons. Quantos bombons ela tinha inicialmente?

- a) 16  
 b) 17  
 c) 18  
 d) 19  
 e) 20

15. Qual dos cinco desenhos faz a melhor comparação?



está para:

- a)   
 b)   
 c)   
 d)   
 e) 

16. Se pelo menos um X é Y e todo Y é Z, então:

- a) Nenhum X é Z.  
 b) Nenhum Y é X.  
 c) Todo X é Z.  
 d) Existe Y que não é Z.  
 e) Existe X que é Z.

**ATUALIDADES**  
**QUESTÕES 17 A 20 (02 PONTOS)**

Com relação à Lei Orgânica do Município de Serraria-PB, responda as questões 17 e 18.

17. Marque a alternativa **CORRETA**

**Ao Município de Serraria-PB compete prover a tudo quanto diga respeito ao seu peculiar interesse e ao bem-estar de sua população, cabendo-lhe privativamente, dentre outras, as seguintes atribuições:**

- a) cessar a arrecadação de tributos, bem como retirar suas rendas;  
 b) desorganizar e desprestigiar, diretamente, ou sob regime de concessão ou permissão, os serviços públicos;  
 c) indispor e desarmonizar sobre os serviços funerários e de cemitérios;  
 d) exercer o poder de polícia administrativa.  
 e) todas as afirmativas acima estão incorretas

18. Julgue as questões abaixo e marque a alternativa **correta**

Todos têm direito ao meio ambiente ecologicamente equilibrado bem de uso comum do povo e essencial à sadia qualidade de vida, impondo-se ao Poder Público Municipal e a coletividade o dever de defendê-lo e preservá-lo para presentes e futuras gerações.

**Para assegurar a efetividade desse direito, incumbe ao Poder Público Municipal de Serraria-PB:**

I- controlar a produção comercialização e ao emprego de técnicas, métodos e substâncias que comportem risco para a vida, a qualidade de vida e o meio ambiente;

II- preservar e restaurar os processos ecológicos essenciais e prover o manejo ecológico das espécies e ecossistemas;

III - proteger a fauna e a flora, vedadas na forma da lei as práticas que coloquem em risco sua função ecológica, provoquem a extinção de espécies ou submetam os animais à crueldade.

**Está(ão) correta(s)**

- a) Apenas a afirmativa I.
- b) Apenas a afirmativa II.
- c) Apenas as afirmativas I e II.
- d) Apenas as afirmativas II e III
- e) As afirmativas I, II e III.

19. Considere a charge abaixo



Com relação ao Analfabetismo no Brasil é **correto** afirmar:

a) O analfabetismo no Brasil está diretamente associado à idade. Quanto mais velho o grupo populacional, maior a proporção de analfabetos.

b) A Paraíba é o estado com maior taxa de analfabetismo no país.

c) O Plano Nacional de Educação (PNE) erradicou o analfabetismo nas regiões brasileiras.

d) Com uma população de 210 milhões de habitantes, o Brasil avançou contra o analfabetismo no país, entre a população de 15 anos ou mais — o número corresponde a menos de 1% dessa população.

e) Todas as alternativas estão corretas

20. Marque a alternativa **CORRETA**

Apelidada de superministério, mediante a fusão dos ministérios da Fazenda, do Planejamento, Desenvolvimento e Gestão, da Indústria, Comércio Exterior e Serviços e parte do Ministério do Trabalho como políticas de emprego, foi anunciado pelo então presidente eleito Jair Bolsonaro como **Titular do Ministério da Economia do Brasil. Esse Ministro é:**

- a) Sergio Moro.
- b) Paulo Guedes.
- c) Abraham Weintraub.
- d) Olavo de Carvalho.
- e) Ricardo Sales.

**CONHECIMENTOS ESPECÍFICOS**  
**QUESTÕES 21 A 40 (03 PONTOS)**

21. A remoção dos entulhos, por gravidade, deve ser feita em calhas fechadas de material resistente, fixadas à edificação em todos os pavimentos, com inclinação máxima de:

- a) 30° (trinta graus)
- b) 45° (quarenta e cinco graus)
- c) 60° (sessenta graus)
- d) 120° (cento e vinte graus)
- e) 180° (cento e oitenta graus)

22. Quantos blocos de cimento de 20 cm × 40 cm serão necessários para fazer uma caixa de esgoto mede 1,10m de comprimento, 1,30m de largura e 1,20 m de altura?

- a) 62 blocos
- b) 70 blocos
- c) 72 blocos
- d) 80 blocos
- e) 82 blocos

23. Durante a execução de serviços de demolição, devem ser instaladas, no máximo, a 2 (dois) pavimentos abaixo do que será demolido, plataformas de retenção de entulhos, com dimensão mínima de \_\_\_\_\_ e inclinação de \_\_\_\_\_ em todo o perímetro da obra.

Assinale a alternativa que complete as lacunas **corretamente**.

- a) 1,20m; 90°
- b) 1,50m; 90°
- c) 2,00m; 45°
- d) 2,20m; 90°
- e) 2,50m; 45°

24. Das ferramentas a seguir, qual é utilizada para escavar o terreno. Assinale a alternativa **correta**:

- a) Maçarico
- b) Bigorna
- c) Motosserra
- d) Picareta
- e) Talhadeira

25. Assinale a alternativa que complete a frase **incorretamente**:

O canteiro de obras deve ser sinalizado com o objetivo de:

- a) identificar os locais de apoio que compõem o canteiro de obras
- b) advertir quanto a risco de queda;
- c) identificar locais com substâncias tóxicas, corrosivas, inflamáveis, explosivas e radioativas.
- d) alertar quanto ao isolamento das áreas de transporte e circulação de materiais por grua, guincho e guindaste;
- e) deixar a obra mais bonita;

26. Além do cimento, água e areia qual outro produto é utilizado na fabricação do concreto:

- a) Cal;
- b) Saibro;
- c) Barro;
- d) Brita;
- e) Areola;

27. Sabendo que o rendimento de um saco de argamassa é 1,5m<sup>2</sup>. Para o assentamento de revestimento cerâmico no piso de um cômodo cuja as dimensões desde são 4,00m largura, 4,50m comprimento e 3,00m pé direito. Qual a quantidade necessária de argamassa?

Saco de argamassa = 20kg.

- a) 10 sacos
- b) 12 sacos
- c) 15 sacos
- d) 16 sacos
- e) 18 sacos

28. Lastro de concreto com pouco cimento, com função de regularizar a superfície de apoio e não permitir a saída da água do concreto da sapata.

Assinale a resposta **certa**:

- a) “magro”
- b) armadura
- c) vala
- d) radiers
- e) tubulão

29. Quanto aos serviços de carpintaria dentro do canteiro de obras, assinale a alternativa **incorreta** a respeito da serra circular:

- a) deve ser dotada de mesa estável, com fechamento de suas faces inferiores, anterior e posterior, construída em madeira resistente e de primeira qualidade, material metálico ou similar de resistência equivalente, sem irregularidades, com dimensionamento suficiente para a execução das tarefas;
- b) deve ter a carcaça do motor aberta para não esquentar;
- c) o disco deve ser mantido afiado e travado, devendo ser substituído quando apresentar trincas, dentes quebrados ou empenamentos;
- d) as transmissões de força mecânica devem estar protegidas obrigatoriamente por anteparos fixos e resistentes, não podendo ser removidos, em hipótese alguma, durante a execução dos trabalhos;
- e) deve ser provida de coifa protetora do disco e cutelo divisor, com identificação do fabricante e ainda coletor de serragem.

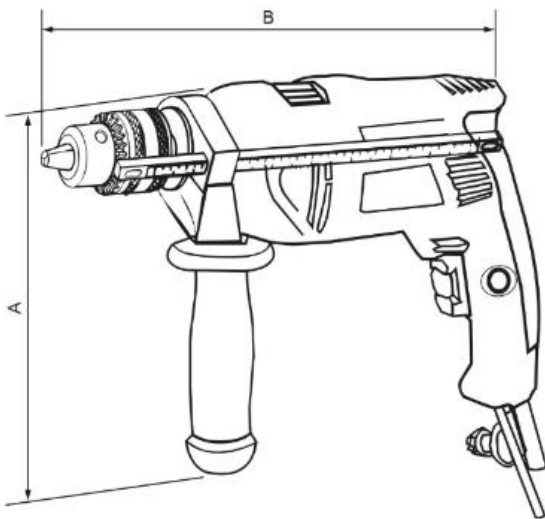
30. Alojada sobre a janela ou porta no sentido horizontal, ou seja, na parte de cima do vão. Ela recebe as tensões que vem de cima e as distribui para as paredes laterais da abertura, aliviando a carga sobre ela. A peça referida é o (a):

- a) contra verga
- b) pilar
- c) cinta
- d) viga
- e) verga

31. Quanto a estruturas de concreto assinale a opção **correta**:

- a) antes do início dos trabalhos deve ser designado um encarregado experiente para acompanhar o serviço e orientar a equipe de retirada de fôrmas quanto às técnicas de segurança a serem observadas;
- b) durante a descarga de vergalhões de aço a área deve ser isolada para evitar a circulação de pessoas estranhas ao serviço;
- c) os feixes de vergalhões de aço que forem deslocados por guinchos, guindastes ou gruas, devem ser amarrados de modo a evitar escorregamento;
- d) durante os trabalhos de lançamento e vibração de concreto, o escoramento e a resistência das fôrmas devem ser inspecionados por profissionais qualificados.
- e) todas as alternativas estão corretas;

32. Observe a ferramenta apresentada e assinale a alternativa **correta**:



- a) Utilizado para o corte de madeiras.
- b) Serve para abrir furos no concreto ou alvenaria.
- c) Serve para dobrar e cortar arame na amarração de ferragem.
- d) Corta terrenos muito duros.
- e) Utilizado para transporte de materiais.

33. Relacione as colunas quanto à definição **correta** das ferramentas.

**Coluna 1**

- I. Esquadro  
II. Serrote  
III. Prumo  
IV. Régua  
V. Desempeneadeira

**Coluna 2**

- (\_\_\_) Perfil quadrado de alumínio que nivela pisos e paredes, enquanto a massa ainda está mole.
- (\_\_\_) uma régua em formato de L com um ângulo interno de 90°;

- (\_\_\_) Tem como função alisar e aplainar a superfície da argamassa já aplicada ou produzir ranhuras ou sulcos na argamassa para aplicação de placas revestimento
- (\_\_\_) aparelho que se resume a um fio provido de um peso numa das extremidades;
- (\_\_\_) ferramenta de corte que consiste em uma lâmina larga com dentes afiados e travados;

A ordem **correta**, de cima para baixo é:

- a) IV; II; V; III; I  
b) I; IV; V; II; III  
c) I; IV; II; V; III  
d) I; IV; III; V; II  
e) IV; I; V; III; II

34. Elemento de fundação de concreto sem o uso de armadura é o:

- a) bloco  
b) sapata  
c) pilar  
d) viga  
e) radiers

35. Assinale a alternativa que seja um EPC.

- a) Capacete  
b) Extintor de Incêndio  
c) Botina  
d) Óculos de proteção  
e) Luvas

36. Mangueira longa de plástico transparente cheia de água verifica:

- a) O prumo.  
b) O traço do concreto.  
c) O nível.  
d) O esquadro.  
e) O alinhamento.

37. Sabendo que 3m<sup>3</sup> (três metros cúbico) de concreto para laje custa R\$ 339,50.

Para concretar a laje de uma loja cujas dimensões são: 10,00m de comprimento, 12,00m de largura. Para uma laje com 15cm de espessura. Quanto será gasto de concreto:

- a) R\$ 6.111,00.  
b) R\$ 2.037,00.  
c) R\$ 3.148,50.  
d) R\$ 3.169,50.  
e) R\$ 611.100,00.



38. Assinale a alternativa que contém ferramentas para abrir rasgos em paredes de alvenaria de tijolos cerâmicos.

- a) Serra mármore;
- b) Estilete e marreta;
- c) Pá e picareta;
- d) Motosserra;
- e) Despenadeira e alicate;

39. Assinale **V** para **verdadeiro** e **F** para **falso**

- (\_\_\_) Autopropelida é presença de gases tóxicos, inflamáveis e explosivos no ambiente de trabalho
- (\_\_\_) Amarras são cordas, correntes e cabos de aço que se destinam a amarrar ou prender equipamentos à estrutura
- (\_\_\_) Blaster é um equipamento de cravação de estacas por percussão
- (\_\_\_) Cinto de Segurança Abdominal - cinto de segurança com fixação apenas na cintura, utilizado para limitar a movimentação do trabalhador.
- (\_\_\_) Cadeira Suspensa é o equipamento cuja estrutura e dimensões permitem a utilização por apenas uma pessoa e o material necessário para realizar o serviço;

A ordem **correta**, de cima para baixo é:

- a) V; V; V; V; F
- b) F; V; F; V; V
- c) V; F; V; V; V
- d) V; F; V; V; F
- e) F; V; F; V; V

40. Assinale a alternativa **incorreta**:

- a) Prumagem - colocação de peças no sentido vertical (linha de prumo);
- b) Tapume - divisória de isolamento;
- c) Estronca - peça de esbarro ou escoramento com encosto destinado a impedir deslocamento;
- d) Frente de Trabalho - fachada da obra;
- e) Cimbramento - escoramento e fixação das fôrmas para concreto armado.