

# CONCURSO PÚBLICO

PREFEITURA MUNICIPAL DE MEDICILÂNDIA – PARÁ  
EDITAL Nº 001/2023 – PMM

**CARGO: OPERADOR DE ESCAVADEIRA HIDRÁULICA**  
**NÍVEL: FUNDAMENTAL COMPLETO**  
**TURNO: TARDE**

## ORIENTAÇÕES AO CANDIDATO

**1-** Este CADERNO DE QUESTÕES é composto de 30 (trinta) questões com 05 (cinco) alternativas e somente uma correta. Caso exista algum problema de impressão, ou outro qualquer, comunique-o imediatamente aos fiscais de sala.

**2-** Leia, atentamente, cada questão da prova antes de responder.

**3-** Transcreva para o CARTÃO-RESPOSTA a resposta definitiva de cada questão. Marque somente uma alternativa, pois a marcação de mais de uma alternativa, ou a ausência de marcação, anulará a questão. Preencha corretamente o CARTÃO-RESPOSTA, porque ele não será substituído por erro do candidato. Preencha com caneta esferográfica, azul ou preta, conforme exemplo abaixo:

QUESTÃO	ALTERNATIVAS
01	<input type="radio"/> A <input type="radio"/> B <input checked="" type="radio"/> C <input type="radio"/> D <input type="radio"/> E

**4-** O CARTÃO-RESPOSTA DEVE SER obrigatoriamente assinado (item 9.12.d do edital).

**5-** A prova terá a duração de 03 (três) horas, com o início previsto às 14:00 (quatorze) horas e término às 17:00 (dezessete) horas (horário local).

**6-** Não será permitido ao candidato permanecer com armas, aparelhos eletrônicos (telefone celular, relógio, smartphone, notebook, receptor, gravador, etc.), tampouco qualquer tipo de material para consulta ou quaisquer objetos mencionados no item 9.2.a do Edital.

**7-** O candidato só poderá retirar-se da sala de provas após decorridos 60 minutos (1 hora) de seu início.

**8-** Após decorridos 120 minutos (2 horas) do início das provas, o candidato poderá levar o CADERNO DE QUESTÕES, entregando ao fiscal somente o CARTÃO-RESPOSTA.

**9-** Não será permitido ao candidato consultar o fiscal sobre quaisquer dúvidas relacionadas às interpretações dos enunciados das questões.

**10-** Os três últimos candidatos deverão permanecer na sala e somente poderão sair juntos do recinto, após lerem, concordarem e assinarem a ata de sala.

**BOA PROVA!**

ELABORADO POR:

Leia o texto abaixo e após faça as questões de 01 a 08.

#### A árvore dos problemas

Esta é uma história de um homem que contratou um carpinteiro para ajudar a arrumar algumas coisas na sua fazenda.

O primeiro dia do carpinteiro foi bem difícil.

O pneu do seu carro furou, a serra elétrica quebrou, cortou o dedo, e ao final do dia o seu carro não funcionou.

O homem que contratou o carpinteiro ofereceu uma carona para casa.

Durante o caminho, o carpinteiro não falou nada.

Quando chegaram à sua casa, o carpinteiro convidou o homem para entrar e conhecer a sua família.

Quando os dois homens estavam caminhando para a porta da frente, o carpinteiro parou junto a uma pequena árvore e gentilmente tocou as pontas dos galhos com as duas mãos.

Depois de abrir a porta da sua casa, o carpinteiro transformou-se.

Os traços tensos do seu rosto transformaram-se em um grande sorriso, e ele abraçou os seus filhos e beijou a sua esposa.

Um pouco mais tarde, o carpinteiro acompanhou a sua visita até o carro.

Assim que eles passaram pela árvore, o homem perguntou:

– Por que você tocou nela antes de entrar em casa?

O carpinteiro respondeu:

– Ah! Esta é a minha Árvore dos Problemas, meu amigo. Eu sei que não posso evitar os problemas no meu trabalho, mas estes problemas não devem chegar até os meus filhos e minha esposa. Então, toda noite, eu deixo os meus problemas nesta árvore quando chego em casa, e os pego no dia seguinte; e você quer saber de uma coisa? Toda manhã, quando eu volto para buscar os meus problemas, eles não são nem metade do que eu me lembro de ter deixado na noite anterior.

*[https://www.refletirpararefletir.com.br/6-textos-de-reflexão-autor-desconhecido\(texto-adaptado\)](https://www.refletirpararefletir.com.br/6-textos-de-reflexão-autor-desconhecido(texto-adaptado))*

#### QUESTÃO 01

Podemos inferir que o autor do texto:

- A ( ) Vive o tempo todo sorrindo, porque nada de ruim acontece no seu trabalho.
- B ( ) Não está satisfeito com o seu trabalho e por isso se aborrece com todas as pessoas.
- C ( ) Influencia as pessoas a buscarem um outro emprego.
- D ( ) Faz com que nossos problemas se tornem maiores.
- E ( ) Leva o leitor a refletir sobre não levarmos problemas para dentro de casa e, dessa forma, vivermos melhor.

#### QUESTÃO 02

O texto é voltado para os (as):

- A ( ) Jovens, pois eles trabalham mais e vivem estressados.
- B ( ) Mulheres, alertando-as de que devem tratar bem o marido, após um dia cheio de trabalho.
- C ( ) Crianças, já que elas precisam aprender que o trabalho dignifica o homem.
- D ( ) Pessoas de um modo geral, uma vez que a mensagem leva a refletir sobre os problemas enfrentados fora do lar para que não interfiram no ambiente familiar.
- E ( ) Carpinteiros, pois eles precisam saber trabalhar dignamente.

#### QUESTÃO 03

Marque a assertiva em que a frase foi elaborada no sentido figurado:

- A ( ) “Toda manhã, quando eu volto para buscar os meus problemas...”
- B ( ) “...o carpinteiro parou junto a uma pequena árvore...”
- C ( ) “Quando chegaram à sua casa, o carpinteiro convidou o homem para entrar e conhecer a sua família.”
- D ( ) “O pneu do seu carro furou...”
- E ( ) “Durante o caminho, o carpinteiro não falou nada.”

#### QUESTÃO 04

No trecho seguinte: “O pneu do seu carro furou, a serra elétrica quebrou, cortou o dedo, e ao final do dia o seu carro não funcionou.”, há a presença de:

- A ( ) Duas orações, apenas.
- B ( ) Período composto por coordenação.
- C ( ) Período composto por subordinação.
- D ( ) Três frases nominais, apenas.
- E ( ) Período simples, pois só possui uma oração.

**QUESTÃO 05**

No período “– Ah! Esta é a minha Árvore dos Problemas, meu amigo.”, a vírgula foi usada para separar um:

- A ( ) Aposto.
- B ( ) Verbo.
- C ( ) Vocativo.
- D ( ) Adjetivo.
- E ( ) Item enumerativo.

**QUESTÃO 06**

Em qual assertiva as palavras foram acentuadas pelo mesmo motivo que “árvore” e “difícil”, respectivamente?

- A ( ) Lâmpada – Saúde.
- B ( ) Família – Está.
- C ( ) Louvável – Gráfica.
- D ( ) Até – Louvável.
- E ( ) Elétrica - Amável.

**QUESTÃO 07**

Em “Durante o caminho, o carpinteiro não falou nada.”, temos a presença de um sujeito classificado como:

- A ( ) Simples, tendo como núcleo “carpinteiro”.
- B ( ) Simples, tendo como núcleo “caminho”.
- C ( ) Composto, tendo como núcleos “carpinteiro” e “caminho”.
- D ( ) Inexistente.
- E ( ) Indeterminado.

**QUESTÃO 08**

Ainda com base no texto em questão, julgue as premissas acerca da morfologia e após assinale as informações corretas:

I. “Esta é uma história de um homem...” – Pronome possessivo.

II. “Os traços tensos...” – Adjetivo flexionado no gênero masculino e número plural.

III. “Eu sei que não posso evitar os problemas no meu trabalho.” – Advérbio de negação.

IV. “O pneu do seu carro furou, a serra elétrica quebrou, cortou o dedo, e ao final do dia o seu carro não funcionou.” – A conjunção grifada é classificada como adversativa.

- A ( ) I, apenas.
- B ( ) III, apenas.
- C ( ) I, II, III e IV estão corretos.
- D ( ) II e III, apenas.
- E ( ) II e IV, apenas.

O texto abaixo do quadrinista Armandinho serve de base para a próxima questão. Portanto, leia-o com atenção.



23https://br.pinterest.com/pin/250090585550402047/ capturada em 05/06/2023

**QUESTÃO 09**

Podemos inferir que o autor:

- A ( ) Vive sua vida, mas não gosta de se machucar.  
 B ( ) Tem medo de se machucar, por isso não vive intensamente.  
 C ( ) Por mais que venha a sofrer, prefere viver a vida.  
 D ( ) É uma pessoa que vive isolada.  
 E ( ) Não gosta de viver, pois já foi muito machucado.

**QUESTÃO 10**

Analisar as frases abaixo e após marque a assertiva que possui as informações corretas.

- I. Minha mãe é uma flor de pessoa. (Temos um exemplo de metáfora.)  
 II. A palavra “pena” é polissêmica, já que muda de sentido de acordo com o contexto.  
 III. Eu viso a acertar várias questões nesta prova. (Nesta frase, a regência do verbo “visar” está incorreta.)  
 IV. Fui a casa de minha mãe. (Nesta frase, deveria ser colocado o acento grave, pois o nome “casa” está especificado.)  
 V. Muito obrigada, respondeu, educadamente, Maria Clara. (A concordância nominal de “obrigada” está inadequada às regras gramaticais.)

- A ( ) I, II, III, IV e V estão corretos.  
 B ( ) I, II e IV, apenas.  
 C ( ) I, II, III e IV, apenas.  
 D ( ) II e III, apenas.  
 E ( ) II, III e V, apenas.

**MATEMÁTICA****QUESTÃO 11**

O pé, do inglês *foot*, cujo símbolo é ft, é uma unidade de comprimento utilizada no sistema inglês – é uma unidade amplamente utilizada na aviação para medir a altura atingida pelas aeronaves. Um pé corresponde a aproximadamente 30,5 cm. Um avião que atinge a altitude de 12500 ft está voando a aproximadamente:

- A ( ) 3,2 km.  
 B ( ) 3,5 km.  
 C ( ) 3,8 km.  
 D ( ) 4,0 km.  
 E ( ) 4,2 km.

**QUESTÃO 12**

Observe a operação matemática a seguir:

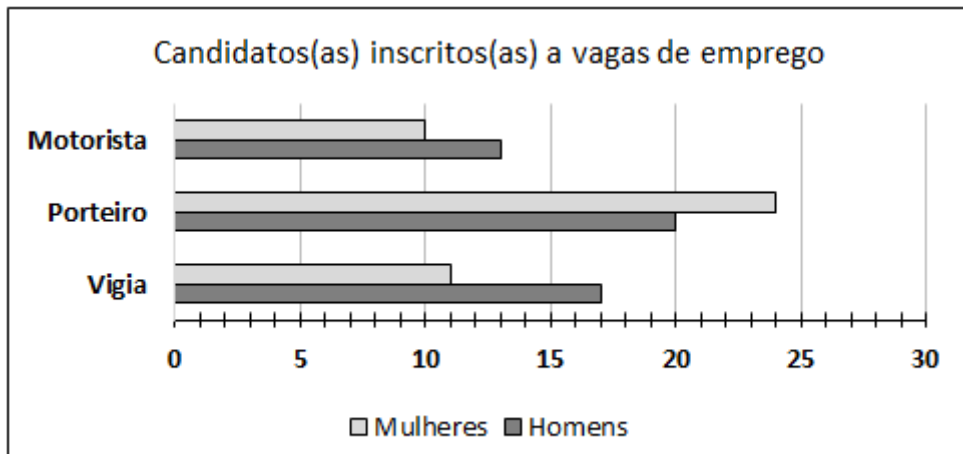
$$\begin{array}{r}
 460 \diamond x \\
 \quad \quad \quad \heartsuit 6 \\
 \hline
 27642 + \\
 13821 \\
 \hline
 165852
 \end{array}$$

Os símbolos  $\diamond$  e  $\heartsuit$  representam algarismos ocultos nessa operação. Portanto, o produto entre  $\diamond$  e  $\heartsuit$  é igual a:

- A ( ) 4.  
 B ( ) 10.  
 C ( ) 18.  
 D ( ) 21.  
 E ( ) 28.

**QUESTÃO 13**

O gráfico a seguir mostra o número de inscritos para seleção de vagas de emprego para os cargos de motorista, porteiro e vigia:



Fonte: dados fictícios

Quantas pessoas se inscreveram para essa seleção?

- A ( ) 95.
- B ( ) 90.
- C ( ) 87.
- D ( ) 82.
- E ( ) 75.

**QUESTÃO 14**

Em relação ao gráfico da questão 13 (questão anterior), ao selecionar um candidato homem ao acaso, qual é a probabilidade de ele concorrer a uma vaga de porteiro?

- A ( ) 25%.
- B ( ) 40%.
- C ( ) 45%.
- D ( ) 53%.
- E ( ) 60%.

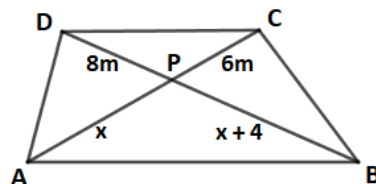
**QUESTÃO 15**

Para imprimir uma estampa em 112 camisetas, 5 máquinas do mesmo modelo levam 2 horas e 20 minutos. Aproximadamente, quanto tempo 3 dessas máquinas levarão para imprimir a mesma estampa em 90 camisetas?

- A ( ) 1 hora e 55 minutos.
- B ( ) 2 horas e 45 minutos.
- C ( ) 2 horas e 53 minutos.
- D ( ) 3 horas e 7 minutos.
- E ( ) 3 horas e 20 minutos.

**QUESTÃO 16**

Murilo herdou de sua família um terreno em forma de trapézio, como mostra a figura a seguir:



No ponto P, está localizada uma gigantesca árvore de castanha do Pará. A distância entre o ponto A e a árvore é de:

- A ( ) 20 metros.
- B ( ) 18 metros.
- C ( ) 15 metros.
- D ( ) 13 metros.
- E ( ) 12 metros.

**QUESTÃO 17**

Uma empresa gasta por mês, em publicidade, R\$ 5.400,00. Devido à inflação, os preços dos anúncios foram aumentados em 5%. A partir desse reajuste aplicado, quanto a empresa passará a gastar em publicidade nos próximos 4 meses?

- A ( ) R\$ 21.600,00.
- B ( ) R\$ 21.950,00.
- C ( ) R\$ 22.680,00.
- D ( ) R\$ 22.840,00.
- E ( ) R\$ 23.100,00.

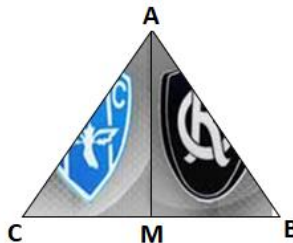
**QUESTÃO 18**

Aline foi a uma loja de eletrônicos e comprou um fone de ouvido e uma caixa de som por R\$ 1.560,00. A caixa de som custou o quántuplo do valor do fone de ouvido, mais R\$ 180,00. Quanto custou a caixa de som?

- A ( ) R\$ 870,00.
- B ( ) R\$ 920,00.
- C ( ) R\$ 950,00.
- D ( ) R\$ 1.100,00.
- E ( ) R\$ 1.330,00.

**QUESTÃO 19**

A imagem a seguir mostra parte de uma arte que um desenhista está fazendo para divulgação do clássico entre Paysandu x Remo. Ele construiu um triângulo equilátero ABC utilizando 24m de fita. O ponto M divide o lado BC em partes iguais.



De quantos metros de fita ele precisará para dividir ao meio o triângulo ABC? (Se necessário, considere  $\sqrt{3} = 1,7$ ).

- A ( ) 1,7 m.
- B ( ) 6,8 m.
- C ( ) 10,4 m.
- D ( ) 13,6 m.
- E ( ) 40,8 m.

**QUESTÃO 20**

As amigas Marta, Selma e Renata foram a uma papelaria. Marta notou que o preço de 4 lapiseiras é igual ao preço de 3 canetas. Já Selma comprou 4 lapiseiras e 3 canetas e pagou 13 reais.

Portanto, se Renata comprar uma lapiseira e uma caneta, ela pagará:

- A ( ) 7 reais.
- B ( ) 8 reais.
- C ( ) 9 reais.
- D ( ) 10 reais.
- E ( ) 11 reais.

**CONHECIMENTOS ESPECÍFICOS****QUESTÃO 21**

Dirigir veículo sem possuir Carteira Nacional de Habilitação:

- A ( ) Não é infração de trânsito.
- B ( ) Não é punível com multa.
- C ( ) É infração leve.
- D ( ) É infração grave.
- E ( ) É infração gravíssima.

**QUESTÃO 22**

As placas acima indicam respectivamente:

- A  Proibido mudar de faixa, sentido de circulação rotatória, proibido parar.
- B  Proibido ultrapassar, sentido de circulação rotatória, proibido estacionar.
- C  Proibido mudar de faixa, dê a preferência, proibido estacionar.
- D  Proibido ultrapassar, dê a preferência, proibido estacionar.
- E  Proibido ultrapassar, dê a preferência, proibido parar e estacionar.

**QUESTÃO 23**

Em caso de acidente de trânsito, é necessário:

- A  Mexer na vítima ainda que não seja necessário.
- B  Não prestar socorro para as vítimas.
- C  Sinalizar a via para evitar novos acidentes.
- D  Ficar nervoso e tomar decisões sem o devido cuidado.
- E  Aglomerar o local.

**QUESTÃO 24**

Analise os itens a seguir:

I. A circulação será pelo lado direito da via, admitindo-se as exceções devidamente sinalizadas.

II. Os usuários das vias terrestres devem abster-se de obstruir o trânsito ou torná-lo perigoso.

III. Não é necessário assegurar-se da existência de combustível suficiente para chegar ao local de destino antes de colocar o veículo em circulação.

De acordo com as normas gerais de circulação e conduta, é correto afirmar que:

- A  Apenas o item II é verdadeiro.
- B  Apenas os itens I e II são verdadeiros.
- C  Apenas os itens II e III são verdadeiros.
- D  O item I é falso.
- E  O item II é falso.

**QUESTÃO 25**

Analise a imagem abaixo.



Linha de divisão de fluxos opostos amarela simples seccionada, conforme imagem acima, significa que:

- A  É permitido ultrapassar em ambos os sentidos.
- B  É proibido ultrapassar em ambos os sentidos.
- C  É marcação de fluxo reversível.
- D  É proibido estacionar.
- E  É proibida a ultrapassagem de apenas um sentido.

**QUESTÃO 26**

O(a)/os(as) \_\_\_\_\_ é/são o conjunto de órgãos e entidades da União, dos Estados, do Distrito Federal e dos Municípios que tem por finalidade o exercício das atividades de planejamento, administração, normatização, pesquisa, registro e licenciamento de veículos, formação, habilitação e reciclagem de condutores, educação, engenharia, operação do sistema viário, policiamento, fiscalização, julgamento de infrações e de recursos e aplicação de penalidades.

De acordo com o Código de Trânsito Brasileiro, preencha corretamente a lacuna do texto acima:

- A  Conselho Nacional de Trânsito.
- B  Sistema Nacional de Trânsito.
- C  Juntas Administrativas de Recursos de Infrações.
- D  Código de Trânsito Brasileiro.
- E  Conselho Municipal de Trânsito.

**QUESTÃO 27**

Marque a única alternativa correta que representa situação em que o condutor de veículo poderá fazer uso de buzina, desde que em toque breve:

- A  Para chamar algum conhecido na rua.
- B  Para assustar os pedestres.
- C  Fora das áreas urbanas, quando for conveniente advertir a um condutor que se tem o propósito de ultrapassá-lo.
- D  Para alertar outros condutores quando ultrapassar o sinal vermelho.
- E  Na frente do hospital, para informar que está passando.

**QUESTÃO 28**

Ronaldo, motorista concursado do Município de Medicilândia, está voltando para sua casa após o expediente e, com seu veículo, não dá passagem à ambulância, em serviço de urgência e devidamente identificada por dispositivo regulamentado de alarme sonoro e iluminação intermitente. Nessas circunstâncias:

- A  Ronaldo cometeu infração de trânsito grave.
- B  Ronaldo cometeu infração de trânsito gravíssima.
- C  Ronaldo não cometeu infração de trânsito.
- D  Ronaldo cometeu infração de trânsito leve.
- E  Ronaldo, por ser servidor público, tem preferência de passagem.

**QUESTÃO 29**

A velocidade máxima permitida para a via será indicada por meio de sinalização, obedecidas suas características técnicas e as condições de trânsito. Onde não existir sinalização regulamentadora, nas vias urbanas, a velocidade máxima será de:

- A  30 km/h nas vias locais.
- B  80 km/h nas vias coletoras.
- C  40 km/h nas vias locais.
- D  100 km/h nas vias de trânsito rápido.
- E  40 km/h nas vias arteriais.

**QUESTÃO 30**

Analise as infrações:

I. Conduzir o veículo com dispositivo anti-radar.

II. Usar buzina prolongada e excessivamente a qualquer pretexto.

III. Transitar com o veículo em velocidade inferior à metade da velocidade máxima estabelecida para a via, retardando ou obstruindo o trânsito, a menos que as condições de tráfego e meteorológicas não o permitam, salvo se estiver na faixa da direita.

É(são) infração(ções) gravíssima(s)?

- A  As infrações dos itens I e II.
- B  As infrações dos itens I e III.
- C  Apenas a infração do item III.
- D  Apenas a infração do item II.
- E  Apenas a infração do item I.