

CONCURSO PÚBLICO

PREFEITURA MUNICIPAL DE MEDICILÂNDIA – PARÁ
EDITAL Nº 001/2023 – PMM

CARGO: VIGILANTE
NÍVEL: FUNDAMENTAL INCOMPLETO
TURNO: MANHÃ

ORIENTAÇÕES AO CANDIDATO

1- Este CADERNO DE QUESTÕES é composto de 30 (trinta) questões com 05 (cinco) alternativas e somente uma correta. Caso exista algum problema de impressão, ou outro qualquer, comunique-o imediatamente aos fiscais de sala.

2- Leia, atentamente, cada questão da prova antes de responder.

3- Transcreva para o CARTÃO-RESPOSTA a resposta definitiva de cada questão. Marque somente uma alternativa, pois a marcação de mais de uma alternativa, ou a ausência de marcação, anulará a questão. Preencha corretamente o CARTÃO-RESPOSTA, porque ele não será substituído por erro do candidato. Preencha com caneta esferográfica, azul ou preta, conforme exemplo abaixo:

QUESTÃO	ALTERNATIVAS
01	<input type="radio"/> A <input type="radio"/> B <input checked="" type="radio"/> C <input type="radio"/> D <input type="radio"/> E

4- O CARTÃO-RESPOSTA DEVE SER obrigatoriamente assinado (item 9.12.d do edital).

5- A prova terá a duração de 03 (três) horas, com o início previsto às 09:00 (nove) horas e término às 12:00 (doze) horas (horário local).

6- Não será permitido ao candidato permanecer com armas, aparelhos eletrônicos (telefone celular, relógio, smartphone, notebook, receptor, gravador, etc.), tampouco qualquer tipo de material para consulta ou quaisquer objetos mencionados no item 9.2.a do Edital.

7- O candidato só poderá retirar-se da sala de provas após decorridos 60 minutos (1 hora) de seu início.

8- Após decorridos 120 minutos (2 horas) do início das provas, o candidato poderá levar o CADERNO DE QUESTÕES, entregando ao fiscal somente o CARTÃO-RESPOSTA.

9- Não será permitido ao candidato consultar o fiscal sobre quaisquer dúvidas relacionadas às interpretações dos enunciados das questões.

10- Os três últimos candidatos deverão permanecer na sala e somente poderão sair juntos do recinto, após lerem, concordarem e assinarem a ata de sala.

BOA PROVA!

ELABORADO POR:

Leia o texto abaixo da autora **Márcia Rebêlo** e após faça as questões de 01 a 04.
Acreditemos mais em nós

Passamos por muitas situações ao longo de nossa caminhada que nos fazem ficar **angustiad**os e, por muitas vezes, achamos que não alcançaremos nossos objetivos. Achamos que tudo está perdido e que é hora de desistir, de parar, de não mais lutar. Porém, este é o momento de confiarmos mais em nós mesmos e termos foco e sabedoria para continuar persistindo naquilo que buscamos. Devemos acreditar que tudo vai passar e que o sucesso é logo ali.

REBÊLO, Márcia, especialista em Língua Portuguesa

QUESTÃO 01

O texto em questão foi elaborado com a finalidade de:

- A () Fazer com que as pessoas reflitam sobre as dificuldades pelas quais passam ao longo da vida e com isso passem a acreditar e confiar mais nelas mesmas.
- B () Incentivar as pessoas a não conquistarem seu sucesso, pois tudo já está perdido mesmo.
- C () Fazer com que os políticos governem melhor para a sociedade.
- D () Mostrar aos jovens que eles precisam cuidar mais da mente.
- E () Enfatizar a importância do trabalho honesto, porém sem persistir no sucesso.

QUESTÃO 02

Marque a assertiva correta em relação ao texto:

- A () Há a presença de um texto não verbal.
- B () O título do texto não está coerente com a mensagem passada pela autora.
- C () Temos a presença de um texto verbal.
- D () A mensagem textual é sobre valorizar o estudo.
- E () A autora mostra que ninguém passa por situações difíceis.

QUESTÃO 03

A palavra grifada e negritada no texto pode ser substituída sem prejudicar o seu sentido por:

- A () Felizes.
- B () Aflitos.
- C () Esperançosos.
- D () Curiosos.
- E () Tranquilos.

QUESTÃO 04

Após a leitura das palavras abaixo, classifique-as quanto ao número de sílabas, respectivamente:

Sucesso – Ali – Caminhada – Não

- A () Dissílaba - Trissílaba - Polissílaba - Monossílaba.
- B () Monossílaba - Trissílaba - Dissílaba - Trissílaba.
- C () Monossílaba - Trissílaba - Polissílaba - Dissílaba.
- D () Trissílaba - Monossílaba - Polissílaba - Monossílaba.
- E () Trissílaba - Dissílaba - Polissílaba - Monossílaba.

O texto abaixo serve de base para as questões 05 e 06.



<https://br.pinterest.com/pin/702843085598712598/> capturado em 08/06/2023

QUESTÃO 05

Em qual assertiva há a verdadeira mensagem do texto em questão?

- A () As crianças não têm capacidade de aprender, pois são como plantas: estão sempre paradas.
- B () Regar a mente das crianças é fazer com que elas queiram cada vez mais brincar e se divertir.
- C () O professor tem um papel muito importante na vida das crianças, que é fazer com que elas não adquiram conhecimento.
- D () Quando se incentiva uma criança a buscar informação, a querer saber mais, ela, certamente, vai despertar para o mundo encantado do conhecimento e, conseqüentemente, buscará mais e mais.
- E () O cérebro de uma criança não é capaz de adquirir informações; mesmo sendo incentivado, não conseguirá crescer.

QUESTÃO 06

Marque a assertiva em que as palavras “Sementinhas” e “Plantadas” foram separadas corretamente:

- A () Se-me-nti-nhas e Pla-nta-das.
- B () Se-men-ti-nhas e Plan-ta-das.
- C () Se-men-tin-has e Plant-a-das.
- D () Sem-em-ti-nhas e Plan-t-a-das.
- E () Semen-tinhas e Planta-das.

QUESTÃO 07

Leia com atenção os textos abaixo e após assinale a opção conveniente acerca da tipologia textual de cada um:

I. Sou alto, magro, olhos verdes, um pouco estressado e amo ouvir louvor. (Texto narrativo)

II. A COVID-19 é uma doença causada por um vírus da família dos Coronavírus. É responsável por causar febre, dificuldade respiratória e tosse, essa infecção assemelha-se a uma gripe. (Texto informativo)

III. Em pleno século XXI, é de extrema importância refletir sobre a preservação do meio ambiente bem como atuar em prol de uma sociedade mais consciente e limpa. Já ficou mais que claro que a maioria dos problemas os quais enfrentamos atualmente nas grandes cidades, foram gerados pela ação humana. De tal modo, podemos pensar nas grandes construções, alicerçadas na urbanização desenfreada, ou no simples ato de jogar lixo nas ruas. (Texto dissertativo)

IV. Certo dia uma menina chamada Maria Clara estava passeando pelo pátio da escola, quando de repente avistou uma abelha. Ela ficou desesperada, pois tinha medo desse animal e saiu gritando pelo pátio da escola pedindo ajuda. Nisso chegou sua professora que a acalmou e afugentou a abelha. (Texto descritivo)

Estão corretas:

- A () I, II, III e IV.
- B () II e IV, apenas.
- C () III, apenas.
- D () I e III, apenas.
- E () II e III, apenas.

O texto abaixo, de autoria de Charles Chaplin, serve de base para as questões 08 e 09.

A vida me ensinou a sorrir para as pessoas que não gostam de mim, para mostrá-las que sou diferente do que elas pensam...

https://www.pensador.com/charles_chaplin_sobre_a_vida/capturado_em_03/06/2023

QUESTÃO 08

Com base no texto em questão, julgue as premissas e, na sequência, assinale a opção correta:

I. “A vida me ensinou a sorrir...”, o antônimo da palavra grifada é “chorar”.

II. O texto é considerado não verbal.

III. A palavra “pessoas” possui três sílabas, sendo classificada, portanto, em trissílabo.

IV. O texto deveria ser iniciado com letra minúscula.

V. De acordo com a Ortografia Oficial, a palavra “gostam” deveria ser escrita assim: “gostaum”.

Conforme o julgamento das premissas, são verdadeiras:

- A () I e II, apenas.
- B () V, apenas.
- C () I, apenas.
- D () I e III, apenas.
- E () I, II e V, apenas.

QUESTÃO 09

Marque a assertiva correta em relação ao texto lido:

- A () O texto finaliza com uma palavra dissílabo.
- B () Temos a presença de um texto não verbal.
- C () O sinônimo da palavra “não” é “sim”.
- D () A correta separação silábica da palavra “ensinou” é “en-si-no-u”.
- E () A mensagem textual é sobre o poder de um casamento saudável.


QUESTÃO 10

Marque a assertiva em que todos os vocábulos foram grafados de acordo com a Ortografia Oficial Vigente:

- A () Pêra – Assacino – Esseto.
- B () Lingüiça – Pêlo – Pára.
- C () Voo – Ideia – Antirreligioso.
- D () Enjoo – Azaleia – Contra-reforma.
- E () Micro-ondas – Panafricano – Lêem.

MATEMÁTICA**QUESTÃO 11**

Observe a posição dos livros na estante.



Fonte: Prova Brasil (MEC) - Adaptada






Em relação ao livro de geografia, o livro de política está localizado:

- A () Na prateleira inferior 3 livros à direita.
- B () Na prateleira inferior 3 livros à esquerda.
- C () Na mesma prateleira 3 livros à esquerda.
- D () Na prateleira superior 3 livros à esquerda.
- E () Na prateleira superior 3 livros à direita.

QUESTÃO 12

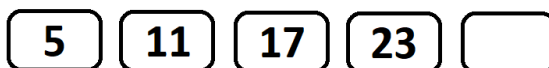
Diego irá viajar em um ônibus que tem ar-condicionado.

Qual das placas a seguir provavelmente indica alguma proibição aos passageiros desse ônibus?

- A () 
- B () 
- C () 
- D () 
- E () 

QUESTÃO 13

Mariana escreveu a sequência numérica a seguir.




Mantendo a regularidade, qual é o quinto elemento dessa sequência?

- A 27.
- B 28.
- C 29.
- D 30.
- E 31.

QUESTÃO 14

Janaína e sua equipe fizeram a decoração do salão paroquial para a festa de São João, da comunidade. Os relógios a seguir mostram o horário do começo e do término dos trabalhos de decoração.



Quanto tempo Janaína e sua equipe levaram para decorar o salão?

- A 5 horas e 32 minutos.
- B 5 horas e 43 minutos.
- C 6 horas e 12 minutos.
- D 6 horas e 27 minutos.
- E 6 horas e 52 minutos.

QUESTÃO 15

Um fazendeiro tinha 168 bois. Comprou mais 85 e depois vendeu 103 deles. Quantos bois esse fazendeiro tem agora?

- A 134.
- B 139.
- C 146.
- D 150.
- E 155.

QUESTÃO 16

Fabiola pretende tirar férias a partir do dia 03 de setembro. Para isso ela deverá comunicar o pedido ao seu patrão com antecedência mínima de 50 dias antes do período das férias. Para que as férias de Fabiola iniciem no período que deseja, ela deverá fazer o comunicado até o dia:

- A 15 de julho.
- B 17 de julho.
- C 19 de julho.
- D 20 de julho.
- E 22 de julho.

QUESTÃO 17

O Sistema Monetário Brasileiro possui as seguintes cédulas.

R\$200,00 – R\$ 100,00 – R\$ 50,00 – R\$ 20,00 – R\$ 10,00 – R\$ 5,00 – R\$ 2,00

Antônio vai a uma casa lotérica para retirar um prêmio de R\$ 276,00 que ganhou. O atendente da lotérica pagou o prêmio a Antônio utilizando a menor quantidade possível de cédulas. Quantas cédulas Antônio recebeu?

- A 5.
- B 6.
- C 7.
- D 8.
- E 9.

QUESTÃO 18

Na figura a seguir, estão alguns objetos que o filho de César separou para a aula de geometria na escola:



Quais deles dão a ideia da representação de poliedros?

- A 1 e 2.
- B 3 e 4.
- C 2, 3 e 5.
- D 1, 3 e 5.
- E 1, 2 e 5.

QUESTÃO 19

Camilo possui, em sua carteira, a quantidade de dinheiro representada na figura a seguir:



Para pagar uma conta, ele precisará retirar a terça parte dessa quantidade. Portanto, o valor dessa conta foi de:

- A
- B
- C
- D
- E

QUESTÃO 20

Henrique trabalha com serviços gerais e está ajudando a organizar a biblioteca de uma escola municipal. Para organizar o espaço, ele deverá distribuir igualmente 954 livros em seis prateleiras. Quantos livros Henrique vai pôr em cada prateleira?

- A 146.
- B 153.
- C 159.
- D 164.
- E 170.

CONHECIMENTOS GERAIS**QUESTÃO 21**

As origens do município têm a ver com o Programa de Integração Nacional/PIN, instituído no ano de 1970 e implantado a partir de 1971, pelo Governo Federal. O objetivo do PIN era o de desenvolver um grande programa de colonização dirigida na Amazônia, trazendo trabalhadores sem terra de diversos pontos do Brasil, em especial do Nordeste.

Fonte: <https://medicilandia.pa.gov.br/o-municipio/historia>

Em que ano Medicilândia se tornou um município?

- A 1985.
- B 1991.
- C 1988.
- D 1986.
- E 1990.

QUESTÃO 22

O Brasil vem se destacando há décadas na exportação de alimentos. Qual o principal produto agrícola de exportação do Brasil?

- A Borracha.
- B Castanha do Brasil.
- C Banana.
- D Soja.
- E Algodão.

QUESTÃO 23

Qual o principal meio de transporte usado no norte do Brasil?

- A Ferroviário.
- B Hidroviário.
- C Rodoviário.
- D Aeroviário.
- E Metroviário.

QUESTÃO 24

"Regiões brasileiras correspondem às divisões do território nacional com base em critérios, como aspectos naturais, sociais, culturais e econômicos. O órgão responsável pela regionalização do Brasil é o Instituto Brasileiro de Geografia e Estatística (IBGE), que divide o país, atualmente, em cinco regiões."

Fonte: : <https://brasilecola.uol.com.br/brasil/regioes-brasileiras.htm>

Marque a alternativa que apresente somente as regiões brasileiras de acordo com a divisão regional do IBGE:

- A Amazônia, Nordeste e Centro-Oeste.
- B Norte, Sudeste, Centro-Sul e Amazônia.
- C Amazônia, Nordeste, Centro-Oeste e Sul.
- D Norte, Nordeste, Sul, Centro-Sul e Sul.
- E Norte, Nordeste, Sudeste, Centro-Oeste e Sul.

QUESTÃO 25

No dia 01 de Maio, é comemorado:

- A O dia da Bandeira.
- B O dia de Tiradentes.
- C O dia do Trabalhador.
- D O dia do Meio Ambiente.
- E O dia da Proclamação da República.

QUESTÃO 26

Na atualidade, o meio de comunicação mais utilizado no mundo é:

- A O Rádio.
- B A Televisão.
- C O Jornal.
- D A Internet.
- E O Telégrafo.

QUESTÃO 27

É um prato típico do Norte/Nordeste feito à base das folhas da maniva/mandioca moídas e cozidas por aproximadamente uma semana (para que se retire da planta o ácido cianídrico), acrescida de carne de porco, carne bovina e outros ingredientes defumados e salgados. É servida acompanhada de arroz branco, farinha de mandioca e pimenta.

Fonte: <https://www.terraraiz.com.br/culinaria-baiana>

O trecho acima refere-se à qual comida típica paraense?

- A Ao vatapá.
- B Ao caruru.
- C À feijoada.
- D À caldeirada.
- E À maniçoba.

QUESTÃO 28

A principal atividade econômica do município de Medicilândia é:

- A O extrativismo de borracha.
- B A agropecuária.
- C O extrativismo de babaçu.
- D A agricultura de café e castanha do Brasil.
- E A indústria de automóveis.

QUESTÃO 29

É considerado um ser mitológico presente nas florestas amazônicas. Segundo relatos e crenças populares, ele possui os calcanhares voltados para frente e os dedos dos pés para trás. Sendo muito difundido no Brasil, suas características variam bastante. Em algumas versões das histórias, ele possui pelos vermelhos e dentes verdes. Em outras versões tem enormes orelhas ou é totalmente calvo.

Fonte: <https://monografias.brasilecola.uol.com.br/educacao/literatura-amazonica-seus-mitos-suas-lendas> (adaptado)

O texto acima se refere à qual lenda amazônica?

- A O curupira.
- B O boto.
- C O mapinguari.
- D O boitatá.
- E O caipora.

QUESTÃO 30

O desmatamento é um dos grandes problemas enfrentados pelo Brasil na atualidade. Assinale a alternativa que apresenta uma das causas do desmatamento na Amazônia:

- A A criação de projetos de reservas florestais.
- B O desenvolvimento de centros de pesquisas sobre as espécies das florestas.
- C O crescimento de áreas de reservas indígenas.
- D A expansão dos projetos agropecuários.
- E A construção de cidades planejadas de acordo com o modelo de preservação ambiental.