



**PREFEITURA MUNICIPAL DE MIRAÍ/MG
CONCURSO PÚBLICO – EDITAL Nº 1/2024,
DE 18 DE ABRIL DE 2024**

CADERNO DE PROVA – MANHÃ

AUXILIAR DE SERVIÇOS GERAIS

LEIA ATENTAMENTE AS SEGUINTE INSTRUÇÕES:

1. Este caderno de prova contém **30 (trinta)** questões de múltipla escolha, de 1 a 30 e distribuídas da seguinte forma:
 - 1 a 10 – Língua Portuguesa;
 - 11 a 20 – Raciocínio Lógico;
 - 21 a 30 – Conhecimentos Gerais.
2. Confira se a quantidade e a ordem das questões deste caderno de prova estão de acordo com as instruções anteriores. Caso o caderno esteja incompleto, tenha defeito ou apresente qualquer divergência, comunique imediatamente ao fiscal de sala para que ele tome as providências cabíveis.
3. Para cada uma das questões de múltipla escolha, são apresentadas **4 (quatro)** alternativas de resposta. Apenas **1 (uma)** resposta responde corretamente à questão.
4. O tempo disponível para esta prova é de **3 (três)** horas.
5. Reserve tempo suficiente para marcar a sua folha de respostas.
6. Os rascunhos e as marcações assinaladas neste caderno **não** serão considerados para avaliação.
7. O candidato somente poderá se retirar do local da aplicação das provas após **1 (uma)** hora de seu início, mas somente poderá levar consigo o caderno de questões no decurso dos últimos **30 (trinta)** minutos anteriores ao horário determinado para o encerramento da prova.
8. Não será permitida a anotação de informações relativas às suas respostas no comprovante de inscrição e/ou em qualquer outro meio.
9. Quando terminar, chame o fiscal de sala, entregue a folha de respostas.
10. Boa prova!

LÍNGUA PORTUGUESA

Texto 1 para responder as questões de 1 a 3.

O que é meio ambiente?

Meio ambiente é definido como o conjunto de elementos e processos biológicos, químicos e físicos que orientam e criam as condições necessárias para a manutenção da vida no planeta Terra. Essa é uma das principais e mais abrangentes definições para o termo, utilizada tanto pela Organização das Nações Unidas (ONU) como pela legislação ambiental brasileira.

Do ponto de vista da Geografia, o meio ambiente compreende também todo o espaço natural e o espaço geográfico, aquele espaço dinâmico que se encontra em processo de modificação pela ação antrópica. Assim, devemos levar em consideração que os seres humanos e a sua organização social e econômica são parte do meio ambiente, interagindo com ele e modificando-o de acordo com a sua necessidade.

(Disponível em: <https://brasilecola.uol.com.br/geografia/meio-ambiente.htm>. Acesso em: 2 ago. 2024.)

Questão 1

Com base nas informações do texto, assinale a alternativa que define “meio ambiente”.

- (A) Um conjunto de elementos naturais, sem a interferência da ação humana.
- (B) Apenas os processos biológicos que mantêm a vida no planeta.
- (C) O conjunto de elementos e processos que mantêm a vida, incluindo a interação humana.
- (D) O espaço geográfico não afetado pela ação antrópica.

Questão 2

De acordo com o texto, assinale a alternativa que apresenta como se dá a relação entre os seres humanos e o meio ambiente.

- (A) Seres humanos são totalmente independentes do meio ambiente.
- (B) Seres humanos são parte integrante do meio ambiente e interagem com ele.
- (C) Seres humanos apenas observam o meio ambiente, sem alterá-lo.
- (D) Seres humanos e o meio ambiente são entidades separadas e não se influenciam mutuamente.

Questão 3

O texto informa que Organização das Nações Unidas (ONU) e a legislação ambiental brasileira adotam uma definição de “meio ambiente”. Nesse contexto, assinale alternativa que indica qual é a importância de uma definição ampla de meio ambiente em contextos como esses.

- (A) Permite a exclusão de fatores humanos na preservação ambiental.
- (B) Facilita a elaboração de políticas públicas que considerem tanto os elementos naturais quanto a intervenção humana.
- (C) Reduz a complexidade das leis ambientais, focando apenas nos aspectos biológicos.
- (D) Garante que o meio ambiente seja visto como um conceito puramente geográfico, sem levar em conta processos químicos e físicos.

Questão 4

No que se refere a palavra que está acentuada de acordo com as regras de ortografia e acentuação gráfica da língua portuguesa, assinale alternativa correta.

- (A) Cerébro.
- (B) Década.
- (C) Angulo.
- (D) Abobora.

Questão 5

Com relação a diferença entre fonemas e letras, assinale a alternativa correta.

- (A) Fonemas são as letras que escrevemos, enquanto letras são os sons que pronunciamos.
- (B) Fonemas são os sons da fala, enquanto letras são os símbolos gráficos que representam esses sons.
- (C) Fonemas são usados apenas em línguas faladas, enquanto letras são usadas somente em línguas escritas.
- (D) Fonemas e letras são sinônimos e podem ser usados de forma intercambiável.

Questão 6

No que se refere a concordância verbal e nominal, assinale alternativa correta.

- (A) Os livros que a professora recomendou estavam muito interessante para os alunos.
- (B) Aquelas ideias que o escritor apresentou na conferência foram bem aceitas pelos críticos e leitores.
- (C) As casas que foram vendidas há pouco tempo ainda estão disponível para inspeção.
- (D) O grupo de estudantes que participou do projeto estavam muito animados com o resultado.

Questão 7

No que se refere a frase: “Ela vendeu seu apartamento e comprou uma casa nova porque **queria** um lugar maior”, assinale alternativa que indique a classe gramatical da palavra destacada.

- (A) Pronome.
- (B) Substantivo.
- (C) Adjetivo.
- (D) Verbo.

Questão 8

Em relação a frase “Para a sobremesa, teremos uma deliciosa _____.” Assinale a alternativa que preencha a lacuna.

- (A) Melância
- (B) Melância
- (C) Melânçia
- (D) Melancia

Questão 9

Acerca do sentido denotativo, assinale a alternativa correta.

- (A) Ela caiu de amores pelo cachorro de rua e trouxe-o para casa.
- (B) Pedro achava que tinha um rei na barriga.
- (C) A polícia capturou os três fugitivos que haviam fugido da penitenciária essa noite.
- (D) Parece que a bateria da minha filha não acaba nunca!

Questão 10

No que concerne a uma oração sem sujeito, assinale a alternativa correta.

- (A) Choveu a noite toda.
- (B) Os alunos estão eufóricos.
- (C) Viajei a fim de reencontrar minha amiga.
- (D) Falaram que a prova foi complicadíssima.

RACIOCÍNIO LÓGICO**Questão 11**

Uma loja de construção possui 10.000 tijolos em estoque. Durante uma promoção de final de semana, ela conseguiu vender $\frac{1}{4}$ do seu estoque para o primeiro cliente que entrou na loja. Outros dois clientes compraram o equivalente a $\frac{1}{5}$ do estoque cada um. O total de tijolos que sobraram é igual a

- (A) 1.500.
- (B) 2.500.
- (C) 3.500.
- (D) 4.000.

Questão 12

Bruno foi convidado a participar da corrida em homenagem ao aniversário do município. Ele decidiu se preparar e, no primeiro final de semana de treinos, correu 2 km. No final de semana seguinte ele aumentou a distância percorrida em 20%. Qual distância Bruno correu no 2º final de semana de treinos?

- (A) 240 metros.
- (B) 1.800 metros.
- (C) 2.200 metros.
- (D) 2.400 metros.

Questão 13

A relojoaria está com a seguinte promoção: na compra de um relógio o cliente pode comprar uma segunda peça de mesmo valor com 50% de desconto. João decide aproveitar a promoção e escolheu dois relógios no valor inicial de R\$ 250,00/cada. Quanto João irá pagar pelos dois relógios na promoção?

- (A) R\$ 250,00.
- (B) R\$ 300,00.
- (C) R\$ 350,00.
- (D) R\$ 375,00.

Questão 14

As aulas no turno da tarde começam às 14h30. Considerando o horário informado no relógio abaixo e que o intervalo da hora do almoço já encerrou, quantos minutos faltam para o início das aulas?



- (A) 10 minutos.
- (B) 20 minutos.
- (C) 30 minutos.
- (D) 40 minutos.

Questão 15

Em uma receita é necessário 1 kg de farinha de trigo para um bolo que servirá 20 porções. Quanto de farinha será necessário para um bolo menor e que servirá apenas 12 porções?

- (A) 600 gramas.
- (B) 0,8 kg.
- (C) 1.200 gramas.
- (D) 2,4 kg.

Questão 16

“A casa de Maria fica perto das casas de Rosa e de Márcia, mas longe da casa de Rute. Portanto, Rute mora _____ de Rosa e _____ de Márcia.” Assinale a alternativa que completa correta e sequencialmente a afirmativa anterior.

- (A) perto / perto
- (B) perto / longe
- (C) longe / perto
- (D) longe / longe

Questão 17

Um time de voleibol possui 15 jogadoras que usam uniforme com a numeração sequencial entre 4 e 18. Quantas vezes aparece o algarismo 1 na numeração das jogadoras?

- (A) 9.
- (B) 10.
- (C) 12.
- (D) 15.

Questão 18

Na padaria do Sr. Joaquim o cento de salgados para festa sai por R\$ 30,00. Se o cliente comprar 200 salgados o preço é de R\$ 57,00. Qual o percentual do desconto oferecido para a compra de 200 salgados em relação ao valor inicial para 100 salgados?

- (A) 3% (três por cento).
- (B) 5% (cinco por cento).
- (C) 8% (oito por cento).
- (D) 10% (dez por cento).

Questão 19













Qual o valor da seguinte soma de frações?

$$\frac{1}{2} + \frac{1}{5} + \frac{2}{8} =$$





- (A) $\frac{7}{18}$
- (B) $\frac{70}{80}$
- (C) $\frac{38}{40}$
- (D) $\frac{38}{80}$

Questão 20

Observe a sequência de figuras a seguir:

												...
1ª	2ª	3ª	4ª	5ª	6ª	7ª	8ª	9ª	10ª	11ª	12ª	...
Posição	Posição	Posição	Posição	Posição	Posição	Posição	Posição	Posição	Posição	Posição	Posição	...

Assinale a alternativa que apresenta corretamente a figura que está na 80ª posição.

- (A) 
- (B) 
- (C) 
- (D) 

CONHECIMENTOS GERAIS**Questão 21**

Em 1984, houve um movimento que defendia a Emenda Dante de Oliveira, que por sua vez, objetivava garantir a realização de eleições presidenciais pelo voto do povo brasileiro nas eleições de 1985. O movimento realizou campanhas em várias cidades brasileiras por meio de comícios em praças públicas, reunindo milhares de pessoas. Com base nesse assunto, assinale a alternativa que apresenta o nome desse movimento.

- (A) Caras pintadas.
- (B) Jornadas de Junho.
- (C) Diretas Já.
- (D) Canudo.

Questão 22

O Mercado Comum do Sul (Mercosul) é um bloco que visa a integração entre países sul-americanos. No que se refere ao Mercosul, assinale a alternativa correta.

- (A) O Mercosul impõe aos membros a adequação das políticas econômicas na tentativa de assegurar aos seus integrantes condições de concorrência no cenário capitalista mundial.
- (B) No campo político, os Estados, ao entrarem nesse bloco econômico, têm obrigação de adequar seus sistemas de governo a algumas exigências impostas, como a democracia, Direitos Humanos e políticas de desenvolvimento social.
- (C) A Tarifa Externa Comum (TEC) foi estabelecida com o propósito de nortear o comércio entre os países membros.
- (D) Um dos acordos do Mercosul é a necessidade de visto ou passaporte para o trânsito de pessoas dentro do bloco.

Questão 23

No que se refere a educação brasileira, assinale a alternativa correta.

- (A) O docente é o profissional que possui um piso salarial estabelecido em lei, no entanto, muitos professores ainda são remunerados abaixo do piso salarial.
- (B) O Brasil apresenta um alto investimento na educação equiparando-se a outros países.
- (C) A dificuldade de aprendizagem ocorre devido aos jovens chegarem ao Ensino Médio sem vontade de adquirir novos conhecimentos.
- (D) A evasão escolar ocorre quando um aluno deixa de se matricular.

Questão 24

Tecnologias novas são extremamente importantes porque elas têm o potencial de melhorar significativamente a qualidade de vida das pessoas em muitas áreas diferentes. Com relação ao tema tecnologias, assinale a alternativa correta.

- (A) As novas tecnologias mundiais podem tornar muitas atividades mais eficientes, reduzindo o tempo necessário para executar tarefas e automatizando muitos processos. Isso pode levar a uma menor produtividade e a um aumento significativo nos custos.
- (B) Uma nova tecnologia também pode democratizar o conhecimento, permitindo que pessoas de diferentes partes do mundo tenham acesso às informações valiosas e aprendam novos assuntos. Contudo, isso pode promover uma desigualdade de oportunidades social, além de prejudicar a qualidade de vida para as pessoas.
- (C) Tecnologias novas, quando se pensa em toda a era da internet, por exemplo, podem melhorar a comunicação entre as pessoas, permitindo que elas se conectem rapidamente com quem não está próximo fisicamente. Isso pode levar a uma maior colaboração e troca de ideias, bem como uma melhor compreensão entre as culturas.
- (D) O surgimento dessas tecnologias pode ser impulsionado apenas pelos cientistas.

Questão 25

Cada um dos pilares da sustentabilidade desempenha um papel importante na criação de um equilíbrio entre as necessidades presentes e futuras da sociedade, do meio ambiente e da economia global. No que se refere aos pilares da sustentabilidade, assinale a alternativa correta.

- (A) O pilar econômico se concentra na prosperidade a longo prazo das empresas, organizações e sociedades como um todo.
- (B) No pilar ambiental a proteção do ambiente beneficia apenas a natureza, e impacta na manutenção da economia global a longo prazo.
- (C) O pilar social coloca as pessoas e as comunidades no centro das preocupações, pois fundamenta-se em garantir a segurança do modo que a sociedade vive na atualidade.
- (D) O pilar econômico da sustentabilidade nas empresas envolve a gestão financeira cautelosa e com dificuldade em agregar valor de mercado.

Questão 26

O primeiro patrimônio cultural de Mirai se confunde com a própria história de fundação do povoado que deu origem ao município. Com relação ao primeiro patrimônio cultural de Mirai, assinale a alternativa que indica qual é esse patrimônio.

- (A) Praça Dr. Miguel Pereira.
- (B) Cine Theatro Mirahy.
- (C) Clube Mirahy.
- (D) Igreja Matriz de Santo Antônio.

Questão 27

Minas Gerais é detentora de uma enorme diversidade cultural, fruto tanto da sua localização geográfica, entre estados de diferentes regiões do país, quanto do processo de formação de sua população. Com relação à manifestação típicas de Minas Gerais, assinale a alternativa que apresenta uma festa regional.

- (A) Festa do Congado.
- (B) Festival de Parintins.
- (C) Cavalhadas de Pirenópolis.
- (D) Festa de Carimbó de Marajó.

Questão 28

Nos primeiros anos do século 19, os gritos de Independência iniciados pelos árcades e a vontade de mudança social estimulada pelos abolicionistas dominavam parte da produção artístico-literária no país. Inspirados por esse cenário, “A Escrava Isaura” marcou como a obra de maior destaque dessa fase. Nesse contexto, assinale a alternativa que aponta o nome do autor de “A Escrava Isaura”.

- (A) Afonso Henrique da Costa Guimarães.
- (B) Tomás Antônio Gonzaga.
- (C) Bernardo Guimarães.
- (D) Basílio da Gama.

Questão 29

As fontes renováveis de energia são aquelas formas de produção de energia em que suas fontes são capazes de manter-se disponíveis durante um longo prazo, contando com recursos que se regeneram ou que se mantêm ativos permanentemente. Com base nas informações, assinale a alternativa que apresenta um tipo de energia renovável.

- (A) Carvão Mineral.
- (B) Biomassa.
- (C) Petróleo.
- (D) Gás natural.

Questão 30

Em Ouro Preto (MG) o traçado urbano colonial mantém-se intacto e o mesmo ocorre com os exemplares da arquitetura religiosa e civil mais expressivos, e as suas obras de arte preservadas. Nesse contexto, assinale a alternativa que apresenta um patrimônio cultural de Ouro Preto.

- (A) Cais do Valongo.
- (B) Brasília.
- (C) Parque Nacional da Serra da Capivara.
- (D) Igreja São Francisco de Assis.

Realização
Instituto
ACCESS