



# INSTRUÇÕES

## LEIA COM ATENÇÃO

1. Este Caderno de Prova, com páginas numeradas de **1 a 21**, é constituído de **50 (cinquenta)** questões objetivas, cada uma com **4 (quatro)** alternativas, assim distribuídas:

**01 a 10 – Língua Portuguesa**

**11 a 20 – Informática Básica**

**21 a 30 – Conhecimentos Diversos**

**31 a 50 – Conhecimentos Específicos**

2. Caso o Caderno de Prova esteja incompleto ou tenha qualquer defeito de impressão, solicite ao fiscal que o substitua.

### 3. Sobre a Marcação do Cartão de Respostas

*As respostas deverão ser, obrigatoriamente, transcritas com caneta esferográfica de tinta azul ou preta não porosa, fabricada em material transparente, para o Cartão de Respostas, que será o único documento válido para correção. Não haverá substituição do Cartão de Respostas por erro do candidato.*

- 3.1.** Para cada questão existe apenas uma alternativa que a responde acertadamente. Para a marcação da alternativa escolhida no **CARTÃO DE RESPOSTAS**, pinte **completamente** o círculo correspondente.

*Exemplo: Suponha que para determinada questão a alternativa C seja a escolhida.*

Nº da Questão
<input type="radio"/> A
<input type="radio"/> B
<input checked="" type="radio"/>
<input type="radio"/> D

- 3.2.** Marque apenas uma alternativa para cada questão.
  - 3.3.** Será invalidada a questão em que houver mais de uma marcação, marcação rasurada ou emendada, ou não houver marcação.
  - 3.4.** Não rasure nem amasse o **CARTÃO DE RESPOSTAS**.
4. Todos os espaços em branco, neste caderno, podem ser utilizados para rascunho.
  5. A duração da prova é **4 (quatro)** horas, já incluído o tempo destinado ao preenchimento do **CARTÃO DE RESPOSTAS**.
  6. Somente após decorridas **2 horas e 30 minutos** do início da prova, o candidato, depois de entregar seu Caderno de Prova e seu Cartão de Respostas, poderá retirar-se da sala de prova. O candidato que insistir em sair da sala de prova antes desse tempo deverá assinar **Termo de Ocorrência** declarando sua desistência do concurso.
  7. Na página **21** deste Caderno de Prova, encontra-se a **Folha de Anotação do Candidato**, a qual poderá ser utilizada para a transcrição das respostas das questões objetivas. Essa folha poderá ser levada pelo candidato para posterior conferência com o gabarito somente após decorridas **2 horas e 30 minutos** do início da prova.
  8. Será permitida a saída de candidatos levando o Caderno de Prova somente **na última meia hora** de prova.
  9. Após o término da prova, o candidato deverá, obrigatoriamente, entregar ao fiscal o **CARTÃO DE RESPOSTAS** devidamente assinado (no espaço próprio) e preenchido.

# LÍNGUA PORTUGUESA

**Instrução: Leia o texto a seguir e responda às questões de 01 a 03.**

Sempre me angustiou a situação das pessoas que são objeto das diferentes formas de tráfico. Quem dera que se ouvisse o grito de Deus, perguntando a todos nós: “Onde está o teu irmão?” (Gn 4, 9). Onde está o teu irmão escravo? Onde está o irmão que estás matando cada dia na pequena fábrica clandestina, na rede de prostituição, nas crianças usadas para a mendicância? Naquele que tem de trabalhar às escondidas porque não foi regularizado? Não nos façamos de distraídos! Há muita cumplicidade... A pergunta é para todos! Nas nossas cidades, está instalado este crime mafioso e aberrante, e muitos têm as mãos cheias de sangue devido a uma cômoda e muda cumplicidade.

(Exortação apostólica do Sumo Pontífice Francisco. *Evangelii Gaudium*. São Paulo: Edições Loyola Jesuítas, 2013.)

## QUESTÃO 01

A respeito das ideias veiculadas no texto, marque V para as verdadeiras e F para as falsas.

- ( ) O tráfico humano é praticado de maneiras diferenciadas, não só da mesma maneira.
- ( ) Há cumplicidade das pessoas em não se envolver na questão do tráfico humano.
- ( ) As pessoas são conclamadas a não serem cúmplices do crime de tráfico humano.
- ( ) Nem todas as pessoas são consideradas irmãs, são classificadas em livres e escravas.

Assinale a sequência correta.

- [A] V, F, F, V
- [B] F, F, V, V
- [C] V, V, V, F
- [D] F, V, F, F

## QUESTÃO 02

Sobre recursos discursivos usados no texto, analise as afirmativas.

- I. No trecho *Quem dera que se ouvisse o grito de Deus*, é expresso um desejo ou ordem, portanto está no modo imperativo.
- II. Em *muitos têm as mãos cheias de sangue devido a uma cômoda e muda cumplicidade*, há presença de sinestesia, pois evidenciam-se sensações percebidas pelo corpo humano, como visão, olfato, audição e tato.
- III. A citação de um trecho bíblico “*Onde está teu irmão?*” (Gn 4, 9) traz para o texto o recurso da intertextualidade.
- IV. Por ser um texto de caráter religioso, a frase *Não nos façamos de distraídos!* é uma ordem a ser cumprida pelos fiéis.
- V. As perguntas feitas no texto podem ser denominadas perguntas retóricas, pois objetivam expressar crítica e estimular uma reflexão no leitor, sem necessariamente esperar respostas.

Estão corretas as afirmativas

- [A] II, III e V, apenas.
- [B] I, II, IV e V, apenas.
- [C] I, III e IV, apenas.
- [D] I, II, III e V, apenas.

## QUESTÃO 03

Há, na língua portuguesa, sufixos que formam substantivos de adjetivos, como *altivez* e *beleza*. Geralmente são nomes abstratos e indicam qualidade, estado, propriedade e modo de ser. Qual palavra do texto é exemplo dessa formação?

- [A] *cumplicidade*
- [B] *mafioso*
- [C] *aberrante*
- [D] *prostituição*

**Instrução: Leia o texto a seguir e responda às questões 04 e 05.**

A diferença entre diversidade e inclusão reside na abrangência e na implementação efetiva das diferenças.

Diversidade refere-se à presença de uma variedade de características, como raça, gênero, idade, orientação sexual, origem étnica e habilidades, dentro de um grupo ou organização. É sobre a representação de diferentes identidades e perspectivas.

Por outro lado, inclusão vai além da mera presença e engloba a criação de um ambiente onde todas essas diferenças são valorizadas, respeitadas e incorporadas de maneira equitativa. Inclusão é a prática de garantir que todos os membros de uma comunidade se sintam reconhecidos, aceitos e capacitados a contribuir plenamente, independentemente de suas características individuais.

Assim, enquanto a diversidade se concentra nas diferenças visíveis e invisíveis, a inclusão é a atitude e a prática de acolher e promover essas diferenças de forma ativa.

(Disponível em: <https://exame.com/esg/diversidade>. Acesso em: 23/05/2024. Adaptado.)

**QUESTÃO 04**

A respeito da construção do texto, assinale a afirmativa **INCORRETA**.

- [A] O primeiro parágrafo traz uma introdução ao assunto do texto, e uma retomada dos focos, à guisa de conclusão ao apresentado anteriormente, encontra-se no quarto parágrafo.
- [B] *Por outro lado* e *Assim* são operadores argumentativos, responsáveis pela articulação dos sentidos pretendidos.
- [C] O segundo parágrafo estabelece coesão com o primeiro pelo uso de um elemento coesivo de reiteração, ou seja, pela repetição da palavra *diversidade*.
- [D] Uma discussão sobre os dois focos do assunto é apresentada tanto no parágrafo segundo quanto no terceiro.

**QUESTÃO 05**

Em relação a recursos linguísticos presentes no texto, marque V para as afirmativas verdadeiras e F para as falsas.

- ( ) No segundo parágrafo, a regência do verbo referir exige o uso de preposição, daí haver crase na expressão *à presença*.
- ( ) No terceiro parágrafo, a relação de correção ao dito anteriormente no texto é dada pelo operador argumentativo *Por outro lado*.
- ( ) No terceiro parágrafo, a palavra *independentemente*, como está na função de advérbio, prescinde do sufixo *mente*.
- ( ) No último parágrafo, há dois adjetivos que não se flexionam em gênero, somente em número.

Assinale a sequência correta.

- [A] V, V, F, F
- [B] V, F, F, V
- [C] F, F, V, V
- [D] F, V, V, F

**QUESTÃO 06**

O sinal de pontuação denominado vírgula, além de indicar na escrita breve pausa, serve também para organizar as partes de um texto, ou seja, é uma ferramenta para auxiliar a coesão textual. Assinale a afirmativa que apresenta uso correto desse sinal, de acordo com as regras da escrita culta.

- [A] Além do tão famoso Pelourinho, onde é possível conhecer a origem dos ritmos baianos outros pontos turísticos coloniais, incluem a Igreja e Convento de São Francisco e a Catedral Basílica de Salvador, com azulejos portugueses e esculturas banhadas a ouro.
- [B] Em março, deste ano, a Justiça determinou a interdição parcial do Centro de Ressocialização. Segundo Sistema de Gestão Penitenciária a unidade tinha 318 reeducandos, mais de 160% da sua capacidade que é de 192 pessoas privadas de liberdade.
- [C] O Aeroporto Salgado Filho, em Porto Alegre capital, de Rio Grande do Sul, está fechado por tempo indeterminado, com todas as operações suspensas, a partir desta segunda (6/5).
- [D] O assunto, hoje, é a vinoterapia, que promove tratamentos estéticos à base de vinho. Segundo uma estudiosa, o assunto foi tema de uma reportagem da revista *Adega*, especialista no mundo dos vinhos.

Amores virtuais e sentimentos byteanos conjugados

Chegou à conclusão de que a única forma de encontrar o seu príncipe encantado era por meio de sites de relacionamentos, especializados em unir pessoas com características semelhantes. Moça tímida, recatada, criada sob o rigor de um pai severo, nunca fora de sair, fazer amigos, paquerar. Encontrar um namorado, dentro de casa, assistindo novela das 6, das 7 e das 8 seria humanamente impossível. Mas, chegando perto dos 40 anos, chegou à conclusão de que precisava mudar. E a solução seria acreditar em amores virtuais.

Acessou o site. O primeiro campo a ser preenchido era Apelido. Um apelido, meu Deus! Mas que apelido? O apelido de criança? Nem pensar. “Miss Pança” estava fora de cogitação. Assustaria qualquer pretendente. Ela precisava de algo mais quente, mais sugestivo, mas sem ser extravagante demais. Que tal “Donzela em Erupção”? Não era o exemplo perfeito de criatividade, mas não deixava de ser sincero. Se não fosse sincera agora, o que dizer depois de iniciar um relacionamento?

Mas, na hora de preencher campos como Idade, Altura e Peso, hesitou. *Sinceridade demais desgasta a relação*, pensou, como uma especialista em relações amorosas. Por isso, diminuiu idade e peso, e aumentou a altura. No campo Cantor (a) Preferido (a), achou que Xuxa passaria uma imagem ruim. Melhor Elis Regina. *Homens gostam de mulheres cultas*. Livros? Na vida, ela só tinha lido Dale Carnegie. Por isso, arriscou um Patrick *Sufind* – embora ela tentasse se referir a Patrick Süskind – que fora citado em alguma nota da Cláudia, mês passado. No campo Sonho, chegou à conclusão de que se colocasse a verdade (aquela verdade que cultivava ternamente desde seus 12 anos) de que queria casar e ter uma ninhada de 3 ou 4 filhos, ah, aí sim ninguém se interessaria por ela.

No final das contas, havia mudado tantas características, tantas referências, tantas especialidades que a “Donzela em Erupção” poderia ser qualquer pessoa do mundo, menos ela.

Ficou deprimida ao perceber que, se ela agia dessa maneira, ocultando suas características e inventando outras qualidades, outros fariam o mesmo. Em outras palavras: se recebesse o e-mail dum jovem de vinte e poucos anos, atlético, olhos claros, nominado Poeta Coruscante, deveria entender: coroa desorientado, barrigudo, consumidor assíduo de espetinho e ovo cozido no Bar do Joca, e torcedor fanático do Grêmio Maringá.

Pensou melhor. Bem melhor, por sinal. Fechou o navegador sem salvar seu cadastro e foi assistir, emocionada, a mais uma eliminatória de A Fazenda.

(MARTINS, J. Disponível em: <https://corrosiva.com.br>. Acesso em: 10/07/2024.)

**QUESTÃO 07**

A respeito do texto, assinale a afirmativa correta.

- [A] Por ser a personagem moça tímida, solitária, mostra-se ao longo do texto bastante culta e interessada em obras literárias.
- [B] A falta de sinceridade que pessoas cadastradas nos sites de relacionamento vivenciam vale a pena, tendo em vista a criatividade no preenchimento dos campos do cadastro.
- [C] O sonho de namorar e se casar da personagem levou-a a se inscrever em um site de relacionamento, mas ela desistiu ao se dar conta das invencionices que teria que cometer e que certamente receberia.
- [D] O texto configura-se um conto, pois que há uma única personagem, narrativa breve e local único de desenvolvimento da narrativa.

**QUESTÃO 08**

Há trechos em itálico no texto que provavelmente indicam ideias

- [A] que a personagem rejeita.
- [B] já formadas da personagem.
- [C] das quais a personagem se envergonha.
- [D] questionadas pela personagem.

### QUESTÃO 09

Sobre conjunções empregadas no texto, assinale a afirmativa correta.

- [A] Em *Por isso, diminuiu idade e peso, e aumentou a altura.*, a conjunção destacada expressa sentido de causa.
- [B] Em *Mas, chegando perto dos 40 anos, chegou à conclusão de que precisava mudar.*, a conjunção destacada indica ideia de conclusão.
- [C] Em *Se não fosse sincera agora, o que dizer depois de iniciar um relacionamento?*, a conjunção destacada expressa sentido de consequência.
- [D] Em *Por isso, arriscou um Patrick Süskind – embora ela tentasse se referir a Patrick Süskind*, a conjunção destacada introduz ideia de concessão.

### QUESTÃO 10

Tome o trecho:

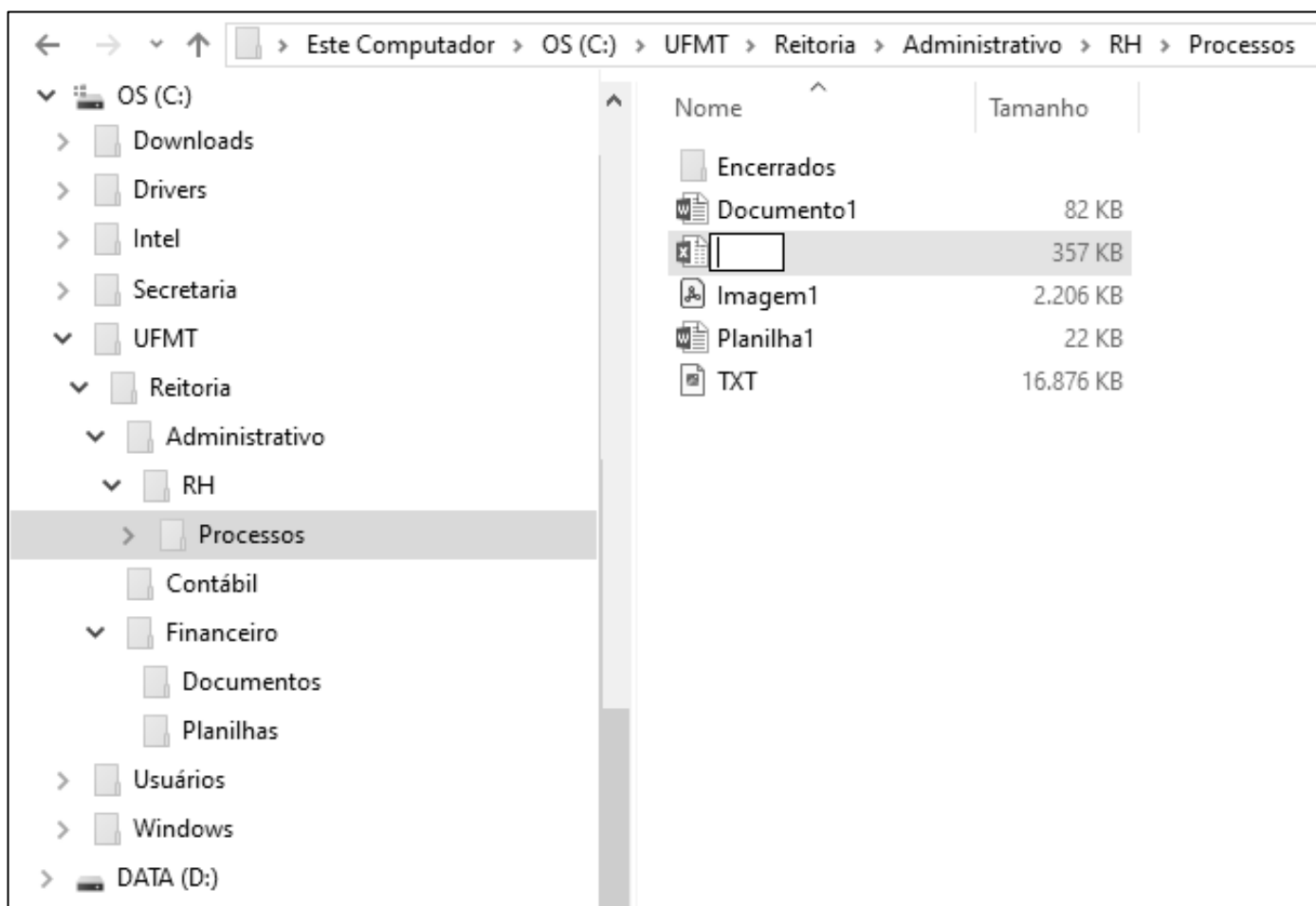
Naming rights se refere ao direito de uma empresa ter seu nome associado a um local, evento, estádio, edifício ou qualquer outra propriedade. Isso geralmente é feito através de um acordo financeiro, onde a empresa paga para ter seu nome vinculado a determinado local ou evento. Quando uma empresa adquire os naming rights de um estádio esportivo, o estádio passa a ser conhecido pelo nome da empresa em troca do pagamento acordado, por exemplo, como a Arena Neo Química Corinthians.

Reescrevendo esse trecho com correção gramatical, coesão e coerência, fica:

- [A] Naming rights refere-se ao direito de uma empresa ter seu nome associado a um local, evento, estádio, edifício ou qualquer outra propriedade. Isso geralmente é feito por meio de um acordo financeiro, em que a empresa paga para ter seu nome vinculado a determinado local ou evento. Quando uma empresa adquire os naming rights de um estádio esportivo, o estádio passa a ser conhecido pelo nome da empresa em troca do pagamento acordado, como a Arena Neo Química Corinthians.
- [B] Naming rights se refere ao direito de uma empresa ter seu nome associado a um local, evento, estádio, edifício ou qualquer outra propriedade. Isso geralmente é feito mediante um acordo financeiro, onde a empresa paga para ter seu nome vinculado ao determinado local ou evento. Quando uma empresa adquire os naming rights de um estádio esportivo, o estádio passa a ser conhecido pelo nome da empresa em troca do pagamento acordado, por exemplo, como a Arena Neo Química Corinthians.
- [C] Naming rights refere-se ao direito de uma empresa ter seu nome associado em um local, evento, estádio, edifício ou qualquer outra propriedade. Isso geralmente é feito através de um acordo financeiro, que a empresa paga para ter seu nome vinculado a determinado local ou evento. Quando uma empresa adquire os naming rights de um estádio esportivo, o estádio passa a ser conhecido pelo nome da empresa em troca do pagamento acordado, por exemplo a Arena Neo Química Corinthians.
- [D] Naming rights se refere ao direito de uma empresa ter seu nome associado a um local, evento, estádio, edifício ou qualquer outra propriedade. Isso geralmente é feito através de um acordo financeiro, em que a empresa paga para ter seu nome vinculado em determinado local ou evento. Quando uma empresa adquire os naming rights de um estádio esportivo, o estádio passa a ser conhecido pelo nome da empresa em troca do pagamento acordado, por exemplo, como a Arena Neo Química Corinthians.

# INFORMÁTICA BÁSICA

**Instrução:** As questões 11 e 12 referem-se à figura seguinte, que ilustra um fragmento de tela do Explorador de Arquivos do Windows 10 com a pasta Processos selecionada (lado esquerdo da tela) e um arquivo prestes a ser renomeado (lado direito da tela).



## QUESTÃO 11

Sobre a figura, analise as afirmativas.

- I. É perfeitamente permissível pelo Windows 10 renomear o arquivo que está sendo editado, com o nome Documento1.
- II. O arquivo Imagem1 possui mais de 2 MB (megabyte) e é do tipo bmp (imagem de bitmap).
- III. É possível visualizar na tela que o computador possui, pelo menos, duas unidades de memória secundária.
- IV. O layout de exibição selecionado para a pasta Processos, que está selecionada, é ícones pequenos.

Estão corretas as afirmativas

- [A] I e III, apenas.  
[B] II e IV, apenas.  
[C] I, II e IV, apenas.  
[D] I, II, III e IV.

**QUESTÃO 12**

Sobre a figura, marque V para as afirmativas verdadeiras e F para as falsas.

- ( ) A pasta Contábil não possui qualquer pasta (subpasta) em seu conteúdo.  
 ( ) A pasta Financeiro é conteúdo (subpasta) da pasta Reitoria.  
 ( ) A pasta Usuários é conteúdo (subpasta) da pasta UFMT.  
 ( ) O arquivo TXT possui quase 17 MB e é conteúdo da pasta Encerrados.

Assinale a sequência correta.

- [A] F, F, V, V  
 [B] F, V, F, V  
 [C] V, F, V, F  
 [D] V, V, F, F

**QUESTÃO 13**

A tabela abaixo apresenta três anúncios de computadores (notebooks) extraídos da internet, identificados como Comp1, Comp2 e Comp3, respectivamente.

Notebook ASUS X515MA, Intel Celeron Dual Core, 8 GB RAM, 128 GB SSD, Windows 11.	Notebook Acer Aspire 3, Intel Core i3, 4 GB RAM, 256 GB SSD, Windows 11.	Notebook Acer Nitro V15, Intel Core i5, 8 GB RAM, 512 GB SSD, Windows 11.
Comp1	Comp2	Comp3

Sobre a tabela, analise as afirmativas.

- I. O Comp1 possui o dobro da capacidade de memória principal que o Comp2.  
 II. O Comp3 possui capacidade de memória secundária superior que a do Comp1.  
 III. Os três possuem processadores da mesma marca, mas modelos distintos.  
 IV. O Comp2 possui o dobro da capacidade de memória secundária que a do Comp1.

Está correto o que se afirma em

- [A] III, apenas.  
 [B] I, II, III e IV.  
 [C] I, II e IV, apenas.  
 [D] I e III, apenas.

**QUESTÃO 14**

Sobre códigos maliciosos (malware) e ferramentas de proteção (antimalware), analise as afirmativas.

- I. O firewall é uma ferramenta antimalware que faz a varredura nos arquivos armazenados em um computador para detecção de arquivos infectados e eliminação dos códigos maliciosos (malware).  
 II. Recomenda-se usar a conta de administrador para todas as atividades no computador, mesmo aquelas mais cotidianas, como acessar sites, a fim de ajudar a limitar as ações dos códigos maliciosos.  
 III. O vírus propaga-se enviando cópias de si mesmo por e-mails e mensagens, e atualmente não é muito comum, mas seu nome costuma ser usado como sinônimo para qualquer tipo de código malicioso.  
 IV. O stalkerware é projetado para espionar o dono do dispositivo, que não autorizou e não sabe que tal código está instalado, e as informações coletadas são enviadas para quem o instalou ou induziu sua instalação (stalker).

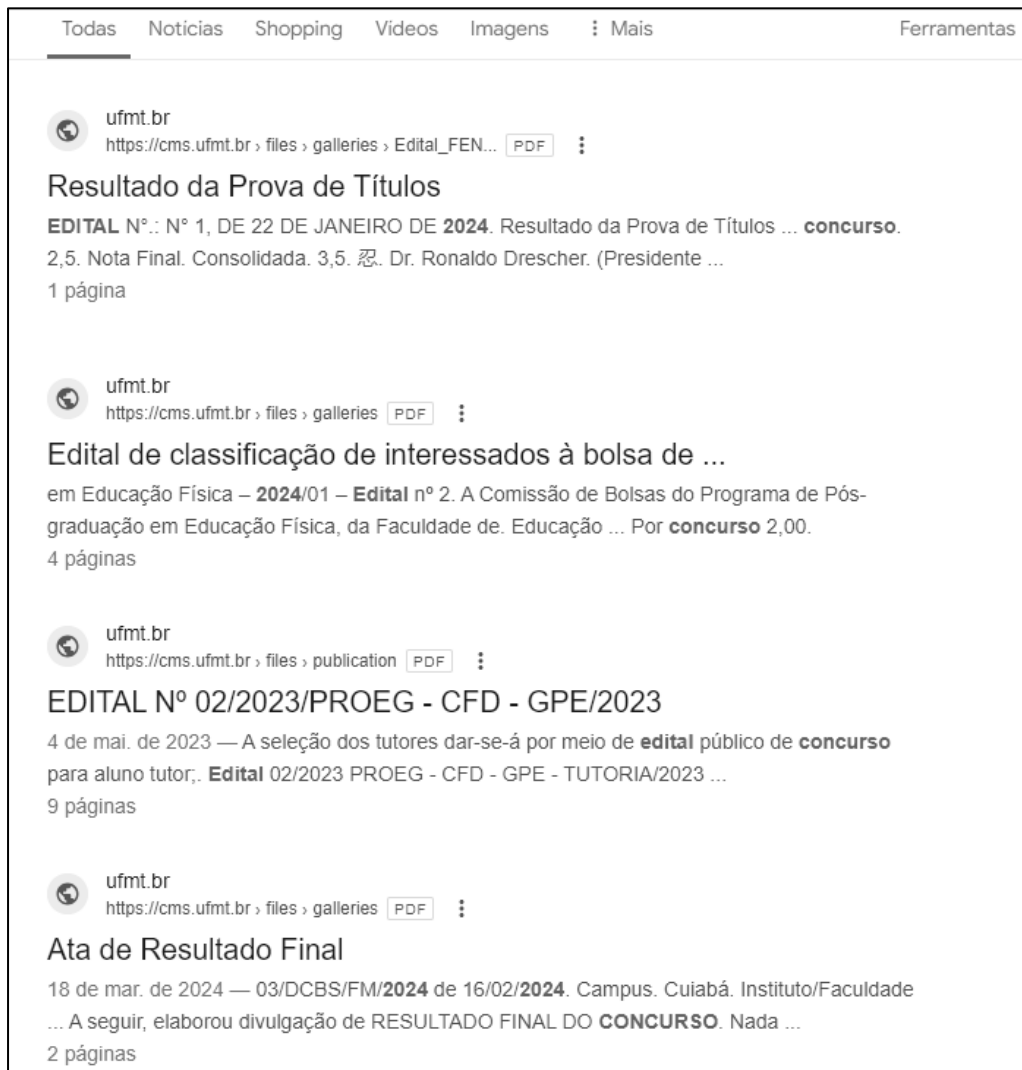
Estão corretas as afirmativas

- [A] I e II, apenas.  
 [B] I, II e IV, apenas.  
 [C] III e IV, apenas.  
 [D] I, II, III e IV.







### QUESTÃO 15

A figura seguinte apresenta um fragmento de tela exibindo alguns resultados produzidos pelo motor de busca do Google ([www.google.com.br](http://www.google.com.br)).



De acordo com a figura, qual termo de busca foi digitado na caixa de pesquisa do google para produzir os resultados apresentados?

- [A]  Edital 2024 -Concurso site:ufmt.br filetype:pdf
- [B]  Edital 2024 "Concurso" site:ufmt.br filetype:pdf
- [C]  -Edital -2024 -Concurso site:ufmt.br filetype:pdf
- [D]  Edital 2024 "Concurso" site:gov.br filetype:pdf

### QUESTÃO 16

Sobre conceitos de internet e segurança da informação, marque V para as afirmativas verdadeiras e F para as falsas.

- ( ) O protocolo HTTP faz a criptografia do transporte de dados para que estes não fiquem visíveis para usuários externos e recentemente substituiu o HTTPS, sendo atualmente o padrão para a maioria dos sites.
- ( ) Dentro do protocolo HTTPS existe um outro protocolo responsável por inserir a camada de criptografia, tal como o TLS, que une as forças das chaves assimétricas e simétricas durante o processo de comunicação.
- ( ) Enquanto o protocolo SMTP é responsável pelo envio e recebimento de e-mails entre servidores, o protocolo POP3 lida com o recebimento e o download de mensagens para o dispositivo do usuário.
- ( ) O protocolo IMAP enfoca o download e armazenamento de e-mails localmente, já o POP3 oferece uma abordagem para acesso e gerenciamento de mensagens de e-mail diretamente nos servidores de e-mail.

Assinale a sequência correta.

- [A] V, F, F, V
- [B] F, V, V, F
- [C] F, F, V, V
- [D] V, V, F, F

### QUESTÃO 17

A Figura 1 apresenta uma planilha do Microsoft Excel 2016 no momento em que o conteúdo da célula C2 está sendo copiado e arrastado para as células C3, C4, C5 e C6, utilizando a alça de preenchimento. A Figura 2 apresenta as referidas células após a operação.

	A	B	C	D
1	Descrição do Produto	Preço em Dólar (EUA)	Preço Final em Reais	
2	Produto A	\$12,00	R\$ 77,90	
3	Produto B	\$8,00		
4	Produto C	\$49,00		
5	Produto E	\$45,00		
6	Produto F	\$34,00		
7				
8				
9	Cotação do Dólar (EUA)	R\$ 5,41		
10	Taxa de Importação	20%		
11				

Figura 1

	C
A)	Preço Final em Reais
	R\$ 77,90
	R\$ 51,94
	R\$ 318,11
	R\$ 292,14
	R\$ 220,73

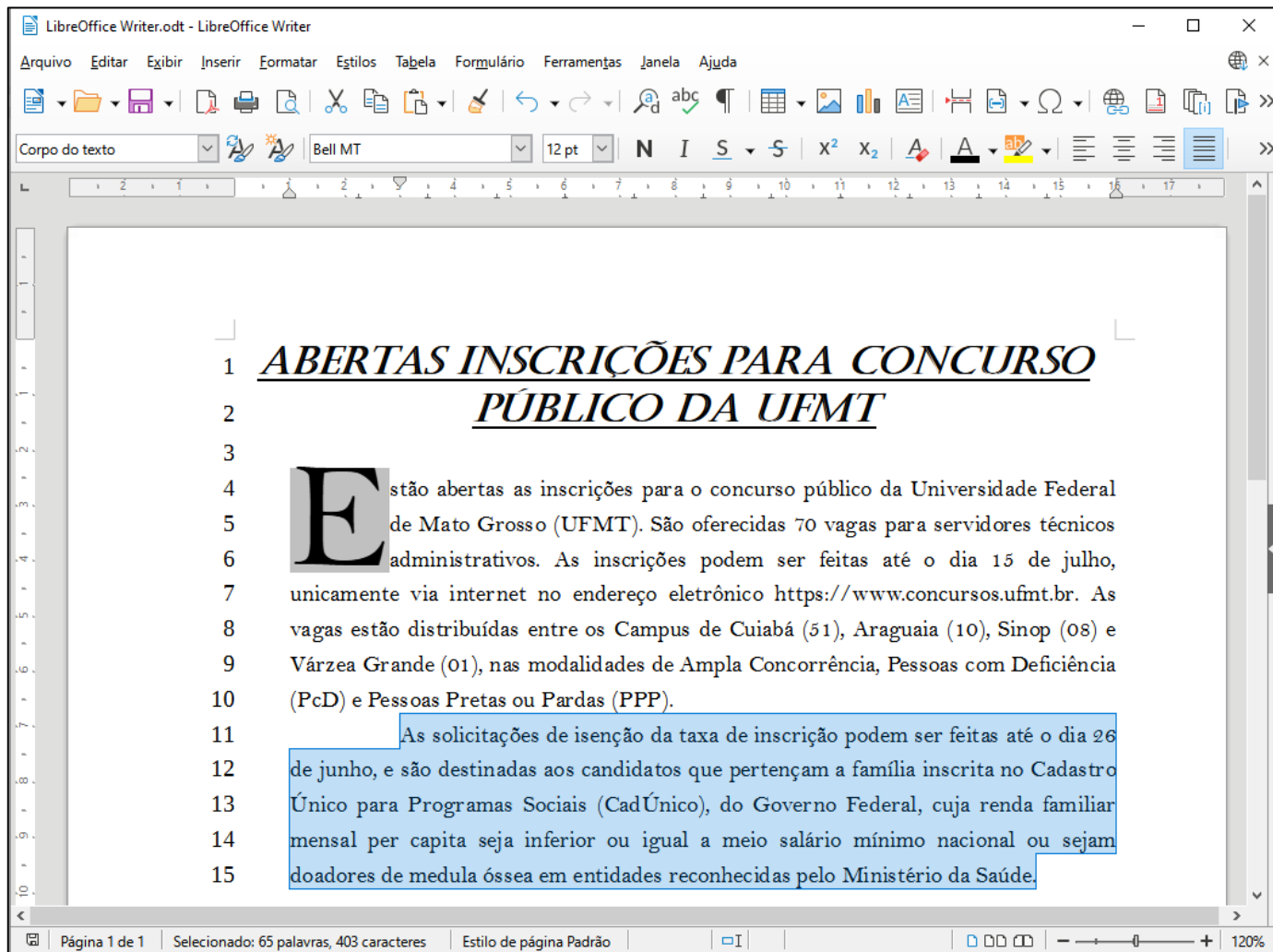
Figura 2

De acordo com as figuras, sabendo-se que o preço final em reais de cada produto é obtido pela conversão da moeda (dólar em reais) somando-se a taxa de importação, qual fórmula poderia ser o conteúdo da célula C2 para que a ação de copiar e arrastar, ilustrada na Figura 1, produza os resultados apresentados na Figura 2?

- [A] =(B2\*\$B9)\* (1+\$B10)
- [B] =(B2\*B9)\* (1+B10)
- [C] =(B2\*B\$9)\* (1+B\$10)
- [D] =(B2\*B\$9)\* (1+B10)

## QUESTÃO 18

A Figura seguinte apresenta um documento do LibreOffice Writer com linhas numeradas de 1 a 15 e o segundo parágrafo selecionado (linhas 11 a 15).



Sobre a figura, marque V para as afirmativas verdadeiras e F para as falsas.

- ( ) A margem esquerda está configurada para 1 cm e a margem direita, para 0 cm.
- ( ) O recuo da primeira linha do parágrafo selecionado está ajustado para 3 cm.
- ( ) No primeiro parágrafo (linhas 4 a 10), foi configurada a opção exibir capitulares.
- ( ) O documento foi salvo com o nome de arquivo LibreOffice Writer.
- ( ) O título (linhas 1 e 2) está formatado com a fonte Bel MT, tamanho 12 pt.

Assinale a sequência correta.

- [A] V, V, F, F, V
- [B] F, V, V, F, F
- [C] V, F, F, V, V
- [D] F, F, V, V, F

## QUESTÃO 19

A Figura seguinte apresenta uma planilha do LibreOffice Calc com o intervalo de células A3:D3 selecionado.

	A	B	C	D	E
1	<b>Mato Grosso - MT</b>				
2	<b>População Total (hab):</b>	3658649	<b>Área Total (km²)</b>	903208,36	
3	<b>Principais Municípios</b>				
4	<b>Município</b>	<b>Área (km²)</b>	<b>População (habitantes)</b>	<b>Densidade Demográfica (hab/km²)</b>	
5	Várzea Grande	724,28	300078	414,31	
6	Sinop	3990,87	196312	49,19	
7	Cuiabá	4327,45	650877	150,41	
8	Rondonópolis	4824,02	244911	50,77	
9	Alta Floresta	8955,41	58613	6,54	
10	Cáceres	24495,51	89681	3,66	
11	<b>Total</b>	<b>47317,54</b>	<b>1540472</b>		
12	<b>Percentual em Relação ao Estado</b>	<b>5,24%</b>	<b>42,10%</b>		
13					

Sobre a planilha, analise as afirmativas.

- I. No intervalo de células A5:A10 foi aplicado o alinhamento horizontal centralizado.
- II. As células A3, B3, C3 e D3 foram mescladas.
- III. Os conteúdos das células B12 e C12 podem ser, respectivamente, as fórmulas =D2/B11 e =B2/C11.
- IV. Os conteúdos das células B11 e C11 podem ser as fórmulas =SOMA(B5;B10) e =SOMA(C5;C10), respectivamente.

Está correto o que se afirma em

- [A] II, apenas.  
[B] I e IV, apenas.  
[C] I, II e III, apenas.  
[D] II, III e IV, apenas.

## QUESTÃO 20

A Figura 1 apresenta um documento do Microsoft Word 2016 com duas regiões destacadas e numeradas (1 e 2) e a Figura 2 apresenta uma planilha do Microsoft Excel.

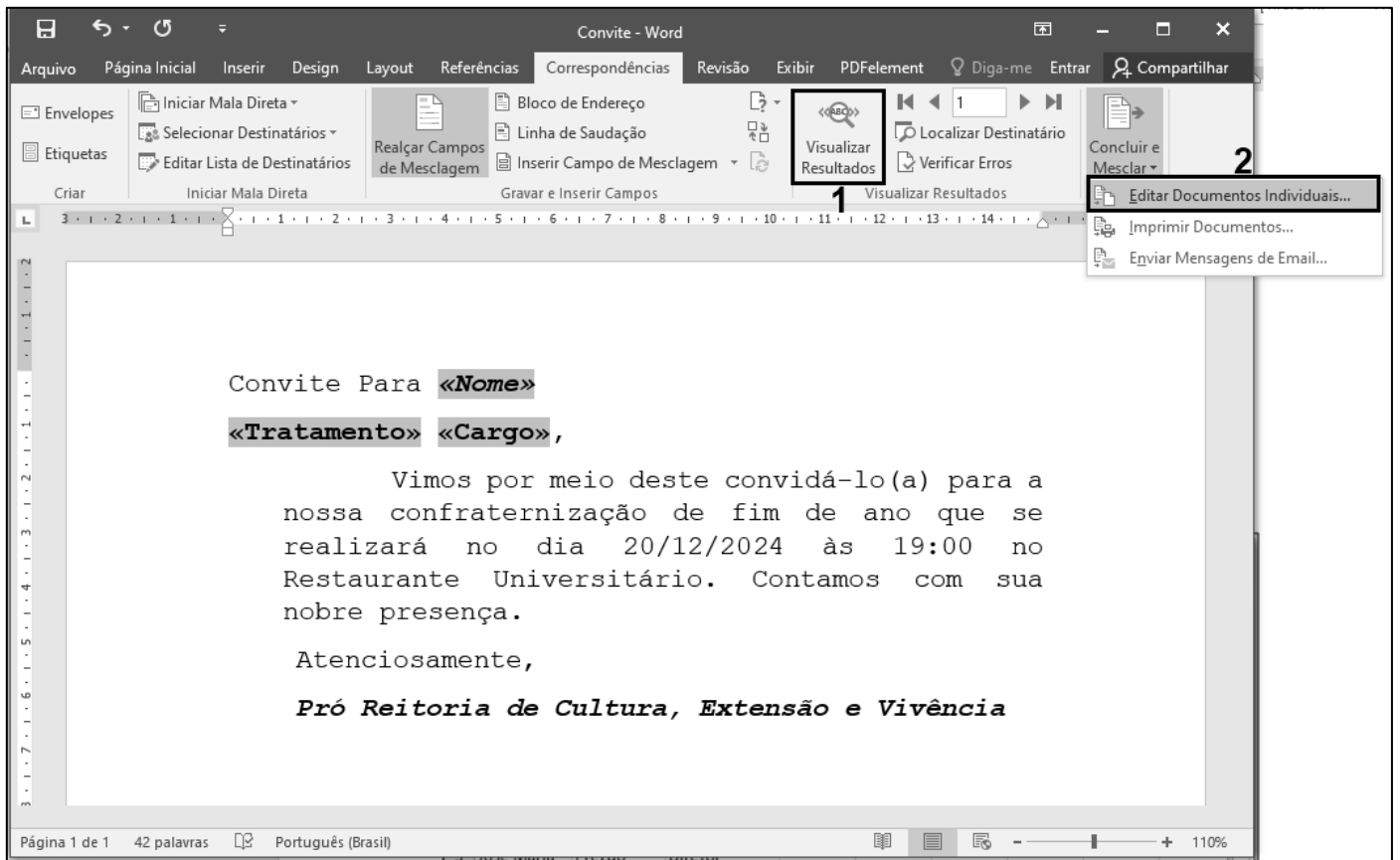


Figura 1

	A	B	C	D	E	F	G	H	I
1	Nome	Tratamento	Cargo						
2	João José	Ilmo Sr.	Reitor						
3	José Maria	Prezdo	Diretor						
4	Maria José	Prezada	Coordenadora						
5	Pedro Paulo	Caro	Professor						
6	Paula Maria	Cara	Professora						
7									
8									
9									

Figura 2

Sobre as figuras e, notadamente, sobre o recurso de Mala Direta do Microsoft Word 2016, analise as afirmativas.

- I. Mala Direta é um recurso para mesclar uma fonte de dados (Figura 2) com um documento modelo, como o da Figura 1, porém é necessário que a fonte de dados esteja contida obrigatoriamente em um arquivo (planilha) do Microsoft Excel.
- II. Os termos sombreados no documento da Figura 1 (<<Nome>>, <<Tratamento>> e <<Cargo>>) são os campos de mesclagem que serão substituídos pelos dados de cada pessoa da fonte de dados (Figura 2).
- III. Na Figura 1, clicando-se no botão delimitado pela região 1 (Visualizar Resultados), os termos sombreados (<<Nome>>, <<Tratamento>> e <<Cargo>>) são substituídos pelos dados correspondentes da fonte de dados.
- IV. Na Figura 1, clicando-se no botão delimitado pela região 2 (Editar documentos individuais...), ao se escolher a opção todos, serão gerados novos documentos, com base no modelo, um para cada registro (linha da planilha) da fonte de dados.

Estão corretas as afirmativas

- [A] II, III e IV, apenas.  
[B] I, II e III, apenas.  
[C] II e III, apenas.  
[D] I e IV, apenas.

## ***CONHECIMENTOS DIVERSOS***

### **QUESTÃO 21**

Sobre os direitos e deveres básicos do usuário dos serviços públicos da administração pública, marque V para as afirmativas verdadeiras e F para as falsas.

- ( ) O usuário de serviço público tem direito à adequada prestação dos serviços, devendo os agentes públicos e prestadores de serviços públicos observar a urbanidade, respeito, acessibilidade e cortesia no atendimento aos usuários; presunção de boa-fé do usuário; atendimento por ordem de chegada, e respectivos agendamentos, sem a possibilidade de pessoalidades e ou prioridades legais.
- ( ) São direitos básicos do usuário obtenção de informações precisas e de fácil acesso nos locais de prestação do serviço, assim como sua disponibilização na internet, especialmente sobre: a) horário de funcionamento das unidades administrativas; b) serviços prestados pelo órgão ou entidade, sua localização exata e a indicação do setor responsável pelo atendimento ao público; c) acesso ao agente público ou ao órgão encarregado de receber manifestações.
- ( ) São deveres do usuário saber sobre a situação da tramitação dos processos administrativos em que figure como interessado; e valor das taxas e tarifas cobradas pela prestação dos serviços, contendo informações para a compreensão exata da extensão do serviço prestado.
- ( ) São deveres do usuário utilizar adequadamente os serviços, procedendo com urbanidade e boa-fé; prestar as informações pertinentes ao serviço oferecido quando solicitadas; colaborar para a adequada prestação do serviço; e preservar as condições dos bens públicos por meio dos quais lhe são prestados os serviços de que trata esta Lei.

Assinale a sequência correta.

- [A] F, V, V, F  
[B] V, F, V, F  
[C] V, F, F, V  
[D] F, V, F, V

### **QUESTÃO 22**

O Decreto nº. 1.171/1994 aprova o Código de Ética Profissional do Servidor Público Civil do Poder Executivo Federal. Sobre esse documento, marque V para as afirmativas verdadeiras e F para as falsas.

- ( ) O trabalho desenvolvido pelo servidor público perante a comunidade deve ser entendido como acréscimo ao seu próprio bem-estar, já que, como cidadão, integrante da sociedade, o êxito desse trabalho pode ser considerado como seu maior patrimônio.
- ( ) A função pública deve ser tida como exercício profissional e, portanto, se integra na vida particular de cada servidor público. Assim, os fatos e atos verificados na conduta do dia a dia em sua vida privada poderão crescer ou diminuir o seu bom conceito na vida funcional.
- ( ) Nos termos da lei, a publicidade de qualquer ato administrativo constitui requisito de eficácia e moralidade, ensejando sua omissão ao comprometimento ético contra o bem comum, imputável a quem a negar. Assim, ficam impossibilitados os atos sigilosos, mesmo que para a segurança nacional, investigações policiais ou interesse superior do Estado e da Administração Pública.
- ( ) Deixar o servidor público qualquer pessoa à espera de solução que compete ao setor em que exerça suas funções, permitindo a formação de longas filas, ou qualquer outra espécie de atraso na prestação do serviço, não caracteriza apenas atitude contra a ética ou ato de desumanidade, mas principalmente grave dano moral aos usuários dos serviços públicos.

Assinale a sequência correta.

- [A] F, V, V, F
- [B] F, F, V, V
- [C] V, F, F, F
- [D] V, V, F, V

### **QUESTÃO 23**

De acordo com Schein (2009), a cultura de um grupo pode agora ser definida como padrão de suposições básicas compartilhadas, que foi aprendido por um grupo à medida que solucionava seus problemas de adaptação externa e de integração interna. Sobre cultura organizacional, analise as afirmativas.

- I. Cultura organizacional possui componentes básicos essenciais à sua compreensão: Artefatos, Crenças e Valores, Pressupostos ou Suposições Básicas.
- II. Os artefatos são as estruturas e processos organizacionais visíveis, as primeiras visualizações das características peculiares de um grupo, vestuários, os símbolos, os logotipos, o layout, slogans, os padrões comportamentais, arquitetura e linguagem de um ambiente organizacional.
- III. Pressupostos ou Suposições Básicas são as verdades inquestionáveis, invisíveis e inconscientes, profundamente internalizadas pelos membros da organização que deixam de ter uma forma explícita. Extraem os significados das ações e percepções do ambiente cognitivo corporativo, traduzem percepções, pensamentos e sentimentos inconscientes, assumidos como verdadeiros que traduzem um conjunto de percepções e ações padronizadas.

Está correto o que se afirma em

- [A] I e II, apenas.
- [B] I, II e III.
- [C] II e III, apenas.
- [D] I e III, apenas.

### **QUESTÃO 24**

Na comunicação interpessoal, a mensagem normalmente é constituída por palavras e insinuações não verbais, recorrem à conversa face a face, ao telefone, mensagem de texto, e-mail, são os canais básicos. Há etapas entre um emissor e um receptor que resultam na transmissão e compreensão da mensagem. Entretanto, é possível ocorrer ruídos, desvios e bloqueios no fluxo da comunicação, quando acontecem, geram distorções e problemas na compreensão. Qual a etapa do processo de comunicação que interpreta os símbolos contidos na mensagem, traduzindo-os de forma que possa ser entendida pelo receptor?

- [A] Feedback
- [B] Codificação
- [C] Decodificação
- [D] Canal

### **QUESTÃO 25**

Sobre o processo disciplinar dos servidores públicos regido pela Lei nº. 8.112/1990, analise as afirmativas.

- I. O processo disciplinar é o instrumento destinado a apurar responsabilidade de servidor por infração praticada no exercício de suas atribuições, ou que tenha relação com as atribuições do cargo em que se encontre investido.
- II. A Comissão exercerá suas atividades com independência e imparcialidade, assegurado o sigilo necessário à elucidação do fato ou exigido pelo interesse da administração. As reuniões e as audiências das comissões terão caráter reservado. Será permitido participar de comissão de sindicância ou de inquérito, cônjuge, companheiro ou parente do acusado, consanguíneo ou afim, em linha reta ou colateral, até o terceiro grau.
- III. O processo disciplinar se desenvolve nas seguintes fases: instauração, com a publicação do ato que constituir a comissão; inquérito administrativo, que compreende instrução, defesa e relatório; julgamento.
- IV. O prazo para a conclusão do processo disciplinar não excederá 60 (sessenta) dias, contados da data de publicação do ato que constituir a comissão, não sendo admitida a sua prorrogação.

Está correto o que se afirma em

- [A] I e III, apenas.
- [B] I, II e IV, apenas.
- [C] II e III, apenas.
- [D] II, III e IV, apenas.

### **QUESTÃO 26**

Sobre as finalidades da Educação superior, de acordo com a Lei nº. 9.394/1996, considere:

- I. Considerar e aprofundar os conhecimentos adquiridos no ensino fundamental, possibilitando o prosseguimento de estudos; a preparação básica para o trabalho e a cidadania do educando, para continuar aprendendo, de modo a ser capaz de se adaptar com flexibilidade a novas condições de ocupação ou aperfeiçoamento posteriores.
- II. Estimular a criação cultural e o desenvolvimento do espírito científico e do pensamento reflexivo; formar diplomados nas diferentes áreas de conhecimento, aptos para a inserção em setores profissionais e para a participação no desenvolvimento da sociedade brasileira, e colaborar na sua formação contínua.
- III. Incentivar o trabalho de pesquisa e investigação científica, visando ao desenvolvimento da ciência e da tecnologia e da criação e difusão da cultura, e, desse modo, desenvolver o entendimento do homem e do meio em que vive.
- IV. Estimular o conhecimento dos problemas do mundo presente, em particular os nacionais e regionais, prestar serviços especializados à comunidade e estabelecer com esta uma relação de reciprocidade; promover a extensão, aberta à participação da população, visando à difusão das conquistas e benefícios resultantes da criação cultural e da pesquisa científica e tecnológica geradas na instituição.

São finalidades previstas na Lei:

- [A] I, II e III, apenas.
- [B] II, III e IV, apenas.
- [C] II e IV, apenas
- [D] I, III e IV, apenas.

### **QUESTÃO 27**

A Lei Geral de Proteção de Dados Pessoais (LGPD) dispõe sobre o tratamento de dados pessoais, inclusive nos meios digitais, por pessoa natural ou por pessoa jurídica, de direito público ou privado, com o objetivo de proteger os direitos fundamentais de liberdade e de privacidade e o livre desenvolvimento da personalidade da pessoa natural. As normas gerais contidas nesta Lei são de interesse nacional e devem ser observadas

- [A] pela administração pública e privada, setores comerciais.
- [B] pelos Estados, Distrito Federal e Municípios.
- [C] pelos setores primários e secundários da economia.
- [D] pela União, Estados, Distrito Federal e Municípios.



### QUESTÃO 28

Sobre a organização do sistema de ensino nacional de acordo com a Constituição Federal, analise as afirmativas.

- I. Para melhor operacionalização dos sistemas de ensino, ficam restritas as seguintes competências compulsórias: a União atuará no ensino superior, os Estados e o Distrito Federal atuarão no ensino médio e os Municípios atuarão no ensino fundamental e na educação infantil.
- II. A União organizará o sistema federal de ensino e o dos Territórios, financiará as instituições de ensino públicas federais e exercerá, em matéria educacional, função redistributiva e supletiva, de forma a garantir equalização de oportunidades educacionais e padrão mínimo de qualidade do ensino mediante assistência técnica e financeira aos Estados, ao Distrito Federal e aos Municípios.
- III. Na organização de seus sistemas de ensino, a União, os Estados, o Distrito Federal e os Municípios definirão formas de colaboração, de modo a assegurar a universalização do ensino obrigatório.

Está correto o que se afirma em

- [A] II e III, apenas.  
[B] I e II, apenas.  
[C] I e III, apenas.  
[D] I, II, III.

### QUESTÃO 29

A coluna da esquerda apresenta autores das teorias motivacionais, a da direita seus respectivos trabalhos sobre motivação. Numere a coluna da direita de acordo com a da esquerda.

- |  |     |  |
|--|-----|--|
| 1. Abraham Maslow - Hierarquia das Necessidades.   | ( ) | Há três grupos principais de necessidades, as básicas de existência, as relações pessoais-relacionamentos e autorrealização ou crescimento pessoal. Entretanto a satisfação das necessidades é simultânea.   |
| 2. Frederick Herzberg - A Teoria dos Dois Fatores. | ( ) | As necessidades humanas dividem-se em cinco grupos: básicas, segurança, sociais, estima e autorrealização. As pessoas estão em processo de desenvolvimento e tendem a progredir ao longo das necessidades, até atingir a autorrealização.  |
| 3. Clayton Alderfer - Teoria ERG                   | ( ) | Existem três necessidades específicas, são elas: realização –sucesso, filiação-relacionamentos ou amizades e a necessidade de poder- controlar ou influenciar outras pessoas.  |
| 4. David McClelland - Teoria de McClelland         | ( ) | É uma teoria que explica como o ambiente de trabalho e o próprio trabalho interagem para produzir motivação. O autor identificou fatores intrínsecos ou motivacionais, relacionados ao trabalho em si e seu conteúdo, esses produzem motivação. E fatores extrínsecos ou higiênicos relacionados ao ambiente e às condições de trabalho, esses não produzem motivação, mas satisfação. |

Marque a sequência correta.

- [A] 2, 3, 1, 4  
[B] 4, 3, 1, 2  
[C] 3, 1, 4, 2  
[D] 1, 4, 2, 3

### QUESTÃO 30

Processo de conduzir as ações ou influenciar o comportamento e a mentalidade de outras pessoas para o atingimento de metas organizacionais. Trata-se de

- [A] Motivação.  
[B] Liderança.  
[C] Diversidade Organizacional.  
[D] Comportamento em grupo.

## CONHECIMENTOS ESPECÍFICOS

### QUESTÃO 31

Paciente A., 7 anos de idade, mora com a mãe, realiza tratamento para epilepsia e foi encaminhado do neurologista para o psiquiatra devido a episódios recentes de agitação e irritabilidade. Está em tratamento com ácido valproico. Segundo a mãe, A. sempre foi isolado, evasivo, repetitivo, irritado com mudanças de rotina. Não realiza sozinho atividades de autocuidado, como comer ou ir ao banheiro. Está com dificuldades no processo de alfabetização. As crises de agitação acontecem quando está na escola ou em situações de frustração. Na consulta, responde a poucas perguntas, não olha nos olhos do entrevistador, fica o tempo todo balançando-se para a frente e para trás, com os dedos de ambas as mãos cruzados. Assinale a alternativa que apresenta hipótese diagnóstica e a sugestão farmacoterapêutica para o caso descrito.

- [A] Transtorno Mental Orgânico e associar aripiprazol.
- [B] Transtorno do Espectro Autista e associar risperidona.
- [C] Epilepsia Grave Refratária e associar oxcarbazepina.
- [D] Deficiência Intelectual Grave e associar olanzapina.

### QUESTÃO 32

Paciente feminina, 53 anos, é levada ao pronto atendimento devido à crise paroxística de dor pré-cordial após exposição à situação de estresse emocional. Ao exame, apresenta-se trêmula, ofegante, pálida, com frequência cardíaca de 120 batimentos por minuto, frequência respiratória 30 ciclos por minuto, pressão arterial sistêmica 150/90mmHg. Ausculta pulmonar e cardíaca sem alterações. Paciente com história de transtorno de pânico, estável, há 10 anos não apresentava crises de ansiedade e está em uso de escitalopram 10mg ao dia. A respeito da avaliação de urgência da paciente, deve ser realizado exame de dosagem de

- [A] troponina.
- [B] cortisol.
- [C] escitalopram
- [D] serotonina.

### QUESTÃO 33

“As ideias delirantes são juízos patologicamente falsos. Dessa forma, o delírio é um erro do ajuizar que tem origem na doença mental” (Dalgallarrondo, 2008). Sobre o juízo de realidade e suas alterações, analise as afirmativas.

- I. É necessário que o indivíduo tenha dúvidas sobre seus pensamentos para identificar um pensamento como delirante.
- II. Independentemente da prova de realidade oferecida, o delírio não é demovido das crenças do indivíduo.
- III. O delírio é um fenômeno primário e, por isso, impenetrável e representativo de uma quebra na existência de um indivíduo.
- IV. O prejuízo do juízo crítico é sintoma exclusivo do diagnóstico de transtorno do espectro da esquizofrenia.

Está correto o que se afirma em

- [A] I, II e IV, apenas.
- [B] III, apenas.
- [C] I, II, III e IV.
- [D] II e III, apenas.

### QUESTÃO 34

O transtorno afetivo bipolar é uma doença grave, frequentemente relacionada com prejuízos múltiplos ao indivíduo afetado, com alto risco de comorbidades associadas. O tratamento de resgate das crises é fundamental para minimizar sequelas desse transtorno. Qual o tratamento de primeira escolha do resgate da crise de um episódio misto no paciente com transtorno bipolar?

- [A] Carbonato de Lítio em Monoterapia
- [B] Carbonato de Lítio mais Lamotrigina
- [C] Carbonato de Lítio mais Olanzapina
- [D] Carbonato de Lítio mais Fluoxetina

**QUESTÃO 35**

Sobre o tratamento farmacológico dos transtornos depressivos de humor, assinale V para as afirmativas verdadeiras e F para as falsas.

- Indivíduos com sintomas cognitivos evidentes podem se beneficiar de tratamentos com inibidores de recaptção de noradrenalina e serotonina.
- Efeitos de disfunção sexual são frequentemente esperados com bloqueadores de recaptção de noradrenalina e dopamina.
- Ao iniciar tratamento com inibidor seletivo de recaptção de serotonina, o neurotransmissor serotonina aumenta inicialmente apenas na região somatodendrítica do neurônio serotoninérgico e não nos terminais axônicos.
- Entre os fatores associados à demora na melhora sintomática do paciente em tratamento com antidepressivos, está a necessidade de dessensibilização de autorreceptores serotoninérgicos para que haja efeito clínico.

Marque a sequência correta.

- [A] F, F, F, V
- [B] V, F, V, V
- [C] F, V, F, F
- [D] V, V, V, F

**QUESTÃO 36**

O tratamento da maioria dos transtornos de ansiedade é multimodal. No entanto, a escolha das abordagens é feita a depender do tipo de transtorno apresentado. Acerca do tratamento dos transtornos de ansiedade, analise as afirmativas.

- I. A psicoterapia cognitivo-comportamental é a indicação psicoterapêutica principal para o transtorno de ansiedade generalizada.
- II. Todos os fármacos inibidores seletivos da recaptção da serotonina demonstram eficácia no tratamento da ansiedade social.
- III. A associação de tratamento farmacológico, psicoterapêutico e intervenções comportamentais e nos hábitos de vida está indicada na maioria dos casos de transtornos de ansiedade, independentemente do diagnóstico definitivo.
- IV. O tratamento farmacológico do transtorno de ansiedade na infância está contraindicado, sendo indicado apenas o tratamento psicoterapêutico.

Está correto o que se afirma em

- [A] I, II e III, apenas.
- [B] II e IV, apenas.
- [C] III, apenas.
- [D] I, II, III e IV.

**QUESTÃO 37**

O Transtorno de Déficit de Atenção e Hiperatividade (TDAH) é uma causa frequente de atraso pedagógico em crianças e adolescentes. Sobre o TDAH, marque V para as afirmativas verdadeiras e F para as falsas.

- O diagnóstico inclui sintomas de desatenção, hiperatividade e/ou impulsividade, presentes antes dos 12 anos.
- Os sintomas devem durar um mínimo de 12 meses.
- Existe prejuízo exclusivamente pedagógico.
- O diagnóstico de TDAH em comorbidade com transtorno do espectro autista é possível desde a revisão do DSM-5.

Assinale a sequência correta.

- [A] F, V, V, F
- [B] V, V, F, V
- [C] V, F, F, V
- [D] F, F, V, F

### **QUESTÃO 38**

Um paciente em tratamento farmacológico de longo prazo para esquizofrenia refratária chega ao pronto atendimento clínico com queixa de dor no corpo, inquietação, tremores, sudorese e dor pré-cordial. Ao exame, apresenta-se inquieto, febril, com aumento da frequência cardíaca e com rigidez muscular generalizada. A conduta inicial adequada é:

- [A] Midazolam intramuscular.
- [B] Haloperidol intramuscular.
- [C] Hidratação endovenosa.
- [D] Olanzapina endovenosa.

### **QUESTÃO 39**

A coluna da esquerda apresenta antidepressivos inibidores de recaptação de serotonina e a da direita, seus mecanismos de ação secundários para além da inibição da recaptação da serotonina. Numere a coluna da direita de acordo com a da esquerda.

- 1. Fluoxetina ( ) Antagonismo muscarínico e colinérgico.
- 2. Fluvoxamina ( ) Inibição de recaptação de dopamina e ação no receptor sigma.
- 3. Paroxetina ( ) Inibição das enzimas 2D6 e 3A4.
- 4. Sertralina ( ) Ação no receptor sigma e inibição das enzimas 1A2 e 3A4.

Marque a sequência correta.

- [A] 3, 4, 1, 2
- [B] 2, 1, 3, 4
- [C] 1, 3, 4, 2
- [D] 2, 3, 1, 4

### **QUESTÃO 40**

Marque a alternativa que apresenta característica(s) de uma crise tipicamente relacionada ao transtorno dissociativo.

- [A] Hipotonia muscular com obnubilação.
- [B] Obnubilação, tontura e hipotonia muscular.
- [C] Hipertonia generalizada com automatismo.
- [D] Atividade motora bilateral sem hipotonia.

### **QUESTÃO 41**

A citação de Stephen M. Stahl, em 2000, continua atual: “Infelizmente, os psicotrópicos também podem ser alvo de uso abusivo e isso tem se constituído em um dos principais problemas de saúde pública em todo mundo”. Em relação ao sistema de recompensa cerebral e drogas de abuso, é correto afirmar:

- [A] A via final da recompensa no cérebro é a dopaminérgica mesolímbica.
- [B] A via final da recompensa no cérebro é a serotoninérgica mesolímbica.
- [C] A via final da recompensa no cérebro é a anfetaminérgica mesolímbica.
- [D] A via final da recompensa no cérebro é a noradrenérgica mesolímbica.

### **QUESTÃO 42**

Paciente dá entrada em pronto atendimento em surto psicótico. Durante avaliação, não se pode excluir o uso de substâncias psicoativas. Qual a conduta farmacológica mais adequada?

- [A] Administrar haloperidol intramuscular.
- [B] Administrar clorpromazina intramuscular.
- [C] Administrar diazepam intramuscular.
- [D] Administrar midazolam intramuscular.

### QUESTÃO 43

Dados publicados recentemente referem que no ano de 2022 o uso diário de maconha superou o uso diário de álcool pela primeira vez nos Estados Unidos (National Survey on Drug Use and Health, 2024). Sobre a maconha, analise as assertivas.

- I. A substância delta-9-tetra-hidrocanabinol interage com receptores canabinoides próprios do cérebro.
- II. No cérebro, os receptores canabinoides 1 (CB1) mediam propriedades de reforço da maconha e também de outras substâncias.
- III. Estudos usando antagonista canabinoide cerebral em modelos animais provaram que existe síndrome de abstinência relacionada ao uso crônico de maconha.
- IV. Entre as complicações da dependência de maconha, estão a síndrome amotivacional, o delirium tóxico e o risco de surto psicótico.

Estão corretas as assertivas

- [A] I, II e III, apenas.
- [B] II e IV, apenas.
- [C] III, apenas.
- [D] I, II, III e IV.

### QUESTÃO 44

A Sra. Eva, 76 anos, viúva, professora aposentada, previamente hígida, é internada em UTI devido a quadro de sepse. Durante a internação, apresenta quadro de confusão mental e agitação, com piora do comportamento ao entardecer. Sobre o quadro apresentado, assinale V para as afirmativas verdadeiras e F para as falsas.

- ( ) Trata-se de quadro de *delirium* secundário ao quadro de sepse.
- ( ) A contenção mecânica com faixas deve ser usada continuamente para minimizar o risco de queda da paciente.
- ( ) Abordagem do ambiente e manutenção de acompanhante colaboram na prevenção do quadro.
- ( ) Anticolinesterásicos, como rivastigmina, demonstram eficácia na prevenção do *delirium*.

Marque a sequência correta.

- [A] V, F, F, V
- [B] V, F, V, F
- [C] F, V, F, V
- [D] F, V, V, F

### QUESTÃO 45

Em um contato por telefone com seu psiquiatra, o Sr. A, 31 anos, afirma que vai matar sua esposa. Informa que comprou uma arma, que se sente cansado da vida e que não vê saída. Diz que é a última vez que fala com seu médico, pois irá se matar depois e não diz onde está ou como ser encontrado. Além disso, informa que declarou o mesmo em todas as redes sociais. O psiquiatra, imediatamente, entra em contato com a esposa para informá-la do acontecido e tomar providências. Acerca da conduta ética do médico, assinale a afirmativa correta.

- [A] A quebra de sigilo médico-paciente é considerada exceção por dever legal.
- [B] A quebra de sigilo médico-paciente é considerada exceção por consentimento.
- [C] A quebra de sigilo médico-paciente é considerada exceção por fato público.
- [D] A quebra de sigilo médico-paciente é considerada exceção por motivo justo.

### QUESTÃO 46

O termo “Novas Substâncias Psicoativas” (NSP) foi adotado pelo Escritório das Nações Unidas para definir um grupo de moléculas desenhadas para evadir do controle definido para substâncias psicoativas já conhecidas. Elas são, atualmente, dignas de grande preocupação em saúde pública referente ao uso abusivo e riscos diversos ao ser humano. Entre as características que definem uma substância psicoativa como NSP, está apenas o efeito

- [A] sedativo de risco para overdose.
- [B] estimulante de risco para dependência.
- [C] similar ao de diferentes substâncias.
- [D] alucinógeno de risco para psicose.

**QUESTÃO 47**

O jovem R., 23 anos, é levado para acompanhamento por sua família. Na consulta, a mãe refere que era “normal” até a adolescência, quando iniciou com comportamento progressivamente mais isolado, arredo, incapaz de expressar sentimentos. Quase não sai de casa e não tem autonomia para realizar suas atividades. Ao exame, não demonstra alterações de humor, nem sintomas psicóticos positivos. O clínico considera para o diagnóstico um transtorno de personalidade. Assinale a alternativa que apresenta o diagnóstico para o caso descrito.

- [A] Transtorno de personalidade esquizotípica
- [B] Transtorno de personalidade esquizoide
- [C] Transtorno de personalidade paranoide
- [D] Transtorno de personalidade dependente

**QUESTÃO 48**

A teoria das monoaminas explica, em parte, o efeito de antidepressivos no tratamento da depressão. Atualmente, os efeitos dos antidepressivos em neuroplasticidade são amplamente estudados. Entre as substâncias que realizam ações de neuroplaticidade, destaca-se o fator neurotrófico derivado do cérebro:

- [A] uma proteína exógena que promove a sobrevivência e a diferenciação neuronal.
- [B] uma proteína endógena que promove a apoptose e a diferenciação neuronal.
- [C] uma proteína endógena que promove a sobrevivência e a diferenciação neuronal.
- [D] uma proteína exógena que promove a apoptose e a diferenciação neuronal.

**QUESTÃO 49**

Sabe-se que o manejo do Transtorno de Estresse Agudo (TEA) é extremamente importante para a prevenção do Transtorno de Estresse Pós-Traumático (TEPT). Sobre o TEA e sua relação com o TEPT, analise as assertivas.

- I. As intervenções de análise de comportamento são primeira escolha para o manejo psicoterapêutico do TEA.
- II. Os medicamentos gabaérgicos estão indicados para o manejo farmacológico do TEA e colaboram na prevenção do TEPT.
- III. Mecanismo neurobiológico do estresse mediado pelo sistema nervoso autônomo está relacionado com a etiopatogenia do TEA.
- IV. Nem todas as vítimas de TEA grave evoluem para TEPT, podendo o TEA ser também fator de risco para depressão maior.

Estão corretas as assertivas

- [A] III e IV, apenas.
- [B] I, II e III, apenas.
- [C] II e IV, apenas.
- [D] I, II, III e IV.

**QUESTÃO 50**

O Transtorno Obsessivo Compulsivo (TOC) pode ser uma condição incapacitante nos casos mais graves e refratários aos tratamentos. Acerca do diagnóstico e classificação do TOC, assinale V para as afirmativas verdadeiras e F para as falsas.

- ( ) Imagens persistentes e intrusivas que causam sofrimento ao indivíduo são sintomas de TOC.
- ( ) A ausência de insight é um especificador possível no diagnóstico de TOC.
- ( ) Segundo o DSM-5, o TOC é um transtorno de ansiedade.
- ( ) A dificuldade de descartar ou desfazer dos pertences é um sintoma nuclear do TOC.

Marque a sequência correta.

- [A] V, F, F, V
- [B] F, F, V, V
- [C] V, V, F, F
- [D] F, V, V, F



EDITAL N.º 01/PROGEP/UFMT/2024

**FOLHA DE ANOTAÇÃO DO CANDIDATO**

Questão	Alternativa
01	
02	
03	
04	
05	
06	
07	
08	
09	
10	
11	
12	
13	
14	
15	
16	
17	
18	
19	
20	
21	
22	
23	
24	
25	

Questão	Alternativa
26	
27	
28	
29	
30	
31	
32	
33	
34	
35	
36	
37	
38	
39	
40	
41	
42	
43	
44	
45	
46	
47	
48	
49	
50	

**Esta folha é destinada para uso EXCLUSIVO do candidato.**