

CADERNO

203

FADENOR
FUNDAÇÃO DE APOIO AO DESENVOLVIMENTO DO ENSINO SUPERIOR DO NORTE DE MINAS

2 . 229 . 472

**CONCURSO PÚBLICO PARA PROVIMENTO DE CARGOS EFETIVOS
DA PREFEITURA MUNICIPAL DE
JEQUITINHONHA - MG**

**AUXILIAR ADMINISTRATIVO
FISCAL DE OBRAS E POSTURAS**

ORIENTAÇÕES

- 01 - Este caderno contém questões do tipo múltipla escolha.
- 02 - Verifique se o caderno contém falhas: folhas em branco, má impressão, páginas trocadas, numeração errada, etc. Encontrando falhas, levante a mão. O Fiscal o atenderá e trocará o seu caderno.
- 03 - Não marque mais de uma resposta para a mesma questão, nem deixe nenhuma delas sem resposta. Se isso acontecer, a resposta não será computada.
- 04 - Para marcar as respostas, use preferencialmente caneta esferográfica com tinta azul ou preta. **NÃO** utilize caneta com tinta vermelha. Assinale a resposta certa, preenchendo toda a área da bolinha.
- 05 - Tenha cuidado na marcação da Folha de Respostas, pois ela não será substituída em hipótese alguma.
- 06 - Confira e assine a Folha de Respostas, antes de entregá-la ao Fiscal. **NA FALTA DA ASSINATURA, A SUA PROVA SERÁ ANULADA.**
- 07 - Não se esqueça de assinar a Lista de Presenças.

OBS.: Candidatos com cabelos longos deverão deixar as orelhas totalmente descobertas durante a realização das provas. É proibido o uso de boné.

NOME:

Nº DO PRÉDIO:

SALA:

ASSINATURA

COTEC
CONCURSOS
TÉCNICOS

PROVA DE LÍNGUA PORTUGUESA

INSTRUÇÃO: Leia, com atenção, o texto 01 e, a seguir, responda às questões que a ele se referem.

Texto 01

A ousadia (ou tolice) de tentar fazer diferente

1 Fincar raízes numa cidade, ter um lar fixo, trabalhar no mesmo cargo e frequentar sempre o mesmo ambiente social. Era assim que eu vivia há 10 anos. Mas num breve instante, decidi fazer tudo ao contrário. Fiz bem ou fiz besteira?

5 Para responder a essa pergunta, há quem diga que é preciso saber se as consequências dessa mudança foram positivas ou negativas. Será mesmo? Na obsessão de querer qualificar somente o resultado das nossas atitudes, a gente acaba por desprezar o precioso valor das tentativas. E tentar também é conquista. [...]

Primeiro porque é ao tentar e falhar que ganhamos consciência de defeitos, carências e fraquezas, e com elas a oportunidade de aprimoramento. E segundo porque é ao tentar e lograr que desenvolvemos autoconfiança, entusiasmo e determinação. [...]

Disponível em: <https://vidasimples.com>. Acesso em: 18 abr. 2023.

QUESTÃO 01

Analise as afirmativas, tendo em vista as ideias apresentadas no texto 01.

- I. As mudanças só valem a pena se trouxerem consequências positivas.
- II. A vida equilibrada não deve ser trocada pelas mudanças incertas.
- III. A coragem que se tem para tentar deve ser encarada como vitória.
- IV. As falhas advindas do ato de tentar favorecem o aperfeiçoamento.
- V. O êxito que se obtém ao tentar promove a confiança em si mesmo.

Estão **CORRETAS** as afirmativas

- A) I, III e V, apenas.
- B) I, IV e V, apenas.
- C) I, II e III, apenas.
- D) II, III e IV, apenas.
- E) III, IV e V, apenas.

QUESTÃO 02

Assinale a alternativa que comprova o uso da linguagem coloquial no texto.

- A) “Para responder a essa pergunta, há quem diga que é preciso saber se as consequências dessa mudança foram positivas ou negativas.” (Linhas 4-5)
- B) “Na obsessão de querer qualificar somente o resultado das nossas atitudes, a gente acaba por desprezar o precioso valor das tentativas.” (Linhas 5-6)
- C) “[...] é ao tentar e falhar que ganhamos consciência de defeitos, carências e fraquezas, e com elas a oportunidade de aprimoramento.” (Linhas 7-8)
- D) “E segundo porque é ao tentar e lograr que desenvolvemos autoconfiança, entusiasmo e determinação.” (Linhas 8-9)
- E) “[...] ter um lar fixo, trabalhar no mesmo cargo e frequentar sempre o mesmo ambiente social. Era assim que eu vivia há 10 anos.” (Linhas 1-2)

QUESTÃO 03

No título, os parênteses foram usados para

- A) introduzir uma alternância em relação ao termo anterior.
- B) inserir uma explicação da palavra usada anteriormente.
- C) oferecer uma exemplificação para a ideia antes referida.
- D) construir uma conclusão para a afirmativa apresentada.
- E) fazer uma confirmação da ideia anteriormente expressa.

QUESTÃO 04

Considere o trecho “**Fincar raízes** numa cidade, ter um lar fixo, trabalhar no mesmo cargo e frequentar sempre o mesmo ambiente social.” (Linhas 1-2)

A expressão “fincar raízes” indica o uso de linguagem

- A) regional.
- B) denotativa.
- C) coloquial.
- D) conotativa.
- E) técnica.

INSTRUÇÃO: Leia, com atenção, o texto 02 e, a seguir, responda às questões 05 e 06, que a ele se referem.

Texto 02



Disponível em: <https://bichinhosdejardim.com/mais-tirinhas>. Acesso em: 18 abr. 2023.

QUESTÃO 05

No segundo quadro, o trecho “[...] sai ano, entra ano [...]” sugere

- A) variedade.
- B) diferença.
- C) diversidade.
- D) agitação.
- E) monotonia.

QUESTÃO 06

As falas do personagem revelam o seu perfil

- A) confiante.
- B) otimista.
- C) acomodado.
- D) mal-humorado.
- E) esperançoso.

INSTRUÇÃO: Leia, com atenção, o texto 03 e, a seguir, responda às questões 07 e 08, que a ele se referem.

Texto 03



Disponível em: <https://tirasarmandinho.tumblr.com>. Acesso em: 18 abr. 2023.

QUESTÃO 07

Analise as afirmativas, tendo em vista as ideias veiculadas no texto 03.

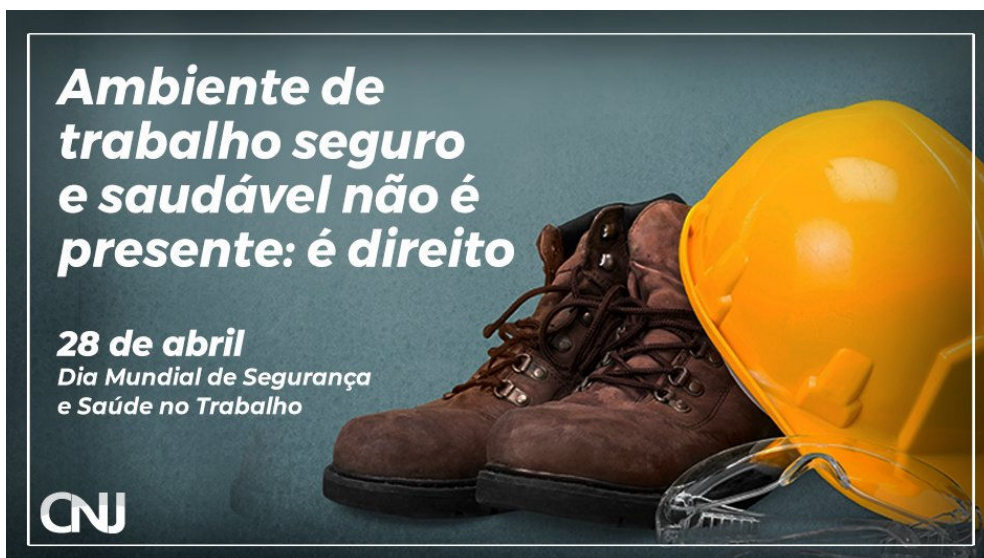
- I. As expressões “dia internacional do trabalhador” e “dia do trabalho” possuem sentidos diferentes, uma vez que uma coloca o foco no trabalhador, e a outra, no trabalho.
- II. A pergunta do personagem, no último quadro, é retórica, ou seja, com ela, ele quer afirmar que não tem sentido o dia ser do “trabalho” e não do “trabalhador”.
- III. A fala “pois então...”, no último quadro, indica que a personagem concorda com o que foi dito anteriormente pelo personagem.
- IV. O uso do termo “internacional”, na primeira fala, indica que a expressão “dia do trabalho” foi adotada não só no Brasil, mas em outros países.
- V. O uso do termo “dia do trabalho” é o mais adequado para indicar, simbolicamente, o dia de luta por justiça para o trabalhador.

Estão **CORRETAS** as afirmativas

- A) I, II e III, apenas.
- B) I, III e V, apenas.
- C) I, II e IV, apenas.
- D) I, II e V, apenas.
- E) II, III e IV, apenas.

INSTRUÇÃO: Leia, com atenção, o texto 04 e, a seguir, responda à questão 08, que a ele se refere.

Texto 04



Disponível em: https://twitter.com/cnj_oficial. Acesso em: 20 abr. 2023.

QUESTÃO 08

Assinale a alternativa **CORRETA**, tendo em vista as ideias apresentadas no texto 04.

- A) Todos os trabalhadores dispõem de um ambiente seguro e saudável para trabalharem.
- B) Todos os empregadores oferecem aos trabalhadores um ambiente de trabalho seguro.
- C) Ambiente seguro e saudável é uma gratificação que todo trabalhador merece receber.
- D) A garantia de um ambiente seguro e saudável para o trabalhador é assegurada por lei.
- E) A segurança e a saúde do trabalhador são preocupações comuns aos empregadores.

INSTRUÇÃO: Leia, com atenção, o texto 05 e, a seguir, responda à questão 09, que a ele se refere.

Texto 05



Disponível em: <https://tirasamandinho.tumblr.com>. Acesso em: 18 abr. 2023.

QUESTÃO 09

Analise as afirmativas, tendo em vista as ideias veiculadas no texto 05.

- I. O termo “verdades” foi usado com o mesmo sentido nas falas do primeiro e do terceiro quadro.
- II. As aspas foram usadas no termo “verdades” (terceiro quadro) para indicar sentido diferente ao que foi atribuído ao termo no primeiro quadro.
- III. O termo “mas”, usado no terceiro quadro, indica que o personagem vai apresentar uma ideia contrária ao que foi dito no primeiro quadro.
- IV. O termo “mentir” em relação ao termo “verdades”, usado entre aspas, não representam ideias contrárias.
- V. O termo “mentir” em relação ao termo “verdades”, usado entre aspas, no terceiro quadro, constroem uma antítese.

Estão **CORRETAS** as afirmativas

- A) I, II e V, apenas.
- B) I, III e V, apenas.
- C) II, III e IV, apenas.
- D) II, III e V, apenas.
- E) III, IV e V, apenas.

INSTRUÇÃO: Leia, com atenção, o texto 06 e, a seguir, responda à questão 10, que a ele se refere.

Texto 06



Disponível em: <https://organicsnewsbrasil.com.br>. Acesso em: 18 abr. 2023.

QUESTÃO 10

Analise as afirmativas, tendo em vista o texto 06.

- I. O prefixo “-ultra” insere, na palavra “ultraprocessados”, a ideia de excesso.
- II. O termo “palavrão” assume, no texto, o significado de palavra grosseira.
- III. O texto informa que balas e biscoitos são alimentos muito processados.
- IV. O sufixo “-ão”, presente no termo “palavrão”, indica valor aumentativo.
- V. As palavras “ultraprocessados” e “palavrão” contêm sufixo e prefixo.

Estão **CORRETAS** as afirmativas

- A) I, IV e V, apenas.
- B) I, III e IV, apenas.
- C) I, II e IV, apenas.
- D) II, III e V, apenas.
- E) III, IV e V, apenas.

PROVA DE MATEMÁTICA

QUESTÃO 11

Considere um muro com 720m² de área, dos quais já foram construídos 540 m². É possível afirmar que ainda restam construir

- A) 75% do muro.
- B) 54% do muro.
- C) 25% do muro.
- D) 72% do muro.
- E) 64% do muro.

QUESTÃO 12

Considere a expressão

$$\frac{2 \cdot (3x - 1) - 7}{3}$$

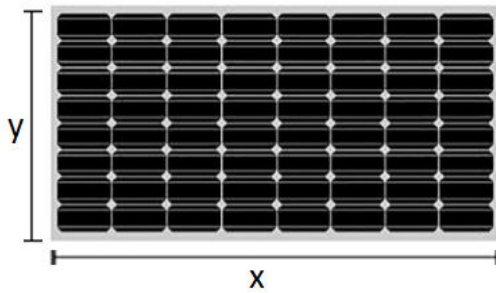
Fonte: O autor, 2023.

Sua forma simplificada é

- A) $2x + 3$
- B) $2x - 3$
- C) $3x + 2$
- D) $\frac{2x + 5}{3}$
- E) $\frac{2x - 5}{3}$

QUESTÃO 13

Segundo o fabricante, cada metro quadrado de um painel solar como o da figura a seguir tem capacidade de gerar 18 kWh (quilowatts-hora) de energia elétrica por mês, desde que consideradas algumas condições.



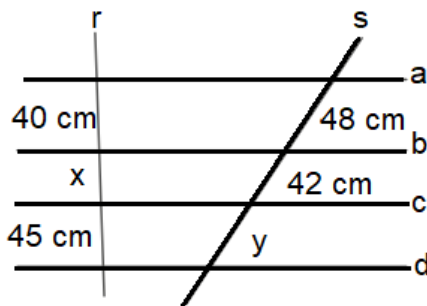
Fonte: O autor, 2023.

Então, é **CORRETO** afirmar que esse painel, cujas medidas são $x = 12$ m e $y = 8$ m, gera por mês

- A) 1.287 kWh.
- B) 1.728 kWh.
- C) 1.782 kWh.
- D) 1.872 kWh.
- E) 1.827 kWh.

QUESTÃO 14

Observe a figura a seguir.



$a//b//c//d$

Fonte: O autor, 2023.

É **CORRETO** afirmar que a soma das medidas de x e y equivale a

- A) 35 cm.
- B) 54 cm.
- C) 89 cm.
- D) 90 cm.
- E) 98 cm.

QUESTÃO 15

As idades de dois irmãos são representadas por dois números primos consecutivos cuja soma é igual a 30. Então, é **CORRETO** afirmar que a diferença entre as idades desses irmãos é

- A) 8 anos.
- B) 7 anos.
- C) 6 anos.
- D) 4 anos.
- E) 3 anos.

QUESTÃO 16

Considere as retas

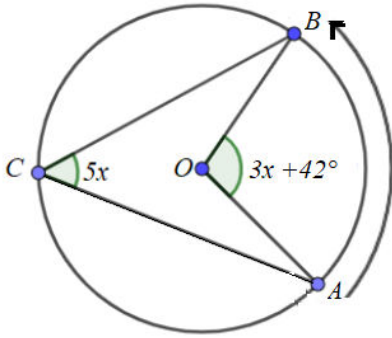
$$r: x = 4 - y \text{ e } s: x = 2 + y.$$

Logo, a intersecção entre r e s no plano cartesiano é o par ordenado

- A) (4, 0).
- B) (2, 2).
- C) (4, 2).
- D) (2, 0).
- E) (3, 1).

QUESTÃO 17

Analise a imagem do círculo a seguir.



Fonte: O autor, 2023.

Nessas condições, é **CORRETO** afirmar que o valor de $3x+42$ é

- A) 30.
- B) 36.
- C) 45.
- D) 60.
- E) 90.

QUESTÃO 18

Considerando os critérios de divisibilidade, assinale a alternativa **CORRETA**.

- A) Um número é divisível por 5 se o algarismo da unidade for 5 ou 0.
- B) Um número é divisível por 3 se for par.
- C) Um número é divisível por 2 se a soma de seus algarismos for divisível por 2.
- D) Um número é divisível por 10 se o algarismo da unidade for 5.
- E) Um número é divisível por 9 se o algarismo da unidade for divisível por 9.

QUESTÃO 19

Um consumidor visitou 5 supermercados e anotou o preço do arroz de determinada marca, em cada um deles: no supermercado 1, o preço foi R\$ 22,79; no supermercado 2, o preço foi R\$ 21,99; no supermercado 3, o preço foi R\$ 23,99; no supermercado 4, o preço foi R\$ 21,50; e no supermercado 5, o preço foi R\$ 23,49. Com base nessas informações, pode-se concluir que o preço médio desse arroz, em relação aos 5 supermercados, é:

- A) R\$ 21,95.
- B) R\$ 22,50.
- C) R\$ 21,50.
- D) R\$ 23,10.
- E) R\$ 22,75.

QUESTÃO 20

Considere a desigualdade modular $|2x-3| < 5$. É **CORRETO** afirmar que x pertence ao intervalo

- A) $(-1, 4)$.
- B) $(-2, 8)$.
- C) $(-2, 5)$.
- D) $(-2, 3)$.
- E) $(0, 5)$.

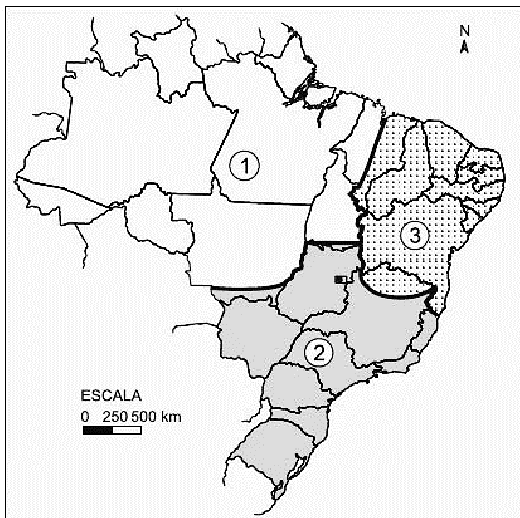
PROVA DE CONHECIMENTOS GERAIS

QUESTÃO 21

O Brasil mudou muito nas duas últimas décadas do século vinte com a abertura da economia às importações, às privatizações e à modernização. A inserção do Brasil no mundo globalizado, ao mesmo tempo que proporcionou a modernização de setores da nossa economia, agravou o desemprego no país. Sobre esse período histórico, qual a alternativa **CORRETA**?

- A) A concentração de renda continuou diminuindo, os 10% da população ocupada com renda mais baixa ficou com 50% do total de rendimentos, melhorando os índices de qualidade de vida.
- B) Os computadores reformularam o conceito de armazenamento de dados e transmissões de conhecimento e, ao mesmo tempo, contribuíram para o fechamento de postos de trabalho de profissões ligadas à informática.
- C) O desemprego estrutural tornou-se um sério problema nas cidades industriais e a economia informal cresceu em razão da queda da oferta de empregos e extinção de muitas funções.
- D) O cinema foi esquecido e o filme “Central do Brasil” mostrou como ocorreu a ascensão social de dançarinas de *funk*, através da formação de grupos musicais que passaram a compor o cenário *pop* nacional.
- E) O Brasil alcançou um bom índice de crescimento, inseriu-se no grupo dos países em desenvolvimento que iniciaram o seu processo de industrialização, alcançando níveis altos de ascensão.

INSTRUÇÃO: Analise o mapa a seguir. A regionalização corresponde à divisão oficial do IBGE, sendo a região 1 o Norte, 2 o Centro-Sul e 3 o Nordeste.



Disponível em: <https://questoes.grancursosonline.com.br/questoes-de-concursos/geografia/904805>. Acesso em: 15 abr. 2023.

QUESTÃO 22

Sobre as regionalizações, faça a **CORRETA** associação da segunda coluna à primeira:

- 1- A região geoeconômica da Amazônia É a região mais populosa, a mais industrializada e a que tem o maior PIB do Brasil. Muito diversificada em relação às suas atividades econômicas, com base econômica pautada na agricultura de exportação e indústria. Compreende todos os estados da região Sul e Sudeste.
- 2- A região geoeconômica do Centro-Sul É a segunda região mais populosa do Brasil e a que possui alto volume produtivo. Inclui todos os estados da macrorregião Nordeste e o Norte de Minas Gerais. Por ter características físicas muito distintas, essa região geoeconômica é dividida em cinco sub-regiões.
- 3- A região geoeconômica do Nordeste É uma região que possui características físicas diversificadas, sua economia é baseada em extrativismo animal, vegetal, mineral e agropecuária, em alguns locais. Parte do minério de ferro do Brasil advém de uma multinacional localizada nessa região, especificamente na serra dos Carajás.

A associação **CORRETA**, de cima para baixo, é:

- A) 2, 3, 1.
- B) 2, 1, 3.
- C) 3, 1, 2.
- D) 1, 2, 3.
- E) 1, 3, 2.

QUESTÃO 23

Hoje em dia, é impossível pensar num mundo sem o uso da energia elétrica, seja para ligar computadores, tomar banho, iluminar, aquecer etc. Com o passar dos anos, o ser humano foi aprimorando as teorias, bem como a metodologia para expandir o uso e o acesso à energia no mundo. Assim, hoje há muitas maneiras de adquirir energia, por meio das fontes renováveis (energia limpa) ou não renováveis (energia suja). Sobre as fontes de energia, é **CORRETO** afirmar:

- A) As fontes renováveis de energia causam diversos problemas ambientais originados dos restos orgânicos acumulados na crosta terrestre ao longo de milhões de anos.
- B) As fontes renováveis regeneram-se na natureza, causando problemas ambientais originados dos restos acumulados na crosta terrestre ao longo de milhões de anos.
- C) A energia também pode ser obtida por meio do nitrogênio, o qual futuramente contribuirá na produção de combustível de energia limpa.
- D) As fontes renováveis de energia regeneram-se na natureza, um exemplo é a energia gravitacional, obtida por meio da força das ondas dos oceanos.
- E) As fontes renováveis de energia causam diversos problemas ambientais, como as usinas term nucleares, que utilizam o urânio e outros elementos como combustível.

QUESTÃO 24

A jovem Anita e a nova arte.

“Quando viram minhas telas, todos acharam-nas feias, dantescas, e todos ficaram tristes, não eram os santinhos do colégio”. Com essa frase, a artista brasileira Anita Malfatti respondeu aos críticos de suas obras, após a exposição organizada pela artista em 1917. Sobre Anita Malfatti, é possível afirmar:

- A) Devido ao grande sucesso, ela foi levada para os Estados Unidos e, nessa fase da vida, representou em suas pinturas aspectos da cultura tropical do Brasil.
- B) Jovem, iniciou a carreira como anunciante de uma loja de acabamentos, mas a sua carreira internacional ganhou espaço com o quadro *Bang*.
- C) Ela foi uma pianista e compositora carioca, e a sua participação no cenário artístico brasileiro foi fundamental para a definição da identidade musical do país, no início do século XX.
- D) Suas experiências estéticas inovadoras atraíram escritores e artistas, aos quais ela se reuniu para organizar a Semana de Arte Moderna, em 1922.
- E) Ela foi uma mulher negra guerreira, que se destacou na defesa dos escravos e na construção do Quilombo dos Palmares, tornando-se ícone na luta contra a escravidão.

QUESTÃO 25

A independência do Brasil não se resumiu apenas ao chamado Grito do Ipiranga, ocorrido em 7 de setembro de 1822. Esse acontecimento fez parte de um processo de questionamento do poder da Monarquia Hereditária e da dominação das metrópoles sobre suas colônias. Em nosso país, a Inconfidência Mineira e demais rebeliões coloniais foram exemplos da tensão na luta por direitos políticos. Sobre o processo de independência do Brasil e a política mineira, pode-se concluir:

- A) Ao longo de todo o período, os comerciantes de Minas Gerais foram se tornando homens de poder econômico e ocupando lugar de destaque na política local e nacional.
- B) Na ocasião, surgiu a expressão “curral eleitoral”, que indicava eleitores controlados pelos fazendeiros que votavam nos candidatos por eles indicados, algumas vezes em troca de favores.
- C) Após a política tumultuada dos aventureiros do período da mineração, abriu-se espaço na política para um espírito conciliador e negociador dos comerciantes.
- D) As poderosas lideranças políticas foram constituídas e, mais tarde, formaram a chamada oligarquia central, isto é, os grupos de donos de terra que mandavam em todo o país.
- E) A oligarquia de Minas Gerais, com um pequeno “curral eleitoral”, acabou desempenhando papel passivo na escolha dos presidentes republicanos eleitos por meio do voto.

QUESTÃO 26

O Jornal Estado de Minas, no dia 6 de abril de 2023, publicou a seguinte notícia:

“Rússia afirmou nesta quinta-feira que impediu a entrada de um grupo de ‘sabotadores’ ucranianos em seu território, na região fronteira de Briansk. Os conflitos acontecem no território ucraniano, invadido por centenas de milhares de soldados russos no início de 2022. A disputa eclodiu por iniciativa da Rússia, que queria impedir a adesão da Ucrânia à Organização do Tratado do Atlântico Norte (Otan), aliança militar formada por 30 países. Segundo o governo russo, o ingresso do país vizinho à Otan tornaria sua fronteira mais vulnerável.”

Tendo como base esse conflito, lei o texto a seguir e complete as lacunas.

O presidente russo, _____, ordenou que as forças do país façam tudo o que estiver a seu alcance para garantir a segurança da população, tanto na _____ como nos territórios ucranianos ocupados, onde várias autoridades pró-Rússia foram assassinadas nos últimos meses. A _____ não reconhece oficialmente as operações de “sabotagem” em território russo. _____ negou, por exemplo, envolvimento no ataque que atingiu a ponte da Crimeia no ano passado.

A sequência **CORRETA**, considerando a ordem do texto, é:

- A) Mikhail Gorbachev, Alemanha, Rússia, Kiev.
- B) Vladimir Putin, União Soviética, Alemanha, Kremlin.
- C) Vladimir Putin, Rússia, Ucrânia, Kiev.
- D) Donald Trump, Rússia, Ucrânia, Kiev.
- E) Mikhail Gorbachev, China, Ucrânia, Kremlin.

QUESTÃO 27

A população humana necessita de uma quantidade cada vez maior de água. Houve um tempo em que o próprio ciclo natural da água a purificava, mas, atualmente, em alguns lugares, a poluição da água é tão intensa que os lençóis d’água estão contaminados. Qual afirmativa, entre as várias alternativas a seguir, está de acordo com o texto?

- A) Devido à poluição, aos desmatamentos e ao tratamento de esgoto, as reservas de água potável do planeta estão acabando.
- B) A população humana exige uma quantidade cada vez maior de água nas residências, indústrias, serviços e demais locais em que ela se faz necessária.
- C) O modo de vida dos grupos animais contribui grandemente para a escassez de água, já que o manejo correto desperdiça água.
- D) O asfalto e o cimento, ao cobrirem a terra, viabilizam a penetração das águas no solo, interferindo no abastecimento dos lençóis subterrâneos.
- E) A poluição, o desmatamento e as outras atividades ligadas à ocupação do espaço preservam o ciclo das águas, estabilizando as reservas potáveis.

QUESTÃO 28

Em Minas Gerais, em geral, no mês de julho, o tempo é mais frio e seco, enquanto em dezembro, é mais quente e chuvoso. O modo como os tipos de tempo se sucede durante o ano define o tipo de clima de um lugar. Analise as afirmativas sobre o clima de Minas Gerais a seguir e classifique-as em verdadeiras (**V**) ou falsas (**F**).

- () As estações do ano em Minas Gerais variam entre o tempo da chuva e o da seca, e tais mudanças relacionam-se aos deslocamentos das massas de ar.
- () Nas áreas de clima semiúmido, as temperaturas são elevadas e, geralmente, os dias são quentes, as chuvas são escassas e se concentram em poucos meses do ano.
- () Nas áreas de clima tropical de altitude, há três estações bem definidas: uma seca (outono e inverno), outra chuvosa (primavera) e outra quente (verão).
- () Em algumas áreas de Minas Gerais, como o Norte, quase sempre faz calor e, nas áreas do sul, a época do inverno caracteriza-se por ser mais fria.

Assinale a alternativa que contém a sequência **CORRETA**, de cima para baixo.

- A) F, F, F, V.
- B) F, V, F, F.
- C) V, F, V, F.
- D) V, V, V, F.
- E) V, F, F, V.

QUESTÃO 29

A sociedade brasileira é regida por uma estrutura organizacional que foi constituída em 1988, denominada Constituição da República Federativa do Brasil. Nela está determinado que “[...] são Poderes da União, independentes e harmônicos entre si, o Legislativo, o Executivo e o Judiciário”.

Analise as afirmativas a seguir sobre esse assunto.

- I- O poder executivo é o poder que executa e estabelece as leis de um país.
- II- O poder legislativo é o poder destinado a estabelecer as leis de um país.
- III- O poder judiciário é o poder que estabelece e cumpre as leis de um país.

Está(ão) **CORRETA(S)** a(s) afirmativa(s)

- A) I, apenas.
- B) I e II, apenas.
- C) II e III, apenas.
- D) II, apenas.
- E) I, II e III.

QUESTÃO 30

A crise dos refugiados tem como uma das causas o aumento dos fluxos migratórios, fenômeno que acompanha a humanidade desde os seus primórdios e cujos motivos podem ser os mais diversos, embora o mais comum seja a busca por melhores condições de vida, ou seja, migração econômica. Sobre os refugiados é **CORRETO** afirmar:

- A) O refugiado inicialmente se desloca no interior do seu país e, quando se faz necessário, busca asilo em países distantes, por vezes, em países ricos.
- B) O refugiado, conforme a Convenção das Nações Unidas, pode ser expulso de um país ou devolvido ao seu país de origem, quando for impossível garantir o seu direito à vida e à liberdade.
- C) O refugiado, primeiramente, desloca-se para países vizinhos em busca de proteção, convencionalmente denominado deslocado externo.
- D) O refugiado nunca tem a intenção de retornar ao seu local de origem, após o fim dos conflitos, e a média global de tempo vivido na condição de refugiado é de 66 anos.
- E) O refugiado é um tipo específico de migrante que se vê obrigado a fugir de seu país por sofrer perseguição de qualquer natureza e temer por sua integridade física e pela própria vida.